

ADI-SOYADI:.....

DOĞRU:

YANLIŞ:



2.SINIF MATEMATİK DEĞERLENDİRME-1

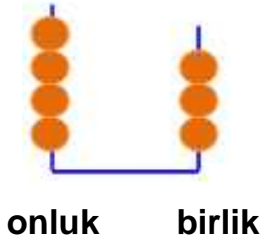
1- ki deste çiçe i iki düzineye tamamlamak için kaç çiçe e daha ihtiyacımız vardır?

- A) 4 B) 3 C) 2

2-40 adet boya kalemi kaç desteye e ittir?

- A) 4 B) 3 C) 2

3-



Abaküsle gösterilen sayının onlar basama ının basamak de eri kaçtır?

- A) 4 B) 3 C) 40



5- Yukarıdaki trenin vagonlarındaki sayıları toplarsak hangi sayıyı elde ederiz?

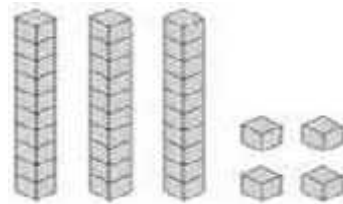
- A) 93 B) 75 C) 48

6- Yanda taban bloklarıyla modellenen sayı için a a ıdakilerden hangisi do rudur?

A) 3 birlik ve 4 onluktan olu mu tur.

B) 3 onluk ve 4 birlikten olu mu tur.

C) Sayının okunu u 43'tür.





7-A a ıda tümcelerde verilen boşlukları tamamlayınız.

*En büyük iki basamaklı doğal sayı.....

*En küçük iki basamaklı doğal sayı.....

*85 sayısındaki 5 sayısının basamak değeri.....

*95 sayısındaki 9 rakamının basamak değeri.....

*3 düzine kalem..... tane dir.

*5 yüzü, 6 köşesi ve 9 ayrıtı olan geometrik cisim

8-Yandaki geometrik cismi kullanarak aşağıdakilerden hangisini çizebiliriz?

A) çember

B) kare

C) dikdörtgen



9-Hiç köşesi ve kenarı olmayan geometrik şekil aşağıdakilerden hangisidir?

A) üçgen

B) kare

C) çember


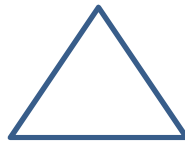
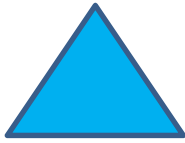

10-Aykut'un 2 düzine boyalı kalemi vardı. Aykut bu kalemlerin 1 destesini kardeşine, 3 tanesini de arkadaşına verdi. Aykut'un kaç boyalı kalemi kaldı?

A) 6

B) 7

C) 8

12-A aşağıdaki geometrik şekillerin adlarını altlarına yazınız.



--	--	--	--	--	--

13-A aşağıdaki sayının basamak adları ile basamaklarındaki rakamlarının basamak değerlerini yazınız.

7	8		
		<u>Basamak Adları</u>	<u>Basamak Değerleri</u>
	
	