

Adı Soyadı:

Sınıfı:6/A

No:

2008 - 2009 EĞİTİM ÖĞRETİM YILI SİNCAN KORKUTATA İLKÖĞRETİM OKULU  
MATEMATİK DERSİ 6.SINIF 1.DÖNEM 1.YAZILI YOKLAMA SINAVI(15/10/2008)

1)  $\Delta \cdot 3 + 12$  ifadesi aşağıdakilerden hangisine eşittir?

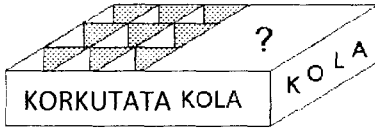
- A)  $3(\Delta + 4)$  B)  $3(\Delta + 12)$   
C)  $3(\Delta + 3)$  D)  $3(\Delta - 4)$

2)  $5 + 8 + 7$  işlemi yapılırken toplama işleminin birleşme özelliğinden yararlanılmıştır. Buna göre aşağıdakilerden hangisi işlemin sonucunu bulmadan önceki adımı olamaz?


- A)  $13 + 7$  B)  $12 + 8$   
C)  $15 + 5$  D)  $14 + 6$

3) Bir ağacın 4 kolu vardır. Her kolunda 19 dal vardır. Her dalında 25 yaprak vardır. Buna göre bu ağacın kaç yaprağı vardır?

4) Aşağıdaki kola kasasında satırlara 7 şer kola sütunlara 3 er kola konabildiğine göre, gösterilmeyen bölüme kaç şişe kola yerleştirilir?



5) Aşağıdaki şekilde sayı pulları dağınık şekilde verilmiştir. Buna göre bunlar birleştirildiğinde sonucu bulunuz.

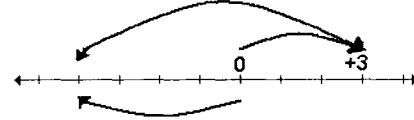


6) Aşağıdakilerden hangisinde sayılar arasındaki fark (+3) tür.

- A)  $(+2) - (+5)$  B)  $(-1) - (+2)$   
C)  $(-5) - (-2)$  D)  $(-8) - (-11)$


7) Büşra'nın cebinde 5 YTL si vardır. Bakkala 7 YTL borcu olduğuna göre, Büşra'nın para durumunu tam sayılarla ifade etmek istersek ne olur?

8) Aşağıda yapılan işlemin matematik cümlesini yazınız.



9) Mehmetcan'ın boyu 145 cm dir. Muhammed'in boyu Mehmetcan'ın boyuna göre (+10) dur. Berat'ın boyu Muhammed'in boyuna göre (-15) dir. Beyza'nın boyu Berat'ın boyuna göre (+13) dür. Halil'in boyu Beyza'nın boyuna göre (-8) dir. Buna göre Halil'in boyu kaç cm dir?

10) Aşağıdaki şekilde Kartal ve Serçenin deniz seviyesine göre konumları verilmiştir. Serçe, Kartala ve Balığa eşit uzaklıkta olduğuna göre, Balığın deniz seviyesine göre konumu nedir?



BAŞARILAR...

Her soru 10 puan. Süre 40 dk.

Ayhan ÖZER

Matematik Öğrt.