

ETKİNLİK YAPIYORUM

ADISOYADI:.....FEN VE TEKNOLOJİ TARİH:.....

KONU: Maddenin Ölçülebilir Özellikleri

Aşağıdaki soruları cevaplayınız.

a. Maddelerin kütlesi (tartısı) hangi aletle ölçülür?

b. Kütle birimlerini yazınız?

c. Tartacağımız maddeleri içine koyduğumuz kabın darası nasıl bulunur?

ç. Hacim ölçü birimlerini yazınız?

Aşağıda verilen cümlelerdeki noktalı yerlere, kutu içindeki kelimelerden uygun olanını yazınız.

şeklini	terazi	dara	litre
---------	--------	------	-------

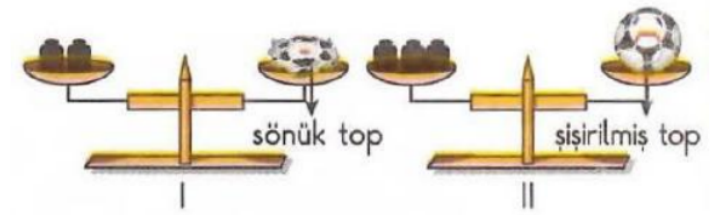
- a) Kütle eşit kollu ile ölçülür
- b) Maddeleri tartmak için kullanılan kabın kütlesine denir.
- c) Sıvıların hacim ölçü birimi dir.
- ç) Sıvılar bulunduğu kabın alırlar.

Aşağıda verilen ifadelerden doğru olanın başına "D", yanlış olanın başına "Y" harfini koyunuz.

- a) () Kütle birimi litre'dir.
- b) () Her maddenin kütlesi vardır.
- c) () Gazların kütlesi vardır.
- ç) () Kilogram kütle birimidir.

1. Aşağıdakilerden hangisi hacim birimidir?

- A) santimetre B) derece C) milimetre D) mililitre



2. Şekillerde verilen I ve II nolu teraziler dengedir. Buna göre, aşağıda verilen açıklamalardan hangisi doğrudur?

- A) Terazinin dengeye gelmesi için top şişirilmiştir.
- B) Topun içinde bulunan havanın kütlesi vardır.
- C) Şişirilmiş top patlatılırsa terazinin dengesi bozulmaz.
- D) Sönük topun kütlesi, şişirilmiş topun kütlesinden büyüktür.

3. Aşağıdaki maddelerden hangisinin kütlesi, diğerlerinin kütlesinden daha büyüktür?

- A) 1 kg pamuk B) 100 g kahve
- C) 50 kg buğday D) 500 g fındık

4. Senem teyze pazardan 1 kg elma, 500g çekirdek ve 2 kg çay almıştır.

Buna göre Senem teyzenin aldığı malzemelerin toplam kütlesi kaç gramdır?

- A) 35 B) 350 C) 3500 D) 35000

5. Şekildeki taş, içinde su bulunan dereceli kabın içine atıldığında su seviyesinin 90'ı gösterdiği gözlemleniyor. Buna göre, taş ile ilgili aşağıdaki sonuçlardan hangisine ulaşılabilir?

- A) Taşın hacmi 20 midir.
- B) Taşın kütlesi 90 gramdır.
- C) Taşın hacmi 90 ml'dir
- D) Taşın kütlesi 20 gramdır.

6. Kütle ile ilgili olarak aşağıda verilen açıklamalardan hangisi yanlıştır?

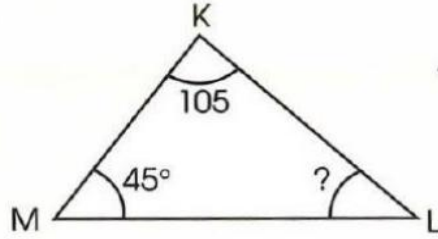
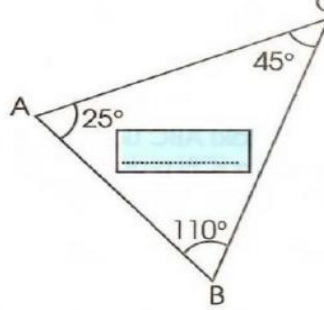
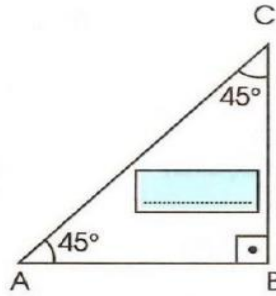
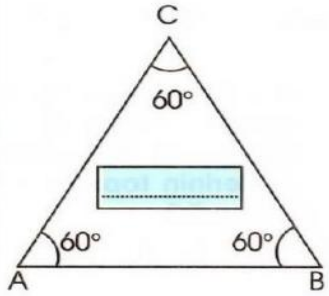
- A) Her maddenin kütlesi vardır. B) Kütle, dereceli silindir ile ölçülür.
- C) Kütle birimleri gram veya kilogram'dir. D) Gazların da kütlesi vardır.

ETKİNLİK YAPIYORUM

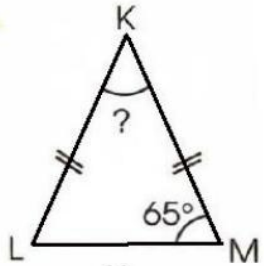
ADISOYADI:.....MATEMATİK TARİH:.....

KONU: Üçgenlerin İç Açılarını Hesaplama

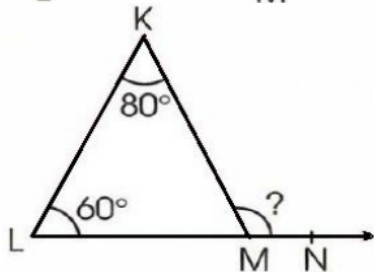
Aşağıdaki üçgenlerin iç açılarının toplamalarını bulunuz ve yazınız.



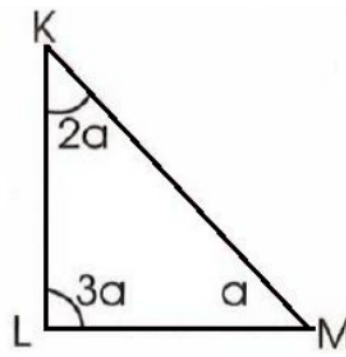
Yandaki üçgende L açısı kaç derecedir?



Yandaki ikizkenar üçgende tepe açısı kaç derecedir?

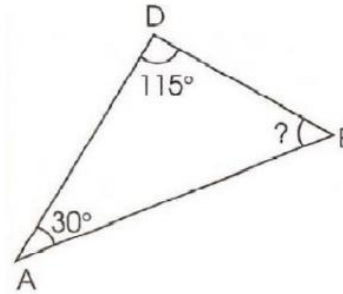


Yandaki üçgende KMN açısı kaç derecedir?

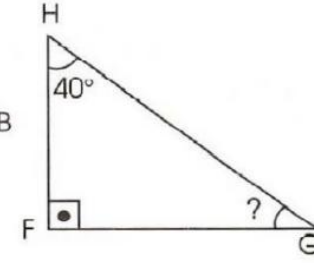


Yandaki üçgende LKM açısı kaç derecedir?

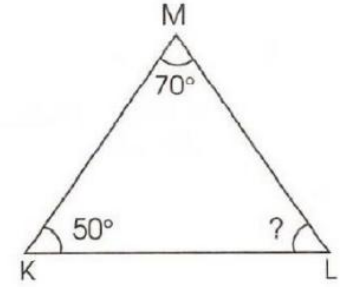
Aşağıdaki üçgenlerin verilmeyen açılarını hesaplayınız.



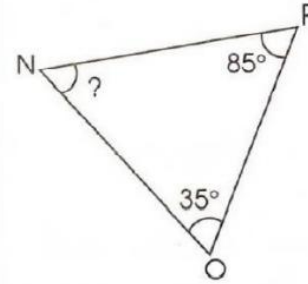
$s(\hat{B}) = \dots\dots\dots$



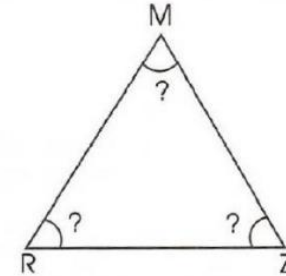
$s(\hat{G}) = \dots\dots\dots$



$s(\hat{L}) = \dots\dots\dots$



$s(\hat{N}) = \dots\dots\dots$

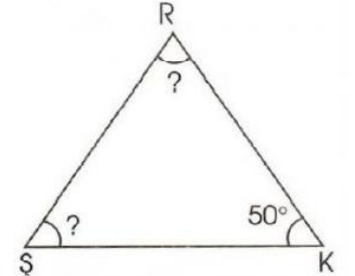


$s(\hat{R}) = s(\hat{Z}) = s(\hat{N})$ ise

$s(\hat{R}) = \dots\dots\dots$

$s(\hat{Z}) = \dots\dots\dots$

$s(\hat{M}) = \dots\dots\dots$



$s(\hat{S}) = s(\hat{R})$ ise

$s(\hat{S}) = \dots\dots\dots$

$s(\hat{R}) = \dots\dots\dots$

ETKİNLİK YAPIYORUM

ADISOYADI:.....SOSYAL BİLGİLER TARİH:.....

KONU: Ailemin Tarihini Yazıyorum

Sözlü Tarih: Olayların, durumların veya gelişmelerin yaşayanlardan, dinleyenlere aktarılması yoluyla oluşturulan tarih bilgisidir. Tarihi yazılı belgelere ek olarak yaşayan bireylerin belleğe dayalı anlatıları aracılığıyla yazma ve sıradan insanları, gündelik yaşamı ve öznelliği tarihin araştırma alanlarına dâhil etme isteğiyle şekillenen ve ses kaydetme teknolojilerinin gelişmesiyle de desteklenen bir çalışma alanıdır.

Aile Tarihi: Her ailenin bir geçmişi vardır. Aile bireylerinin geçmişte yaşadığı olaylar, doğup büyüdüğü veya göç ettiği yerler, doğumlar, ölümler, evlilikler, öğrenim hayatı, yaptığı işler, kullandığı araç gereçler, oturduğu evler, bizlere aile tarihi hakkında bilgiler verir. Bu geçmiş aynı zamanda ailemizin bir üyesi olarak bizim de geçmişimizdir.

Kronoloji: Zamanı bölümlere ayıran ve olayları tarihlerine göre sıralayan bilim dalıdır.

Röportaj: Yazarın okuyucularına bir konuyu anlatmak, inandırmak için kişi, eşya, eser ya da bir yerle ilgili olarak yaptığı incelemeleri fotoğraflarla süsleyerek kendi görüşlerini de katarak yazdığı gazete ve dergi yazılarıdır.

Aşağıda verilen cümlelerin başına doğru “D”, yanlış ise “Y” harfini yazınız.

- () İnsanlar geçmişlerini öğrenmek için tarih biliminden yararlanırlar.
- () Bir olayın tarih olabilmesi için yer ve zaman belirtmesine gerek yoktur.
- () Tarih, geçmişle günümüz arasındaki bir köprüdür.
- () Sözlü tarih, belirli konularda olayları yaşamış kişilerden röportaj yolu ile kaydedilen bilgilerdir.

5. () Tarih, yazının milattan önce 3200 yılında bulunmasıyla başlamıştır.

1. Bir bireyin, soyadının nereden geldiğini öğrenebilmesi için ilk başvuracağı akrabası hangisidir?

A. Dayı B. Dede C. Amca D. Yenge

2. Aşağıdakilerden hangisi sözlü tarih çalışması yapmak isteyen Arda'nın röportaj yaptığı kişiye soracağı sorulardan biri olamaz?

- Nerede doğdunuz?
- Ne zaman doğdunuz?
- Öğrenim hayatınız hangi okullarda geçti?
- Üç yıl sonra nerede olmayı hayal ediyorsunuz?

Aşağıda verilen kelimeleri uygun yerlere yerleştiriniz.

Makale

kayıt

ön bilgi

röportaj

söyleşi

- Konusu bir soruşturma, araştırma olan gazete veya dergi yazılarınadenir.
- Ses veya resmi, manyetik bant üzerine geçirme işlemine denir.
- Arkadaşça, dostça karşılıklı konuşmaya..... denir.
- Herhangi bir konuda derinlemesine bir araştırma yapmadan sağlanan bazı bilgilere denir.
- Belirli bir konuda, o konuyla ilgili kişilere söyleşiler yapıldıktan sonra elde edilen bu bilgilerin belirli bir sistem içinde değerlendirilmesi ve incelenmesine denir.

Aşağıda verilen soruları dede veya ninelerinize sorarak siz de aile tarihiniz oluşturunuz.

1. Ne zaman, nerede doğdunuz?

2. Hangi okullarda okudunuz?

3. Çocukluk döneminizde devletin başında kim vardı?

4. Çocukluk ve gençlik yıllarınızda ülkemizin ve ailemizin ekonomik durumu nasıldı?

5. Doğduğunuz şehirden ayrıldınız mı?

6. Doğduğunuz şehirden ayrıldıysanız; bu olay ne zaman ve neden gerçekleşti?

7. Kaç kardeşsiniz?

8. Babanız ne iş yapardı?

9. Eski zamanlarda bugünü karşılaştıranız,

10. Eskiden mi yoksa bugün mü hayat

ETKİNLİK YAPIYORUM
ADISOYADI:.....TÜRKÇE TARİH:.....
Konu: Okuma

Göl kıyısındaki köyden ayrılmamıza birkaç gün kalmıştı. Bütün oyuncaklarımı ve biriktirdiğim cep harçlıklarımı arkadaşlarıma dağıttım. Irmak boyunca hava kararınca kadar seni aradık. Bulamayınca üzüldük ve ağlayarak evlerimize döndük. Ali köyden ayrılırken, "Üzülme artık, o gittiği yerde mutludur." dedi. O yaz köyden ayrılısam da seni hiç unutmadım. Hep içimdeki evimde yaşattım seni. Ne zaman küçük ve durgun bir ırmak görsem aklıma önce hep sen geldin. Her kaplumbağa fotoğrafı görüşümde acım tazelenir yine.

İlk 5 soruyu yukarıdaki metne göre cevaplayınız.

1. Çocuğun unutamadığı nedir?

- | | |
|-----------------------|----------------------------------|
| a. Oyuncakları | b. Birlikte ağladığı arkadaşları |
| c. Köydeki kaplumbağa | d. Göl kıyısındaki köy |

2. Metinde anlatılan olay nedir?

- a. Ağlayan çocukların mutsuzlukları
b. Köyden ayrılan bir çocuğun duyguları
c. Bir çocuğun yaz tatilinde yaşadıkları
d. Çocukların göl kıyısında yaşadıkları

3. Olay nerede geçmektedir?

- | | | | |
|----------|------------|----------|---------|
| a. gölde | b. Irmakta | c. köyde | d. evde |
|----------|------------|----------|---------|

4. Irmak boyunca çocuk neyi aramıştır?

- | | |
|------------------------|------------------------------|
| a. Kaybolan oyuncağını | b. Irmaktaki çakıl taşlarını |
| c. Irmaktaki balıkları | d. Bir kaplumbağayı |

5. Metnin ana karakteri kimdir?

- | | | | |
|---------------|----------|------------------------|--------|
| a. kaplumbağa | b. çocuk | c. çocuğun arkadaşları | d. Ali |
|---------------|----------|------------------------|--------|

Yağmur yağdığı bir gün dedemle kulübede oturmuş konuşuyorduk. Dedem, gizlice iyilik yapmanın insanları daha da mutlu edeceğini anlattı. O anda kararımızı verdik. Yapacağımız iyiliklerden kimsenin haberi olmayacaktı. Ne yerimiz olacaktı ne de tabelamız. Kime iyilik edeceğimize gelince, gökyüzünün altında yaşayan her canlıya... Çocuklara, yaşlılara, balıklara, karıncalara, ağaçlara ve kuşlara... iyilik ödevimize hemen başlamıştık. Dedem bisikletimin arka selesine küçük meyve sepetleri yerleştirirken gideceğim yerleri de tarif ederdi. O eski bisikletimle yokuşları nasıl çıktığımın ve kasabadaki yaşlıların evine nasıl ulaştığımın farkına bile varmazdım. Sanki görünmez biri arkamdan beni itiyordu.

6,7, 8, 9 ve 10. sorulan yukarıdaki metne göre cevaplayınız.

6. Metinde anlatılan olay nedir?

- a. İki akrabanın iyilik ile ilgili aldıkları kararı uygulamaları
b. Hasta çocuklara yapılan yardımların azaldıkları
c. Bir dede ile bir çocuğun tüm canlılara yiyecek vermeleri
d. Bir çocuğun bisikletiyle taşıdığı yiyecekler

7. Olay nerede geçiyor?

- | | | | |
|----------|-------------|-----------|----------|
| a. köyde | b. Kasabada | c. kentte | d. kırdı |
|----------|-------------|-----------|----------|

8. Çocuk ile torun gizlice iyilik yapmaya ne zaman karar verdiler?

- | | |
|-------------------------------|---------------------------|
| a. Yağmurlu bir gün | b. Bir akşamüstü |
| c. Birlikte oldukları ilk gün | d. Dede çok yaşlandığında |

9. Çocuk ile dede kimlere iyilik yapmaya karar verdiler?

- | | | | |
|---------------|--------------|----------------|---------------|
| a. yoksullara | b. hastalara | c. her canlıya | d. hayvanlara |
|---------------|--------------|----------------|---------------|

10. Olayın ana karakteri kimdir?

- | | | | |
|----------|---------|-------------|--------------|
| a. çocuk | b. dede | c. hastalar | d. yoksullar |
|----------|---------|-------------|--------------|