

MATEMATİK GENEL TEKRAR

1)



Resimdeki baloncu elindeki 2 düzine balondan 1 destesini satıyor. Geriye kaç tane balonu kalır?

A) 14

B) 10

C) 12

2)



Resimdeki 6 birlik , 8 onluktan oluşan sayıdan 10 tane eksik simit satmıştır. Bu simitçinin satmış olduğu toplam simit kaç tanedir?

A) 58

B) 76

C) 96

3) Aşağıdaki sayı dizilerinden hangisinde ileriye doğru 4'er ritmik sayma yapılmıştır?

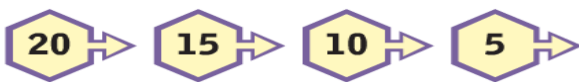
A)



B)



C)



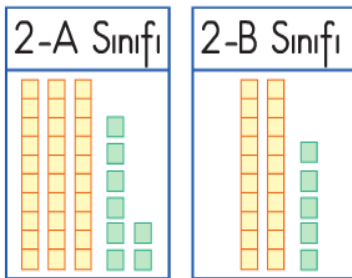
4) Bir çıkarma işleminden eksilen 85 , çıkan 25 ise fark kaçtır?

A) 55

B) 60

C) 50

5)




Şekilde 2A ve 2B sınıfının mevcutları verilmiştir. Buna göre iki sınıfın toplam mevcudu kaçtır?

A) 65


B) 64

C) 63

MATEMATİK GENEL TEKRAR

6)  Bir hafta yedi gündür.

 Bir saat 30 dakikadır.

 Bir gün 24 dakikadır.

Yukarıdaki bilgilerden kaç tanesi doğrudur?

A) 3

B) 2

C) 1

7)



Yandaki şekle göre tavşan kaçınıcı olmuştur?

A) 1.

B) 2.

C) 3.

8) Hakan, saat 19:00' da ödevini yapmaya başlamıştır. Saat 20:30' da ödevini bitirdiğine göre Hakan kaç dakika ders çalışmıştır?

A) 60

B) 90

C) 120

9) Aşağıdakilerden hangisi 7 onluktan oluşan sayıya en yakındır?

A) 72

B) 69

C) 75

10)



Yandaki otobüste 45 yolcu bulunmaktadır. Bu yolculardan bir kısmı durakta iniyor. Otobüs tekrar hareket edince otobüste 32 yolcu kalıyor buna göre durakta inen yolcu sayısı kaçtır?

A) 13

B) 12

C) 11