



T.C.
MİLLÎ EĞİTİM BAKANLIĞI

i-2

AÇIK İLKÖĞRETİM OKULU
2008-2009 ÖĞRETİM YILI 1. DÖNEM SINAVI
2. OTURUM: 24 OCAK 2009 Saat:14.00

Adayın Adı Soyadı :
Aday Numarası (TC Kimlik No) :

DİKKAT: 1. Bu oturumda, 14 derse ait test soruları yer almaktadır.

MATEMATİK – 6

İNGİLİZCE – 6

ALMANCA – 6

FRANSIZCA – 6

DİN KÜL. ve AHL. BİLGİSİ – 6

TRAFİK ve İLK YARDIM – 6

MATEMATİK – 8

T.C. İNKILÂP TARİHİ ve ATATÜRKÇÜLÜK – 8

İNGİLİZCE – 8

ALMANCA – 8

FRANSIZCA – 8

TRAFİK ve İLK YARDIM – 8

GÜZEL KONUŞMA ve YAZMA – 8

TURİZM – 8

2. Adaylar soru kitapçıklarını kontrol ederek baskı hatası olan kitapçığın değiştirilmesi için sınav başlamadan önce salon sorumlularına başvuracaklardır.
3. Sınavda hesap makinesi, cep telefonu ve çağrı cihazı kullanılması yasaktır. Bu cihazları sınav başlamadan önce salon başkanına teslim ediniz.

CEVAP KAĞIDI İLE İLGİLİ AÇIKLAMA

1. Cevap kâğıdı üzerine yapacağınız işaretlemelerde kurşunkaleminden başka hiçbir kalem kullanmayınız.
2. Verilen cevap kâğıdında yazılı olan bilgilerin size ait olup olmadığını kontrol ediniz. Size ait değilse salon sorumlularına söyleyiniz. Adınıza yazılı cevap kâğıdı bulunamıyorsa veya cevap kâğıdınız kullanılamayacak şekilde bozursa, verilecek olan yedek cevap kâğıdına, kimliğinizle ilgili bilgileri, salon başkanının açıklamalarına göre yazınız.
3. Sınavda tek cevap kâğıdı kullanılacaktır. Cevaplarınızı cevap kâğıdındaki ilgili sütunlara aşağıdaki örnekte olduğu gibi yuvarlağı, dışına taşırmadan işaretleyiniz. Yanlış karalamalarınızı düzeltirken yuvarlağın içini temizce siliniz. Cevap kâğıdınızı buruşturmayınız, katlamayınız ve üzerine gereksiz işaret koymayınız.

ÖRNEK KODLAMA



SORU KİTAPÇIĞI İLE İLGİLİ AÇIKLAMA

1. Her ders için 20 soru bulunmaktadır. Bu oturum için, toplam 150 dakikalık cevaplama süreniz vardır. **NOT:** Öğrencinin kaç dersi olursa olsun, isterse bu sürenin tamamını kullanabilir.
2. Her sorunun dört seçeneği vardır. Dört seçenekten sadece bir tanesi doğru cevaptır. Doğru bulduğunuz seçeneği, cevap kâğıdında o soru için ayrılan yerde bularak işaretleyiniz.
3. Size ayrı bir karalama kâğıdı verilmeyecektir. Soru kitapçığınızın içindeki boş alanları karalama yapmak için kullanabilirsiniz.
4. Puanlamada, her doğru cevaba puan verilecek; yanlış cevaplarınız dikkate alınmayacaktır.
5. Snavın bitiminde cevap kâğıdınızı ve soru kitapçığınızı salon sorumlularına teslim etmeyi unutmayınız.

BAŞLAYINIZ DENİLMEDEN SORU KİTAPÇIĞINI AÇMAYINIZ.

2. OTURUM

MATEMATİK – 6

1. Alt küme sayısı 64 olan bir kümenin eleman sayısı kaçtır?

- A) 4 B) 5 C) 6 D) 7

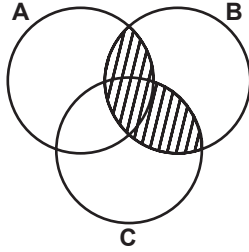
2. $A = \{a, b, c, d, e, f\}$ ve $B = \{a, c, d, f, g, h, k\}$ kümeleri veriliyor. Buna göre $A \setminus B$ kümesi kaç elemanlıdır?

- A) 1 B) 2 C) 3 D) 4

3. Bir sınıfta 27 öğrenci vardır. Öğrencilerden her biri İngilizce veya Almanca dillerinden en az birini bilmektedir. İngilizce bilen 19, Almanca bilen 17 öğrenci olduğuna göre, her iki dili bilen kaç öğrenci vardır?

- A) 2 B) 8 C) 9 D) 10

4. Verilen şemaya göre taralı bölgeyi aşağıdaki ifadelerden hangisi gösterir?



- A) $(A \cup C) \cap B$ B) $(B \cap C) \cup A$
C) $(A \cap B) \cup C$ D) $(A \cup B) \cap C$

5. 17 ile 57 arasında kaç tane doğal sayı vardır?

- A) 39 B) 40 C) 41 D) 42

6. Çözümlemiş biçimi $3 \times 10^4 + 5 \times 10^2 + 2 \times 10^1$ olan sayı kaçtır?

- A) 35 020 B) 30 520 C) 30 502 D) 35 002

7. “Yirmi milyon doksan iki bin dokuz” sayısının rakamla yazılışı aşağıdakilerden hangisidir?

- A) 20 092 009 B) 20 920 009
C) 200 920 900 D) 20 929 000

8. $\{9, 7, 0, 5\}$ kümesinin elemanlarıyla yazılabilen rakamları farklı dört basamaklı sayılardan en büyüğü ile en küçüğü arasındaki fark kaçtır?

- A) 3960 B) 4041 C) 4671 D) 4764

9. Yandaki işlemde a, b, c, d birer rakamdır. Buna göre, $a + b + c + d$ kaçtır?

$$\begin{array}{r} abcd \\ + 258 \\ \hline 2222 \end{array}$$

- A) 12 B) 13 C) 19 D) 20

10. $2^3 + 5^2$ işleminin sonucu aşağıdakilerden hangisidir?

- A) 12 B) 16 C) 24 D) 33

11. Dört basamaklı 587a sayısı 9 ile bölünebildiğine göre, a'nın değeri kaçtır?

- A) 0 B) 5 C) 7 D) 9

12. 34a21 sayısı 3 ile bölünebildiğine göre, “a” yerine yazılabilecek rakamların toplamı kaçtır?

- A) 5 B) 7 C) 10 D) 15

13. 1, 2, 6, 7, 9, 11, 13 sayılarından kaç tanesi asal sayıdır?

- A) 3 B) 4 C) 5 D) 6

14. 120 sayısının kaç tane asal çarpanı vardır?

- A) 6 B) 5 C) 4 D) 3

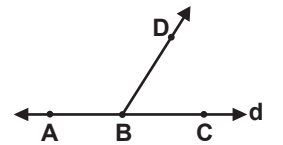
15. 12, 30, 48 sayılarının e.k.o.k'u kaçtır?

- A) 12 B) 48 C) 120 D) 240

16. 18 kg mercimek, 24 kg bulgur ve 42 kg fasulye ayrı ayrı eşit büyüklükteki torbalara konulmak isteniyor. En az kaç torba gerekir?

- A) 6 B) 12 C) 14 D) 21

17. Şekilde A, B, C noktaları d doğrusu üzerindedir. Buna göre aşağıdaki ifadelerden hangisi doğrudur?



- A) $[BC \cup [BA = d$ B) $[BD \cap d = AC$
C) $[BC \cap [AC = [AB$ D) $[BD \cap d = \{D\}$

18.

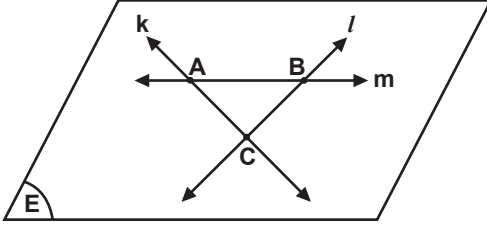


Şekildeki k doğrusu üzerinde D, E, F ve G noktaları verilmiştir. Buna göre, aşağıdakilerden hangisi yanlıştır?

- A) $[DE] \cap [EF] = \{E\}$ B) $[ED \cap [DF] = [DF]$
C) $[EF] \cup [FG] = [EG]$ D) $[DE] \cup [EG] = [DG]$

2. OTURUM

19.



Şekle göre aşağıdakilerden hangisi yanlıştır?

- A) $k \cap l = [AB]$ B) $k \cap m = \{A\}$
C) $l \cap m = \{B\}$ D) $k \cap l \cap m = \emptyset$

20. Doğrusal olmayan üç noktadan geçen kaç farklı doğru çizilebilir?

- A) 2 B) 3 C) 4 D) 6

İNGİLİZCE – 6

1.-20. sorularda boş bırakılan yerlere uygun düşen sözcük veya ifadeyi bulunuz.

1. A:

B: My name is Eren.

- A) Are you a doctor?
B) This is your brother.
C) Nice to meet you.
D) What's your name?

2. A: Are you a policeman?

B:, I'm a pilot.

- A) Thanks B) Yes C) No D) Hello

3. A: are you from?

B: I'm from Turkey.

- A) Which B) Who C) What D) Where

4. A: nationality is he?

B: He's Turkish.

- A) Who B) What C) When D) Where

5. Maria is from She's Italian.

- A) Italy B) England
C) America D) France

6. This is my brother. is eleven years old.

- A) We B) She C) He D) They

7. are your books.

- A) It B) They C) This D) That

8. A:

B: I'm thirteen years old.

- A) What is this? B) How are you?
C) What are you? D) How old are you?

9. Sibel is 7 years old. She's and fat.

- A) thin B) old C) young D) new

10. $9 + 10 = \dots\dots\dots$

- A) nineteen B) thirteen
C) ten D) two

11. I a dog. It's name is Karabaş.

- A) has got B) have got
C) am D) is

12. Dogs can't

- A) sleep B) run C) walk D) fly

13. A: Can Hülya lift the suitcase?

B: No, she can't.

A:

B: Because, it is too heavy.

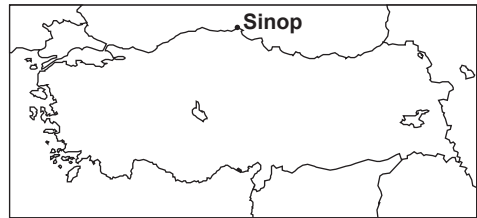
- A) Yes B) Why not?
C) No D) False

14. A: is my bag?

B: It's on the table.

- A) What B) Who C) Where D) When

15.



A: Where is Sinop?

B: It's in the of Turkey.

- A) north B) west C) south D) east

16. any apples on the tree.

- A) There is B) There isn't
C) There are D) There aren't

17. A:

B: It's 50 TL.

- A) It's very nice. B) How much is it?
C) Thank you. D) Look at that boy.

2. OTURUM

18. A:
B: It's January 12th, 2009.

A) What are they?
B) What's this?
C) What's the date today?
D) What's the last month of the year?

19. There are seasons in a year.

A) four B) three C) two D) one

20. A:
B: He's tall and thin. He's very good looking. He's got blond hair and blue eyes, and he's very friendly.

A) What's he like?
B) Where is he?
C) Can he ride a bike?
D) Is he an engineer?

ALMANCA – 6

1.-15. sorularda verilen cümlede boş bırakılan yerlere uygun düşen sözcük veya ifadeyi bulunuz.

1. Ayşe : Guten Tag! Ich heiße Ayşe. Wie heißen Sie?
Müller: Mein Name ist Müller.
Petra : Ich heiße Petra.
Hans : Wer ist das?
Petra : Das Brunner.

A) sind Frau B) seid Frau
C) bist Frau D) ist Frau

2. Ayşe : Guten Tag!
Fatma: Guten Tag!
Ayşe : Auf Wiedersehen!
Fatma:

A) Guten Tag! B) Guten Abend!
C) Auf Wiedersehen! D) Gute Nacht!

3. Monika : Guten Tag! Ich heiße Helga.
Wie heißen Sie?
Müller : Guten Tag! Mein Name Müller.
Monika : Auf Wiedersehen!
Müller : Auf Wiedersehen!

A) sind B) bist C) seid D) ist

4. Manfred : Ich heiße Manfred. Sind Sie Herr Müller?
Müller :, ich Herr Müller.
Manfred : Auf Wiedersehen!
Müller : Auf Wiedersehen!

A) Bin / ja B) Ja / bin C) Bist / ja D) Ja / bist

5. Δ: Sind Sie Herr Schmidt? (Olumsuz cevap)
◇:, ich bin Herr Schmidt.

A) Nein / nicht B) Nein / keine
C) Nicht / nein D) Ja / nicht

6. Petra : Wie geht es Ihnen?
Monika : Danke, Und dir?
Petra : Danke, gut.

A) es geht mir B) mir es geht
C) es geht mir gut D) mir gut es geht

7. Monika: Ich heiße Monika. Wie alt sind Sie?
Petra : Ich bin 18

A) alt Jahren B) jahre alt
C) jahre gut D) jahre kalt

8. A: alt bist du?
B: Ich bin 20 Jahre alt.

A) Woher B) Wann C) Wohin D) Wie

9. Δ: Wo wohnen Sie?
◇: Ich wohne Ankara.

A) im B) ins C) in D) von

10. Hans : Guten Tag! Woher kommst du?
Walter: Ich komme İzmir.
Hans : Vielen Dank!
Walter: Bitte sehr!

A) aus B) in C) nach D) um

11. Δ: Woher kommen Sie?
◇:

A) In Antalya B) Aus Antalya
C) Bei Antalya D) Nach Antalya

12. Δ:
◇: Das ist Walter.

A) Wo wohnt er? B) Woher kommst du?
C) Wie heißt du? D) Wer ist das?

13. Δ: Ich 18 Jahre alt.
◇: Wie alt du?

A) ist / bin B) bin / bist
C) bist / ist D) ist / ist

14. Sie ist Lehrerin Beruf. Sie ist ledig.

A) aus B) in C) von D) im

2. OTURUM

15. Δ: Ist das eine Tasche?

◇ : Ja, das ist Tasche.

- A) eine B) einen C) ein D) eins

16. Aşağıdakilerden hangisi anlam yönünden diğerlerinden farklıdır?

- A) der Tisch B) der Stuhl
C) der Bleistift D) das Kind

17. Aşağıdaki sözcüklerden hangisinde çoğul isim olarak verilmiştir?

- A) das Buch B) die Kinder
C) die Uhr D) der Ball

18. Kurallı cümle oluşturunuz.


Ich / aus / İstanbul / heute / komme
1 2 3 4 5

- A) 3 / 2 / 1 / 4 / 5 B) 3 / 2 / 4 / 5 / 1
C) 1 / 5 / 4 / 2 / 3 D) 1 / 4 / 2 / 5 / 3

19. Hangi sözcüğün Türkçe karşılığı yanlış verilmiştir?

- A) der Montag: Çarşamba
B) das Buch: Kitap
C) die Stühle: Sandelyeler
D) das Bild: Resim

20. Wie viel spät ist es?



- A) Es ist fünf vor drei. B) Es ist elf Uhr.
C) Es ist drei Uhr. D) Es ist fünf nach drei.

FRANSIZCA – 6

1. -3. sorularda boş bırakılan yerlere uygun düşen sözcük veya ifadeyi bulunuz.

1. Vous à Paris.

- A) habitons B) habites
C) habitent D) habitez

2. Je m'appelle Ecem, je suis

- A) avocat B) ouvrier C) chanteuse D) musicien

3. Je cherche lunettes.

- A) mon B) ton C) notre D) mes

4. Boş bırakılan yere rakamla yazılan sayının Fransızca yazılışı aşağıdakilerden hangisidir?

J'ai (13)..... ans.

- A) onze B) treize C) seize D) quinze

5. Aşağıdaki masculin-feminin eşleşmelerinden hangisi yanlıştır?

- A) chinois - chinois B) français - française
C) russe - russe D) turc - turque

6. Aşağıdakilerin hangisinde Türk bayrağının renkleri doğru verilmiştir?

- A) rouge - bleue B) bleue - blanc
C) rouge - blanc D) rouge - jaune

7. Resme bakarak sorunun doğru cevabını bulunuz.

Quelle est sa profession?



- A) professeur B) infirmière
C) journaliste D) mécanicien

8. Aşağıda verilen isimlerden hangisi masculin isimdir?

- A) la fille B) les maisons
C) une jupe D) un garçon

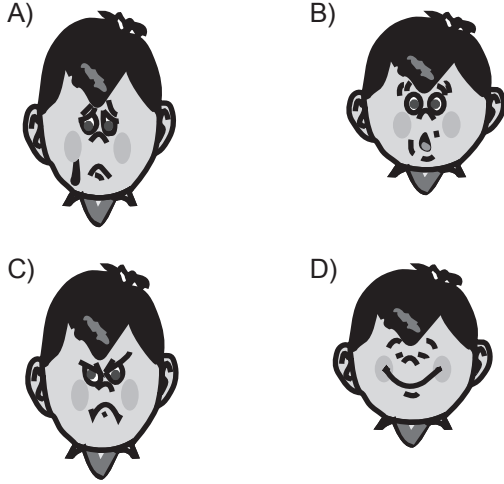
2. OTURUM

9. Resimde gördüğünüz meyvenin rengi aşağıda hangisinde doğru verilmiştir?



- A) rouge B) blanc C) jaune D) bleue

10. "Qui est triste?"



11. Aşağıdakilerden hangisi bir meslek adıdır?

- A) veste B) médecin C) jupe D) manteau

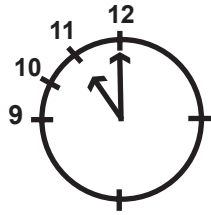
12. "Trente - sept" sayısının rakamla yazılışı hangisidir?

- A) 47 B) 74 C) 77 D) 37

13. "Büyükanne" kelimesinin Türkçe karşılığı aşağıdakilerden hangisidir?


- A) Le père B) La grand-mère
C) Le grand-père D) La mère

14. Quelle heure est-il?



- A) Il est douze heures B) Il est dix heures
C) Il est onze heures D) Il est treize heures

15. - 18. sorularda, aşağıdaki resimde numaralanmış yerlere uygun düşen sözcük ya da ifadeyi bulunuz.



15.

- A) une ceinture B) un drapeau
C) un bouquin D) un vendeur

16.

- A) un chaudron B) un chaudeau
C) une chaussette D) une chaussure

17.

- A) une jupe B) une chemise
C) une robe D) un pull-over

18.

- A) une fleur B) un livre
C) une veste D) un sac

19. Aşağıdakilerden hangisi birini selamlamak için kullanılmaz?

- A) bonheur! B) bonjour! C) bonsoir! D) salut!

20. Resme göre aşağıdakilerden hangisi söylenemez?

- A) Il a un chapeau.
B) Il a une moustache.
C) Il porte des lunettes.
D) Il a une barbe.



2. OTURUM

DİN KÜLTÜRÜ ve AHLAK BİLGİSİ – 6

1. Aşağıdakilerden hangisi cemaatle namaz kılmanın toplumsal faydalarından değildir?

- A) İnsanlar, birbirlerinin sorun ve sıkıntılarından haberdar olurlar.
- B) Mesleği ve gelir düzeyi farklı olan insanları birbirine yakınlaştırır.
- C) İnsanlar arasında karşılıklı sevgi oluşturur.
- D) Beden ve ruh temizliği kazandırır.

2. Aşağıdakilerden hangisi abdesti bozan durumlardan değildir?

- A) Tırnakları kesmek
- B) Tuvalet ihtiyacını gidermek
- C) Namaz kılarken yanındaki işitecek kadar gülmek
- D) Ağız dolusu kusmak

3. Aşağıdakilerden hangisi kametin ezandan farkını ifade eder?

- A) "Allahü ekber" cümlesiyle başlaması
- B) "Lailâhe illâllah" cümlesiyle bitmesi
- C) "Kad kametis salah" cümlesinin okunması
- D) "Esselatu hayrun minen nevm" cümlesinin okunması

4. "Semi Allahü limen Hamideh" namazın hangi bölümünde söylenir?

- A) Rûkudan doğrulurken
- B) Secdede
- C) Secdeden kalkarken
- D) Rûkuda

5. Aşağıdaki namazlardan hangisinin kılınması farzdır?

- A) Vitir namazı
- B) Cuma namazı
- C) Teravih namazı
- D) Bayram namazı

6. Aşağıdaki namazlardan hangisinde imam minberde çeşitli konularda öğütler içeren bir hutbe okur?

- A) Teravih namazı
- B) Cenaze namazı
- C) Bayram namazı
- D) Vitir namazı

7. Aşağıdaki namazlardan hangisi tek başına kılınabilir?

- A) Cenaze
- B) Bayram
- C) Cuma
- D) Teravih

8. "Ve ersele aleyhim tayran ebabil" ayeti aşağıdaki surelerden hangisine aittir?

- A) Felak suresi
- B) Fil suresi
- C) Nasr suresi
- D) İhlas suresi

9. Zekâtla ilgili aşağıda verilen bilgilerden hangisi yanlıştır?

- A) Arazi ürünlerinin gelirlerinden zekât vermek gerekmez.
- B) Zekât, bakmakla yükümlü olunan kimselere verilmez.
- C) Zekât, bir kişiye verilebileceği gibi, birkaç kişi arasında da paylaştırılabilir.
- D) Zekât verilecek malın, ticaret eşyasının ve paranın üzerinden bir yıl geçmiş olması gerekir.

10. Aşağıda verilen mallardan hangisinin zekâtı verilmez?

- A) Gümüş ve paranın
- B) Ev eşyasının
- C) Arazi ürünlerinin
- D) Ticaret mallarının

11. Aşağıdakilerden hangisi kendisine zekât verileceklerden biri değildir?

- A) Borçlular
- B) Düşkünler
- C) Yolcular
- D) Yaşlılar

12. Girmeden ayrılık bir millete düşman giremez. Toplu vurdukça yürekler onu top sindiremez.

Mehmet Akif Ersoy yukarıdaki mısralarda hangi duygunun önemine işaret etmiştir?

- A) İnsan sevgisi
- B) Cesaret ve kahramanlık
- C) Birlik ve beraberlik
- D) Bağımsızlık ve özgürlük

13. Kutsal bir ülkü veya inanç uğruna savaşırken ölen kimseye ne denir?

- A) Gazi
- B) Kahraman
- C) Şehit
- D) Yiğit

14. İstiklal Marşı ile ilgili aşağıda verilen bilgilerden hangisi yanlıştır?

- A) 12 Mart 1923'te TBMM'de kabul edilmiştir.
- B) 10 kıtadan oluşur.
- C) Mehmet Akif Ersoy tarafından yazılmıştır.
- D) Millî varlığımızın sembolüdür.

15. Bir kimsenin yüzüne söylendiğinde hoşlanmayacağı kusurağının arkasından söylenmesine ne denir?

- A) İftira
- B) Yalan
- C) Gıybet
- D) Hile

2. OTURUM

16. “Erkek müminler ile kadın müminlere işlemedikleri bir günah ile eziyet edenler doğrusu açık bir günah yüklenmişlerdir.” (Azzhab suresi, 12. ayet)
Bu ayette Allah (c.c) hangi olumsuz davranıştan bahsetmektedir?

A) Gıybet B) Alay etmek
C) Kıskançlık D) İftira

17. Aşağıdaki davranışların hangisinde haksız kazanç vardır?

A) İçki içmek B) Kumar oynamak
C) Alay etmek D) Yalan söylemek

18. İslam dini insanlar arasında dostluk ve kardeşliği geliştirmek için bazı tavsiyelerde bulunmuştur. Aşağıdakilerden hangisi bunlar arasında sayılamaz?

A) Gıybet etme B) Ziyaret etme
C) Hediye verme D) Selam verme

19. Aşağıdakilerden hangisi dinimizin teşvik ettiği davranışlardandır?

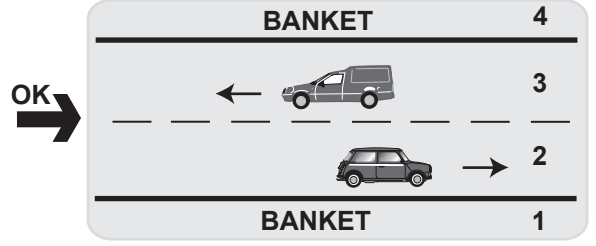
A) Haset B) Kibir C) Kıskançlık D) Hoşgörü

20. Aşağıdakilerden hangisi İslam dininin prensipleri arasında sayılamaz?

A) Kolaylaştırma B) Korkutma
C) Müjdeleme D) Uyarma

TRAFİK – 6

1.



Ok yönünde yürümek isteyen yaya, kara yolunun hangi numaralı kısmını kullanmalıdır?


A) 1 B) 2 C) 3 D) 4

2. Hangi taşıtı kullananlara kaptan denir?

A)



B)



C)



D)



3. En önemli özelliği tek yönlü trafiğe açık olması olan kara yolu aşağıdakilerden hangisidir?

A) Bağlantı yolu B) Tali yol
C) Taşıt yolu D) Ana yol

4. Can, bisikleti ile aşağıdaki yollardan hangisine giremez?

A) Tali yola B) Otoyola
C) Ana yola D) İki yönlü kara yoluna

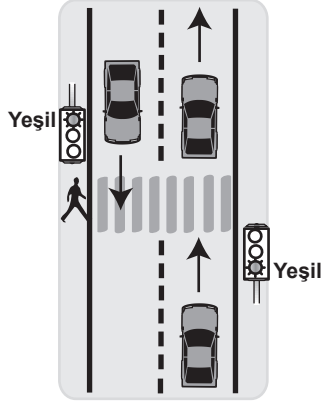
5. Aşağıdakilerden hangilerinin hataları trafik kazalarına yol açabilir?

I- Sürücülerin
II- Yayaaların
III- Yolcuların

A) Yalnız I B) Yalnız II C) I - II D) I - II - III

2. OTURUM

6. Şekildeki durumda yayanın hangisini yapması doğrudur?



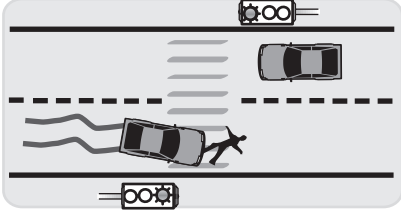
- A) Solundaki araç geçtikten sonra yaya geçidine inmesi
B) Taşıtlara kırmızı ışığın yanmasını beklemesi
C) Yol boş ise acele etmeden karşıya geçmesi
D) Yaya geçidinde olduğundan, sürücülerini ikaz ederek durdurması

7. "Ali iki yönlü kara yolundan karşıya geçmek için kaldırımda duruyor. Önce sola sonra sağa sonra tekrar sola bakıp, yolun ortasında tekrar sağa baktıktan sonra karşıya geçiyor."

Buna göre Ali, kara yolunda karşıya geçerken hangi kuralı uygulamış olur?

- A) Güvenli geçişi B) Şifreli geçişi
C) Kartlı geçişi D) Tehlikeli geçişi

8.



Şekildeki kaza için aşağıdakilerden hangisi kesinlikle söylenir?

- A) Yayanın dalgın olduğu
B) Taşıtta fazla yolcu olduğu
C) Kaza yapan sürücünün kırmızı ışıkta durmadığı
D) Yayanın trafik kurallarını bilmediği

9. Hangisi kavşaklarda trafiğin akışını sağlamada görev yapar?

- A) Trafik polisi B) Öğretmen
C) Sağlık memuru D) Makinist

10. Aşağıdakilerden hangisinin otomobillerde bulunulması zorunlu değildir?

- A) İlk yardımcı çantası
B) Bebek koltuğu
C) Yangın söndürme cihazı
D) Stepne

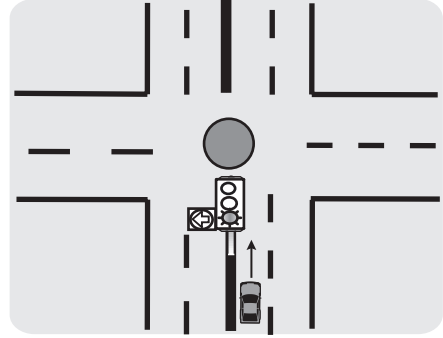
11. Aşağıdakilerden hangisi güvenli bir araçta olması gerekir?

- A) Silecekler B) Elektrikli koltuk
C) CD çalar D) Açılabilir tavan

12. Ölümcül trafik kazalarında, kaza tespit tutanağını aşağıdakilerden hangisi hazırlar?

- A) İtfaiye eri B) Araç sürücülerini
C) Trafik polisi D) Ambulans doktoru

13. Şekildeki trafik lambasında yeşil oklu ışık ile yeşil ışık yanmaktadır.



Bu durumda taşıt sürücüsü aşağıdakilerden hangilerini yapabilir?

- I- Sola dönüşü
II- Doğru gitmeyi
III- Yolcu indirme bindirmeyi

- A) I - II B) I - III C) II - III D) I - II - III

14. Ayşe, Murat ve Mehmet'in trafik işaret levhaları ile ilgili görüşleri aşağıdaki gibidir:



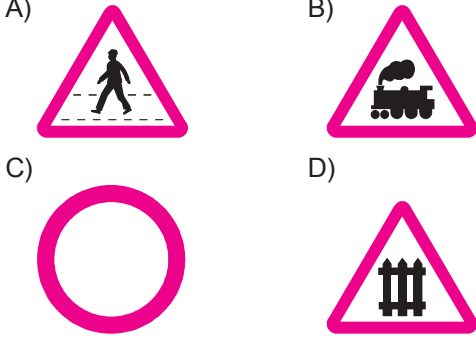
Buna göre hangilerinin verdiği bilgi trafik işaret levhalarının görevi ile ilgilidir?

- A) Ayşe ve Murat'ın B) Mehmet ve Murat'ın
C) Ayşe ve Mehmet'in D) Ayşe, Murat ve Mehmet'in

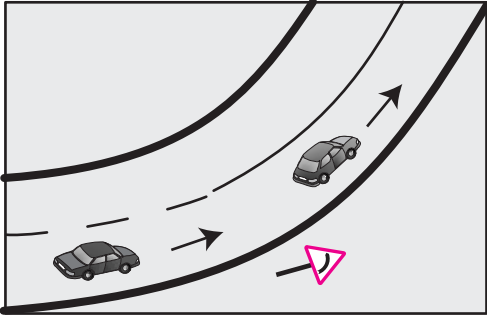
2. OTURUM

15. Zeynep ile dedesi yürürken yol kenarında bir trafik işaret levhası görürler. Zeynep merakla dedesine bunun ne anlama geldiğini sorar. Dedesi ise; "Bu, kontrolsüz demir yolu geçidine geldiğini bildirir" der.

Bu trafik işaret levhası aşağıdakilerden hangisidir?



16.



Şekildeki durumda sürücülerin hangisini yapması yasaktır?

- A) Viraja girmeden hızlarını düşürmeleri
- B) Kesik çizgili yol bölümünde, önündeki aracı geçmeleri
- C) Seyir esnasında yol çizgilerini dikkate almaları
- D) Devamlı yol çizgisinin bulunduğu yol bölümünde önündeki aracı geçmeleri

17. Belediye otobüsüne zarar veren bir yolcu görüldüğünde aşağıdakilerden hangisi yapılmalıdır?

- A) Hiçbir şey olmamış gibi davranmalıdır.
- B) İlk durakta otobüsten inmelidir.
- C) Zarar vermemesi için uygun bir dille uyarılmalıdır.
- D) Zarar verilen yerin tespiti yapılmalıdır.

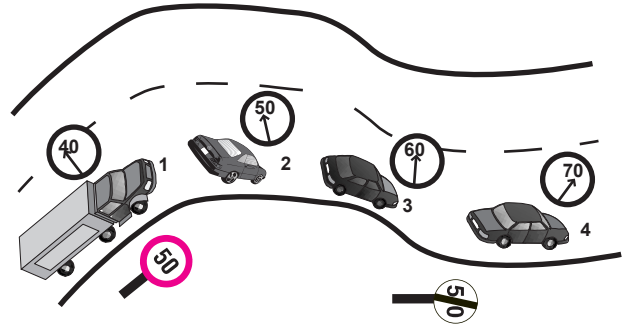
18. Trafikte yayanın sorumluluğu ile ilgili üç öğrencinin görüşleri aşağıdaki gibidir.



Buna göre hangi öğrencilerin verdiği bilgi yanlıştır?

- A) Selma
- B) Hakan
- C) Gamze
- D) Selma ve Gamze

19.



Şekilde, numaralandırılmış araçlar ve bu araçlara ait hızları verilmiştir.

Buna göre hangi numaralı araç sürücüsü trafik işaret levhasına uymamıştır?

- A) 4
- B) 3
- C) 2
- D) 1

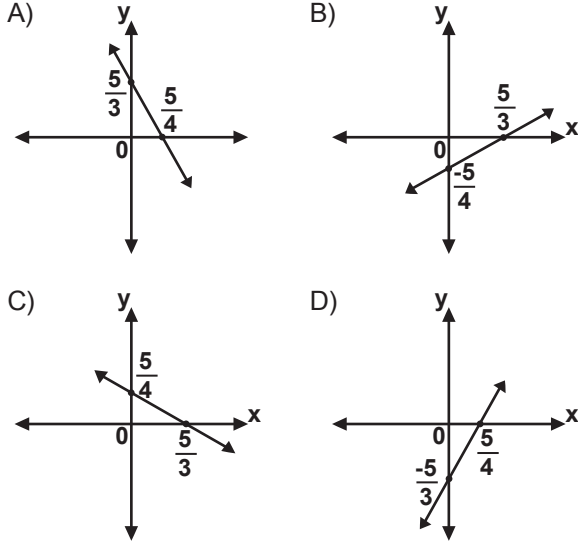
20. Aşağıdakilerden hangileri emniyet kemeri kullanır?

- I - Yaya
- II - Sürücü
- III - Yolcu

- A) I - II
- B) I - III
- C) II - III
- D) I - II - III

2. OTURUM

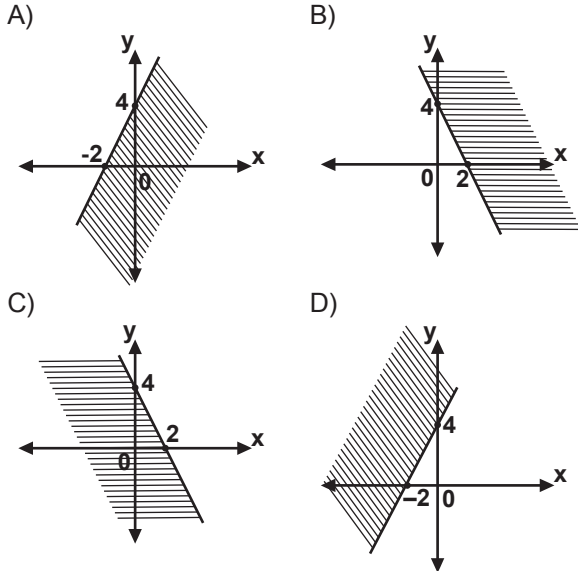
18. $3x - 4y - 5 = 0$ doğrusunun grafiği aşağıdakilerden hangisidir?



19. Koordinat sisteminde $O(0, 0)$ ve $A(6, 8)$ noktalarından geçen doğru çiziliyor. Aşağıda koordinatları verilen noktalardan hangisi bu doğru üzerindedir?

- A) (3, 4) B) (4, 2) C) (8, 6) D) (2, 4)

20. $2x + y - 4 \geq 0$ eşitsizliğinin koordinat düzleminde çözüm kümesinin grafiği aşağıdakilerden hangisidir?



T.C. İNK. TAR. ve ATATÜRKÇÜLÜK – 8

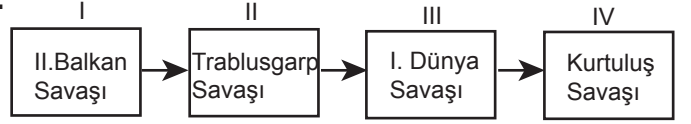
1. Osmanlı Devleti içindeki milletlerin bağımsızlık için ayaklanmalarında aşağıdakilerden hangisi etkili olmuştur?

- A) Sanayi İnkılabı
B) Fransız İhtilali
C) Tanzimat Fermanı
D) Düyun-ı Umumiye İdaresi

2. Türk tarihinde hazırlanan ilk anayasa aşağıdakilerden hangisidir?

- A) Teşkilatı Esasiye B) Düyun-ı Umumiye
C) Mebuslar Meclisi D) Kanunuesasi

3.



Verilen şemada kronolojik sıralamanın düzelmesi için hangi kutucuklar yer değiştirmelidir?

- A) I - II B) II- III C) II - IV D) III - IV

4. İttifak Devletleri

- Almanya
- Avusturya-Macaristan İmparatorluğu
- Rusya
- Bulgaristan

İtilaf Devletleri

- İngiltere
- Fransa
- Rusya

Yukarıdaki devletlerden hangisi yanlış grupta gösterilmiştir?

- A) Almanya B) Fransa
C) Rusya D) Bulgaristan

5. I. Dünya Savaşı'nda Kafkasya Cephesi'nde Osmanlı Devleti aşağıdaki devletlerden hangisiyle savaşmıştır?

- A) İtalya B) Rusya C) Fransa D) İngiltere

6. Osmanlı ordularının aşağıdaki cephelerden hangisinde kazandığı başarı Rusya'da çarlık rejiminin yıkılmasında etkili olmuştur?

- A) Çanakkale B) Kafkasya
C) Galiçya D) Suriye

7. Aşağıdakilerden hangisi I. Dünya Savaşı sonunda İttifak Devletleriyle imzalanan barış antlaşmalarından biri değildir?

- A) Versailles (Versay) B) Ouchy (Uşi)
C) Neuilly (Nöyyi) D) Trianon (Triyanon)

2. OTURUM

8. Aşağıda belirtilen devletlerden hangisinin savaşa girmesi, İtilaf Devletlerinin I. Dünya Savaşı'nı kazanmalarında doğrudan etkili olmuştur?
- A) Japonya B) Rusya
C) ABD D) İngiltere
9. I. Dünya Savaşı'ndan sonra Osmanlı Devleti'nin nasıl paylaşılacağına ele alındığı konferans hangisidir?
- A) Paris Barış Konferansı
B) Lozan Barış Konferansı
C) Londra Konferansı
D) Sevr Konferansı
10. Aşağıdakilerden hangisi azınlıklar tarafından kurulan zararlı cemiyetlerden biridir?
- A) Teali İslam Cemiyeti
B) İngiliz Muhipleri Cemiyeti
C) Pontus Rum Cemiyeti
D) Kilikyalılar Cemiyeti
11. Aşağıdakilerden hangisi işgaller karşısında Mustafa Kemal'in düşündüğü kurtuluş çaresidir?
- A) İngiltere'nin himayesini istemek
B) Amerika'nın koruyuculuğu altına girmek
C) Bölgesel kurtuluş çareleri aramak
D) Kayıtsız ve şartsız, bağımsız yeni bir Türk devleti kurmak
12. Aşağıdakilerden hangisi Mustafa Kemal'in öğrenim gördüğü okullardan değildir?
- A) Selanik Askerî Rüştiyesi
B) Manastır Askerî İdadisi
C) İstanbul Deniz Harp Okulu
D) Harp Akademisi
13. Atatürk 1932'de Amerika Birleşik Devletleri generali Mac-Arthur (Mak Artur)'la yaptığı görüşme sırasında "Almanya'nın İngiltere ve Rusya hariç bütün Avrupa'yı işgal edebilecek bir orduyu kısa zamanda kurabileceğini ve savaşın 1940-1946 seneleri arasında başlayacağını" belirtmiştir.
- Verilen bilgi ile Atatürk'ün aşağıdaki kişisel özelliklerinden hangisi arasında doğrudan bir ilişki kurulabilir?
- A) İleri görüşlülüğü
B) Birleştirici ve bütünleştirici gücü
C) İnkılapçılığı
D) Vatan ve millet sevgisi
14. Aşağıdakilerden hangisi Mustafa Kemal'in Samsun'a çıkışı ile ilgili değildir?
- A) 19 Mayıs 1919 B) 9. Ordu Müfettişliği
C) Bandırma Vapuru D) Trablusgarp Savaşı
15. I- 22 Haziran 1919 - Amasya Genelgesi'nin yayımlanması
II- 23 Temmuz 1919 - Erzurum Kongresi'nin toplanması
III- 28 Ocak 1920 - Sivas Kongresi'nin toplanması
IV- 10 Ağustos 1920 - Gümrü Antlaşması'nın imzalanması
- Yukarıdaki tarih-olay eşleştirmelerinden hangisi veya hangileri doğrudur?
- A) Yalnız I B) I ve II C) II ve IV D) III ve IV
16. Aşağıdakilerden hangisi hem toplanma şekli ve amacı hem de aldığı kararlar yönünden millî bir kongre olma özelliği taşımaktadır?
- A) Balıkesir Kongresi B) Alaşehir Kongresi
C) Sivas Kongresi D) Erzurum Kongresi
17. Kurtuluş Savaşı'nda Fransa ile Türkiye arasındaki savaş durumunu sona erdiren antlaşma aşağıdakilerden hangisidir?
- A) Kars Antlaşması B) Moskova Antlaşması
C) Ankara Antlaşması D) Gümrü Antlaşması
18. Aşağıdakilerden hangisi I. İnönü Zaferi'nin bir sonucudur?
- A) Londra Konferansı
B) Kars Antlaşması
C) Ankara Antlaşması
D) Mudanya Ateşkes Antlaşması
19. Aşağıdakilerden hangisi Mudanya Ateşkes Antlaşması ile silahlı çatışmaya girilmeden kurtarılan yerlerden değildir?
- A) İstanbul B) Doğu Trakya
C) Boğazlar D) Muğla
20. Lozan Antlaşması ile Yunanistan'ın savaş tazminatı olarak Türkiye'ye verdiği yer aşağıdakilerden hangisidir?
- A) Karaağaç B) İpsala
C) Babaeski D) Lüleburgaz

2. OTURUM

İNGİLİZCE – 8

1.-20. sorularda verilen cümlede boş bırakılan yerlere uygun düşen sözcük veya ifadeyi bulunuz.

1. A: I have to England.
B: Really? When did you go there?
C: I went there two years ago.
A) seen B) thought C) gone D) been
2. This is the highest mountain
A) he has ever eaten.
B) we have ever swum.
C) I have ever climbed.
D) she has ever cleaned.
3. A bicycle is than a car.
A) faster B) slower
C) more crowded D) more delicious
4. I didn't coke but I ayran at her birthday party yesterday.
A) drink / drank B) eat / ate
C) watch / saw D) dance / played
5. She her leg while she was playing tennis.
A) threw B) cleaned C) found D) hurt
6. If you're hungry,
A) drink water.
B) don't eat anything.
C) eat a hamburger.
D) don't go to a restaurant.
7. When I see "No parking" sign, I
A) can't listen to music.
B) must see you.
C) can visit my parents.
D) musn't park there.
8. I never watch boxing. I it.
A) like B) hate C) enjoy D) love
9. Ten plus five equals
A) fifteen B) fifty C) two D) five
10. can fly.
A) A bird B) A fish C) A dog D) A cat
11. Metin when he was a baby.
A) is able to speak 3 languages
B) can write
C) couldn't read
D) will be able to drink milk
12. A: Are there, any oranges in the fridge?
B:, there are some.
A) Who B) Where C) No D) Yes
13. I've got a few in my bag.
A) water B) books C) money D) tea
14. A: What shall we do this weekend?
B:
C: That's a good idea.
A) Let's go to that new shopping center.
B) I've travelled all over the world.
C) Why did you visit your grandparents?
D) I was alone at home last weekend.
15. A: Excuse me, is there a bank near here?
B: Yes, go a long this street. You'll see it on your left.
C:
A) Take the second left.
B) It's between the hotel and the bank.
C) Thanks a lot.
D) Where is the bank?
16. A: is your name?
B: My name is Hasan.
A) Which B) Where C) When D) What
17. A: fishes have you caught?
B: Five.
A) How much B) How many
C) When D) Where
18. A: was he born?
B: In 1981.
A) Which B) Where C) When D) Who
19., if you want to get high marks in the exam.
A) Take off your jacket
B) You must study hard
C) You must go to a doctor
D) Don't sleep till midnight

2. OTURUM

20., you must see a dentist.

- A) If you have a toothache
- B) If you want to drive a car
- C) If he doesn't clean his room
- D) If she comes home late

ALMANCA – 8

1.-15. sorularda verilen cümlede boş bırakılan yerlere uygun düşen sözcük veya ifadeyi bulunuz.

1. Mehmet: Guten Morgen!

Hans : Guten Morgen!

Mehmet: Guten Tag!

Hans :

Mehmet: Vielen Dank!

- A) Gute Nacht! B) Guten Morgen!
- C) Grüß dich! D) Guten Tag!

2. Walter: Wie geht es dir?

Hans : Danke,

Walter: Vielen Dank!

- A) kalt B) alt C) gut D) geht

3. Er spricht der lehrerin.

- A) auf B) mit C) aus D) bei

4. Δ : Ist das Buch für mich?

◇ : Ja, das Buch ist für

- A) dich B) mich C) mir D) sich

5. Wie geht Ihnen?

- A) e B) en C) em D) es

6. Ich gehe ins Theater, ich Zeit

- A) haben / wenn B) habe / wenn
- C) wenn / habe D) als / haben

7. Ich arbeite in Köln, ich habe eine gute Arbeit.

- A) wenn B) als C) weil D) denn

8. Ich gehe zum Arzt

- A) damit ich habe wenig Geld.
- B) denn ich bin krank.
- C) weil ich dort die Arbeit finden.
- D) als ich 7 jahre alt habe.

9. Ich gehe jeden Samstag Theater oder Kino.

- A) ins / ins B) ins / im C) im / in D) von / aus

10. Ich freue auf die Freien. Er fühlt wohl.

- A) mich / sich B) sich / mich
- C) sich / dich D) dich / sich

11. Ich Klavier und ich gern Musik.

- A) kann / muss B) höre / spiele
- C) spiele / höre D) spielt / hört

12. Ali spricht sehr Deutsch und er fliegt Deutschland.

- A) in / im B) nach / gut
- C) von / aus D) gut / nach

13. Er ist lustiger meine Mutter. Meine Mutter ist 40 Jahre

- A) denn / kalt B) als / alt
- C) wenn / weit D) weil / von

14. Mehmet ist so fleißig Ahmet.

- A) wie B) so C) als D) genau

15. Die Lampe hängt dem Tisch.

- A) an B) hinten C) über D) zwischen

16. Aşağıdaki fillerden hangisi anlam yönünden diğerlerine göre farklıdır?

- A) schwimmen B) sport treiben
- C) fernsehen D) trinken

17. Aşağıdaki cümlelerden hangisi superlativ olarak verilmiştir?

- A) Der Vater ist Jung.
- B) Das Baby ist am jungsten.
- C) Das Mädchen ist junger.
- D) Das Kind ist Junger.

18. Aşağıdakilerden hangisinde komperativ sıfatı verilmiştir?

- A) jung B) alt C) billiger D) am kleinsten

19. Aşağıda verilen fiillerden hangisinin çekim biçimi yanlış verilmiştir?

- | 1. Infitiv | 2. Präteritum | 3. P. Perfekt |
|------------|---------------|---------------|
| A) kommen | kam | gekommen |
| B) gehen | geh | gegehen |
| C) geben | gab | gegeben |
| D) kaufen | kaufte | gekauft |

2. OTURUM

20. Kurallı bir cümle oluşturunuz.

Wir / Jeden Montag / wollen / ins Kino / und / gehen /
1 2 3 4 5 6
ins Theater
7

- A) 1 / 3 / 2 / 4 / 5 / 7 / 6 B) 6 / 7 / 5 / 4 / 2 / 3 / 1
C) 4 / 5 / 7 / 6 / 1 / 3 / 2 D) 1 / 2 / 4 / 3 / 6 / 7 / 5

FRANSIZCA – 8

1.-12. sorularda verilen cümlede boş bırakılan yerlere uygun düşen sözcük veya ifadeyi bulunuz.

1. Elles sont hier soir.

- A) arrivé B) arrivée C) arrivés D) arrivées

2. S'il pleut, restera à la maison.

- A) tu B) je C) on D) nous

3. Je dors en la musique.

- A) dorment B) écoutant
C) dormant D) écoutent

4. En 1973 mes parents en France

- A) étaient B) toujours
C) quand D) pendant

5. Le marchand de légumes vend

- A) du lait, du beurre, du fromage.
B) du sel, du sucre, du chocolat.
C) du boeuf, du veau, du mouton.
D) des pommes de terre, des tomates.

6. Le matin au petit déjeuner, on boit

- A) du beurre B) des croissants
C) du thé D) de la viande

7. Demain, nous à l'école.

- A) seront B) sortiras
C) viendrez D) irons

8. Le soir, au dîner, je prends œufs ou poisson.

- A) les / des B) des / du
C) les / de D) des / de la

9. Pour réussir à l'examen, beaucoup.

- A) travaillez B) travailler
C) travaillent D) travaillant

10. A: A quelle heure êtes - vous sorti du cinéma?
B:

- A) Nous sommes sortis à 22 h 30.
B) Vous êtes sortis du cinéma.
C) Nous voulons allé au cinéma.
D) Vous irez au cinéma à 8 heures.

11. A:
B: 15 Euros.

- A) Il y a combien de jupes ici?
B) Combien de jupes vendez-vous?
C) Quel est le prix de cette jupe?
D) Qui vend ces jupes?

12. A: Qu'est-ce que vous avez mangé?
B:

- A) J'ai mangé du vin.
B) Vous avez mangé du lait.
C) Tu as mangé de la bière.
D) Nous avons mangé du fromage.

13. Aşağıda verilen cümleleri "gérontif" kullanarak tek cümle hâlindeki yazılışını bulunuz.
– Elle marche dans la rue.
– Elle chante.

- A) Elle chante et elle marche dans la rue.
B) Elle marche dans la rue en chantant.
C) Elle marche et elle chante dans la rue.
D) Elle chante dans la rue puis elle marche.

14. Aşağıdaki sözcükler gruplandırıldığında hangisi grubun dışında kalır?

- A) fromage B) orange
C) pomme D) carotte

15. "Avoir" fiilinin participe présent hâli hangisidir?

- A) Avais B) Avant
C) Ayant D) Avons


16. Parantez içinde mastar hâlde verilen fiilinin "imparfait" zamanında yazılışı hangisidir?
– Nous (regarder) le match quand mon frère a téléphoné.

- A) regardais B) regardons
C) regardont D) regardions

2. OTURUM

17. Resme göre sorunun cevabını bulunuz.

Où est-ce qu'il a mal?



- A) Il a mal à l'estomac. B) Il a mal à la tête.
C) Il a mal au pied. D) Il a mal au dos.

18. Aşağıdakilerden hangisi (impératif) emir cümlesidir?

- A) Vous me dites de parler doucement.
B) Pouvez - vous parler sans crier.
C) Ne parlez pas à haute voix.
D) Vous parlez toujours en anglais.

19. "Les élèves sont allés à la piscine." cümlesinin olumsuz hâli aşağıdakilerden hangisidir?

- A) Les élèves n'aiment pas la piscine.
B) Les élèves ne sont pas allés à la piscine.
C) Les élèves qui sont allés à la piscine.
D) C'est la piscine que les élèves sont allés.

20. la - il - a - fièvre - de

1 2 3 4 5

Kurallı cümle oluşturunuz.

- A) 2 / 3 / 5 / 1 / 4 B) 3 / 5 / 1 / 4 / 2
C) 1 / 4 / 5 / 2 / 3 D) 5 / 1 / 3 / 2 / 4

TRAFİK – 8

1. Trafikle ilgili mühendislik hizmetleri sunan kurumlar; aşağıdakilerden hangilerini yapar?

- I- Trafik işaretlerinin standartlarını tespit eder.
II- Hız sınırlarını belirler ve işaretlemeleri yaptırır.
III- Kara yollarının güvenliğini ilgilendiren projeleri inceler.

- A) I - II B) I - III C) II - III D) I - II - III

2. Murat ve Sinan, Ankara Kurtuluş Parkında gezerken çocuklar için yapılmış olan trafik eğitim tesisini görürler. Murat Sinan'a, bu tesisi çok beğendiğini ve hangi kurumun yapmış olabileceğini sorar.

Sinan bu soruya hangi cevabı vermelidir?

- A) Belediye
B) İl Özel İdaresi
C) Emniyet Genel Müdürlüğü
D) Karayolları Genel Müdürlüğü

3. Aşağıdakilerden hangileri trafik eğitiminde görev yapar?

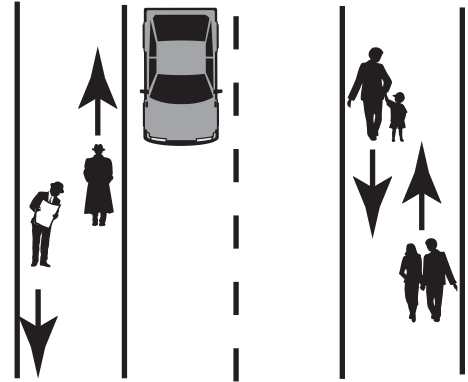
- I- Dışişleri Bakanlığı
II- Millî Eğitim Bakanlığı
III- İçişleri Bakanlığı

- A) I - II B) I - III C) II - III D) I - II - III

4. Şehirler arası kara yollarında, sürücü ve araç denetimi hangi kuruluş tarafından yapılır?

- A) Karayolları Genel Müdürlüğü
B) Emniyet Genel Müdürlüğü
C) Büyük Şehir Belediyesi
D) Millî Eğitim Bakanlığı

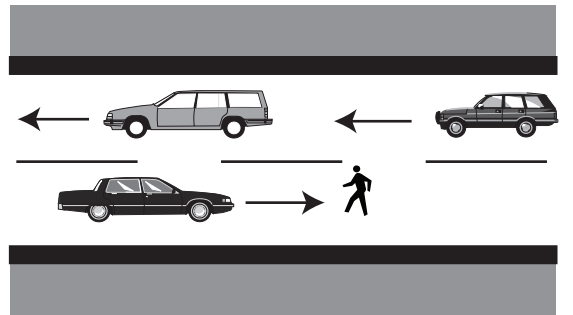
- 5.



Şekle göre yayalar kurallara uygun hareket etmektedirler. Bu tespit, yayaların hangi kurala uyduğundan dolayı yapılabilir?

- A) Gidiş yönüne göre kaldırımın sağ yarısından yürünmelidir.
B) Trafikte tutarlı davranış gösterilmelidir.
C) Trafikte yayalar ve sürücüler uyum içinde olmalıdır.
D) Yayalar karanlıkta görünebilmek için ellerinde lamba taşımalıdır.

- 6.



Şekildeki kara yolunda karşıya geçebileceğini düşünen yaya yola iniyor, birden kararını değiştirip geriye dönmek istiyor.

Yaya bu hâliyle trafikte nasıl bir davranış göstermiştir?

- A) Öfkeli B) Tutarsız
C) Cesaretli D) Tutarlı

2. OTURUM

7. Ali, sürücü belgesini yeni almış ve otomobili ile trafiğe ilk defa çıkacaktır.

Ali kaza yapmaması için hangi davranış içinde olmalıdır?

- A) Korku B) Telaş C) Sakin D) Kararsızlık

8. Aşağıdakilerden hangisi trafiğe katılanlar arasında uyumun olduğunu gösterir?

- A) Yayaların aniden taşıt yoluna inmesi
B) Sürücülerin yaya geçidinden hızlı geçmesi
C) Bazı yolcuların sürücü ile sohbet etmesi
D) Bazı durumlarda sürücülerin, yayaların karşıya geçişlerini kolaylaştırması

9. Hakan okuldan çıktığında hava kararmıştı. Evine doğru dikkatlice yürürken karşıdan gelen taşıtın sürücüsü arabası ile üzerine doğru gelmeye başladı. İşaret vermesine rağmen onu fark etmiyordu. Son anda fark edebildi ve ani bir frenle durdu.

Hakan neden böyle bir kaza atlatmış olabilir?

- A) Koyu renk giysiler giydiği için
B) Açık renk giysiler giydiği için
C) Elinde lamba taşıdığı için
D) Giysilerinde yansıtıcı taşıdığı için

10. Aşağıdakilerden hangisi trafikte insanların birbirlerinin hakkına saygı gösterdiğine örnektir?

- A) Kaldırımda bisiklet sürülmesi
B) Taşıt yolunda oyun oynanması
C) Durakta sıra varsa, sıranın en sonuna geçilmesi
D) Kaldırımda grup hâlinde yürünmesi

11. Trafik kazalarını boykot için yapılan yürüyüşte, pankartlardan biri "Trafikte yapılan hatalar affedilmemeli, eleştirilmelidir." şeklindedir.

Hangisi, bu ifadeyle ulaşılmak istenen sonucu açıklar?

- A) Kaza yerinde panik ve kargaşa çıkarılması
B) Trafikte sosyal davranışların kazandırılması
C) Meydana gelen trafik kazalarının seyredilmesi
D) Karşılıklı saygı ve hoşgöründen uzak durulması

12. Yaşlı ve ayakta zor duran birisi, belediye otobüsünün yolcu koltuğunda oturan genç ve sağlıklı Can'ın koltuğunda oturabilmek için özür dileyerek Can'dan izin istiyor.

Bu durumda Can, aşağıdakilerden hangisini yapmalıdır?

- A) İzin vermelidir.
B) İzin vermemelidir.
C) Duymazlıktan gelmelidir.
D) Sert bir şekilde tartışmalıdır.

13. Aşağıdakilerden hangileri sürücünün dikkatinin dağılmasına ve buna bağlı olarak kaza yapmasına neden olabilir?

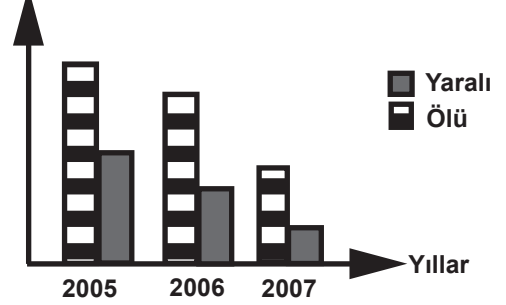
I- Yolcunun kolunu veya başını camdan dışarı çıkarması

II- Yolcuların sürücü ile tartışması

III- Yolcu ve yayalara hoşgörülü olması

- A) I - II B) I - III C) II - III D) I - II - III

14. Yaralı ve ölü sayısı

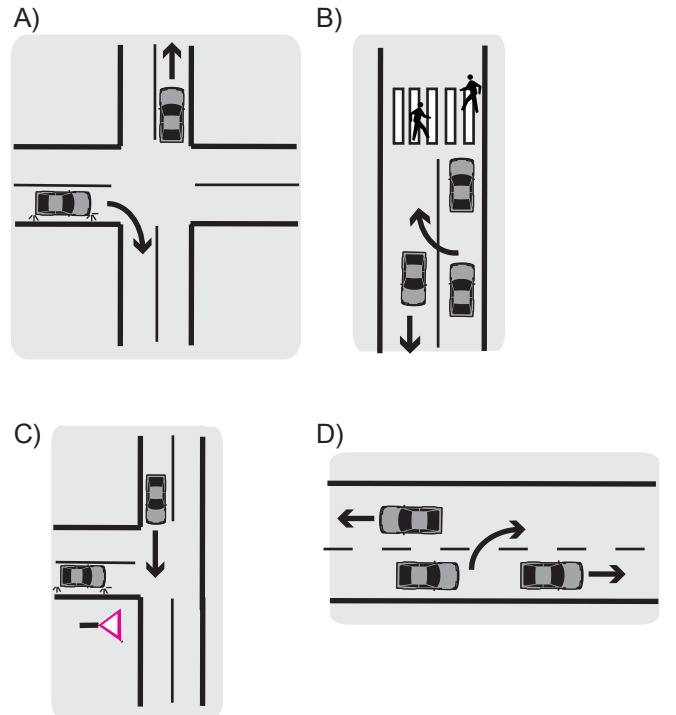


Bir ülkede yıllara göre trafik kazasına bağlı ölü ve yaralı sayısı grafikteki gibidir.

Bu ülke için aşağıdakilerden hangisi söylenemez?

- A) Trafik kazalarına bağlı ölü ve yaralı sayısının azaldığı
B) Trafik kazalarını önleyici tedbirlerin alındığı
C) Sürücü hatalarının 2007 yılında daha az olduğu
D) Trafik kazalarına bağlı maddi ve manevi kayıpların arttığı

15. Hangi resim sürücü kusurunu göstermek amacıyla kullanılabilir?

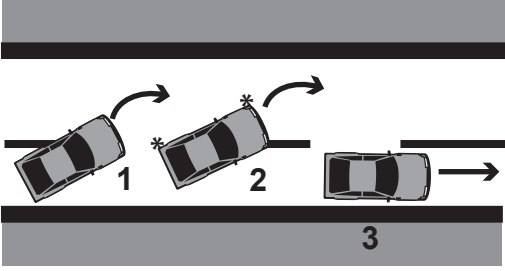


2. OTURUM

16. İstatistiklere göre, trafik kazaları en çok aşağıdakilerden hangisinden kaynaklanmaktadır?

- A) İnsandan B) Yoldan
C) Araçtan D) Çevreden

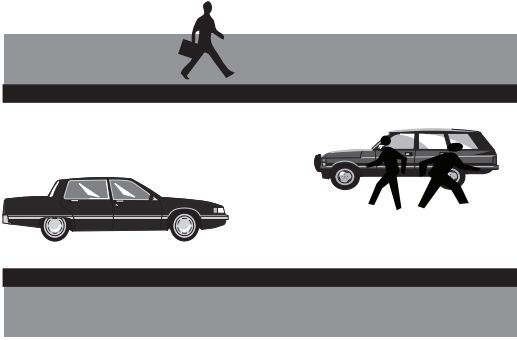
17.



Şekildeki taşıtlardan hangisi hatalı geçiş yapmaktadır?

- A) 1 B) 2 C) 3 D) 1 - 2

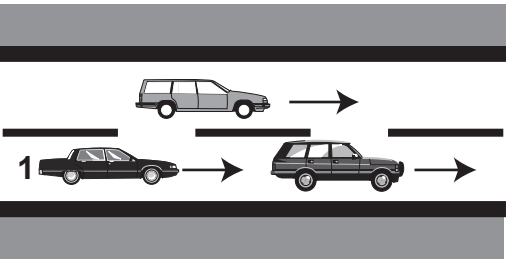
18. Selçuk okuldan çıktı, evine doğru yürürken hemen önünde bir aracın durduğunu ve araçtan iki yolcunun indiğini gördü. Bu çok tehlikeli bir davranış demekten kendini alamadı.



Selçuk, bu olayda hangi davranışı tehlikeli bulmuştur?

- A) Taşıtın dörtlü sinyallerini yakmalarını
B) Taşıtın sağ tarafından inilmesini
C) Taşıtın sol tarafından inilmesini
D) Taşıttan aynı anda inilmesini

19.



Şekildeki 1 numaralı sürücü hangi durumda şerit değiştirebilir?

- A) Öndeki aracı geçmek için
B) Toplu taşıma araçlarına yol vermek için
C) Arkadan gelen araçlara yol vermek için
D) Öndeki araç sol şeride geçtiğinde

20. “Taşıt durmadan binmemek, inmeme” görevi aşağıdakilerden hangisinin trafik kazalarını önlemedeki yükümlülüklerindendir?

- A) Yayaların B) Yolcuların
C) Sürücülerin D) Trafik polislerinin

GÜZEL KONUŞMA ve YAZMA – 8

1. Aşağıdakilerden hangisi konuşma cümleleri ile oluşturulan anlatım türüdür?

- A) Atasözü B) Sözlü anlatım
C) Deyim D) Yazılı anlatım

2. “O da bir daha olmaması için bana uyardı.” cümlesinde anlatımı bozan kelime aşağıdakilerden hangisidir?

- A) daha B) için C) bana D) uyardı

3. Aşağıdakilerden hangisi toplumun tanıdığı, değer verdiği kişilerin söylediği ya da yazdığı özlü, düşündürücü sözlerle verilen addır?

- A) Özdeyiş B) Atasözü
C) Deyim D) Açıklama

4. Aşağıdaki cümlelerden hangisinin sonuna diğerlerinden farklı bir noktalama işareti getirilmelidir?

- A) Babamı mı arayayım annemi mi şaşırdım kaldım
B) Bu kocaman takım sandığını kim kaldırdı
C) Çocuklar mı bu okulun bahçesindeki tüm çiçekleri kopardılar
D) Yolum karşısındaki apartmanın ikinci katında siz mi oturuyorsunuz

5. Aşağıdakilerden hangisi bir davette yapılacak konuşmaya başlanırken kullanılabilecek uygun bir sesleniş (hitap) değildir?

- A) Değerli konuklarımız,
B) Sevgili arkadaşlarım,
C) Sayın davetliler,
D) Hey oradakiler,

6. Aşağıdakilerden hangisi atasözlerinin özelliklerinden biri değildir?

- A) Özlü sözlerdir.
B) Kalıplaşmışlardır.
C) Çoğu mecaz anlam taşır.
D) İlk söyleyeni bellidir.

2. OTURUM

7. Bir olayın oluş sırası ve biçimiyle anlatıldığı betimlemelere ne ad verilir?
- A) Kişi betimlemesi B) Doğa betimlemesi
C) Olay betimlemesi D) Canlı betimlemesi
8. “Bir adam - uzun boylu kupkuru bir adam - elinde tahta bavulu, köyün yolunu tutmuştu. Lacivert şayak ceketinin yakasını kaldırmış, başını omuzlarının arasına çekmiş, hafifçe öne doğru eğilmişti.”
Bu paragrafta aşağıdakilerden hangisi vardır?
- A) Doğa betimlemesi B) Ruhsal portre
C) Olay betimlemesi D) Fiziksel portre
9. Aşağıdakilerden hangisi betimleme yapılırken dikkat edilmesi gerekenlerden biri değildir?
- A) Anlatılanlar gerçeğe uygun olmalıdır.
B) Benzetmelerden yararlanılmalıdır.
C) Öneride bulunmak için kullanılmalıdır.
D) Gereksiz ayrıntılardan kaçınılmalıdır.
10. Aşağıdakilerden hangisi bir işe ilişkin ve kabul edilmesi için ileri sürülen düşüncedir?
- A) İstek B) Form C) Öneri D) Belge
11. Aşağıdakilerden hangisi yazıların kuruluşunu oluşturan bölümlerden biri değildir?
- A) Başlık B) Gelişme C) Giriş D) Sonuç
12. Aşağıdakilerden hangisi bir yazının başlığında olması gereken özelliklerden biri değildir?
- A) Kısadır.
B) Yazıda anlatılanları kapsar.
C) Özgündür.
D) Tamamı büyük harflerle yazılır.
13. Aşağıdakilerden hangisi bir yazı yazmaya başlamadan önce sorulması gereken sorulardan biri değildir?
- A) Bana verilen konu nedir?
B) Bu konuda yazı yazmak şart mı?
C) Bu konuyu hangi yönleriyle anlatabilirim?
D) Yazımı nasıl sonuçlandırmalıyım?
14. Aşağıdakilerden hangisi bir yazıyı yazmaya başlamadan önce yapılan her türlü çalışma ve bu çalışmalara bağlı olarak hazırlanan plandır?
- A) Giriş B) Ön plan
C) Son söz D) Gelişme
15. Atalarımızın söylediği, doğruluğu yaşanan olaylarla kanıtlanmış, özlü ve yaşam dersi veren sözlerle ne ad verilir?
- A) Atasözü B) Vecize C) Özdeyiş D) Deyim
16. Aşağıdaki cümlelerin hangisinde özel anlatım vardır?
- A) Evimizin önünde bir bahçe vardır.
B) Arkadaşımın elinde beş parmak bulunur.
C) Düz kesilmiş, uzun sarı saçları parlıyordu.
D) Atölyemizde birçok araç ve iş masası yer alır.
17. Aşağıdakilerden hangisi atasözüdür?
- A) Başarılı insanlar genellikle övünür.
B) El işler, kol övünür.
C) Bazı insanlar her zaman övünür.
D) Sorumluluklarını bilen övünür.
18. Aşağıdaki cümlelerden hangisi bir duygu bildirmektedir?
- A) Ne kadar çok özlemişim seni!
B) Bu çocuklar çok fedakârdır.
C) Yarın babaannemler gelecekmiş.
D) Kazanmak için çalışmak gerekir.
19. “Hayatta en hakiki mürşit ilimdir.”
Mustafa Kemal Atatürk
Bu söz aşağıdakilerden hangisiyle nitelendirilebilir?
- A) Atasözü B) Özdeyiş
C) Deyim D) Manzum yazı
20. Aşağıdaki cümlelerin hangisinde deyim doğru kullanılmıştır?
- A) Toplantıda hiç konuşmadı, kendisine ağız açtırmadı.
B) O kadar iyi anlaşıyorlar ki sanki aralarında karlı dağlar var.
C) Onun durumuna o kadar üzüldü ki ona derdini açtı.
D) İlgililer karşısında konuyu aynı yönüyle ele alarak ağız birliği ettiler.

2. OTURUM

TURİZM – 8

1. Kat hizmetleri, otellerin hangi bölümünde verilir?

- A) Yönetim bölümü B) Konaklama bölümü
C) Yemek bölümü D) Yardımcı bölümler

2. İki yıldızlı otellerde en az kaç oda olmalıdır?

- A) 5 B) 10 C) 20 D) 30

3. Aşağıdaki konaklama işletmelerinin hangisi, kara yoluyla yolculuk edenlerin konaklama, yeme içme ve araçlarını park etme ihtiyaçlarını karşılamak üzere kurulurlar?

- A) Otel B) Pansiyon
C) Oberj D) Motel

4. Genellikle turistlerin kendi olanaklarıyla geceledikleri konaklama işletmesi aşağıdakilerden hangisidir?

- A) Camping B) Otel
C) Tatil köyü D) Apart otel

5. Aşağıdakilerden hangisi sağlık turizmine yönelik turizm işletmesidir?

- A) Otel B) Tatil köyü
C) Turizm kompleksi D) Kaplıca

6. Lokantalar, Turizm Bakanlığınca belirlenen niteliklere göre kaç sınıfa ayrılır?

- A) 3 B) 4 C) 5 D) 6

7. Aşağıdakilerden hangisi kongre ve sergi merkezlerinde bulunması gereken özelliklerden değildir?

- A) Otopark B) Yönetim odaları
C) Plaj D) Fuar alanları

8. Aşağıdakilerden hangisi seyahat acentelerinin başlıca görevlerinden değildir?

- A) Turizm hizmetlerini bir araya getirerek paket tur hâlinde sunmak
B) Konaklama hizmetleri için turistik işletmeler kurmak
C) Turistlerin dövizlerini bozmak
D) Seyahat sigortası yapmak

9. “Turist Rehberliği Belgesi”ni hangi bakanlık vermektedir?

- A) Adalet Bakanlığı
B) Dışişleri Bakanlığı
C) Millî Eğitim Bakanlığı
D) Kültür ve Turizm Bakanlığı

10. Aşağıdakilerden hangisi seyahat acentesi sahibinde bulunması gereken niteliklerden değildir?

- A) İyi derecede yabancı dil bilmeli
B) 18 yaşını bitirmiş olmalı
C) Yüz kızartıcı suçlardan ve hileli iflastan hükümlü olmamalı
D) İzinsiz olarak seyahat acentesi işletme suçundan ceza almamış olmalı

11. Aşağıdaki turizm işletmelerinden hangisi yan hizmet işletmeleri sınıfında yer alır?

- A) Motel
B) Kafeterya
C) Kongre ve sergi merkezleri
D) Seyahat acenteleri

12. Turizm polisi, turizm sektörünün hangi alanında hizmet vermektedir?

- A) Muhasebe B) Güvenlik
C) Sağlık D) Servis

13. Turistik işletmelerde konukları karşılayan, uğurlayan ve bunlarla ilgili işlemleri, aşağıdaki turizm personellerinden hangisi yerine getirir?

- A) Otel müdürü B) Turizm polisi
C) Kat şefi D) Resepsiyon personeli

14. Yiyecek ve içecek servis personellerinden hangisi, müşterilerden sipariş almak ve diğer servis elemanlarını denetlemekle görevlidir?

- A) Servis şefi B) Şef garson
C) Garson D) Komi

15. Otel odalarının düzeninden, temizliğinden ve bakımından sorumlu olan turizm personeli aşağıdakilerden hangisidir?

- A) Kat hizmetleri personeli
B) Otel müdürü ve yardımcısı
C) Resepsiyon personeli
D) Halkla ilişkiler personeli

2. OTURUM

16. Aşağıdakilerden hangisi kat hizmetlerinde çalışan kat şefinin görevlerinden değildir?

- A) Eksilen malzemeleri saptayarak satın alınmasını sağlamak
- B) Kat ofislerinin temiz ve düzenli olmasını sağlamak
- C) Sorumluluğu altındaki alanları istenilen düzeyde temizlemek
- D) Konuk odalarının hazırlanmasını sağlamak ve kontrol etmek

17. Günün yemek listesini belirleyen ve uygulanmasını sağlayan mutfak personeli aşağıdakilerden hangisidir?

- A) Aşçı
- B) Sosisyer aşçı
- C) Mutfak şef yardımcısı
- D) Mutfak şefi

18. Turizm işletmesinin reklam ve tanıtım işlerini yürütmekle görevli turizm personeli aşağıdakilerden hangisidir?

- A) Halkla ilişkiler personeli
- B) Otel müdürü ve yardımcısı
- C) Güvenlik personeli
- D) Mutfak personeli

19. Ülkenin tanıtımında diğerlerine göre daha fazla etkin rol oynayan turizm personeli aşağıdakilerden hangisidir?

- A) Resepsiyon personeli
- B) Turist tercüman rehberleri
- C) Otel müdürü ve yardımcısı
- D) Turizm polisi ve zabıtası

20. Aşağıdakilerden hangisi otelde çalışan güvenlik personellerinden değildir?

- A) Güvenlik görevlisi
- B) Gece bekçisi
- C) Turizm polisi
- D) Koruma görevlisi

**TEST BİTTİ.
CEVAPLARINIZI KONTROL EDİNİZ.**

Soracağınız bir şey var mı? Varsa şimdi sorunuz; sınav başladıktan sonra sorularınıza cevap verilmeyecektir.
Hazır mısınız?

Sınav okulun bütün salonlarında aynı anda başlayacağı için başlama zilini beraberce bekleyelim. Hepinize başarılar dileriz. **(Salon başkanları başlama ve biiş saatini tahtaya yazacaktır.)**

Bu soru kitapçığının her hakkı saklıdır. Hangi amaçla olursa olsun, kitapçığın tamamının veya bir kısmının Millî Eğitim Bakanlığı Eğitim Teknolojileri Genel Müdürlüğü'nün yazılı izni olmadan kopya edilmesi, fotoğraflarının çekilmesi, bilgisayar ortamına alınması, herhangi bir yolla çoğaltılması, yayımlanması veya başka bir amaçla kullanılması yasaktır. Bu yasağa uymayanlar, doğabilecek cezai sorumluluğu ve kitapçığın hazırlanmasındaki malî külfeti peşinen kabullenmiş sayılır.

CEVAP ANAHTARI**2.OTURUM****MATEMATİK 6**

1. C
2. B
3. C
4. A
5. A
6. B
7. A
8. C
9. D
10. D
11. C
12. D
13. B
14. D
15. D
16. C
17. A
18. B
19. A
20. B

ALMANCA 6

1. D
2. C
3. D
4. B
5. A
6. C
7. B
8. D
9. C
10. A
11. B
12. D
13. B
14. C
15. A
16. D
17. B
18. C
19. A
20. A

DİN KÜLTÜRÜ ve AHL. BİL. 6

1. D
2. A
3. C
4. A
5. B
6. C
7. D
8. B
9. A
10. B
11. D
12. C
13. C
14. A
15. C
16. D
17. B
18. A
19. D
20. B

MATEMATİK 8

1. B
2. B
3. C
4. A
5. D
6. C
7. A
8. D
9. D
10. C
11. A
12. A
13. B
14. B
15. C
16. D
17. C
18. B
19. A
20. B

İNGİLİZCE 6

1. D
2. C
3. D
4. B
5. A
6. C
7. B
8. D
9. C
10. A
11. B
12. D
13. B
14. C
15. A
16. D
17. B
18. C
19. A
20. A

FRANSIZCA 6

1. D
2. C
3. D
4. B
5. A
6. C
7. B
8. D
9. C
10. A
11. B
12. D
13. B
14. C
15. A
16. D
17. B
18. C
19. A
20. A

TRAFİK ve İLK YARIDM 6

1. D
2. B
3. A
4. B
5. D
6. B
7. A
8. C
9. A
10. B
11. A
12. C
13. A
14. A
15. B
16. D
17. C
18. B
19. B
20. C

TC. İNK. TAR. ve ATATÜRK 8

1. B
2. D
3. A
4. C
5. B
6. A
7. B
8. C
9. A
10. C
11. D
12. C
13. A
14. D
15. B
16. C
17. C
18. A
19. D
20. A

CEVAP ANAHTARI

2.OTURUM

İNGİLİZCE 8

1. D
2. C
3. B
4. A
5. D
6. C
7. D
8. B
9. A
10. A
11. C
12. D
13. B
14. A
15. C
16. D
17. B
18. C
19. B
20. A

FRANSIZCA 8

1. D
2. C
3. B
4. A
5. D
6. C
7. D
8. B
9. A
10. A
11. C
12. D
13. B
14. A
15. C
16. D
17. B
18. C
19. B
20. A

GÜZEL KON. ve YAZMA 8

1. B
2. C
3. A
4. A
5. D
6. D
7. C
8. D
9. C
10. C
11. A
12. D
13. B
14. B
15. A
16. C
17. B
18. A
19. B
20. D

ALMANCA 8

1. D
2. C
3. B
4. A
5. D
6. C
7. D
8. B
9. A
10. A
11. C
12. D
13. B
14. A
15. C
16. D
17. B
18. C
19. B
20. A

TRAFİK ve İLK YARDIM 8

1. D
2. A
3. C
4. B
5. A
6. B
7. C
8. D
9. A
10. C
11. B
12. A
13. A
14. D
15. B
16. A
17. A
18. C
19. A
20. B

TURİZM 8

1. B
2. C
3. D
4. A
5. D
6. A
7. C
8. B
9. D
10. A
11. C
12. B
13. D
14. B
15. A
16. C
17. D
18. A
19. B
20. C