



T.C.
MİLLÎ EĞİTİM BAKANLIĞI

i-1

AÇIK İLKÖĞRETİM OKULU
2010-2011 ÖĞRETİM YILI 3. DÖNEM SINAVI
1. OTURUM: 19 HAZİRAN 2011 Saat:10.00

- UYARI:** 1. Sınav sırasında sözlük, hesap cetveli veya makinesi, çağrı cihazı, cep telefonu, telsiz, radyo gibi elektronik iletişim araçlarını yanınızda bulundurmuyunuz. Bu araçları kullanmanız ve kopya çekmeye teşebbüs etmeniz hâlinde sınavınız geçersiz sayılacaktır.
2. Derslerle ilgili soruları ve sorulara verdiğiniz cevapları not etmeyiniz.
3. Sınav başladıktan sonra ilk **30 dakikadan** önce dışarı çıkmayınız.

SORU KİTAPÇIĞI İLE İLGİLİ AÇIKLAMALAR

1. Soru kitapçığınızı kontrol ediniz. Baskı hatası var ise kitapçığı değiştirmek için salon görevlilerine başvurunuz.
2. Bu oturumda, aşağıda belirtilen **13** derse ait test soruları yer almaktadır. Sorumlu olduğunuz derslere ait soruları cevaplayınız.

<u>DERS ADI</u>	<u>SAYFA</u>	<u>DERS ADI</u>	<u>SAYFA</u>
TÜRKÇE - 6	2	DİN KÜL. VE AHLAK BİLGİSİ - 7	17
MATEMATİK - 6	4	İNKILAP TARİHİ VE ATATÜRKÇÜLÜK - 8	19
FEN VE TEKNOLOJİ - 6	6	İNGİLİZCE - 8	21
SOSYAL BİLGİLER - 7	10	ALMANCA - 8	23
İNGİLİZCE - 7	12	FRANSIZCA - 8	25
ALMANCA - 7	14	DİN KÜL. VE AHLAK BİLGİSİ - 8	26
FRANSIZCA - 7	15		

3. Her ders için **20** soru bulunmaktadır. Bu oturumda sorumlu olduğunuz dersler için toplam **150** dakikalık cevaplama süreniz vardır.
4. Cevaplarınız puanlanırken her doğru cevaba puan verilecek, yanlış cevaplarınız dikkate alınmayacaktır.
5. Soruların çözümü için size ayrıca boş kâğıt verilmeyecektir. Soru kitapçığınızın içindeki boş alanları soru çözümleri için kullanabilirsiniz.
6. Cevaplamaya istediğiniz dersin sorusundan başlayabilirsiniz. Cevabını bilmediğiniz sorular üzerinde fazla zaman kaybetmeden diğer sorulara geçiniz. Zamanınız kalırsa bu sorulara daha sonra dönebilirsiniz.
7. Sınavın bitiminde soru kitapçığınızı salon görevlilerine teslim etmeyi unutmayınız.

CEVAP KÂĞIDI İLE İLGİLİ AÇIKLAMALAR

1. **Adınıza düzenlenmiş olan cevap kâğıdını almamış iseniz bunu salon görevlilerine bildiriniz. Bu durumu salon görevlilerine bildirmediğiniz takdirde tüm sorumluluk size ait olacaktır.**
2. Cevap kâğıdındaki bilgilerin size ait olup olmadığını kontrol ediniz. Cevap kâğıdında yer alan bilgiler size ait değilse veya cevap kâğıdı kullanılamayacak durumdaysa verilecek yedek cevap kâğıdına, kimliğinizle ilgili bilgileri salon görevlilerinin açıklamalarına göre yazınız.
3. Cevap kâğıdı üzerine yazacağınız yazı ve yapacağınız kodlamalarda kurşun kalemde başka kalem kullanmayınız.
4. Sınavda tek cevap kâğıdı kullanılacaktır. Doğru cevap olarak kabul ettiğiniz seçeneği, cevap kâğıdınızın ilgili sütununa aynı soru numarasını dikkate alarak aşağıdaki örnekte olduğu gibi yuvarlağın dışına taşırmadan kodlayınız.

ÖRNEK KODLAMA:



5. Sınavın bitiminde cevap kâğıdınızı salon görevlilerine teslim etmeyi unutmayınız.

BAŞLAYINIZ DENİLMEYEN SORU KİTAPÇIĞINI AÇMAYINIZ.

1. OTURUM

TÜRKÇE – 6

1. Genellikle olağanüstü kişilere, olaylara, se-rüvenlere yer verilen ve ağızdan ağıza, ku-şaktan kuşağa anlatılarak geçen hayal ürünü hikâyelere ne ad verilir?

A) Masal
C) Biyografi

B) Deneme
D) Anı

2. “Sabır sonu selamettir.” cümlesindeki altı çizili sözcükte görülen ses olayı, aşağıdakilerin hangisinde vardır?

A) Evdeki hesap çarşıya uymaz.
B) Erkenden sokağa çıkmıştı.
C) Şehrin çok uzağından geliyordu.
D) Bilgiye sahip olmak için çalışmalıyız.

3. “Bir olaydan gerekli dersi alan, sonra uyanık davranır.” anlamına gelen atasözü aşağıdakilerden hangisidir?

A) Gönülsüz yenilen aş, ya karın ağrıtır, ya baş.
B) Sütten ağzı yanan yoğurdu üfleyerek yer.
C) Ayağını yorganına göre uzat.
D) Ak akçe kara gün içindir.

4. Aşağıdakilerden hangisi soyut bir isimdir?

A) Kalem
C) Düşünce

B) Çiçek
D) Koku

5. Aşağıdaki sözcüklerden hangisi kalınlık - incelik uyumuna uygundur?

A) Güneşlik
C) Kitapçı

B) Dünya
D) İnsan

6. Aşağıdaki altı çizili eklerin hangisi “ayrılma durumu eki”dir?

A) Çocuğa birkaç kitap aldım.
B) Güllerle dolu bir bahçeyi gezdik.
C) Kırılarda koşup oynamak istiyordu.
D) Evden çıkarken şemsiyeni unuttu.

7. Aşağıdakilerin hangisinde karşıt anlamlı sözcükler bir arada kullanılmıştır?

A) Etrafı geniş otlaklıklarla kaplı uzun bir yol vardı.
B) Dün amcamın yaptığı yemek çok tuzlu olmuştu.
C) O şehirde acı tatlı birçok olay yaşadım.
D) Yazın hep birlikte köye gidiyoruz.

8. “Hesap” sözcüğü aşağıdakilerin hangisinde “alacaklı veya borçlu olma durumu” anlamında kullanılmıştır?

A) İnsana yakışır bir ortam oluşturmak için bütün hesabımız.
B) Evdeki hesap çarşıya uymadı, elbiseleri almadan geldik.
C) Benim hesabıma göre bu işi hazirana bitiririz.
D) Al eline kalemi, şu benim hesapları görüver.

9. Aşağıdaki altı çizili sözcüklerden hangisi bir varlığı nitelemektedir?

A) Okuldaki herkes bu olaya üzülmüştü.
B) Sarı saçları güneş gibi parlıyordu.
C) Sinemaya mutlaka o da gelmeli.
D) Ağacın altına oturmuşlar.

10. Aşağıdakilerin hangisinde “ben” sözcüğü, diğer üçüyle sesteşlik ilişkisi kurmuştur?

A) Yüzünde küçük bir ben vardı.
B) Resimlerini ben de görmek istiyorum.
C) Ben ve arkadaşlarım oraya trenle gideceğiz.
D) Konuyu önce, sen ve ben tartışmalıyız.

1. OTURUM

11. Hikâyede, merak duygusunun arttığı, olayların karışık bir durum aldığı bölüme ne ad verilir?

- A) Serim B) Giriş
C) Çözüm D) Düğüm

12. Aşağıdakilerden hangisi belirtili isim tamlamasıdır?

- A) Baba evi B) Salonun perdeleri
C) Kapı kolu D) Duvar saati

13. Yeni mektup aldım gül yüzlü yârdan,
Gözetme yolları gel, deyi yazmış.
Sivr'alan köyünde bizim diyardan,
Dağlar mor menevşe gül, deyi yazmış.
Âşık Veysel

Bu şiirin ana duygusu aşağıdakilerden hangisidir?

- A) Özlem B) Hüzün
C) Endişe D) Sevinç

14. 1. duyarlı
2. olmalıdır
3. insan
4. her
5. karşı
6. çevre kirliliğine

Numaralandırılmış sözcüklerle anlamlı ve kurallı bir cümle oluşturmak için nasıl sıralanmalıdır?

- A) 1 - 3 - 5 - 6 - 2 - 4 B) 3 - 6 - 4 - 5 - 2 - 1
C) 4 - 3 - 6 - 5 - 1 - 2 D) 6 - 3 - 2 - 4 - 5 - 1

15. "Kıvırmak" kelimesi aşağıdakilerin hangisinde mecaz anlamıyla kullanılmıştır?

- A) Fino, beni görünce kuyruğunu kıvırdı.
B) Pantolonun paçalarını kıvırmamışlar.
C) Bu rolü o da pekâlâ kıvırabilir.
D) Araba birdenbire sağa kıvırdı.

16. Yolcu () kıyıdaki adamın yaptıklarını kaptana anlattıktan sonra bu adamı tanıyıp tanımadığını sordu ()

Bu cümlede yay ayraçla belirtilen yerlere sırasıyla aşağıdaki noktalama işaretlerinden hangileri getirilmelidir?

- A) (,), (.) B) (;), (?)
C) (:), (!) D) (.), (...)

17. "İle" edatı aşağıdaki cümlelerin hangisine "birliktelik" anlamı katmıştır?

- A) Oraya araba ile gidebiliriz.
B) Maçı kardeşi ile izlemiş.
C) Kalabalığı elindeki şapka ile selamladı.
D) Yolculuğuna gemi ile devam edeceğini söyledi.

18. "Sökmek" sözcüğü, aşağıdakilerin hangisinde "Kuşları kovaladılar, çimenleri söktüler." cümlesindeki anlamıyla kullanılmıştır?

- A) Okumayı yeni yeni sökmeye başladı.
B) Tamirci, hiç beklemeden makineyi söktü.
C) Çiftçi, domates fidelerini saran otları söktü.
D) Annem o elbiseyi sökmüş, kumaşı da temizlik bezi yapmış.

19. Aşağıdaki sözcüklerden hangisi, sadece yuvarlak ünlülerden oluşmuştur?

- A) Kumbara B) Çaydanlık
C) Kavun D) Koyun

20. Kedi, yemeğinin tadını çıkarır. Hırlaya hırlaya, bir parçaya elini atarak yemesi eğlencelidir; ama uslu uslu başını eğip gözünü kapatarak yemesi yok mu! Gözlerini kapaması bana hazzındanmış gibi gelir. Belki gerçekten de böyledir.

Bu parçanın konusu aşağıdakilerden hangisidir?

- A) Kedilerin sahiplerine bağlı olduğu
B) Kedilerin nasıl yemek yedikleri
C) Kedilerin uyumayı çok sevmesi
D) Kedilerin neleri sevdikleri

1. OTURUM

MATEMATİK – 6

1. $52a8$ dört basamaklı sayısı üç ile bölünebilmektedir. a yerine yazılabilecek rakamların sayı değerleri toplamı kaçtır?

A) 9 B) 12 C) 15 D) 18

2. Aşağıdaki ifadelerden hangisi yanlıştır?

A) $-3 < |-2|$ B) $|-5| > +4$
C) $0 < |+5|$ D) $8 > |-15|$

3. $2\frac{4}{7} \times 4\frac{2}{3}$ işleminin sonucu kaçtır?

A) 18 B) 12 C) $8\frac{8}{21}$ D) $8\frac{3}{5}$

4. Çözümlemiş biçimi,

$$(3 \times 10) + (0 \times 1) + (1 \times \frac{1}{10}) + (7 \times \frac{1}{100}) + (5 \times \frac{1}{1000})$$

olan ondalık kesir aşağıdakilerden hangisidir?

A) 30,075 B) 30,175
C) 31,075 D) 301,75

5. 28 kişilik bir sınıfın 21'i kız öğrencidir. Bu sınıfın yüzde kaç erkek öğrencidir?

A) 7 B) 21 C) 25 D) 75





6. Ebru, 5 kaleme 8 TL ödüyor. Aynı kalemlerden 15 tane alan Elif kaç TL öder?

A) 18 B) 24 C) 28 D) 32

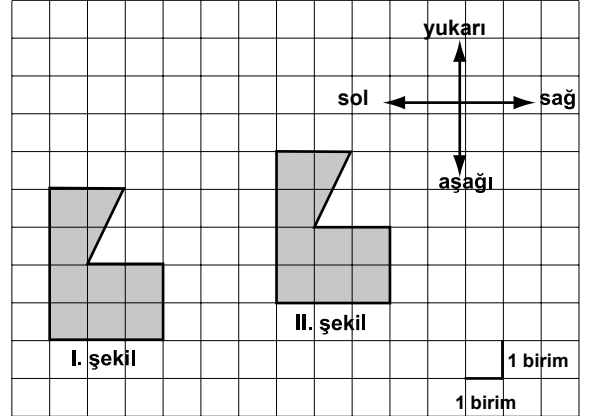
7. 45 kişilik bir turist kafesindeki kişilerin her biri İngilizce ve Almanca dillerinden en az birini bilmektedir. İngilizce bilen 25 kişi, Almanca bilen 37 kişi bulunduğu göre, bu kafilde kaç kişi yalnız İngilizce bilmektedir?

A) 8 B) 12 C) 17 D) 20

8. Aşağıdakilerden hangisinin sembolle gösterimi [AB]’dir?

A)  B) 
C)  D) 

- 9.

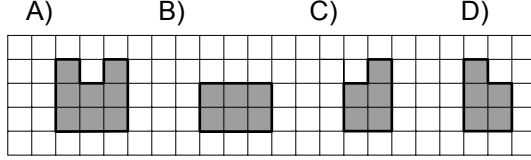
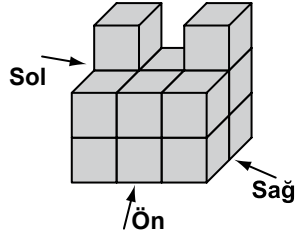


Yukarıda verilen I. şekle aşağıdakilerin hangisindeki ötelemeler yapılsa II. şekil elde edilir?

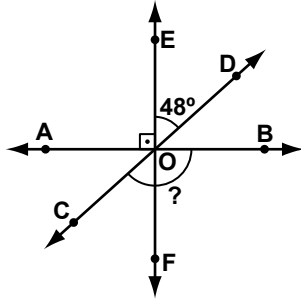
A) 3 birim sağa, 1 birim yukarı
B) 3 birim sola, 1 birim aşağıya
C) 3 birim sağa, 4 birim yukarı
D) 6 birim sağa, 1 birim yukarı

1. OTURUM

10. Yandaki yapının önden görünümünü aşağıdaki-lerden hangisidir?



11. Şekildeki üç doğru O noktasında kesişmektedir. $AB \perp EF$ ve $s(\widehat{DOE}) = 48^\circ$ olduğuna göre, $s(\widehat{BOC})$ kaç derecedir?



- A) 96 B) 126 C) 132 D) 138

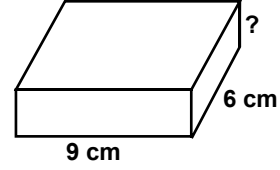
12. 60 m uzunluğundaki kumaştan 75 cm uzunluğunda kaç parça kumaş elde edilir?

- A) 45 B) 60 C) 80 D) 90

13. Çevresinin uzunluğu 72 m olan kare şeklindeki bir bahçenin alanı kaç metrekaredir?

- A) 144 B) 256 C) 324 D) 1296

14. Aşağıdaki dikdörtgenler prizması şeklindeki kutunun hacmi bir ayrıtının uzunluğu 6 cm olan küp şeklindeki bir kutunun hacmine eşittir. Bu dikdörtgenler prizmasının ? ile belirtilen ayrıtının uzunluğu kaç santimetredir?



- A) 3 B) 4 C) 5 D) 6

15. Bir ayrıtının uzunluğu 8 cm olan küp şeklindeki bir kutunun yüzey alanı kaç santimetrekaredir?

- A) 216 B) 320 C) 384 D) 512

16. Aşağıdaki eşitliklerden hangisi yanlıştır?

- A) 250 cL = 25 mL
B) 0,4 L = 40 cL
C) 13,3 mL = 0,133 dL
D) 15,05 dL = 1505 mL

17. Birbirine eş 14 top 1'den 14'e kadar numaralandırılarak bir torbaya atılıyor. Torbadan rastgele bir top çekildiğinde, topun üzerindeki sayının bir basamaklı çift sayı olma olasılığı nedir?

- A) $\frac{3}{14}$ B) $\frac{2}{7}$ C) $\frac{3}{7}$ D) $\frac{1}{2}$

1. OTURUM

18. Resim kursuna giden 5 öğrencinin yaş ortalaması 18'dir. Bu kursa Emre'nin de katılması ile yaş ortalaması 23 oluyor. Buna göre Emre kaç yaşındadır?

- A) 40 B) 41 C) 45 D) 48

19. $2 \times 2 \times 2 \times 2 \times 2 \times 2$ ifadesi aşağıdakilerden hangisine eşittir?

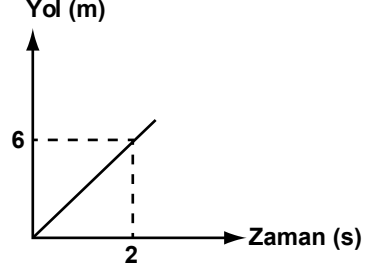
- A) 2^6 B) 2×6
C) $2 + 6$ D) 6^2

20. Hangi sayının 3 katının 4 eksiği 29'dur?

- A) 8 B) 9 C) 11 D) 13

FEN ve TEKNOLOJİ – 6

1. Aşağıda bir bisikletliye ait yol-zaman grafiği verilmiştir.



Buna göre, hareket boyunca sürati değişmeyen bisikletli, 5 saniyede kaç metre yol alır?

- A) 12 B) 15 C) 18 D) 21

2. Bir astronotun Ay'daki ağırlığı ve kütlesi Dünya'ya göre nasıl değişir?

<u>Kütlesi</u>	<u>Ağırlığı</u>
A) Değişmez	Azalır
B) Artar	Değişmez
C) Azalır	Artar
D) Artar	Azalır

3. Cisimleri iletken ve yalıtkan olarak sınıflandırmak isteyen Oğuzcan, aşağıdaki tabloyu hazırlıyor:

İletken	Yalıtkan
Naylon iplik	Cam bardak
Demir çivi	Alüminyum folyo

Hata yaptığını anlayan Oğuzcan, tablodaki hangi iki cismin yerini değiştirdiğinde hatasını gidermiş olur?

- A) Naylon iplik - Cam bardak
B) Demir çivi - Alüminyum folyo
C) Naylon iplik - Alüminyum folyo
D) Demir çivi - Cam bardak

1. OTURUM

4. I- Protonlar (+) yüklü taneciklerdir.
II- Elektronlar (-) yüklü taneciklerdir.
III- Nötronlar yüksüzdürler.

Atomun parçacıkları ile ilgili yukarıdaki ifadelerden hangileri doğrudur?

- A) Yalnız I
B) I - II
C) II - III
D) I - II - III

5. Hangi yüzeyler sesi daha fazla soğurur?

- A) Sert ve pürüzlü
B) Sert ve pürüzsüz
C) Yumuşak ve pürüzlü
D) Yumuşak ve pürüzsüz

6. I- Buruşuk alüminyum folyo
II- Dalgali gölet
III- Düzlem ayna


Yukarıdakilerden hangileri ışığı dağınık yansıtır?

- A) Yalnız I
B) I - II
C) II - III
D) I - II - III


7. Çevre kulübü öğrencileri erozyonu önleme bilincini arttırmak için aşağıdaki pankartları hazırladılar.

TARAÇALAMA
YAP, TOPRAĞI
KURTAR!

AĞAÇ DİK,
EROZYONU
ÖNLE!



Ege



Ayşe

ORMANLARI
VE MERALARI
KORU!

SU BİTİYOR.
SUYUN
DEĞERİNİ
BİL!



Berk



Melda

Buna göre, hangi öğrencinin pankartı erozyonu önleme amacına uygun değildir?

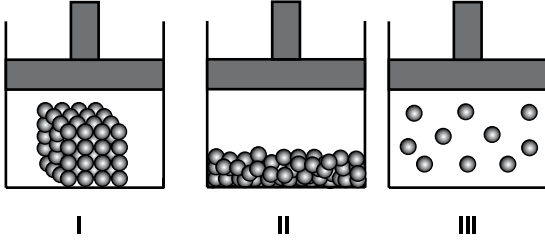
- A) Ege'nin
B) Ayşe'nin
C) Berk'in
D) Melda'nın

8. Aşağıdakilerden hangisi magmatik kayalardandır?

- A) Sünger taşı
B) Kireç taşı
C) Alçı taşı
D) Çakıl taşı

1. OTURUM

9. Şekildeki pistonlu kaplarda bir maddenin farklı fiziksel hâllerini temsil eden tanecik modelleri verilmiştir.

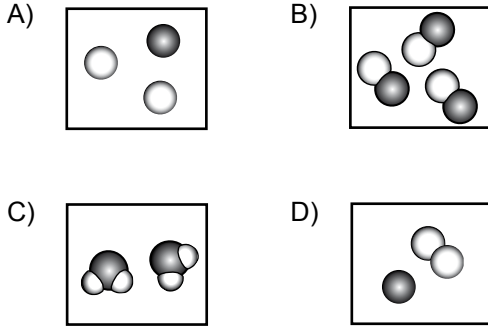


Buna göre, hangi pistonlu kaplarda bulunan madde sıkıştırılabilir?

- A) Yalnız I
B) Yalnız III
C) I - II
D) I - II - III

10. Bir maddenin molekülü, iki çeşit atomdan oluşmakta ve toplam üç atom içermektedir.

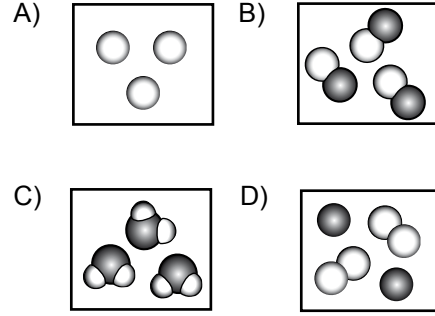
Buna göre, maddenin molekül modeli aşağıdakilerden hangisi olabilir?



11. Aşağıdaki olayların hangisinde maddenin sadece görünümü değişir?

- A) Bir küp şekerin ezilerek toz hâline getirilmesinde
B) Suda haşlanan yumurtanın içinin katılaşmasında
C) Bir kâğıt parçasının yakılarak kül hâline gelmesinde
D) Kesilen elmanın yüzeyinin bir süre sonra karmasında

12. Aşağıdaki tanecik modellerinden hangisi karışımı temsil eder?

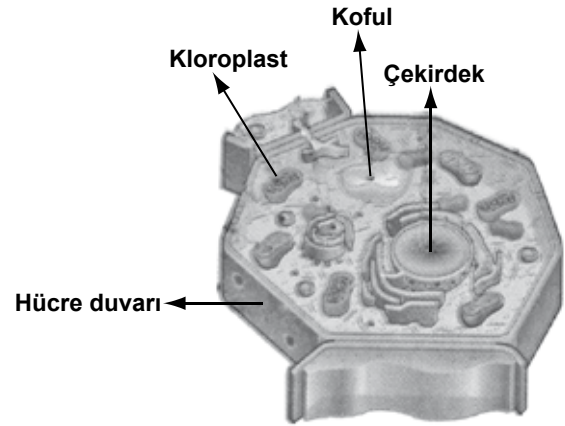


13. I- Gaz madde
II- Sıvı madde
III- Katı madde

Yukarıda verilen maddelerin hangilerinde ısı, konveksiyon yolu ile yayılır?

- A) Yalnız III
B) I - II
C) II - III
D) I - II - III

14. Şekildeki hücreyi inceleyen bir öğrenci, bunun bitkilerin yeşil kısmına ait olduğunu söylüyor.

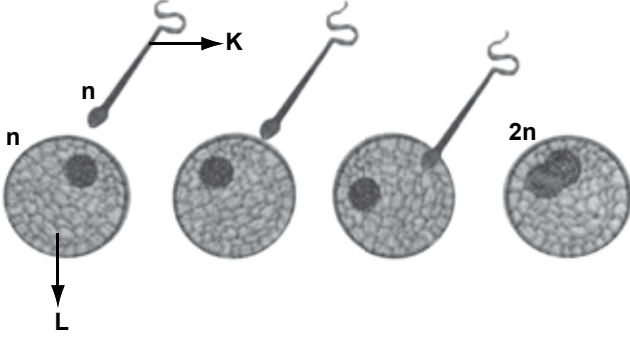


Öğrenci, bu sonuca hücrenin hangi özelliğini dikkate alarak ulaşmıştır?

- A) Hücre duvarını
B) Koful yapısını
C) Çekirdek bulundurmasını
D) Kloroplast bulundurmasını

1. OTURUM

15. Bir öğrenci “Hücreden Bireye” konusunun anlatılması sırasında aşağıdaki şekli kullanıyor.



Bu şekilde K ve L ile gösterilenler aşağıdakilerin hangisinde verilmiştir?

- | | |
|------------|----------|
| <u>K</u> | <u>L</u> |
| A) Sperm | Zigot |
| B) Yumurta | Zigot |
| C) Sperm | Yumurta |
| D) Yumurta | Sperm |

16.

Canlı	Kuluçkaya yatar mı?	Doğurarak çoğalır mı?	Yavrusunu süt-le besler mi?
I	Hayır	Evet	Evet
II	Evet	Hayır	Hayır

Yukarıdaki tabloyu inceleyen öğrenci I ve II numaralı yerlere hangi canlıları yazabilir?

- | | |
|-------------|-----------|
| <u>I</u> | <u>II</u> |
| A) Kedi | Tavuk |
| B) Tavuk | Köpek |
| C) Kurbağa | Kelebek |
| D) Alabalık | İnek |

17. Çimlenme sırasında fasulye tohumları aşağıdakilerden hangisine gereksinim duymaz?

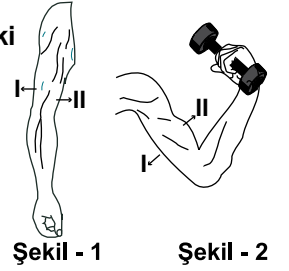
- | | |
|-------------------|-------------------|
| A) Su | B) Işık |
| C) Hava (oksijen) | D) Uygun sıcaklık |

18. Vücudumuzda aşağıdakilerden hangileri dolaşım sistemi tarafından gerçekleştirilir?

- I- Gerekli olan besin ve oksijenin hücrelere götürülmesi
- II- Hücrelerde oluşan atık maddelerin uzaklaştırılması
- III- Kandaki atık maddelerin vücut dışına atılması

- | | |
|-------------|-----------------|
| A) Yalnız I | B) I - II |
| C) II - III | D) I - II - III |

19. Şekil-1'deki kol Şekil-2'deki duruma getirildiğinde I ve II numaralı kaslarda hangi durum gözlenir?



- | | |
|------------|-----------|
| <u>I</u> | <u>II</u> |
| A) Gevşeme | Kasılma |
| B) Gevşeme | Gevşeme |
| C) Kasılma | Kasılma |
| D) Kasılma | Gevşeme |

20. • Şehirlerde kirli havanın yoğun olduğu sanayi bölgelerinden uzakta oturulmalı
• Sigara içilen ortamdan uzak durulmalı

Yukarıdaki öneriler öncelikle vücudumuzdaki hangi sistemin sağlığı için gereklidir?

- | | |
|---------------------|--------------------|
| A) Sindirim sistemi | B) Hareket sistemi |
| C) Boşaltım sistemi | D) Solunum sistemi |

1. OTURUM

SOSYAL BİLGİLER – 7

1. Japonlar “hayır, olmaz” anlamında başını iki yana sallarken; bizim kültürümüzde ise başı veya kaşları yukarı kaldırmak da “hayır” anlamı taşır.

Verilen bu durum ile ilgili olarak aşağıdakilerden hangisi söylenebilir?

- A) İletişim kurallarının evrensel olduğu
B) Japon ve Türklerin aynı kültürü paylaştığı
C) Beden dilinde kültürlerarası farklılıkların olduğu
D) Japonların kaş hareketi ile iletişim kurmayı sevmeyeceği

2. I- Göz teması kurar.
II- Konuşmaktan çok dinler.
III- Son sözü söylemek için çabalar.

Yukarıdakilerden hangileri iyi bir dinleyicinin özellikleri arasında gösterilebilir?

- A) Yalnız I
B) I - II
C) Yalnız III
D) I - II - III

3. I- Hâkimiyet-i Milliye
II- İrade-i Milliye
III- Anadolu Ajansı

Yukarıdakilerden hangileri Kurtuluş Savaşı yıllarında Atatürk'ün direktifleriyle Türk ve Dünya kamuoyunu bilgilendirme görevini yürüten kitle iletişim araçlarındandır?

- A) Yalnız I
B) I - II
C) II - III
D) I - II - III

4. Aşağıdakilerden hangisi çalışma hayatına katılımın artmasının sonuçlarından biri değildir?

- A) Ekonomik kalkınma hızlanır.
B) Üretim artar.
C) Plansız kentleşme olur.
D) İşsizliğe bağlı sosyal sorunlar azalır.

5. Kentlerde, aşağıdaki ekonomik faaliyetlerden hangisi görülmez?

- A) Sanayi
B) Madencilik
C) Ticaret
D) Tarım

6. Aşağıdakilerden hangisi en çok göç alan illerimizden biridir?

- A) Ağrı
B) İzmir
C) Kırşehir
D) Erzurum

7. Aşağıdakilerden hangisi beyin göçüne örnek oluşturur?

- A) Prof. Dr. Gazi Yaşargil'in ABD'de çalışması
B) Ahmet Bey'in Almanya'ya işçi olarak gitmesi
C) Mardinli Ali'nin Karadeniz Bölgesi'ne çay toplamaya gitmesi
D) Yörüklerin hayvanlarını otlatmak için yazın dağların yüksek kısımlarına çıkarması

8. Bizans kuvvetleri ile Büyük Selçuklular arasında yapılan ilk önemli savaş aşağıdakilerden hangisidir?

- A) Pasinler
B) Malazgirt
C) Dandanakan
D) Miryokefelon

9. I- Eyyubiler
II- Danişmentliler
III- Candaroğulları
IV- Saltuklular

Yukarıdakilerden hangileri Malazgirt Savaşı'ndan sonra Anadolu'da kurulan ilk Türk beyliklerindendir?

- A) I - III
B) II - IV
C) III - IV
D) I - II - III

1. OTURUM

10. Merkeze bağılı güçlü ve daimi bir ordunun kurulması aşağıdaki Osmanlı padişahlarından hangisi zamanında gerçekleştirilmiştir?

- A) I. Murat B) Osman Gazi
C) Çelebi Mehmet D) Yıldırım Bayezit

11. Osmanlı savaş gemilerinin yapıldığı “Tersane-i Amire” aşağıdaki illerin hangisindedir?

- A) İstanbul B) İzmit
C) Trabzon D) Sinop

12. Aşağıdakilerden hangisi, III. Ahmet dönemine ait gelişmelerdendir?

- A) Rüştîye adı verilen okulların açılması
B) İlk defa çiçek aşısının uygulanması
C) Takvim-i Vekayî'nin yayımlanması
D) Devlet dairelerine padişahın resminin asılması

13. Aşağıdakilerden hangisi çiftçilerin ürünlerini uygun fiyatlarla satın alarak piyasada fiyat dengesi sağlar?

- A) T.C. Ziraat Bankası
B) Toprak Mahsulleri Ofisi
C) Tarım Satış Kooperatifleri
D) Türkiye Ziraî Donatım Kurumu

14. Sahn-ı Seman medreseleri hangi Osmanlı hükümdarı tarafından yaptırılmıştır?

- A) Yavuz Sultan Selim
B) II. Abdülhamit Han
C) Fatih Sultan Mehmet
D) Kanuni Sultan Süleyman

15. Birünî'nin astronomi alanındaki eseri aşağıdakilerden hangisidir?

- A) Şifa B) El-Hind
C) Kanun D) El-Kanunî'l Mesudi

16. Avrupalıların 15. yüzyılın sonunda başlayıp 16. yüzyıl boyunca devam ettirdikleri yeni yerler bulma girişimlerine denir.

Yukarıdaki boşluğa aşağıdakilerden hangisi yazılmalıdır?

- A) Coğrafi Keşifler B) Aydınlanma Çağı
C) Sanayi İnkılabı D) Rönesans

17. Rönesans, ilk olarak aşağıdaki ülkelerin hangisinde başlamıştır?

- A) İspanya B) Yunanistan
C) İtalya D) Portekiz

18. Aşağıda yazarlar ve eserleri eşleştirilmiştir. Bu eşleştirmelerden hangisi yanlıştır?

- A) Monteyn - Denemeler
B) Şekspir - Romeo ve Juliet
C) Servantes - Donkişot
D) Makyavelli - Hamlet

19. Orta Asya Türk devletlerinde kullanılan “İl” kelimesi aşağıdakilerden hangisini ifade etmektedir?

- A) Ordu B) Şehir
C) Devlet D) Komutan

20. 18 mart 1915'te Fransız ve İngiliz donanmalarından oluşan bir filonun Çanakkale Boğazı'nı geçme girişiminde bulunmasının sebepleri arasında aşağıdakilerden hangisi yoktur?

- A) Rusya'ya yardım etmek
B) İstanbul'u ele geçirmek
C) Osmanlı Devleti'ni savaş dışı bırakmak
D) İstanbul Hükûmeti'ne Sevr'i kabul ettirmek

1. OTURUM

İNGİLİZCE – 7

1 - 20. sorularda boş bırakılan yere uygun gelen kelime ya da ifadeyi işaretleyiniz.

1. He found my purse last night and gave it to

- A) him B) myself C) himself D) me

2. I wore my boots going out.

- A) before B) after C) when D) which

3. Kenan is a quick learner. He learns

- A) slowly B) sadly
C) quickly D) loudly

4. I am eleven now. I ten last year.

- A) will be B) am
C) am going to be D) was

5. She decorated the room

- A) myself B) herself
C) himself D) itself

6. I brush my teeth

- A) now B) every morning
C) tomorrow D) yesterday

7. She is the dishes now.

- A) eating B) playing
C) washing D) driving

8. A kilo of iron is as as a kilo of cotton.

- A) heavy B) famous
C) old D) lucky

9. In winter, you have to wear

- A) a t-shirt B) light clothes
C) a uniform D) thick clothes

10. She swim well, but she run fast. She is the slowest runner in the school.

- A) can/can B) can't/can't
C) can/can't D) can't/can

11. I didn't cola last night, but I a cup of coffee.

- A) drank/drank B) drank/drink
C) drink/drink D) drink/drank

12. When I was 30, I was rich. I used to too much money.

- A) borrow B) look
C) spend D) see

1. OTURUM

13. If he didn't drink so much cold water, he

- A) wouldn't catch a cold.
- B) would lend it to you.
- C) would pass the exam.
- D) wouldn't buy a sports car.

14. Today is hot and sunny. It

- A) won't win the game.
- B) is going to visit us.
- C) will be very cold.
- D) isn't going to rain.

15. It's too cold outside. You

- A) should stay at home.
- B) shouldn't eat sweets.
- C) should play in the garden.
- D) shouldn't wear your coat.

16. Murat : did you buy for me yesterday?

His mother : I bought a ticket for the concert.

- | | |
|----------|---------|
| A) When | B) What |
| C) Where | D) Why |

17. Ali : Who is the student in your class?

Burak : I think, Mary. Because her marks are the best in our class.

- | | |
|---------------------|------------|
| A) most hardworking | B) easiest |
| C) most comfortable | D) highest |

18. A: I miss my village a lot.

B:

A: Good idea!


- A) Let's buy two hamburgers for lunch!
- B) Why don't you go there this weekend?
- C) Why don't you learn Spanish?
- D) Let's not go anywhere!

19. Boss : You're late again!

Kerem : There was an accident I was late for work. Sorry.

- A) when B) so C) while D) how

20.



Suzan

Mert

Oğuz

A: Where is Mert?

B:

- A) He is in front of Suzan.
- B) He is sitting behind Oğuz.
- C) He is living below Oğuz and Suzan.
- D) He is between Oğuz and Suzan.

1. OTURUM

ALMANCA – 7

1 - 18. sorularda boş bırakılan yere uygun gelen kelime ya da ifadeyi işaretleyiniz.

1. A: Hallo Ahmet, geht es dir?

B: Danke, gut.

- A) wer B) was C) wo D) wie

2. A: sie Englisch?

B: Ja, sie spricht Englisch.

- A) spricht B) sprichst
C) spricht D) sprechen

3. A: Hast du einen Bleistift?

B: Nein, ich habe Bleistift.

- A) keiner B) kein
C) keinen D) keines

4. A: Ist Buch für mich?

B: Nein, es ist für ihn.

- A) dieser B) diese
C) diesen D) dieses

5. A: Wann hast du Geburtstag?

B: Ich habe am Juli Geburtstag. (4.)

- A) vier B) vierten
C) viert D) vierter

6. Montag,, Mittwoch, Donnerstag

- A) Freitag B) Dienstag
C) Samstag D) Sonntag

7. Der Tee schmeckt nicht gut?

- A) mein B) mich C) mir D) meine

8. Sie gern im Supermarkt

- A) kaufen / ein B) fahren / ab
C) kommen / an D) kommen / zurück

9. A: Was haben sie um 18.00 Uhr gemacht?

B: Ich eingekauft.

- A) bin B) hast C) sein D) habe

10. A: Wo sind sie im letzten Sommer gewesen?

B: Ich in Antalya gewesen.

- A) sein B) mich C) bin D) bist

11. A: sie in der Schule gewesen?

B: Nein, sie ist zu Hause gewesen.

- A) sein B) bist C) bin D) ist

12. Atatürk in Saloniki

- A) hat / geboren B) hat / gebort
C) ist / geboren D) ist / geburt

13. A: kommt der Zug aus Istanbul?

B: kommt um 12.00 Uhr.

- A) Wann / Er B) Wie / Er
C) Was / Das D) Wann / Die

14. A: Wann sind die Sommerferien in der Türkei?

B: Sie sind Juni und September.

- A) vom B) am C) um D) zwischen

1. OTURUM

15. Ich trinke Wasser, ich durst habe.

- A) weil B) denn
C) deswegen D) weswegen

16. Peter wäscht die Hände.

- A) sein B) sich C) mich D) dich

17. Ich ziehe ganz schnell

- A) mich / an B) mich / in
C) sich / an D) uns / in

18. A: man hier Parken?

B: Nein, hier man nicht Parken.

- A) darf / darfst B) darf / darf
C) dürfen / darf D) dürfen / dürfen

19. Hangi kelime diğerlerinden farklıdır?

März Herbst Juni September
1 2 3 4

- A) 1 B) 2 C) 3 D) 4

20. zuerst geradeaus gehen und du musst

1 2

links einbiegen dann nach.

3 4

Karışık olarak verilen kelimelerden anlamlı ve kurallı bir cümle oluşturunuz.

- A) 1 / 2 / 3 / 4 B) 4 / 2 / 1 / 3
C) 3 / 1 / 3 / 2 D) 2 / 1 / 4 / 3

FRANSIZCA – 7

1 - 15. sorularda boş bırakılan yere uygun gelen kelime veya ifadeyi işaretleyiniz.

1. Hier, elles sont au musée.

- A) allé B) allée C) allés D) allées

2. Je veux des cerises, c'est le kilo?

- A) combien B) comme
C) comment D) commun

3. Ma mère me dit d'acheter un pot miel.

- A) du B) de la C) de D) la

4. Je prends taxi pour aller au travail.

- A) la B) et C) est D) le

5. Pour acheter de la viande, il faut aller

- A) à la boulangerie. B) à la boucherie.
C) à la pâtisserie. D) à la crèmerie.

6., j'irai à la piscine.

- A) Hier B) Demain
C) Avant D) L'année dernière

7. Nous nous levés à huit heures.

- A) êtes B) avons
C) sommes D) dites

1. OTURUM

8. Voici Daniel et Sophie, ce sontenfants.

- A) mes B) ma C) mais D) mon

9. Istanbul est peuplé Bolu.

- A) aussi / moins B) moins / qui
C) autant / où D) plus / que

10. Cet été nous irons Espagne et Italie.

- A) à / au B) au / en
C) en / en D) en / a

11. A: Où est-ce que vous avez fait vos études?

B:

- A) Nous avons fais nos études ensemble.
B) Vous avez fais vos études en 1995.
C) Il a fait ses études l'année dernière.
D) J'ai fais mes études à Ankara.

12. A: Tu veux du sel?

B: Oui, je(j) veux.

- A) à B) au C) en D) ai

13. A: Quel temps fait-il à Ankara.

B:

- A) Il fait froid.
B) Il fait du ski.
C) Il fait un dessin.
D) Il fait un voyage.

14. A: Voulez-vous quelque chose de chaud?

B: Non, je ne veux

- A) toujours B) personne
C) jamais D) rien

15. A: Pourquoi Henri est-il content?

B: son père va acheter une nouvelle voiture.

- A) Parce que B) Comment
C) Quand D) Pourtant

16. Aşağıdakilerden hangisi emir (impératif) cümlesidir?

- A) Elle doit dormir
B) Faites du sport
C) Vous sortez quand
D) Je vous dois combien

17. Aşağıdakilerden hangisi hayvan ismi değildir?

- A) Un diamant B) Une pie
C) Un mouton D) Une chouette

18. Aşağıdaki sözcüklerin hangisinde (masculin-féminin) eşleşmesi yanlış verilmiştir?

- A) lent - lente
B) long - long
C) maigre - maigre
D) mauvais - mauvaise

19. "Günde en az iki litre su içiniz." cümlesinin Fransızca dengini işaretleyiniz.

- A) Vous devez manger et boire sans arrêt.
B) Buvez au moins deux litres d'eau par jour.
C) Il faut boire de l'eau tous les deux jours.
D) Vous avez bu de l'eau deux jours après.

20. "Si vous téléphonez, nous viendrons ce soir." cümlesinin Türkçe dengini işaretleyiniz.

- A) Bize telefon ettikten sonra gelin.
B) Bu akşam sizi telefonla arayacağım.
C) Dün akşam sizi telefonla aradım, cevap vermediniz.
D) Eğer telefon ederseniz, bu akşam geleceğiz.

1. OTURUM

DİN KÜLTÜRÜ ve AHLAK BİLGİSİ – 7

1. Kutsal kitapların gönderiliş sırası hangi seçenekte verilmiştir?

- A) Tevrat, Zebur, İncil
- B) Zebur, Tevrat, İncil
- C) İncil, Zebur, Tevrat
- D) Tevrat, İncil, Zebur

2. Hz. Muhammed'e ilk vahyin geliş tarihi ve yeri hangi seçenekte verilmiştir?

Tarih	Yer
A) 571	Medine
B) 610	Mekke
C) 615	Mekke
D) 622	Medine

3. Kur'an-ı Kerim yaklaşık kaç yılda nazil olmuştur?

- A) 10 B) 13 C) 15 D) 23

4. Aşağıdaki ifadelerden hangisi Mekke döneminde nazil olan ayetlerin genel özelliklerinden değildir?

- A) Kısa ve çoşkun bir uslubu vardır.
- B) Ölüm - hayat gibi genel konularla ilgilidir.
- C) Temel konu tevhid ve şirktir.
- D) İbadetlerin yapılışı ile ilgili ayrıntılı bilgiler yer alır.

5. Aşağıdakilerden hangisi Kur'an-ı Kerim'in topluca değil de ayet-ayet, sure-sure indirilmesinin sebepleri arasında sayılamaz?

- A) İnsanların Kur'an'ı Kerim'i yavaş yavaş özümsemeleri
- B) İnsanların ayetleri daha iyi anlayıp uygulayabilmesi
- C) Kur'an-ı Kerim'in yazıldığı malzemenin ve onu yazacak insanların sayıca az olması
- D) Kur'an-ı Kerim'in ezberlenmesinin ve yazılmasının kolaylaştırılması

6. "Vahiy kâtibi" terimi ile aşağıdakilerden hangisi kastedilmektedir?

- A) Dört Halife döneminde Kur'an-ı Kerim'i yorumlayan ilim adamı
- B) Hz. Peygamber döneminde Kur'an-ı Kerim'i yazmakla görevli kişi
- C) İslam'a çağrının Medine döneminde Kur'an-ı Kerim'i baştan sona ezberleyen kişi
- D) Günümüzde Kur'an-ı Kerim'i kurallarına uygun okuyan kişi

7. Kur'an-ı Kerim'in ilk ve son suresi aşağıdaki seçeneklerin hangisinde verilmiştir?

İlk	Son
A) Alak	Felak
B) Bakara	Felak
C) Fatiha	Nas
D) Alak	Nas

8. Kur'an-ı Kerim'in her 20 sayfalık bölümüne ne denir?

- A) Mushaf B) Sure
C) Cüz D) Ayet

9. Hac ibadetini yaparken Kâbe'nin etrafında bir kez dönmeye ne denir?

- A) Tavaf B) Şavt
C) Sa'y D) Vakfe

10. Aşağıdakilerden hangisi haccın farzlarından değildir?

- A) Sa'y etmek
- B) İhrama girmek
- C) Tavaf yapmak
- D) Arafat'ta vakfe yapmak

1. OTURUM

11. Kâbe yakınında bulunan ve hac ibadeti için Mekke'ye gelenlerin yedi kez gidip gelmek suretiyle ziyaret ettikleri tepeler hangisidir?

- A) Müzdelife ve Mina
- B) Arafat ve Safa
- C) Mina ve Arafat
- D) Safa ve Merve

12. Kâbe ile ilgili aşağıdaki bilgilerden hangisi doğrudur?

- A) Yeryüzünde yapılan ilk ibadet yeridir.
- B) İçerisinde Hz. Muhammed'in kabri bulunur.
- C) Medine'deki Mescid-i Nebi'nin içerisindedir.
- D) Hz. Muhammed tarafından inşa edilmiştir.

13. Kurban kelimesinin sözlük anlamı aşağıdakilerden hangisidir?

- A) Şükür etmek
- B) Yakınlaşmak
- C) İbadet etmek
- D) Boğazlamak, kesmek

14. "Vahiy meleği" aşağıdakilerden hangisidir?

- | | |
|------------|-----------|
| A) Cebrail | B) Azrail |
| C) Mikail | D) İsrail |

15. Melekler bizlere iyilik yapmayı tavsiye ederler. Sağımızdaki ve solumuzdaki melekler yaptıklarımızı kaydederler. Bizler de bunun farkında olarak iyilik yapmaya ve kötü davranışlardan kaçınmaya gayret ederiz.

Yukarıdaki paragraftan çıkartılacak sonuç aşağıdakilerden hangisidir?

- A) Melekler iman, imanın şartlarından biridir.
- B) Melekler, nurdan yaratılmış varlıklardır.
- C) Melekler iyiliğin ve güzelliğin sembolüdür.
- D) Melekler iman, davranışların güzelleşmesine katkıda bulunur.

16. Aşağıdaki ayetlerden hangisi şeytanın insana zorla bir kötülük yaptırma gücünün olmadığı ile ilgilidir?

- A) "Aslında iman edip Rabb'ine güvenen ve dayananlar üzerinde onun bir nüfuzu yoktur." (Nahl suresi, 99)
- B) "O şeytan ki alnında âdeta şöyle yazılmıştır: 'Bu kendisini dost edineni yoldan çıkarır ve doğruca alevli ateşe sürükler.'" (Hac suresi, 4)
- C) "... Her kim şeytanın peşinden giderse bilsin ki o kendisinden hep fena, çirkin ve meşru olmayan şeyleri yapmasını ister..." (Nur suresi, 21)
- D) "... O çok hilekâr şeytan, Allah'ın kerem ve merhametini ileri sürerek sizi aldatmasın." (Fatır suresi, 5)

17. "Yavrucuğum! Yaptığın iş (iyilik veya kötülük), bir hardal tanesi ağırlığında bile olsa ve bu, bir kayanın içinde veya göklerde yahut yerin derinliklerinde bulunsa, yine de Allah onu (senin karşına) getirir..." (Lokman suresi, 16)

Aşağıdakilerden hangisi bu ayette vurgulanmamaktadır?

- A) Allah, iyilikleri ve kötülükleri karşılıksız bırakmayacaktır.
- B) Allah, her şeyin en ince ayrıntısından bile haberdardır.
- C) Allah, hiçbir şeye muhtaç değildir.
- D) Allah'tan hiçbir şey gizlenemez.

1. OTURUM

18. Hem onları Rabb'lerinin huzurunda toplanıp
1

hesap meydanında durdukları zaman bir gör-
2

sen! Allah: "Nasıl, şu gördüğünüz diriliş ger-
3

değil miymiş diyecek ? Onlar da: Evet, Rab-
bimiz hakkı için gerçekmiş" diyecekler..."
(En'am suresi, 30)





Ayetteki altı çizili kelimeler sırası ile aşağıdaki kavramlardan hangileri ile ifade edilmektedir?

- | 1 | 2 | 3 |
|------------|--------|--------|
| A) Ba's | Mizan | Mahşer |
| B) Haşir | Mahşer | Ba's |
| C) Ahiret | Ba's | Haşir |
| D) Kıyamet | Ahiret | Mizan |

19. Aşağıdakilerden hangisi tek tanrılı dinlerden-
dir?

- | | |
|--------------|----------------|
| A) Budistlik | B) Şamanistlik |
| C) Musevilik | D) Şintoistlik |

20. Aşağıdaki sembollerden hangisi Yahudiliğe
aittir?

- | | |
|--|--|
| A)  | B)  |
| C)  | D)  |

İNKILAP TARİHİ ve ATATÜRKÇÜLÜK – 8

1. Atatürk'ün doğduğu yer ve yıl, aşağıdakilerin
hangisinde doğru olarak verilmiştir?

- | | |
|-------------------|---------------------|
| A) Selanik - 1881 | B) Makedonya - 1919 |
| C) Üsküp - 1882 | D) İstanbul - 1881 |

2. Mustafa Kemal'in Şam'daki görevi sırasında
kurduğu cemiyet aşağıdakilerden hangisidir?

- A) İttihat ve Terakki Cemiyeti
B) Vatan ve Hürriyet Cemiyeti
C) Hürriyet ve İtilaf Cemiyeti
D) Millî Kongre Cemiyeti

3. Aşağıdakilerden hangisi I. Dünya Savaşı'nda
İtilaf Devletlerinden biri değildir?

- | | |
|--------------|------------|
| A) İngiltere | B) Fransa |
| C) Rusya | D) Almanya |

4. I. Dünya Savaşı'nın sonunda Almanya ile İtilaf
Devletleri arasında imzalanan antlaşma, aşağı-
dakilerden hangisidir?

- | | |
|-------------|---------------|
| A) Versay | B) Sen Cermen |
| C) Triyanon | D) Sevr |

5. İşgallere karşı Türk milleti tarafından oluştu-
rulan millî direniş cemiyetlerinin genel adı,
aşağıdakilerden hangisidir?

- | | |
|-----------------|--------------------|
| A) Millî Kongre | B) Temsil Heyeti |
| C) Kuvaimillîye | D) Kuvaiinzibatiye |

1. OTURUM

6. I- Erzurum Kongresi
II- TBMM'nin açılması
III- Sakarya Savaşı
IV- II. İnönü Savaşı

Bu olayların kronolojik sırası aşağıdakilerden hangisinde doğru olarak verilmiştir?

- A) II - I - IV - III
B) I - II - III - IV
C) II - III - IV - I
D) I - II - IV - III

7. Kurtuluş Savaşı'nın Batı Cephesi'nde aşağıdakilerden hangisi ile savaşılmıştır?

- A) Ermeniler
B) Yunanlılar
C) Fransızlar
D) İngilizler

8. Kurtuluş Savaşı'nın Doğu Cephesi Komutanı, aşağıdakilerden hangisidir?

- A) Fevzi Paşa
B) İsmet Paşa
C) Ali Fuat Paşa
D) Kâzım Karabekir Paşa

9. Aşağıdaki antlaşmalardan hangisi Kurtuluş Savaşı'nın kazanılması üzerine yürürlüğe girmemiştir?

- A) Sevr
B) Mudanya
C) Mondros
D) Gümrü

10. Mustafa Kemal Paşa "Hattı müdafa yoktur, sathı müdafa vardır. O sath, bütün vatandır." sözünü hangi savaş sırasında söylemiştir?

- A) I. İnönü
B) II. İnönü
C) Sakarya
D) Büyük Taarruz

11. Büyük Taarruz sırasında Genelkurmay Başkanı olarak görev yapan komutan, aşağıdakilerden hangisidir?

- A) Fevzi Paşa
B) İsmet Paşa
C) Ali Fuat Paşa
D) Mustafa Kemal Paşa

12. Aşağıdaki antlaşmalardan hangisi ile Fransa, TBMM'yi resmen tanımıştır?

- A) Kars
B) Ankara
C) Mudanya
D) Lozan

13. Yeni Türk Devletinin ekonomi politikaları aşağıdakilerden hangisinde belirlenmiştir?

- A) Misakımillî'de
B) Sivas Kongresi'nde
C) Amasya Görüşmelerinde
D) İzmir İktisat Kongresi'nde

14. Tüm eğitim kurumlarının Millî Eğitim Bakanlığına bağlanması, aşağıdakilerden hangisi ile gerçekleşmiştir?

- A) Teşvik-i Sanayi Kanunu
B) Tevhid-i Tedrisat Kanunu
C) Kabotaj Kanunu
D) Medeni Kanun

15. Atatürk'ün, "Nutuk" adlı eserinin konusu aşağıdakilerden hangisidir?

- A) Kurtuluş Savaşı
B) Çanakkale Savaşı
C) Trablusgarp Savaşı
D) Birinci Dünya Savaşı

1. OTURUM

16. Atatürk, “Türk dilinin kendi benliğine, aslındaki güzellik ve zenginliğine kavuşması için” aşağıdakilerden hangisini kurdurmuştur?

- A) Darülfünun B) İstanbul Üniversitesi
C) Türk Tarih Kurumu D) Türk Dil Kurumu

17. Atatürk’e göre millî ekonominin temeli, aşağıdakilerden hangisidir?

- A) Sanayi B) Tarım
C) Ticaret D) Hayvancılık

18. Bütün vatandaşların yasalar önünde eşitliğini esas alan ilke, aşağıdakilerden hangisidir?

- A) Devletçilik B) Halkçılık
C) Milliyetçilik D) İnkılapçılık

19. Farklı inanç ve düşüncelere saygılı olmak, hangi ilkenin bir gereğidir?

- A) Laiklik B) Milliyetçilik
C) Devletçilik D) İnkılapçılık

20. I- NATO’ya giriş
II- Balkan Antantı
III- Sadabat Paktı
IV- Hatay’ın anavatana katılması

Dış politikaya ait bu gelişmelerden hangileri Atatürk döneminde meydana gelmemiştir?

- A) I - II B) II - III C) II - IV D) I - IV

İNGİLİZCE – 8

1 - 20. sorularda boş bırakılan yere uygun gelen kelime ya da ifadeyi işaretleyiniz.

1. Manti is the most food I’ve ever tasted.

- A) comfortable B) hardworking
C) crowded D) delicious

2. Mary has to the hairdresser’s. She hasn’t come back yet.

- A) gone B) been
C) moved D) climbed

3. Ayşe is good at Maths but Ali is than her.

- A) farther B) better
C) more D) less

4. I have been in Ankara since

- A) two years B) several weeks
C) many years D) last week

5. A true friend is

- A) lazy B) worried
C) helpful D) angry

6. I to İzmir last month.

- A) am going B) have gone
C) will go D) went

7. There is a of match on the table.

- A) bar B) jar
C) box D) cup

1. OTURUM

8. I would take an umbrella with me if it

- A) to rain B) rained
- C) raining D) rains

9. The pen I bought yesterday was expensive.

- A) which B) whom
- C) whose D) where

10. A composition is being by the students.

- A) taught B) planted
- C) written D) drawn

11. Ceren likes coffee. does Özden.

- A) So B) Too
- C) Either D) Neither

12. The baby is crying.

- A) They smell wonderful.
- B) It tastes delicious.
- C) He looks happy.
- D) She feels bad.

13. If you feel sick,

- A) study hard. B) sleep less.
- C) see a doctor. D) go shopping.

14. The concert is free.

- A) You don't have to buy a ticket.
- B) I would rather drive to school.
- C) She is supposed to work harder.
- D) We should stop at the red light.

15. The teacher was watching the students while

- A) she studied English.
- B) they were playing tennis.
- C) he has broken the window.
- D) you are listening to the radio.

16. The children aren't at home.

- A) They have just gone out.
- B) I have already seen that movie.
- C) She has never failed any exams.
- D) We haven't had our breakfast yet.

17. A: Have you been to Paris?
B: No, never.

- A) yet B) just C) ever D) never

18. A: How much milk is there in the fridge?
B: There isn't The bottle is empty.

- A) many B) some
- C) much D) any

19. A: Why do you like dogs?
B: they are friendly.

- A) Because B) And
- C) But D) So

20. A:
B: 20 TL.

- A) How far is Antalya?
- B) How much is this t-shirt?
- C) What size are your shoes?
- D) What is your jacket made of?

1. OTURUM

ALMANCA – 8

1 - 12. sorularda boş bırakılan yere uygun gelen kelime ya da ifadeyi işaretleyiniz.

1. A: Wie geht es dir?

B: Danke, es geht gut.

- A) mein B) sein C) dir D) mir

2. A: Wem hilft der Junge Mann.

B: Er hilft alten Mann. (der alte Mann)

- A) dem B) die C) der D) das

3. Der Fahrer kann weiterfahren, die Ampel grün ist.

- A) wann B) wenn C) was D) wie

4. Er geht zum Arzt, er ist krank.

- A) dort B) dann C) dass D) denn

5. Berke Zahnärztin werden.

- A) wollen B) willst C) will D) wollt

6. Man den älteren Menschen behilflich sein.

- A) solltest B) sollen
C) sollst D) sollte

7. Der Onkel ist der Bruder Vaters.

- A) mich B) meiner
C) meines D) meinem

8. A: Wem gehören diese alten Handschuhe?

B: Sie gehören alten Dame. (die alte Dame)

- A) die B) der C) den D) dem

9. A: Wohin gehst du Cem?

B: Ich gehe Hause.

- A) nach B) in C) zu D) im

10. A: Wo warst du gestern Abend?

B: Ich war bei Freund. (der Freund)

- A) ein B) einer C) einem D) einen

11. A: Was ist das?

B: Das sind die Federn Vogels. (der Vogel)

- A) eines B) einem C) ein D) einen

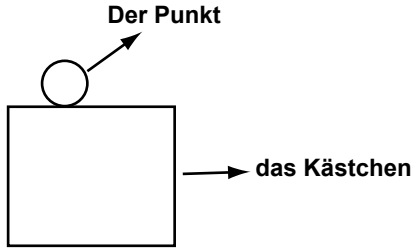
12. Und das sind die Zimmer von Kindern. (die Kinder)

- A) die B) der C) dem D) den

1. OTURUM

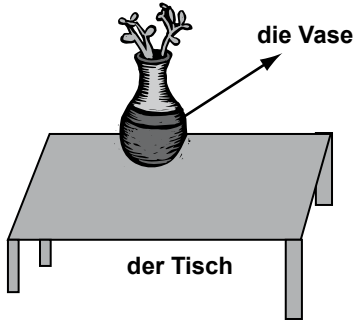
13 - 14. soruları verilen resimleri dikkate alarak cevaplayınız.

13. A: Wo steht der Punkt?
B: Er steht dem Kästchen.



- A) in B) im C) auf D) unter

14. A: Wohin hast du die Vase gestellt?
B: Ich habe die Vase auf Tisch gestellt.
(der Tisch)



- A) den B) der C) dem D) des

15 - 16. sorularda boş bırakılan yere uygun gelen kelime ya da ifadeyi işaretleyiniz.

15. Präsens Präteritum Perfekt
gehen gegangen

- A) gingen B) ging
C) gegehen D) gängen

16. Präsens Präteritum Perfekt
wissen wusste

- A) gewusst B) gewussten
C) gewissen D) gewisse

Aşağıdaki verileri dikkate alarak 17 - 18. sorularda boş bırakılan yerlere en uygun kelimeyi seçiniz.

- * Ahmet ist 9 Jahre alt,
* Jürgen ist 11 Jahre alt,
* Michel ist 7 Jahre alt.

17. Jürgen ist am

- A) jüngsten B) jünger
C) ältesten D) älter

18. Michel ist am

- A) älter B) älter
C) ältesten D) jüngsten

19 - 20. sorularda karışık olarak verilen kelimelerden anlamlı ve kurallı bir cümle oluşturunuz.

19. Kann ich nicht mit diesem Füller schreiben

1 2 3 4

- A) 3 / 1 / 2 / 4 B) 4 / 3 / 2 / 1
C) 1 / 2 / 3 / 4 D) 2 / 1 / 4 / 3

20. Moschee bewundern die Touristen

1 2 3

die Sultanahmet

4

- A) 1 / 2 / 3 / 4 B) 3 / 2 / 4 / 1
C) 2 / 1 / 3 / 4 D) 1 / 4 / 2 / 3

1. OTURUM

FRANSIZCA – 8

1 - 17. sorularda boş bırakılan yere uygun gelen kelime veya ifadeyi işaretleyiniz.

1. Elles sont aux Etats-unis.

- A) va B) allé C) allons D) allées

2. Elle aime travailler la radio.

- A) en écoutant B) en lisant
C) en regardant D) en mangeant

3. Hier soir, elle fatiguée.

- A) étais B) était C) es D) avait

4. S'il fait beau, elle à l'école à pied.

- A) iront B) vont C) irez D) ira

5. Hier, je à 8 heures.

- A) me lève B) lève
C) me suis levé D) levez

6. Elle est en Italie.

- A) partons B) pars
C) part D) partie

7. Vous mardi prochain.

- A) partons B) partent
C) partirez D) pars

8. L'enfant joue dans le jardin est ma fille.

- A) où B) qui C) que D) aussi

9. J'ai mal bras.

- A) au B) par C) aux D) très

10. Nous voulons poisson.

- A) les B) des C) du D) la

11. Vous prenez frites?

- A) des B) du C) un D) plus

12. Tu as ton devoir de maths?

- A) faisons B) faites
C) font D) fait

13. Vous êtes allés France.

- A) les B) aux C) en D) à la

14. Mersin est chaud Trabzon en été.

- A) plus / que B) notre / votre
C) qui / où D) dont / où

15. Ils ont deux enfants: garçon et fille.

- A) du / de la B) un / une
C) une / un D) la / le

1. OTURUM

16. A: Où est-ce que tu as mal?
B:

A) J'ai mal au bras.
B) Je suis fatigué.
C) Il a mal à la tête.
D) Tu as douze ans.

17. A: À quelle heure arrive l'avion?
B:

A) Bonne soirée. B) Il a 15 ans.
C) À 23 h30. D) De Marseille.

18. Elle dit: "Elle aime sa mère." cümlesinin indirect şekli aşağıdakilerden hangisidir?

A) Elle est ma mère.
B) Elle n'aime pas sa mère.
C) Elle dit qu'elle n'aime pas sa mère.
D) Elle dit qu'elle aime sa mère.

19. "Elle a une amie." cümlesinin olumsuz hâli aşağıdakilerden hangisidir?

A) Elle n'a pas d'amie.
B) Elle aime son amie.
C) Elle fait son devoir.
D) Elle n'aime pas son amie.

20. Tablodaki bilgilere göre aşağıdaki ifadelerden hangisi yanlıştır?

Pays	Superficie (km²)	Population (millions)
Turquie	770.760	76
France	550.000	53
Grèce	131.940	12

A) La Grèce a moins d'habitants que la Turquie.
B) La Turquie a moins d'habitants que la Grèce.
C) La Turquie a plus d'habitant que la France.
D) La France est plus grande que la Grèce.

DİN KÜLTÜRÜ ve AHLAK BİLGİSİ – 8

1. Mekke halkının Hz. Muhammed'e el-emin unvanı vermesinin nedeni Hz. Peygamberin aşağıdaki özelliklerinden hangisidir?

A) Zengin olması
B) Hoşgörülü olması
C) Güvenilir olması
D) Akıllı ve zeki olması

2. Mekke müşriklerinin zengin ve ileri gelenleri Hz. Muhammed'e "Biz senin yanına geldiğimizde, fakir ve zavallı şu kişileri yanından kov. Biz onlarla bir arada olmaktan hoşlanmıyoruz." demişlerdi. Ancak, Peygamberimiz bu isteği kabul etmemiştir.

Hz. Muhammed'in bu tutumu onun daha çok hangi ahlaki özelliğine örnektir?

A) İnsanlara değer vermesine
B) Hoşgörü ve affediciliğine
C) Merhametliliğine
D) Güvenilirliğine

3. Yoksulluk, bela, afet gibi üzücü olaylar karşısında paniğe kapılmadan acıya ve üzüntüye katlanabilme yeteneği, dayanma ve direnme gücüdür.

Bu tanım aşağıdaki kavramlardan hangisine aittir?

A) Şükür B) Tevekkül
C) Sabır D) Vefa

4. Verdiği sözde durma, sevgide sebat gösterme, kendine duyulan güveni boşa çıkarmama olarak tarif edilen kavram aşağıdakilerden hangisidir?

A) Hoşgörülü olma
B) Hakkı gözetme
C) Güvenilir olma
D) Vefalı olma

1. OTURUM

5. Hz. Muhammed'in "*Kıyamet gününde bir insan, şu dört şeyden sorulacaktır.*" diye devam eden hadisinde aşağıdakilerden hangisi yer almaz?

- A) Gençliğini nasıl harcadığından
- B) Ne kadar ilim sahibi olduğundan
- C) Ömrünü (vaktini) nerede tükettiğinden
- D) Malını nereden kazanıp nereye harcadığından

6. Bir topluma özgü düşünce ve sanat eserlerinden oluşan maddi ve manevi değerler bütününe ne denir?

- A) Din
- B) Ahlak
- C) Bilim
- D) Kültür

7. Aşağıdakilerden hangisi kültürün özelliklerinden biri değildir?

- A) Evrenseldir
- B) Öğrenilir
- C) Değişkendir
- D) Tarihidir ve süreklidir

8. Yasalarla belirlenmemiş, halkın kendiliğinden uyduğu gelenek ve alışkanlıklara ne denir?

- A) Din
- B) Mezhep
- C) Örf
- D) Hukuk

9. Yüce Allah'ın önceden takdir ve tayin ettiği olayların yeri ve zamanı geldiğinde kadere uygun olarak ortaya çıkmasına ne denir?

- A) Kader
- B) Kaza
- C) Ecel
- D) Tevekkül

10. Canlı varlıkların dünyadaki yaşam sürelerine ne denir?

- A) Ecel
- B) Kader
- C) Ömür
- D) Takdir

11. Aşağıdakilerden hangisi imanın şartlarından biridir?

- A) Salih amel işlemek
- B) Meleklerle inanmak
- C) Namaz kılmak
- D) Zekât vermek

12. Kelime-i tevhidin anlamı hangi seçenekte verilmiştir?

- A) Allah'tan başka ilah yoktur. Hz. Muhammed onun elçisidir.
- B) Hayır ve şerrin Allah'tan geldiğine inandım.
- C) Allah'ın selamı Hz. Muhammed'e olsun.
- D) Her hayırlı işe Allah'ın adıyla başladım.

13. "*Asıl iyilik, o kimsenin yaptığıdır ki Allah'a, ahiret gününe ... inanır, yakınlarla, yetimlere, yoksullara ... sevdiği mallardan harcar, namaz kılar, zekât verir, anlaşma yaptığı zaman sözlerini yerine getirir, sıkıntı, hastalık ve savaş zamanlarında sabreder... takva sahipleri ancak onlardır.*" (Bakara suresi, 177)

Aşağıdakilerden hangisi ayette övülen takva sahibi insanın davranışlarından değildir?

- A) Hastalandığında, musibete uğradığında bunu hak etmediğini iddia ederek hâline itiraz etmek
- B) Dinini, namusunu, hürriyetini korumak için vatan savunmasında sabırlı olmak
- C) İnsanlarla yaptığı anlaşmalara sadık kalarak gereğini yapmak
- D) Kazandığı helal mallardan fakirlere ve yetimlere harcamak

1. OTURUM

14. Aşağıda tevekkül hakkında verilen bilgilerden hangisi yanlıştır?

- A) Kişinin yaratıcısına duyduğu güvenin bir sonucudur.
- B) Şartları yerine getirdikten sonra sonucu Allah'tan beklemektir.
- C) Kişinin yersiz şüphe ve korkulardan kurtulmasına destek olur.
- D) Kişinin çaresizlik karşısında yürekten gelerek yaptığı duadır.

15. Dindeki anlayış farklılıkları hakkında aşağıdakilerden hangisi yanlış bir bilgidir?

- A) Dinî metinler değişik sebeplerle farklı yorumlanabilir.
- B) Anlayış farklılıkları Kur'an ve sünnet çerçevesinde oluşmalıdır.
- C) İnsanlar inanç ve davranış alanındaki kendi yorum ve görüşlerini din yerine koymamalıdır.
- D) İslam, Hz. Muhammed'le son şeklini almıştır. Yeni bir din anlayışı söz konusu olamaz.

16. Peygamberimizin vefatından sonra insanlar, içinde bulundukları ortama, bilgi birikimlerine göre İslam'ı anlamaya çalışmışlardır. Bu çaba mezhep, tarikat, cemaat gibi oluşumların ortaya çıkmasına neden olmuştur. Bu nedenle İslam'ı ve onun anlaşılma biçimlerini birbirinden ayırmalıyız.

Yukarıdaki paragrafta vurgulanmak istenen gerçek aşağıdakilerden hangisidir?

- A) İslam dini farklı inançlara hoşgörü ile yaklaşır.
- B) Din ve din anlayışı birbirinden farklıdır.
- C) Din anlayışındaki farklılıklar zenginliktir.
- D) İslamiyet evrensel bir dindir.

17. Aşağıdakilerden hangisi Türk musikisinin önde gelen isimlerinden biri değildir?

- A) III. Selim
- B) Dede Efendi
- C) Ahi Evran
- D) Hacı Arif Bey

18. Tasavvufta Allah'a yakınlaşmak için benimlenen yol ve yöntemlerin her birine ne denir?

- A) Mezhep
- B) Tarikat
- C) Cemaat
- D) Fırka (Grup)

19. Aşağıdakilerden hangisi İslam dininde amelî mezheplerden biri değildir?

- A) Hanbelîlik
- B) Şafîlik
- C) Mevlevîlik
- D) Caferîlik

20. İslam düşüncesindeki mezhepler hakkında aşağıda verilen bilgilerden hangisi yanlıştır?

- A) Hz. Muhammed'in vefatından sonra dinin farklı anlaşılması sonucu ortaya çıkmış oluşumlardır.
- B) Dinî emirlerin uygulamasında Müslümanlara farklı seçenekler sunar.
- C) Din anlayışındaki yorum farklılıklarının bir sonucudur.
- D) Din ve mezhep aynı anlama gelen iki kavramdır.

TEST BİTTİ.

CEVAPLARINIZI KONTROL EDİNİZ.

Soracağınız bir şey var mı? Varsa, şimdi sorunuz; sınav başladıktan sonra sorularınıza cevap verilmeyecektir. Hazır mısınız? Sınav, okulun bütün salonlarında aynı anda başlayacağı için başlama zilini beraberce bekleyelim. Hepinize başarılar dileriz.
(Salon başkanı başlama ve bitiş saatini tahtaya yazacaktır.)

Bu kitapçığın her hakkı saklıdır. Hangi amaçla olursa olsun, kitapçığın tamamının veya bir kısmının Millî Eğitim Bakanlığı Eğitim Teknolojileri Genel Müdürlüğünün yazılı izni olmadan kopya edilmesi, fotoğraflarının çekilmesi, bilgisayar ortamına alınması, herhangi bir yolla çoğaltılması, yayımlanması veya başka bir amaçla kullanılması yasaktır. Bu yasağa uymayanlar, doğabilecek cezai sorumluluğu ve kitapçığın hazırlanmasındaki mali külfeti peşinen kabullenmiş sayılır.

19 HAZİRAN 2011 TARİHİNDE YAPILAN
AÇIK İLKÖĞRETİM OKULU 2010-2011 ÖĞRETİM YILI 3. DÖNEM SINAVI
1. OTURUM CEVAP ANAHTARI

TÜRKÇE – 6

1. A
2. C
3. B
4. C
5. A
6. D
7. C
8. D
9. B
10. A
11. D
12. B
13. A
14. C
15. C
16. A
17. B
18. C
19. D
20. B

FEN ve TEKNOLOJİ – 6

1. B
2. A
3. C
4. D
5. C
6. B
7. D
8. A
9. B
10. C
11. A
12. D
13. B
14. D
15. C
16. A
17. B
18. B
19. A
20. D

İNGİLİZCE – 7

1. D
2. A
3. C
4. D
5. B
6. B
7. C
8. A
9. D
10. C
11. D
12. C
13. A
14. D
15. A
16. B
17. A
18. B
19. B
20. D

FRANSIZCA – 7

1. D
2. A
3. C
4. D
5. B
6. B
7. C
8. A
9. D
10. C
11. D
12. C
13. A
14. D
15. A
16. B
17. A
18. B
19. B
20. D

MATEMATİK – 6

1. D
2. D
3. B
4. B
5. C
6. B
7. A
8. A
9. D
10. A
11. D
12. C
13. C
14. B
15. C
16. A
17. B
18. D
19. A
20. C

SOSYAL BİLGİLER – 7

1. C
2. B
3. D
4. C
5. D
6. B
7. A
8. A
9. B
10. A
11. A
12. B
13. B
14. C
15. D
16. A
17. C
18. D
19. C
20. D

ALMANCA – 7

1. D
2. A
3. C
4. D
5. B
6. B
7. C
8. A
9. D
10. C
11. D
12. C
13. A
14. D
15. A
16. B
17. A
18. B
19. B
20. D

**DİN KÜLTÜRÜ ve AHLAK
BİLGİSİ – 7**

1. A
2. B
3. D
4. D
5. C
6. B
7. C
8. C
9. B
10. A
11. D
12. A
13. B
14. A
15. D
16. A
17. C
18. B
19. C
20. B

19 HAZİRAN 2011 TARİHİNDE YAPILAN
AÇIK İLKÖĞRETİM OKULU 2010-2011 ÖĞRETİM YILI 3. DÖNEM SINAVI
1. OTURUM CEVAP ANAHTARI

İNKILAP TARİHİ ve
ATATÜRKÇÜLÜK – 8

1. A
2. B
3. D
4. A
5. C
6. D
7. B
8. D
9. A
10. C
11. A
12. B
13. D
14. B
15. A
16. D
17. B
18. B
19. A
20. D

İNGİLİZCE – 8

1. D
2. A
3. B
4. D
5. C
6. D
7. C
8. B
9. A
10. C
11. A
12. D
13. C
14. A
15. B
16. A
17. C
18. D
19. A
20. B

ALMANCA – 8

1. D
2. A
3. B
4. D
5. C
6. D
7. C
8. B
9. A
10. C
11. A
12. D
13. C
14. A
15. B
16. A
17. C
18. D
19. A
20. B

FRANSIZCA – 8

1. D
2. A
3. B
4. D
5. C
6. D
7. C
8. B
9. A
10. C
11. A
12. D
13. C
14. A
15. B
16. A
17. C
18. D
19. A
20. B

DİN KÜLTÜRÜ ve AHLAK
BİLGİSİ – 8

1. C
2. A
3. C
4. D
5. B
6. D
7. A
8. C
9. B
10. C
11. B
12. A
13. A
14. D
15. D
16. B
17. C
18. B
19. C
20. D