



T.C.

MİLLÎ EĞİTİM BAKANLIĞI

i-2

AÇIK İLKÖĞRETİM OKULU

2007- 2008 ÖĞRETİM YILI NOT YÜKSELTME SINAVI

2. OTURUM: 17 MAYIS 2008 Saat: 14.00

Adayın Adı ve Soyadı :

Aday Numarası :

DİKKAT: 1. Bu oturumda, 14 derse ait test soruları yer almaktadır.

MATEMATİK - 6

İNGİLİZCE - 6

ALMANCA - 6

FRANSIZCA - 6

DİN KÜLT. ve AHL. BİLGİSİ - 6

TRAFİK ve İLK YARDIM - 6

MATEMATİK - 8

T.C. İNKILÂP TARİHİ ve ATATÜRKÇÜLÜK - 8

İNGİLİZCE - 8

ALMANCA - 8

FRANSIZCA - 8

TRAFİK ve İLK YARDIM - 8

GÜZEL KONUŞMA ve YAZMA - 8

TURİZM - 8

2. Adaylar soru kitapçıklarını kontrol ederek baskı hatası olan kitapçığın değiştirilmesi için sınav başlamadan önce salon sorumlularına başvuracaklardır.

3. Sınavda hesap makinesi, cep telefonu ve çağrı cihazı kullanılması yasaktır. Bu cihazları sınav başlamadan önce salon başkanına teslim ediniz.

CEVAP KÂĞIDI İLE İLGİLİ AÇIKLAMA

1. Cevap kâğıdı üzerine yapacağınız işaretlemelerde kurşunkaleminden başka hiçbir kalem kullanmayınız.
2. Verilen cevap kâğıdında yazılı olan bilgilerin size ait olup olmadığını kontrol ediniz. Size ait değilse salon sorumlularına söyleyiniz. Adınıza yazılı cevap kâğıdı bulunamıyorsa veya cevap kâğıdınız kullanılamayacak şekilde bozursa, verilecek olan yedek cevap kâğıdına, kimliğinizle ilgili bilgileri, salon başkanının açıklamalarına göre yazınız.
3. Sınavda tek cevap kâğıdı kullanılacaktır. Cevaplarınızı cevap kâğıdındaki ilgili sütunlara aşağıdaki örnekte olduğu gibi yuvarlağı, dışına taşırmadan işaretleyiniz. Yanlış karalamalarınızı düzeltirken yuvarlağın içini temizce siliniz. Cevap kâğıdınızı buruşturmayınız, katlamayınız ve üzerine gereksiz işaret koymayınız.

ÖRNEK KODLAMA:

(A) (B) (C) (D)

SORU KİTAPÇIĞI İLE İLGİLİ AÇIKLAMA

1. Her ders için **20 soru** bulunmaktadır. Bu oturum için, toplam **150 dakikalık** cevaplama süreniz vardır.
Not: Öğrencinin kaç dersi olursa olsun, isterse bu sürenin tamamını kullanabilir.
2. Her sorunun dört seçeneğı vardır. Dört seçenekten sadece bir tanesi doğru cevaptır. Doğru bulduğunuz seçeneğı, cevap kâğıdında o soru için ayrılan yerde bularak işaretleyiniz.
3. Size ayrı bir karalama kâğıdı verilmeyecektir. Soru kitapçığınızın içindeki boş alanları karalama yapmak için kullanabilirsiniz.
4. Puanlamada, her doğru cevaba puan verilecek; yanlış cevaplarınız dikkate alınmayacaktır.
5. Sınavın bitiminde cevap kâğıdınızı ve soru kitapçığınızı salon sorumlularına teslim etmeyi unutmayınız.

BAŞLAYINIZ DENİLMEDEN SORU KİTAPÇIĞINI AÇMAYINIZ.

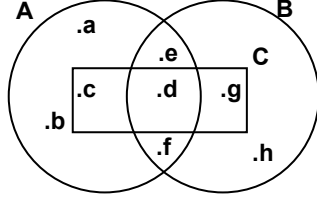
2. OTURUM

MATEMATİK - 6

1. $A = \{0, 1, 2, 3, 4\}$ kümesinin kaç tane alt kümesi vardır?

A) 4 B) 8 C) 16 D) 32

2. Verilen şemaya göre, $(A \cap B) \cap C$ aşağıdakilerden hangisidir?



A) {d} B) {c, d, g}
C) {e, d, f} D) {e, f}

3. “Yirmi beş milyon yirmi beş” sayısının rakamlarla yazılışı aşağıdakilerden hangisidir?

A) 25 000 250 B) 2 500 205
C) 25 000 025 D) 2 500 025

4. 47 072 357 sayısında tekrar eden 7 rakamlarının basamak değerlerinin toplamı kaçtır?

A) 707 007 B) 707 070
C) 7 000 007 D) 7 070 007

5. Çözümlemiş şekli;
 $(6 \times 10^6) + (5 \times 10^5) + (3 \times 10^2) + (7 \times 10^1) + (9 \times 10^0)$
olan sayı aşağıdakilerden hangisidir?

A) 65 379 B) 6 500 370
C) 6 500 379 D) 6 500 739

6. Aşağıda verilen sıralamalardan hangisi yanlıştır?

A) $4^3 > 3^4$ B) $6^3 > 3^3$ C) $5^4 > 5^3$ D) $2^2 > 8^0$

7. 38 ile 85 arasında 2 ile bölünebilen kaç tane doğal sayı vardır?

A) 19 B) 21 C) 23 D) 24

8. 160 sayısının asal çarpanlarına ayrılmış şekli aşağıdakilerden hangisidir?

A) $2^4 \times 3 \times 5$ B) $2^5 \times 5$
C) $2^3 \times 5^2$ D) $2^4 \times 5^2$

9. Dört basamaklı $1a5b$ sayısı 9 ile bölünebildiğine göre, $a + b$ 'nin alabileceği en büyük değer kaçtır?

A) 3 B) 6 C) 12 D) 21

10. Bir iş yerindeki üç zilden birincisi 4 saatte, ikincisi 5 saatte, üçüncüsü 6 saatte bir çalışıyor. Bu üç zil aynı anda çaldıktan en az kaç saat sonra tekrar birlikte çalar?

A) 15 B) 30 C) 60 D) 120

11. $\left(2 : \frac{1}{3}\right) + \left(\frac{1}{2} : \frac{2}{3}\right)$ işleminin sonucu kaçtır?

A) 1 B) $\frac{17}{12}$ C) $\frac{19}{3}$ D) $\frac{27}{4}$

12. $\frac{3}{8}$ kesri aşağıdaki ondalık kesirlerden hangisine eşittir?

A) 0,375 B) 3,75 C) 37,55 D) 375,5


13. 10,0013 ondalık kesrinin okunuşu aşağıdakilerden hangisidir?

A) On tam binde on üç
B) On tam on binde on üç
C) On tam yüzde on üç
D) On tam yüz binde on üç

14. $0,3024 + 0,6$ işleminin sonucu kaçtır?

A) 0,9024 B) 0,3624 C) 0,3084 D) 0,303

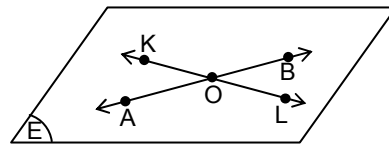
- 15.



Yukarıdaki şeklin sembolle gösterilişi aşağıdakilerden hangisidir?

A) [AB] B) [BA] C) [AB] D) AB

- 16.



Şekle göre, aşağıdakilerden hangisindeki noktalar doğrusaldır?

A) A, O, L B) A, O, K
C) K, O, B D) K, O, L

2. OTURUM

17. Komşu bütünler iki açıdan birinin ölçüsü, diğerinin ölçüsünün üç katından 20° fazladır. Buna göre, küçük olan açının ölçüsü kaç derecedir?

- A) 30 B) 40 C) 50 D) 60

18. 7 hm 6 dam 5 m kaç kilometredir?

- A) 0,0765 B) 0,765 C) 765 D) 7065

19. Aşağıdakilerden hangisindeki oranlar bir orantı oluşturur?

- A) $\frac{4}{7}$ ile $\frac{12}{14}$ B) $\frac{5}{11}$ ile $\frac{15}{44}$
C) $\frac{3}{4}$ ile $\frac{15}{24}$ D) $\frac{4}{5}$ ile $\frac{20}{25}$

20. Bir dikdörtgenin kısa kenarının uzun kenarına oranı $\frac{7}{10}$ dur. Bu dikdörtgenin kısa kenarı 21 cm olduğuna göre, uzun kenarı kaç cm'dir?

- A) 24 B) 30 C) 32 D) 38

İNGİLİZCE - 6

1. – 7. sorularda boş bırakılan yerlere uygun düşen sözcük veya ifadeyi bulunuz.

1. A: do you help your mother with the housework?

B: I always help her

- A) How many B) Where
C) How often D) Which

2. Mary is interested in sports. She likes

- A) washing the dishes.
B) cleaning the garage.
C) mending the shoes.
D) playing tennis.

3. Jane: Oh, That's a lovely pullover.?

Salesman: It is £ 20



- A) How much is it? B) What time is it?
C) What is this? D) Where is it?

4. Where is the rabbit?
The rabbit is the hat?



- A) under B) in
C) behind D) between

5.



21.00

Verilen resimde hangi selamlaşma ifadesi kullanılır?

- A) Good evening B) Good afternoon
C) Good morning D) Good bye

6. A:?

B: He is Turkish.

- A) How old is Ali?
B) What is his name?
C) What time is it?
D) What nationality is Ali?

7. A: What are these?

B: They are



- A) dogs B) tables C) books D) pencils

8. ve 9. soruları aşağıda verilen resme göre cevaplayınız.



8. Verilen resme göre aşağıdaki ifadelerden hangisi yanlıştır?

- A) There are two loaves of bread.
B) There are some apples.
C) There are some eggs.
D) There is some water.

9. How many kilos of rice are there?

- A) There are four kilos of apples.
B) There are two kilos of rice.
C) There is some cheese.
D) There is some milk in the bottle.

2. OTURUM

10. ve 11. soruları aşağıda verilen resme göre cevaplayınız.



10. Where is Carol from?

- A) She is eleven years old.
- B) She is a student.
- C) She is from England.
- D) Her name is Carol.

11. Is Carol twelve years old?

- A) Yes, she is twelve.
- B) No, she isn't. She is eleven.
- C) Yes, she is a student.
- D) No, she isn't from Turkey.

12. What is that?



- A) It is a ball.
- B) It is a table.
- C) It is a plane.
- D) It is a computer.

13. Are they tables or chairs?

- A) They are chairs.
- B) They are tables.
- C) No, they aren't chairs.
- D) Yes, they are tables.



14.



What can Burak do?

- A) He can swim.
- B) He can drive a car.
- C) He can buy a house.
- D) He can wash his suits.

15. What's the weather like?

- A) It's sunny.
- B) It's snowy.
- C) It's windy.
- D) It's rainy.




16. What is he doing?

- A) He is riding a bike.
- B) He is climbing a tree.
- C) He is reading a book.
- D) He is sleeping in his bed.



17. Is Tom young or old?



- A) He is old.
- B) No, he isn't young.
- C) He is young.
- D) Yes, he is old.

18. 11 – 5 – 7 – 4

Verilen rakamların İngilizce karşılıkları aşağıdakilerin hangisinde doğru verilmiştir?

- A) ten – four – five – two
- B) eleven – five – seven – four
- C) one – two – three – four
- D) ten – five – six – eight

19. $10 \div 2 = 5$

Verilen işlemin İngilizce ifadesi aşağıdakilerin hangisinde doğru verilmiştir?

- A) Ten divided by two equals five.
- B) Two plus three equals five.
- C) Ten minus five equals five.
- D) Two multiplied by six equals twelve.

20. What colour is yogurt?

- A) It is black.
- B) It is blue.
- C) It is white.
- D) It is purple.

2. OTURUM

ALMANCA - 6

1. – 11. sorularda boş bırakılan yerlere uygun düşen sözcük veya ifadeyi bulunuz.

1. Guten Tag! Ich Hans.

- A) ist B) sind C) bin D) hat

2. - Wie heissen Sie?

- Ich Peter.

- A) trinke B) heissen C) heisst D) heisse

3. Guten Tag! Mein Name Hans Müller.

- A) ist B) sind C) bin D) bist

4. - Bist du Ahmet?

- Nein, ich nicht Ahmet.

- A) ist B) bin C) bist D) sind

5. - Wie geht es Ihnen?

- Danke, es geht

- A) mir / gut B) gut / mir
C) Danke / viel D) viel / besser

6. - Was machst du?

- Ich Klavier.

- A) spielen B) spielt C) trinke D) spiele

7. - Woher kommst du?

- Ich İstanbul.

- A) in / kommt B) kommen / ins
C) komme / aus D) kommst / nach

8. - Kommst du aus İstanbul?

- Ja, ich komme İstanbul.

- A) in B) zu C) an D) aus

9. Er ist Arzt von Beruf. Er ist 30 Jahre

- A) schön B) alt C) kalt D) gut

10. - Was ist das?

- Das ist die

- A) Haus B) Heft C) Lampe D) Foto

11. - Was ist das?

- Das ist Kind.

- A) eine B) ein C) einen D) einer

12. Hangisinde tekil isim verilmiştir?

- A) die Bücher B) die Lampen
C) die Stühle D) die Tasche

13. Hangisinde çoğul isim verilmiştir?

- A) die Füller B) die Uhr
C) der Stuhl D) das Buch

14. Hangi seçenekte verilen sayının Almanca yazılışı yanlış verilmiştir?

- A) 30 = vierzig B) 11 = elf
C) 10 = zehn D) 20 = zwanzig

15. Aşağıdakilerden hangisi diğerlerine göre farklıdır?


- A) wohnen B) kommen
C) gut D) trinken

16. Sie / ein Glas / Mineralwasser / kann / trinken
1 2 3 4 5

Kurallı cümle oluşturunuz.

- A) 1 / 4 / 2 / 3 / 5 B) 1 / 5 / 2 / 3 / 4
C) 5 / 3 / 1 / 4 / 2 D) 1 / 4 / 5 / 3 / 2

17. Saat kaç göstermektedir?



- A) Es ist viertel vor drei.
B) Es ist viertel nach drei.
C) Es ist drei Uhr.
D) Es ist vier Uhr.

18. Aşağıdaki sözcüklerden hangisinde Türkçe karşılığı yanlıştır?

- A) die Milch = süt B) der Apfel = kayısı
C) das Brot = ekmek D) das Fleisch = et

2. OTURUM

19. "Ich kann im Restaurant essen." cümlesinin Türkçe karşılığı hangisidir?
- A) Restoranda yemek yiyebilirim.
B) Restoranda oturabilirim.
C) Odada oturabilirim.
D) Restoranda oturamam.
20. "Hans saat 8.⁰⁰ kalkmak zorundadır." cümlesinin Almanca karşılığı hangisinde verilmiştir?
- A) Hans kann um 8.⁰⁰ aufstehen.
B) Hans will um 8.⁰⁰ aufstehen.
C) Hans muss um 8.⁰⁰ aufstehen.
D) Hans soll um 8.⁰⁰ aufstehen.

FRANSIZCA - 6

1.- 8. sorularda boş bırakılan yerlere uygun düşen kelime ya da ifadeyi işaretleyiniz.

1. Je vais la boucherie pour acheter de la viande.
- A) aux B) au C) à D) du
2. On visite les pyramides Egypte.
- A) au B) aux C) à D) en
3. hôtel a des chambres confortables.
- A) Cet B) Cette C) Ces D) Ce
4. Mehmet et Ayşe adorent chien et chats.
- A) moi / mon B) leur / leurs
C) lui / sa D) ta / son
5. êtes professeur de français?
- A) Vous B) Nous C) Elle D) Je
6. Tu quel âge?
- A) avez B) avons C) a D) as
7. Je ne pas sorti, j'..... préparé mon examen.
- A) ai / sommes B) avait / suis
C) suis / ai D) êtes / ai

8. Valérie est, elle a les cheveux
- A) gros / court B) brun / noir
C) blond / marron D) brune / noirs
9. "Vous avez dix-neuf ans." cümlesinde altı çizili yazıyla belirtilen rakam aşağıdakilerden hangisidir?
- A) 14 B) 19 C) 17 D) 9
10. "Ils ont des amis." cümlesinin olumsuz hâli aşağıdakilerden hangisidir?
- A) Ils n'ont des amis.
B) Ils n'ont pas les amis.
C) Ils n'ont pas d'amis.
D) Ils n'ont pas des amis.
11. Aşağıdaki cümlelerin hangisinde yakın gelecek zaman (futur proche) kullanılmıştır?
- A) Je suis de Paris.
B) Je vais prendre la chaise.
C) Je travaille beaucoup.
D) Il n'ya pas de problème.
12. "Saat on bire beş var." cümlesinin Fransızca ifadesi aşağıdakilerden hangisidir?
- A) Il est trois heures moins vingt.
B) Il est une heure dix.
C) Il est trois heures cinq.
D) Il est onze heures moins cinq.
13. "Qui est-ce?" sorusunun cevabı aşağıdakilerden hangisidir?
- A) C'est un homme.
B) C'est un cadeau.
C) J'ai envie de voyager.
D) J'apprends le français.

14.- 20. karşılıklı konuşma sorularında boş bırakılan yerlere uygun düşen kelime ya da ifadeyi işaretleyiniz.

14. A: Vous aimez fumer?
B: Non, je
- A) déteste B) sors
C) déjeune D) vais

2. OTURUM

15. A: Tu es d'où?

B:

- A) Je vais bien. B) Elle est maigre.
C) Je suis de Bursa. D) J'habite à Ankara.

16. A: A quelle heure est-ce que tu viens?

B:

- A) Je viens à 10h
B) Elle a un chien
C) Ils ont des copains
D) Je mange de la viande

17. A: Ces photos sont à vos enfants?

B: Oui elles sont à

- A) vous B) moi C) eux D) lui

18. A: Vous aimez aller à l'opera?

B: Oui j' aller à l'opera.

- A) vont B) adore C) habite D) faisons

19. A: Qu'est-ce que tu fais à 7 heures du matin?

B:

- A) Je prends le petit déjeuner.
B) Le musée est en face du parking.
C) Elle a un chien
D) Il est veuf.

20. A: Quand est-ce que tu viens?

B:

- A) Nous faisons des courses.
B) Elle a les cheveux courts.
C) Je viens à midi.
D) Tu as seize ans.

DİN KÜLTÜRÜ ve AHLAK BİLGİSİ - 6

1. Aşağıdakilerden hangisi abdesti bozmaz?

- A) Bayılmak
B) Uyumak
C) Ağız dolusu kusmak
D) Tırnakları kesmek

2. Aşağıdakilerden hangisi boy abdestinin (gusül) farzlarından biri değildir?

- A) Niyet etmek
B) Ağız yıkamak
C) Burnu yıkamak
D) Bütün bedeni yıkamak

3. Namazın, ayaktaiken Kur'an'dan ayet okuma anlamına gelen farzı (kılınış şartı) aşağıdakilerden hangisidir?

- A) Kıyam B) Kıraat
C) Rûku D) Secde

4. Bayram namazı ile ilgili aşağıdakilerden hangisi yanlıştır?

- A) Senede iki defa kılınır.
B) Hutbe okunur.
C) Cemaatle kılınır.
D) Farz namazlardandır.

5. Bir günün bütün vakit namazlarını kılan bir kişi kaç rekât farz namaz kılmıştır?

- A) 40 B) 37 C) 17 D) 20

6. Bir insanın zekât vermekle dinen yükümlü olabilmesi için aşağıdaki şartlardan hangisi aranmaz?

- A) Müslüman olmak B) Erkek olmak
C) Akıllı olmak D) Zengin olmak

7. Aşağıdakilerden hangisine zekât verilemez?

- A) Yolda kalmış kimseye
B) Yoksul ve düşkün komşuya
C) Fakir toruna
D) Fakir kardeşe

2. OTURUM

8. Aşağıdaki ibadetlerden hangisi toplumsal yarıdlaşmayı diğerlerine göre daha çok sağlar?

- A) Namaz B) Oruç C) Hac D) Zekât

9. “Ölçü ve tartıda yapanların vay hâline!” (Mutaşifin suresi, 1. ayet)

Bu ayette boş bırakılan yere aşağıdakilerden hangisi gelmelidir?

- A) Hile B) Yalan C) İftira D) Hırsızlık

10. Bir kimsenin yüzüne karşı söylendiğinde hoşlanmayacağı kusurlarının arkasından söylenmesine ne denir?

- A) Alay B) Kötü zan
C) İftira D) Gıybet

11. “... Vemin şerri hâsidin izâ hased.”

Yukarıdaki ayet hangi surededir?

- A) Felak B) Nas C) Kevser D) Nasr

12. İnsanlar arasında dostluk ve kardeşliği artırma-
da aşağıdakilerden hangisinin katkısı olmaz?

- A) Selam verme B) Yardım etme
C) Haset etme D) Hediye verme

13. Allah’tan melek vasıtasıyla Hz. Muhammed’e gelen vahiyleri yazanlara ne denir?

- A) Sahabe B) Cebrail
C) Kirâmen Kâtibin D) Vahiy Kâtipleri

14. Kur’an-ı Kerim’de aşağıdakilerden hangisi bulunmaz?

- A) Geçmiş milletlerin hayatları ile ilgili konular
B) İnsanın ve kâinatın yaratılışı
C) Bilimsel teorilerle ilgili ayrıntılı bilgiler
D) İbadetlerle ilgili ayetler

15. Bütün ilahî kitaplarda içki, uyuşturucu kullanımı, kumar ve adam öldürme gibi kötü alışkanlıklar yasaklanmış, güzel ahlak sahibi olma öğütlenmiştir.

Yukarıdaki paragraftan aşağıdaki hükümlerden hangisi çıkarılabilir?

- A) Kaynağı ilahî kitap olan dinlere ilahî dinler denir.
B) Kutsal kitaplar insanlığı iyiye, güzele, doğruya yöneltmek istemektedir.
C) İlahî kitaplar bozulmadan günümüze kadar gelmiştir.
D) İlahî kitaplarda inançla ilgili farklı bilgiler verilir.

16. Aşağıdakilerden hangisi cahiliye dönemi (Arap toplumunun) âdetlerinden değildir?

- A) Puta tapmak B) Zina etmek
C) Ateşe tapmak D) Tefecilik

17. Peygamberimiz (s.a.v), Hira mağarasında ilk vahiy geldiğinde çok heyecanlanmış ve endişelenmişti. Onu “Sen hiç korkma. Çünkü sen bütün insanları derin bir sevgi ile sevdin, çevrene iyi davrandın, hısım ve akrabayı kolladın, misafiri ağırladın. Allah iyi kulunu hiç üzer mi?” sözleriyle rahatlatıp, teselli eden kimdir?

- A) Hz. Ebu Bekir B) Hz. Aişe
C) Hz. Ali D) Hz. Hatice

18. Mekke’den Medine’ye hicret edenlere, onlara kucak açıp yardım eden Medineli Müslümanlara da denir.

Yukarıdaki boşluklara gelmesi gereken kelimeler hangi seçenekte sırasıyla verilmiştir?

- A) Ensar – Muhacir B) Ensar – Şüheda
C) Muhacir – Ensar D) Kabile – Sahabi

19. Peygamberimizin Medine’ye hicret yolculuğu esnasında yaptırdığı mescid hangisidir?

- A) Kubâ Mescidi B) Mescidi Nebevi
C) Kibleteyn Mescidi D) Mescidi Haram

20. Hz. Muhammed’in vefat ettiği yaş ve yer aşağıdakilerden hangisinde doğru olarak verilmiştir?

- A) 61 – Mekke B) 63 – Medine
C) 60 – Medine D) 63 – Mekke

2. OTURUM

TRAFİK ve İLK YARDIM - 6

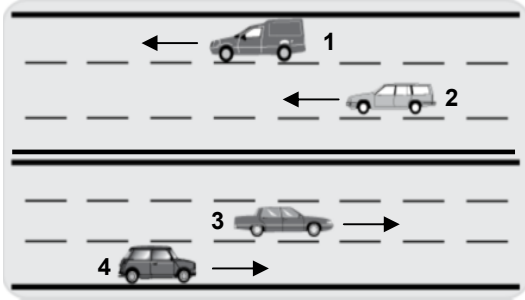
1.

PILOT	MAKİNİST	KAPTAN	ŞOFÖR
↓	↓	↓	↓
Uçak	?	Gemi	Otobüs

“?” işareti yerine aşağıdakilerden hangisinin yazılması uygun olur?

- A) Feribot B) Kamyon
C) Tren D) Helikopter

2.



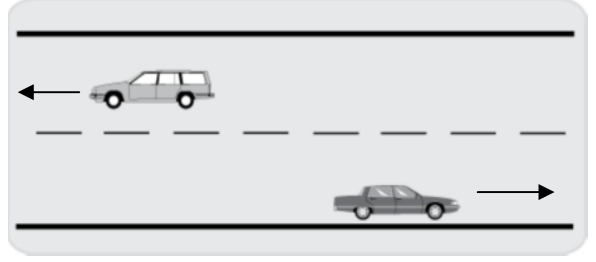
Şekle göre aşağıdakilerden hangisinin yapılması yasaktır?

- A) 1 ve 2 numaralı taşıtların aynı şeritte seyretmeleri
B) 2 numaralı taşıtın 1 numaralı taşıtı geçmesi
C) 3 ve 4 numaralı taşıtların aynı şeritte seyretmeleri
D) 3 numaralı taşıtın 2 numaralı taşıtın bulunduğu yola geçmesi

3. Aşağıdakilerden hangisi hava yolu taşıtlarındandır?

- A) Şilep B) Helikopter
C) Tramvay D) Vapur

4.



Şekildeki taşıtların bulunduğu kara yoluna ne denir?

- A) İki yönlü kara yolu
B) Erişme kontrollü kara yolu
C) Bağlantı yolu
D) Bölünmüş kara yolu

5. Aşağıdakilerden hangisi yasal sınırı aşacak kadar alkol alan sürücüyeye uygulanır?

- A) İlk tespit ise sadece para cezası
B) Hafif hapis ve ağır para cezası
C) Araç kullanmaktan men etmek
D) Sürücü belgesine süresiz el koymak

6. Aşağıdakilerden hangisi insan gücüyle çalışan motorsuz araçtır?

- A) Şilep B) Kağnı C) Tren D) Bisiklet

7. Kara yolunun genellikle taşıtlarca kullanılan kısmına ne denir?

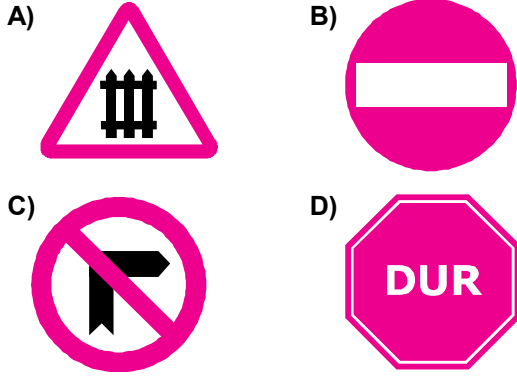
- A) Tali yol B) Bağlantı yolu
C) Taşıt yolu D) Banket

8. Taşıtlara yeşil ışık yanarken, yayaların aşağıdakilerden hangisini yapması doğrudur?

- A) Yol boş ise karşıya geçmeleri
B) Yayalara yeşil ışık yanıncaya kadar beklemeleri
C) Toplu olarak karşıya geçmeleri
D) Araçlar yavaş seyrediyorsa hızlıca karşıya geçmeleri

2. OTURUM

9. Aşağıdakilerden hangisi tehlike uyarı işaret levhasıdır?



10. Işıklı işaret cihazında, taşıtlara yönelik ışık kırmızı renkte ise yayalara yönelik olan hangi renkte olur?

- A) Yeşil B) Sarı
C) Kırmızı D) Sarı ve kırmızı

11. Yayaların hangi davranışı, karanlıkta sürücülere görünmeye yöneliktir?

- A) Karşıya geçerken grup hâlinde yürümeleri
B) Gidiş yönüne göre sol banketten yürümeleri
C) Açık renk giysi giymeleri
D) Karşıya geçişlerde alt veya üst geçitleri kullanmaları

12. Aşağıdakilerden hangisinin kazadan hemen sonra yapılması uygundur?

- A) Kaza yeri güvenliğinin sağlanması
B) İlk yardımın öncelikle kazaya karışan sürücülere uygulanması
C) Kaza yerinden en kısa sürede uzaklaşılması
D) Trafik görevlileri gelinceye kadar ilk yardım önlemlerine başlanılmaması

13. Aşağıdakilerden hangisi erkek bisikletinde bulunup, kız bisikletinde bulunmaz?

- A) Sele borusu B) Gidon kolu
C) Kadro denilen boru D) Sele

14. Aşağıdakilerden hangisi trafik kurallarına uygun bir davranış değildir?

- A) Bisikleti ile döneceği yolu el işareti ile önceden belirtmek
B) Taşıtlara asılarak bisiklet sürmek
C) Bisikletini, bisiklet yolunun en sağ kısmından sürmek
D) Yaya geçitlerinden bisikletine binmeden yürüyerek geçmek

15. Aşağıdakilerden hangisi, sürücüye bağlı kaza nedenleri arasında yer almaz?

- A) Öndeki aracı çok yakından takip etmek
B) Sürücü belgesi olmadan taşıt kullanmak
C) Hatalı sollama yapmak
D) Lastik patlaması sonucu taşıtın dengesini kaybetmek

16. Aşağıdakilerden hangisi trafik kazasına neden olabilir?

- A) Kaldırımlarda grup hâlinde yürünmemesi
B) İlk geçiş hakkına uyulması
C) Öndeki aracın uygun mesafeden takip edilmemesi
D) Yük üzerinde yolculuk yapılmaması

17. Yayaların hangi davranışı kazaya neden olabilir?

- A) Yaya yolundan yürümeleri
B) Taşıt yolunda grup hâlinde yürümeleri
C) Trafik görevlisinin kararlarına uymaları
D) Kırmızı ışık yanarken beklemeleri

18. Aşağıdakilerden hangileri ilk yardımın amaçlarındandır?

- I- Yaralıların güvenliğini sağlamak.
II- Kaza yerinde hayat kurtarıcı yardımlar yapmak.
III- Trafik kazasını ilgili birimlere haber vermek.

- A) Yalnız I B) I – II C) II – III D) I – II – III

19. Aşağıdakilerden hangisinin araçlardaki ilk yardım çantasında bulunması gerekir?

- A) Esmark bandı B) Telefon rehberi
C) Battaniye D) El lambası

20. Aşağıdakilerden hangisi şok durumundaki yaralıya uygulanır?

- A) Yüzükoyun yatırarak masaj yapmak
B) Cesaret verici konuşmalar yapmak
C) Ağızdan ağza suni teneffüs yapmak
D) Yaralının başını soğuk su ile yıkamak

2. OTURUM

MATEMATİK - 8

1. $2,\overline{009}$ devirli ondalık kesrinin rasyonel sayı olarak yazılışı aşağıdakilerden hangisidir?

- A) $\frac{1989}{990}$ B) $\frac{2007}{990}$ C) $\frac{1999}{99}$ D) $\frac{2000}{99}$

2. $\frac{3}{10} + \frac{5}{12} - \frac{7}{15}$ işleminin sonucu kaçtır?

- A) $\frac{1}{5}$ B) $\frac{1}{4}$ C) $\frac{3}{10}$ D) $\frac{5}{12}$

3. $\frac{5}{3 - \frac{1}{2}}$ işleminin sonucu kaçtır?

- A) $\frac{25}{2}$ B) 2 C) $\frac{1}{2}$ D) $\frac{2}{25}$

4. $(-3)^2 + (-2)^3$ işleminin sonucu kaçtır?

- A) -17 B) -12 C) 0 D) 1

5. $\sqrt{\frac{5}{8}} \cdot \sqrt{\frac{2}{5}}$ işleminin sonucu kaçtır?

- A) $\frac{1}{2}$ B) $\frac{2}{3}$ C) $\frac{3}{5}$ D) $\frac{3}{4}$

6. $\frac{48a^4b^5c^2}{12a^3b^3c}$ ifadesinin en sade şekli aşağıdakilerden hangisidir?

- A) $12abc^2$ B) $12ab^2c$ C) $4ab^2c$ D) $4ab^2c^2$

7. Aşağıdakilerden hangisi $\frac{1}{9}x^2y^2 - 4$ ifadesinin çarpanlarından biridir?

- A) $\frac{1}{3}x^2y^2$ B) $\frac{1}{9}xy - 2$
C) $\frac{1}{9}xy$ D) $\frac{1}{3}xy + 2$

8. $\frac{3x+4}{3} - \frac{2x+5}{4} = \frac{5}{6}$ denkleminin çözüm kümesi aşağıdakilerden hangisidir?

- A) $\left\{-\frac{7}{2}\right\}$ B) $\{-1\}$ C) $\left\{\frac{1}{6}\right\}$ D) $\left\{\frac{3}{2}\right\}$

9. İki sayının toplamı 53, farkı 15 olduğuna göre, bu sayılardan küçük olanı kaçtır?

- A) 19 B) 24 C) 34 D) 38

10. 2 ile 32'nin geometrik ortası aşağıdakilerden hangisidir?

- A) 4 B) 8 C) 12 D) 16

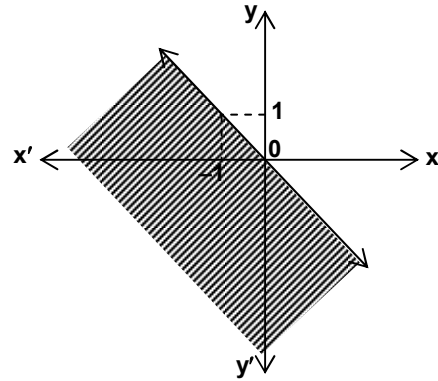
11. Bir ABC dik üçgeninde $\sin \hat{A} = \frac{3}{5}$ olduğuna göre, $\tan \hat{A}$ kaçtır?

- A) $\frac{1}{3}$ B) $\frac{2}{3}$ C) $\frac{3}{4}$ D) $\frac{4}{5}$

12. Orijinden ve A(2, 4) noktasından geçen doğrunun eğimi aşağıdakilerden hangisidir?

- A) $\frac{1}{2}$ B) 1 C) 2 D) 4

13.



Yukarıdaki grafikte taralı olarak verilen bölge, aşağıdaki eşitsizliklerden hangisinin çözüm kümesidir?

- A) $x \geq y$ B) $x < y$ C) $x > y$ D) $x \leq y$

14. 5 farklı kitap bir rafa kaç farklı biçimde dizilebilir?

- A) 24 B) 64 C) 120 D) 720

2. OTURUM

15. Bir torbada 4 kırmızı ve 8 yeşil elma vardır. Bu torbadan rastgele çekilen 1 elmanın kırmızı renkte olma olasılığı nedir?

- A) $\frac{1}{3}$ B) $\frac{1}{2}$ C) $\frac{2}{3}$ D) $\frac{3}{4}$

16. Alanı $28,26 \text{ cm}^2$ olan dairenin çevresi kaç cm'dir? (π 'yi 3,14 alınız.)

- A) 12,56 B) 18,84 C) 25,12 D) 31,4

17. Bir dikdörtgenler prizmasının hacmi 240 cm^3 tür. Bu prizmanın taban ayrıtları 6 cm ve 8 cm olduğuna göre, yüksekliği kaç cm'dir?

- A) 5 B) 6 C) 7 D) 8

18. Cisim köşegen uzunluğu $6\sqrt{3}$ cm olan küpün hacmi kaç cm^3 tür?

- A) 108 B) 124 C) 216 D) 232

19. Çapı 6 cm olan kürenin hacmi kaç cm^3 tür? (π 'yi 3 alınız.)

- A) 81 B) 108 C) 243 D) 324

20. Bir şoför 4 günde bir sefere çıkıyor. İlk seferine çarşamba günü çıkan bu şoför 9. seferine hangi gün çıkar?

- A) Pazartesi B) Perşembe
C) Cuma D) Pazar

T.C. İNK. TARİHİ ve ATATÜRKÇÜLÜK - 8

1. Fransız İhtilali ile yayılan fikirlerden hangisi, millî devletlerin kurulmasında en çok etkili olmuştur?

- A) Adalet B) Milliyetçilik
C) Demokrasi D) Hürriyet

2. Aşağıdaki bilgilerden hangisi yanlıştır?

- A) Bir ülkede yurttaşların zararına olarak yabancılara verilen ayrıcalık haklarına kapitülasyon denir.
B) İlk Osmanlı anayasası Kanunuesasi'dir.
C) İkinci Meşrutiyet 1876'da Sultan Abdülaziz tarafından ilan edilmiştir.
D) Trablusgarp Savaşı sonunda Uşi Antlaşması imzalanmıştır.

3. Mustafa Kemal Arıburnu, Conkbayırı ve Anafartalar'da zafer kazanan birliklere komuta etti. Düşman kuvvetleri Gelibolu Yarımadası'nı boşaltmak zorunda kaldılar. Rusya'da ihtilal oldu ve çarlık rejimi devrildi.

Verilen gelişmeler aşağıdaki cephelerden hangisiyle ilgilidir?

- A) Çanakkale B) Suriye – Filistin
C) Galicya D) Irak

4. Aşağıdakilerden hangisi azınlıkların kurduğu zararlı cemiyetlerden biridir?

- A) Trakya - Paşaeli Müdafaa - i Hukuk Cemiyeti
B) Mavri Mira Cemiyeti
C) Kilikyalılar Cemiyeti
D) Sulh ve Selâmet - i Osmaniye Fırkası

5. Atatürk'ün temel hayat görüşünü, aşağıdakilerden hangisi oluşturur?

- A) Birleştirme ve bütünleştirme gücü
B) İnsan ve tabiat sevgisi
C) Çok yönlülük
D) Akılcılık ve bilimsellik

6. Atatürk'ün en büyük eseri, aşağıdakilerden hangisidir?

- A) Nutuk
B) Türkiye Cumhuriyeti
C) Geometri Kitabı
D) Vatandaşlık Bilgileri Kitabı

2. OTURUM

7. Aşağıdakilerden hangisi Kurtuluş Savaşı için atılmış ilk adımdır?
- A) Sivas Kongresi B) Erzurum Kongresi
C) Amasya Genelgesi D) Misakımillî
8. Temsil Heyeti ilk kez aşağıdakilerden hangisinde oluşturulmuştur?
- A) Erzurum Kongresi'nde
B) Amasya Genelgesi'nde
C) Misakımillî'de
D) Sivas Kongresi'nde
9. 23 Nisan 1920'de açılan TBMM'de aşağıdakilerden hangisi meclis başkanı seçilmiştir?
- A) İsmet Paşa B) Fevzi Paşa
C) Refet Paşa D) Mustafa Kemal Paşa
10. "Anadolu ve Rumeli Müdafaa-i Hukuk Cemiyeti" aşağıdakilerden hangisinde kurulmuştur?
- A) Sivas Kongresi'nde
B) Erzurum Kongresi'nde
C) Amasya Genelgesi'nde
D) Sevr Antlaşması'nda
11. Güney Cephesi'nde Fransızlarla yapılan savaşlar, aşağıdaki antlaşmalardan hangisiyle sona ermiştir?
- A) Sevr B) Gümrü C) Kars D) Ankara
12. Saltanatın kaldırılış tarihi, aşağıdakilerden hangisidir?
- A) 29 Ekim 1923 B) 1 Kasım 1922
C) 23 Nisan 1920 D) 19 Mayıs 1919
13. Aşağıdakilerden hangisi, eğitim alanında yapılan bir inkılap değildir?
- A) Medreselerin kaldırılması
B) Miladi takvimin kabulü
C) Yeni Türk harflerinin kabulü
D) Tevhid - i Tedrisat Kanunu'nun çıkarılması
14. Aşağıdakilerden hangisi, din kurumlarının düzenlenmesi amacıyla yapılan bir inkılaptır?
- A) Tekke, zaviye ve türbelerin kapatılması
B) Medeni Kanun'un kabul edilmesi
C) Çok partili sisteme geçilmesi
D) Türk Tarih Kurumunun kurulması
15. Aşağıdakilerden hangisi, tarım alanındaki gelişmelerden biri değildir?
- A) Tarımda makineleşmeye hız verilmesi
B) Köylüye ucuz kredi verilmesi
C) Aşar vergisinin kaldırılması
D) Kabotaj Kanunu'nun çıkarılması
16. Boğazların Türk egemenliğine girmesi, aşağıdakilerden hangisi ile sağlanmıştır?
- A) Balkan Antantı
B) Lozan Barış Antlaşması
C) Montrö Sözleşmesi
D) Sâdâbat Paktı
17. Atatürk "Kırk asırlık Türk yurdu düşman elinde esir kalmaz." sözleriyle aşağıdaki illerden hangisinin Türkiye'ye katılması gerektiğini vurgulamıştır?
- A) İstanbul B) Hatay
C) Konya D) Gaziantep
18. Aşağıdakilerden hangisi Atatürk ilke ve inkılaplarının dayandığı esaslar arasında yer almaz?
- A) Millî tarih bilinci
B) Geleneklere bağlılık
C) Bağımsızlık ve özgürlük
D) Egemenliğin millete ait olması
19. Vatandaşların din ve vicdan özgürlüğünün güvencesi olan Atatürk ilkesi, aşağıdakilerden hangisidir?
- A) Laiklik B) Milliyetçilik
C) Halkçılık D) Devletçilik
20. Devletin özel teşebbüsün yanında, ona destek olarak üretime katılmasını öngören Atatürk ilkesi, aşağıdakilerden hangisidir?
- A) Halkçılık B) Cumhuriyetçilik
C) Milliyetçilik D) Devletçilik

2. OTURUM

İNGİLİZCE - 8

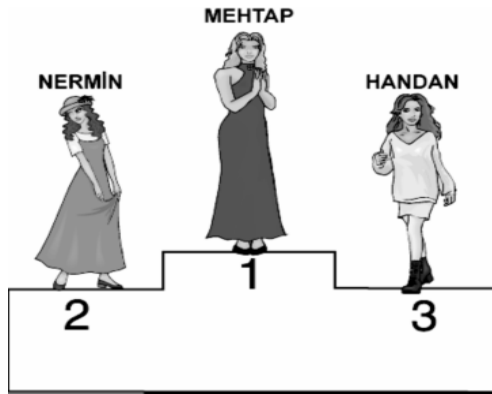
1. – 15. sorularda boş bırakılan yerlere uygun düşen sözcük veya ifadeyi bulunuz.

1. She hasn't come back
A) already B) yet C) ever D) never
2. What is the most film you have ever seen?
A) delicious B) clever
C) handsome D) interesting
3. His phone rang Mehmet was packing his suitcases.
A) because B) so
C) just D) while
4. Are there oranges in the fridge?
A) some B) much C) any D) a lot of
5. Plastic flowers don't good.
A) taste B) smell C) tell D) feel
6. Pilav is made from
A) silk B) rice C) leather D) wood
7. A: happened at school yesterday?
B: Bilge broke his left arm.
A) What B) Who C) When D) Where
8. A: Are there any sandwiches on the plate?
B: Yes, there are
A) any B) much C) many D) some
9. A: are these glasses?
B: They are £ 2.50 each.
A) How many B) How often
C) How much D) How old

10. A: I have been to Venice.
B: Really? When did you go there?
A:
A) I went there with my father
B) I travelled by plane.
C) I went there last year.
D) I visited some museums.
11. A: to the post office?
B: Take the second left, it's on the corner.
A) Do you want to go B) What's the best way
C) Why don't we go D) Shall we go
12. If you have a headache,
A) iron your shirts. B) take an aspirin.
C) sweep the floor. D) turn the TV on.
13. Study hard if you
A) want to be successful
B) need some fresh air
C) feel yourself bad
D) take your umbrella with you
14. An astronaut is a man who
A) travels in space.
B) looks after the patients.
C) sells meat.
D) takes photographs.
15. Scissors are tools which
A) clean houses B) dry hair
C) iron clothes D) cut paper
16. Aşağıda verilen işlemi ifade eden seçeneği bulunuz.
 $6 - 2 = 4$
A) Six minus two equals four.
B) Six plus two equals eight.
C) Six times two equals twelve.
D) Six divided by two equals three.
17. Verilen duruma en uygun öğüt aşağıdaki seçeneklerden hangisidir?
My father has a bad cough.
A) He should work harder.
B) He shouldn't smoke.
C) He should get up early.
D) He shouldn't listen to loud music.

2. OTURUM

18.



Mehtap is more than Nermin.


- A) beautiful B) clever
C) expensive D) luxurious

19. She looks



- A) delicious
B) sad
C) happy
D) worried

20.



This box is too for him to carry.

- A) dark B) small C) heavy D) hot

ALMANCA - 8

1. – 15. sorularda boş bırakılan yerlere uygun düşen sözcük veya ifadeyi bulunuz.

1. - Wie geht es Ihnen?

- Danke,

- A) geht / mir / gut / es B) es / geht / mir / gut
C) es / mir / geht / gut D) mir / geht / gut / es

2. Manfred kommt Bahnhof..... Ankara
.....

- A) in / am / an B) an / am / in
C) in / an / am D) am / in / an

3. Ich Fussball

- A) spiele / kann B) kannst / spielt
C) spielst / können D) kann / spielen

4. A: Können Sie mir den Weg zeigen?

B: Ja, ich kann Ihnen den Wagen

- A) können B) werden
C) zeigen D) fährt

5. Ich gehe ins Kino, ich Zeit habe.

- A) denn B) wenn C) um D) als

6. Ich treibe gern Sport. Ich am liebsten Tennis.

- A) spielte B) spiele C) spielst D) spielen

7. Ich gehe Jeden Sonntag Kino oder
..... Theater.

- A) ins / ins B) ins / zu
C) im / in D) an / aus

8. Das Flugzeug fliegt Frankfurt?

- A) ins B) im C) aus D) nach

9. fährst du nach Köln?

- A) Welche B) Wer C) Wohin D) Was


10. - Warum fährst du nach Köln?

- Ich fahre nach Köln, ich dort arbeiten muss.

- A) damit B) denn C) weil D) wenn

2. OTURUM

11. Ankara ist älter Eskişehir.
A) in B) als C) im D) so
12. Ankara ist schön İstanbul
A) als / wie B) so / wie
C) wie / als D) wie / so
13. Der Schüler spricht dem Lehrer.
A) mit B) ins C) nach D) für
14. - Wo liegt das Buch?
- Das Buch liegt dem Tisch.
A) auf B) ins C) zum D) um
15. Die Wohnung ist schön, aber es hat
A) Langweilig B) Vorschlag
C) Spielt D) Nachteile
16. Hangi ismin artikeli yanlış verilmiştir?
A) Die Tee B) Das Bier
C) Das Ei D) Der Salat
17. Ich / kann / Nachmittag / Klavier / spielen
1 2 3 4 5
Kurallı cümle oluşturunuz.
A) 1 / 3 / 2 / 5 / 4 B) 1 / 2 / 3 / 4 / 5
C) 1 / 3 / 5 / 4 / 2 D) 1 / 3 / 4 / 2 / 5
18. Hangi kelimenin Türkçe karşılığı yanlış verilmiştir?
A) Die Butter = Sana yağı
B) Die Milch = Süt
C) Die Suppe = Çorba
D) Der Honig = Bal
19. Hangisi diğerlerini kapsar?
A) der Januar B) der Dezember
C) der Winter D) der Februar
20. Wie spät ist es?
A) Es ist drei Uhr.
B) Es ist fünf vor vier.
C) Es ist vier Uhr.
D) Es ist fünf nach vier.



FRANSIZCA - 8

1.- 6. sorularda boş bırakılan yerlere uygun düşen kelime ya da ifadeyi işaretleyiniz.

1. Il vers 10 heures du soir.
A) répondons B) se couche
C) sont D) dois
2. En me levant le matin, je prends une douche.
A) rien B) était
C) quand D) d'abord
3. tu es rentré, j'allais sortir.
A) Trop B) Qui C) Mal D) Quand
4. Le soir, au dîner, je prends oeufs ou poisson.
A) de la / des B) du / des
C) des / du D) le / du
5. Ton excuse est que ta faute.
A) laine B) pire C) viande D) nous
6. Elle a mal dents.
A) au B) aux C) le D) du
7. "S'il fait beau, nous (aller) à l'école à pied." cümlesini parantez içindeki fiili kullanarak tamamlayınız.
A) irons B) allez
C) vais D) sommes allés
8. "Tu veux être en forme, (faire) du sport!"
Yukarıda parantez içinde verilen fiili emir kipinde (l'impératif) çekerek cümleyi tamamlayınız.
A) feras B) as fait C) faisais D) fais

2. OTURUM

9. “Quand tu (être) grand, tu (comprendre)!”
Soruda parantez içinde verilen fiilleri gelecek zaman (futur) çekerek cümleyi tamamlayınız.

A) étais / comprenez
B) es / comprends
C) seras / comprendras
D) as / as compris

10. “Ma femme était très coléreuse.” Altı çizili olan fiilin zamanını işaretleyiniz.

A) passé composé B) présent
C) l'imparfait D) futur proche

11. “Hier, je (se coucher) à 20 h, j'étais fatigué.”
Parantez içinde verilen fiili geçmiş zamanda (passé composé) çekerek cümleyi tamamlayınız.

A) s'est couché
B) me suis couché
C) me couche
D) vous vous êtes couchés

12. “Ayşe (faire) sa gymnastique comme tous les jours.” Yukarıda parantez içinde verilen fiili şimdiki zamanda (présent) çekerek cümleyi tamamlayınız.

A) faisait B) fait C) fera D) a fait

13. “Ils ont invité des amis; ces amis sont très sympathiques.” Soruda verilen cümleleri ilgi zamiri (le pronom relatif) kullanarak tek cümle hâline getiriniz.

A) Ils ont invité des amis qui sont très sympathiques
B) Ils se sent bien.
C) Voici des fleurs que j'aime.
D) Ils vivent au centre de la ville.

14. - Il lit son livre
- Il boit du thé

Yukarıda verilen cümleleri Gérondif kullanarak tek cümle hâline getiriniz.

A) Il lit son livre en buvant du thé.
B) Ils ont eu un accident.
C) Ma mère travaille en chantant.
D) Il fait ses exercices en écoutant la radio.

15. Aşağıdaki cümlelerden hangisi karşılaştırma (comparaison) cümlesidir?

A) Nous nous promenons dans le parc.
B) Le médecin est venu hier soir.
C) Il monte l'escalier en courant.
D) Le tigre est aussi fort que le lion.

16. “Evimiz büyük bir bahçenin içindeydi.” cümlesinin Fransızca ifadesi aşağıdakilerden hangisidir?

A) Notre maison était dans un grand jardin.
B) Votre maison est dans un grand jardin.
C) Notre maison est dans un grand jardin.
D) La maison était dans un grand jardin.

17. “Le train de onze heures est déjà passé.

Vous pouvez prendre de midi.”

Altı çizili olan sözcüğe dikkat ederek doğru cevabı işaretleyiniz.

A) celle B) celui C) ceux D) celles

18.-19. karşılıklı konuşma sorularında boş bırakılan yerlere uygun düşen kelime ya da ifadeyi işaretleyiniz.

18. A: Quels films préférez-vous?

B: Les films romantiques je préfère.

A) que B) qui C) celle D) votre

19. A: A quelle heure êtes-vous sortie de chez vous?

B:

A) Il est allé en Italie.
B) Le boulanger vend du pain.
C) Je suis sortie à 4 heures.
D) Je serre la main à mes copains.

20. A: Je vais au cinéma.

B: Qu'est ce qu'il dit?

C:

Yukarıdaki soruya dolaylı anlatım (discours indirect) kullanarak cevap veriniz.

A) Il travaille dans une banque.
B) Ils disent qu'ils vont au cinéma.
C) Il dit qu'il va au cinéma.
D) Il allait à l'école tout seul.

2. OTURUM

TRAFİK ve İLK YARDIM - 8

1. İlk yardımcının hangi davranışı yaralılara zarar verebilir?

- A) Sakin olması
- B) Yaralıları sakinleştirmesi
- C) Panik ve telaşlı olması
- D) Kendisinin ve yaralıların güvenliğini düşünmesi

2. Solunumu duran hastada aşağıdakilerden hangileri gözlenir?

- I- Göz bebeği genişlemesi
- II- Morarma
- III- Bilinç kaybı

- A) Yalnız I
- B) Yalnız III
- C) I – III
- D) I – II – III

3. B sınıfı sürücü belgesi almak isteyen kişi, kaç yaşını bitirmiş olmalıdır?

- A) 17
- B) 18
- C) 19
- D) 22

4. Otobüs şoförleri hangi sınıf sürücü belgesine sahip olmalıdırlar?

- A) A1
- B) C
- C) F
- D) E

5. Hangi özellikteki bisikletin gece sürülmesi kazaya yol açabilir?

- A) Stop lambası çalışır olan
- B) Farı çalışır olan
- C) Hem far hem de stop lambası çalışır olmayan
- D) Arkasında yansıtıcısı olan

6. Bisiklet sürücüsünün oturduğu yere ne denir?

- A) Sele
- B) Gidon
- C) Kadro
- D) Çamurluk

7. İyi bir bisiklet sürücüsü aşağıdakilerden hangisini yapar?

- A) Emniyet kemerini takmadan yola çıkmaz.
- B) Durmadan önce sağ koluyla işaret verir.
- C) Taşıtlara asılarak hareket eder.
- D) Bisikletin hem ön hem de arka kısmında eşya taşır.

8. Sürücünün hangi davranışı kazaya neden olabilir?

- A) Hoşgörüsüz olması
- B) Dinlendikten sonra trafiğe çıkması
- C) Ani karar verebilmesi
- D) Dikkatli olması

9. Aksi yönden gelen taşıtların çarpışması sonucu ölüm, yaralanma ve maddi kayıplar oluşur.

Bu tür kazalarda hangi tedbirin alınmış olması ölüm ve ciddi yaralanmaları en aza indirir?

- A) Emniyet kemerlerinin takılmış olması
- B) Gece trafiğe çıkılıyorsa açık renk giysilerin giyilmesi
- C) Taşıt içerisinde yeterince aydınlatılmış olması
- D) Taşıt lastiklerinin geniş tabanlı olması

10. Hemzemin geçide yaklaşan sürücü nasıl davranmak zorundadır?

- A) Hızı artırmak
- B) Uyarı işareti yoksa durmak
- C) Araç geçişlerini en kısa sürede yapmak
- D) Dörtlü sinyalleri yapmak

11. Aşağıdakilerin hangisinde, sürücü aracının hızını artırır?

- A) Hemzemin geçide yaklaşırken
- B) Kavşağa girerken
- C) Araç geçerken
- D) Tünel veya köprüye yaklaşırken

12. Hatalı davranış gösteren şoför, eleştirileri dikkate almaz ise yolcular nasıl davranmalıdır?

- A) Trafik görevlisine bildirmelidirler.
- B) Şoförü taşıttan indirip tartaklamalıdırlar.
- C) Şoförün hatasını görmesini beklemelidirler.
- D) Şoförün dikkatini dağıtacak davranış göstermelidirler.

13. Kazayı gören sürücü aşağıdakilerden hangisini yapmak zorundadır?

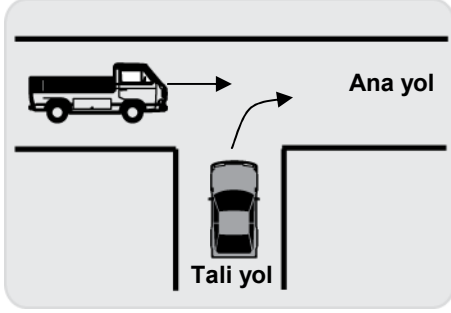
- A) Olay yerinden en kısa sürede uzaklaşmak
- B) İlk yardım önlemlerini almak
- C) Trafiğin akışını durdurmak
- D) Kazaya karışan araçları çekmek

2. OTURUM

14. Aşağıdakilerden hangisi ilk yardım uygulaması sırasında yapılmaz?

- A) Kazaya karışan araçların kontağını kapatmak
- B) Diğer sürücülerin yavaşlamasını sağlayacak önlemler almak
- C) Yaralıların ağrılarını dindirmek için ilaç kullanmak
- D) İlk yardıma durumu en ciddi olandan başlamak

15.



Şekle göre aşağıdakilerden hangisi doğrudur?

- A) Ana yoldaki taşıt, geçiş hakkına sahiptir.
- B) Tali yoldaki taşıt, beklemeden ana yola girmelidir.
- C) Tali yoldaki taşıt, ana yoldaki taşıtı ikaz ederek durdurmalıdır.
- D) Ana yoldaki taşıt, tali yoldaki taşıta yol vermelidir.

16. Aşağıdakilerden hangisi kazalara yol açabilecek bir durumdur?

- A) Okul geçitlerinde görevlilerin olması
- B) Kavşaklarda oklu işaretlerin olması
- C) Kavşaklarda görme ve işitme sinyallerinin bulunması
- D) Trafik işaret levhalarının yetersiz olması

17. Yayaların hangi davranışı trafik kazasına neden olabilir?

- A) Gidiş yönüne göre kaldırımın sağ yarısında yürümeleri
- B) Yolun en geniş kısmından grup hâlinde karşıya geçmeleri
- C) Trafik işaret ve işaretçilerine uymayı alışkanlık hâline getirmeleri
- D) Trafik kurallarına uymayan yayaları ikaz etmeleri

18. Aşağıdakilerden hangisi taşıt plakalarının verilmesinde görev yapar?

- A) İl Millî Eğitim Müdürlüğü
- B) Karayolları Genel Müdürlüğü
- C) Emniyet Genel Müdürlüğü
- D) Eğitim Teknolojileri Genel Müdürlüğü

19. Aşağıdakilerden hangisi fahri müfettiş olmak isteyenlerde aranan şartlardan değildir?

- A) B sınıfı sürücü belgesi sahibi olmak
- B) En az 10 yıllık devlet memuru olmak
- C) Hiç trafik kazası yapmamış olmak
- D) Öğretmen olmak

20. Aşağıdakilerden hangisi Millî Eğitim Bakanlığı'nın görevlerindendir?

- A) Duran ve akan trafiği düzenlemek
- B) Araçların tescil işlerini yapmak
- C) Tescile bağlı araçların muayenelerini yapmak
- D) Resmî ve özel kurslarda eğitilenlerin sınavlarını yapmak

GÜZEL KONUŞMA ve YAZMA - 8

1. Aşağıdaki cümlelerin hangisi düşünce bildirmektedir?

- A) Okul kayıtları bir hafta ertelenmiş.
- B) Kazanmak için yeterince çalışmak gerekir.
- C) Ağaçlı sokağın sonunda oturuyoruz.
- D) Bu sıcaklar yakında son bulacakmış.

2. (1) Toplantımıza hoş geldiniz. (2) Bugün, altı aylık çalışmalarımızın ürünü olan "kalfalık belgeleri"ni almak için bir aradayız. (3) Yeri geldiğinde alçak, yeri geldiğinde de yüksek sesle konuşmalısınız. (4) Bu mutluluğu bizimle paylaşmanız için arkadaşlarımız adına sizlere teşekkür ediyorum.

Yukarıdaki paragrafta numaralandırılmış cümlelerden hangisi anlatımın akışını bozmaktadır?

- A) 1
- B) 2
- C) 3
- D) 4

2. OTURUM

3. Aşağıdaki cümlelerin hangisinde virgül yanlış yerde kullanılmıştır?

- A) Bu geçen arabaların ince, yanık sesli çingirakları var.
- B) Biraz pamuk, yaprağı biraz da mısır, yaprağı aldı.
- C) O, mahalledeki en kısa boylu çocuktur.
- D) Köy çeşmesinden su içtiler, çiçek topladılar.

4. Aşağıdakilerden hangisi hazırlıklı konuşmanın sonunda yapılaklardan biri değildir?

- A) Konuşma planı hazırlanması.
- B) Kısa bir özet yapılması.
- C) Varılmak istenen yargının belirtilmesi.
- D) İyi dilek ve selamların iletilmesi.

5. Sözlü ve yazılı anlatımda, bir şeyin düşüncede canlandırılacak biçimde anlatılmasına ne ad verilir?

- A) Ön plan
- B) Betimleme
- C) Deyim
- D) Öneri

6. Köyün girişindeki kavakların tepelerinde sara- ran yaprakları altın rengine dönüştüren akşam güneşi, ufukta kaybolmak üzereydi. Biraz öte- deki çeşmenin gürül gürül akan suyu, güz güneşinin son ışıklarıyla oynaşıyordu.

Bu paragrafta kullanılan betimleme türü aşağı- dakilerden hangisidir?

- A) Canlı
- B) Olay
- C) Doğa
- D) Kişi

7. Aşağıdakilerden hangisi bir “özdeyiş”tir?

- A) Hayatta en hakiki mürşit ilimdir.
- B) İşleyen demir ısıldar.
- C) Kızım sana söylüyorum, gelinim sen anla.
- D) Çayı görmeden paçaları sıvama.

8. Çocuk olsun, genç olsun, zengin olsun, yoksul olsun, her insanın başarılı olmasında kendine güven duygusu büyük rol oynar. Örnek olarak bir tüccar, zarar ettim diye hayatı kendine zehir ederse ticaret hayatını sürdüremez.

Bu paragrafın başlığı aşağıdakilerden hangi- sidir?

- A) Umuda Yolculuk
- B) Kendine Güven
- C) Bilginin Gücü
- D) Ticaret Hayatı

9. Aşağıdakilerden hangisi bir paragrafın giriş cümlesi olmaz?

- A) “Ne ekersen onu biçersin.” demiş atalarımız.
- B) Güzel bir arkadaşlığın oluşması ve sürmesi için çaba göstermek gerekir.
- C) Bazıları, böyle bir ziyaretin morallerini bozdu- ğunu söylüyorlar.
- D) Başarının anahtarı, kendine güven duygu- sudur.

10. Aşağıdakilerden hangisi bir “öneri” cümlesidir?

- A) Yarın onunla buluşup bu konuyu tartışalım.
- B) Bugün okuldan çıkınca arkadaşıma gidece- ğim.
- C) Karnınızı doyurmadan dışarı çıkmanıza izin veremem.
- D) Dün apartmanın giriş lambasını yaptırmışlar.

11. Aşağıdakilerden hangisi bir atasözüdür?

- A) Üstüne güneş doğmamak.
- B) İliğine işlemek.
- C) Üç aşağı beş yukarı.
- D) Damlaya damlaya göl olur.

12. Olayın yaşandığı ülkedeki insanları ilgilendiren haber türü aşağıdakilerden hangisidir?

- A) Özel
- B) Ulusal
- C) Evrensel
- D) Yerel

13. Aşağıdakilerden hangisi iyi bir televizyon izleyicisinin ya da iyi bir gazete okuyucusunun özelliklerinden biri değildir?

- A) Haberlerin en göze çarpıcı olanlarını izler, okur.
- B) İlgisini çekenleri ayırır.
- C) Ayırdıklarını özenerek okur.
- D) İrdeleyip yorumlayarak, haberden sonuçlar çıkarır.

14. Aşağıdakilerden hangisi evrensel bir haberdir?

- A) Bütün dünyada petrol fiyatları yükselişe geçti.
- B) Bayburt – Araklı yolunun yapımı başladı.
- C) Komşumuz çok güzel bir araba aldı.
- D) Bolu Tüneli hizmete açıldı.

2. OTURUM

TURİZM - 8

15. Aşağıdakilerden hangisi gazeteciliğin temel kurallarından biri değildir?

- A) Doğruluk B) Yansızlık
C) Çabukluk D) Yerellik

16. Aşağıdakilerden hangisi manzum yazının özelliklerinden biri değildir?

- A) Dizelerden oluşur.
B) Kıta isimli bölümleri vardır.
C) Dize sonlarında ses benzeşmesi olabilir.
D) Her dizenin bittiği yere nokta konur.

17. Hey gençlik, gençlik, gençlik
Avarelik günleri...
Ne tatlıdır o yok mu;
Duymamak yokluğunu
Dünyada hiçbir şeyin

Behçet Necatigil

Bu şiirin teması aşağıdakilerden hangisidir?

- A) Avarelik B) Gençlik
C) Mutluluk D) Zenginlik

18. Aşağıdakilerden hangisi okuyucunun kendi duygularını katarak şiiri açıklamasıdır?

- A) Şiir yazmak
B) Şiir defterini tutmak
C) Şiiri düz yazıya çevirmek
D) Şiiri yorumlamak

19. Çoğumuza şiir yazmak zor gelir. Bunun nedeni, kendimiz için değil, başkaları için şiir yazma çabamızdır. Kendi duygularımızı ve kendi düşüncelerimizi yine kendi beğeni ölçülerimizle şiirleştirmeliyiz. Yazdığımız şiiri öncelikle kendimiz beğenmeliyiz.

Bu paragrafta boş bırakılan yere aşağıdakilerden hangisi getirilmelidir?

- A) Şiir bir edebî yazıdır.
B) Herkes şiir yazmalıdır.
C) Şiiri kendimiz için yazmalıyız.
D) Yazdığımız şiirleri herkesle paylaşmalıyız.

20. Aşağıdakilerden hangisi şiir ezberlerken uyulması gereken kurallardan biri değildir?

- A) İyice okuyarak yorumlamak
B) Temasını belirlemek
C) Bir defterde toplamak
D) Vurgulara ve tamlamalara özen göstermek

1. Aşağıdakilerden hangisi otelin konaklama bölümünde yer alır?

- A) Müdür ve müdür yardımcıları odaları
B) Ön büro ve kat hizmetleri
C) Ambar, mutfak ve restoran
D) Kuru temizleme ve çamaşırhane

2. Bir yıldızlı oteller en az kaç odadan oluşur?

- A) 10 B) 15 C) 20 D) 25

3. Aşağıdakilerden hangisi motellerde bulunması gereken başlıca özelliklerden değildir?

- A) İyi düzenlenmiş oturma salonu
B) Kapasiteye uygun yeterli otopark
C) Yol ve yön işaretleri
D) Spor gereçleri odaları

4. Spor ve av turizmine yönelik etkinlik gösteren konaklama işletmesi aşağıdakilerden hangisidir?

- A) Otel B) Hotel C) Oberj D) Kamping

5. En küçük konaklama işletmesi aşağıdakilerden hangisidir?

- A) Pansiyon B) Motel
C) Apart otel D) Tatil köyü

6. Turistlerin sinirsel ve bedensel yorgunluklarını giderme, çeşitli rahatsızlıklarını tedavi etme amacı taşıyan turizm işletmesi aşağıdakilerden hangisidir?

- A) Yeme, içme işletmesi
B) Termal turizm işletmesi
C) Kongre ve sergi merkezi
D) Seyahat acentesi ve tur operatörlüğü

7. Turistlere ulaşım, yeme, içme ve eğlence hizmetlerini bir araya getirerek paket tur hâlinde sunan turizm işletmeleri aşağıdakilerden hangisidir?

- A) Konaklama işletmeleri
B) Yeme, içme işletmeleri
C) Turizm kompleksleri
D) Seyahat acenteleri

8. Turizm kompleksleri bünyesinde en az kaç yatak kapasiteli otel bulunmalıdır?

- A) 200 B) 400 C) 500 D) 1000

2. OTURUM

9. Aşağıdakilerden hangisi tur operatörlerinin görevlerinden değildir?
- A) Rezervasyon yapmak
B) Oteldeki işleri düzenlemek
C) Turun planlamasını yapmak
D) Seyahatle ilgili bilgileri vermek
10. Genellikle turistlerin kendi imkânları ile konaklama, yeme, içme, dinlenme, eğlenme ve spor gereksinimlerini karşıladıkları konaklama işletmesi aşağıdakilerden hangisidir?
- A) Otel
B) Oberj
C) Kamping
D) Pansiyon
11. Aşağıdakilerden hangisi ülkemizde turist rehberi olabilmenin gerekli koşullarından değildir?
- A) T.C vatandaşı olmak
B) Yabancı dil sınavını kazanmış olmak
C) 18 yaşını doldurmuş olmak
D) A grubu seyahat acentesi sahibi olmak
12. Aşağıdaki turizm personellerinden hangisi otel odaları ve fiyatları hakkında bilgi sahibi olmak zorundadır?
- A) Resepsiyon memuru
B) Santral memuru
C) Şef garson
D) Mutfak şefi
13. Aşağıdaki otel personellerinden hangisi kat hizmetlerinde çalışan personellerden değildir?
- A) Oda görevlisi
B) Housekeeper
C) Kat şefi
D) Servis şefi
14. Otel mutfaklarında günün yemek listesini belirleyen personel aşağıdakilerden hangisidir?
- A) Aşçı
B) Otel müdürü
C) Mutfak şefi
D) Şef garson
15. Aşağıdakilerden hangisi turizm işletmelerinde halkla ilişkiler personelinin görevlerindendir?
- A) Otelin ve turistlerin güvenliğini sağlamak
B) İşletmenin reklam ve tanıtım işlerini yürütmek
C) Doğal ve kültürel turizm değerlerini tanıtmak
D) Oteldeki tüm birimleri ve çalışmaları denetlemek
16. Turist tercüman rehberlerinin işlerini iyi yaptıklarında, ülke turizmine önemli katkısı aşağıdakilerden hangisidir?
- A) Daha fazla turistin ülkemize gelmelerini sağlamaları
B) Ekonomik gelişmede etkin rol oynamaları
C) Ülkemizin doğal ve kültürel değerlerini tanıtmaları
D) Turistik mal ve hizmetlerin satışlarını kolaylaştırmaları
17. Aşağıdakilerden hangisi turizm sektöründe yapılan reklam ve propagandanın amaçlarından değildir?
- A) Turizm yörelerini tanıtarak bilgi vermek
B) Turizmle ilgili ön yargıların önüne geçmek
C) Turizmin kalkınmada önemli olduğunu benimsetmek
D) Turistik işletmelerin mal ve hizmetlerinin tanıtmak
18. Ülkemizde 1972 yılında kurulan, seyahat acentelerinin oluşturduğu birlik aşağıdakilerden hangisidir?
- A) TÜTAV
B) TÜRSAB
C) TRT
D) TÜİK
19. Turistik mal ve hizmetlerin fiyatları hangi reklam ve tanıtım araçlarında yer alır?
- A) Katalog
B) Broşür
C) Dergi
D) Kartpostal
20. • Gereksiz ve ayrıntılı bilgi verilmemeli
• Turizm değerleri, kroki ile gösterilmeli
• Sayfa sayısı ve ebatları gereğinden fazla olmamalı
• Renkli ve resimli olmalı
- Yukarıda verilen özellikler reklam ve tanıtım araçlarından hangisine özgüdür?
- A) Kartpostal
B) El ilanı
C) Afiş
D) Broşür

TEST BİTTİ.
CEVAPLARINIZI KONTROL EDİNİZ.

Soracağınız bir şey var mı? Varsa şimdi sorunuz; sınav başladıktan sonra sorularınıza cevap verilmeyecektir. Hazır mısınız? Sınav, okulun bütün salonlarında aynı anda başlayacağı için başlama zilini beraberce bekleyelim. Hepinize başarılar dileriz.
(Salon başkanı başlama ve bitiş saatini tahtaya yazacaktır.)

Bu soru kitapçığının her hakkı saklıdır. Hangi amaçla olursa olsun, kitapçığın tamamının veya bir kısmının Millî Eğitim Bakanlığı Eğitim Teknolojileri Genel Müdürlüğü'nün yazılı izni olmadan kopya edilmesi, fotoğraflarının çekilmesi, bilgisayar ortamına alınması, herhangi bir yolla çoğaltılması, yayımlanması veya başka bir amaçla kullanılması yasaktır. Bu yasağa uymayanlar, doğabilecek cezai sorumluluğu ve kitapçığın hazırlanmasındaki malî külfeti peşinen kabullenmiş sayılır.

CEVAP ANAHTARLARI

MATEMATİK - 6	DİN KÜL ve AH. BİLGİSİ . - 6	MATEMATİK - 8	YABANCI DİL. - 8	GÜZEL KONUŞ-MA ve YAZMA -8
1. D 2. A 3. C 4. D 5. C 6. A 7. C 8. B 9. C 10. C 11. D 12. A 13. B 14. A 15. A 16. D 17. B 18. B 19. D 20. B	1. D 2. A 3. B 4. D 5. C 6. B 7. C 8. D 9. A 10. D 11. A 12. C 13. D 14. C 15. B 16. C 17. D 18. C 19. A 20. B	1. A 2. B 3. B 4. D 5. A 6. C 7. D 8. D 9. A 10. B 11. C 12. C 13. İPTAL 14. C 15. A 16. B 17. A 18. C 19. B 20. D	1. B 2. D 3. D 4. C 5. B 6. B 7. A 8. D 9. C 10. C 11. B 12. B 13. A 14. A 15. D 16. A 17. B 18. A 19. C 20. C	1. B 2. C 3. B 4. A 5. B 6. C 7. A 8. B 9. C 10. A 11. D 12. B 13. A 14. A 15. D 16. D 17. B 18. D 19. C 20. C
YABANCI DİL. - 6	TRAFİK ve İLK YARDIM - 6	İNK. TARİHİ ve ATA - 8	TRAFİK ve İLK YARDIM - 8	TURİZM - 8
1. C 2. D 3. A 4. B 5. A 6. D 7. C 8. D 9. B 10. C 11. B 12. D 13. A 14. A 15. C 16. A 17. C 18. B 19. A 20. C	1. C 2. D 3. B 4. A 5. C 6. D 7. C 8. B 9. A 10. A 11. C 12. A 13. C 14. B 15. D 16. C 17. B 18. D 19. A 20. B	1. B 2. C 3. A 4. B 5. D 6. B 7. C 8. A 9. D 10. A 11. D 12. B 13. B 14. A 15. D 16. C 17. B 18. B 19. A 20. D	1. C 2. D 3. B 4. D 5. C 6. A 7. B 8. A 9. A 10. B 11. C 12. A 13. B 14. C 15. A 16. D 17. B 18. C 19. D 20. D	1. B 2. A 3. D 4. C 5. A 6. B 7. D 8. C 9. B 10. C 11. D 12. A 13. D 14. C 15. B 16. A 17. C 18. B 19. A 20. D