



T.C.
MİLLÎ EĞİTİM BAKANLIĞI

i-1

AÇIK İLKÖĞRETİM OKULU
2008-2009 ÖĞRETİM YILI NOT YÜKSELTME SINAVI
1. OTURUM: 16 MAYIS 2009 Saat:10.00

Adayın Adı Soyadı :
Aday Numarası (T.C. Kimlik No) :

DİKKAT: 1. Bu oturumda, **16** derse ait test soruları yer almaktadır.

TÜRKÇE - 6

MATEMATİK - 6

FEN BİLGİSİ - 6

SOSYAL BİLGİLER - 6

DİN KÜL. VE AHLAK BİL - 6

İNGİLİZCE - 6

ALMANCA - 6

FRANSIZCA - 6

TÜRKÇE - 8

MATEMATİK - 8

FEN BİLGİSİ - 8

İNKILAP TARİHİ VE ATATÜRKÇÜLÜK - 8

DİN KÜL. VE AHLAK BİLGİSİ - 8

İNGİLİZCE - 8

ALMANCA - 8

FRANSIZCA - 8

2. Adaylar soru kitapçıklarını kontrol ederek baskı hatası olan kitapçığın değiştirilmesi için sınav başlamadan önce salon sorumlularına başvuracaklardır.

3. Sınavda hesap makinesi, cep telefonu ve çağrı cihazı kullanılması yasaktır. Bu cihazları sınav başlamadan önce salon başkanına teslim ediniz.

CEVAP KÂĞIDI İLE İLGİLİ AÇIKLAMA

1. Cevap kâğıdı üzerine yapacağınız işaretlemelerde kurşunkalemde başka hiçbir kalem kullanmayınız.
2. Verilen cevap kâğıdında yazılı olan bilgilerin size ait olup olmadığını kontrol ediniz. Size ait değilse salon sorumlularına söyleyiniz. Adınıza yazılı cevap kâğıdı bulunamıyorsa veya cevap kâğıdınız kullanılamayacak şekilde bozursa, verilecek olan yedek cevap kâğıdına, kimliğinizle ilgili bilgileri, salon başkanının açıklamalarına göre yazınız.
3. Sınavda tek cevap kâğıdı kullanılacaktır. Cevaplarınızı cevap kâğıdındaki ilgili sütunlara aşağıdaki örnekte olduğu gibi yuvarlağı, dışına taşırmadan işaretleyiniz. Yanlış karalamalarınızı düzeltirken yuvarlağın içini temizce siliniz. Cevap kâğıdınızı buruşturmayınız, katlamayınız ve üzerine gereksiz işaret koymayınız.

ÖRNEK KODLAMA



SORU KİTAPÇIĞI İLE İLGİLİ AÇIKLAMA

1. Her ders için **20** soru bulunmaktadır. Bu oturum için, toplam **150** dakikalık cevaplama süreniz vardır.
NOT: Öğrencinin kaç dersi olursa olsun, isterse bu sürenin tamamını kullanabilir.
2. Her sorunun dört seçeneği vardır. Dört seçenekten sadece bir tanesi doğru cevaptır. Doğru bulduğunuz seçeneği, cevap kâğıdında o soru için ayrılan yerde bularak işaretleyiniz.
3. Size ayrı bir karalama kâğıdı verilmeyecektir. Soru kitapçığının içindeki boş alanları karalama yapmak için kullanabilirsiniz.
4. Puanlamada, her doğru cevaba puan verilecek; yanlış cevaplarınız dikkate alınmayacaktır.
5. Snavın bitiminde cevap kâğıdınızı ve soru kitapçığınızı salon sorumlularına teslim etmeyi unutmayınız.

BAŞLAYINIZ DENİLMEDEN SORU KİTAPÇIĞINI AÇMAYINIZ.

1. OTURUM

TÜRKÇE - 6

1. Aşağıdaki cümlelerin hangisinde, vurgu “akşam” sözcüğündedir?

- A) Akşam dersleri iki hafta sonra başlayacak.
- B) Siparişlerimizi akşama iş yerine bırakırsın.
- C) Günlüğümü çoğu zaman akşam yazarım.
- D) Bu akşam ay tutulması olacakmış.

2. Aşağıdakilerin hangisinde eş anlamlı sözcükler bir arada verilmiştir?

- A) Ciddi - şakacı
- B) Eş - dost
- C) Öğretmen - öğrenci
- D) Okul - mektep

3. Aşağıdakilerden hangisi olay anlatan düz yazılardan biri değildir?

- A) Roman
- B) Makale
- C) Öykü
- D) Masal

4. Aşağıdakilerin hangisinde “Bugün benim yaş günüm.” cümlesindeki “yaş” sözcüğünün eş seslisi vardır?

- A) Gömleğim yaş olduğu için hâlâ ipte asılı.
- B) Ahmet altı yaşında okula yazılmış.
- C) Bu genç yaşta çok büyük işler başardı.
- D) Kardeşim benden tam on yaş küçük.

5. “Mumları masanın üstüne kırmızılı beyazlı dizdim.” cümlesinde büyük ünlü uyumuna uymayan kaç sözcük vardır?

- A) 4
- B) 2
- C) 3
- D) 1

6. Aşağıdaki cümlelerin hangisinde yanlış noktalama işareti kullanılmıştır?

- A) Türk Dil Kurumu, 1932 yılında kurulmuştur.
- B) Ne zaman tükenecek bu yollar, arabacı?
- C) Ne kadar akıllı adamlar var!
- D) Gazeteye bu yazıyı kim göndermiş.

7. Aşağıdakilerden hangisi birleşik sözcük değildir?

- A) Kırıkkale
- B) Ayakkabı
- C) Gözlükçü
- D) Buzdolabı

8. Aşağıdaki cümlelerin hangisinde bir topluluk ismi kullanılmıştır?

- A) Bizim sınıfla pikniğe gideceğiz.
- B) Yolum kenarındaki ağaçları sabah suladım.
- C) Sevincimden ne yapacağımı şaşırdım.
- D) Çocukları, basketbola göndermeyi düşünüyorum.

9. “Sonunda bizim tavşan yakayı ele verdi.” cümlesindeki “el” sözcüğü ismin hangi durumunda kullanılmıştır?

- A) Yalın
- B) Belirtme
- C) Bulunma
- D) Yönelme

10. Aşağıdakilerden hangisi “fabl” türü için söylenemez?

- A) Bir olay yazısıdır.
- B) Tekerlemelerle başlar.
- C) Ders verir.
- D) Kahramanları hayvanlar olabilir.

11. Aşağıdaki altı çizili sözcüklerden hangisi sıfattır?

- A) İzlediğim film, kötünün iyisiydi.
- B) Gönderdiğin mektup çok güzeldi.
- C) Kahraman askerlere herkes selam verdi.
- D) Buraları baharda menekşeler sarar.

12. Aşağıdaki cümlelerin hangisinde “o” sözcüğü zamir olarak kullanılmamıştır?

- A) Onu masanın üstüne yeni koymuşlar.
- B) O, tekvandoda Türkiye birincisi olmuş.
- C) Onu akşam yemeğine davet ettim.
- D) O arkadaşım da gelirse çalışmaya başlarız.

13. Aşağıdakilerin hangisinde ikileme, eş anlamlı kelimelerle oluşturulmuştur?

- A) Dedem güçlü kuvvetli bir adammış.
- B) Burada acı tatlı anılar yaşamıştık.
- C) Uzunlu kısalı yollardan geçerek köye vardık.
- D) Deneylerim aşağı yukarı bir haftaya biter.

14. Çok olun, çocuklar, çok olun,
Yapraklar kadar, bulutlar kadar olun.

El ele verin çocuklar, el ele;
Bütün gündüzler sizin olsun.
Yaşayın dünyayı doya doya;
Çocuklar, çiçekleri umudumuzun.
Ceyhun Atuf Kansu

Bu şiirin teması aşağıdakilerden hangisidir?

- A) Memleket özlemi
- B) Yaşama sevinci
- C) Doğa sevgisi
- D) Gelecek endişesi

1. OTURUM

15. Aşağıdaki cümlelerin hangisinde “ki”nin yazımıyla ilgili bir yanlışlık yapılmıştır?

- A) Dün akşam gelmişki evde kimse yok.
- B) Otoyoldaki kazada çok yaralı varmış.
- C) Arabam bozuldu, seninkini alıyorum.
- D) Bize en arkadaki masayı ayırmışlar.

16. Bilim, teknik, fen, ekonomi, politika gibi konularda yazılan, açıklanan düşüncenin kanıtlandığı köşe yazılarına ne denir?

- A) Fabl
- B) Öykü
- C) Makale
- D) Fıkra

17. “İle” sözcüğü aşağıdaki cümlelerin hangisinde edat olarak kullanılmıştır?

- A) Bize Leyla ile Mecnun hikâyesini anlattı.
- B) Annesi ile babası tatilden dönmüşler.
- C) Ahmet, bahçedeki fidanlar ile uğraşıyor.
- D) Sonbahar mevsiminde ayva ile nar yenir.

18. “Ne zaman köyüne döneceksin?” cümlesindeki fiilin zamanı ve kişisi için aşağıdakilerden hangisi söylenebilir?

- A) Şimdiki zaman, 3. çoğul kişi
- B) Gelecek zaman, 2. tekil kişi
- C) Geçmiş zaman, 1. tekil kişi
- D) Geniş zaman, 2. çoğul kişi

19. “Öyle her ihtiyar gibi, Cabi Efendi sabahtan akşama kadar evinde oturmazdı.” cümlesinin öznesi aşağıdakilerden hangisidir?

- A) Öyle her ihtiyar gibi
- B) Cabi Efendi
- C) Sabahtan akşama kadar
- D) Oturmazdı

20. Karı koca, bu kuzu yüzünden güzel bir kavga ettiler. Ali Usta, bu nefis kuzudan değil, öbür yemeklerden bile ağzına bir lokma koyamadı. Acaba kuzuyu kim göndermişti? Merakından çatlayacaktı. Sabaha kadar uyuyamadı.

Bu paragraf aşağıdaki yazı türlerinden hangisine aittir?

- A) Öykü
- B) Fabl
- C) Makale
- D) Otobiyografi

MATEMATİK - 6

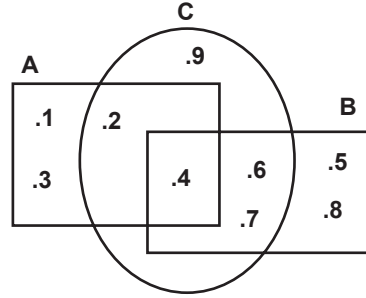
1. Alt küme sayısı 8 olan bir küme kaç elemanlıdır?

- A) 3
- B) 4
- C) 6
- D) 8

2. 32 kişilik bir sınıfta öğrencilerden her biri futbol veya voleybol oynamaktadır. 21 kişi futbol, 15 kişi voleybol oynadığına göre, her ikisini de oynayan kaç kişi vardır?

- A) 3
- B) 4
- C) 5
- D) 6

3.



Yukarıdaki Venn şemasına göre, $(A \cup B) \cap C$ kümesi aşağıdakilerden hangisidir?

- A) {4}
- B) {2, 4, 6, 7, 9}
- C) {2, 4, 6, 7}
- D) {1, 3, 5, 8, 9}

4. “Sekiz milyon sekiz yüz sekiz” sayısının rakamla yazılışı, aşağıdakilerden hangisidir?

- A) 8 800 008
- B) 8 808 000
- C) 8 800 080
- D) 8 000 808

5. Aşağıda verilen sıralamalardan hangisi doğrudur?

- A) $2^6 < 6^2$
- B) $4^3 > 3^4$
- C) $5^0 < 2^1$
- D) $3^2 < 2^3$

6. {4, 1, 7, 0} kümesinin elemanlarıyla yazılabilen rakamları farklı dört basamaklı sayıların en büyüğü ile en küçüğünün toplamı kaçtır?

- A) 8151
- B) 8457
- C) 11715
- D) 12102

7. Yandaki bölme işleminde bölüm kaçtır?

$$\begin{array}{r} 1212 \overline{) 12} \\ \underline{} \\ \end{array}$$

- A) 10
- B) 11
- C) 101
- D) 110

8. Dört basamaklı $25a1$ sayısı 3 ile tam bölünebildiğine göre, a'nın alabileceği kaç farklı değer vardır?

- A) 1
- B) 2
- C) 3
- D) 4

1. OTURUM

9. Uzunlukları 12 m, 15 m ve 21 m olan üç ayrı kumaş eşit parçalara ayrılacaktır. Her bir parçanın uzunluğu en fazla kaç metre olur?

A) 2 B) 3 C) 6 D) 8

10. $\frac{5}{6}, \frac{3}{8}, \frac{7}{12}$ kesirlerinin küçükten büyüğe sıralanışı aşağıdakilerden hangisidir?

A) $\frac{7}{12} < \frac{5}{6} < \frac{3}{8}$ B) $\frac{3}{8} < \frac{5}{6} < \frac{7}{12}$
C) $\frac{5}{6} < \frac{3}{8} < \frac{7}{12}$ D) $\frac{3}{8} < \frac{7}{12} < \frac{5}{6}$

11. 42 kişilik bir sınıfın $\frac{3}{7}$ 'ü kız öğrencidir. Sınıfta kaç tane erkek öğrenci vardır?

A) 18 B) 21 C) 24 D) 27

12. $(3 - \frac{1}{3}) : (3 + \frac{1}{3})$ işleminin sonucu kaçtır?

A) $\frac{10}{3}$ B) $\frac{8}{3}$ C) $\frac{1}{2}$ D) $\frac{4}{5}$


13. $\frac{22}{125}$ kesrinin ondalık açılımı aşağıdakilerden hangisidir?

A) 0,176 B) 1,76 C) 17,6 D) 176

14. $2,4075 + 3,7$ işleminin sonucu kaçtır?

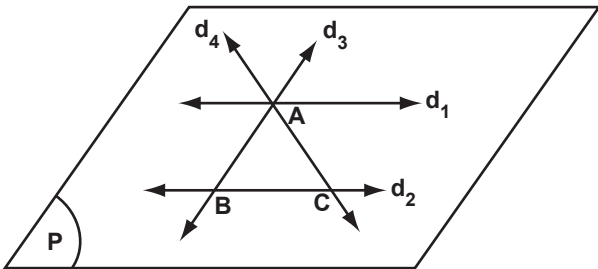
A) 5,1175 B) 6,1075
C) 2,4112 D) 2,7775

15. Yandaki şeklin sembolle gösterilişi aşağıdakilerden hangisidir?



A) [AB] B) [AB C) [BA D) AB

- 16.



Şekle göre, $d_2 \cap d_4$ aşağıdakilerden hangisidir?

A) {A, B} B) {A, C} C) {B} D) {C}

17. Tümler iki açının ölçülerinin birbirine oranı $\frac{7}{11}$ 'dir. Küçük açının ölçüsü kaç derecedir?

A) 25 B) 35 C) 45 D) 55

18. Kenar uzunlukları arasındaki fark 5 cm olan bir dikdörtgenin çevresi 58 cm olduğuna göre, bu dikdörtgenin kısa kenarı kaç santimetredir?

A) 12 B) 14 C) 16 D) 18

19. Yüksekliği 3 m, hacmi 174 m^3 olan dikdörtgenler prizması şeklindeki bir su deposunun taban alanı kaç metrekaredir?

A) 52 B) 54 C) 56 D) 58

20. Aynı nitelikteki 6 işçi bir günde 3 m^2 halı dokursa, bu işçilerden 4'ü bir günde kaç metrekarelik halı dokur?

A) 2 B) 3 C) 4 D) 6

FEN BİLGİSİ - 6

1. Elektroskop kullanarak aşağıdakilerden hangileri ile ilgili bilgi ediniz?

I- Cismin yüklü olup olmadığı

II- Cismin elektrik yük cinsi

III- Cismin yük miktarı

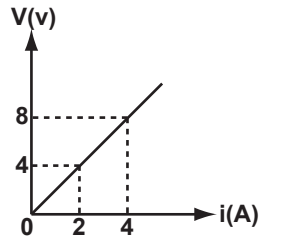
A) Yalnız I B) Yalnız II C) I - II D) II - III

2. İpek kumaşa sürtülen cam çubuk elektriklenir. İpek kumaş ve cam çubuğun yük cinsleri hangisinde doğru olarak verilmiştir?

	İpek Kumaş	Cam Çubuk
A)	-	+
B)	+	+
C)	+	-
D)	-	-

3. V-i grafiği verilen elektrik devresinin direnci kaç Ω 'dur?

A) 1 B) 2
C) 4 D) 8



1. OTURUM

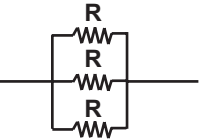
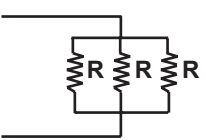
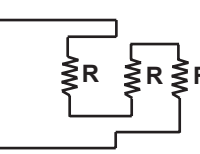
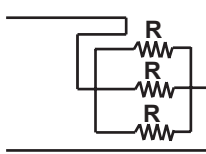
4. Bir elektrik devresindeki “kapalı anahtar”ın sembolik gösterimi hangisidir?

- A)  B) 
C)  D) 

5. Bir iletkenin uzunluğunu değiştirmeksizin kesit alanını yarıya indirdiğimizde direnç, ilk duruma göre nasıl değişir?

- A) 2 kat artar B) 2 kat azalır
C) 4 kat artar D) 4 kat azalır

6. Hangisindeki dirençler seri bağlanmıştır?

- A)  B) 
C)  D) 

7. Akümülatörler aşağıdakilerden hangilerinde kullanılır?

- I- Otomobiller
II- Uçaklarda
III- Saatlerde

- A) Yalnız I B) I - II
C) I - III D) II - III

8. Güneş pilleri aşağıdaki araçların hangilerinde kullanılır?

- I- Fotoğraf makineleri
II- Hesap makineleri
III- Uzay araçları

- A) Yalnız I B) Yalnız II
C) I - III D) I - II - III

9. Gökadaların yapılarına göre isimleri aşağıdakilerden hangileridir?

- I- Eliptik
II- Sarmal
III- Düzensiz

- A) Yalnız I B) Yalnız II
C) I - III D) I - II - III

10. Yeni oluşan yıldız, milyonlarca yıl parladıktan sonra soğumaya ve genişlemeye başlar. Yıldız bu evrede, aşağıdakilerden hangisi ile adlandırılır?

- A) Kırmızı dev B) Nebula
C) Beyaz cüce D) Süpernova

11. Yıldızla benzeyen küçük gezegenlere verilen isim hangisidir?

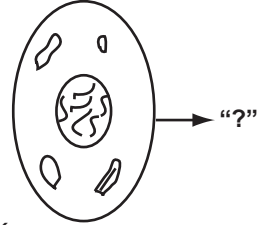
- A) Gök taşı B) Meteor
C) Asteroit D) Nebula

12. Aşağıdakilerden hangileri yapay uydudur?

- I- Meteoroloji uyduları
II- Gözlem uyduları
III- Haberleşme uyduları

- A) Yalnız I B) Yalnız III
C) I - II D) I - II - III

13. Şekilde verilen hayvan hücresinde “?” ile gösterilen kısmın görevi aşağıdakilerden hangisidir?



- A) Atık maddeleri depolamak
B) Hücreyi yönetmek
C) Hücreyi dış etkilere korumak
D) Enerji üretmek

14. Bitkilerde büyüme noktası denilen yapı hangi dokuda bulunur?

- A) Meristem doku B) Koruyucu doku
C) İletim doku D) Destek doku

15. Aşağıdakilerden hangisi elma ağacı ile eğrelti otunun ortak özelliklerindendir?

- A) Sporla üreme B) Damarlı olma
C) Tohum oluşturma D) Kurak ortamda yaşama

16.



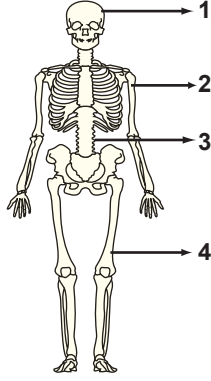
Yukarıda verilen besin zincirindeki canlılardan hangisi hem etle hem otla beslenir?

- A) Ardiç kuşu B) Tavşan
C) Tılsı D) Salyangoz

1. OTURUM

17. Şekilde verilen sistemde, kaç numaralı kemikler akyuvar üretiminde görevlidir?

- A) Yalnız 1
- B) Yalnız 2
- C) 1 - 3
- D) 2 - 4



18. Kan grubu AB olan bir insan, gerektiğinde aşağıdaki-lerin hangisine kan verebilir?

- A) A
- B) B
- C) AB
- D) 0

19. • Yeterli miktarda su içmek
• Vücudu ısıtmamak
• Aşırı baharatlı ve aşırı tuzlu besinleri yememek
Yukarıdaki tedbirler öncelikle hangi sistemin sağlığı için gereklidir?

- A) Dolaşım sistemi
- B) Boşaltım sistemi
- C) Solunum sistemi
- D) Sinir sistemi


20. Aşağıdakilerden hangisi derinin görevlerinden değil-dir?

- A) Terleme yolu ile boşaltıma yardımcı olmak
- B) Gözenekleriyle solunuma yardımcı olmak
- C) Organları dış etkilere korumak
- D) Kan dolaşımını sağlamak

SOSYAL BİLGİLER - 6

1. I- Anadolu'nun kapılarının Türklere açılması
II- Anadolu'nun Türk yurdu olmasının kesinleşmesi
Yukarıdaki gelişmeler, hangi iki devlet döneminde gerçekleşmiştir?
A) Büyük Selçuklular - Osmanlı Devleti
B) Anadolu Selçukluları - Timurîlular
C) Büyük Selçuklular - Anadolu Selçukluları
D) Osmanlı Devleti - Akkoyunlular
2. Türkiye Selçukluları Döneminde ilk denizasıırı sefer, aşağıdaki yerlerden hangisine yapılmıştır?
A) Girit B) Suğdak C) Mora D) Kıbrıs
3. Akkoyunlu Devleti ile ilgili aşağıdaki bilgilerden hangisi doğrudur?
A) Merkezi Diyarbakır'dır.
B) Hâkimiyetine Karakoyunlular son vermiştir.
C) En önemli hükümdarları Bayram Hoca'dır.
D) Osmanlılarla Maltepe Savaşı'nı yapmıştır.
4. Babür hükümdarı Şah Cihan'ın ölen eşi için yaptırdığı Tac Mahal adındaki anıt mezar, hangi şehirde bulunmaktadır?
A) Tebriz B) Delhi C) Haydarabat D) Agra
5. Aşağıdakilerden hangisi Osmanlı Devleti'nin kısa sürede büyümesinin nedenleri arasında gösterilemez?
A) Bizans İmparatorluğu'nun her yönden zayıflamış olması
B) Anadolu beylikleriyle devamlı mücadele etmesi
C) Balkanlarda siyasi, sosyal ve dinî birliğin olmaması
D) Kuruluş Döneminde devletin başına geçen padişahların askerî ve siyasi yönden yetenekli olmaları
6. Aşağıdakilerden hangisi I. Bayezit Dönemi olaylarından biri değildir?
A) Bulgar Krallığı'na son verilmesi
B) Anadolu Hisarı'nın yaptırılması
C) Edirne'nin fethedilmesi
D) Haçlılarla Niğbolu Savaşı'nın yapılması
7. Haçlılar, Türkleri Rumeli'den atamayacaklarını, aşağıdaki savaşlardan hangisinin sonunda anlamışlardır?
A) II. Kosova B) Varna
C) Niğbolu D) I. Kosova

1. OTURUM

8. Fetret Devri'ni sona erdiren Osmanlı padişahı, aşağıdakilerden hangisidir?
- A) I. Murat B) II. Murat
C) I. Mehmet D) I. Bayezit
9. Aşağıdaki savaşlardan hangisi, Anadolu'da Türk birliğinin bozulmasına ve Osmanlı Devleti'nin dağılma tehlikesi geçirmesine yol açmıştır?
- A) Niğbolu B) Ankara
C) Varna D) Maltepe
10. Büyük Okyanus hangi kıtalar arasında yer alır?
- A) Avrupa - Amerika B) Asya - Amerika - Okyanusya
C) Afrika - Asya D) Okyanusya - Afrika
11. Meridyenler için aşağıdakilerden hangisi söylenemez?
- A) Ekvatoru dik olarak kesen dairelerdir.
B) İki ayrı yer arasındaki saat farkını bulmaya yarar.
C) Meridyenlerin uzunlukları birbirinden farklıdır
D) Başlangıç meridyeni (0°) Greenwich gözlem evinden geçer.
12. Aşağıdakilerden hangisi doğal dengeye zarar verir?
- A) Ağaçlandırma çalışmaları
B) Fabrika atıklarının ayrıştırılması
C) Tarım ilaçlarının bilinçli kullanımı
D) Bazı canlı türlerinin neslinin tükenmesi
13. Aşağıdakilerden hangisi Türkiye'de hızlı nüfus artışının beraberinde getirdiği sorunlardan değildir?
- A) İşsizlik
B) Plansız kentleşme
C) İç göçlerin yaşanması
D) Doğal afetlerin yaşanması
- 14.
- 
- Haritada verilen kentlerin ortak özelliği aşağıdakilerden hangisidir?
- A) Tarım kentleri olmaları
B) Askeri kentler olmaları
C) Liman kentleri olmaları
D) Kültürel kentler olmaları
15. Aşağıdaki tarım bitkilerinden hangisi karasal iklim şartlarına diğerlerine göre daha dayanıklıdır?
- A) Arpa B) Pamuk C) Çeltik D) Mısır
16. Manavgat ve Kurşunlu şelaleleri hangi ilimizin sınırları içindedir?
- A) Antalya B) Çankırı C) Bursa D) Adana
17. "İnsanların duygu, düşünce ve ortak çıkarlarda birbirine karşılıklı bağlanmasıdır."
Verilen tanım hangi kavrama aittir?
- A) Dayanışma B) Egemenlik
C) Hak D) Hürriyet
18. I- Millî egemenlik
II- Hürriyet
III- Eşitlik
Yukarıda verilenlerden hangileri demokrasinin temel ilkelerindendir?
- A) I - II B) I - III C) II - III D) I - II - III
19. Toplumda vatandaşların uymaları gereken kuralları koyan ve uygulayan, vatandaşların ihtiyaçlarını karşılayan, onları tehlikelerden koruyan otorite aşağıdakilerden hangisidir?
- A) Kamuoyu B) Millet
C) Devlet D) Sivil Toplum Örgütleri
20. Aşağıdakilerden hangisi temel vatandaşlık görevlerinden değildir?
- A) Kanunlara uymak B) Vergi vermek
C) Seçimlere katılmak D) Yükseköğrenim görmek

1. OTURUM

DİN KÜLTÜRÜ VE AHLAK BİLGİSİ - 6

1. Aşağıdakilerden hangisi namazın kılınış şartlarından biridir?

- A) Niyet
C) Vakit
- B) İftitah (başlama) tekbiri
D) İstikbâli kible

2. Aşağıdaki namazlardan hangisinin kılınması vaciptir?

- A) Cenaze namazı
C) Beş vakit namaz
- B) Cuma namazı
D) Bayram namazı

3. Aşağıdakilerden hangisi zekâtın toplumsal yararlarından biri değildir?

- A) Paranın ve servetin belli kimselerin elinde toplanmasını önler.
B) Şefkat ve merhamet gibi güzel duygular kazandırır.
C) Ekonomik dengeyi ve adaletli paylaşımı sağlar.
D) Yoksul ve muhtaç kişilerin zenginler tarafından korunup kollanmasını sağlar.

4. Aşağıdakilerden hangisi zekât verecek kimsede aran şartlardan biri değildir?

- A) Zengin olmak
B) Akıllı olmak
C) Erkek olmak
D) Ergenlik çağına girmiş olmak

5. Bir gün Peygamberimiz sahabeye, “Gıybet nedir, biliyor musunuz?” diye sordu. Onlar “Allah Rasulu daha iyi bilir deyince, peygamberimiz gıybeti şöyle tanımladı:.....

Boş bırakılan yere aşağıdakilerden hangisi gelmelidir?

- A) Kardeşinizde olmayan kötü davranışları varmış gibi söylemenizdir.
B) Kardeşinizin arkasından onun hoşlanmayacağı şekilde söz etmenizdir.
C) Kardeşiniz hakkında olumlu şeyler düşünmenizdir.
D) Kardeşinizin güzel yönlerini insanlara anlatmanızdır.

6. Kur'an'ın haram kıldığı, Peygamberimizin “bütün kötülüklerin anası” olarak nitelendirdiği davranış aşağıdakilerden hangisidir?

- A) Yalan söylemek
C) Alkollü içki içmek
- B) Kumar oynamak
D) Hile yapmak

7. “Veraeytennâse yedhulûne fî dînillâhi efvâcâ.” Bu ayet aşağıdaki surelerin hangisine aittir?

- A) Nasr
B) Fil
C) Nas
D) Felak

8. Aşağıdaki verilen eşleştirmelerden hangisi yanlıştır?

- A) Tevrat - Hz. Musa
C) İncil - İsa
- B) Zebur - Hz. İbrahim
D) Kur'an - Hz. Muhammed

9. Kur'an-ı Kerim ile ilgili aşağıda verilen bilgilerden hangisi yanlıştır?

- A) Arapça olarak indirilmiştir.
B) Vahiy kâtipleri tarafından yazıya geçirilmiştir.
C) Hz. Ebu Bekir zamanında kitap hâline getirilmiştir.
D) 620 - 632 yılları arasında indirilmiştir.

10. Sureleri oluşturan vahiy cümlelerine ne ad verilir?

- A) Ayet
B) Hatim
C) Kur'an
D) Sahife

11. Kendisine kitap verilen peygamberlere ne ad verilir?

- A) Sahabi
B) Nebi
C) Resul
D) Halife

12. Arabistan'da cahiliyye döneminde Hz. İbrahim'in dinine, Allah'ın varlığına ve birliğine inanan, putlara tapmayan insanlara ne ad verilir?

- A) Müşrik
C) Musevi
- B) Müslüman
D) Hanif

13. Hz. Muhammed'e ilk iman edenler arasında aşağıdakilerden hangisi yoktur?

- A) Hz. Ebu Bekir
C) Hz. Zeyd
- B) Hz. Hatice
D) Hz. Ömer

14. Mekke'de müşriklerin aşırı zulüm ve işkenceleri sonucunda Müslümanlar, ilk hicretlerini aşağıdakilerden hangisine yapmışlardır?

- A) Taif'e
C) Habeşistan'a
- B) Yemen'e
D) Şam'a

15. Aşağıdakilerden hangisinde Mekke'den Medine'ye hicret edenler ile onlara yardım eden Medineli Müslümanlar sırasıyla yer almıştır?

- A) Muhacir - Ensar
C) Ensar - Muhacir
- B) Ensar - Sahabe
D) Muhacir - Sahabe

1. OTURUM

16. İslam tarihine “Medine Sözleşmesi” olarak geçen antlaşmanın önemi aşağıdaki seçeneklerden hangisinde ifade edilmiştir?

- A) Mekkeli müşriklerle, Medineli Müslümanlar arasındaki savaşlar sona ermiştir.
- B) Ensar ile muhacir bu antlaşma ile kardeş ilan edilmiştir.
- C) Medine’de yaşayan gruplar arasında bir süre de olsa barış ve huzur ortamı sağlanmıştır.
- D) Arap yarımadasındaki kabile savaşları bu antlaşmayla son bulmuştur.

17. Hz. Muhammed’in vefat tarihi aşağıdaki seçeneklerin hangisinde doğru olarak verilmiştir?

- A) 8 Nisan 630
- B) 8 Mayıs 631
- C) 8 Haziran 632
- D) 8 Temmuz 633

18. Hz. Muhammed’in Veda Hutbesi ile ilgili aşağıda verilen bilgilerden hangisi yanlıştır?

- A) 632 yılında okunmuştur.
- B) Veda Haccı’nda okunmuştur.
- C) Toplumsal huzuru sağlayan hükümler içermektedir.
- D) Kadın ve köle haklarına değinilmemiştir.

19. Hz. Muhammed’i diğer insanlardan ayıran en önemli yönü aşağıdakilerden hangisidir?

- A) İleri görüşlü olması
- B) Allah’tan vahiy alması
- C) Yardımsever ve hoşgörülü olması
- D) İnsanları kötü davranışları konusunda uyarması

20. “De ki, ben de ancak sizin gibi bir insanım. Ancak bana ilahınızın tek bir ilah olduğu vahyolunuyor.” (Kehf suresi, 114)

Bu ayet Hz. Muhammed’in hangi yönlerine işaret etmektedir?

- A) Kulluk - Peygamberlik
- B) Uyarıcılık - Müdeleyicilik
- C) Yardımseverlik - Hoşgörülülük
- D) Açıklayıcılık - Aydınlatıcılık

İNGİLİZCE - 6

1.-20. sorularda boş bırakılan yerlere uygun düşen sözcük veya ifadeyi bulunuz.

1. A:

B: My name is Ayşe.

- A) How are you?
- B) Are you a doctor?
- C) Where are you from?
- D) What’s your name?

2. A: is Sezen from?

B: She’s from Turkey.

- A) Why
- B) When
- C) Where
- D) What

3. A: How old is he?

B: is ten years old.

- A) You
- B) I
- C) She
- D) He

4. This is pencil.

- A) an
- B) a
- C) two
- D) four

5. They are

- A) books
- B) book
- C) bag
- D) egg

6. aren’t dogs. They are cats.

- A) That
- B) This
- C) They
- D) It

7. A: is your car?

B: Blue.

- A) When
- B) Where
- C) How old
- D) What color

8. No, I’m not short. I’m

- A) young
- B) old
- C) tall
- D) happy

9. 2 + 3 =?

- A) four
- B) five
- C) two
- D) eleven

10. I have got a computer but he got a computer.

- A) hasn’t
- B) aren’t
- C) haven’t
- D) is not

11. A: Where is

B: The cat is under the table.

- A) the cat?
- B) my bag?
- C) the piano?
- D) the phone?

1. OTURUM

12. There 7 girls in the classroom.

- A) an B) a C) is D) are

13. A: What time is it?

B: It's

- A) an apple. B) six o'clock.
C) a door. D) a doctor.

14. A: How much is this shirt?

B: It's

- A) 10 TL. B) good. C) April. D) Sunday.

15. I my homework every evening.

- A) eat B) do C) drink D) get up

16. A: What does an English teacher do?

B: She teaches

- A) French B) Geography
C) Maths D) English

17. There isn't any in the glass.

- A) water B) bananas
C) bottles D) chairs

18. It's snowing. It's today.

- A) sunny B) rainy C) cold D) hot

19. A: Shall we go to the pop concert?

B: I like going to pop concerts.

- A) No, let's go to the concert
B) That's a good idea
C) Yes, let's go to the cinema
D) Sorry, I'm going to the pop concert

20. A: Can fly?

B: Yes, it can fly.

- A) a bird B) a dog C) a cat D) a rabbit

ALMANCA - 6

1.-16. sorularda boş bırakılan yerlere uygun düşen sözcük veya ifadeyi bulunuz.

1. Δ: Guten Tag! Ich heiße Monika. Wie heißen Sie?

◇: Ich Petra. Wer ist das?

Δ: Das Frau Brunner.

- A) heißen / sind B) sind / heiße
C) ist / heiße D) heiße / ist

2. ◇: ist das?

Δ: Das Peter.

◇: Vielen Dank!

- A) Wie / seid B) Was / sind
C) Wer / ist D) Warum / bin

3. Petra : Guten Tag

Monika:

Petra : Auf Wiedersehen!

Monika: Auf Wiedersehen!

- A) Tag Guten B) Gute Tag
C) Guter Tage D) Guten Tag

4. Δ: Hallo, Ich Petra, wie heißt du?

◇: Ich heiße Monika.

- A) sind B) bin C) war D) bist

5. Δ: du Walter?

◇: Nein, ich Hans.

Δ: Danke!

- A) Bist / bin B) Bin / ist
C) Ist / bin D) Sind / bin

6. Δ: heißt du?

◇: Ich heiße Otto.

Δ: Vielen Dank!

- A) Warum B) Wer C) Wie D) Woher

7. Δ: Wie geht es Ihnen?

◇: Danke,

Δ: Danke

- A) guter B) auch C) heiße D) gut

8. Δ: geht es dir?

◇: Danke, geht es gut. Und dir?

Δ: Danke, gut.

- A) Woher / dir B) Wohin / ich
C) Wie / mir D) Was / du

1. OTURUM

9. Δ: Wo wohnen Sie?

◇: Ich wohne Istanbul.

Δ: sehr gut.

A) im B) in C) ins D) von

10. Ich Arzt von Beruf. Ich bin 30 Jahre

A) bin / alt B) alt / bin
C) sind / älter D) bist / alte

11. Petra : Ist das eine Tasche?

Monika: Nein, das ist Tasche.

Petra : Vielen Dank!

A) keine B) kein C) keiner D) keinen

12. Ayşe : Was trinken Sie?


Monika: Ich trinke

A) Türkischer Döner B) ein Hamburger
C) das Brot D) eine Cola

13. Δ: Wieviel spät ist es?

◇: Es ist

A) vier Uhr.
B) fünf vor vier.
C) fünf Uhr.
D) fünf nach vier.



14. Ich Klavier und Fussball.

A) spiele B) lernen C) spielt D) spielen

15. Ich kann im Wohnzimmer

A) sehe B) fernsehen
C) trinke D) esse

16. Frau Müller muß um 8⁰⁰ Uhr

A) sehen B) können
C) stehen auf D) aufstehen

17. Hangisi diğerlerinden farklıdır?

A) Mittagessen B) Montag
C) Dienstag D) Sonntag

18. Hangisi anlam olarak diğerlerinden farklıdır?

A) Helga B) Petra C) Walter D) Monika

19. Ich / ins Kino oder / ins Theater / kann / heute / gehen
1 2 3 4 5 6

Kurallı bir cümle kurunuz.

A) 1 / 4 / 6 / 3 / 2 / 5 B) 1 / 4 / 5 / 2 / 3 / 6
C) 6 / 3 / 2 / 1 / 4 / 5 D) 2 / 3 / 4 / 5 / 6 / 1

20. Hangisi diğerlerinden farklıdır?

A) das Brot B) die Cola
C) die Milch D) das Bier

FRANSIZCA - 6

1.-14. sorularda boş bırakılan yerlere uygun düşen sözcük veya ifadeyi bulunuz.

1. Elles à Ankara.

A) est B) mange
C) va D) habitent

2. m'appelle Caroline, je suis française.

A) Il B) Elle C) Je D) Tu

3. Mon père a acheté voiture.

A) le B) de C) des D) une

4. Il est heures.

A) minuit B) dix C) nuit D) midi

5. Dans les boulangeries,

A) on vend du pain.
B) Il y a de la viande.
C) Nous achetons du lait.
D) Vous buvez du café.

6. voiture voulez-vous?

A) Quels B) Quel
C) Quelle D) Quelles

7. C'est une petite fille

A) souriantes B) souriant
C) souriants D) souriante

8. J'aime les comédies j'aime rire.

A) comment B) pourquoi
C) parce que D) avec

1. OTURUM

9. hôtel a des chambres confortables.
A) ce B) cet C) cette D) ces
10. C'est le stylo secrétaire.
A) de la B) du C) au D) aux
11. A:, j'aime le football, et toi?
B:, je préfère le basket.
A) Moi / Moi B) Toi / Moi
C) Moi / Toi D) Toi / Toi
12. A: Où habitez-vous?
B:
A) Tu habites à Paris.
B) Vous habitez à Istanbul.
C) Ils habitent à Samsun.
D) J'habite à Marseille.
13. A: Quelle est votre profession?
B:
A) Je vais à l'école.
B) Je suis dentiste.
C) J'ai une belle maison.
D) Je mange beaucoup.
14. A: Tu es de quelle nationalité?
B:
A) Je suis turque.
B) Elle est gentille.
C) Il s'appelle Hasan.
D) Elle s'appelle Ayşe.
15. "83" sayısının Fransızca yazılışı hangisidir?
A) Quarante trois
B) Quatre - vingt - trois
C) Quatre - vingt - treize
D) soixante - treize
16. Aşağıdakilerden hangisi (négative) cümledir?
A) Parlez-vous Anglais?
B) Vous parlez Anglais?
C) Qui parle l'Anglais?
D) Vous ne parlez pas Anglais?
17. Aşağıdaki (masculin - féminin) eşleşmelerinden hangisi doğrudur?
A) Turc - Turque B) Français - Français
C) Anglais - Anglais D) Italien - Italien

18. "Où est l'hôpital?" sorusunun cevabı hangisi olamaz?
A) L'hôpital est en face de la poste.
B) L'hôpital est au bout de la rue.
C) L'hôpital est très grand.
D) L'hôpital est à côté du cinéma.

19. Aşağıdakilerden hangisi mevsim adı değildir?

- A) printemps B) décembre
C) automne D) hiver

20. Aşağıdakilerden hangisi gün adı değildir?

- A) marcher B) lundi
C) vendredi D) dimanche

TÜRKÇE - 8

1. "Bana karşı hiçbir zaman soğuk davranmadı." cümlesinde mecaz anlamda kullanılan kelime aşağıdakilerden hangisidir?
A) Bana B) Zaman C) Soğuk D) Hiç
2. Şahinim var; bazılarım var,
Tel alışkın sazlarım var,
Yâre gizli sözlerim var,
Diyemiyom ele karşı.
Karacaoğlu
Bu dörtlük ile ilgili olarak aşağıdakilerin hangisi söylenemez?
A) Hece ölçüsü ile yazılmıştır.
B) Dört mısradan oluşmuştur.
C) Redif bulunmaktadır.
D) Cinaslı uyak kullanılmıştır.
3. "Eşyalarımı yavaş yavaş doldurdu çantama teyzem." cümlesinin yüklemi hangisidir?
A) Teyzem B) Doldurdu
C) Çantama D) Eşyalarımı
4. "İyi insanları herkes sever." cümlesindeki altı çizili kelimenin zıt anlamlısı aşağıdakilerin hangisinde kullanılmıştır?
A) Hedeflerine ulaşmak için gayret göstermiyordu.
B) Gayretli halleriyle herkesin ilgisini çekmişti.
C) Saygılı, temiz ve idealist bir genç kızdı.
D) Herkes gibi onun da bazı kötü yanları vardı.

1. OTURUM

5. Aşağıdakilerden hangisi art arda sıralanan tümce-lerin, paragraf düzeni içinde oluşturdukları yazılara verilen addır?

- A) Düz yazı B) Manzum yazı
C) Şiir D) Uyak

6. Aşağıdaki cümlelerin hangisinde “ikileme” vardır?

- A) Kaygı duymadan söyledi sözlerini.
B) Eğri büğrü yollarda yavaşça yol alıyorduk.
C) Ahmet ve ben yarın matematik çalışacağız.
D) Çağırdıkları zaman o da seninle gelir.

7. Aşağıdaki cümlelerin hangisinde altı çizili sözcük dolaylı tümleç görevindedir?

- A) Dün Ufuk Bey'i durakta gördüm.
B) Okul merdivenlerini koşarak çıkıyor.
C) Öğretmen onu görür görmez tanıdı.
D) En çok bu şehri sevmiştik.

8. “Olay anlatan yazılarda, olayı yaşayan en önemli ki-şiye denir.” cümlesindeki boşluğa aşağıdaki-lerden hangisi getirilmelidir?

- A) yönetmen B) yazar
C) başkahraman D) oyuncu

9. Aşağıdaki cümlelerin hangisinde belirtili nesne var-dır?

- A) Akşam sinemaya gidelim.
B) Müdür okulu boyatmış.
C) Kalemliğim yere düştü.
D) Pencereden uzun uzun baktı.

10. Aşağıdaki kelimelerden hangisinin kökü fiil soyludur?

- A) Silgi B) Arıcı
C) Kalemlik D) Köklü

11. Aşağıdaki cümlelerin hangisinde birleşik sözcük kul-lanılmamıştır?

- A) Yarın Çanakkale'den ablam gelecek.
B) Cerrahpaşa Hastanesi'ne gitmişler.
C) Bahçeye hanımeli dikmek istedi.
D) Yukarı çıktığımda onu gördüm.

12. Aşağıdaki fiillerden hangisi rivayet birleşik zamanı ile çekimlenmiştir?

- A) Anlardı B) Seviyormuş
C) Yorulmuşsa D) Bakacaktı

13. Aşağıdakilerden hangisi, olayları sahnede canlandır-mak amacıyla yazılan eserlere verilen isimdir?

- A) Roman B) Öykü C) Anı D) Tiyatro

14. Aşağıdaki altı çizili kelimelerin hangisinde ünsüz yu-muşması vardır?

- A) Bizim evden deniz görünürdü.
B) Toprak kokusu etrafa dağıldı.
C) O kitabın sonunu dikkatle incele.
D) Tatilde birçok dergi okudum.

15. Aşağıdaki cümlelerin hangisinde soru anlamı bir sı-fatla oluşturulmuştur?

- A) Nereye gidiyorsunuz?
B) Kim ağlıyormuş?
C) Oraya nasıl gelebilirim?
D) Kaç kişi düşünebilir?

16. Aşağıdaki cümlelerin hangisinde pekiştirme yapılmıştır?

- A) Gökyüzünde bulutlar pamuğa benziyordu.
B) Telefonu açmak istemediğini fark ettim.
C) Yaşamak istediği yer tertemiz bir kentti.
D) Bayram hazırlığına camları silerek başladı.

17. Aşağıdaki cümlelerin hangisinde terim anlamlı bir kelime kullanılmıştır?

- A) Eve giderken ekmek aldı.
B) Pencereden dışarı bakıyordum.
C) İlk önce pi sayısını bulduk.
D) Annesi ile balkonda oturdu.

18. Aşağıdaki cümlelerin hangisinde yüklem dönüşlü-dür?

- A) Zeynep bu sefer çabucak süslendi.
B) Bu filmi seyrederken ağlamıştım.
C) Koyunları küçük derede temizlediler.
D) Akşamleyin bahçede beraber yürüdük.

19. Aşağıdakilerden hangisi kurallı birleşik fiildir?

- A) Zannetti B) Katılabildi
C) Emretti D) Kahroldu

20. Aşağıdakilerden hangisi isim cümlesidir?

- A) Şimdi bizim oralar yemyeşildir.
B) Gemi yavaşça limana yanaştı.
C) Her sabah erken kalkarım.
D) Odasını düzenlemeyi ihmal ederdi.

1. OTURUM

MATEMATİK - 8

1. 8 ve 9 sayılarının geometrik ortası aşağıdakilerden hangisidir?

A) $6\sqrt{2}$ B) $7\sqrt{2}$ C) $8\sqrt{2}$ D) $9\sqrt{2}$

2. $a = 2$ ve $b = -5$ için $4a^2 - 4ab + b^2$ ifadesinin değeri kaçtır?

A) 1 B) 31 C) 73 D) 81

3. $xy = 12$ ve $x^2 + y^2 = 25$ ise $x + y$ nin değeri kaçtır?

A) 7 B) 8 C) 10 D) 13

4. $30.k = 48^2 - 18^2$ olduğuna göre, k kaçtır?

A) 6 B) 8 C) 36 D) 66

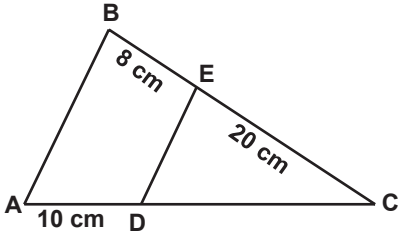
5. $6(x - 7) + 5(7 - x) = 22$ denkleminin çözüm kümesi aşağıdakilerden hangisidir?

A) $\{5\}$ B) $\{9\}$ C) $\{15\}$ D) $\{29\}$

6. Anne ile oğlunun yaşları toplamı 57'dir. Annenin yaşı oğlunun yaşının 3 katından 5 fazla olduğuna göre, oğlunun yaşı kaçtır?

A) 11 B) 13 C) 15 D) 17

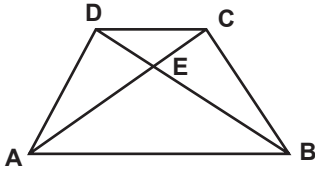
7.



Verilen şekilde $[AB] \parallel [DE]$ dir. $|BE| = 8$ cm, $|EC| = 20$ cm ve $|AD| = 10$ cm olduğuna göre, $|DC|$ kaç santimetredir?

A) 25 B) 24 C) 22 D) 21

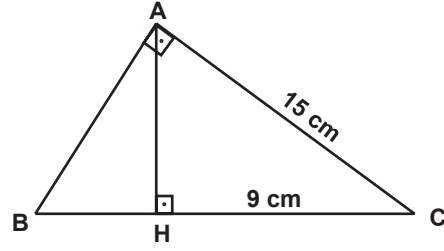
8.



Yukarıda verilen ABCD dörtgeni bir yamuk olduğuna göre aşağıdakilerden hangisi yanlıştır?

- A) $\hat{A}BE \sim \hat{C}DE$ B) $\frac{|DC|}{|AB|} = \frac{|AE|}{|EC|}$
C) $s(\hat{A}BE) = s(\hat{E}DC)$ D) $\frac{|ED|}{|EB|} = \frac{|EC|}{|AE|}$

9.




Şekildeki BAC dik üçgeninde $[AB] \perp [AC]$ ve $[AH] \perp [BC]$ dir. $|AC| = 15$ cm ve $|HC| = 9$ cm olduğuna göre, $|BH|$ kaç santimetredir?

A) 9 B) 12 C) 16 D) 20

10. $3y - \frac{3}{4}x + 5 = 0$ doğrusunun eğimi kaçtır?

A) $\frac{1}{4}$ B) $\frac{1}{3}$ C) $\frac{2}{3}$ D) $\frac{3}{4}$

11.



Şekildeki bardaklar bir mutfak rafına yan yana kaç farklı şekilde dizilebilirler?

A) 6 B) 12 C) 24 D) 36

12. Bir torbada renkleri dışında aynı niteliklere sahip 4 siyah ve 2 beyaz top vardır. Bu torbadan rastgele çekilen bir topun siyah olma olasılığı nedir?

A) $\frac{1}{4}$ B) $\frac{1}{2}$ C) $\frac{2}{3}$ D) $\frac{5}{6}$

13. Yüksekliği 20 cm ve taban yarıçapı 10 cm olan dik dairesel silindirik şeklindeki bir salça kutusu en fazla kaç santimetreküp salça alabilir? (π 'yi 3 alınız.)

A) 200 B) 600 C) 2000 D) 6000

14. Dikdörtgenler prizması şeklindeki bir su tankının ay-
rıtları 5 m, 8 m ve 4 m'dir. $\frac{1}{4}$ 'i su ile dolu olan bu su
tankında kaç metreküp su vardır?

A) 23 B) 40 C) 46 D) 60

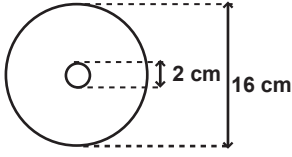
1. OTURUM

FEN BİLGİSİ - 8

15. Her bir ayrıtının uzunluğu 6 cm olan kare dik piramidin alanı kaç santimetrekaredir?

- A) $12 + 12\sqrt{3}$ B) $18 + 18\sqrt{3}$
C) $36 + 36\sqrt{3}$ D) $48 + 48\sqrt{3}$

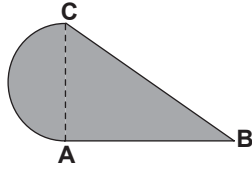
16.



Çapı 16 cm olan şekildeki müzik CD'sinin deliğinin çapı 2 cm'dir. Buna göre, CD'nin üst yüzeyinin alanı kaç santimetrekaredir?

- A) 18π B) 32π C) 63π D) 252π

17. Yukarıdaki şekil, [AC] çaplı yarı daire ile ABC dik üçgensel bölgesinin birleştirilmesi ile oluşmuştur. |AC| = 6 cm ve |AB| = 8 cm olduğuna göre, şeklin çevresi kaç santimetredir?



- A) $3\pi + 18$ B) $6\pi + 12$
C) $3\pi + 24$ D) $6\pi + 18$

18. Mod 8'e göre 2'ye denk olan bir sayı Mod 4'e göre kaç denktir?

- A) 3 B) 2 C) 1 D) 0

19. Bir hasta 6 günde bir doktora, kontrole gitmektedir. İlk kontrolüne salı günü giden bu hasta 5. kontrolüne hangi gün gider?

- A) Salı B) Çarşamba
C) Perşembe D) Cuma

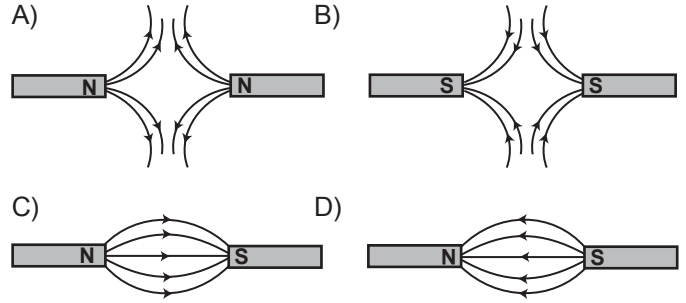
20. $a * b = a - 3b$ olduğuna göre, $8 * 5$ işleminin sonucu kaçtır?

- A) -19 B) -7 C) 7 D) 19

1. Mıknatıs, aşağıdaki maddelerin hangisini çeker?

- A) Ebonit B) Kobalt
C) Kâğıt D) Cam

2. Aşağıda verilen mıknatıs kutupları arasındaki kuvvet çizgilerinin gösterimi hangisinde yanlıştır?



3. Yandaki mıknatıs şekildeki gibi üç parçaya bölünüyor. Oluşan mıknatısların kutupları hangisinde doğru olarak verilmiştir?



- A) I: N, II: S, III: S
B) I: N, II: S, III: N
C) I: N, II: N, III: S
D) I: N, II: S, III: N

4. Aşağıdaki araçlardan hangilerinde mıknatıs bulunur?

- I- Cep telefonu
II- Telgraf
III- Pil

- A) Yalnız I B) Yalnız III
C) I - II D) II - III

5. Alternatif akım jeneratörleri aşağıdaki santrallerin hangilerinde kullanılır?

- I- Hidroelektrik
II- Termik
III- Nükleer

- A) Yalnız I B) Yalnız III
C) I - II D) I - II - III

6. Son yörüngesinde 7 elektron bulunduran atomun, oluşturacağı iyonik bağlı bileşikteki yükü nedir?

- A) -1 B) +1 C) +2 D) -7

1. OTURUM

7. Aşağıdaki hangi atomlar arasında apolar kovalent bağ oluşur?
- A) Na ve Cl B) O ve H
C) K ve Br D) F ve F
8. Maddelerin yapısındaki köklü değişmelere kimyasal değişme denir. Buna göre aşağıdaki olayların kaç tanesi kimyasal değişmedir?
- Kâğıdın yırtılması
 - Şekerin yanması
 - Suyun donması
 - Ekmeğin küflenmesi
- A) 1 B) 2 C) 3 D) 4
9. Asitlerin metallerle etkileşmesi sonucu gaz oluştuğunu öğrenen bir ev hanımı "Limon suyunu" hangi kaptaki saklaması gerekir?
- A) Bakır kap B) Alüminyum kap
C) Cam kap D) Çinko kap
10. Asit ve bazların tepkimesi sonucu aşağıdakilerden hangisi oluşur?
- A) Tuz ve su
B) Tuz ve hidrojen gazı
C) Metal ve hidrojen gazı
D) Metal ve su
11. Aşağıdakilerden hangisi, soluk alıp vermede görevli yardımcı organdır?
- A) Gırtlak B) Kaburgalar
C) Diyafram D) Akciğerler
12. Aşağıdakilerden hangisi solunumun özelliğidir?
- A) Solunum sonucu glikoz ve oksijen oluşur.
B) Solunum için su ve karbondioksit kullanılır.
C) Gece ve gündüz devam eder.
D) Sadece klorofilli hücrelerde gerçekleşir.
13. Aşağıdaki besin maddelerinden hangisi vücutta yapı taşı olarak görev yapar?
- A) Mineral B) Protein
C) Vitamin D) Karbonhidrat
14. Aşağıdakilerden hangisi RNA'nın özelliğidir?
- A) Kalıtsal ve yönetici moleküldür.
B) Sadece çekirdekte bulunur.
C) Yapısında riboz şekeri bulunur.
D) Çift nükleotit dizisinden oluşur.
15. Homozigot sarı tohumlu bezelyeler ile homozigot yeşil tohumlu bezelyeler çaprazlandığında F_1 dölünde sarı tohumlu bezelyeler görülme olasılığı % kaçtır? (Sarı renk, yeşil renge baskındır.)
- A) 0 B) 25 C) 75 D) 100
16. Aşağıdakilerden hangileri biyoteknoloji uygulamalarının sağladığı yararlardandır?
- I- Bebek ana karnındayken taşıdığı kalıtsal hastalıklara karşı önlem alınabilecektir.
II- Şeker hastalığına sebep olan insülin hormonu bakteriye ürettirilebilecektir.
III- Pis sularda yaşayan bakteriler, pis suyu temizleyen bakteriler hâline getirilebilecektir.
- A) I - II B) II - III C) I - III D) I - II - III
17. Aşağıdakilerden hangisi, mayoz bölünme özelliğidir?
- A) Vücut hücrelerinde görülür.
B) Hayat boyu devam eder.
C) Kromozom sayısı yarıya iner.
D) Bir tek bölünme gerçekleşir.
18. Aşağıdaki üreme şekillerinden hangisinde yavru canlı, ana canlı üzerinde kalarak koloni oluşturabilir?
- A) Bölünme B) Tomurcuklanma
C) Sporlanma D) Vejetatif üreme
19. Aşağıdaki sistemlerden hangisi, ektoderm tabakasından oluşur?
- A) Sinir sistemi B) Boşaltım sistemi
C) Üreme sistemi D) Dolaşım sistemi
20. Aşağıdakilerden hangisi, ergenlik döneminde kızlarda ve erkeklerde görülen ortak özellik değildir?
- A) Sinirlilik
B) Derslere ilgisizlik
C) Arkadaşlığa önem verme
D) Gırtlak gelişimi

1. OTURUM

İNKILAP TARİHİ VE ATATÜRKÇÜLÜK - 8

1. I- Arnavutluk
II- Trablusgarp
III- Ege Adaları

Osmanlı Devleti yukarıdaki yerlerden hangisini ya da hangilerini Uşi Antlaşması'yla İtalyanlara bırakmıştır?

- A) Yalnız II
B) Yalnız III
C) I - III
D) I - II - III

2. Aşağıdakilerden hangisi Osmanlı Devleti'nin, Balkan Savaşları sonunda kaybettiği yerlerden biri değildir?

- A) Ege Adaları
B) Doğu Trakya
C) Batı Trakya
D) Makedonya

3. Aşağıdaki devletlerden hangisinin Sırbistan'a savaş açması ile Birinci Dünya Savaşı başlamıştır?

- A) Rusya
B) İtalya
C) Osmanlı Devleti
D) Avusturya - Macaristan İmparatorluğu

4. Aşağıdaki devletlerden hangisinin Birinci Dünya Savaşı'na girmesi, savaşın sonucunu İtilaf Devletleri'nin lehine değiştirmiştir?

- A) Rusya
B) Amerika Birleşik Devletleri
C) İngiltere
D) Japonya

5. Mondros Ateşkes Antlaşması'ndan sonra;

- I- Antalya
II- Urfa
III- Konya
IV- Adana

illerinden hangisi ya da hangileri İtalyanlar tarafından işgal edilmiştir?

- A) Yalnız II
B) I - II - IV
C) I - III
D) II - III - IV

6. I- Teali İslam Cemiyeti
II- Pontus Rum Cemiyeti
III- Kilikyalılar Cemiyeti

Verilen cemiyetlerden hangisi ya da hangileri bağımsız devletlerini kurma amacıyla çeşitli faaliyetlerde bulunmuşlardır?

- A) Yalnız II
B) I - III
C) Yalnız III
D) I - II - III

7. Atatürk "Kemal" adını, hangi okulda okurken almıştır?

- A) Şemsi Efendi İlkokulunda
B) Harp Akademisinde
C) Selanik Askerî Rüştiyesinde
D) Manastır Askerî İdadisinde

8. Mustafa Kemal, Millî Mücadele'nin ilk yıllarında vatanın savunulması ve kurtuluşu için kurulmuş olan cemiyetleri bir çatı altında toplamıştır.

Bu durum Mustafa Kemal'in kişisel özelliklerinden hangisiyle ilişkilendirilebilir?

- A) İleri görüşlülüğü
B) Çok yönlülüğü
C) Vatan ve millet sevgisi
D) Birleştirme ve bütünleştirme gücü

9. I- Amasya Genelgesi
II- Sivas Kongresi
III- Amasya Görüşmeleri

Verilenlerden hangisinde ya da hangilerinde manda ve himaye konusu görüşülerek reddedilmiştir?

- A) Yalnız I
B) Yalnız II
C) Yalnız III
D) I - II - III

10. Atatürk'ün "Hattı müdafaa yoktur, sathı müdafaa vardır. O satıh bütün vatandır." emri, hangi savaşta ilk kez uygulanmıştır?

- A) I. İnönü
B) II. İnönü
C) Sakarya
D) Büyük Taarruz

11. Aşağıdakilerden hangisi diğerlerinden sonra gerçekleşmiştir?

- A) Mustafa Kemal'e TBMM tarafından mareşallik rütbesinin verilmesi
B) Ankara'da Türkiye Büyük Millet Meclisinin açılması
C) Sevr Antlaşması'nın imzalanması
D) Amasya Genelgesi'nin yayımlanması

12. I- Serbest Cumhuriyet Fırkası
II- Çiftçi ve Köylü Partisi
III- Demokrat Parti

Verilen siyasi partilerden hangisi ya da hangileri Atatürk Döneminde kurulmuştur?

- A) Yalnız I
B) II - III
C) Yalnız III
D) I - II - III

1. OTURUM

13. • Saltanatın kaldırılması
• Çok partili hayata geçilmesi
Verilen yeniliklerle aşağıdakilerden hangisi amaçlanmıştır?

A) Öğretim birliği
B) Millî ekonomi
C) Millet egemenliği
D) Kadın-erkek eşitliği

14. Aşağıdaki inkılaplardan hangisinin, uluslararası ekonomik ilişkilerde kolaylık sağladığı söylenebilir?

I- Ölçü birimlerinin değiştirilmesi
II- Çok partili hayata geçilmesi
III- Hafta tatilinin cumadan pazara alınması

A) Yalnız I
B) Yalnız II
C) I - II
D) I - III

15. I- Barışçılık
II- Mandacılık
III- Bağımsızlık

Atatürk Döneminde, Türkiye Cumhuriyeti Devleti, dış politikasını belirlerken yukarıdakilerden hangisini ya da hangilerini temel almıştır?

A) Yalnız I
B) I - III
C) Yalnız II
D) II - III

16. Türkiye Musul sorununu, aşağıdaki devletlerden hangisi ile yaşamıştır?

A) İtalya
B) Fransa
C) İngiltere
D) ABD

17. Atatürk'ün;

I- "Ne mutlu Türküm diyene!"
II- "Din bir vicdan meselesidir. Herkes vicdanının emrine uymakta serbesttir."
III- "Yaptığımız ve yapmakta olduğumuz yenilik hareketlerinin amacı, Türkiye Cumhuriyeti halkını tamamen modern, bütün anlamıyla uygar bir toplum durumuna ulaştırmaktır."

sözlerinin Atatürk ilkeleriyle ilişkisi, aşağıdakilerin hangisinde doğru olarak verilmiştir?

	I	II	III
A)	Milliyetçilik	Laiklik	İnkılapçılık
B)	İnkılapçılık	Laiklik	Milliyetçilik
C)	Halkçılık	Cumhuriyetçilik	Laiklik
D)	Laiklik	İnkılapçılık	Devletçilik

18. I- Millî tarih bilinci
II- Akılcılık
III- Barışçılık

Verilenlerden hangisi ya da hangileri Atatürk ilke ve inkılaplarının dayandığı esaslardandır?

A) Yalnız I
B) Yalnız III
C) I - II
D) I - II - III

19. Aşağıdaki bilgilerden hangisi Mustafa Kemal Atatürk ile ilgili değildir?

A) 1881 yılında Selanik'te doğmuştur.
B) İlk öğrenimine mahalle mektebinde başlamıştır.
C) 12 yıl cumhurbaşkanlığı görevinde bulunmuştur.
D) 1938 yılında İstanbul'da vefat etmiştir.

20. Atatürk'ün ölümünden sonra Türkiye Büyük Millet Meclisi tarafından cumhurbaşkanlığı görevi için aşağıdakilerden hangisi seçilmiştir?

A) İsmet İnönü
B) Kâzım Karabekir
C) Fethi Okyar
D) Fahri Korutürk

DİN KÜLTÜRÜ VE AHLAK BİLGİSİ - 8

1. Kâbe seller sonucu hasar gördüğü için tamir edildi. Kutsal sayılan Hacer-ül Esved'in yerine konulmasında anlaşmazlık çıktı. Aralarında Kâbe'ye ilk girenin hakem olması konusunda anlaşıldılar. Kâbe'ye ilk giren Hz. Muhammed olunca, bütün kabileler sevinç çığlıkları attılar.

Bu olay Hz. Muhammed'in hangi güzel ahlakını ortaya koymaktadır?

A) Merhametini
B) Cesaretini
C) Güvenilirliğini
D) Danışarak iş yapmasını

2. Medine'de soylu kabileye mensup bir kadın hırsızlık yapmıştı. Zengin ve soylu kişiler kadının cezalandırılmaması için araya girip Hz. Muhammed'den kadının affını istediler. O "Ey insanlar, geçmiş milletlerin ne yüzden helak olduklarını biliyormusunuz?... Allah'a yemin ederim ki bu suçu kızım Fatıma işlemiş olsaydı onu da cezalandırırdım." demiştir.

Bu olay Hz. Muhammed'in hangi yönünü ifade etmektedir?

A) Cesaretini
B) Hakkı (adaleti) gözetmesini
C) Danışarak iş yapmasını
D) Güvenilirliğini

1. OTURUM

3. İslam'da ibadetlerin belirli vakitlerde yapılması müslüman toplumlarda hangi güzel davranışın kazanılmasına katkı sağlamıştır?

- A) Sözünde durmanın
- B) Güvenilirliğinin
- C) Zamanı iyi kullanmanın
- D) Hakkı gözetmenin

4. • Hz. Muhammed'in Uhud Savaşında savunma savaşına taraf olmasına rağmen, çoğunluğun kararına uyup meydan savaşına karar vermesi
• Hendek Savaşı'nda Selman-ı Farisî'nin şehrin etrafına hendek kazma teklifini uygulaması
• Hz. Ebu Bekir'in Bedir Savaşı esirlerini fidye karşılığı serbest bırakma önerisini uygulaması

Peygamberimizin yukardaki uygulamalarını dikkate aldığımızda aşağıdaki sonuçlardan hangisine varabiliriz?

- A) Danışarak iş yapardı.
- B) Hoşgörülüydü.
- C) Hakkı gözetirdi.
- D) İnsanlara değer verirdi.

5. Aşağıdakilerden hangisi, kültürün özelliklerinden biri değildir?

- A) Bütünleştiricidir.
- B) Sabittir, değişmez.
- C) Toplumsaldır.
- D) İnsan ihtiyaçlarını karşılar.

6. Kültürün öğeleri birbirleriyle etkileşim hâlinindedir. Din diğer öğelerden etkileneceği gibi onları etkileme özelliğine de sahiptir.

Aşağıdakilerden hangisi dinin en az etkilediği öğelerdendir?

- A) Örf ve âdetler
- B) Sanat, edebiyat
- C) Teknoloji
- D) Mimari

7. Kur'an'da "...Dileyen inansın, dileyen inkâr etsin." (Kehf suresi, 29.) buyrulmaktadır.

Bu ayet aşağıdakilerden hangisini ön plana çıkarmıştır?

- A) Akıl doğruyu yanlıştan ayırır.
- B) Akıllı kullanmak gerekir.
- C) Allah'a iman zorunludur.
- D) Bilinçli ve özgürce inanmak esastır.

8. Tarih boyunca insanlar anlam veremedikleri olaylardan korkmuşlar, bu olaylara doğa üstü güçlerin sebep olduğuna inanmışlardır.

Bu anlayış aşağıdakilerden hangisinin gelişmesini engellemiştir?

- A) Tarihî araştırmaların
- B) Sanatın
- C) Bilimin
- D) Edebiyatın

9. Gökleri yedi kat üzerine yaratan odur. Rahmânın bu yaratmasında bir düzensizlik bulamazsın. Bulmak için gözünü tekrar çevir bak; ama göz umduğunu bulamayıp bitkin ve yorgun düşer." (Mülk suresi, 3-4.)

Ayetten aşağıdaki sonuçlardan hangisi çıkarılamaz?

- A) Her şeyin bir denge ve ölçü içerisinde yaratıldığı
- B) Göklerin yedi kat üzerine yaratıldığı
- C) Gökyüzünde ne kadar aransada bir aksaklık bulunamayacağı
- D) Gökyüzüne yorgun gözle bakmamak gerektiği

10. "...Bitkiden bir filiz, ondan büyüüp üstüste taneler, başaklar çıkarırız." (En'âm suresi, 99.)
"Biz rüzgârı aşılavıcı olarak gönderdik." (Hicr suresi, 22.)

Yukarıdaki ayetlerde evrendeki hangi yasadana bahsedilmektedir?

- A) Fiziksel yasalar
- B) Biyolojik yasalar
- C) Toplumsal yasalar
- D) Ahlakî yasalar

11. İnsan iradesi hakkında aşağıdakilerden hangisi doğrudur?

- A) İnsanın seçme özgürlüğü yoktur.
- B) İnsan özgür iradesinden dolayı yaptıklarından sorumludur.
- C) İnsan iradesini kullanmakla sorumlu değildir.
- D) İrade insanın sorumluluğunu kaldırır.

12. Aşağıdakilerden hangisi şehadet kelimesi olarak adlandırılır?

- A) Allahümme salli alâ Muhammed.
- B) Sallallahü aleyhi vesellem.
- C) Radiyallahü anh.
- D) Eşhedü enlâ ilâhe illallah ve eşhedü enne Muhammeden abdühü ve rasûlüh.

13. Aşağıdakilerden hangisi imanın şartlarından biridir?

- A) Namaz kılmak
- B) Oruç tutmak
- C) Kaza ve kadere inanmak
- D) Zekat vermek

1. OTURUM

14. Hz. Muhammed (s.a.v.) “İnsan ölünce yaptığı bütün işler sona erer. Ancak üç şeyin sevabı devam eder. Bunlar; sadaka-i cariyeye, faydalı ilim ...” buyurmuştur. Hadiste geçen üçüncü şey aşağıdakilerden hangisidir?

A) Kendisine dua eden salih evlat
B) Namaz kılmak
C) Kelime-i Şehadet
D) Helal kazanç

15. Aşağıdakilerden hangisi din anlayışındaki farklılıkların sebeplerinden değildir?

A) İnsan yapısı
B) Doğa olayları
C) Ortam ve kültür
D) Siyaset

16. Yöneticilerin siyasi tercihleri, dinin değişik şekillerde anlaşılması ve yorumlanmasına sebep olmuştur.

Paragrafta aşağıdakilerden hangisine işaret edilmektedir?

A) Siyasi düşüncelerin, farklı dinî anlayışların ortaya çıkmasına sebep olduğuna
B) İnsan yapısındaki farklılıkların, farklı dinî anlayışlara sebep olduğuna
C) Ortam ve kültür farklılıklarının farklı din arayışlarına sebep olduğuna
D) Ekonomik farklılıkların farklı dinî anlayışlara sebep olduğuna

17. Mezhepler hakkında aşağıdakilerden hangisi söyle-nemez?

A) Dinin farklı anlaşılması sonucunda ortaya çıkan oluşumlardır.
B) Hz. Muhammed hayatta iken ortaya çıkmışlardır.
C) Mezheplerden birine bağlı kalma zorunluluğu yoktur.
D) Mezhepleri İslam ile özdeşleştirmek doğru değildir.

18. Laiklik hakkında aşağıdakilerden hangisi yanlıştır?

A) Din ve devlet işlerinin birbirinden ayrılmasıdır.
B) Devleti yönetenlerin, din kurallarını, devletin hiçbir işine karıştırmamalarıdır.
C) Din kurallarını hayatın dışında görmektir.
D) Dinin akıl ve bilimin ışığında algılanmasıdır.

19. Atatürk “Din, lüzumlu bir kurumdur. Dinsiz milletlerin devamına imkân yoktur.” demiştir.

Atatürk’ün sözünden aşağıdakilerden hangi sonuç çıkarılamaz?

A) Din lüzumlu bir kurumdur.
B) Milletler dinsiz de olsa devam edebilir.
C) Atatürk dini önemsemektedir.
D) Milletlerin devamı ancak dinle mümkündür.

20. • Tevrat: “... Hile yapmayın, birbirinize yalan söylemeyin.”
• İncil: “Ne mutlu yüreği temiz olanlara, çünkü onlar Allah’ı görecekler.”
• Kur’an: “Ey iman edenler!... Doğrularla beraber olun.”
• Konfüçyüs: “Doğruluktan ayrılma, yanlışlarını düzelt.”

Yukarıda verilen öğütler bizi aşağıdaki sonuçlardan hangisine ulaştırmaz?

A) İlahî dinlerin doğruluğa verdiği öneme
B) İlahî olmayan dinlerin doğruluğa önem verdiğine
C) Doğruluktan sapan milletlerin hayatlarının son bulduğuna
D) Doğruluğun evrensel bir değer olduğuna

İNGİLİZCE - 8

1.-20. sorularda boş bırakılan yerlere uygun düşen sözcük veya ifadeyi bulunuz.

1. A: Have you ever to Paris?
B: Yes, two times.

A) cooked B) been C) cleaned D) told

2. times have you been to France?

A) How much B) Where
C) When D) How many

3. They have eaten in Adana.

A) orange juice B) cola
C) içli köfte D) ayran

4. She is I have ever seen.

A) my English teacher
B) a handsome boy
C) friendly and happy
D) the most beautiful girl

5. Atatürk landed in Samsun on May 19th, 1919. It was the beginning of The Turkish

A) War of Independence.
B) food
C) carpets
D) Grand National Assembly.

6. I am years old now. I was 21 last year.

A) 20 B) 21 C) 22 D) 23

1. OTURUM

7. I was sleeping when the bell

- A) cooked B) visited C) studied D) rang

8. If, take an aspirin.

- A) I'm a policeman
B) you boil water
C) you have a headache
D) I give a party

9. You mustn't cross the street when the traffic light is

- A) green B) red C) yellow D) blue

10. I like books.

- A) reading B) boxing
C) travelling D) doing

11. 3 + 5 =

- A) one B) eight C) two D) ten

12. A cat can

- A) miaow B) fly C) read D) drive

13. A: Are there any oranges in the basket?

B:, there are some.

- A) Happy B) Sorry C) No D) Yes

14. How much is there in the glass?

- A) eggs B) sugar C) boys D) girls

15. A dishwasher is a machine which the dishes.

- A) keeps B) cuts C) irons D) washes

16. I like people are friendly.

- A) which B) whose C) who D) what

17. It's raining. You should take your

- A) swimsuit B) chocolate
C) sandwich D) umbrella

18. Lemonade is made from

- A) lemon. B) yoghurt.
C) ayran. D) milk.

19. A:

B: It's a good idea. Let's go.

- A) Go on.
B) Let's go to the cinema.
C) Where shall we go?
D) Turn right.

20. His hair is long. It isn't

- A) short B) clever C) happy D) big

ALMANCA - 8

1.-16. sorularda boş bırakılan yerlere uygun düşen sözcük veya ifadeyi bulunuz.

1. Peter: geht es dir?

Hans: Danke,

- A) Was / schön B) Wie / gut
C) Woher / schöner D) Warum / schlecht

2. ◇: geht es deinem Vater?

Δ: Danke, es geht ihm gut!

◇: Danke!

- A) Was B) Woher C) Wohin D) Wie

3. ◇: Können Sie mir den Weg zeigen?

Δ: Ja, ich kann Ihnen den Weg

Δ: Danke!

- A) sagen B) zeigt C) zeigen D) sagt

4. Manfred: Bitte, können Sie mir das Auto zeigen?

Walter :, ich zeige es Ihnen

Manfred: Vielen Dank!

- A) Hallo / viel B) Nein / gut
C) Natürlich / nicht D) Ja / gern

5. Monika: Können Sie Deutsch sprechen?

Helga : Ja, ich sehr gut Deutsch

Monika: Danke, sehr gut.

- A) kann / sprechen B) können / sprechen
C) sprechen / kann D) will / spricht

6. ◇: Wem gehören die Zeitungen?

Δ: Die Zeitungen gehören Freund.

◇: Danke!

- A) der B) den C) dem D) das

1. OTURUM

7. Hans: Wann gehst du ins Theater?

Petra: Ich gehe ins Theater, ich Zeit habe.

- A) daß B) denn C) als D) wenn

8. Ich arbeite in Deutschland, ich habe eine gute Arbeit.

- A) weil B) damit C) denn D) als

9. Sie freut sich das Geschenk.

- A) auf B) über C) um D) von

10. Ich Petra und ich 20 Jahre alt.

- A) heiße / bin B) bin / heißen
C) bist / heißt D) heißen / sein

11. Ankara is größer Konya.

- A) weil B) als C) so D) wie

12. Petra ist fleißig Petra.

- A) -er als B) als wie
C) so wie D) wie genauso

13. ♦: Wo liegt das Buch?

Δ: Das Buch liegt dem Tisch.

♦: Vielen Dank!

- A) im B) über C) ins D) auf

14. Walter Vater ist 50 Jahre alt.

- A) von B) -s C) des D) vom

15. Das Kind, Fieber hat, muß zum Arzt.

- A) der B) die C) den D) das

16. Ich habe meiner Frau Geschenk gekauft.

- A) ein B) eine C) einen D) einer

17. Aşağıdaki sözcüklerden hangisinin Türkçe karşılığı yanlış verilmiştir?

- A) der Reformer = Reformcu
B) die Türkische Große National Versammlung = Türkiye Büyük Millet Meclisi
C) der Gedanke = düşünce
D) Der Krieg = Barış

18. Aşağıdakilerden hangisi diğerlerinden farklıdır?

- A) Fahren B) schöner C) besser D) größer

19. Aşağıdakilerden hangisi diğerlerinden farklıdır?

- A) Der Hund B) Der Stuhl
C) Die Maus D) Die Katze

20. Aşağıdaki sıfatlardan hangisinin derecelendirilmesi yanlış verilmiştir?

	I. Positiv	II. Komperativ	III. Superlativ
A)	gut	guter	am gutesten
B)	schön	schöner	am schönsten
C)	viel	mehr	am meisten
D)	groß	größer	am größten

FRANSIZCA - 8

1.-14. sorularda boş bırakılan yerlere uygun düşen sözcük veya ifadeyi bulunuz.

1. Les épiciers vendent

- A) de la viande. B) du sucre.
C) des carottes. D) du pain.

2. Mon fils a sali ses souliers, il veut mettre de sa sœur.

- A) celle-ci B) celui C) celle D) ceux

3. Je connais cette jeune fille est étudiante.

- A) où B) que C) qui D) dont

4. Pour aller à la poste, à la première rue à droite.

- A) danser B) dormez C) buvez D) tournez

5. Montre-moi la robe tu as acheté.

- A) que B) de C) par D) sans

6. Le matin, au petit déjeuner, je prends thé ou café.

- A) du / de B) de / du C) du / du D) de / en

7. Chaque jour il faut boire

- A) des gâteaux secs.
B) cent grammes de fromage.
C) deux pains.
D) deux litres d'eau.

1. OTURUM

8., j'étais au lit.
A) La semaine prochaine
B) Demain
C) Hier
D) Le mois prochain
9. tu es rentré, j'allais sortir.
A) Pendant B) Quand
C) Devant D) Demain
10. S'il fait beau, nous à l'école à pied.
A) irons B) irez C) iront D) ira
11. J'ai mal tête.
A) au B) à la C) aux D) de la
12. A: A quelle heure êtes-vous sortie de chez vous?
B:
A) A 22 heures.
B) Je suis sortie avec mon mari.
C) Nous avons fait une sortie en avion.
D) Nous devons sortir.
13. A: Comment as-tu appris le français?
B:
A) Tu as appris une langue.
B) Je veux aller en France.
C) J'ai un ami français.
D) En suivant le cours.
14. Sezin: Je vais à la piscine.
Ecem: Qu'est-ce que tu dis?
Sezin:
A) Elle dit que tu vas à la piscine.
B) Je dis que vais à la piscine.
C) Tu dis que je vais à la piscine.
D) Il dit que tu vas à la piscine.
15. La chemise: 30 Euros.
Le pantalon: 45 Euros.
Yukarıdaki verilere göre aşağıdaki ifadelerden hangisi doğrudur?
A) La chemise est plus chère que le pantalon.
B) Le pantalon est moins cher que la chemise.
C) Le pantalon est aussi cher que la chemise.
D) Le pantalon est plus cher que la chemise.

16. "Je me lève 7 heures." cümlesinin (negative) olumsuz hâli hangisidir?
A) Ne te levé pas à 7 heures.
B) Je me lève pas à 7 heures.
C) Je ne me lève pas à 7 heures.
D) Il ne faut pas se lever à 7 heures.
17. "Où est l'école?" sorusunun cevabı hangisi olamaz?
A) L'école est devant la banque.
B) L'école est en face de la rue.
C) L'école est à côté de l'hôtel.
D) L'école est construite l'année dernière.
18. Elle salue ses amis.
Elle sourit.
Verilen cümlelerin (gérondif) hâli hangisidir?
A) Elle salue ses amis en souriant.
B) Il faut qu'elle salue ses amis.
C) Si elle salue ses amis, elle sourira.
D) Elle doit saluer ses amis et elle doit sourire.
19. "Ahmet est mon meilleur ami." cümlesinin Türkçe karşılığını işaretleyiniz.
A) Ahmet'le ortak arkadaşımız var.
B) Ahmet benim en iyi arkadaşımdır.
C) Artık, Ahmet benim arkadaşım değil.
D) Ahmet'in iyi bir arkadaşı var.
20. "Sakin ve sabırlı insanları seviyorum." cümlesinin Fransızca karşılığını işaretleyiniz.
A) J'aime les gens calmes et patients.
B) J'aime les gens méchants et gentils.
C) J'aime les gens grands et forts.
D) J'aime les gens pauvres et courageux.

TEST BİTTİ.
CEVAPLARINIZI KONTROL EDİNİZ.

Soracağınız bir şey var mı? Varsa şimdi sorunuz; sınav başladıktan sonra sorularınıza cevap verilmeyecektir.
Hazır mısınız?

Sınav okulun bütün salonlarında aynı anda başlayacağı için başlama zilini beraberce bekleyelim. Hepinize başarılar dileriz. **(Salon başkanları başlama ve biiş saatini tahtaya yazacaktır.)**

Bu soru kitapçığının her hakkı saklıdır. Hangi amaçla olursa olsun, kitapçığın tamamının veya bir kısmının Millî Eğitim Bakanlığı Eğitim Teknolojileri Genel Müdürlüğü'nün yazılı izni olmadan kopya edilmesi, fotoğraflarının çekilmesi, bilgisayar ortamına alınması, herhangi bir yolla çoğaltılması, yayımlanması veya başka bir amaçla kullanılması yasaktır. Bu yasağa uymayanlar, doğabilecek cezai sorumluluğu ve kitapçığın hazırlanmasındaki malî külfeti peşinen kabullenmiş sayılır.

CEVAP ANAHTARI**1.OTURUM****TÜRKÇE 6**

1. C
2. D
3. B
4. A
5. D
6. D
7. C
8. A
9. D
10. B
11. C
12. D
13. A
14. B
15. A
16. C
17. C
18. B
19. B
20. A

FEN BİLGİSİ 6

1. C
2. A
3. B
4. B
5. A
6. C
7. B
8. D
9. D
10. A
11. C
12. D
13. C
14. A
15. B
16. A
17. D
18. C
19. B
20. D

DİN KÜL. VE AHL. BİLG. 6

1. B
2. D
3. B
4. C
5. B
6. C
7. A
8. B
9. D
10. A
11. C
12. D
13. D
14. C
15. A
16. C
17. C
18. D
19. B
20. A

ALMANCA 6

1. D
2. C
3. D
4. B
5. A
6. C
7. D
8. C
9. B
10. A
11. A
12. D
13. B
14. A
15. B
16. D
17. A
18. C
19. B
20. A

MATEMATİK 6

1. A
2. B
3. C
4. D
5. C
6. B
7. C
8. C
9. B
10. D
11. C
12. D
13. A
14. B
15. A
16. D
17. B
18. A
19. D
20. A

SOSYAL BİLGİLER 6

1. C
2. B
3. A
4. D
5. B
6. C
7. A
8. C
9. B
10. B
11. C
12. D
13. D
14. C
15. A
16. A
17. A
18. D
19. C
20. D

İNGİLİZCE 6

1. D
2. C
3. D
4. B
5. A
6. C
7. D
8. C
9. B
10. A
11. A
12. D
13. B
14. A
15. B
16. D
17. A
18. C
19. B
20. A

FRANSIZCA 6

1. D
2. C
3. D
4. B
5. A
6. C
7. D
8. C
9. B
10. A
11. A
12. D
13. B
14. A
15. B
16. D
17. A
18. C
19. B
20. A

CEVAP ANAHTARI**1.OTURUM****TÜRKÇE 8**

1. C
2. D
3. B
4. D
5. A
6. B
7. C
8. B
9. A
10. D
11. B
12. D
13. C
14. D
15. C
16. C
17. C
18. A
19. B
20. A

FEN BİLGİSİ 8

1. B
2. D
3. A
4. C
5. D
6. A
7. D
8. B
9. C
10. A
11. A
12. C
13. B
14. C
15. D
16. D
17. C
18. B
19. A
20. D

DİN KÜL. VE AHL. BİLG. 8

1. C
2. B
3. C
4. A
5. B
6. C
7. D
8. C
9. D
10. B
11. B
12. D
13. C
14. A
15. B
16. A
17. B
18. C
19. B
20. C

ALMANCA 8

1. B
2. D
3. C
4. D
5. A
6. C
7. D
8. C
9. B
10. A
11. B
12. A
13. D
14. B
15. D
16. C
17. D
18. A
19. B
20. A

MATEMATİK 8

1. A
2. D
3. A
4. D
5. D
6. B
7. A
8. B
9. C
10. A
11. C
12. C
13. D
14. B
15. C
16. C
17. A
18. B
19. D
20. B

İNK. TAR. VE ATATÜRK. 8

1. A
2. B
3. D
4. B
5. C
6. A
7. C
8. D
9. B
10. C
11. A
12. A
13. C
14. D
15. B
16. C
17. A
18. D
19. C
20. A

İNGİLİZCE 8

1. B
2. D
3. C
4. D
5. A
6. C
7. D
8. C
9. B
10. A
11. B
12. A
13. D
14. B
15. D
16. C
17. D
18. A
19. B
20. A

FRANSIZCA 8

1. B
2. D
3. C
4. D
5. A
6. C
7. D
8. C
9. B
10. A
11. B
12. A
13. D
14. B
15. D
16. C
17. D
18. A
19. B
20. A