



T.C.
MİLLÎ EĞİTİM BAKANLIĞI

i-1

AÇIK İLKÖĞRETİM OKULU
2010-2011 ÖĞRETİM YILI 1. DÖNEM SINAVI
1. OTURUM: 14 KASIM 2010 Saat:10.00

DİKKAT: 1. Bu oturumda, 13 derse ait test soruları yer almaktadır.

TÜRKÇE - 6
MATEMATİK - 6
FEN VE TEKNOLOJİ - 6
SOSYAL BİLGİLER - 7
İNGİLİZCE - 7
ALMANCA - 7
FRANSIZCA - 7

DİN KÜL. VE AHLAK BİLGİSİ - 7
İNKILAP TARİHİ VE ATATÜRKÇÜLÜK - 8
İNGİLİZCE - 8
ALMANCA - 8
FRANSIZCA - 8
DİN KÜL. VE AHLAK BİLGİSİ - 8

2. Adaylar soru kitapçıklarını kontrol ederek baskı hatası olan kitapçığın değiştirilmesi için sınav başlamadan önce salon sorumlularına başvuracaklardır.
3. Sınavda hesap makinesi, cep telefonu ve çağrı cihazı kullanılması yasaktır.

CEVAP KÂĞIDI İLE İLGİLİ AÇIKLAMALAR

1. Cevap kâğıdı üzerine yapacağınız işaretlemelerde kurşunkaleminden başka hiçbir kalem kullanmayınız.
2. Verilen cevap kâğıdında yazılı olan bilgilerin size ait olup olmadığını kontrol ediniz. Size ait değilse salon sorumlularına söyleyiniz. Adınıza yazılı cevap kâğıdı bulunamıyorsa veya cevap kâğıdınız kullanılamayacak şekilde bozursa, verilecek olan yedek cevap kâğıdına, kimliğinizle ilgili bilgileri, salon başkanının açıklamalarına göre yazınız.
3. Sınavda tek cevap kâğıdı kullanılacaktır. Cevaplarınızı cevap kâğıdındaki ilgili sütunlara aşağıdaki örnekte olduğu gibi yuvarlağı, dışına taşırmadan işaretleyiniz. Yanlış karalamalarınızı düzeltirken yuvarlağın içini temizce siliniz. Cevap kâğıdınızı buruşturmayınız, katlamayınız ve üzerine gereksiz işaret koymayınız.

ÖRNEK KODLAMA:



SORU KİTAPÇIĞI İLE İLGİLİ AÇIKLAMALAR

1. Her ders için 20 soru bulunmaktadır. Bu oturum için, toplam 150 dakikalık cevaplama süreniz vardır.
NOT: Öğrencinin kaç dersi olursa olsun, isterse bu sürenin tamamını kullanabilir.
2. Her sorunun dört seçeneğı vardır. Dört seçenekten sadece bir tanesi doğru cevaptır. Doğru bulduğunuz seçeneğı, cevap kâğıdında o soru için ayrılan yerde bularak işaretleyiniz.
3. Cevaplarınız puanlanırken her doğru cevaba puan verilecek, yanlış cevaplarınız dikkate alınmayacaktır.
4. Size ayrı bir karalama kâğıdı verilmeyecektir. Soru kitapçığınızın içindeki boş alanları karalama yapmak için kullanabilirsiniz.
5. Sınavın bitiminde cevap kâğıdınızı ve soru kitapçığınızı salon sorumlularına teslim etmeyi unutmayınız.

BAŞLAYINIZ DENİLMEDEN SORU KİTAPÇIĞINI AÇMAYINIZ.

1. OTURUM

TÜRKÇE – 6

1. Aşağıdaki cümlelerin hangisinde “baş” sözcüğü deyim içinde kullanılmıştır?

- A) Hızlı bir hareketle başındaki şapkayı çıkardı.
- B) Herşeyin başı sevgidir.
- C) Bütün gün başı ağrıdı.
- D) Balık yetiştirmeye kalkmış başına iş açmıştı.

2. Aşağıdakilerden hangisi emir kipinde çekimlenmiştir?

- A) Arayacak
- B) Gitsek
- C) Bulmalı
- D) Tut

3. Aşağıdaki fiillerden hangisi şimdiki zamana göre çekimlenmiştir?

- A) Sorar
- B) Alıyor
- C) Durdular
- D) Bulacak

4. Aşağıdaki cümlelerin hangisinde belirtisiz isim tamlaması vardır?

- A) Öykülerimi genellikle yemek masasında yazardım.
- B) Otelin çiçeklerle süslü bahçesinin önünde durmuştuk.
- C) Ağacın dalları pencereye kadar uzanıyordu.
- D) Evin kapısını açık unutmuştu.

5. Güneş yüzünü göstermeye başlamıştı () Ya-vaşça yatağımdan kalktım ve tertemiz () yeni ütülenmiş () solgun renkli üniformamı giydim.

Parantezle belirtilen yerlere sırasıyla hangi noktalama işaretleri getirilmelidir?

- A) (.) (.) (.)
- B) (.) (.) (.)
- C) (.) (;) (;)
- D) (.) (.) (;)

6. “İle” aşağıdaki cümlelerin hangisinde edattır?

- A) Onur ile Sema beraber çalışacaklar.
- B) Oraya araba ile gidebiliriz.
- C) Sevgi ile merhamet vardı gözlerinde.
- D) Ev ile okul arasında gidip geldi.

7. Aşağıdakilerin hangisinde soru anlamı bir zamirle sağlanmıştır?

- A) Kaç saattir burada bekliyorsun?
- B) Neden bahçedeki ağaçları sulamadın?
- C) Akşam hangi filmi izleyelim?
- D) Bu işe hanginiz isteklisiniz?

8. Bir düşünceyi, bir duyguyu, bir ilkeyi kısa ve kesin bir biçimde anlatan, genellikle kim tarafından söylendiği bilinen özlü sözlerle ne ad verilir?

- A) Deyim
- B) Atasözü
- C) Özdeyiş
- D) Hikâye

9. Aşağıdaki sözcüklerden hangisi iyelik eki almıştır?

- A) Dışarıdan
- B) Evimiz
- C) Masada
- D) Güller

10. Genellikle olağanüstü kişilere, olaylara, serüvenlere yer verilen ve ağızdan ağıza, kuşaktan kuşağa anlatılan hayal ürünü hikâyelere ne ad verilir?

- A) Masal
- B) Anı
- C) Biyografi
- D) Şiir

1. OTURUM

11. Aşağıdaki sözcüklerden hangisi kalınlık - incelik uyumuna uyar?

- A) Elma B) Kardeş C) Boğaz D) Anne

12. Aşağıdakilerin hangisinde somut ve soyut sözcükler birlikte verilmiştir?

- A) Anne - araba B) Çanta - kalem
C) Sevinç - dilek D) Yiğitlik - kitap

13. Aşağıdaki altı çizili kelimelerin hangisinde ünsüz benzeşmesi vardır?

- A) Bu adamı eskiden beri tanırım.
B) Sokağımıza her gün sütçü gelirdi.
C) Masadaki bütün kitapları numaralandırılmış.
D) Akşamki filmi severek izlemiş.

14. Aşağıdaki cümlelerin hangisinde ünlü düşmesine örnek bir sözcük vardır?

- A) Odadaki bütün ışıkları yaktı.
B) Koltuğunda saatlerdir kitap okuyor.
C) Çayına her zaman iki şeker atar.
D) Omzunda bir ağı varmış.

15. Aşağıdakilerden hangisi öykünün bölümlerinden biri değildir?

- A) Serim B) Düğüm
C) Tekerleme D) Çözüm

16. Aşağıdakilerin hangisinde altı çizili sözcük mecaz anlamıyla kullanılmıştır?

- A) Kıyafetinden onun da bir gazeteci olduğu anlaşılıyordu.
B) Tiyatroda o gece bir komedi oynuyordu.
C) Eczaneye, boncuklu kapıyı şıkırdatarak girdi.
D) Evine gittik mi, ağırlayacağım diye parçalanır.

17. Aşağıdakilerden hangisi topluluk ismi değildir?

- A) Takım B) Kuşlar
C) Ekip D) Sürü

18. Aşağıdakilerin hangisinde ünsüz yumuşaması yoktur?

- A) Bu ağacı, ben doğunca dikmişler buraya.
B) Kitabı büyük bir özenle eline aldı.
C) Pencere açılınca kuş sesleri geldi kulağına.
D) Usta, işin püf noktalarını anlatıyordu.

19. “Çeşme - pınar” sözcükleri arasındaki anlam ilişkisi aşağıdakilerin hangisinde vardır?

- A) Özlem - hasret B) Uzun - ince
C) Çalışkan - tembel D) Küçük - büyük

20. Aşağıdakilerin hangisinde işaret sıfatı kullanılmıştır?


- A) Yol çalışmalarına ara verildi.
B) Çocukluğum bu mahallede geçti.
C) Eşyaları yeni evimize götürüyor.
D) Elinde iki kitapla çıka geldi.

1. OTURUM

MATEMATİK – 6

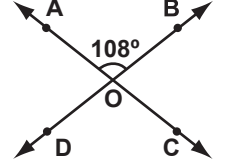
1. Üç basamaklı 5a2 sayısı 6 ile bölünebildiğine göre, a'nın en büyük değeri kaçtır?
A) 5 B) 7 C) 8 D) 9
2. Aralarında asal olan iki sayının EKOK'u 325 tir. Bu sayılardan biri 25 olduğuna göre, diğeri kaçtır?
A) 21 B) 17 C) 15 D) 13
3. Aşağıdakilerden hangisi doğrudur?
A) $|-4| = -|+4|$ B) $|-5| = -5$
C) $|-6| > |+5|$ D) $|-7| < |-6|$
4. $\left(\frac{3}{13} - \frac{4}{9} - \frac{2}{5}\right) - \left(\frac{3}{13} + \frac{5}{9} + \frac{3}{5}\right)$ işleminin sonucu kaçtır?
A) -3 B) -2 C) 0 D) 1
5. $13,275 - 5,025 + 21,75$ işleminin sonucu kaçtır?
A) 15,225 B) 20
C) 30 D) 35,275
6. Bir okulda 480 erkek, 520 kız öğrenci vardır. Bu okuldaki öğrencilerin yüzde kaç kız öğrencidir?
A) 24 B) 26 C) 48 D) 52
7. $A = \{3, 4, 5, 6, 7, 8\}$ ve $B = \{5, 6, 9, 10, 11\}$ kümeleri veriliyor. Buna göre, $A \cup B$ kümesi kaç elemanlıdır?
A) 8 B) 9 C) 10 D) 11

8. Verilen şeklin sembolle gösterimi aşağıdakilerden hangisidir?



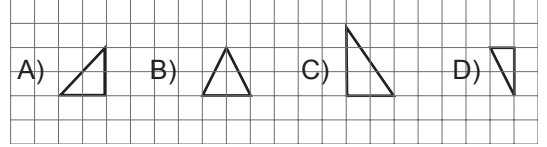
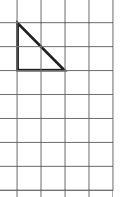
- A) $[AB]$ B) AB C) $[AB]$ D) $[BA]$

9. Şekilde AB ve BD doğruları O noktasında kesişmektedir. $s(\widehat{AOB}) = 108^\circ$ olduğuna göre, $s(\widehat{AOD}) + s(\widehat{BOC})$ kaç derecedir?

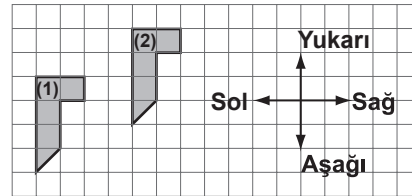


- A) 72 B) 144 C) 162 D) 180

10. Yanda verilen üçgen aşağıdaki üçgenlerden hangisine eşittir?



- 11.

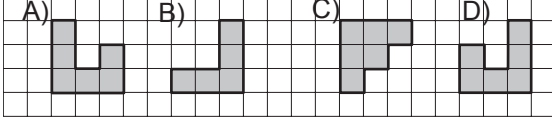
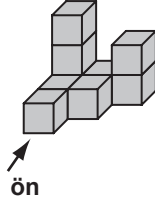


1 numaralı şekle aşağıdakilerden hangisindeki ötelemeler yapılırsa 2 numaralı görüntü oluşur?

- A) 3 birim sola, 2 birim aşağı
B) 4 birim sola, 1 birim aşağı
C) 5 birim sağa, 3 birim yukarı
D) 4 birim sağa, 2 birim yukarı

1. OTURUM

12. Verilen yapının önden görünümünü aşağıdakilerden hangisidir?



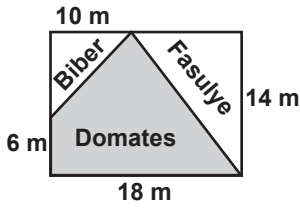
13. Tümlerinin ölçüsü ile bütünlerinin ölçüsünün toplamı 160° olan açının ölçüsü kaç derecedir?

A) 20 B) 35 C) 55 D) 60

14. Taban uzunluğu 24,3 cm ve çevre uzunluğu 74,3 cm olan ikizkenar üçgenin eş kenarlarından birinin uzunluğu kaç metredir?

A) 0,25 B) 0,5 C) 2,5 D) 5

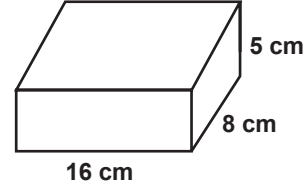
15.



Tel çekilerek üç bölgeye ayrılan dikdörtgen biçimindeki bir tarlaya şekildeki gibi biber, fasulye ve domates ekiliyor. Şekilde verilen uzunluklara göre, domates ekili bölge kaç metrekaredir?

A) 60 B) 96 C) 112 D) 156

16.



Yukarıdaki dikdörtgenler prizmasının alanı kaç santimetrekaredir?

A) 124 B) 248 C) 496 D) 640

17. Ayrit uzunlukları 3 cm, 5 cm ve 6 cm olan dikdörtgenler prizmasının hacmi kaç santimetreküptür?

A) 33 B) 48 C) 90 D) 108

18. Bir zar atıldığında üst yüze gelen sayının 2 ile bölünebilen bir sayı olma olasılığı nedir?

A) $\frac{1}{12}$ B) $\frac{1}{6}$ C) $\frac{1}{3}$ D) $\frac{1}{2}$

19. $5^3 + 10^2 + 4^3$ işleminin sonucu kaçtır?

A) 47 B) 127 C) 223 D) 289

20. Bir babanın yaşı, oğlunun yaşının 3 katından 2 eksiktir. Baba 46 yaşında olduğuna göre, oğlunun yaşı kaçtır?

A) 16 B) 15 C) 14 D) 13

1. OTURUM

FEN ve TEKNOLOJİ – 6

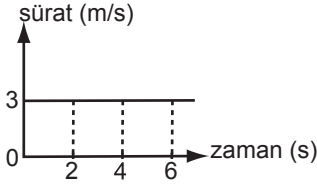
1.

Yol (m)	0	6	12	18
Zaman (s)	0	2	4	6

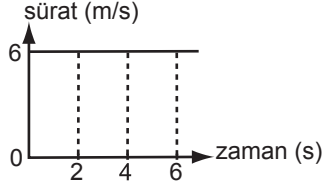
Kaya 6 saniye boyunca yürüyor ve arkadaşları iki saniye aralıklarla Kaya'nın aldığı yolu yukarıdaki tabloya kaydediyorlar.

Bu tabloya göre, Kaya'ya ait sürat-zaman grafiği hangi seçenekte doğru verilmiştir?

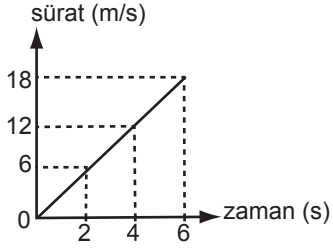
A)



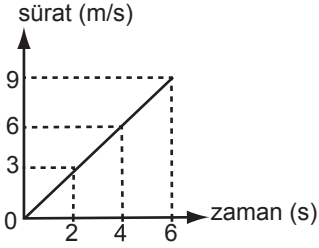
B)



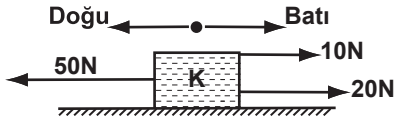
C)



D)



2.



Sürtünmesiz bir zemin üzerinde duran K cismine şekildeki kuvvetler uygulanıyor.

Aşağıdakilerden hangisi bu kuvvetlerle birlikte aynı anda uygulanırsa K cismi hareketsiz kalır?

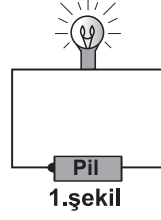
A) Batıya 10 N

B) Doğuya 10 N

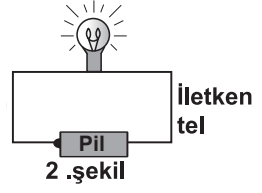
C) Batıya 20 N

D) Doğuya 20 N

3.



1.şekil



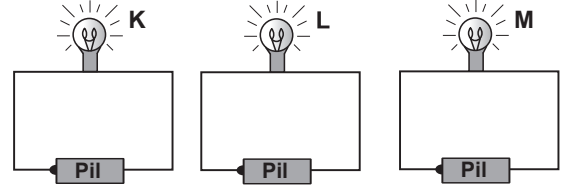
2.şekil

Mert, özdeş pil ve ampullerle 1. şekildeki devreyi 2 ℓ uzunluğunda, 2. şekildeki devreyi ise ℓ uzunluğunda aynı cins iletken tel kullanarak kuruyor. Daha sonra her iki devredeki ampul parlaklıklarını gözlemliyor.

Mert, bu etkinlik ile aşağıdaki sorulardan hangisine cevap aramıştır?

- A) İletkenin kalınlığını değiştirmek ampulün parlaklığını değiştirir mi?
- B) İletkenin uzunluğunu değiştirmek ampulün parlaklığını değiştirir mi?
- C) Pil sayısını değiştirmek ampulün parlaklığını değiştirir mi?
- D) Ampul sayısını değiştirmek ampulün parlaklığını değiştirir mi?

4.



Ege, özdeş pil ve tellerle kurulu devrelere K, L ve M ampullerini şekildeki gibi bağladığında ampullerin parlaklık sıralamasının $L > M > K$ olduğunu görüyor.

Buna göre ampullerin dirençlerinin büyükten küçüğe sıralanışı hangi seçenekte doğru verilmiştir?

A) $L > M > K$

B) $L > K > M$

C) $K > L > M$

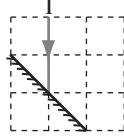
D) $K > M > L$

1. OTURUM

5. Ses aşağıdaki ortamların hangisinde yayılır?

- A) Boşluk B) Su
C) Hava D) Demir


6. I ışık ışını düzlem aynaya şekildeki gibi gönderiliyor. I'nın aynadan yansıması hangi seçenekte doğru verilmiştir? (Bölmeler eşit karelerden oluşmaktadır.)



- A) B)
C) D)

7. Yaşadığı yerin bundan 20 milyon yıl öncesine kadar denizlerle kaplı olduğunu söyleyen bir bilim insanının verdiği örneklerden hangisi bu bölgeye ait olamaz?

- A) B)

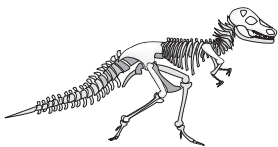


Deniz yıldızı fosili

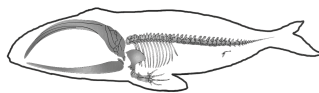


Balık fosili

- C) D)



Dinozor fosili



Balina fosili

8. Toprak çeşitleri ile ilgili aşağıdaki ifadelerde boş bırakılan yerlere hangi seçeneklerdeki yazılmalıdır?

I- Pamuk, karpuz gibi bazı bitkiler toprak severler.

II- Tarıma en elverişli toprak çeşidi topraktır.

III- toprak, kiremit, tuğla ve seramik yapımında kullanılır.

I	II	III
A) Kireçli	Humuslu	Kumlu
B) Kumlu	Humuslu	Killi
C) Killi	Kireçli	Humuslu
D) Kumlu	Killi	Humuslu

9. Aşağıdakilerden hangisi maddelerin ortak özelliklerinden değildir?

- A) Kütle B) Eylemsizlik
C) Genleşme D) Tanecikli yapıda olma

10. Aşağıdaki tanecik modellerinden hangisi element molekülünü temsil eder?

- A) B)
C) D)

1. OTURUM

11. X: Akışkandır, sıkıştırılabilir. Tanecikleri titreşim ve öteleme hareketleri yapar.
Y: Akışkan değildir. Sıkıştırılamaz. Tanecikleri sadece titreşim hareketi yapar.
Özellikleri verilen X ve Y maddelerinin fiziksel hâlleri aşağıdakilerden hangisidir?

	X	Y
A)	Katı	Sıvı
B)	Gaz	Katı
C)	Sıvı	Gaz
D)	Gaz	Sıvı

12. Maddeler arasında ısı alışverişinin gerçekleşebilmesi için maddeler aşağıdakilerden hangisi bakımından birbirinden farklı olmalıdır?

- A) Tanecik türleri
B) Fiziksel hâlleri
C) Sıcaklıkları
D) Tanecik büyüklükleri

13. Isı yalıtım malzemeleri;

I- Amacına uygun seçilmelidir.

II- Çevreye zarar vermemelidir.

III- Maliyet - yarar dengesine göre seçilmelidir.

İfadelerinden hangileri doğrudur?

- A) I - III
B) II - III
C) I - II
D) I - II - III

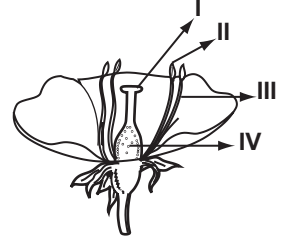
14. Aşağıdakilerden hangisi hücre zarının görevlerindendir?

- A) Oksijenli solunum yapmak
B) Hücreye madde giriş çıkışını kontrol etmek
C) Hücre faaliyetlerini denetlemek
D) Fazla maddeleri depo etmek

15. Aşağıdakilerden hangisi dişi üreme organlarının kısımlarından değildir?

- A) Yumurta kanalı
B) Yumurtalık
C) Döl yatağı
D) Testis

16. Döllenme ile tohum taslağı, tohuma dönüşeceğinden çevrenin olumsuz etkilerinden korunmalıdır.



Buna göre şekildeki çiçekte tohum taslağı kaç numaralı kısımdadır?

- A) I
B) II
C) III
D) IV

17. Aşağıdakilerden hangisi vücudumuzdaki kemiklerin görevlerinden biri değildir?

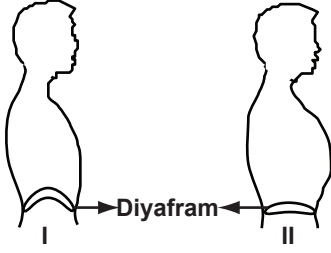
- A) İç organların çalışmasını düzenlemek
B) Vücudun kalsiyum deposu olmak
C) Bazı iç organları korumak
D) Kan hücreleri üretmek

18. Ali radyo dinlerken, bir hastanın acil olarak B kan grubu kana ihtiyacı olduğunu öğreniyor. Ali'nin bu hastaya kan verebilmesi için hangi kan grubundan olması gerekir?

- A) A veya 0
B) AB veya A
C) B veya 0
D) B veya AB

1. OTURUM

19.



Yukarıdaki şekilde insanda diyaframın farklı durumları verilmiştir.

Buna göre aşağıdaki yorumlardan hangisi doğrudur?

- A) I de soluk verilmiştir.
- B) II de soluk verilmiştir.
- C) I de göğüs kafesi genişlemiştir.
- D) II de göğüs kafesi daralmıştır.

20. Aşağıdakilerden hangisi daha çok sigara bağımlılarında görülebilen hastalıklardandır?

- A) Şeker hastalığı
- B) Akciğer kanseri
- C) Menenjit
- D) Kolera

SOSYAL BİLGİLER – 7

1. Aşağıdakilerden hangisi sözlü iletişim becerisidir?

- A) Empati kurma
- B) Güzel konuşma
- C) Dikkatli dinleme
- D) Temiz giyinme

2. Aşağıdaki uygulamalardan hangisi Atatürk'ün iletişime önem verdiğini gösterir?

- A) Dil ve Tarih-Coğrafya Fakültesi'ni kurdurması
- B) Anadolu Ajansı'nı açtırması
- C) Özel hayatın gizliliğine önem vermesi
- D) Medeni Kanun'un çıkmasına öncülük etmesi

3. Aşağıdakilerden hangisi çalışma hakkının en iyi şekilde kullanılabilmesi için devlete düşen görevlerden biri değildir?

- A) İş güvencesi ve koruyucu standartların sağlanması
- B) İşçi sağlığı ve güvenliğinin sağlanması
- C) İş bulma olanaklarının yaratılması
- D) İşin gerektirdiği mesleki becerinin edinilmesi

4. Türkiye'den yurt dışına daha çok hangi nedenlerden göç edilmektedir?

- A) Ekonomik
- B) Sosyal
- C) Siyasal
- D) Dinsel

5. Anadolu kapılarının Türklere açılmasını sağlayan savaş, aşağıdakilerden hangisidir?

- A) Miryokefalon
- B) Köseadağ
- C) Malazgirt
- D) Pasinler

1. OTURUM

6. Aşağıdakilerden hangisi I. Alaeddin Keykubat dönemi olaylarından değildir?

- A) Alanya'nın fethi
- B) Yassı Çimen Savaşı
- C) Suğdak'ın fethi
- D) Köseadağ Savaşı

7. Türkiye Selçuklularının ticareti geliştirmek için yollar üzerinde kurdukları yapı, aşağıdakilerden hangisidir?

- A) Medrese
- B) Kervansaray
- C) Darüşşifa
- D) İmaret

8. Anadolu'daki diğer Türk beyliklerini hâkimiyetine alarak siyasi birliği büyük ölçüde gerçekleştiren Osmanlı hükümdarı, aşağıdakilerden hangisidir?

- A) Orhan Bey
- B) I. Murat
- C) Osman Bey
- D) Yıldırım Bayezit

9. I- İstanbul'un Fethi
II- I. Kosova Savaşı
III- Mohaç Savaşı
IV- Osmanlıların Rumeli'ye Geçişi

Verilen olayların kronolojik sırası aşağıdakilerden hangisidir?

- A) IV - II - I - III
- B) I - IV - III - II
- C) IV - III - II - I
- D) I - II - III - IV

10. Hafif atlı birlikler olup sınır boylarında bulunan öncü kuvvetlerdi.

Tanımı verilen Osmanlı askerî sınıfı, aşağıdakilerden hangisidir?

- A) Yeniçeriler
- B) Akıncılar
- C) Leventler
- D) Tımarlı sipahiler

11. Aşağıdakilerden hangisi Atatürk'ün tarımı desteklemek ve çiftçiyi kalkındırmak için yaptığı çalışmalar arasında yer almaz?

- A) Tarım Kredi Kooperatiflerinin kurulması
- B) Aşar vergisinin kaldırılması
- C) Kabotaj Kanunu'nun çıkarılması
- D) Çağdaş üretim yapan örnek çiftlikler kurulması

12. Aşağıdakilerden hangisi Türklerde meslek edindiren kuruluşlardan biridir?

- A) Darüşşifa
- B) Mahalle Mektebi
- C) İmaret
- D) Enderun

13. Yazı, ilk olarak aşağıdaki uygarlıkların hangisinde kullanılmıştır?

- A) Sümer
- B) İyon
- C) Lidya
- D) Frig

14. İbni Sina'nın bilime katkısı daha çok aşağıdaki alanlardan hangisinde olmuştur?

- A) Coğrafya
- B) Tıp
- C) Astronomi
- D) Tarih

15. 1876'da kabul edilen Kanunuesasi ile aşağıdaki dönemlerden hangisi başlamıştır?

- A) Cumhuriyet
- B) Meşrutiyet
- C) Tanzimat
- D) Mutlakiyet

16. • Halk, kendi seçtiği yöneticiler tarafından yönetilir.

• Millet egemenliğini, anayasanın koyduğu esaslara göre ve yetkili organlar eliyle kullanır.

Bu özelliklere sahip devlet, aşağıdakilerden hangisidir?

- A) Oligarşik devlet
- B) Teokratik devlet
- C) Demokratik devlet
- D) Monarşik devlet

1. OTURUM

17. Demokrasilerde vatandaşların yönetime katılma ve yöneticileri denetleme yolu, aşağıdakilerden hangisidir?

- A) Seçme ve seçilme hakkını kullanmak
- B) İyi bir meslek sahibi olmak
- C) Askerlik yapmak
- D) Vergi vermek

18. Aşağıdakilerden hangisi Çanakkale Zaferi'nin sonuçlarından biri değildir?

- A) Mustafa Kemal, "Anafartalar Kahramanı" olarak tanındı.
- B) Rusya'da çarlık rejimi yıkıldı ve Rusya savaştan çekilmek zorunda kaldı.
- C) Türk askeri, vatanseverliğini ve kahramanlığını tüm dünyaya gösterdi
- D) İstanbul, İtilaf Devletleri tarafından işgal edildi.

19. Dünyada açlıkla mücadele etmek ve beslenme şartlarını iyileştirmek amacıyla çalışmalar yapan BM Gıda ve Tarım Örgütü'nün kısaltması, aşağıdakilerden hangisidir?

- A) UNICEF
- B) FAO
- C) UNESCO
- D) İLO

20. Aşağıdakilerden hangisi çevre sorunlarına duyarlı bir bireyin yapmaması gereken bir davranıştır?

- A) Yeşili ve ormanı korumak
- B) Plastik yerine cam ve kâğıt malzemeleri kullanmak
- C) Diş fırçalarken musluğu açık bırakmak
- D) Ulaşımda toplu taşıma araçlarını kullanmak

İNGİLİZCE – 7

1 - 20. sorularda boş bırakılan yerlere uygun gelen kelime ya da ifadeyi işaretleyiniz.

1. She is a slow driver. She drives

- A) happily
- B) loudly
- C) slowly
- D) early

2. Mary is 65 years old. Tom is 50 years old. Mary is than Tom.

- A) smaller
- B) taller
- C) fatter
- D) older

3. I can't buy that car it is very expensive.

- A) when
- B) while
- C) because
- D) before

4. People mustn't cigarette in public buildings.

- A) smoke
- B) take
- C) buy
- D) eat

5. Martha's hair style is different Susan's.

- A) to
- B) as
- C) than
- D) from

6. A fish can

- A) fly
- B) run
- C) swim
- D) walk

7. My mother is the kitchen.

- A) in
- B) at
- C) on
- D) to

1. OTURUM

8. The cat is looking at

- A) myself B) yourself
- C) itself D) herself

9. I Mary last week.

- A) am meeting B) will meet
- C) meet D) met

10. Be careful! You driving too fast.

- A) have B) are C) am D) is

11. He is tea now.

- A) learning B) playing
- C) drinking D) going

12. She gets up at 7 o'clock

- A) every morning B) at the moment
- C) last week D) next month

13. Ayşe is girl in our class.

- A) the most intelligent
- B) the most crowded
- C) the highest
- D) the lowest

14., please. It's too hot.

- A) Write a letter
- B) Open the window
- C) Read newspaper
- D) Speak English

15. The weather is cold.

- A) You should wear a coat.
- B) You shouldn't go to bed late.
- C) You should brush your teeth.
- D) You shouldn't watch TV.

16. If I knew the answer of the question,

- A) I would lend you some.
- B) I would tell it to you.
- C) I would have a party.
- D) I would visit them.

17. I'm afraid,

- A) it will rain tomorrow.
- B) we will win the game.
- C) I will learn English next year.
- D) she will call you tonight.

18. I used to but now I have a bird.

- A) read magazines
- B) have a dog
- C) be fat
- D) live there

19. A: do you drink milk?

B: Once a day.

- A) How much B) How many
- C) How long D) How often

20. A: Why were you late?

B: Because

- A) she was 2 years old.
- B) the traffic was heavy.
- C) Tom was at school.
- D) it was sunny yesterday.

1. OTURUM

ALMANCA – 7

1. - 16. sorularda boş bırakılan yerlere uygun gelen kelime ya da ifadeyi işaretleyiniz.

1. Das Auto um 10 Uhr

- A) kommst / an B) an / kommen
C) kommt / an D) kommen / an

2. Ich gern im Supermarkt

- A) steigt / ein B) kommt / an
C) fahre / ab D) kaufe / ein

3. Unser Haus unsere Familie.

- A) aber B) seit C) und D) bis

4. Der Unterricht um 9:00 Uhr

- A) fängt / an B) fährt / ab
C) kommt / zurück D) steigt / um

5. Atatürk ist Selanik

- A) geboren / in B) geboren / geworden
C) getötet / geboren D) in / geboren

6. Hans spielt Klavier. Er will Musiker

- A) können B) sein
C) werden D) habe

7. Ich will heute abend ins Kino

- A) gehen B) werden
C) fliegen D) schwimmen

8. Entschuldigen Sie bitte! Kann ich Sie etwas

- A) sein B) werden
C) fragen D) wollen

9. Atatürk ist 10 November 1938

- A) am / geboren B) gestorben / am
C) ins / geboren D) am / gestorben

10. Δ: Guten Tag! Wie heißt du?
O: Guten Tag! Ich Peter.

- A) bist B) heiße C) ist D) heißen

11. Δ: Wohin legst du das Buch?
O: Ich lege das Buch den Tisch.

- A) zwischen B) über
C) auf D) ins

12. Δ: Was sind Sie von Beruf?
O: Ich Lehrer.

- A) bin B) bist C) heißt D) sind

1. OTURUM

13. Δ: Kann ich dich etwas ?

O: **Ja,**

- A) fragen / natürlich! B) natürlich! / fragen
C) fragen / warum? D) werden / vielleicht

14. Δ : geht es Ihnen?

O: Danke, gut.

- A) Wo B) Wie C) Wer D) Was

15. Δ : Was ist sie?

O: Sie ist

- A) Lehrerin
C) Lehrer
B) Arzt
D) Bauer

16. Monika: Wann hast du Geburtstag?

Tanja : Ich habe 20 Oktober Geburtstag.

Monika: Ich gratuliere dir Geburtstag.

- A) zum / am
C) von / aus
- B) am / zum
D) um / zu

17. Aşağıdakilerden hangisi ismin çoğul hâli olarak verilmiştir?

- A) die Heizungen B) die Post
C) der Teppich D) das Buch

18. Aşağıdaki eşleştirmelerden hangisi yanlıştır?

- A) aufstehen = Ayağa kalkmak
B) das Bad = Oda
C) sich waschen = Yıkamak
D) der Apfel = Elma

19. "Ich gehe zum Arzt, weil ich krank bin."
cümlesinin Türkçe karşılığı aşağıdakilerden
hangisidir?

- A) Hasta olduğum için bugün doktora gitmek istiyorum.
B) Doktora gidiyorum hastayım.
C) Hastalandığımda doktora gitmek zorundayım
D) Hasta olduğum için doktora gidiyorum.

20. Kurallı bir cümle kurunuz.

Ich / zuerst geradeaus / entlang / die Straße /

1 **2** **3** **4**

will / gehen

5 6

- A) 6 / 5 / 4 / 3 / 2 / 1 B) 1 / 5 / 2 / 4 / 3 / 6
C) 1 / 2 / 3 / 4 / 5 / 6 D) 2 / 1 / 3 / 6 / 5 / 4

1. OTURUM

FRANSIZCA – 7

1 - 19. sorularda boş bırakılan yerlere uygun gelen kelime ya da ifadeyi işaretleyiniz.

1. Qui au téléphone?

- A) répondez B) réponds
C) répond D) répondre

2. Je suis ma chambre.

- A) en B) chez C) à D) dans

3. Je suis en 1976 à Ankara.

- A) tombé B) lu
C) né D) descendu

4. Marie est partie avec mère.

- A) sa B) son C) ses D) vos

5. Mon père est parti en bus mais moi, je suis partie pied.

- A) le B) en C) au D) à

6. Elle a décidé d'aller à Izmir pour passer ses

- A) mariages B) toilettes
C) vacances D) amis

7. Pauline ne prend pas beurre au petit déjeuner.

- A) de B) du C) de la D) des

8. Je voudrais acheter un paquet de(d')

- A) eau B) fleurs
C) détergent D) œufs

9. gentille avec moi!

- A) Faites B) Ayez
C) Savez D) Soyez

10. Si tu veux être en bonne forme, il faire du sport.

- A) veut B) faut C) peut D) dort

11. L'année prochaine, je ne pas d'alcool.

- A) prendre B) prends
C) prendrai D) prendra

12. Si mon père m'aide, je(J')

- A) réussirai B) réussis
C) ai réussi D) avais réussi

1. OTURUM

13. La chèvre est plus que le mouton.

- | | |
|------------|-----------|
| A) têtue | B) chère |
| C) peuplée | D) langue |

14. M et Mme Vincent ont le même âge.
M Vincent est agé que Mme Vincent.

- | | |
|---------|----------|
| A) plus | B) aussi |
| C) mois | D) assez |

15. A:
B: 20 Euro Madame.

- A) Ça coûte combien.
B) Ça va bien.
C) Combien de livres avez-vous.
D) Madame, quand partez-vous.

16. A: Vous buvez du vin?
B: Oui, nous buvons.

- | | | | |
|-------|-------|-------|------|
| A) le | B) en | C) la | D) Y |
|-------|-------|-------|------|

17. A:?
B: Il fait ses devoirs à la bibliothèque.

- A) Qu'est-ce qu'il fait à la bibliothèque
B) Pourquoi est-ce qu'il fait ses devoirs
C) Comment est-ce qu'il fait ses devoirs
D) A quelle heure est-ce qu'il fait ses devoirs

18. A: Attendez-vous?
B: Non, je n'attends personne.

- | | |
|------------------|--------------|
| A) quelque chose | B) quelqu'un |
| C) quoique | D) quelles |

19. A: vas tu?
B: À la bibliothèque nationale.

- | | |
|----------|--------|
| A) À qui | B) Qui |
| C) Que | D) Où |

20. Seçenekteki fiillerden hangisi "avoir" ile çekilir?

- | | |
|--------------|------------|
| A) Retourner | B) Tourner |
| C) Devenir | D) Venir |

1. OTURUM

DİN KÜLTÜRÜ ve AHLAK BİLGİSİ – 7

1. • Kanun önünde kişilere dinî inancına göre muamele edilmemesi
• Dinî inançların serbestçe yaşanmasına imkân sağlanması

Yukarıda bahsedilen hususlar Atatürkçülük ilkelerinden hangisi ile teminat altına alınmıştır?

- A) Cumhuriyetçilik B) Devletçilik
C) Laiklik D) Halkçılık

2. Kur'an-ı Kerim'in nazil olduğu (indirildiği) yıllar, aşağıdaki seçeneklerin hangisinde doğru olarak verilmiştir?

- A) 610 - 632 B) 610 - 622
C) 571 - 622 D) 571 - 632

3. Kur'an-ı Kerim'in mushaf (kitap) hâline getirilmesi için görevlendirilen komisyona başkanlık eden hafız sahabe aşağıdakilerden hangisidir?

- A) Zeyd b. Sabit B) Hz. Ebu Bekir
C) Hz. Osman D) Halid b. Velid

4. İnsanların yaptıklarını yazmakla görevli olan meleklerin ismi aşağıdakilerden hangisidir?

- A) Cebrail ve Azrail B) Mikâil ve İsrâfil
C) Hafaza Melekleri D) Kiramen Kâtibîn

5. Yahudilik ile İslam dininin en çok hangi noktada benzerlik gösterdiği söylenebilir?

- A) Allah inancı
B) Ahiret inancı
C) İbadet şekli
D) Kutsal günler ve geceler

6. • Yeryüzünde yaşayan beş büyük dinden biridir.

- Kast sistemine karşıdır.
• Amaç, Nirvanaya ulaşmaktır.
• Kutsal kitaplarına "Tipitaka" denir.

Yukarıdaki bilgiler hangi dine aittir?

- A) Şintoizm B) Budizm
C) Taoizm D) Konfüçyanizm

7. İslam dininde "Allah'ın varlığını ve birliğini; ortağının ve benzerinin olmadığını" ifade eden kavram aşağıdakilerden hangisidir?

- A) Tesbih B) Tekbir
C) Tevhid D) Tenzih

8. Aşağıdakilerden hangisi, Hz. Muhammed'den yaklaşık 6 asır önce peygamberlik görevi ile gönderilmiştir?

- A) Hz. Musa B) Hz. Süleyman
C) Hz. İbrahim D) Hz. İsa

9. Tabiat olaylarını düzenleyen melek aşağıdakilerden hangisidir?

- A) İsrail B) Mikâil
C) Hafaza melekleri D) Cebrail

1. OTURUM

10. “*Bilmediğin şeyin ardına düşme, doğrusu kulak, göz ve kalp, işte bunların hepsi ondan (o ardına düştüğün şeyden) sorumludur.*” (İsrâ suresi, 36.)

Bu ayetle aşağıdakilerden hangisi vurgulanmaktadır?

- A) Görgü kurallarına uymanın önemi
- B) Cahillerden uzak durmak gerektiği
- C) Doğru bilgiyi esas almak gerektiği
- D) Kötü davranışların beklenmeyen sonuçlar doğurduğu

11. Sözlükte “toplanmak, bir araya gelmek” gibi anlamları olan; terim olarak ise “Allah’ın dirilttiği insanların hesaba çekilmek üzere bir araya toplanmaları” şeklinde tarif edilen kavram aşağıdakilerden hangisidir?

- A) Mahşer
- B) Haşir
- C) Kıyamet
- D) Mizan

12. “Bir kimsenin yüzüne karşı söylendiğinde hoşlanmayacağı bir şeyi arkasından söylemek” olarak tanımlanan kavram aşağıdakilerden hangisidir?

- A) Gıybet
- B) İftira
- C) Suizan
- D) Hüsnüzan

13. Farz olan “vakfe” ile kastedilen, aşağıdakilerden hangisidir?

- A) Kabe’nin etrafında dönmek
- B) Safa-Merve tepeleri arasında gidip gelmek
- C) Hacda özel kıyafet giyinmek
- D) Arefe günü Arafat’ta bir süre bulunmak

14. Hz. Muhammed’e “Muhammedü’l-Emin” lakabı hangi özelliğinden dolayı verilmiştir?

- A) Cesareti
- B) Hoşgörüsü
- C) Güvenilirliği
- D) Merhameti

15. Haccın yapıldığı günler dışında, Kâbe ve çevresini ziyaret ederek yapılan ibadete ne denir?

- A) Umre
- B) Hacc-ı Ekber
- C) Vakfe
- D) Telbiye

16. Aşağıdaki ifadelerden hangisi ahirete iman ile çelişen bir ifadedir?

- A) İyilik yap, denize at; balık bilmezse Hâlık bilir.
- B) Hiç ölmeyecekmiş gibi dünya için, yarın ölecekmiş gibi ahiret için çalış!
- C) Dünya ahiretin tarlasıdır.
- D) Üzümünü ye, bağını sorma.

17. I- Allah
II- Veliler
III- Melekler
IV- Ruhlar

İslam dinine göre yukarıdakilerden hangisi veya hangileri adına kurban kesilmesinde sâkinca yoktur?

- A) Yalnız I
- B) I - II
- C) I - II - III
- D) I - II - III - IV

1. OTURUM

18. Aşağıdakilerden hangisinde hacc ibadetinin yapıldığı zaman dilimi doğru olarak verilmiştir?

- A) Ramazan Bayramı arefesinde başlar, 3 gün devam eder.
- B) Kurban Bayramı arefesinde başlar, Bayramın 4. günü sona erer.
- C) Üç ayların başında, 4 günlük süre ile yapılır.
- D) Ramazan ayı içerisinde, 3 gün olarak yapılır.

19. Kâbe'nin de içinde bulunduğu mescide ne ad verilir?

- A) Mescid-i Nebi
- B) Mescid-i Haram
- C) Mescid-i Aksa
- D) Mescid-i Kuba

20. “Yoluna gücü yetenlerin o evi haccetmesi, Allah'ın insanlar üzerinde bir hakkıdır.”
(Âl-i İmrân suresi, 97.)

Bu ayetten aşağıdaki sonuçlardan hangisi çıkarılamaz?

- A) Hacc ibadeti, bu ibadeti yerine getirebilecek maddi imkanlara sahip olanlara farzdır.
- B) Hacc, Allah'ın evi olarak bilinen Kâbe ve çevresini ziyaret etmek sureti ile yapılır.
- C) Hac ibadeti, hac mevsimi olarak bilinen sayılı günlerde yapılır.
- D) Hac, Allah'ın yerine getirilmesini istediği farz bir ibadettir.

İNKILAP TARİHİ ve ATATÜRKÇÜLÜK – 8

1. Mustafa Kemal ilk askerî başarısını aşağıdakilerden hangisinde kazanmıştır?

- A) Trablusgarp Savaşı'nda
- B) Çanakkale Savaşı'nda
- C) I. Dünya Savaşı'nda
- D) II. Balkan Savaşı'nda

2. Aşağıdakilerden hangisi Mustafa Kemal'in öğrenim gördüğü okullardan biri değildir?

- A) Şemsi Efendi İlkokulu
- B) Selanik Askerî İdadisi
- C) Selanik Askerî Rüştiyesi
- D) Manastır Askerî İdadisi

3. Türk milletinin haklı davasını, dünya kamuoyuna basın-yayın yoluyla duyurmak amacıyla kurulan cemiyet, aşağıdakilerden hangisidir?

- A) Kilikyalılar Cemiyeti
- B) Millî Kongre Cemiyeti
- C) Trakya-Paşaeli Cemiyeti
- D) İzmir Reddi İlhak Cemiyeti

4. Mustafa Kemal Paşa “Tarih bu kongremizi ender ve büyük bir eser olarak kabul edecektir.” sözünü aşağıdakilerden hangisi için söylemiştir?

- A) Sivas Kongresi
- B) Alaşehir Kongresi
- C) Erzurum Kongresi
- D) Balıkesir Kongresi

1. OTURUM

5. I- TBMM'nin açılması
II- Sivas Kongresi
III- Sevr Antlaşması
IV- Mustafa Kemal'in Samsun'a çıkması

Verilen olayların kronolojik sırası aşağıdakilerden hangisinde doğru verilmiştir?

- A) IV - II - I - III B) II - III - IV - I
C) IV - I - II - III D) II - IV - III - I

6. Gümrü Antlaşması ile ilgili olarak aşağıdakilerden hangisi yanlıştır?

- A) Kâzım Karabekir Paşa'nın Ermenileri yenmesi sonucunda imzalanmıştır.
B) Bu antlaşma ile Batı Cephesi'ndeki savaşlar sona ermiştir.
C) TBMM'nin uluslararası alandaki ilk siyasi başarısıdır.
D) 2/3 Aralık 1920 tarihinde imzalanmıştır.

7. Türk ordusu Batı Cephesi'nde aşağıdakilerden hangisi ile savaşmıştır?

- A) Yunanlılar B) Ermeniler
C) Fransızlar D) Ruslar

8. Yurdumuzun düşmandan kurtarılmasını ve Misakımillî'nin büyük ölçüde gerçekleşmesini sağlayan savaş, aşağıdakilerden hangisidir?

- A) I. İnönü Savaşı
B) Sakarya Savaşı
C) Kütahya-Eskişehir Savaşları
D) Başkomutan Meydan Muharebesi

9. Kurtuluş Savaşı devam ederken Ankara'da Maarif Kongresi toplanmıştır.

Bu durum Atatürk'ün aşağıdakilerden hangisine büyük önem verdiğini gösterir?

- A) Sanata
B) Eğitime
C) Millî ekonomiye
D) Sağlık hizmetlerine

10. • 20 Ekim 1920'de TBMM Hükûmeti ile Fransa arasında imzalanmıştır.
• Bu antlaşma ile Hatay dışında, güney sınırlarımız çizilmiştir.

Verilen gelişmeler aşağıdaki antlaşmalardan hangisi ile sağlanmıştır?

- A) Ankara Antlaşması
B) Gümrü Antlaşması
C) Mudanya Antlaşması
D) Sevr Antlaşması

11. "Misak-ı İktisadi" diye bilinen "Ekonomi Andı" aşağıdakilerden hangisinde kabul edilmiştir?

- A) Mudanya Antlaşması'nda
B) Lozan Antlaşması'nda
C) Türkiye İktisat Kongresi'nde
D) Sivas Kongresi'nde

12. Saltanatın kaldırılarak kişisel egemenliğe son verilmesi, aşağıdaki tarihlerden hangisinde gerçekleşmiştir?

- A) 23 Nisan 1920 B) 1 Kasım 1922
C) 19 Mayıs 1919 D) 13 Ekim 1923

1. OTURUM

13. Tevhid-i Tedrisat Kanunu'nun amacı aşağıdakilerden hangisidir?

- A) Öğretim birliğinin sağlanması
- B) Dinî eğitimin yaygınlaştırılması
- C) Özel eğitimin özendirilmesi
- D) Medreselerin düzeltilmesi

14. Yeni Türk Devleti'nin ilk siyasi partisi aşağıdakilerden hangisidir?

- A) Cumhuriyet Halk Fırkası
- B) Hürriyet ve İtilaf Fırkası
- C) Serbest Cumhuriyet Fırkası
- D) Terakkiperver Cumhuriyet Fırkası

15. Aşağıdakilerden hangisi Atatürk'ün, "Aile hukukunda izleyeceğimiz yol, ancak uygarlık yolu olacaktır." sözünü destekleyen bir uygulamadır?

- A) Kabotaj Kanunu'nun kabul edilmesi
- B) Hıfzıssıhha Dairesi'nin kurulması
- C) Türk Medeni Kanunu'nun kabulü
- D) Kıyafette yenilik yapılması

16. Atatürkçülükle ilgili olarak aşağıdakilerden hangisi doğru değildir?

- A) Türk milletin gereksinimlerinden doğmuştur.
- B) İnsan hak ve özgürlüklerine önem verir.
- C) Yeniliklere açık bir düşünce sistemidir.
- D) Sosyal sınıfları esas alır.

17. Atatürk, "Kırk asırlık Türk yurdu yabancı elinde kalmaz." sözüyle aşağıdakilerden hangisinin Türkiye'ye katılmasının önemini vurgulamıştır?

- A) Musul
- B) Kerkük
- C) Hatay
- D) Boğazlar

18. Türkiye'nin boğazlar üzerindeki kesin egemenliği, aşağıdakilerden hangisi ile sağlanmıştır?

- A) Türkiye'nin Milletler Cemiyetine girmesi
- B) Montreaux (Montrö) Boğazlar Sözleşmesi
- C) Balkan Antantı
- D) Sadabat Paketi

19. Aşağıdakilerden hangisi II. Dünya Savaşı'nda Mihver Devletler grubunda yer almıştır?

- A) İngiltere
- B) Fransa
- C) ABD
- D) Almanya

20. Türk İş Birliği ve Kalkınma İdaresi (TİKA) Başkanlığının kuruluş amacı, aşağıdakilerden hangisidir?

- A) Bölgesel barışa katkıda bulunmak
- B) Hazar petrolünün Avrupa'ya ulaşımını sağlamak
- C) Orta Asya Türk Cumhuriyetleriyle iş birliğini artırmak
- D) Mavi Akım Petrol Boru Hattı'nı hayata geçirmek

1. OTURUM

İNGİLİZCE – 8

1 - 20. sorularda boş bırakılan yerlere uygun gelen kelime yada ifadeyi işaretleyiniz.

1. The old hotel is in the city center is being repaired by the professional architects.

- A) whose B) whom
C) who D) which

2. There is a of bread in the kitchen.

- A) loaf B) jar C) cup D) bottle

3. A true friend is

- A) lazy B) aggressive
C) reliable D) worried

4. The girl you met this morning is a nurse.

- A) what B) whom
C) which D) whose

5. I was walking in the street, the children were riding a bicycle.

- A) Why B) How
C) As D) Where

6. İstanbul is the city in Turkey.

- A) thinnest B) most hardworking
C) bravest D) most crowded

7. He has been a football player 10 years.

- A) for B) since C) already D) ever

8. She can't play basketball. She is too to play basketball.

- A) expensive B) short
C) high D) difficult

9. The baby is sleeping. You make a noise.

- A) are supposed to B) must
C) don't have to D) shouldn't

10. Don't forget to buy a packet of sugar. We've got at home.

- A) a few B) many C) a little D) a lot of

11. If he , he would buy a new car.

- A) had some money B) knew the answer
C) took a taxi D) wore his coat

12. He can solve the problem. He is to solve it.

- A) intelligent enough B) too stupid
C) big enough D) too old

13. The car will be ready soon. It by the mechanic.

- A) was written B) is being repaired
C) is grown D) was being watched

14. The weather is too cold to go out. Let's

- A) go for a picnic B) play outside
C) swim in the sea D) stay at home

1. OTURUM

15. If she , she wouldn't borrow 1000 TL from her parents.

- A) were a rich woman
- B) didn't win the lottery
- C) bought a new house
- D) didn't drive slowly

16. She drinks cola coffee. She hates them.

- A) either / or
- B) not only / but also
- C) too / either
- D) neither / nor

17. The soup too hot, but it wonderful

- A) looks / smells
- B) tastes / feels
- C) smells / tastes
- D) feels / looks

18. Can : I'm very hungry!
Sinem :
Can : Let's go to the restaurant.

- A) Neither do I.
- B) So can I.
- C) So am I.
- D) Neither did I.

19. Sevil : When did you see Murat?
Berk : I saw him

- A) now
- B) last night
- C) tomorrow
- D) soon

20. Kemal : Why do you like birds?
Bahar : Because they are

- A) dirty
- B) sweet
- C) cold
- D) helpful

ALMANCA – 8

1 - 15. sorularda boş bırakılan yerlere uygun gelen kelime ya da ifadeyi işaretleyiniz.

1. Wie fahren Çankaya.

- A) zum
- B) ins
- C) von
- D) nach

2. Ich gehe ins Theater, wenn ich Zeit

- A) habe
- B) bin
- C) hat
- D) werden

3. Petra kommt nicht zur Party, sie noch arbeiten muß.

- A) denn
- B) damit
- C) weil
- D) als

4. Der Mann kann weiterfahren, wenn die Ampel ist.

- A) weiß
- B) grün
- C) rot
- D) schwarz

5. Ich Monika und ich 15 Jahre.

- A) heiße / bist
- B) bin / heiße
- C) heiße / bin
- D) heißt / ist

6. Herr Müller kann den Text ins Türkische

- A) gelesen
- B) ansetzt
- C) schreibt
- D) übersetzen

7. Tanya ist kleiner Petra.

- A) als
- B) so
- C) wie
- D) genau

1. OTURUM

8. Hans spricht der Lehrerin. Ich höre Music.

- A) am / an B) mit / gern
C) über / spiele D) auf / mehr

9. Hans ist alt Manfred.

- A) genau / wie B) wie / so
C) so / als D) so / wie

10. Eskişehir ist schön.
Ankara ist schöner.
İstanbul ist am schön... .

- A) -er B) -ste C) -sten D) -en

11. Walter Auto ist sehr schön.

- A) -s B) von C) vom D) das

12. Die Frau, dort steht, ist meine Mutter.

- A) die B) der C) das D) den

13. Hans : Wie geht es dir?
Walter: Danke,

- A) alt B) gut C) kalt D) schlecht

14. Δ: Wem gehören die Bücher?
O: Die Bücher gehören Freund.

- A) die B) der C) das D) dem

15. Atatürk ist 10 November 1938
....., aber er lebte immer noch in unseren Gedanken.

- A) am / gestorben
B) gestorben / am
C) geboren / an
D) geboren / gestorben

16. Aşağıdaki sözcüklerden hangisi yapı bakımından diğerlerinden farklıdır?

- A) der Wein B) die Suppe
C) die Milch D) das Mineralwasser

17. Aşağıda verilen sıfat çekimlerinden hangisi yanlıştır?

<u>Positiv</u>	<u>Komperativ</u>	<u>Superlativ</u>
A) viel	vieler	am vielsten
B) klein	kleiner	am kleinsten
C) billig	billiger	am billigsten
D) gut	besser	am besten

18. Aşağıdaki eşleştirmelerden hangisi yanlıştır?

- A) der Bruder = Erkek kardeş
B) die Schwester = Kız kardeş
C) die Großmutter = Büyükbaba
D) der Sohn = Erkek çocuk

19. Aşağıdakilerden hangisi çoğul isim olarak verilmiştir?

- A) die Tisch B) die Bücher
C) das Kind D) die Zeitung

20. Kurallı bir cümle kurunuz.

İstanbul / größer / ist / als / Ankara
1 2 3 4 5

- A) 4 / 5 / 3 / 2 / 1 B) 1 / 3 / 2 / 4 / 5
C) 2 / 3 / 4 / 5 / 1 D) 5 / 4 / 3 / 2 / 1

1. OTURUM

FRANSIZCA – 8

1 - 17. sorularda boş bırakılan yerlere uygun düşen kelime veya ifadeyi işaretleyiniz.

1. Le vend de la viande.

- A) charcutier B) crémier
C) boulanger D) boucher

2. Je prends pour acheter un guide touristique.

- A) de l'argent
B) le plan de ville
C) un appareil photo
D) un passeport

3. Pour bien comprendre le texte plusieurs fois.

- A) lire B) lisent C) lisez D) lirent

4. S'il pleut, on à la maison.

- A) resteront B) restera
C) resterons D) resterai

5. J'allais sortir tu es rentré.

- A) c'est B) si C) quand D) alors

6. Istanbul est belle ville de la Turquie.

- A) moins que B) le plus
C) plus que D) la plus

7. Il fait ses exercices écoutant la radio.

- A) en B) de C) à D) au

8. Cet enfant a mal au

- A) tête B) dos C) l'œil D) main

9. Mes frères au basket-ball chaque semaine.

- A) jouer B) font C) faire D) jouent

10. La plus montagne de la Turquie, c'est Ağrı Dağ.

- A) petite B) chère C) haute D) jeune

11. Cet arbre est

- A) vert B) bleue C) grise D) blanche

12. Le régime je fais est très efficace.

- A) que B) qui C) dont D) où

13. La pharmacie est l'hôpital.

- A) en face B) devant
C) à côté D) au coin

1. OTURUM

14. Pour aller à la poste, tourner à gauche.

- A) il passe B) il pleut
C) il neige D) il faut

15. La mer Ege se trouve à de la Turquie.

- A) l'ouest B) l'est C) au sud D) au nord

16. Hier, je sorti avec mes parents.
Il très chaud.

- A) serai / ferai B) est / faire
C) était / fait D) suis / faisait

17. A: Je vais au théâtre
B: Qu'est-ce que tu dis?
A: vais au théâtre.

- A) Je dis que je B) Tu dis que tu
C) Il dit qu'il D) Elle dit qu'elle

18. Aşağıdakilerden hangisi emir (impératif) cümlesidir?

- A) Avez-vous du feu
B) As-tu beaucoup mangé
C) Assieds-toi sur la chaise
D) Il faut prendre le train

19. "Je me suis levé à sept heures." cümlesinin olumsuz (négative) hâli hangisidir?

- A) Je me suis pas levé à sept heures.
B) Je ne me suis pas levé à sept heures.
C) Je ne suis pas levé à sept heures.
D) Je ne me suis levé à sept heures.

20. Aşağıda verilen sözcükler gruplandırıldığında hangisi diğerlerinden farklı olur?

- A) Une poire B) Un fromage
C) Une banane D) Un abricot

DİN KÜLTÜRÜ ve AHLAK BİLGİSİ – 8

1. Kâbe, seller sonucu zarar görmüştü. Mekkeliler Kâbe'yi tamir ettikten sonra Hacerü'l-Esved'i yerine koyma konusunda anlaşamadılar. Aralarında Kâbe'ye ilk gelenin hakemlik yapması konusunda uzlaştılar. Kâbe'ye ilk olarak Hz. Muhammed girince herkes sevindi. Hz. Muhammed abasını yere serdi, Hacerü'l-Esved'i üzerine koydu, her kabileden bir genç çağırıp Hacerü'l-Esved'i taşıttı. Sonra onu yerine eliyle oturttu. Böylece çıkacak bir çatışmayı önlemiş oldu.

Bu olay Hz. Muhammed'in hangi yönünü ön plana çıkarmaktadır?

- A) Hz. Muhammed'in güvenilirliğini
B) Hz. Muhammed'in Kâbe'ye olan sevgisini
C) Hz. Muhammed'in hoşgörüsünü
D) Hz. Muhammed'in cesaretini

2. Hz. Muhammed, Kâbe Hakemliği olayında yaklaşık kaç yaşında idi?

- A) 20 B) 25 C) 30 D) 35

3. Hz. Muhammed'in peygamberliğinin ilk üç yılı gizli davet dönemi olarak adlandırılmaktadır. "Şimdi sen ne ile emrolunuyorsan apaçık bildir. Müşriklerden yüz çevir." (Hicr Sûresi, 94) ayeti ile birlikte gizli davet dönemi bitmiş açıktan davet dönemi başlamıştır.

Aşağıdaki olaylardan hangisi ile açıktan davet döneminin başladığı kabul edilmektedir?

- A) Mekke halkını bir yemekte toplayıp Allah'ın var olduğunu ve kendisinin peygamber olduğunu açıklamasıyla
B) Safa Tepesi'nden Mekkelilere seslenerek Allah'ın var ve bir olduğunu, kendisinin de Allah'ın peygamberi olduğunu açıklamasıyla
C) Mekke halkını Kâbe'ye çağırarak mucize gösterip, halka Allah'ın varlığını, birliğini ve kendisinin peygamber olduğunu açıklamasıyla
D) Mescid-i Nebi'de halkı toplayarak mucize gösterip, Allah'ın var ve bir olduğunu, kendisinin de Allah'ın peygamberi olduğunu açıklamasıyla

1. OTURUM

4. “Yemin olsun ki, sizi biraz korku ve açlık, mallardan, canlardan, ürünlerden biraz azaltma (fakirlik) ile imtihana tabi tutarız. Ey Peygamber! Sabredenleri müjdele! ...”
(Bakara Sûresi, 155)

Aşağıdakilerden hangisi ayette bahsedilen imtihan çeşitlerine örnek oluşturmaz?

- A) Düşman saldırısına uğramak
- B) Zengin iken fakirleşmek
- C) Vatan savunmasında şehit olmak
- D) Ömür boyu ilim tahsil etmek

5. Hz. Muhammed’in “Kıyamet gününde bir insan, şu dört şeyden hesaba çekilecektir: ...” diye başlayan hadisinde aşağıdakilerden hangisi yer almaz?

- A) İhtiyarlığında ibadet edip etmediğinden
- B) Ömrünü (vaktini) nerede tükettiğinden
- C) Malını nereden kazanıp, nereye harcadığından
- D) Gençliğini nasıl harcadığından

6. Aşağıdakilerden hangisi Hz. Muhammed’in özelliklerinden biri olamaz?

- A) Düşmanlarına karşı cesaretli olma
- B) Verdiği sözde durma
- C) Bilgi sahibi olduğu konuda danışarak iş yapma
- D) Savaşı bir tebliğ metodu olarak benimseme

7. Aşağıdakilerden hangisi kültürün özellikleri arasında sayılamaz?

- A) Tarihîdir, süreklidir.
- B) Toplumsaldır.
- C) Her toplum için aynıdır.
- D) Bütünleştiricidir.

8. Aşağıdaki atasözü ve deyimlerden hangisi dilimizdeki dinî motiflere örnek oluşturmaz?

- A) Dünyada mekân ahirette iman.
- B) Balık verme, balık tutmayı öğret.
- C) Nuh diyor, peygamber demiyor.
- D) İyilik yap, denize at; balık bilmezse Hâlık bilir.

9. Aşağıdakilerden hangisi dinî musikî alanında eser veren Türk büyüklerinden biri değildir?

- A) III. Selim
- B) Yunus Emre
- C) İtrî
- D) Hacı Arif Bey

10. Mimari yapıtların, sanat eserlerinin korunması, bakımının yapılması için oluşturulan gelir getirci kurumlara ne ad verilir?

- A) Vakıf
- B) Kültür
- C) Medeniyet
- D) Dinî mimârî

11. Atatürk’ün aşağıdaki sözlerinden hangisi bağınazlıkla ilgili değildir?

- A) “Hürriyet, ihtimal ki, zorla tesis olunur fakat herkese karşı bağınazlık göstermemekle ve al-dırmazlıkla muhafaza edilir.”
- B) “Dinden maddi menfaat bekleyenler iğrenç kimselerdir. İşte buna karşıyız...”
- C) “Taassup bilgisizliğe dayanır. Buna göre taassubu olan cahildir. İlim her zaman ve her yerde bilgisizliği yener.”
- D) “Taassupsuzluğun arzu edildiği gibi yaygınlaşması, huy haline gelmesi fikrî terbiyenin yüksek olmasına bağlıdır.”

1. OTURUM

12. “Allahû lâ ilâhe illâ hüvel hayyül kayyûm. Lâte’ hüzühû sinetün ve lâ nevm. Lehû mâ fis semâvâtî vemâ fil arz. Menzellezî yeşfeu indehû illâ biiznih. Ya’lemû mâ beyne eydihim vemâ halfehûm. Velâ yuhitûne bişey’in min ilmihi illâ bi mâ şâ’ vesia kürsiyyühüs semâvâtî vel arz.”

Yukarıda verilen Ayete’l-Kürsi’ de boş bırakılan yere aşağıdakilerden hangisi gelmelidir?

- A) Vemin şerri hâsîdin izâ hased.
B) Min cûin ve âmenehüm min havf.
C) Leküm dînüküm veliyedîn.
D) Velâ yeûdühû hıfzuhümâ, vehüvel aliyyül azîm.

13. “Gökleri yedi kat üzerine yaratan odur. Rahmanın bu yaratmasında bir düzensizlik bulamazsın. Gözünü bir çevir bak ama göz umduğunu bulamayıp bitkin ve yorgun düşer.”

(Mülk Sûresi, 3, 4)

Bu ayette vurgulanan ana düşünce aşağıdakilerden hangisidir?

- A) Göklerin yedi kat olarak yaratıldığı
B) Her şeyin bir denge, düzen ve ölçü içerisinde yaratıldığı
C) Gözün gökyüzünü seyrederken yorulabileceği
D) Yaratılanlarda eksik aramanın hata olduğu

14. I- Yüce Allah’ın önceden takdir ve tayin ettiği olayların yeri ve zamanı geldiğinde kadere uygun olarak ortaya çıkmasıdır.
II- Ömrün bittiği, dünya hayatının sona erdiği vakittir.

Yukarıda tarifi verilen kelimeler aşağıdakilerden hangisidir?

	I	II
A)	Kader	Kaza
B)	Kader	Tevekkül
C)	Kaza	Ecel
D)	Kaza	Kader

15. “İnsan ölünce yaptığı bütün işler sona erer. Ancak üç şeyin sevabı devam eder. Bunlar:

1. Geride bıraktığı faydalı ilim
2. Kendisine dua eden hayırlı evlat
3.”

Hiz. Muhammed’in bu hadisinde boş bırakılan yere aşağıdakilerden hangisi yazılmalıdır?

- A) Güzel ahlak
B) Salih amel
C) Sadaka-i câriye
D) Allah’a tevekkül

16. “İki günü eşit olan zarardadır.”

Bu hadis aşağıdakilerden hangisi ile ilişkilendirilebilir?

- A) Muhtaçlara yardım etmek
B) Çalışmak ve üretmek
C) Tevekkül etmek
D) Sabretmek

17. Aşağıdaki tutum ve davranışlardan hangisi kader inancıyla çelişir?

- A) “Rızık Allah’tandır.” deyip kişinin çalışmayı terk etmesi
B) Hastalanan kişinin tedavi için doktora başvurulması
C) Şoförün uzun yola çıkmadan önce arabasının bakımını yapması
D) Öğrencinin sınava çalışarak girmesi

1. OTURUM

18. Medine'nin ileri gelen ailelerinden birine mensup bir kadın hırsızlık yapmıştı. Zengin ve soylu kişiler Peygamberimizden kadının affedilmesini istediler. Peygamberimiz de adaletin gereğini herkese aynen uygulayacağını vurgulayarak şöyle demiştir: *"Bu suçu da işlese onu da cezalandırırdım."*

Bu hadiste boş bırakılan yere aşağıdakilerden hangisi yazılmalıdır?

- A) Kızım Fatıma B) Damadım Ali
C) Eşim Aişe D) Arkadaşım Ebubekir

19. Aşağıdakilerden hangisi itikâdî bir mezheptir?

- A) Hanefîlik B) Şâfiilik
C) Mâturîdîlik D) Mâlikîlik

20. İslam düşüncesinde mezheplerin oluşumu ile ilgili aşağıda verilen bilgilerden hangisi doğrudur?

- A) Hz. Muhammed zamanında şekillenmiştir.
B) Allah tarafından vahiyyle şekillendirilmiştir.
C) Yorum farklılıklarının bir neticesidir.
D) Dört halife zamanında bugünkü şeklini almıştır.

TEST BİTTİ.
CEVAPLARINIZI KONTROL EDİNİZ.

Soracağınız bir şey var mı? Varsa, şimdi sorunuz; sınav başladıktan sonra sorularınıza cevap verilmeyecektir. Hazır mısınız? Sınav, okulun bütün salonlarında aynı anda başlayacağı için başlama zilini beraberce bekleyelim. Hepinize başarılar dileriz.
(Salon başkanı başlama ve bitiş saatini tahtaya yazacaktır.)

Bu kitapçığın her hakkı saklıdır. Hangi amaçla olursa olsun, kitapçığın tamamının veya bir kısmının Millî Eğitim Bakanlığı Eğitim Teknolojileri Genel Müdürlüğünün yazılı izni olmadan kopya edilmesi, fotoğraflarının çekilmesi, bilgisayar ortamına alınması, herhangi bir yolla çoğaltılması, yayımlanması veya başka bir amaçla kullanılması yasaktır. Bu yasağa uymayanlar, doğabilecek cezai sorumluluğu ve kitapçığın hazırlanmasındaki mali külfeti peşinen kabullenmiş sayılır.

**14 KASIM 2011 TARİHİNDE YAPILAN
AÇIK İLKÖĞRETİM OKULU 2010-2011 ÖĞRETİM YILI 1. DÖNEM SINAVI
1. OTURUM (İ-1) CEVAP ANAHTARI**

**İNKILAP TARİHİ ve
ATATÜRKÇÜLÜK – 8**

1. A
2. B
3. B
4. C
5. A
6. B
7. A
8. D
9. B
10. A
11. C
12. B
13. A
14. A
15. C
16. D
17. C
18. B
19. D
20. C

İNGİLİZCE – 8

1. D
2. A
3. C
4. B
5. C
6. D
7. A
8. B
9. D
10. C
11. A
12. A
13. B
14. D
15. A
16. D
17. A
18. C
19. B
20. B

ALMANCA – 8

1. D
2. A
3. C
4. B
5. C
6. D
7. A
8. B
9. D
10. C
11. A
12. A
13. B
14. D
15. A
16. D
17. A
18. C
19. B
20. B

FRANSIZCA – 8

1. D
2. A
3. C
4. B
5. C
6. D
7. A
8. B
9. D
10. C
11. A
12. A
13. B
14. D
15. A
16. D
17. A
18. C
19. B
20. B

**DİN KÜLTÜRÜ ve AHLAK
BİLGİSİ – 8**

1. A
2. D
3. B
4. D
5. A
6. D
7. C
8. B
9. B
10. A
11. B
12. D
13. B
14. C
15. C
16. B
17. A
18. A
19. C
20. C

14 KASIM 2010 TARİHİNDE YAPILAN
AÇIK İLKÖĞRETİM OKULU 2010-2011 ÖĞRETİM YILI 1. DÖNEM SINAVI
1. OTURUM (İ-1) CEVAP ANAHTARI

TÜRKÇE – 6	FEN ve TEKNOLOJİ – 6	İNGİLİZCE – 7	FRANSIZCA – 7
1. D	1. A	1. C	1. C
2. D	2. C	2. D	2. D
3. B	3. B	3. C	3. C
4. A	4. D	4. A	4. A
5. A	5. A	5. D	5. D
6. B	6. D	6. C	6. C
7. D	7. C	7. A	7. A
8. C	8. B	8. C	8. C
9. B	9. C	9. D	9. D
10. A	10. A	10. B	10. B
11. C	11. B	11. C	11. C
12. D	12. C	12. A	12. A
13. B	13. D	13. A	13. A
14. D	14. B	14. B	14. B
15. C	15. D	15. A	15. A
16. D	16. D	16. B	16. B
17. B	17. A	17. A	17. A
18. D	18. C	18. B	18. B
19. A	19. A	19. D	19. D
20. B	20. B	20. B	20. B
MATEMATİK – 6	SOSYAL BİLGİLER – 7	ALMANCA – 7	DİN KÜLTÜRÜ ve AHLAK BİLGİSİ – 7
1. C	1. B	1. C	1. C
2. D	2. B	2. D	2. A
3. C	3. D	3. C	3. A
4. B	4. A	4. A	4. D
5. C	5. C	5. D	5. A
6. D	6. D	6. C	6. B
7. B	7. B	7. A	7. C
8. A	8. D	8. C	8. D
9. B	9. A	9. D	9. B
10. A	10. B	10. B	10. C
11. D	11. C	11. C	11. B
12. A	12. D	12. A	12. A
13. C	13. A	13. A	13. D
14. A	14. B	14. B	14. C
15. D	15. B	15. A	15. A
16. C	16. C	16. B	16. D
17. C	17. A	17. A	17. A
18. D	18. D	18. B	18. B
19. D	19. B	19. D	19. B
20. A	20. C	20. B	20. C