



T.C.
MİLLÎ EĞİTİM BAKANLIĞI

i-1

AÇIK İLKÖĞRETİM OKULU
2011-2012 ÖĞRETİM YILI 1. DÖNEM SINAVI
1. OTURUM: 11 ARALIK 2011 Saat:10.00

- UYARI:** 1. Sınav sırasında sözlük, hesap cetveli veya makinesi, çağrı cihazı, cep telefonu, telsiz, radyo gibi elektronik iletişim araçlarını yanınızda bulundurmuyunuz. Bu araçları kullanmanız ve kopya çekmeye teşebbüs etmeniz hâlinde sınavınız geçersiz sayılacaktır.
2. Derslerle ilgili soruları ve sorulara verdiğiniz cevapları not etmeyiniz.
3. Sınav başladıktan sonra ilk **30 dakikadan** önce dışarı çıkmayınız.

SORU KİTAPÇIĞI İLE İLGİLİ AÇIKLAMALAR

1. Soru kitapçığınızı kontrol ediniz. Baskı hatası var ise kitapçığı değiştirmek için salon görevlilerine başvurunuz.
2. Bu oturumda, aşağıda belirtilen **13** derse ait test soruları yer almaktadır. Sorumlu olduğunuz derslere ait soruları cevaplayınız.

<u>DERS ADI</u>	<u>SAYFA</u>	<u>DERS ADI</u>	<u>SAYFA</u>
TÜRKÇE - 6	2	DİN KÜL. VE AHLAK BİLGİSİ - 7	16
MATEMATİK - 6	4	İNKILAP TARİHİ VE ATATÜRKÇÜLÜK - 8	18
FEN VE TEKNOLOJİ - 6	6	İNGİLİZCE - 8	20
SOSYAL BİLGİLER - 7	10	ALMANCA - 8	22
İNGİLİZCE - 7	12	FRANSIZCA - 8	23
ALMANCA - 7	13	DİN KÜL. VE AHLAK BİLGİSİ - 8	25
FRANSIZCA - 7	15		

3. Her ders için **20** soru bulunmaktadır. Bu oturumda sorumlu olduğunuz dersler için toplam **150** dakikalık cevaplama süreniz vardır.
4. Cevaplarınız puanlanırken her doğru cevaba puan verilecek, yanlış cevaplarınız dikkate alınmayacaktır.
5. Soruların çözümü için size ayrıca boş kâğıt verilmeyecektir. Soru kitapçığınızın içindeki boş alanları soru çözümleri için kullanabilirsiniz.
6. Cevaplamaya istediğiniz dersin sorusundan başlayabilirsiniz. Cevabını bilmediğiniz sorular üzerinde fazla zaman kaybetmeden diğer sorulara geçiniz. Zamanınız kalırsa bu sorulara daha sonra dönebilirsiniz.
7. Sınavın bitiminde soru kitapçığınızı salon görevlilerine teslim etmeyi unutmayınız.

CEVAP KÂĞIDI İLE İLGİLİ AÇIKLAMALAR

1. **Adınıza düzenlenmiş olan cevap kâğıdını almamış iseniz bunu salon görevlilerine bildiriniz. Bu durumu salon görevlilerine bildirmediğiniz takdirde tüm sorumluluk size ait olacaktır.**
2. Cevap kâğıdındaki bilgilerin size ait olup olmadığını kontrol ediniz. Cevap kâğıdında yer alan bilgiler size ait değilse veya cevap kâğıdı kullanılamayacak durumdaysa verilecek yedek cevap kâğıdına, kimliğinizle ilgili bilgileri salon görevlilerinin açıklamalarına göre yazınız.
3. Cevap kâğıdı üzerine yazacağınız yazı ve yapacağınız kodlamalarda kurşun kalemde başka kalem kullanmayınız.
4. Sınavda tek cevap kâğıdı kullanılacaktır. Doğru cevap olarak kabul ettiğiniz seçeneği, cevap kâğıdınızın ilgili sütununa aynı soru numarasını dikkate alarak aşağıdaki örnekte olduğu gibi yuvarlağın dışına taşırmadan kodlayınız.

ÖRNEK KODLAMA:



5. Sınavın bitiminde cevap kâğıdınızı salon görevlilerine teslim etmeyi unutmayınız.

BAŞLAYINIZ DENİLMEYEN SORU KİTAPÇIĞINI AÇMAYINIZ.

1. OTURUM

TÜRKÇE – 6

1. “Dolabın alt rafında kalın bir kitap gözüme ilmişti.” cümlesindeki altı çizili deyimın anlamı aşağıdakilerden hangisidir?

A) Çok şaşırmak B) Çabucak bulmak
C) İstmeden görmek D) Dikkatlice bakmak

2. Bir yazarın, herhangi bir konu üzerinde, özel görüş ve düşüncelerini iddiasız, kesin kurallara varmaksızın anlattığı yazılara ne ad verilir?

A) Otobiyografi B) Deneme
C) Söyleşi D) Öykü

3. “Şapkalı adamın geniş bir alnı vardı.” cümlesindeki altı çizili sözcük hangi ses olayına örnektir?

A) Ünlü düşmesi
B) Ünlü daralması
C) Ünsüz benzeşmesi
D) Ünsüz yumuşaması

4. “Hastalığı ayakta tedavi edildi.” cümlesindeki altı çizili sözcük, ismin hangi hâlinde dir?

A) Yalın hâli B) -i hâli
C) -e hâli D) -de hâli

5. Aşağıdaki cümlelerin hangisinde isim tamlaması vardır?

A) Karşıdaki yeşil ev dikkat çekiyor.
B) Şu havada bile kısa kollu giyiyor.
C) Bu meyve cilde çok daha faydalıymış.
D) Ağacın yaprakları sararmaya başlamış.

6. Aşağıdaki cümlelerin hangisinde “da, de”nin yazımıyla ilgili bir yanlışlık yapılmıştır?

A) Kapıyı kapatmadan çantamı da alalım.
B) Geçenlerde teyzemi ziyarete gittik.
C) Arabanın anahtarı sende olmalı.
D) Elde avuçta bir şey kalmadı.

7. Aşağıdaki cümlelerin hangisinde karşıt anlam-
lı sözcükler bir arada kullanılmıştır?

A) İki kardeş koyu mu koyu bir sohbe te başladı.
B) Lezzetli lezzetsiz demeden her çeşitten tattı.
C) Boya kalemlerini kısıdan uzuna doğru sıraladı.
D) Çalışma masasındaki gülleri fark edince güldü.

8. “Sık sık şunu gözlemlemişimdir: Benim için önemli bir konuyu anlatırken karşımdaki yü-
züme bakmakta ve beni işitmekte ... sözlerimi dinlememektedir.”

Bu cümlede üç nokta ile belirtilen yere, dü-
şüncenin yönüne göre aşağıdakilerden hangi-
si getirilemez?

A) ama B) çünkü C) fakat D) ancak

9. Çocuk, yataktan kalkmakta çok zorlandı. Ayak-
ları yere yetişmediği için hopyarak yataktan
indi. Banyo kapısının önüne kadar geldi. Kapı-
yı nasıl açacağını bir iki saniye düşündü.

Bu parçadaki altı çizili sözcüklerden hangi-
si, bulunduğu cümleye neden-sonuç anlamı
katmıştır?

A) çok B) nasıl C) kadar D) için

10. Masal konuları genellikle padişah (kral), vezir,
şehzade, fakir kız veya delikanlı vb. kahraman-
lar çevresinde gelişir. Bundan başka masallar-
da çok kez cüce, gulyabani, dev, peri kız, cin,
ejderha vb. gerçek dışı ve olağanüstü tipler de
bulunur. Bazen kimi nitelikleriyle gerçek insa-
na benzeyen kişiler de (örneğin Keloğlan) bir
masal kahramanı olarak karşımıza çıkabilir.

Bu paragraf aşağıdaki sorulardan hangisinin
cevabıdır?

A) Masalda olaylar hangi zamanda geçer?
B) Masallar kuşaktan kuşağa nasıl aktarılır?
C) Masala konu olan kahramanlar kimlerdir?
D) Masalların ilk olarak kimin tarafından söylendi-
ği belli midir?

1. OTURUM

11. Aşağıdaki altı çizili sözcüklerin hangisinde ünsüz benzeşmesi vardır?

- A) Kazayı küçük sıyrıklarla atlatmış.
- B) Odasındaki renk uyumu dikkatimi çekti.
- C) Apartman girişinde minicik bir kedi vardı.
- D) Birlikte gideceğimiz geziye iki gün kalmış.

12. Aşağıdakilerden hangisi kalınlık-incelik uyumuna uymaz?

- A) Kaşıntı
- B) Ekmek
- C) Çaydanlık
- D) İhtiyar

13. Kedi, yemeğinin tadını çıkarır. Hırlaya hırlaya, bir parçaya elini atarak yemesi eğlencelidir ama uslu uslu başını eğip gözünü kapatarak yemesi yok mu! Gözlerini kapaması bana hazzındanmış gibi gelir. Belki gerçekten de böyledir.

Bu parçanın konusu aşağıdakilerden hangisidir?

- A) Kedilerin uyumayı sevmesi
- B) Kedilerin nasıl yemek yediği
- C) Kedilerin saldırganlaşabileceği
- D) Kedilerin insanlar karşısındaki davranışları

14. Bir hikâyede olayın geçtiği yer ve olayla ilişkisi olan kişi ya da kişilerin tanıtıldığı bölüme ne ad verilir?

- A) Serim
- B) Gelişme
- C) Çözüm
- D) Düşüm

15. Turizm; milletler arasında ekonomik, siyasal, kültürel tanışmayı sağlıyor. Çağımızda büyük bir hızla gelişen taşıtlar, insanları birbirine yaklaştırıyor. Bu durum farklı ülkelerden insanların tanışıp anlaşmalarında önemli bir etken oluyor. Dolayısıyla da turist çeken bir ülke, zenginleşiyor.

Bu paragrafta aşağıdakilerin hangisine değilmemiştir?

- A) Ulaşım teknolojisinin gelişmesiyle insanların yakınlaştığına
- B) Farklı milletlerden insanların turizm yoluyla tanışıp anlaşmalarına
- C) Turist çeken bir ülkenin zenginleştiğine
- D) Doğal ve tarihî güzellikleri korumak gerektiğine

16. İnsanlığa hizmetleri dokunmuş önemli kişilerin hayatının ve eserlerinin anlatıldığı yazı türüne ne ad verilir?

- A) Öykü
- B) Söyleşi
- C) Biyografi
- D) Otobiyografi

17. Bir dünya düşünürüm;

Ülküsü kardeşlik

Yaşlılar korkusuz, çocuklar mutlu

Ve yaşatan sevinçler içinde yarışta gençlik...

O güzelim dünya ki yüzyıllardır

Bütün altın kalplerce arzulanmış.

Coşkun Ertepinar

Bu şiirin teması aşağıdakilerden hangisidir?

- A) Kardeşlik özlemi
- B) Çocukluğa özlem
- C) Gençliğe duyulan özlem
- D) Mutlu bir dünya özlemi

18. Aşağıdaki cümlelerin hangisinde “yaş” sözcüğü diğerleriyle sesteştir?

- A) Ali on yedi yaşında bir delikanlıydı.
- B) Annem, babamdan beş yaş küçükmüş.
- C) Yaş pastanın mumlarını kardeşim yaktı.
- D) Üç çocuğunu yetiştirip bu yaşa getirmiş.

19. Aşağıdaki altı çizili sözcüklerden hangisi soyut isimdir?

- A) Sabah ilk işi perdeyi açmak oldu.
- B) Sevincini sınıf arkadaşlarıyla paylaştı.
- C) Yapraklar dökülmüş, bağlar bozulmuştu.
- D) Renkli kalemlerle beğendiği satırların altını çiziyordu.

20. Aşağıdaki altı çizili sözcüklerden hangisi zamirdir?

- A) Birçoğu olup bitenden hâlâ habersizdi.
- B) Hangi filminden daha çok etkilendiğimi sordu.
- C) Öbür oda hem daha aydınlık hem de geniş.
- D) Ablam cüzdanını almadan alışverişe gitmiş.

1. OTURUM

MATEMATİK – 6

1. 71a4 dört basamaklı sayısının 3 ile kalansız bölünebilmesi için, a yerine kaç farklı rakam yazılabilir?

A) 5 B) 4 C) 3 D) 2

2. 50 ve 54 litrelik iki çeşit meyve suyu birbirine karıştırılmadan eşit hacimli en büyük şişelere hiç artmayacak şekilde doldurulacaktır. Bunun için, en az kaç şişe gerekir?

A) 27 B) 35 C) 52 D) 104

3. 14, - 17, - 3, + 5 sayılarının küçükten büyüğe doğru sıralanışı aşağıdakilerden hangisidir?

A) $-17 < -3 < +5 < 14$
B) $+5 < -3 < 14 < -17$
C) $-3 < +5 < 14 < -17$
D) $14 < -17 < -3 < +5$

4. $2\frac{4}{9} : \frac{2}{3}$ işleminin sonucu kaçtır?

A) $\frac{2}{3}$ B) $2\frac{2}{3}$ C) $3\frac{2}{3}$ D) $4\frac{2}{3}$

5. 24,037 ondalık kesrindeki 3 rakamının basamak değeri aşağıdakilerden hangisidir?

A) 30 B) 3 C) 0,3 D) 0,03

6. $2,08 \times 1,7$ işleminin sonucu kaçtır?

A) 3,536 B) 3,78 C) 4,259 D) 4,76

7. 16 litrelik limonatanın %65'i su ise kaç litresi sudur?

A) 10,4 B) 9,8 C) 8,3 D) 7,1

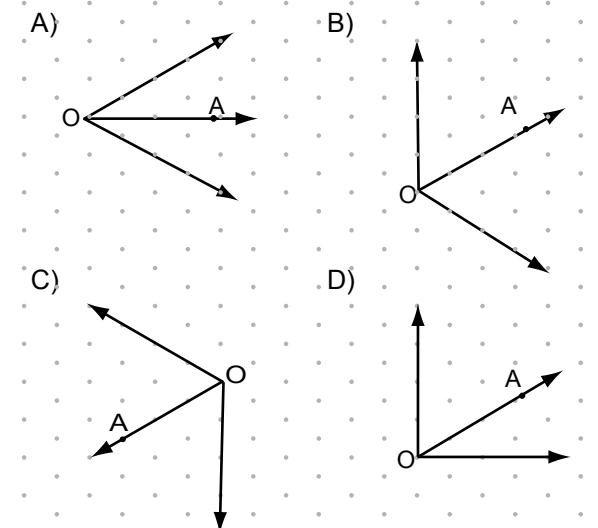
8. Bir otobüste bulunan 48 yolcunun her biri meyve suyu ve çaydan en az birini içmiştir. Otobüste meyve suyu içen 26, çay içen 31 yolcu olduğuna göre, hem çay hem de meyve suyu içen kaç yolcu vardır?

A) 24 B) 22 C) 17 D) 9

9. Aşağıdakilerden hangisi KM doğru parçasının sembolle gösterimidir?

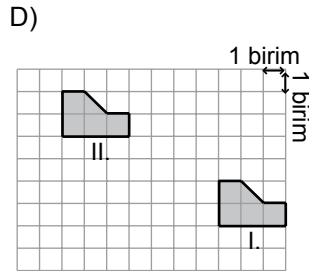
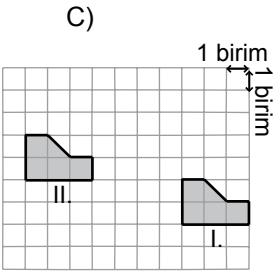
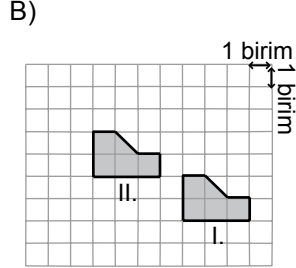
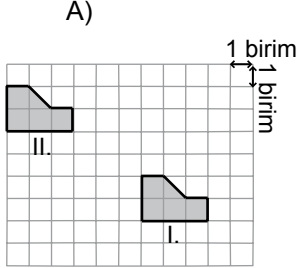
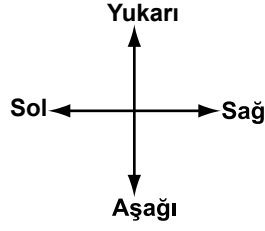
A) KM B) [KM] C) [KM D) [MK

10. Aşağıdakilerin hangisinde OA ışını, açıortay değildir?

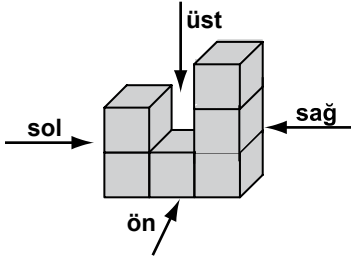


1. OTURUM

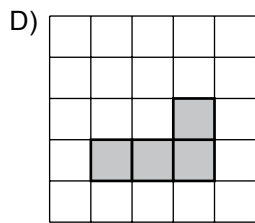
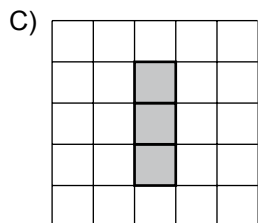
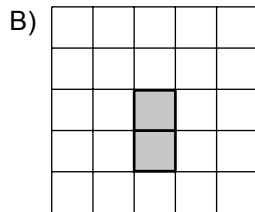
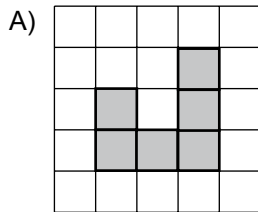
11. Aşağıdakilerin hangisinde, II. şekil, I. şeklin 2 birim yukarı, 4 birim sola ötelenmesiyle elde edilmiştir?



12.



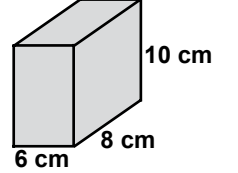
Yukarıdaki yapının sağdan görünümü aşağıdakilerin hangisinde verilmiştir?



13. Aşağıdakilerden hangisinde ölçüleri verilen iki açı bütünlerdir?

- A) 125° ile 55° B) 27° ile 63°
C) 27° ile 72° D) 130° ile 20°

14. Yanda verilen dikdörtgenler prizması şeklindeki kutunun tüm yüzeyi boyanacaktır. Boyanacak yüzeyin alanı kaç santimetrekaredir?



- A) 140 B) 240 C) 376 D) 448

15. Ayrıt uzunluğu 8 cm olan küp şeklindeki kutunun hacmi kaç santimetreküptür?

- A) 24 B) 128 C) 372 D) 512

16. 2400 cm^3 hacmindeki bir kap en fazla kaç litre su alır?

- A) 0,24 B) 2,4 C) 240 D) 2400

17. Bir zar atıldığında üst yüze gelen sayının 3 ile bölünebilen bir sayı olma olasılığı nedir?

- A) $\frac{1}{2}$ B) $\frac{1}{3}$ C) $\frac{1}{4}$ D) $\frac{1}{12}$

1. OTURUM

18. 30, 33, 28, 14, 21, 17 sayılarının açıklığı aşağıdakilerden hangisidir?

- A) 11 B) 13 C) 16 D) 19

19. 7^3 üslü sayısı aşağıdakilerden hangisine eşittir?

- A) 73
B) 7×3
C) $7 \times 7 \times 7$
D) $3 \times 3 \times 3 \times 3 \times 3 \times 3$

20. $2x + 35 = 75$ ise x kaçtır?

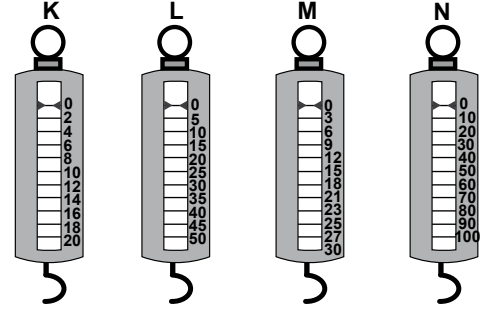
- A) 20 B) 15 C) 10 D) 5

FEN ve TEKNOLOJİ – 6

1. 3 saatte 165 km yol alan bir aracın sürati kaç km/h'tir?

- A) 40 B) 45 C) 50 D) 55

2.



14 N ağırlığındaki bir kutuyu tartabilmek için şekildeki dinamometrelerden hangisinin kullanılması en uygundur?

- A) K'nin B) L'nin C) M'nin D) N'nin

3. Ahmet, Fen ve teknoloji dersi için elektrik çarpmalarına karşı alınabilecek önlemlere yönelik hazırladığı sunumu arkadaşlarıyla paylaştı:

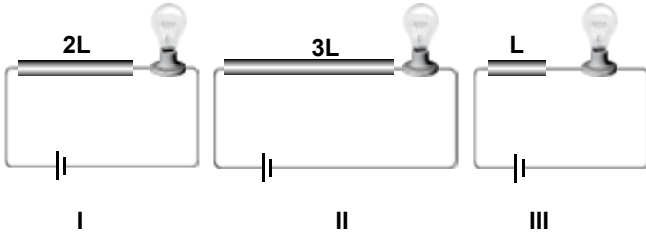
- (I) Elektrik güvenliği açısından yeterli tedbir alınmadığı takdirde elektrik çarpmaları meydana gelebilir. (II) Bunun için, prize çivi, iğne gibi metal cisimleri sokmamalıyız. (III) Musluk suyunun da yalıtkan olduğunu düşünürsek ıslak elle prize, fişe veya anahtara dokunabiliriz. (IV) Elektrik direklerine kesinlikle tırmanmamalı ve sarkan kabloları dokunmamalıyız.

Ahmet'in sunumundaki numaralandırılmış cümlelerden hangisi yanlıştır?

- A) I B) II C) III D) IV

1. OTURUM

4. Özdeş lamba, üreteçler ve tellerle kurulmuş şekildeki devrelerde kullanılan dirençlerin boyları L cinsinden verilmiştir.

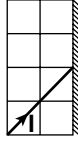


Dirençlerin cinsleri ve kalınlıkları aynı olduğuna göre, I, II ve III numaralı devrelerde bulunan lambaların parlaklıkları arasındaki ilişki aşağıdakilerin hangisinde doğru verilmiştir?

- A) II > I > III
B) III > I > II
C) I > II > III
D) III > II > I

5. I ışık ışını birim kareler üzerine yerleştirilmiş düzlem aynaya şekildeki gibi gönderilmiştir.

I'nın aynada yansıdıktan sonra izleyeceği yol aşağıdakilerin hangisinde doğru verilmiştir?




- A)
B)
C)
D)


6. Aşağıdaki teknolojik araçlardan hangisinin kullanılması sesin yansıması ile ilgili değildir?

- A) Gemilerde sonar cihazı kullanılması
B) Konser salonlarında mikrofon kullanılması
C) Araçların hızlarını kontrol etmek için radar kullanılması
D) Doktorların ultrason cihazı kullanması

7. Öğrenciler, “toprak erozyonu” konulu poster yarışması için aşağıdaki posterleri hazırladılar.



Bengü'nün posteri



Ceyda'nın posteri



Mustafa'nın posteri

Buna göre, hangi öğrencinin posteri yarışma konusuna uygundur?

- A) Yalnız Bengü'nün
B) Bengü ve Ceyda'nın
C) Ceyda ve Mustafa'nın
D) Bengü ve Mustafa'nın

8. Aşağıdakilerden hangisi doğal bir anıttır?

A)



Nemrut Heykelleri

B)



Anıtkabir

C)



Pamukkale Travertenleri

D)



Truva Atı

1. OTURUM

9. Bir öğrenci tabloda, tanecik modelleri verilen maddelerin sınıfını “√” işareti ile belirtiyor.

Maddenin tanecik modeli \ Maddenin sınıfı	Element	Bileşik
1.	√	
2.		√
3.		√
4.	√	

Öğrenci, tabloda hangi maddenin sınıfını yanlış belirtmiştir?

- A) 1. B) 2. C) 3. D) 4.

10. Aşağıdakilerden hangisi fiziksel değişime örnektir?

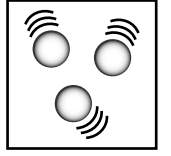
- A) Karın erimesi B) Demirin paslanması
C) Patatesin çürümesi D) Odunun yanması

11. Aşağıdakilerden hangisi gaz maddeyi oluşturan taneciklerin hareketli olduğunu gösterir?

- A) Mürekkebin suda yayılması
B) Tuzun suda çözünmesi
C) İlkbaharda açan çiçeklerin kokusunun hissedilmesi
D) Yağmur sırasında derelerden bulanık su akması

12. Yanda bir maddenin tanecik modeli görülmektedir.

Bu madde ısıtıldığında tanecik modeli aşağıdakilerin hangisindeki gibi olabilir?



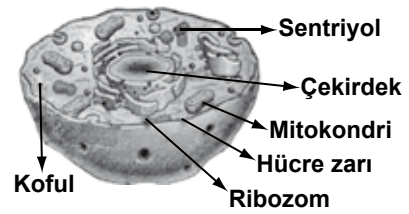
- A) B)
C) D)

13. I- İletim
II- Konveksiyon
III- Soğurma

Yukarıdakilerden hangileri ısıнын yayılma yollarından biri değildir?

- A) Yalnız I B) Yalnız III
C) I - II D) II - III

- 14.

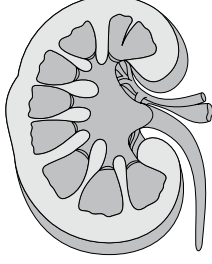


Aşağıdaki canlılardan hangisi, şekildekine benzer hücre yapısına sahiptir?

- A) İnsan B) Bakteri
C) Papatya D) Çam ağacı

1. OTURUM

15. Bir öğrenci “Hücreden organizmaya” adlı konunun anlatımında; hücre, doku, organ ve sisteme ait resimleri kullanmak istiyor.



Böbrek

Buna göre verilen resim aşağıdakilerden hangisini ifade eder?

- A) Hücre
B) Organ
C) Sistem
D) Organizma

16. Çiçekli bir bitkinin yaşam döngüsünde, aşağıdaki olayların hangisinden sonra zigot oluşur?

- A) Gelişimini sürdüren bitkide yaprak ve çiçeğin oluşması
B) Tohum taslağının gelişerek tohumu oluşturması
C) Polen taneciklerinin dişiçik tepesine gelmesi
D) Tohumun çimlenerek bitkiyi oluşturması

17.

Özellikler Canlı adı	Yavru bakımı	Başkalaşım geçirme	Embriyo- nun anne karnında gelişmesi
▲	Yok	Var	Yok
★	Var	Yok	Var

Tabloda ▲ ve ★ ile gösterilen canlılara ait özellikler verilmiştir.

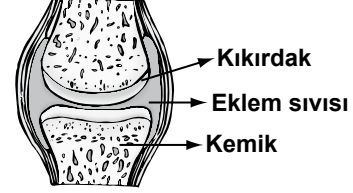
Bu canlılar hangisinde verilenler olabilir?

- | | | |
|----|-------------|-------------|
| | ▲ | ★ |
| A) | İpek böceği | İnek |
| B) | Leylek | Tavşan |
| C) | Tavşan | İpek böceği |
| D) | Leylek | İpek böceği |

18. Kandaki akyuvarlar, aşağıdaki olayların hangisinde etkilidir?

- A) Yaralanma durumunda kanın pıhtılaşmasında
B) Oksijenin hücrelere kadar taşınmasında
C) Karbondioksitin akciğere taşınmasında
D) Vücudun mikroplara karşı savunulmasında

19.



Şekilde verilen eklem, aşağıdaki vücut kısımlarının hangisinde bulunur?

- A) Boyun
B) Kaburga
C) Kafatası
D) Bacak

20. Antibiyotikler yalnızca bakterilere karşı etkili olup, virüslerin neden olduğu hastalıklarda kullanılmaz.

Buna göre aşağıdaki hastalıkların hangisinde doktorun, hastaya antibiyotik vermesi beklenmez?

- A) Kolera
B) Verem
C) Kızamık
D) Zatürre

11 ARALIK 2011 TARİHİNDE YAPILAN
AÇIK İLKÖĞRETİM OKULU 2011-2012 ÖĞRETİM YILI 1. DÖNEM SINAVI
1. OTURUM CEVAP ANAHTARI

TÜRKÇE – 6

1. C
2. B
3. A
4. A
5. D
6. A
7. C
8. B
9. D
10. C
11. B
12. D
13. B
14. A
15. D
16. C
17. D
18. C
19. B
20. A

FEN ve TEKNOLOJİ – 6

1. D
2. A
3. C
4. B
5. A
6. B
7. D
8. C
9. D
10. A
11. C
12. D
13. B
14. A
15. B
16. C
17. A
18. D
19. D
20. C

İNGİLİZCE – 7

1. C
2. A
3. D
4. B
5. C
6. D
7. B
8. C
9. D
10. A
11. D
12. A
13. B
14. D
15. B
16. A
17. C
18. B
19. A
20. A

FRANSIZCA – 7

1. C
2. A
3. D
4. B
5. C
6. D
7. B
8. C
9. D
10. A
11. D
12. A
13. B
14. D
15. B
16. A
17. C
18. B
19. A
20. A

MATEMATİK – 6

1. B
2. C
3. A
4. C
5. D
6. A
7. A
8. D
9. B
10. D
11. B
12. C
13. A
14. C
15. D
16. B
17. B
18. D
19. C
20. A

SOSYAL BİLGİLER – 7

1. A
2. A
3. C
4. B
5. D
6. A
7. D
8. A
9. C
10. D
11. A
12. B
13. C
14. D
15. B
16. C
17. B
18. D
19. D
20. C

ALMANCA – 7

1. C
2. A
3. D
4. B
5. C
6. D
7. B
8. C
9. D
10. A
11. D
12. A
13. B
14. D
15. B
16. A
17. C
18. B
19. A
20. A

**DİN KÜLTÜRÜ ve AHLAK
BİLGİSİ – 7**

1. C
2. A
3. C
4. B
5. B
6. D
7. A
8. D
9. A
10. B
11. C
12. C
13. D
14. B
15. D
16. A
17. B
18. A
19. B
20. D

11 ARALIK 2011 TARİHİNDE YAPILAN
AÇIK İLKÖĞRETİM OKULU 2011-2012 ÖĞRETİM YILI 1. DÖNEM SINAVI
1. OTURUM CEVAP ANAHTARI

İNKILAP TARİHİ ve
ATATÜRKÇÜLÜK – 8

1. B
2. A
3. A
4. D
5. C
6. B
7. D
8. B
9. D
10. A
11. B
12. C
13. C
14. A
15. A
16. B
17. D
18. D
19. C
20. C

İNGİLİZCE – 8

1. A
2. C
3. C
4. D
5. C
6. A
7. C
8. B
9. D
10. D
11. A
12. B
13. A
14. D
15. B
16. B
17. A
18. B
19. A
20. D

ALMANCA – 8

1. A
2. C
3. C
4. D
5. C
6. A
7. C
8. B
9. D
10. D
11. A
12. B
13. A
14. D
15. B
16. B
17. A
18. B
19. A
20. D

FRANSIZCA – 8

1. A
2. C
3. C
4. D
5. C
6. A
7. C
8. B
9. D
10. D
11. A
12. B
13. A
14. D
15. B
16. B
17. A
18. B
19. A
20. D

DİN KÜLTÜRÜ ve AHLAK
BİLGİSİ – 8

1. B
2. D
3. C
4. C
5. A
6. B
7. A
8. B
9. B
10. D
11. B
12. D
13. D
14. C
15. C
16. A
17. A
18. C
19. B
20. C

1. OTURUM

SOSYAL BİLGİLER – 7

1. 1- İşaret
- 2- Gözyaşı
- 3- Konferans
- 4- Radyo

Yukarıda verilenlerden hangileri sözsüz iletişime örnek gösterilebilir?

- A) 1 - 2 B) 2 - 3
C) 2 - 4 D) 3 - 4

2. Aşağıdakilerden hangisi iletişimde kullandığımız “ben” dilinin özelliklerinden biridir?

- A) Anlaşmazlıkları azaltır.
B) Kişiyi anlaşılmadığını hissettirir.
C) Davranıştan çok kişiliğe yöneliktir.
D) Suçlayıcı,eleştirici ve yargılayıcıdır.

3. Rönesansın ilk olarak başladığı ülke aşağıdakilerden hangisidir?

- A) Almanya B) Fransa
C) İtalya D) İspanya

4. Nüfusun yoğun olduğu yerlerde aşağıdaki durumlardan hangisi görülmez?

- A) Şehirleşmenin artması
B) İş gücünün azalması
C) Üretim ve tüketimin artması
D) Eğitim imkânlarının gelişmesi

5. Aşağıdakilerden hangisi Reform hareketlerinin sonuçlarından değildir?

- A) Katolik mezhebinin parçalanması
B) Kilisenin eski saygınlığını kaybetmesi
C) Eğitim-öğretimin faaliyetlerinin laikleştirilmesi
D) Sanayide, buharlı makinelerin kullanılması

6. Türkiye Cumhuriyeti’nde yasa yapma yetkisi, aşağıdakilerden hangisine aittir?

- A) TBMM
B) Danıştay
C) Başbakan
D) Anayasa Mahkemesi

7. 20. yüzyıl başlarında Kuzey Afrika’daki son Osmanlı toprağı olan Trablusgarp’ı işgal eden devlet aşağıdakilerden hangisidir?

- A) Rusya B) Fransa
C) İngiltere D) İtalya

8. Büyük Selçuklu Devleti’nin kurucusu ve kuruluş yılı aşağıdakilerden hangisinde doğru olarak verilmiştir?

- A) Tuğrul Bey → 1040
B) Alparslan → 1071
C) Melikşah → 1040
D) Süleymanşah → 1077

9. Avrupalılar kaçınıcı yüzyıldan itibaren Anadolu’yu “Türkiye” olarak adlandırmaya başlamışlardır?

- A) 10 B) 11 C) 12 D) 13

10. Anadolu’nun Türk yurdu olduğunu ve Türklerden geri alınamayacağını kanıtlayan zaferin adı ve tarihi hangi seçenekte doğru olarak verilmiştir?

- A) Katvan → 1157
B) Pasinler → 1048
C) Malazgirt → 1071
D) Miryokefalon → 1176

1. OTURUM

11. Aşağıdakilerden hangisi Haçlı seferlerinin siyasi sonuçlarından biridir?

- A) Derebeylik sisteminin zayıflaması
- B) Bazı buluşların Avrupa'ya geçmesi
- C) Kilisenin nüfuzunun azalması
- D) Deniz ticaretinin gelişmesi

12. Yeniçeri Ocağı kaç yılında ve kim tarafından kaldırılmıştır?

- A) 1364 - I. Murat
- B) 1826 - II. Mahmut
- C) 1789 - III. Selim
- D) 1908 - II. Abdülhamit

13. I- İşsizlik
II- Çarpık kentleşme
III- Milli gelirde azalma
IV- Doğal kaynaklarda azalma

Verilenlerden hangisi ülkemizde hızlı nüfus artışının sonuçları arasında yer almaz?

- A) I
- B) II
- C) III
- D) IV

14. Aşağıdakilerden hangisi coğrafi keşiflerin sonuçlarından değildir?

- A) Yeni kıtalar bulundu.
- B) Avrupa ülkeleri sömürgecilğe yöneldi.
- C) Atlas Okyanusu'ndaki limanlar önem kazandı.
- D) Osmanlıların ticaret yollarından aldığı vergi gelirleri arttı.

15. Osmanlılarda ilk medrese kimin zamanında açılmıştır?

- A) Osman Gazi
- B) Orhan Bey
- C) II. Murat
- D) I. Murat

16. Yerleşme ve seyahat özgürlüğü Anayasa'nın kaçınıcı maddesiyle düzenlenmiştir?

- A) 5
- B) 11
- C) 23
- D) 122

17. I- Kral yolu
II- İpek yolu
III- Baharat yolu

15. ve 16. yüzyıllara kadar Doğu ülkeleri ile Avrupa ülkeleri arasındaki ticarete önem kazanan yollar aşağıdakilerin hangisinde doğru olarak bir arada verilmiştir?

- A) I - II
- B) II - III
- C) I - III
- D) I - II - III

18. Aşağıdaki şehirlerin hangisinde nüfusun yoğun olmasının ana sebebi madenciliktir?

- A) İstanbul
- B) Eskişehir
- C) Malatya
- D) Zonguldak

19. İşçi sınıfının ortaya çıkması aşağıdakilerden hangisinin bir sonucudur?

- A) Reformun
- B) Rönesansın
- C) Coğrafi keşiflerin
- D) Sanayi İnkılabının

20. İyi eğitilmiş elemanların, daha iyi çalışma imkânları sağlayan ülkelere gitmesiyle oluşan göçler aşağıdakilerden hangisidir?

- A) İç göç
- B) İşçi göçü
- C) Beyin göçü
- D) Mevsimlik göç

1. OTURUM

İNGİLİZCE – 7

1 - 20. sorularda boş bırakılan yere uygun olan kelime ya da ifadeyi işaretleyiniz.

1. He is tea now.

- A) learning B) playing
C) drinking D) going

2. A:
B: Once a week.

- A) How often do you go swimming?
B) Why do you always get up late?
C) What do you do at weekend?
D) How do you feel yourself?

3. I'm, he won't come to the meeting.

- A) think B) worry
C) promise D) afraid

4. My friends at the cinema last Sunday.

- A) are B) were
C) was D) is

5. She was at school

- A) everyday B) at the moment
C) yesterday D) tomorrow

6. He found my purse last night and gave it to

- A) him B) myself
C) himself D) me

7. I used to but now I have a bird.

- A) read magazines B) have a dog
C) be fat D) live there

8. Cemre is a quick learner. She learns

- A) slowly B) sadly
C) quickly D) loudly

9. Ayşe has got five books. Mert has got three books.
Ayşe has got books than Mert.

- A) many B) most
C) much D) more

10. The Mississippi is the river in the world.

- A) longest B) fattest
C) wisest D) happiest

11. Nuray is 60 years old. Ömer is 60 years old, too.

- A) Nuray's hair is different from Ömer's.
B) Ömer's car isn't the same as Nuray's.
C) Ömer isn't as tall as Nuray.
D) Nuray is as old as Ömer.

12. It's too late.

- A) I must go to the bed.
B) I may listen to the music.
C) I can watch TV.
D) I will go outside.

13. A:
B: No, I'm not thirsty.

- A) May I borrow your dictionary?
B) Would you like something to drink?
C) Can I bring my dog with me?
D) Could we meet at 6 o'clock?

1. OTURUM

14., please. It's too hot.

- A) Write a letter B) Speak English
C) Read newspaper D) Open the window

15. My father is work.

- A) on B) at C) in D) to

16. I wore my boots going out.

- A) before B) after
C) when D) which

17. I can't buy that house it is very expensive.

- A) when B) while
C) because D) before

18. Boss : You're late again!
Kerem : There was an accident I was late for work. Sorry.

- A) when B) so C) while D) how

19. A: My English isn't good.

B:

- A) Let's study together!
B) Shall we play tennis?
C) Let's watch TV!
D) Why don't you see a doctor?

20. If he didn't drink so much cold water, he

- A) wouldn't catch a cold
B) would lend it to you
C) would pass the exam
D) wouldn't buy a sports car

ALMANCA – 7

1 - 20. sorularda boş bırakılan yere uygun gelen kelime veya ifadeyi işaretleyiniz.

1. - Wie geht es ihm?

- Es geht gut.

- A) mir B) ihr C) ihm D) dir

2. - Wie heißt er?

- heißt Peter.

- A) er B) sie C) ich D) du

3. -wohnt Claudia?

- Sie wohnt in Frankfurt.

- A) Wer B) Wie C) Was D) Wo

4. - sind die Schüler?

- Sie sind sehr fleißig.

- A) Was B) Wie C) Wer D) Wo

5. - du einen Bleistift?

- Ja, ich habe einen Bleistift.

- A) Haben B) Habe
C) Hast D) Hat

6. - Hat Mehmet ein Auto?

- Nein, er hat Auto.

- A) ein B) das C) der D) kein

1. OTURUM

7. Ich habe Geburtstag, und das Geschenk ist für

- A) mein B) mich C) mir D) meus

8. Hallo Zeynel, herzlichen Glückwunsch! Ich gratulier dir zum Geburtstag.

- A) -en B) -st C) -e D) -t

9. - Wann bist du geboren?
- Ich bin 19. Mai 1881 geboren.

- A) mit B) für C) in D) am

10. Wann hat Geburtstag? (Brigitte)

- A) sie B) ihr C) er D) ich

11. Was du trinken?

- A) wollt B) will
C) wollen D) willst

12. Sie die Tür öffnen?

- A) Können B) Könnt
C) Kann D) Kannst

13. - Wo ist Michaela?
- Sie im Supermarkt

- A) ein - kauft B) kauft - ein
C) kaufst - ein D) ein - kaufen

14. - Wann kommt der Zug in Istanbul an?
- Er um 11 Uhr

- A) komme - an B) kommen - an
C) kommst - an D) kommt - an

15. - Was ist er vom Beruf?
- Er Mechaniker.

- A) sein B) ist C) bin D) bist

16. - Hast du damals ein Fahrrad gehabt?
- Nein, damals habe ich kein Fahrrad

- A) gehabt B) hat
C) habe D) haben

17. - Was hast du Gestern gemacht?
- Ich bin ins Kino

- A) gewesen B) sein
C) gegangen D) gehabt

18. - Wem gehört diese Uhr?
- Das ist Uhr.

- A) mir B) meine C) dein D) mich

19. Ich bin verheiratet und habe drei Kinder. Das sind Kinder.

- A) meine B) sein
C) mein D) deine

20. - du ins Theater oder ins Kino gehen.
- Ich ins Kino gehen.

- A) möchtest - möchte B) möchte - möchten
C) möchten - möchte D) möchte - möchtest

1. OTURUM

FRANSIZCA – 7

1 - 16. sorularda boş bırakılan yere uygun olan kelime ya da ifadeyi işaretleyiniz.

1. Qui donné ce gâteau au chien?

- A) ont B) ai C) a D) as

2. Je dois pas aller acheter des cahiers pour mon fils.

- A) ne B) ni C) que D) plus

3. Je vais la maison.

- A) en B) au C) ou D) à

4. Je vais le docteur.

- A) dans B) chez C) au D) en

5. Tu trouves turcs aimables?

- A) une B) un C) les D) le

6. Ma petite sœur s'est à sept heures.

- A) levé B) lève C) lever D) levée

7. Mon ami part à New-York avion.

- A) à B) en C) au D) au

8. Prenez-vous frites?

- A) du B) de la C) des D) de

9. Ma mère m'a dit d'acheter de tomate.

- A) un pot B) un litre
C) une tasse D) un kilo

10. Pour faire un gâteau, de la farine.

- A) il faut B) il doit
C) il pense D) il fait

11. nous irons visiter la tour Eiffel.

- A) Hier
B) Lundi dernier
C) L'année dernière
D) Le mois prochain

12. Si tu d'accord, j'inviterai mes amis.

- A) es B) avais C) est D) auras

13. Ma chemise est blanche la neige.

- A) parce que B) comme
C) lorsque D) moment

14. David demande à sa copine: "Il a quel âge fils?"

- A) sa B) leurs C) ta D) ton

15. A: Quel temps fera-t-il à Marseille?
B:

- A) Il pleut.
B) Il fera beau.
C) Il fait mauvais.
D) Il y a de la neige.

11 ARALIK 2011 TARİHİNDE YAPILAN
AÇIK İLKÖĞRETİM OKULU 2011-2012 ÖĞRETİM YILI 1. DÖNEM SINAVI
1. OTURUM CEVAP ANAHTARI

TÜRKÇE – 6

1. C
2. B
3. A
4. A
5. D
6. A
7. C
8. B
9. D
10. C
11. B
12. D
13. B
14. A
15. D
16. C
17. D
18. C
19. B
20. A

FEN ve TEKNOLOJİ – 6

1. D
2. A
3. C
4. B
5. A
6. B
7. D
8. C
9. D
10. A
11. C
12. D
13. B
14. A
15. B
16. C
17. A
18. D
19. D
20. C

İNGİLİZCE – 7

1. C
2. A
3. D
4. B
5. C
6. D
7. B
8. C
9. D
10. A
11. D
12. A
13. B
14. D
15. B
16. A
17. C
18. B
19. A
20. A

FRANSIZCA – 7

1. C
2. A
3. D
4. B
5. C
6. D
7. B
8. C
9. D
10. A
11. D
12. A
13. B
14. D
15. B
16. A
17. C
18. B
19. A
20. A

MATEMATİK – 6

1. B
2. C
3. A
4. C
5. D
6. A
7. A
8. D
9. B
10. D
11. B
12. C
13. A
14. C
15. D
16. B
17. B
18. D
19. C
20. A

SOSYAL BİLGİLER – 7

1. A
2. A
3. C
4. B
5. D
6. A
7. D
8. A
9. C
10. D
11. A
12. B
13. C
14. D
15. B
16. C
17. B
18. D
19. D
20. C

ALMANCA – 7

1. C
2. A
3. D
4. B
5. C
6. D
7. B
8. C
9. D
10. A
11. D
12. A
13. B
14. D
15. B
16. A
17. C
18. B
19. A
20. A

**DİN KÜLTÜRÜ ve AHLAK
BİLGİSİ – 7**

1. C
2. A
3. C
4. B
5. B
6. D
7. A
8. D
9. A
10. B
11. C
12. C
13. D
14. B
15. D
16. A
17. B
18. A
19. B
20. D

**11 ARALIK 2011 TARİHİNDE YAPILAN
AÇIK İLKÖĞRETİM OKULU 2011-2012 ÖĞRETİM YILI 1. DÖNEM SINAVI
1. OTURUM CEVAP ANAHTARI**

**İNKILAP TARİHİ ve
ATATÜRKÇÜLÜK – 8**

1. B
2. A
3. A
4. D
5. C
6. B
7. D
8. B
9. D
10. A
11. B
12. C
13. C
14. A
15. A
16. B
17. D
18. D
19. C
20. C

İNGİLİZCE – 8

1. A
2. C
3. C
4. D
5. C
6. A
7. C
8. B
9. D
10. D
11. A
12. B
13. A
14. D
15. B
16. B
17. A
18. B
19. A
20. D

ALMANCA – 8

1. A
2. C
3. C
4. D
5. C
6. A
7. C
8. B
9. D
10. D
11. A
12. B
13. A
14. D
15. B
16. B
17. A
18. B
19. A
20. D

FRANSIZCA – 8

1. A
2. C
3. C
4. D
5. C
6. A
7. C
8. B
9. D
10. D
11. A
12. B
13. A
14. D
15. B
16. B
17. A
18. B
19. A
20. D

**DİN KÜLTÜRÜ ve AHLAK
BİLGİSİ – 8**

1. B
2. D
3. C
4. C
5. A
6. B
7. A
8. B
9. B
10. D
11. B
12. D
13. D
14. C
15. C
16. A
17. A
18. C
19. B
20. C

1. OTURUM

16. A: Qu'est-ce que c'est?
B: C'est



- A) une veste
C) une cravate
B) une chemise
D) un pantalon

17. "J'attends quelqu'un." cümlesinin olumsuz (négative) hâli hangisidir?

- A) Je n'attends rien.
B) Je n'attends plus.
C) Je n'attends personne.
D) Je n'attends jamais.

18. Aşağıdakilerden hangisi emir (impératif) cümlesidir?

- A) Il vient aujourd'hui
B) Ne sors pas tard
C) C'est un écrivain
D) Mangez-vous du pain

19. Aşağıda verilen sözcüklerden hangisi anlam bakımından diğerlerinden farklıdır?

- A) Une plume
C) Une vache
B) Un chat
D) Un chien

20. Paul: 37 ans
Eric : 34 ans

Verilen bilgilere göre aşağıdaki ifadelerden hangisi doğrudur?

- A) Eric est plus jeune que Paul.
B) Paul est aussi jeune que Eric.
C) Eric est plus vieux que Paul.
D) Paul est aussi vieux que Eric.

DİN KÜLTÜRÜ ve AHLAK BİLGİSİ – 7

1. Kur'an-ı Kerim ile ilgili aşağıda verilen bilgilerden hangisi yanlıştır?

- A) Hiçbir değişikliğe uğramadan günümüze kadar gelmiştir.
B) Vahyedilme süreci yaklaşık 23 yıldır.
C) Türkçe orijinal nüshaları vardır.
D) Benzeri ortaya konulamaz.

2. Kur'an-ı Kerim'in ilk inen ayetleri aşağıdaki ifadelerden hangisi ile başlamaktadır?

- A) "Oku, yaratan Rabbinin adıyla!"
B) "İşte bu Kur'an ilahî bir kelimadır."
C) "Hamd alemlerin Rabb'i Allah içindir."
D) "Ben cinleri ve insanları ancak bana kulluk etsinler diye yarattım."

3. Hz. Muhammed'e gelen ilk ayetler aşağıdaki surelerden hangisinde yer almaktadır?

- A) Müddessir suresi, 1-5
B) Fatiha suresi, 1-5
C) Alak suresi, 1-5
D) Bakara suresi, 1-7

4. Kur'an ile ilgili aşağıdaki bilgilerden hangisi doğrudur?

- A) Kur'an'ın bir kısmı sahabe sözüdür.
B) Kur'an otuz cüzden meydana gelmiştir.
C) Kur'an'ın kitap hâlindeki şekline sûre denir.
D) Kur'an'ı oluşturan vahiy ifadelerine hadis denir.

1. OTURUM

5. “Dini yalanlayanı gördün mü? İşte o, yetimi itip kakar; yoksulu doyurmaya teşvik etmez; yazıklar olsun o namaz kılanlara ki, onlar namazlarını ciddiye almazlar; onlar gösteriş yapanlardır, hayra da mani olurlar.”

Yukarıda meali verilen sure aşağıdakilerden hangisidir?

- A) Nâs B) Mâûn
C) Kunut D) Felâk

6. Hac veya umre ibadeti esnasında Kâbe’nin etrafında yedi defa dolaşmaya ne ad verilir?

- A) Sa’y B) Şavt C) Vakfe D) Tavaf

7. Haccın farzlarından olup “durmak, beklemek” anlamına gelen terim aşağıdakilerden hangisidir?

- A) Vakfe B) Şavt
C) Tavaf D) Telbiye

8. Hacda ihramlı bir kişi aşağıdakilerden hangisini yapabilir?

- A) Tırnak kesme
B) Münakaşa etme
C) Ot ve ağaçları koparma
D) Mescid-i Haram’da uyuma

9. Kurban ibadeti ile ilgili aşağıdaki bilgilerden hangisi yanlıştır?

- A) Deve en az iki yaşında kurban edilir.
B) Kurban, bayramın ilk üç gününde kesilmelidir.
C) Sığır veya manda 1-7 kişi adına kurban edilebilir.
D) Koyun veya keçi, yalnızca bir kişi adına kurban edilir.

10. İslam dinine göre Kurban kesmek ne tür bir ibadettir?

- A) Farz B) Vacip
C) Sünnet D) Nafile

11. Aşağıdakilerden hangisi vahiy meleğidir?

- A) Mikâil B) Azrail
C) Cebrail D) Malik

12. Yaptığımız iyilik ve kötülükleri kaydetmekle görevli melekler aşağıdakilerden hangisidir?

- A) Hafaza melekleri B) Mikâil ve İsrail
C) Kırâmen Katibîn D) Cebrail

13. Aşağıdakilerden hangisi meleklerin özelliklerinden değildir?

- A) Cinsiyetleri yoktur.
B) Nurdan yaratılmışlardır.
C) Çok hızlı hareket edebilirler.
D) Gelecekle ilgili her şeyi bilirler.

14. Kıyamet günü insanların diriltilmeleri ve mahşer meydanında toplanması ne zaman başlayacaktır?

- A) İsrail sûr’a ilk kez üflediğinde
B) İsrail sûr’a ikinci kez üflediğinde
C) Kabir meleklerinin insanın ruhunu sorgulamasından sonra
D) İnsanların ahirette hesaba çekilmelerinden sonra

1. OTURUM

15. Bu dünyanın sona ermesi ile başlayacak olan sonsuz hayata ne ad verilir?

- A) Sırat B) Haşır
C) Kıyamet D) Ahiret

16. “Havariler”, aşağıdaki peygamberlerden hangisinin davetine icabet etmiş müminlerdir?

- A) Hz. İsa B) Hz. Musa
C) Hz. Davut D) Hz. İbrahim

17. Aşağıdakilerden hangisi “teslis” inancının unsurlarından değildir?

- A) Baba B) Meryem
C) Oğul D) Kutsal Ruh

18. İnsan ruhunun, öldükten sonra yeni bir bedenle tekrar dünya yaşamına döndüğü inancı aşağıdaki dinlerin hangisinde vardır?

- A) Hinduizm B) Şintoizm
C) Musevilik D) Hristiyanlık

19. Musevilikte kutsal sayılan ve çalışılmayan gün aşağıdakilerden hangisidir?

- A) Cuma B) Cumartesi
C) Pazar D) Pazartesi

20. Aşağıdakilerden hangisi tüm dinlerde bulunmaz?

- A) Ahlak anlayışı
B) Özel ibadet biçimleri
C) Kendine ait bir inanç sistemi
D) Kitap ve peygamber inancı

İNKILAP TARİHİ ve ATATÜRKÇÜLÜK – 8

1. Maraş savunmasının lideri aşağıdakilerden hangisidir?

- A) Ali Saip Bey B) Sütçü İmam
C) Karayılan D) Şahin Bey

2. Varşova Paktı hangi devletin öncülüğünde kurulmuştur?

- A) SSCB B) İngiltere
C) Fransa D) Almanya

3. Mustafa Kemal’in Kurtuluş Savaşı devam ederken Maarif Kongresini toplaması aşağıdakilerden hangisine önem verdiğini gösterir?

- A) Eğitime B) Askerliğe
C) Ekonomiye D) Sanata

4. Kurtuluş Savaşı’nın kazanılmasında temel faktör olan ilke aşağıdakilerden hangisidir?

- A) Laiklik B) Devletçilik
C) İnkılapçılık D) Milliyetçilik

5. Kuzey Kıbrıs Türk Cumhuriyeti kaç yılında kurulmuştur?

- A) 1974 B) 1980 C) 1983 D) 1987

6. Aşağıdakilerden hangisi Sadabat Paktı’nı imzalayan devletlerden biri değildir?

- A) Türkiye B) Suriye
C) İran D) Irak

1. OTURUM

7. Aşağıdakilerden hangisi Demokrat Parti'nin kurucularından biri değildir?

- A) Celal Bayar B) Fuat Köprülü
C) Adnan Menderes D) Kâzım Karabekir

8. Aşağıdakilerden hangisi Atatürk ilkelerinin ortak özellikleri arasında yer almaz?

- A) Akılcılık B) Durağanlık
C) Gerçekçilik D) İlerlemecilik

9. İzmir, 15 Mayıs 1919'da kimler tarafından işgal edilmiştir?

- A) İngilizler B) Fransızlar
C) Almanlar D) Yunanlılar

10. Mustafa Kemal ilk askerî başarısını aşağıdaki cephelerin hangisinde kazanmıştır?

- A) Trablusgarp B) Çanakkale
C) Galiçya D) Suriye

11. Bağımsız Türkiye Cumhuriyeti'nin kuruluşunu sağlayan antlaşma aşağıdakilerden hangisidir?

- A) Sevr B) Lozan
C) Ankara D) Mudanya

12. Bütün millî cemiyetler aşağıdakilerden hangisinde birleştirilmiştir?

- A) Amasya Genelgesi
B) Erzurum Kongresi
C) Sivas Kongresi
D) Alaşehir Kongresi

13. Aşağıdakilerden hangisi tarım alanında yapılan yeniliklerden değildir?

- A) Aşar vergisinin kaldırılması
B) Örnek çiftliklerin kurulması
C) Kabotaj Kanununun kabul edilmesi
D) Tarım Kredi Kooperatiflerinin kurulması

14. Millî egemenliğin doğrudan sonucu olan ilke aşağıdakilerden hangisidir?

- A) Cumhuriyetçilik B) Milliyetçilik
C) Devletçilik D) Laiklik

15. Tekâlif-i Milliye Emirleri hangi savaştan önce ordunun ihtiyaçlarını karşılamak için çıkarılmıştır?

- A) Sakarya B) Birinci İnönü
C) İkinci İnönü D) Kütahya-Eskişehir

16. Tevhid-i Tedrisat Kanunu ile hangi alanda düzenleme yapılmıştır?

- A) Siyaset B) Eğitim
C) Sanat D) Ekonomi

17. Aşağıdakilerden hangisi ile eğitim tek çatı altında toplanmıştır?

- A) Misakımillî
B) Medeni Kanun
C) Kabotaj Kanunu
D) Tevhid-i Tedrisat Kanunu

1. OTURUM

18. Halkın yöneticilerini belli süreler için kendisinin seçtiği yönetim şekli aşağıdakilerden hangisidir?

- A) Teokrasi
C) Mutlakiyet
- B) Oligarşi
D) Cumhuriyet

19. Devletçilik ilkesi özellikle hangi alanda düzenlemeleri içerir?

- A) Siyasi
C) Ekonomik
- B) Dinî
D) Kültürel

20. İnsan Hakları Evrensel Bildirgesi'nin birinci maddesi aşağıdakilerden hangisidir?

- A) Kanun önünde herkes eşittir.
B) Yaşamak, hürriyet ve kişi emniyeti her ferdin hakkıdır.
C) Bütün insanlar hür, haysiyet ve haklar bakımından eşit doğarlar.
D) Hiç kimse keyfi olarak tutulamaz, alıkonulamaz veya sürülemez.

İNGİLİZCE – 8

1 - 20. sorularda boş bırakılan yere uygun olan kelime ya da ifadeyi işaretleyiniz.

1. I have been here 9 o'clock.

- A) since
C) for
- B) until
D) so far

2. Haven't you finished your homework?

- A) already
C) yet
- B) just
D) as

3. This is my Her name is Şeyma.

- A) brother
C) sister
- B) uncle
D) father

4. My brothers are tall boys but Arda is the of all. He's 195 cm. tall.

- A) fastest
C) wisest
- B) largest
D) tallest

5. My parents thirty years ago.

- A) to marry
C) married
- B) marrying
D) marry

6. She at home last night.

- A) was
C) did
- B) has
D) is

7. My mother was watching TV I was studying.

- A) which
C) while
- B) what
D) who

1. OTURUM

8. A: were you last night?
B: I was at home.

A) When B) Where
C) Why D) Which

9. A: What size are your shoes?
B:

A) It is 600 km.
B) It costs 50 TL.
C) It is made of suede.
D) They are size 42.

10. A: How much milk is there in the fridge?
B: There isn't The bottle is empty.

A) many B) some
C) much D) any

11. There is a of bread in the kitchen.

A) loaf B) jar C) cup D) bottle

12. If you water, it evaporates.

A) have B) boil C) feel D) wait

13. If she , she wouldn't borrow 1000 TL from her parents.

A) were a rich woman
B) didn't win the lottery
C) bought a new house
D) didn't drive slowly

14. The baby is crying.

A) They smell wonderful.
B) It tastes delicious.
C) He looks happy.
D) She feels bad.

15. The concert is free.

A) I would rather drive to school.
B) You don't have to buy a ticket.
C) She is supposed to work harder.
D) We should stop at the red light.

16. The car will be ready soon. It by the mechanic.

A) was being watched
B) is being repaired
C) was written
D) is grown

17. The pen I bought yesterday was expensive.

A) which B) whom
C) whose D) where

18. She can't play basketball. She is too to play basketball.

A) expensive B) short
C) high D) difficult

19. Ceren likes coffee. does Özden.

A) So B) Too
C) Either D) Neither

20. She drinks cola coffee. She hates them.

A) either / or B) not only / but also
C) too / either D) neither / nor

1. OTURUM

ALMANCA – 8

1 - 20. sorularda boş bırakılan yere uygun olan kelime ya da ifadeyi işaretleyiniz.

1. - geht es dir?
- Danke, es geht mir gut.
A) Wie B) Wo C) Wohin D) Was
2. - Wohin gehst du?
- Ich gehe Bahnhof.
A) in den B) zu der
C) zu dem D) in die
3. - Kennen Sie Mann?
- Ja, das ist mein Lehrer.
A) die B) der C) den D) dem
4. - Wem gehört der Füller?
- Er gehört Freund.
A) der B) das C) den D) dem
5. - Freuen Sie sich über das Geschenk?
- Ja, ich freue über das Geschenk.
A) mir B) sich C) mich D) mein
6. - Wo trifft ihr euch?
- Wir treffen vor dem Theater.
A) uns B) sich C) euch D) ihnen
7. - Wohin bist du gegangen?
- Ich nach Hause
A) habe / gegangen B) bin / gehen
C) bin / gegangen D) habe / gegangen

8.

Präsens	Präteritum	Perfekt
kennen	gekannt

- A) kenne B) kannte
C) kennst D) kennt

9.

Präsens	Präteritum	Perfekt
kommen	kam

- A) kamen B) kommt
C) kamt D) gekommen

10. - Wo studierte Zeki?
- Er in Van.

- A) studiert B) studiere
C) studierst D) studierte

11. Als ich die Grundschule besuchte.
..... ich jeden Tag ein Eis essen.

- A) durfte B) darf C) dürfen D) darfst

12. Damals wir alle noch ganz jung.

- A) sind B) waren C) sein D) haben

13. - 15. soruları aşağıda verilen bilgiye göre cevaplayınız.

Der Großvater (77) Vater (50) Sohn (22)

13. Der Großvater ist am

- A) ältesten B) jüngsten
C) längsten D) kleinsten

14. Der Vater ist als der Sohn.

- A) ältesten B) alt
C) älteren D) älter

1. OTURUM

15. Der Sohn ist der

- A) jungsten B) jüngste
C) junger als D) jung

16. Die Tasche gehört der Tante.

- A) alt B) alten C) alter D) älterer

17. Wo liegt das Buch?
Es liegt dem Tisch.

- A) auf B) in C) für D) am

18. Der Hund ist der Tür.

- A) zwischen B) vor
C) in D) unter

19. Wo ist Monika?
Sie ist bei Arzt.

- A) dem B) die C) der D) den

20. Das Bild hängt der Wand.

- A) um B) zu C) in D) an

FRANSIZCA – 8

1 - 19. sorularda boş bırakılan yere uygun olan kelime ya da ifadeyi işaretleyiniz.

1. Ma fille et ma femme sont ce soir.

- A) arrivées B) arrivée
C) arrivé D) arriver

2. Kerem et Aslı se regardés en riant.

- A) sommes B) ont
C) sont D) êtes

3. Le troupeau de moutons est de la montagne.

- A) descendues B) descendus
C) descendu D) descendue

4. Ne ennuyez pas dans la maison de ces gens!

- A) moi B) toi C) eux D) vous

5. Nous lui demain.

- A) écriront B) écrirez
C) écrivons D) écriras

6. Le crémier vent du lait et du

- A) fromage B) viande
C) sucre D) pain

7. Les épiciers vendent pâtes et du sel.

- A) de la B) du C) des D) de

1. OTURUM

8. je suis allé à İstanbul, j'ai visité beaucoup de musées.

- A) Comment B) Quand
C) Combien D) Donc

9. Il mange en un livre.

- A) lisez B) lire C) lisons D) lisant

10. grande tour d'Ankara c'est Atakule.

- A) Le pire B) Le plus
C) Le moins D) La plus

11. qu'elle pratique est le tennis.

- A) Le sport B) Le vêtement
C) Le pays D) La cuisine

12. enfant a gagné le grand prix.

- A) Cette B) Cet C) Ce D) Ces

13. Le bus de 11 heures est déjà passé.
Vous pouvez prendre de 12 heures.

- A) celui B) celle C) ceux D) ceux-ci

14. Cette chanson composée par Mozart en 1780.

- A) être B) et C) sera D) a été

15. Tous les matins, je lève à sept heures et demie.

- A) se B) me C) nous D) lui

16. Elle écoute son ami lui donne de grandes explications.

- A) que B) qui C) quel D) dont

17. A: Je suis malade.
B: Qu'est-ce que tu dis?
A:

- A) Je dis que je suis malade.
B) Tu dis que tu es malade.
C) Elle dit qu'elle est malade.
D) Il dit qu'il est malade.

18. A: est-ce que tu as mal?
B: J'ai mal aux dents.

- A) Combien B) Où
C) Comment D) Ou

19.



A- Comment vas-tu à l'école?
B- J'y vais

- A) en métro B) en avion
C) en bateau D) en car

20. Aşağıdakilerden hangisi emir (impératif) cümlesidir?

- A) Vous avez des devoirs.
B) Tu as fini tes devoirs.
C) Elle finira ses devoirs.
D) Finis tes devoirs!

1. OTURUM

DİN KÜLTÜRÜ ve AHLAK BİLGİSİ – 8

1. Hz. Muhammed (s.a.v.) peygamberliğini Mekke halkına ilk olarak nerede açıklamıştır?

- A) Mescid-i Nebi’de
- B) Safa Tepe’sinde
- C) Arafat Dağı’nda
- D) Hıra Mağara’sında

2. Hz. Muhammed (sav)’e “Muhammedü’l-Emin” lakabı aşağıdakilerden hangisi tarafından verilmiştir?

- A) Haşimiler
- B) Medine halkı
- C) Ensar
- D) Mekke halkı

3. Arkadaşları Hz. Muhammed’e “Allah katında en sevgili kullar kimlerdir?” diye sordu.

Hz. Muhammed’in bu soruya cevabı aşağıdaki seçeneklerin hangisinde verilmiştir?

- A) Cihad edenler
- B) Allah’a tevekkül edenler
- C) Ahlakı en güzel olanlar
- D) Çok ibadet edenler

4. Aşağıdakilerden hangisi Hz. Muhammed’in gençlik döneminde Hılfu’l-Fudul teşkilatında görev almasının nedenlerindendir?

- A) Mekke’nin ticaret kervanlarına hâkim olmak
- B) Müslümanları tek çatı altında toplamak
- C) Haksızlığa uğrayanlara yardım etmek
- D) Boş vakitlerini değerlendirmek

5. Aşağıdakilerden hangisi kültürün özelliklerinden biri değildir?

- A) Ayrıştırıcıdır.
- B) Toplumsaldır.
- C) Sürekli dir.
- D) Değişkendir.

6. Selçuklular ve Osmanlılar döneminde mimari yapıtların yanına, o sanat eserinin korunması ve bakımı için yapılan eserlere ne denir?

- A) Kervansaray
- B) Vakıf
- C) Mülk
- D) Hastane

7. Yüce Allah’ın önceden takdir ve tayin ettiği olayların yeri ve zamanı geldiğinde ortaya çıkmasına ne denir?

- A) Kaza
- B) Kader
- C) Ecel
- D) İrade

8. Canlıların oluşumu, beslenmesi, korunması, gelişmesi ve üremesiyle ilgili Allah tarafından konulan yasalara ne denir?

- A) Evrenin yasaları
- B) Biyolojik yasalar
- C) Fiziksel yasalar
- D) Toplumsal yasalar

9. Hayatın son bulması, ölüm vaktinin gelmesi anlamına gelen kavram aşağıdakilerden hangisidir?

- A) Kıyamet
- B) Ecel
- C) Kader
- D) Ömür

1. OTURUM

10. İslam medeniyetindeki vakıf müessesesini aşağıdakilerden hangisi içinde değerlendirebiliriz?

- A) Tevekkül B) Fidyeye
C) Fitre D) Sadaka-i cariye

11. Kur'an-ı Kerim "iyi ve yararlı işler yapmayı" aşağıdakilerden hangisiyle nitelendirmektedir?

- A) Takva B) Salih amel
C) Tevekkül D) Hüsnü zan

12. Aşağıdakilerden hangisi imanın şartlarından biridir?

- A) Oruç tutmak
B) Namaz kılmak
C) Salih amel işlemek
D) Peygamberlere inanmak

13. "Sizin en hayırlınız, dünyası için ahiretini terketmeyen, ahireti için de dünyasını terketmeyen, her ikisi için çalışan ve insanlara yük olmayandır."

Hiz. Muhammed bu sözle İslam'ın hangi özelliğine dikkat çekmektedir?

- A) Tevhid ilkesi
B) Zekat ibadeti
C) Tevekkül anlayışı
D) Dünya - ahiret dengesi

14. "Veren el, alan elden üstündür."

Hiz. Muhammed'in bu sözü aşağıdakilerden hangisi ile çelişir?

- A) Yoksulları gözetme
B) Ticaret yaparken dürüst davranma
C) Başkalarının sırtından geçinme
D) Helal rızık kazanmak için gayret gösterme

15. "Şartları yerine getirip gerekli önlemleri aldıktan sonra sonucu Allah'tan beklemek" şeklinde tarif edilen kavram aşağıdakilerden hangisidir?

- A) Dua B) Tövbe
C) Tevekkül D) Sabır

16. Aşağıdakilerden hangisi din ve din anlayışı arasındaki farkı en iyi şekilde ifade etmektedir?

- A) Din evrenseldir. Dinî anlayışlar ise kişilerin yaşadıkları zaman dilimiyle sınırlıdır.
B) İslam dini, Allah katından Hiz. Muhammed'e geldiği ilk şekliyle korunan vahiylerle dayalıdır.
C) Din anlayışı dinin sosyal, coğrafi, toplumsal vb. nedenlerle farklı anlaşılma biçimleridir.
D) Din, insanlık tarihi kadar eskidir. Çünkü inanma ihtiyacı insanın doğasında vardır.

17. Hiz. Muhammed'in vefatından sonra din bilgileri ortaya çıkan sorunları farklı yorumlar getirerek çözmeye çalışmışlardır. Aşağıdakilerden hangisi dinin farklı anlaşılması sonucu ortaya çıkan olgulardan ilkidir?

- A) Mezhepler B) Tarikatlar
C) Cemaatler D) Dernekler

1. OTURUM

18. Tasavvufa dayanan, Allah'a yakınlaşmak için kendilerine göre bazı yöntemler benimseyen yollardan her birine ne ad verilir?

- | | |
|------------|-----------|
| A) Zikir | B) Mezhep |
| C) Tarikat | D) Cemaat |

19. "Kim kazanmazsa bu dünyada bir ekmek parası, Dostunun yüz karası, düşmanının maskarası."

Mehmet Akif Ersoy yukardaki şiirinde öncelikle aşağıdakilerden hangisini anlatmak istemiştir?

- A) Tembellerin başarılı olamayacağını
- B) Onurlu bir yaşam için çalışmak gerektiğini
- C) Çalışmayan kişilerin çevresindekilere muhtaç olacağını
- D) İnsanların mesleklerini en iyi şekilde icra etmesi gerektiğini

20. Küs insanları barıştırmak, caddeden geçen birine yardım etmek, iyi ve güzel sözler söylemek gibi davranışlar dinimizde aşağıdakilerden hangisiyle isimlendirilmiştir?

- | | |
|-------------|--------------|
| A) Tevekkül | B) Hüsnü zan |
| C) Sadaka | D) Fitre |

TEST BİTTİ.

CEVAPLARINIZI KONTROL EDİNİZ.

Soracağınız bir şey var mı? Varsa, şimdi sorunuz; sınav başladıktan sonra sorularınıza cevap verilmeyecektir. Hazır mısınız? Sınav, okulun bütün salonlarında aynı anda başlayacağı için başlama zilini beraberce bekleyelim. Hepinize başarılar dileriz.
(Salon başkanı başlama ve bitiş saatini tahtaya yazacaktır.)

Bu kitapçığın her hakkı saklıdır. Hangi amaçla olursa olsun, kitapçığın tamamının veya bir kısmının Millî Eğitim Bakanlığı Eğitim Teknolojileri Genel Müdürlüğünün yazılı izni olmadan kopya edilmesi, fotoğraflarının çekilmesi, bilgisayar ortamına alınması, herhangi bir yolla çoğaltılması, yayımlanması veya başka bir amaçla kullanılması yasaktır. Bu yasağa uymayanlar, doğabilecek cezai sorumluluğu ve kitapçığın hazırlanmasındaki mali külfeti peşinen kabullenmiş sayılır.

**11 ARALIK 2011 TARİHİNDE YAPILAN
AÇIK İLKÖĞRETİM OKULU 2011-2012 ÖĞRETİM YILI 1. DÖNEM SINAVI
1. OTURUM CEVAP ANAHTARI**

**İNKILAP TARİHİ ve
ATATÜRKÇÜLÜK – 8**

1. B
2. A
3. A
4. D
5. C
6. B
7. D
8. B
9. D
10. A
11. B
12. C
13. C
14. A
15. A
16. B
17. D
18. D
19. C
20. C

İNGİLİZCE – 8

1. A
2. C
3. C
4. D
5. C
6. A
7. C
8. B
9. D
10. D
11. A
12. B
13. A
14. D
15. B
16. B
17. A
18. B
19. A
20. D

ALMANCA – 8

1. A
2. C
3. C
4. D
5. C
6. A
7. C
8. B
9. D
10. D
11. A
12. B
13. A
14. D
15. B
16. B
17. A
18. B
19. A
20. D

FRANSIZCA – 8

1. A
2. C
3. C
4. D
5. C
6. A
7. C
8. B
9. D
10. D
11. A
12. B
13. A
14. D
15. B
16. B
17. A
18. B
19. A
20. D

**DİN KÜLTÜRÜ ve AHLAK
BİLGİSİ – 8**

1. B
2. D
3. C
4. C
5. A
6. B
7. A
8. B
9. B
10. D
11. B
12. D
13. D
14. C
15. C
16. A
17. A
18. C
19. B
20. C

11 ARALIK 2011 TARİHİNDE YAPILAN
AÇIK İLKÖĞRETİM OKULU 2011-2012 ÖĞRETİM YILI 1. DÖNEM SINAVI
1. OTURUM CEVAP ANAHTARI

TÜRKÇE – 6

1. C
2. B
3. A
4. A
5. D
6. A
7. C
8. B
9. D
10. C
11. B
12. D
13. B
14. A
15. D
16. C
17. D
18. C
19. B
20. A

FEN ve TEKNOLOJİ – 6

1. D
2. A
3. C
4. B
5. A
6. B
7. D
8. C
9. D
10. A
11. C
12. D
13. B
14. A
15. B
16. C
17. A
18. D
19. D
20. C

İNGİLİZCE – 7

1. C
2. A
3. D
4. B
5. C
6. D
7. B
8. C
9. D
10. A
11. D
12. A
13. B
14. D
15. B
16. A
17. C
18. B
19. A
20. A

FRANSIZCA – 7

1. C
2. A
3. D
4. B
5. C
6. D
7. B
8. C
9. D
10. A
11. D
12. A
13. B
14. D
15. B
16. A
17. C
18. B
19. A
20. A

MATEMATİK – 6

1. B
2. C
3. A
4. C
5. D
6. A
7. A
8. D
9. B
10. D
11. B
12. C
13. A
14. C
15. D
16. B
17. B
18. D
19. C
20. A

SOSYAL BİLGİLER – 7

1. A
2. A
3. C
4. B
5. D
6. A
7. D
8. A
9. C
10. D
11. A
12. B
13. C
14. D
15. B
16. C
17. B
18. D
19. D
20. C

ALMANCA – 7

1. C
2. A
3. D
4. B
5. C
6. D
7. B
8. C
9. D
10. A
11. D
12. A
13. B
14. D
15. B
16. A
17. C
18. B
19. A
20. A

**DİN KÜLTÜRÜ ve AHLAK
BİLGİSİ – 7**

1. C
2. A
3. C
4. B
5. B
6. D
7. A
8. D
9. A
10. B
11. C
12. C
13. D
14. B
15. D
16. A
17. B
18. A
19. B
20. D