



T.C.
MİLLÎ EĞİTİM BAKANLIĞI

i-1

AÇIK İLKÖĞRETİM OKULU
2008-2009 ÖĞRETİM YILI 2. DÖNEM SINAVI
1. OTURUM: 11 NİSAN 2009 Saat:10.00

Adayın Adı Soyadı :
Aday Numarası (TC Kimlik No) :

DİKKAT: 1. Bu oturumda, 16 derse ait test soruları yer almaktadır.

TÜRKÇE - 6

MATEMATİK - 6

FEN BİLGİSİ - 6

SOSYAL BİLGİLER - 6

DİN KÜL. VE AHLAK BİL - 6

İNGİLİZCE - 6

ALMANCA - 6

FRANSIZCA - 6

TÜRKÇE - 8

MATEMATİK - 8

FEN BİLGİSİ - 8

İNKILAP TARİHİ VE ATATÜRKÇÜLÜK - 8

DİN KÜL. VE AHLAK BİLGİSİ - 8

İNGİLİZCE - 8

ALMANCA - 8

FRANSIZCA - 8

2. Adaylar soru kitapçıklarını kontrol ederek baskı hatası olan kitapçığın değiştirilmesi için sınav başlamadan önce salon sorumlularına başvuracaklardır.

3. Sınavda hesap makinesi, cep telefonu ve çağrı cihazı kullanılması yasaktır. Bu cihazları sınav başlamadan önce salon başkanına teslim ediniz.

CEVAP KÂĞIDI İLE İLGİLİ AÇIKLAMA

1. Cevap kâğıdı üzerine yapacağınız işaretlemelerde kurşunkalemde başka hiçbir kalem kullanmayınız.
2. Verilen cevap kâğıdında yazılı olan bilgilerin size ait olup olmadığını kontrol ediniz. Size ait değilse salon sorumlularına söyleyiniz. Adınıza yazılı cevap kâğıdı bulunamıyorsa veya cevap kâğıdınız kullanılamayacak şekilde bozursa, verilecek olan yedek cevap kâğıdına, kimliğinizle ilgili bilgileri, salon başkanının açıklamalarına göre yazınız.
3. Sınavda tek cevap kâğıdı kullanılacaktır. Cevaplarınızı cevap kâğıdındaki ilgili sütunlara aşağıdaki örnekte olduğu gibi yuvarlağı, dışına taşırmadan işaretleyiniz. Yanlış karalamalarınızı düzeltirken yuvarlağın içini temizce siliniz. Cevap kâğıdınızı buruşturmayınız, katlamayınız ve üzerine gereksiz işaret koymayınız.

ÖRNEK KODLAMA



SORU KİTAPÇIĞI İLE İLGİLİ AÇIKLAMA

1. Her ders için **20** soru bulunmaktadır. Bu oturum için, toplam **150** dakikalık cevaplama süreniz vardır.
NOT: Öğrencinin kaç dersi olursa olsun, isterse bu sürenin tamamını kullanabilir.
2. Her sorunun dört seçeneği vardır. Dört seçenekten sadece bir tanesi doğru cevaptır. Doğru bulduğunuz seçeneği, cevap kâğıdında o soru için ayrılan yerde bularak işaretleyiniz.
3. Size ayrı bir karalama kâğıdı verilmeyecektir. Soru kitapçığının içindeki boş alanları karalama yapmak için kullanabilirsiniz.
4. Puanlamada, her doğru cevaba puan verilecek; yanlış cevaplarınız dikkate alınmayacaktır.
5. Snavın bitiminde cevap kâğıdınızı ve soru kitapçığınızı salon sorumlularına teslim etmeyi unutmayınız.

BAŞLAYINIZ DENİLMEDEN SORU KİTAPÇIĞINI AÇMAYINIZ.

1. OTURUM

TÜRKÇE - 6

1. Aşağıdakilerden hangisi “yorum ve açıklamaya dayalı düz yazılar” içerisinde yer alır?

- A) Sohbet B) Fabl
C) Anı D) Tiyatro

2. Aşağıdakilerden hangisi büyük ünlü uyumuna uymayan eklerden biri değildir?

- A) -yor B) -ken C) -sız D) -leyin

3. Aşağıdakilerden hangisi basit sözcüktür?

- A) Günlük B) Aşçı
C) Düşünceli D) İskele

4. Aşağıdakilerden hangisi somut addır?

- A) Zekâ B) Rüzgâr
C) Sevgi D) Üzüntü

5. “Evin bahçesi” ifadesinin “belirtisiz isim tamlaması” olması için aşağıdakilerden hangisi yapılmalıdır?

- A) Bahçe, “-e” durum ekini almalı.
B) Bahçe, tamlanan eki almamalı.
C) Her iki kelimeye de “-li” eklenmeli.
D) Ev, tamlayan eki almamalı.

6. Düşenlerle alay etmemeli hiçbir zaman;
Kim emindir daima mesut olacağından?

...
Bir tarlanın iki yoldaşı, keklikle tavşan,
Oldukça sakın bir hayat geçiriyorlardı.

Bu parça aşağıdaki bölümlerden hangisine aittir?

- A) Serim B) Düğüm
C) Çözüm D) Gelişme

7. Dostlar, tanışlar birbirlerinden ne denli uzak düşmüş olurlarsa olsunlar ve buluşmaları ne denli güçleşmiş bulunursa bulunsun, günün birinde tekrar bir araya gelebilirler.

Bu “açıklama” aşağıdaki atasözlerinden hangisine aittir?

- A) Dost başa bakar, düşman ayağa.
B) Dağ dağa kavuşmaz, insan insana kavuşur.
C) Bak bana bir gözle, bakayım sana iki gözle.
D) Her gün gezen kırdı, bir gün uğrar kurda.

8. Aşağıdakilerin hangisinde “sıra sayı sıfatı” kullanılmıştır?

- A) İki kitap B) Üçer kalem
C) Dördüncü ev D) Çeyrek ekmek

9. Atatürk, her türlü güçlükleri yenerek kendisini yetiştiren anasına aşk ile bağlı idi. Onu, çocukluğundan bu devlet ve milletin en büyüğü olduğu güne kadar daima saymıştır. Eve her gidişinde anasının elini öpmek âdeti idi. Subay, komutan, başkomutan ve devlet reisiydi. Anasının yanında ise daima eski “Mustafacık”tı.

Bu paragrafın anlatım türü aşağıdakilerden hangisidir?

- A) Fıkra B) Fabl
C) Biyografi D) Makale

10. Aşağıdakilerin hangisinde belgisiz zamir vardır?

- A) Boğaz’daki yalıların bazıları restore edilecekmiş.
B) Lütfen kendilerine geldiğimizi haber veriniz.
C) Seninle başaramayacak iş yoktur.
D) Evet, benden üç yaş büyüktür.

11. “Masam” kelimesindeki “-m” eki aşağıdakilerden hangisini ifade eder?

- A) Biz B) Sen C) Onlar D) Ben

12. Aşağıdakilerin hangisinde ikileme vardır?

- A) Hayatı doya doya yaşayın.
B) Camları, kapıları açın artık.
C) Güneş bulutların arasından göründü.
D) Çiçekleri, kuşları, ağaçları severim.

13. Gurbette ömrüm geçecek
Bir daracık yerim de yok
Oturup derdim dönecek
Bir münasip yârim de yok

Karacaoğlan

Bu dördütlüğün teması aşağıdakilerden hangisidir?

- A) Hiddet B) Yalnızlık
C) Aşk D) Kararsızlık

14. Aşağıdakilerin hangisinde niteleme zarfı vardır?

- A) Eve doğru koşarak gitti.
B) En güzel resmi o çizmişti.
C) Ankara’ya ne zaman gelirsiniz?
D) Girişten üç kat yukarı çıktık.

1. OTURUM

15. Aşağıdakilerden hangisi jeoloji (yer bilimi)ye ait bir terimdir?

- A) Mikroorganizma B) Fizyolojik
C) Erozyon D) Polen

16. Aşağıdakilerin hangisinde “da/de”nin yazımı yanlıştır?

- A) Bir kere de sen alsan ekmekleri.
B) Necla Hanım da davetlilerin arasına karıştı.
C) Gerçekten de zifiri karanlıktı o geldiğinde.
D) Aramız da bir şeyler kırılmış gibi sessizdik.

17. Sana “Gel!” diye diye dilimizde tüy bitti. İki yıldır yoksun. Ne içtiğimiz içtik, ne yediğimiz yedik. Akranlarınla kendimi avuta avuta, avutamaz oldum. Unuttun mu yoksa bizleri? Bizleri unutma. Gözünü doğduğun yere dik. “Toprağa atıp da göğe bakmayanın hâli yaman olur.” derdi sakallı deden. Dedenin bu sözünü unutma oğlum.

Bu paragraf aşağıdaki anlatım türlerinden hangisine örnektir?

- A) Mektup B) Dilekçe
C) Biyografi D) Fıkra

18. “Yazmamışsınız” kelimesiyle ilgili olarak aşağıdakilerden hangisi söylenemez?

- A) “Yaz-” fiil köküdür.
B) “-ma-” olumsuzluk ekidir.
C) “-mış” bilinen geçmiş zaman ekidir.
D) “-sınız” 2. çoğul kişi ekidir.

19. “Çocuklar dün uyandı, güneş dağların arkasından doğmadan.” cümlesinin öge dizilişi aşağıdakilerden hangisidir?

- A) Tümleç, tümleç, özne, yüklem.
B) Özne, tümleç, yüklem, tümleç.
C) Yüklem, tümleç, tümleç, özne.
D) Tümleç, yüklem, özne, tümleç

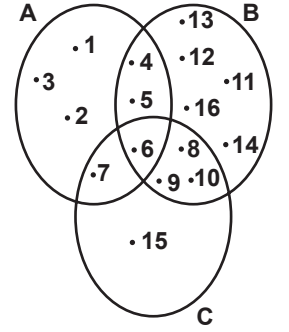
20. Umduk() bekledik() düşündük() karar verdik.

Bu cümlede parantezle belirtilen yerlere sırasıyla hangi noktalama işaretleri getirilmelidir?

- A) (.), (.), (.) B) (.), (.), (.)
C) (.), (.), (.) D) (.), (.), (.)

MATEMATİK - 6

1. Yandaki şemaya göre aşağıdaki kümelerden hangisinin eleman sayısı en fazladır?

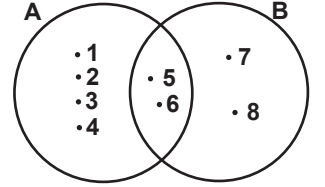


- A) $B \setminus C$
B) $A \setminus C$
C) $A \setminus B$
D) $C \setminus A$

2. Aşağıdaki kümelerden hangisinin alt küme sayısı 32’dir?

- A) $A = \{1, 3, 5, 7, 12, 19\}$
B) $B = \{\heartsuit, \square, \triangle, \circ, \diamond\}$
C) $C = \{a, b, c, d, e, f, g, h\}$
D) $D = \{\text{Ahmet, Ayşe}\}$

3. Yandaki Venn şemasına göre, aşağıdakilerden hangisi doğrudur?



- A) $s(A \cap B) = 2$
B) $s(B \setminus A) = 4$
C) $s(A) = 4$
D) $s(A \setminus B) = 2$

4. Çözümlemiş biçimi

$3 \times 10^4 + 7 \times 10^3 + 4 \times 10^1 + 8 \times 10^0$ olan sayı kaçtır?

- A) 3748 B) 37 408 C) 37 040 D) 37 048

5. Yandaki toplama işleminde

K, L ve M sıfırdan farklı birer rakamı göstermektedir. Buna göre, $K + L + M$ kaçtır?

$$\begin{array}{r} K L M \\ M K L \\ + L M K \\ \hline 1 3 3 2 \end{array}$$

- A) 4 B) 5 C) 12 D) 13

6. $\frac{32}{a-2}$ ifadesi bir doğal sayı belirttiğine göre, “a” yerine kaç farklı sayı yazılır?





- A) 8 B) 6 C) 5 D) 4

7. Aşağıdaki sayılardan hangisi hem 3 hem de 5 ile tam bölünür?

- A) 5303 B) 5805 C) 5903 D) 5905

1. OTURUM

8. Aşağıdakilerden hangisi KL doğru parçasını gösterir?

- A) 
- B) 
- C) 
- D) 

9. Yusuf, Kerem ve Zeynep'in sırasıyla 2, 4 ve 5 paket cevizi vardır. Her birinde aynı sayıda ceviz bulunan bu paketlerde toplam 33 ceviz olduğuna göre, Kerem'in kaç cevizi vardır?

- A) 4 B) 8 C) 12 D) 16

10. $\frac{5}{9}, \frac{5}{6}, \frac{16}{27}$ kesirlerinin küçükten büyüğe göre sıralanışı aşağıdakilerden hangisidir?

- A) $\frac{5}{9} < \frac{16}{27} < \frac{5}{6}$ B) $\frac{16}{27} < \frac{5}{9} < \frac{5}{6}$
C) $\frac{5}{6} < \frac{5}{9} < \frac{16}{27}$ D) $\frac{5}{9} < \frac{5}{6} < \frac{16}{27}$

11. $(2 - \frac{1}{3}) : (1 + \frac{2}{3})$ işleminin sonucu kaçtır?

- A) $\frac{25}{9}$ B) $\frac{5}{3}$ C) 1 D) 2

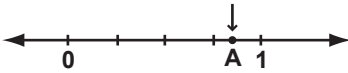
12. Bir otobüs gideceği yolun $\frac{2}{7}$ 'sini gittikten sonra mola

veriyor. Kalan yolun $\frac{1}{5}$ 'ini daha gittiğinde yol tabela-

sı, gideceği yere 280 km daha yolu olduğunu gösteriyor. Bu otobüs mola vermeden önce kaç kilometre yol almıştır?

- A) 80 B) 98 C) 140 D) 210

13. Verilen sayı doğrusunda 0 ile 1 sayılarına karşılık gelen noktalar arası eş parçalara ayrılmıştır. Buna göre, A noktasına karşılık gelen ondalık kesir aşağıdakilerden hangisi olabilir?



- A) 0,3 B) 0,5 C) 0,75 D) 0,8

14. 126 sayısının asal çarpanlarına ayrılmış biçimi aşağıdakilerden hangisidir?

- A) $2 \times 3^2 \times 7$ B) $2^2 \times 3^2 \times 7$
C) $2^2 \times 3 \times 7$ D) $2 \times 3 \times 7^2$

15. Aşağıdaki ifadelerden hangisi yanlıştır?

- A) İki düzlemin kesişimi boş küme ise bu iki düzlem paraleldir.
B) Kesişimleri boş küme olan ve aynı düzlemde bulunmayan iki doğru paraleldir.
C) Paralel ve çakışık olmayan iki düzlemin kesişimi bir doğrudur.
D) Bir doğrunun noktalarının tamamı, düzlemin de noktaları ise doğru bu düzlemin içindedir.

16. Aşağıdaki ifadelerden hangisi yanlıştır?

- A) Bir noktadan sonsuz doğru geçer.
B) Farklı iki noktadan yalnız bir doğru geçer.
C) Evrendeki tüm noktalar kümesine uzay denir.
D) İki nokta ile bu noktalar arasındaki tüm doğrusal noktalar kümesine ışın denir.

17. Tümlerinin ölçüsü ile bütünlerinin ölçüsü toplamı 154° olan açı kaç derecedir?

- A) 58 B) 63 C) 69 D) 77

18. Boyutları 5 m, 7 m ve 12 m olan dikdörtgenler prizması şeklindeki bir odanın hacmi kaç metreküptür?

- A) 95 B) 144 C) 368 D) 420

19. Ali okula bisikletle gittiğinde 1 sa 10 d 15 sn de, otobüsle gittiğinde ise 45 d 25 sn de varıyor. Ali okuluna otobüsle giderse bisiklete göre ne kadar önce varır?

- A) 25 d 24 sn B) 24 d 50 sn
C) 15 d 15 sn D) 20 d 24 sn

20. Bir halıyı bir işçi 30 günde dokuyabilmektedir. Aynı halıyı, aynı hızla çalışan 6 işçi kaç günde dokur?

- A) 6 B) 5 C) 4 D) 3

1. OTURUM

FEN BİLGİSİ - 6


1. Yünlü kumaş ve plastik çubuk birbirlerine sürtülerek elektrikleştiriliyor. Bu iki cismin elektrik yük cinsleri hangisinde doğru olarak verilmiştir?

	Yünlü Kumaş	Plastik Çubuk
A)	+	-
B)	-	+
C)	+	+
D)	-	-

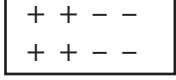
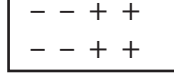

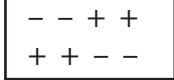
2. Atomun çekirdeğinde aşağıdaki parçacıkların hangileri bulunmaz?

I- Nötron
II- Proton
III- Elektron

- A) Yalnız I
B) Yalnız II
C) Yalnız III
D) I - II

3. 
Yüklü Cisim Nötr Cisim

Yüklü ve nötr cisimler birbirine etki ile elektriklenecek kadar yaklaştırıldıklarında nötr cismin yük dağılımı aşağıdakilerden hangisindeki gibi olur?

- A)  B) 
C)  D) 





4. Demir iletkenidir. Etrafı aşağıdaki hangi madde ile kaplanırsa yalıtkan olmaz?

- A) Bakır
B) Porselen
C) Kauçuk
D) Plâstik

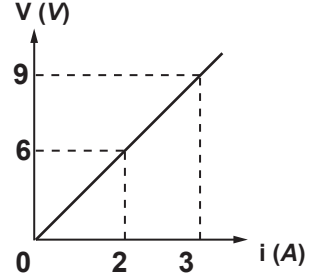
5. Yıldırımın verebileceği zararlardan korunmak için hangisini yapmak yanlıştır?

- A) Bulutlu ve yağmurlu havalarda radyo ve televizyonun anten fişlerini çekmeliyiz.
B) Yağmurdan korunmak amacıyla ağaç altına sığınmamalıyız.
C) Telefon, telgraf direklerinden uzaklaşmalıyız.
D) Denizde isek hemen suya dalmalıyız.

6. "Pil" in elektrik devresindeki sembolik gösterimi hangisidir?

- A)  B) 
C)  D) 

7. V - i grafiği verilen elektrik devresinin direnci kaç Ω 'dur?



- A) 2
B) 3
C) 6
D) 9

8. Pillerin çevreyi kirliletmemesi için aşağıdakilerden hangilerini yapmalıyız?

I- Kaliteli pil kullanmalıyız.
II- Naylon poşet içerisinde çöpe atmalıyız.
III- Akarsu ve göletlere atmalıyız.

- A) Yalnız I
B) Yalnız III
C) I - II
D) II - III

9. Yıldızların gaz bulutu hâlindeki doğuşlarına ne ad verilir?

- A) Kırmızı dev
B) Nebula
C) Beyaz cüce
D) Süpernova

10. Aşağıdakilerden hangisi bir "iç gezegen"dir?

- A) Uranüs
B) Mars
C) Satürn
D) Venüs

11. Hangisi yeryüzüne ulaşabilen meteorlara verilen adıdır?

- A) Meteorit
B) Asteroit
C) Kuyruklu Yıldız
D) Andromeda

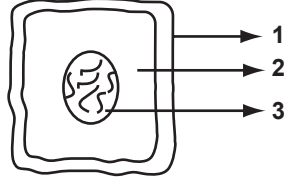
12. Aşağıdakilerden hangileri uzayda kirliliğe sebep olur?

I- Boş yakıt tankları
II- Meteorlar
III- Yapay uydu parçaları

- A) Yalnız I
B) Yalnız III
C) I - III
D) II - III

1. OTURUM

13. Mikroskopta bitki hücresini inceleyen bir öğrenci, şekilde rakamlarla gösterilen kısımları gözlüyor.



Bu kısımlar aşağıdaki-lerin hangisinde verilmiştir?

1	2	3
A) Çekirdek	Hücre zarı	Kloroplast
B) Kloroplast	Hücre duvarı	Çekirdek
C) Hücre zarı	Çekirdek	Kloroplast
D) Hücre duvarı	Sitoplazma	Çekirdek

14. Bitkilerde aşağıdakilerden hangisi bal özü, reçine, tanen gibi salgıları üretir?

A) Salgı doku	B) Destek doku
C) İletim doku	D) Koruyucu doku

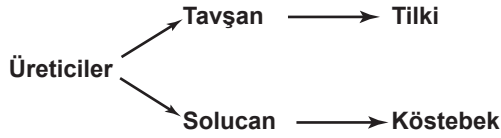
15. Besin + Oksijen → Su + Karbondioksit + Enerji

Yukarıdaki solunum formülüne bakılarak hangileri söylenebilir?

- I- Besin ve oksijen kullanıldığı
II- Sadece gündüz gerçekleştiği
III- Su ve karbondioksit üretildiği

A) Yalnız I	B) I - III	C) II - III	D) I - II - III
-------------	------------	-------------	-----------------

- 16.

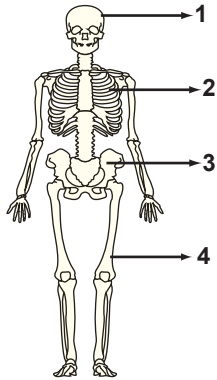


Yukarıda verilen besin zincirine göre aşağıdakilerin hangisinde verilen canlıların her ikisi de etle beslenir?

A) Tavşan - Solucan	B) Solucan - Tilki
C) Tilki - Köstebek	D) Köstebek - Tavşan

17. Yanda verilen şekilde kaç numaralı kısım iç organları dış etkilerden korumada etkili değildir?

A) 1	B) 2
C) 3	D) 4



18. • Besinlerin ağızda iyice çiğnenmesi
• Dengeli beslenme
• Diş sağlığına dikkat edilmesi

Yukarıdaki uygulamalar hangi sistemin sağlığı için öncelikle gereklidir?

A) Boşaltım sistemi	B) Dolaşım sistemi
C) Sindirim sistemi	D) Solunum sistemi

19. Aşağıdakilerden hangisi beyinciğin görevlerinden-
dir?

- A) İç kulak ile birlikte vücudun dengesini sağlama
B) Öğrenme, düşünme ve bilgi üretip saklama
C) Refleks hareketlerini idare etme
D) Duyu organlarının çalışmalarını yönetme

20. Dil sağlığını korumak için;

- I- Sigara ve alkol kullanmama
II- Çok sıcak veya çok soğuk besinleri tüketme
III- Yabancı maddelerin tadına bakmama
uygulamalarından hangileri doğrudur?

A) Yalnız I	B) I - III	C) II - III	D) I - II - III
-------------	------------	-------------	-----------------

SOSYAL BİLGİLER - 6

1. Türklerin Anadolu'yu yurt edinmeleriyle ilgili olarak aşağıda verilen bilgilerden hangisi yanlıştır?

- A) Anadolu'ya yapılan ilk akınlar keşif amaçlıdır.
B) Malazgirt Zaferi'nden sonra Türkler, Anadolu'yu yurt edinmeye başlamışlardır.
C) Dandanakan Savaşı sonucunda Bizans'tan ilk toprak alınmıştır.
D) Pasinler Savaşı, Selçukluların Bizans'a karşı kazandıkları ilk önemli zaferdir.

2. Anadolu Selçuklu Devleti'ne;

- I- İznik
II- İstanbul
III- Konya
IV- Bursa

şehirlerinden hangisi ya da hangileri başkentlik yapmıştır?

A) Yalnız III	B) I - II - IV
C) I - III	D) II - III - IV

3. Anadolu Türklerinin, Anadolu'daki Moğol istilası döneminde Moğollarla mücadele etmek için yardım talep ettikleri devlet, aşağıdakilerden hangisidir?

A) Memlûkler	B) Osmanlılar
C) Babürlüler	D) Timurlular

1. OTURUM

4. Bayram Hoca tarafından kurulan devlet, aşağıdakilerden hangisidir?
- A) Eretna Devleti B) Akkoyunlu Devleti
C) Altın Orda Devleti D) Karakoyunlu Devleti
5. Aşağıdakilerden hangisi, Osmanlılarla Akkoyunlular arasında 1473 yılında yapılan Otlukbeli Savaşı'nın nedenlerindendir?
- A) Kutsal emanetleri elde etmek
B) Anadolu'ya hâkim olmak
C) Kudüs'ü ele geçirmek
D) Hindistan deniz yoluna hâkim olmak
6. Osmanlı Beyliği'nin kurulduğu dönemde Anadolu'nun durumu için aşağıdakilerden hangisi söylenemez?
- A) Doğu Karadeniz Bölgesi'nde Trabzon Rum İmparatorluğu bulunmaktaydı.
B) Trakya ve Marmara Bölgesi Bizans'ın elindeydi.
C) Anadolu Selçukluları en parlak dönemlerini yaşıyordu.
D) Anadolu'daki Türk beyliklerinin birçoğu İlhanlıların baskısı altındaydı.
7. Osmanlı Devleti'nin Kuruluş Dönemi'nde yapılan;
I- I. Kosova
II- Sırp Sındığı
III- Maltepe
IV- Niğbolu
savaşlarının kronolojik sırası, aşağıdakilerden hangisinde doğru olarak verilmiştir?
- A) IV - II - III - I B) III - II - I - IV
C) I - IV - III - II D) III - I - II - IV
8. Osmanlılar aşağıdaki padişahlardan hangisinin döneminde Balkanlara kesin olarak yerleşmişlerdir?
- A) II. Murat B) Yıldırım Bayezit
C) Orhan Bey D) Osman Bey
9. Aşağıdakilerden hangisi Orhan Bey Dönemi olaylarından biridir?
- A) Fetret Devri'nin sona ermesi
B) Edirne'nin fethedilmesi
C) Koyunhisar Savaşı'nın kazanılması
D) Bursa'nın başkent olması
10. Türkiye'de hızlı nüfus artışının temel nedeni aşağıdakilerden hangisidir?
- A) Turizm faaliyetlerinin gelişmesi
B) Kentlere olan göçün artması
C) Doğum oranının yüksek olması
D) Ortalama insan ömrünün uzaması
11. Çeltik bitkisi tohumlarının kabuğundan ayıklanması sonucu elde edilen ürün hangisidir?
- A) Pamuk B) Pirinç
C) Mısır D) Buğday
12. Çok büyük kentlerin nüfusu (Metropol) aşağıdaki nüfus dilimlerinden hangisinin arasında yer alır?
- A) 10.000 - 25.000 B) 25.000 - 100.000
C) 100.000 - 500.000 D) 500.000'den fazla
13. Yurdumuzda ormanların korunmasına aşağıdakilerden hangisinin etkisi olmaz?
- A) Kıl keçilerini ormanlarda beslemek
B) Yanan orman alanlarını yeniden ağaçlandırmak
C) Çocuk yaşlarda ağaç sevgisi aşılamak
D) Isınmada odun yerine başka kaynakları kullanmak
14. Aşağıdakilerden hangisi kırsal kesimde yaşayan insanların daha çok uğraştığı ekonomik faaliyettir?
- A) Endüstri B) İnşaat
C) Tarım D) Ticaret
15. Aşağıdakilerden hangisi köyaltı yerleşmesidir?
- A) Samsun il merkezi B) Şişli ilçesi
C) Temelli kasabası D) Taşlıhan mezarası
16. Aşağıdakilerden hangisi ülkemizde nüfus kayıplarına neden olmaz?
- A) İç göçler B) Trafik kazaları
C) Doğal afetler D) Bulaşıcı hastalıklar
17. Demokrasilerde, millet sahip olduğu egemenlik hakkını aşağıdakilerden hangisinin aracılığıyla kullanır?
- A) Bilim adamları B) Sanatçılar
C) Hukukçular D) Milletvekilleri
18. Demokratik yaşayış kurallarının, bireylerin yaşamlarında davranış şekline dönüşmesi aşağıdakilerden öncelikle hangisiyle sağlanabilir?
- A) Eğitimle B) Basın kuruluşlarıyla
C) Mahkemelerle D) Emniyet güçleriyle
19. Aşağıdakilerden hangisi hem vatandaşlık görevi, hem de hakkıdır?
- A) Kanunlara uymak B) Seçimlere katılmak
C) Vergi vermek D) Askerlik yapmak

1. OTURUM

20. "Millet" in tanımı aşağıdakilerden hangisidir?

- A) Devletin üzerinde kurulduğu toprak parçası
- B) Aralarında dil, din, tarih, kültür ve ekonomi birliği bulunan insan toplulukları
- C) Yasalar yapma ve bu yasalara göre ülkeyi yönetme gücü
- D) İç ve dış tehlikelere karşı ülke bütünlüğünü ve bağımsızlığını koruyan otorite

DİN KÜLTÜRÜ AHLAK BİLGİSİ - 6

1. Aşağıdakilerden hangisi namazı bozan durumlardan biri değildir?

- A) Namazda iken birisiyle konuşmak
- B) Namazda kendi işiteceği kadar gülmek
- C) Namazda secdeden başka bir yere bakmak
- D) Namazın farzlarından birisini terk etmek

2. Günlük namazları (beş vakit namaz) kılan bir insan bir günde kaç rekât farz ve kaç rekât sünnet kılmıştır?

- A) 17 farz + 23 sünnet
- B) 17 farz + 20 sünnet
- C) 20 farz + 20 sünnet
- D) 20 farz + 17 sünnet

3. Aşağıdaki ibadetlerden hangisini yıl içerisinde yerine getirmek belli bir vakitle sınırlı değildir?

- A) Hac
- B) Oruç
- C) Zekât
- D) Namaz

4. Aşağıdakilerden hangisine zekât verilebilir?

- A) Baba
- B) Büyük anne
- C) Torunlar
- D) Kardeşler

5. Allah'ın Hucurat suresi, 12. ayette ölü kardeşin etini yemek" olarak nitelendirdiği davranış aşağıdakilerden hangisidir?

- A) İftira
- B) Gıybet
- C) Yalan
- D) Hile

6. "Vemin şerri ğasikin izâ vekab." ayeti hangi surede yer alır?

- A) Felak
- B) Nas
- C) Fil
- D) Nasr

7. Aşağıda verilen kutsal kitap - din eşleştirmelerinden hangisi yanlıştır?

- A) Tevrat → Yahudilik
- B) Zebur → Mecusilik
- C) İncil → Hristiyanlık
- D) Kur'an → İslamiyet

8. Aşağıdaki peygamberlerden hangisine suhuf (sahifeler) gönderilmemiştir?

- A) Hz. Şit
- B) Hz. İdris
- C) Hz. Yusuf
- D) Hz. Adem

9. Kur'an-ı Kerim'le ilgili aşağıda verilen bilgilerden hangisi doğrudur?

- A) En kısa süresi Fatiha'dır.
- B) Hz. Ömer zamanında çoğaltılmıştır.
- C) Medine'de indirilmeye başlanmıştır.
- D) En uzun suresi Bakara'dır.

10. Hz. Davut'a gönderilen kutsal kitap aşağıdakilerden hangisidir?

- A) Zebur
- B) Tevrat
- C) Kur'an
- D) İncil

11. Kur'an-ı Kerim hangi halife döneminde kitap hâline getirilmiştir?

- A) Hz. Ali
- B) Hz. Ebu Bekir
- C) Hz. Osman
- D) Hz. Ömer

12. Kur'an-ı Kerim'in millet ve din ayrımı yapmadan bütün insanlara hitap etmesi onun daha çok hangi yönüyle ilgilidir?

- A) Evrensel bir kitap olması
- B) Mucizevi bir kitap olması
- C) Son ilahi kitap olması
- D) Ahlaki ilkelerden bahsetmesi

13. İslam tarihinde 622 yılının önemi aşağıdakilerden hangisinde belirtilmiştir?

- A) Kur'an-ı Kerim'in indirilmeye başlandığı tarihtir.
- B) Müslümanların Mekke'den Medine'ye hicret ettiği tarihtir.
- C) Müslümanların ilk defa Mekke'den Habeşistan'a hicret ettiği tarihtir.
- D) Hz. Muhammed'in vefat ettiği tarihtir.

14. Hz. Muhammed'in ilk inşa ettirdiği mescit aşağıdakilerden hangisidir?

- A) Mescid-i Nebi
- B) Mescid-i Haram
- C) Kuba Mescidi
- D) Mescid-i Aksa

15. Hz. Muhammed Mekke'den Medine'ye hicret ederken ona arkadaşlık eden sahabi kimdir?

- A) Hz. Ebu Bekir
- B) Hz. Ali
- C) Hz. Ömer
- D) Hz. Ebu Eyyub Ensari

1. OTURUM

16. Hz. Muhammed Medine'ye hicret ettikten sonra buradaki boş bir arsayı satın aldı ve bu arsa üzerine bir mescit inşa ettirdi. Namazların topluca kılınmasının yanında sosyal ve ekonomik bir çok karar da bu mescitte alındı.

Bu paragrafta hakkındaki bilgi verilen mescit aşağıdakilerden hangisidir?

- A) Mescid-i Haram B) Mescid-i Aksa
C) Mescid-i Nebi D) Mescid-i Cuma

17. Hz. Muhammed'in eğitim ve öğretime verdiği önem konusunda aşağıdakilerden hangisi örnek gösterilemez?

- A) Mescidinin yanında suffe denilen bir yer yapması
B) Bedir Savaşı'nda ele geçirilen esirleri, müslümanlara okuma-yazma öğretileri karşılığında serbest bırakması
C) Medine dışına, insanları dinî konularda bilgilendirmek üzere öğretmenler göndermesi
D) Medine'de muhacir ve ensarı bir araya toplayıp onları birbirine kardeş ilan etmesi

18. İslam tarihine "Medine Sözleşmesi" olarak geçen antlaşma kimler arasında yapılmıştır?

- A) Medine'de yaşayan Yahudiler, Müşrikler ve Müslümanlar arasında
B) Medineli müslümanlarla Mekkeli müşrikler arasında
C) Medine'da yaşayan Yahudi kabileler arasında
D) Mekke'de yaşayan Müslümanlarla Müşrikler arasında

19. Hz. Muhammed'in Mekke ve Medine'de geçen peygamberlik süreleri aşağıdakilerin hangisinde doğru olarak verilmiştir?

- A) 12 - 13 B) 13 - 10 C) 10 - 13 D) 13 - 14

20. İnsanları hak yola çağırmak için Allah'ın izniyle peygamberler tarafından gösterilen olağanüstü olaylara ne denir?

- A) Keramet B) Sihir C) Büyü D) Mucize

İNGİLİZCE - 6

1.-20. sorularda boş bırakılan yerlere uygun düşen sözcük veya ifadeyi bulunuz.

1. A: What's your name?

B:

- A) Hello, how are you?
B) This is my sister.
C) Yes, I'm a doctor.
D) My name is Gizem.

2. A: Are you

B: Yes, I am a pilot.

- A) an actor B) an engineer
C) a pilot D) a teacher

3. A: is she from?

B: She's from Turkey.

- A) When B) Who C) What D) Where

4. A: nationality are they?

B: They are Turkish.

- A) Where B) What C) Who D) When

5. Sezen Aksu is from She's Turkish.

- A) Turkey B) France C) America D) England

6. This is his sister. is five years old.

- A) They B) We C) She D) He

7. are their pencils.

- A) This B) They C) That D) It

8. A:

B: She's eleven years old.

- A) What are you? B) How are you?
C) What is this? D) How old is she?

9. My grandfather is 70 years old. He's and weak.

- A) strong B) young C) old D) new

10. $8 \times 2 = \dots$

- A) sixteen B) ten C) thirteen D) two

1. OTURUM

11. Shea cat. It's name is Benek.

- A) have got B) has got
C) am D) are

12. Cats can't

- A) miaow. B) climb trees.
C) run. D) fly.

13. A: Can you buy that car?

B: No, I can't.

A: Why not?

B: Because it's too

- A) economical. B) expensive.
C) beautiful. D) handsome.

14. A: are your photographs?

B: They are in my bag.

- A) Who B) When C) Where D) What

15.



Iğdır is in the of Turkey.

- A) east B) west C) south D) north

16. some trees in the garden.

- A) There aren't B) There are
C) There is D) There isn't

17. A: How much is that skirt?

B:

- A) Thank you. B) It's 30 TL.
C) It's very nice. D) Look at that skirt.

18. A:

B: It's April 11th, 2009.

- A) What's the last?
B) What's the third day of the week?
C) What's the date today?
D) What's the next month?

19. Erol has got a cold. He stop smoking. He drink cold drinks.

- A) must / mustn't B) mustn't / must
C) must / must D) mustn't / mustn't

20. A: What's she doing?

B: She's

- A) watching television.
B) going to the cinema.
C) cleaning the house.
D) writing a letter.



ALMANCA - 6

1.-15. sorularda boş bırakılan yerlere uygun düşen kelime veya ifadeyi bulunuz.

1. Hans: Guten Tag! Ich heiße Hans. Wie heißen Sie?

Petra: Guten Tag! Ich Petra. Wer ist das?

Hans: Das Frau Brunner.

- A) heißt / sind B) heißen / ist
C) ist / heißen D) heiße / ist

2. Petra: Guten Morgen!

Helga: Guten Morgen!

Petra: Wie geht es Ihnen?

Helga: Danke, gut.

Petra: Auf Wiedersehen!

Helga:

- A) Wiedersehen B) Wiedersehen Auf
C) Auf Wiedersehen D) Guten Morgen

3. Helga: Guten Tag! Ich heiße Helga. Wie heißen Sie?

Hans: Mein Name Hans.

Helga: Danke.

- A) sind B) seid C) bin D) ist

4. Otto : Guten Morgen!

Peter: Guten Morgen! Wie geht es Ihnen?

Otto : Danke, Und Ihnen?

Peter: Danke, es geht mir gut.

- A) viel B) gut C) alt D) ist

5. Peter : Wohnen Sie in Ankara.

Müller:, ich wohne Ankara!

Peter : Danke.

- A) ja / in B) in / ja
C) nein / im D) ja / ins

1. OTURUM

6. Ahmet : Woher kommst du?

Mehmet: Ich komme Istanbul.

- A) an B) nach C) aus D) ins

7. Ich Petra. Ich 18 Jahre alt.

- A) bin / heiße B) heiße / bin
C) heißen / sind D) heißt / seid

8. Wir Fatma und Ayşe. Wir in Ankara.

- A) heißt / wohnt B) heiße / wohne
C) wohnen / heißen D) heißen / wohnen

9. Ali : Was ist das?

Ayşe: Das ist Foto.

- A) der B) die C) das D) den

10. Manfred: Ist das eine Tasche?

Walter : Nein, das ist Tasche.

- A) keine B) kein C) eine D) ein

11. Peter : ist das?

Walter: Das ist Herr Roberts.

- A) Wie B) Wer C) Wo D) Woher

12. Ich heiße Manfred. Ich bin 20 Jahre alt. Ich arbeite Arçelik.

- A) im B) ins C) aus D) bei

13. Sie ist 12 Jahre alt. Sie ist

- A) verheiratet B) ledig
C) verwitve D) Geschieden

14. Ich heiße Ali. Ich zwei Kinder.

- A) komme B) ein C) habe D) spiele

15. Walter: Was trinken Sie?


Hans : Ich trinke

- A) die Cola B) der Hamburger
C) die Pizza D) das Brot

16. Hangisi diğerlerinden farklıdır?

- A) die Cola B) die Waschmaschine
C) das Mineralwasser D) das Bier

17. Saat kaç göstermektedir?



- A) Es ist fünf nach drei
B) Es ist fünf vor drei
C) Es ist vier Uhr
D) Es ist drei Uhr

18. Aşağıdakilerden hangisi çoğul isim olarak verilmiştir?

- A) das Brot B) das Bier
C) die Zeitungen D) der Hamburger

19. Aşağıdakilerden hangisi fiil değildir?

- A) schwimmbad B) spazierengehen
C) essen D) trinken

20. Hangisi anlam yönünden diğerlerinden farklıdır?

- A) Petra B) Hans C) Müller D) Walter

FRANSIZCA - 6

1.-9. sorularda boş bırakılan yerlere uygun düşen kelime veya ifadeyi bulunuz.

1. Tu quel âge?

- A) avons B) a C) avez D) as

2. Nous sortis de l'école.

- A) suis B) es C) sommes D) est

3. J'aime bien film.

- A) ces B) cet C) cette D) ce

4. J'habite

- A) étudiant B) à Istanbul
C) turque D) jean

5. Paul et Lucie adorent chien et chats.

- A) leur / leurs B) sa / leur
C) leurs / son D) leur / son

6. A: Tu connais Murat?

B: Non, je ne connais pas.

- A) l' B) la C) le D) les

7. films préfères-tu?

- A) Quel B) Quels C) Quelle D) Quelles

1. OTURUM

8. A: Quelle est votre nationalité?

B:

- A) Je suis malade. B) Je suis secrétaire.
C) Je suis célibataire. D) Je suis française.

9. A:?

B: Je suis ingénieur.

- A) Quelle est votre nationalité
B) Qui est votre ami
C) Quelle est votre profession
D) Où est votre professeur

10. Aşağıdakilerden hangisi mevsim adı değildir?

- A) Octobre B) Printemps
C) Hiver D) Automne

11. Aşağıdakilerden hangisi pastaneden satın alınır?

- A) chaussure B) gâteau
C) livre D) bateau

12. Aşağıdakilerin hangisinin önüne "article défini" (le) konulmaz?

- A) Brésil B) Portugal C) Mexique D) France

13. Aşağıdaki sözcüklerden bir grup oluşturulursa hangisi bu grubun dışında kalır?


- A) le neveu B) la maison
C) la tante D) la nièce

14. Aşağıda verilen masculin-féminin eşleşmelerinden hangisi yanlıştır?

- A) Belge / Belge
B) Français / Française
C) Turc / Turc
D) Américain / Américaine

15. Quelle heure est-il?

- A) Il est seize heures
B) Il est treize heures
C) Il est quinze heures
D) Il est douze heures



16. "Je parle anglais." cümlesinin olumsuz hâli hangisidir?

- A) Je lui parle en anglais.
B) Je ne parle pas anglais.
C) Je veux parler en anglais.
D) Je sais parler l'anglais.

17. "Je mange du fromage."

Yukarıda verilen (présent) cümlelerin (passé composé) hâli hangisidir?

- A) Je vais manger du fromage.
B) J'ai mangé du fromage.
C) J' avais mangé du fromage.
D) Je mangerai du fromage.

18. 7 - 14 - 21 sayılarının doğru yazılımı hangisidir?

- A) neuf - seize - quarante et un
B) huit - quinze - trente et un
C) sept - quatorze - ving et un
D) six - treize - cinquante et un

19. Yanda verilen ifade hangisinin de doğru verilmiştir?



- A) Il est triste B) Il est content
C) Il est joyeux D) Il est en colère

20. en / commence / le printemps / Mai

1 2 3 4

Kurallı bir cümle oluşturunuz.

- A) 3 / 2 / 1 / 4 B) 4 / 2 / 1 / 3
C) 4 / 1 / 3 / 2 D) 1 / 3 / 2 / 4

1. OTURUM

TÜRKÇE - 8

1. Aşağıdaki sözcüklerden hangisinin sesteşi yoktur?

- A) Yüz B) Yaş C) Çay D) Bir

2. Aşağıdaki altı çizili sözcüklerden hangisi gerçek anlamda kullanılmıştır?

- A) Şiddetli bir rüzgâr, ortalığı birbirine kattı.
B) Yürüyün aslanlarım, bu zafer sizin!
C) Bu olaylara karşı koyacak yürek yoktur onda.
D) Gittiğimiz her yerde çok sıcak karşılandık.

3. Deyimlerle ilgili aşağıdaki bilgilerden hangisi yanlıştır?

- A) Çoğunlukla bir masterla sonlanır.
B) Bütün sözcükleri gerçek anlamlıdır.
C) Kalıplaşmış sözlerdir.
D) En az iki sözcükten oluşurlar.

4. Evlerinin önü bakla, Güvercinler döner takla, Al beni yanında sakla.

Bu dizelerin uyak türü aşağıdakilerden hangisidir?

- A) Yarım uyak B) Tam uyak
C) Zengin uyak D) Cinaslı uyak

5. "Senem kitaplarını, defterlerini, sözlüğünü çantasına yerleştirdi." cümlesinde aşağıdaki öğelerden hangisi yoktur?

- A) Özne B) Belirtili nesne
C) Dolaylı tümleç D) Zarf tümleci

6. Aşağıdaki cümlelerin hangisinde büyük harflerin kullanımıyla ilgili bir yanlışlık yapılmıştır?

- A) Kardeşimi Mehmetçik lisesine yazdırmışlar.
B) Arkadaşım TDK kütüphanesine gideceğiz.
C) Akşam otobüse binerken Ceyhun'u gördüm.
D) 8 Eylül 2008 Pazartesi günü okullar açılacak.

7. Aşağıdakilerin hangisinde ikilemenin yapılışı diğerlerinden farklıdır?

- A) Uzunlu kısalı kalemlerini, kutuya doldurdu.
B) Eğri büğrü yollarda yavaşça yol alıyorduk.
C) İyi kötü geçinip gidiyoruz buralarda.
D) Polis olmayı er geç başaracağım diyordu.

8. Olay anlatan yazılarda, olayın ayrıntılarla anlatılıp merakın uyandırıldığı bölüme ne ad verilir?

- A) Serim B) Düşüm C) Çözüm D) Sonuç

9. Aşağıdaki cümlelerin hangisinde belirteç (zarf) kullanılmamıştır?

- A) Kitapları çabuk çabuk topladık.
B) Ahmet, az önce okuldan koşarak geldi.
C) Kalemlerini hemen çıkararak hazırlandı.
D) Orhan'ın güzel güvercinleri varmış.

10. Aşağıdaki kelimelerden hangisi kökü bakımından diğerlerinden farklıdır?

- A) Silgilerim B) Sulamış
C) Sevgili D) Sarılmış

11. Türkçe öğretmenimiz Bahri Bey de emekli subaydı. Ona Bahri Baba denilirdi. Saçları ak ama dinçti. Yaşını kestiremiyorum bile. Çünkü o yaşlardayken bize, kırk yaşındakiler bile çok yaşlı görünürdü. Bu parçada aşağıdaki betimleme türlerinden hangisi kullanılmıştır?

- A) Fiziki portre B) Ruhsal portre
C) Doğa betimlemesi D) Cansız betimlemesi

12. Aşağıdaki kelimelerden hangisi basit sözcüktür?

- A) Evli B) Korkusuz
C) Çiçeklik D) Saçları

13. Tiyatroda sahnenin kapatılmasını sağlayan örtünün açılması ile kapanması arasında geçen süreye ne ad verilir?

- A) Dekor B) Sahne C) Perde D) Oyun

14. Hem hüznü hem de gülünç olayları sergileyen tiyatro oyunlarına ne ad verilir?

- A) Dram B) Komedi
C) Trajedi D) Dekor

15. Atasözleriyle ilgili olarak aşağıdakilerden hangisi söylenemez?

- A) Söyleniş biçimi ve sözcükleri değiştirilemez.
B) Toplumun gelenek, töre ve düşüncelerini yansıtır.
C) Kimi atasözleri mecaz kimisi de gerçek anlamlıdır.
D) Genellikle master biçiminde olup yargı bildirmezler.

16. Bir konuda bilgi vermek ya da düşünceleri açıklamak amacıyla yazılan ve kanıtlar ileri sürülen düşün yazılarına ne denir?

- A) Fabl B) Öykü C) Makale D) Anı

17. "Çocuklar bahçeden koşarak uzaklaştılar." cümlesinde aşağıdakilerden hangisi vardır?

- A) Ad - eylem B) Sıfat - fiil
C) Bağ - eylem D) Ek fiil

1. OTURUM

MATEMATİK - 8

18. Aşağıdaki cümlelerin hangisinde “ile” sözcüğü bağ-
laç değildir?

- A) Can ile kardeşi yaramazlık yapıyor.
- B) Elleri ile toprağı karıştırdı.
- C) Sanatçı ile eser birlikte düşünölmelidir.
- D) Kırtasiyeden defter ile kalem aldım.

19. Bir konudaki kişisel düşünce ve görüşlerin, kanıtla-
ma amacı gütmeyen ve kesin yargılara varılmadan
anlatıldığı düşün yazılarına ne ad verilir?

- A) Deneme
- B) Tiyatro
- C) Gezi yazısı
- D) Roman

20. Aşağıdaki cümlelerden hangisi anlamca olumsuz bir
cümledir?

- A) Yemyeşil tarlaları seyrettik.
- B) Bu konuda bizim de bir çalışmamız var.
- C) Nedense yerinden bir türlü kalkamadı.
- D) Her yıl bir ağaç dikmek lazım.

1. $\frac{1}{4} < a < \frac{1}{3}$ sıralamasına göre a yerine aşağıdaki sayı-
lardan hangisi gelemez?

- A) $\frac{23}{72}$
- B) $\frac{7}{20}$
- C) $\frac{5}{16}$
- D) $\frac{5}{18}$

2. $0,\bar{3} + 0,3\bar{3}$ işleminin sonucu kaçtır?

- A) $\frac{2}{5}$
- B) $\frac{2}{3}$
- C) $\frac{7}{10}$
- D) $\frac{26}{33}$

3. $2.(0,2 - 0,16)$ işleminin sonucu kaçtır?

- A) 1,2
- B) 0,4
- C) 0,28
- D) 0,08

4. $\frac{3}{4} - \frac{2}{9} - \frac{7}{12}$ işleminin sonucu kaçtır?

- A) $-\frac{1}{6}$
- B) $-\frac{6}{25}$
- C) $-\frac{7}{36}$
- D) $-\frac{1}{18}$

5. $\left(1 + \frac{1}{2}\right) \cdot \left(1 + \frac{1}{3}\right) \cdot \left(1 + \frac{1}{4}\right) \cdot \dots \cdot \left(1 + \frac{1}{10}\right)$ işleminin sonucu
kaçtır?

- A) $\frac{11}{2}$
- B) $\frac{11}{10}$
- C) $\frac{3}{5}$
- D) $\frac{3}{10}$

6. $2^{-4} + 2^{-4} + 2^{-4} + 2^{-4}$ işleminin sonucu aşağıdakilerden
hangisidir?

- A) 2^{-1}
- B) 2^{-2}
- C) 2^{-8}
- D) 2^{-16}

7. $a = \sqrt{2}$ ve $b = \sqrt{3}$ olduğuna göre, $\sqrt{0,06}$ sayısının
a ve b cinsinden yazılışı aşağıdakilerden hangisidir?

- A) \sqrt{ab}
- B) $\sqrt{\frac{ab}{10}}$
- C) ab
- D) $\frac{ab}{10}$

8. $(x + 2)^2 - x^2$ ifadesi aşağıdakilerden hangisine eşittir?

- A) $4(x + 1)$
- B) $4x + 2$
- C) $2(x + 1)$
- D) $2x + 4$

9. $\frac{x^2 - 10xy + 25y^2}{x^2 - 25y^2} : \frac{1}{x + 5y}$ ifadesinin en sade şekli aşağı-
dakilerden hangisidir?

- A) $\frac{x - 5y}{(x + 5y)^2}$
- B) $x + 5y$
- C) $x - 5y$
- D) $\frac{x + 5y}{x - 5y}$

10. $\frac{3x - 4}{2} - \frac{2x - 3}{3} = 0$ denkleminin çözüm kümesi aşağı-
dakilerden hangisidir?

- A) $\left\{\frac{1}{5}\right\}$
- B) $\{1\}$
- C) $\left\{\frac{6}{5}\right\}$
- D) $\{2\}$

1. OTURUM

11. Bir çiftçi, tarlasının $\frac{1}{4}$ 'üne fasulye, $\frac{1}{3}$ 'üne ise nohut ekıyor. Bu tarlanın ekili olmayan bölümü 60 m^2 olduğuna göre, tamamı kaç metrekaredir?

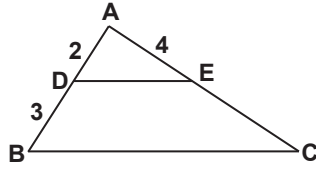
A) 84 B) 96 C) 120 D) 144

12. $\begin{cases} \frac{1}{x} + \frac{1}{y} = \frac{1}{6} \\ \frac{2}{x} - \frac{3}{y} = \frac{7}{6} \end{cases}$ denklem sisteminin çözüm kümesi aşağıdakilerden hangisidir?

A) $\{(3, -3)\}$ B) $\{(-3, 6)\}$
C) $\{(-3, -6)\}$ D) $\{(3, -6)\}$

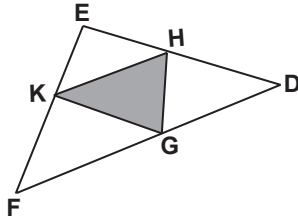
13. Şekilde $[DE] \parallel [BC]$ dir. $|AD| = 2 \text{ cm}$, $|BD| = 3 \text{ cm}$ ve $|AE| = 4 \text{ cm}$ olduğuna göre, $|AC|$ kaç santimetredir?

A) 6 B) 8 C) 10 D) 12



14. Şekilde G, H, K noktaları $\triangle EFD$ nin kenarlarının orta noktalarıdır. $A(\triangle EFD) = 36 \text{ cm}^2$ ise $A(\triangle KGH)$ kaç santimetrekaredir?

A) 9 B) 12 C) 16 D) 18



15. Koordinat düzleminde $A(1, 2)$ noktası $y - 3ax + 4 = 0$ doğrusu üzerinde olduğuna göre, a kaçtır?

A) $\frac{5}{6}$ B) 2 C) $\frac{11}{6}$ D) 4

16. $A = \{1, 2, 3, 4, 5\}$ kümesinin elemanları kullanılarak üç basamaklı kaç çift sayı yazılabilir?

A) 24 B) 32 C) 50 D) 120

17. Bir torbada renkleri dışında aynı özelliklere sahip 9 tane top bulunmaktadır. Bu toplardan 4'ü mavi, 3'ü kırmızı ve geri kalanı siyah olduğuna göre, rastgele çekilen bir topun mavi veya siyah olma olasılığı nedir?

A) $\frac{2}{3}$ B) $\frac{5}{9}$ C) $\frac{4}{9}$ D) $\frac{1}{3}$

18. Kenar uzunlukları 3 cm, 4 cm ve 5 cm olan bir dikdörtgenler prizmasının hacmi kaç santimetreküptür?

A) 20 B) 30 C) 45 D) 60

19. Tabanı kare olan bir dik piramidin yan yüz yüksekliği 13 cm'dir. Taban alanı 100 cm^2 olduğuna göre, bu piramidin hacmi kaç santimetreküptür?

A) 200 B) 300 C) 400 D) 600

20. Şimdi saat 10.00'dur. 43 saat sonra saat kaç olur?

A) 15.00 B) 09.00 C) 05.00 D) 17.00

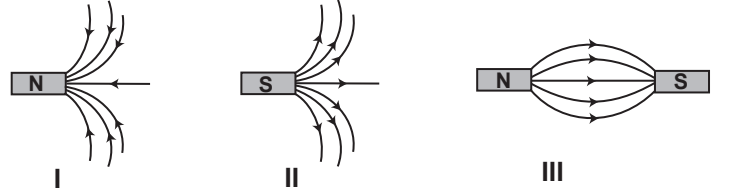
FEN BİLGİSİ - 8

1. Aşağıdaki maddelerden hangileri mıknatıs tarafından çekilmez?

I- Ebonit
II- Kobalt
III- Cam

A) Yalnız I B) Yalnız II C) I - III D) I - II

2. Mıknatıs kutuplarında oluşacak manyetik kuvvet çizgileri hangilerinde doğrudur?



A) Yalnız I B) Yalnız III
C) I - II D) II - III

3. Kutupları bilinmeyen uzun mıknatıs ortadan ikiye bölünüyor. Oluşan 1 ve 2 parçalı mıknatısların kutupları hangilerindeki gibi olabilir?



	1		2	
I-	N	S	N	S
II-	S	N	S	N
III-	S	N	N	S

A) Yalnız I B) I - II
C) II - III D) I - II - III

4. Aşağıdaki aletlerin hangilerinde mıknatıs kullanılır?

I- Kapı zili
II- Telgraf
III- Telefon

A) Yalnız I B) I - II
C) II - III D) I - II - III

1. OTURUM

5. Sarım sayılarına göre hangisindeki transformatör yükseltici transformatördür?

	Primer sargı sayısı	Sekonder sargı sayısı
A)	10	100
B)	10	10
C)	100	10
D)	20	20

6.

Atom	Son yörüngesindeki elektron sayısı
Na	1
S	6
F	7
Mg	2

Çizelgedeki atomlardan hangisinin değeri -2'dir?

- A) Na B) S C) F D) Mg

7. $^{11}_{11}\text{Na}$ atomu ile ^9_9F atomu arasında aşağıdakilerden hangisi oluşur?

- A) İyonik bağ
B) Apolar kovalent bağ
C) Polar kovalent bağ
D) İtme kuvveti

8. •Buzun erimesi

- Kâğıdın yanması
- Camın kırılması
- Yemeğin ekşimesi

yukarıdaki olayların kaç tanesi fiziksel değişmedir?

- A) 1 B) 2 C) 3 D) 4

9. Aşağıdakilerden hangisi "Kütlenin Korunumu Kanunu"nu açıklar?

- A) Kimyasal tepkimeler gerçekleşirken çevreden ısı alır.
B) Maddelerin yapısındaki köklü değişimlerdir.
C) Tepkimeye giren maddelerin kütleleri toplamı ile tepkime sonucu oluşan maddelerin kütleleri toplamı eşittir.
D) Maddenin şeklinde, görünümünde ve hâlinde olan değişimlerdir.

10. $X + \text{Çinko} \rightarrow \text{Tuz} + \text{Hidrojen gazı}$

tepkimesinde X yerine aşağıdakilerden hangisi gelmelidir?

- A) Baz B) Metal C) Su D) Asit

11. Fotosentezin yapılabilmesi için aşağıdakilerden hangisi gerekli değildir?

- A) Güneş ışığı B) Su
C) Oksijen D) Karbondioksit

12. Aşağıdakilerden hangisi oksijenli ve oksijensiz solunumun ortak özelliğidir?

- A) Enerji elde edilmesi
B) Besinlerin mayalanması
C) Bütün canlılarda görülmesi
D) Glikozun karbondioksit ve suya kadar parçalanması

13. Aşağıdakilerden hangisi, vücut fonksiyonlarını düzenleyen besin maddelerindendir?

- A) Yağlar B) Vitaminler
C) Proteinler D) Karbonhidratlar

14. DNA molekülünde, timin nükleotitin karşısına hangi nükleotit gelir?

- A) Guanin B) Adenin C) Sitozin D) Urasil

15. Sarı tohumlu bezelye, dört nesil yeşil tohumlu bezelye ile çaprazlanıyor ve hep sarı tohumlu bezelye elde ediliyor. Bu durumda bezelyedeki sarı tohum rengi için ne söylenebilir?

- A) Dominanttır.
B) Resesiftir.
C) Sadece homozigottur.
D) Sadece heterozigottur.

16. Aşağıdakilerden hangisi modifikasyona örnektir?

- A) Kutupta yaşayan tilkilerin, çölde yaşayan tilkilere göre daha küçük kulaklı olması
B) Antartika'da yaşayan penguenlerin, Güney Amerika'da yaşayan penguenlerden daha büyük vücutlu olması
C) Çölde yaşayan tavşanların, kutupta yaşayan tavşanlara göre daha büyük kulaklı olması
D) Çuha çiçeğinin 15-20°C'de kırmızı çiçek açarken, 30-35°C'de beyaz çiçek açması

17. Aşağıdakilerden hangisi mitoz bölünme özelliğidir?

- A) Hayat boyu devam etmez.
B) Kromozom sayısı yarıya iner.
C) Üreme ana hücrelerinde görülür.
D) Bir tek bölünme gerçekleşir.

18. Aşağıdaki canlılardan hangisi bölünerek çoğalabilir?

- A) Amip B) Bira mayası
C) Mercan D) Eğrelti otu

1. OTURUM

19. Aşağıdaki sistemlerden hangisi, endoderm tabakasından oluşur?

- A) Sinir B) Dolaşım
C) Sindirim D) Boşaltım

20. Spor yapmanın aşağıdakilerden hangisinde etkisi yoktur?

- A) Solunumun hızlanması
B) Kalbin iyi çalışması
C) Kasların gelişmesi
D) Kan şekerinin yükselmesi

İNKILAP TARİHİ VE ATATÜRKÇÜLÜK - 8

1. I- Büyük fabrikalar kuruldu.
II- Avrupa'da imparatorluklar yıkıldı.
III- Hammadde ihtiyacı doğdu.
IV- Hürriyet ve demokrasi gibi fikirler dünyaya yayıldı.

Yukarıdakilerden hangisi ya da hangileri Fransız İhtilali'nin etkisiyle ortaya çıkmıştır?

- A) I - II B) II - III C) II - IV D) I - III - IV

2. Meşrutiyet yönetimine karşı çıkan 31 Mart Ayaklanmasını aşağıdakilerden hangisi bastırmıştır?

- A) Hareket Ordusu B) 9. Ordu
C) Yeniçeri Ocağı D) Nizamı Cedit Ordusu

3. Aşağıdakilerden hangisi Balkan Savaşları sonunda kaybedilen topraklardan değildir?

- A) Arnavutluk B) Makedonya
C) Doğu Trakya D) Batı Trakya

4. • I. Dünya Savaşı öncesinde Üçlü İttifak devletlerinin içinde yer aldı.

- Savaşın başında tarafsız kaldı.
• Savaş sürerken İtilaf Devletlerine katıldı.

Sözü edilen devlet aşağıdakilerden hangisidir?

- A) İngiltere B) Osmanlı C) İtalya D) ABD

5. Rusya'nın panislawizm propagandası yaparak Balkanları nüfuzu altına almak istemesi aşağıdaki devletlerden hangisi ile çıkar çatışmasına neden olmuştur?

- A) Fransa
B) Sırbistan
C) Japonya
D) Avusturya - Macaristan İmparatorluğu

6. I. Dünya Savaşı sonunda İtilaf Devletleri ile Almanya arasında imzalanan antlaşma aşağıdakilerden hangisidir?

- A) Versay B) Uşi C) Nöyvi D) Sen Jermen

7. Aşağıdakilerden hangisi azınlıklar tarafından kurulan cemiyetlerden biridir?

- A) Mavri Mira Cemiyeti B) Kilikyalılar Cemiyeti
C) Kürt Teali Cemiyeti D) İngiliz Muhipleri Cemiyeti

8. Brest-Litowsk Antlaşması için aşağıdakilerden hangisi söylenemez?

- A) Rusya ile imzalanan bir antlaşmadır.
B) Bu antlaşma ile Rusya; Kars, Ardahan ve Batum'u Osmanlıya geri vermiştir.
C) Kafkasya Cephesi'nde yapılan savaşı sona erdirmiştir.
D) Osmanlı Devleti'nin Boğazlar üzerindeki egemenliğine son vermiştir.

9. Sivas Kongresi'nin toplanması kararı aşağıdakilerden hangisinde alınmıştır?

- A) Erzurum Kongresi'nde
B) Amasya Genelgesi'nde
C) Son Osmanlı Meclisi Mebusanı'nda
D) TBMM'de

10. Bu antlaşma ile;

- Kurtuluş Savaşı sona erdi.
- Yeni Türk Devleti tüm dünyaca tanındı.
- Bağımsızlığımız sağlandı.

Sözü edilen antlaşma aşağıdakilerden hangisidir?

- A) Moskova Antlaşması
B) Mudanya Ateşkes Antlaşması
C) Ankara Antlaşması
D) Lozan Antlaşması

11. Sovyetler Birliği ile Kars Antlaşması'nın imzalanmasında;

- I- Sakarya Meydan Muharebesi'nin kazanılması
II- Mudanya Ateşkes Antlaşması'nın imzalanması
III- Cumhuriyet'in ilan edilmesi

gelişmelerinden hangisinin ya da hangilerinin etkisi olduğu savunulabilir?

- A) Yalnız I B) I - II
C) Yalnız III D) I - II - III

12. Yeni kurulan Türkiye Cumhuriyeti Devleti, cumhuriyetin ilanından sonra ilk olarak aşağıdakilerden hangisini gerçekleştirmiştir?

- A) Medeni Kanunu kabul etmiştir.
B) Ankara'yı başkent yapmıştır.
C) Balkan Antantı'na üye olmuştur.
D) Halifeliği kaldırmıştır.

1. OTURUM

13. Ülkemizdeki tüm eğitim-öğretim kurumlarının devletin denetimine geçmesi, aşağıdakilerden hangisiyle sağlanmıştır?

- A) Tevhid-i Tedrisat Kanunu'nun kabul edilmesiyle
- B) Cumhuriyetin ilanıla
- C) Türk Dil Kurumunun kurulmasıyla
- D) Montrö Sözleşmesi'nin imzalanmasıyla

14. I- Teşvik-i Sanayi Kanunu'nun kabul edilmesi
II- Türk Tarih Kurumunun kurulması
III- İş Bankasının açılması
IV- Tarım Kredi Kooperatiflerinin kurulması

Verilenlerden hangisinin ya da hangilerinin millî ekonomiyi geliştirme amacı yoktur?

- A) Yalnız II
- B) II - III
- C) Yalnız IV
- D) I - III - IV

15. Aşağıdakilerden hangisi Atatürk Döneminde izlenen dış politikanın esaslarından biri değildir?

- A) Devletler arası hukuka saygılı olmak
- B) Millî bağımsızlıktan taviz vermemek
- C) Manda yönetimini desteklemek
- D) Yurtta barış, dünyada barış prensibine bağlı kalmak

16. Fransa, Suriye üzerindeki manda yönetimine hangi yıl son vermiştir?

- A) 1926
- B) 1931
- C) 1936
- D) 1943

17. "Halkçılık İlkesi" aşağıdaki Atatürk ilkelerinden hangilerinin doğal sonucudur?

- A) Milliyetçilik - Laiklik
- B) Cumhuriyetçilik - Milliyetçilik
- C) İnkılapçılık - Laiklik
- D) Devletçilik - İnkılapçılık

18. Aşağıdakilerden hangisi Atatürk ilke ve inkılaplarının dayandığı esaslardan biri değildir?

- A) Vatan ve millet sevgisi
- B) "Hayatta en hakiki mürşit ilimdir." prensibi
- C) Millî dil
- D) Mandacılık

19. Mustafa Kemal Atatürk, kaç yıl cumhurbaşkanlığı görevinde bulunmuştur?

- A) 12
- B) 15
- C) 18
- D) 21

20. Mustafa Kemal Atatürk, 10 Kasım 1938 tarihinde hangi ilde hayata gözlerini yummuştur?

- A) İstanbul
- B) Ankara
- C) İzmir
- D) Hatay

DİN KÜLTÜRÜ VE AHLAK BİLGİSİ - 8

1. Hz. Muhammed, Mute Savaşı'na katılacak sahabilere şu öğütlerde bulundu: "...Gideceğiniz yerlerde rahipler göreceksiniz. Onlara asla dokunmayınız. Kadınlar ve çocuklara şefkatle davranınız. Evleri yıkmayınız."

Hz. Muhammed'in bu öğüdü, onun hangi özelliğine kanıt gösterilebilir?

- A) Dinî hoşgörü ve merhametine
- B) Danışarak iş yapmasına
- C) Sabırlı oluşuna
- D) Cesaretli oluşuna

2. Peygamberimizin geçeceği yollara dikenler döşemiş, taşlanmış ve öldürülmek için evi kuşatılmıştı. O, karşılaştığı zorluklar sebebiyle yılgınlık göstermemiş, haksızlık ve zulümlere karşı sonuna kadar mücadele etmiştir.

Paragrafta Peygamberimizin daha çok hangi yönüne vurgu yapılmaktadır?

- A) Cesaretine
- B) Hakkı gözetmesine
- C) Kararlılığına
- D) Güvenilirliğine

3. Hz. Muhammed, diğer dinlere ve milletlere mensup olanlara karşı son derece anlayışlı davranmış, onların hastalarını ziyaret etmiş, sofralarına konuk olmuştur. Onların gönüllerini alabilmek için ikramlarda bulunmuştur.

Peygamberimizin yukarıdaki davranışları hangi güzel ahlakına örnektir?

- A) Hoşgörüsüne
- B) Merhametine
- C) Hakkı gözetmesine
- D) Güvenilir olmasına

4. Din olgusu varlığını, bireyin duygu ve düşüncelerinde, sanat, edebiyat, resim gibi alanlarda ve dini yapıtlarda kendini göstermiştir.

Buna göre aşağıdaki sonuçlardan hangisine varılmaz?

- A) Din toplumun kültüründe ve uygarlığında kendini açık bir şekilde gösterir.
- B) Farklı dinî inançlar, toplumların kültürlerini farklı şekilde etkilemiştir.
- C) Din, kültürün ayrılmaz bir ögesidir.
- D) Kültür, toplumun dinî inanışlarından oluşur.

1. OTURUM

5. Edebiyatımızda vatan, kahramanlık, şehitlik konularının çok işlenmesinde aşağıdakilerden hangisi daha çok etkili olmuştur?

- A) Dinin vatani korumaya verdiği önem
- B) Allah ve insan sevgisi
- C) Örf ve âdetler
- D) Kültür

6. Kur'an-ı Kerim'de güzel söz, devamlı meyve veren ağaca benzetilirken kötü söz'ya benzetilmiştir. Boş bırakılan yere aşağıdakilerden hangisi gelmelidir?

- A) Kokusu olmayan güle
- B) Meyvesiz ağaca
- C) Kökü olmayan ağaca
- D) Sevgisiz insana

7. Aşağıdakilerden hangisi İslam dininin yasakladığı davranışlardan biri değildir?

- A) Kabirleri ziyaret etme
- B) Fal bakma
- C) Kız çocuklarını hor görme
- D) Uğur tutma

8. Aşağıdakilerden hangisi insanı üstün kılan özelliklerden biridir?

- A) Doğup büyümesi
- B) Güç ve kuvvet sahibi olması
- C) Düşünme yeteneğine sahip olması
- D) Yiyip içmesi

9. • "Göklerin ve yerin yaratılışında, gece ile gündüzün birbiri ardınca gelmesinde akıl sahiplerine şüphesiz deliller vardır." (Âl-i İmrân suresi, 190)
• "Doğrusu akıl sahipleri öğüt alırlar." (Zümer suresi, 9)
Bu ayetlerden aşağıdaki sonuçlardan hangisi çıkarılamaz?

- A) Akıl kullanılması ve varlıklar üzerinde düşünülmesi gerektiği
- B) Evrendeki mükemmelliği görüp yaratacının büyüklüğünü kavramanın gerektiği
- C) Yerin ve göğün yedi kat olarak yaratıldığı
- D) İnsana akılla birlikte akıl kullanma sorumluluğunun verildiği

10. "O, yeri yayıp döşeyen, orada dağlar, nehirler meydana getiren, orada her türlü meyveden iki eş yaratandır. Şüphesiz bunlarda düşünen bir kavim için deliller vardır." (Ra'd suresi, 3. ayet)

Yukarıdaki ayette verilen asıl mesaj aşağıdakilerden hangisidir?

- A) Dağların oluşumunu incelememiz gerektiği
- B) Aklimızı kullanmamız gerektiği
- C) Yeryüzü hakkında araştırma yapmamız gerektiği
- D) Meyvelerin yapısı hakkında bilgi edinmemiz gerektiği

11. İslam dini aşağıdakilerden hangisini destekler?

- A) Özgür düşünceyi
- B) Taklitçiliği
- C) Taassubu
- D) Bağnazlığı

12. Aşağıdakilerden hangisi bağnazlığın sonucudur?

- A) Hür düşünceyi benimseme
- B) Başkalarının inanç ve görüşlerine saygı duyma
- C) Kendi düşüncelerinin doğru olduğunu kabul etme
- D) Kendi inanç ve kanaatlerini başkalarına zorla kabul ettirme

13. Canlılar türlerine göre bazı özelliklere sahiptir. Her türün üremesi, yaşamı ve ölümü kendine özgüdür.

Paragrafta anlatılanlar evrendeki yasalardan hangisine örnek oluşturur?

- A) Fiziksel yasalara
- B) Biyolojik yasalara
- C) Toplumsal yasalara
- D) Coğrafi yasalara

14. •Eğitimsiz bir toplumda siyasi, ekonomik ve demokratik gelişmeler, eğitimli topluma göre daha azdır.
• Teknolojik gelişmelerin az olduğu bölgelerde gelenek ve görenekler toplumda daha etkin bir işlev üstlenir.

Yukarıda bahsedilenler aşağıdaki yasalardan hangisiyle ilgilidir?

- A) Biyolojik yasalarla
- B) Fiziksel yasalarla
- C) Toplumsal yasalarla
- D) Ahlaki yasalarla

15. Aşağıdakilerden hangisi kaza kavramının tanımıdır?

- A) Ansızın meydana gelen üzücü olaydır.
- B) Allah'ın önceden takdir ve tayin ettiği olaydır.
- C) İnsan ömrünün bittiği andır.
- D) Yüce Allah'ın önceden takdir ve tayin ettiği olayların yeri ve zamanı geldiğinde ortaya çıkmasıdır.

1. OTURUM

16. “İnsan için ancak çalıştığının karşılığı vardır.” (Necm suresi, 39.) buyurmaktadır.

Bu ayetten aşağıdaki sonuçlardan hangisine varılabilir?

- A) Kadere iman çalışmaya engel değildir.
- B) Rızık elde etmek çalışmaya bağlıdır.
- C) Rızık Allah'tandır. Çalışmasa da ait olduğu kişiyi bulur.
- D) Dinimiz çalışmayı emretmektedir.

17. İman'ın şartları aşağıdakilerden hangisinde toplanmıştır?

- A) Subhaneke
- B) Amentü
- C) Ayetel Kürsü
- D) Ettehiyyatü

18. Mezhepler hakkında aşağıdakilerden hangisi doğrudur?

- A) Mezhepler Peygamberimiz zamanında ortaya çıkmıştır.
- B) Mezhepler Hz. Muhammed'in vefatından sonra ortaya çıkmıştır.
- C) Farklı mezheplerin oluşu dinî hayatı zorlaştırmıştır.
- D) Mezhebin diğer ismi tarikattır.

19. “Din ve mezhep herkesin vicdanına kalmış bir iştir. Hiç kimse hiçbir kimseyi ne bir din ne de mezhebi kabul etmeye zorlayabilir.”

Atatürk'ün bu sözünden hangi sonuç çıkarılamaz?

- A) Kişiler istediği dini seçebilirler.
- B) Din ve mezhep vicdan işidir.
- C) Kişiler birbirini din ve mezhep seçiminde zorlayabilir.
- D) Kimse dinî inanç ve kanaatinden dolayı kınanamaz.

20. Aşağıdakilerden hangisi dinlerin ortak amaçlarından biri değildir?

- A) İnsanların sağlıklı yaşamalarını sağlamak
- B) Mutlu ve huzurlu toplumlar oluşturmak
- C) İnsanları zararlı davranışlardan uzak tutmak
- D) Toplumların ekonomik olarak kalkınmalarını sağlamak

İNGİLİZCE - 8

1.-18. sorularda boş bırakılan yerlere uygun düşen sözcük veya ifadeyi bulunuz.

1. My mother hasn't come yet. She's to France.

- A) thought
- B) seen
- C) been
- D) gone

2. Hülya got 10, Selma got 7 in English.

Hülya's English is than Selma's.

- A) younger
- B) further
- C) better
- D) closer

3. A car is faster than a bicycle but a plane is of them all.

- A) the shortest
- B) the fastest
- C) the most severe
- D) the most delicious

4. A: Where were you yesterday afternoon? I telephoned you but you weren't at home.

B: but I was having a bath. I didn't hear you.

- A) I was at home
- B) I called you
- C) I was at the cinema
- D) I went to the supermarket

5. I while I was shopping in the supermarket. I couldn't buy anything.

- A) got on the plane
- B) bought everything
- C) drove my car
- D) lost my wallet

6. If you want to be a good student, you

- A) shouldn't go to school on time.
- B) should do your homework carelessly.
- C) should listen to the teacher carefully.
- D) shouldn't keep the classroom clean.

7. When the sun sets,

- A) take off your jacket.
- B) you must wear glasses.
- C) you mustn't cross the street.
- D) it gets dark.

8. I love this cake. It

- A) feels ill.
- B) tastes delicious.
- C) smells bad.
- D) looks comfortable.

1. OTURUM

9. A secretary is a person answers the telephone calls.

- A) who B) which C) whose D) where

10. When we 3 and 5, we get 8.

- A) add B) multiply C) divide D) subtract

11. A: I'd like sugar, please.

B: would you like?

- A) a few / How many B) any / How many
C) some / How much D) a few / How much

12. There isn't in the fridge.

- A) any students B) a lot of balls
C) some eggs D) any milk

13. A: are these pencils?

B: They're 2 TL each.

- A) How many B) How much
C) Whose D) Where

14. I wasn't able to take photographs when I was in Akçakoca, because

- A) I didn't have a camera.
B) I will buy a camera.
C) I bought a camera.
D) I used my camera.

15. The supermarket is between the Barber's and the Bookshoop.

The supermarket is the Bookshoop.

- A) towards B) across
C) next to D) opposite to

16. Lions are wild animals. Tigers are,

- A) neither B) nor C) either D) too

17. A: Tom can't speak Turkish.

B:

- A) So do I. B) Neither can Helen
C) He is, too. D) She isn't, either.

18. Ayran is made from

- A) butter B) milk C) yoghurt D) rice

19.-20. sorularda verilen cümleye anlamca en yakın olan seçeneği işaretleyiniz.

19. She can't study in this room. It's very cold.

- A) This room is too cold to study in.
B) This room is hot enough to study in.
C) This room isn't dark enough to sleep in.
D) This room isn't too small to clean.

20. That computer isn't too expensive for me to buy.

- A) It's as expensive as a car.
B) It's cheap enough for me to buy.
C) It's cheap but I can't afford it.
D) It's very expensive. Let's look for another one.

ALMANCA - 8

1.-15. sorularda boş bırakılan yerlere uygun düşen sözcük veya ifadeyi bulunuz.

1. Müller: Guten Morgen!

Hans : Guten Morgen!

Müller: Wie geht es Ihnen?

Hans : Danke,

Müller: Auf Wiedersehen!

Hans : Auf Wiedersehen!

- A) mir gut es B) es geht mir
C) mir geht es D) es geht mir gut

2. Petra: Ich bin hier! Inge.

Inge : Ich komme jetzt! Petra.

Petra: Woher kommen Sie?

Inge : Ich komme Istanbul.

Petra: Ich fahre Yenimahalle.

Inge : Vielen Dank!

Petra: Bitte sehr!

- A) nach / von B) nach / aus
C) aus / nach D) in / von

3. Ahmet : Wann gehst du ins Theater?

Mehmet: Ich gehe ins Theater, ich Zeit habe.

- A) als B) wenn C) denn D) um

4. Ich arbeite in Köln, ich habe eine gute Arbeit.

- A) denn B) wenn C) als D) weil

5. Petra kommt nicht zur Party, sie muß noch arbeiten.

- A) daß B) damit C) als D) denn

1. OTURUM

6. Ich gehe Jeden Donnerstag Kino Theater.

- A) ins / ins / oder B) oder / ins / ins
C) ins / oder / ins D) ins / ins / und

7. Er wundert sich das Geschenk.

- A) um B) ins C) auf D) über

8. Hans ist fleissiger Walter.

- A) weil B) als C) damit D) denn

9. Der Zug ist als das Auto.

- A) schneller B) süsser
C) alt D) fleissiger

10. Ayşe : Wo liegt das Heft?

Fatma: Das Heft liegt Tisch.

Ayşe : Vielen Dank!

- A) auf dem B) den auf C) auf den D) auf der

11. Wenn ich Zeit habe, ich Theater.

- A) führe / im B) gehen / im
C) gehe / ins D) fahre / aus

12. Ich Klavier und ich gern Musik.

- A) lernen / hören B) höre / lernen
C) spielt / hört D) spiele / höre

13. Ich gehe dem alt Mann ein Geschenk.

- A) e B) en C) em D) es

14. Ahmet Buch ist neu.

- A) s B) aus C) von D) es

15. Der Mann, den Arzt besucht, ist sehr krank.

- A) die B) das C) der D) den

16.-17. sorularda kurallı bir cümle oluşturunuz.

16. Petra / fleissiger / ist / Peter / als

1 2 3 4 5

- A) 4 / 5 / 1 / 2 / 3 B) 1 / 2 / 3 / 4 / 5
C) 5 / 4 / 3 / 2 / 1 D) 1 / 3 / 2 / 5 / 4

17. Sie / kann / die Hausaufgaben / nicht / machen

1 2 3 4 5

- A) 5 / 3 / 4 / 2 / 1 B) 1 / 2 / 4 / 3 / 5
C) 4 / 3 / 5 / 2 / 1 D) 3 / 5 / 2 / 1 / 4

18. Was kann man nicht trinken?

- A) Wein B) Mineralwasser
C) Döner D) Cola

19. "Mustafa Kemal war ein grosser Soldat, ein geschickter Kommandant und ein guter Reformier." cümlesinin Türkçe karşılığını bulunuz.

- A) Mustafa Kemal büyük bir asker, yetenekli bir komutan ve iyi bir reformcu idi.
B) Mustafa Kemal iyi bir komutan idi.
C) Atatürk iyi bir asker ve reformcu idi.
D) Mustafa Kemal iyi bir asker ve komutan idi.

20. Hangisi diğerlerinden farklıdır?

- A) der Mai B) der Sonntag
C) der Juli D) der April

FRANSIZCA - 8

1.-12. sorularda boş bırakılan yerlere uygun düşen sözcük veya ifadeyi bulunuz.

1. Vous à la maison.

- A) sont B) est C) sommes D) êtes

2. Pour venir chez nous, le métro.

- A) chantez B) dormez C) prenez D) écoutez

3. Le boulanger vend

- A) du beurre B) du pain
C) du fromage D) de la bière

4. Pour acheter du sucre, il faut aller chez

- A) l'épicier B) le boucher
C) le charcutier D) le crémier

5. A midi, au déjeuner, je mange viande ou poisson.

- A) la / de B) du / la
C) du / de D) de la / du

6. Samedi prochain, le match à 21h30.

- A) a fini B) avait fini
C) finira D) finiront

7. neige, on fera un bonhomme de neige.

- A) je B) on C) si D) s'il

1. OTURUM

8. Le football est populaire la lutte.

- A) la / de B) plus / que
C) déjà / plus D) que / avec

9. homme est mon père.

- A) cet B) ce C) cette D) ces

10. Je connais cette jeune fille est étudiante.

- A) qui B) que C) dont D) où

11. A: Je dois partir.

B: Qu'est-ce qu'il dit?

C:

- A) Je dis que je dois partir.
B) Tu dis que tu dois partir.
C) Il dit qu'il doit partir.
D) Je dis que tu dois partir.

12. A: Où est l'école?

B:

- A) J'aime beaucoup l'école.
B) La voiture est devant l'école.
C) Les élèves vont à l'école.
D) L'école est en face de la poste.

13. "Tu as un chat."

Verien (affirmative) cümlelerin (négative) hâli hangisidir?

- A) Il y a un chat.
B) Tu n'as pas de chat.
C) Le chat n'est pas là.
D) Tu ne veux pas ce chat?

14. Aşağıdakilerden hangisi (impératif) emir cümlesidir?

- A) Ne vous inquiétez pas!
B) Je travaille beaucoup.
C) Vous vous inquiétez pour moi?
D) Inquiétez-vous souvent?

15. "Nous sommes à la maison." cümlesinin (imparfait) şekli hangisidir?

- A) Nous serons à la maison.
B) Nous avons été à la maison.
C) Nous étions à la maison.
D) Nous serions à la maison.

16. Où est-ce qu'Alain a mal?

- A) Alain a mal à la tête.
B) Alain a mal aux dents.
C) Alain a mal au pied.
D) Alain a mal à la main.



17. Aşağıdakilerden hangisi (comparaison) karşılaştırma cümlesidir?

- A) Les filles et les garçons vont à l'école.
B) La chaise est moins confortable que le fauteuil.
C) Je préfère les vêtements classiques.
D) Je joue au basket-ball.

18. Aşağıdaki sözcükler gruplandırıldığında hangisi bu grubun dışında kalır?

- A) une poire B) une pomme
C) une chemise D) une banane

19. Aşağıdaki cümlelerin hangisinde (gérondif) kullanılmıştır?

- A) Il fait ses devoirs en écoutant la radio.
B) Il joue avec son frère.
C) Il travaille beaucoup pour réussir.
D) Nous nous premenons dans le parc.

20. "Vous faites du sport?" cümlesinin Türkçe karşılığını işaretleyiniz.

- A) Sporu seviyor musunuz?
B) Spor yapıyor musunuz?
C) Siz sporcu musunuz?
D) Spor izliyor musunuz?

TEST BİTTİ.

CEVAPLARINIZI KONTROL EDİNİZ.

Soracağınız bir şey var mı? Varsa şimdi sorunuz; sınav başladıktan sonra sorularınıza cevap verilmeyecektir.
Hazır mısınız?

Sınav okulun bütün salonlarında aynı anda başlayacağı için başlama zilini beraberce bekleyelim. Hepinize başarılar dileriz. **(Salon başkanları başlama ve biiş saatini tahtaya yazacaktır.)**

Bu soru kitapçığının her hakkı saklıdır. Hangi amaçla olursa olsun, kitapçığın tamamının veya bir kısmının Millî Eğitim Bakanlığı Eğitim Teknolojileri Genel Müdürlüğü'nün yazılı izni olmadan kopya edilmesi, fotoğraflarının çekilmesi, bilgisayar ortamına alınması, herhangi bir yolla çoğaltılması, yayımlanması veya başka bir amaçla kullanılması yasaktır. Bu yasağa uymayanlar, doğabilecek cezai sorumluluğu ve kitapçığın hazırlanmasındaki malî külfeti peşinen kabullenmiş sayılır.

CEVAP ANAHTARI**1.OTURUM****TÜRKÇE 6**

1. A
2. C
3. D
4. B
5. D
6. A
7. B
8. C
9. C
10. A
11. D
12. A
13. B
14. A
15. C
16. D
17. A
18. C
19. B
20. B

FEN BİLGİSİ 6

1. A
2. C
3. B
4. A
5. D
6. D
7. B
8. C
9. B
10. D
11. A
12. C
13. D
14. A
15. B
16. C
17. D
18. C
19. A
20. B

DİN KÜL. VE AHL. BİLG. 6

1. C
2. B
3. C
4. D
5. B
6. A
7. B
8. C
9. D
10. A
11. B
12. A
13. B
14. C
15. A
16. C
17. D
18. A
19. B
20. D

ALMANCA 6

1. D
2. C
3. D
4. B
5. A
6. C
7. B
8. D
9. C
10. A
11. B
12. D
13. B
14. C
15. A
16. B
17. B
18. C
19. A
20. A

MATEMATİK 6

1. A
2. B
3. A
4. D
5. C
6. B
7. B
8. D
9. C
10. A
11. C
12. C
13. D
14. A
15. B
16. D
17. A
18. D
19. B
20. B

SOSYAL BİLGİLER 6

1. C
2. C
3. A
4. D
5. B
6. C
7. B
8. A
9. D
10. C
11. B
12. D
13. A
14. C
15. D
16. A
17. D
18. A
19. B
20. B

İNGİLİZCE 6

1. D
2. C
3. D
4. B
5. A
6. C
7. B
8. D
9. C
10. A
11. B
12. D
13. B
14. C
15. A
16. B
17. B
18. C
19. A
20. A

FRANSIZCA 6

1. D
2. C
3. D
4. B
5. A
6. C
7. B
8. D
9. C
10. A
11. B
12. D
13. B
14. C
15. A
16. B
17. B
18. C
19. A
20. A

CEVAP ANAHTARI**1.OTURUM****TÜRKÇE 8**

1. D
2. A
3. B
4. C
5. D
6. A
7. B
8. B
9. D
10. B
11. A
12. D
13. C
14. A
15. D
16. C
17. C
18. B
19. A
20. C

FEN BİLGİSİ 8

1. C
2. B
3. B
4. D
5. A
6. B
7. A
8. B
9. C
10. D
11. C
12. A
13. B
14. B
15. A
16. D
17. D
18. A
19. C
20. D

DİN KÜL. VE AHL. BİLG. 8

1. A
2. C
3. A
4. D
5. A
6. C
7. A
8. C
9. C
10. B
11. A
12. D
13. B
14. C
15. D
16. C
17. B
18. B
19. C
20. D

ALMANCA 8

1. D
2. C
3. B
4. A
5. D
6. C
7. D
8. B
9. A
10. A
11. C
12. D
13. B
14. A
15. C
16. D
17. B
18. C
19. A
20. B

MATEMATİK 8

1. B
2. B
3. D
4. D
5. A
6. B
7. D
8. A
9. C
10. C
11. D
12. D
13. C
14. A
15. B
16. C
17. A
18. D
19. C
20. C

İNK. TAR. VE ATATÜRK. 8

1. C
2. A
3. C
4. C
5. D
6. A
7. A
8. D
9. B
10. D
11. A
12. D
13. A
14. A
15. C
16. C
17. B
18. D
19. B
20. A

İNGİLİZCE 8

1. D
2. C
3. B
4. A
5. D
6. C
7. D
8. B
9. A
10. A
11. C
12. D
13. B
14. A
15. C
16. D
17. B
18. C
19. A
20. B

FRANSIZCA 8

1. D
2. C
3. B
4. A
5. D
6. C
7. D
8. B
9. A
10. A
11. C
12. D
13. B
14. A
15. C
16. D
17. B
18. C
19. A
20. B