



T.C.  
MİLLÎ EĞİTİM BAKANLIĞI

i-1

**AÇIK İLKÖĞRETİM OKULU**  
**2010-2011 ÖĞRETİM YILI 2. DÖNEM SINAVI**  
**1. OTURUM: 6 MART 2011 Saat:10.00**

**DİKKAT:** 1. Bu oturumda, 13 derse ait test soruları yer almaktadır.

<u>DERS ADI</u>	<u>SAYFA</u>	<u>DERS ADI</u>	<u>SAYFA</u>
TÜRKÇE - 6	2	DİN KÜL. VE AHLAK BİLGİSİ - 7	17
MATEMATİK - 6	4	İNKILAP TARİHİ VE ATATÜRKÇÜLÜK - 8	19
FEN VE TEKNOLOJİ - 6	6	İNGİLİZCE - 8	21
SOSYAL BİLGİLER - 7	10	ALMANCA - 8	23
İNGİLİZCE - 7	12	FRANSIZCA - 8	24
ALMANCA - 7	13	DİN KÜL. VE AHLAK BİLGİSİ - 8	26
FRANSIZCA - 7	15		

2. Adaylar soru kitapçıklarını kontrol ederek baskı hatası olan kitapçığın değiştirilmesi için sınav başlamadan önce salon sorumlularına başvuracaklardır.
3. Sınavda hesap makinesi, cep telefonu ve çağrı cihazı kullanılması yasaktır.

**CEVAP KÂĞIDI İLE İLGİLİ AÇIKLAMALAR**

1. Cevap kâğıdı üzerine yapacağınız işaretlemelerde kurşunkaleminden başka hiçbir kalem kullanmayınız.
2. Verilen cevap kâğıdında yazılı olan bilgilerin size ait olup olmadığını kontrol ediniz. Size ait değilse salon sorumlularına söyleyiniz. Adınıza yazılı cevap kâğıdı bulunamıyorsa veya cevap kâğıdınız kullanılamayacak şekilde bozursa, verilecek olan yedek cevap kâğıdına, kimliğinizle ilgili bilgileri, salon başkanının açıklamalarına göre yazınız.
3. Sınavda tek cevap kâğıdı kullanılacaktır. Cevaplarınızı cevap kâğıdındaki ilgili sütunlara aşağıdaki örnekte olduğu gibi yuvarlağı, dışına taşımadan işaretleyiniz. Yanlış karalamalarınızı düzeltirken yuvarlağın içini temizce siliniz. Cevap kâğıdınızı buruşturmayınız, katlamayınız ve üzerine gereksiz işaret koymayınız.

**ÖRNEK KODLAMA:** ●

**SORU KİTAPÇIĞI İLE İLGİLİ AÇIKLAMA**

1. Her ders için 20 soru bulunmaktadır. Bu oturum için, toplam 150 dakikalık cevaplama süreniz vardır.  
**NOT:** Öğrencinin kaç dersi olursa olsun, isterse bu sürenin tamamını kullanabilir.
2. Her sorunun dört seçeneğı vardır. Dört seçenekten sadece bir tanesi doğru cevaptır. Doğru bulduğunuz seçeneğı, cevap kâğıdında o soru için ayrılan yerde bularak işaretleyiniz.
3. Cevaplarınız puanlanırken her doğru cevaba puan verilecek, yanlış cevaplarınız dikkate alınmayacaktır.
4. Size ayrı bir karalama kâğıdı verilmeyecektir. Soru kitapçığının içindeki boş alanları karalama yapmak için kullanabilirsiniz.
5. Sınavın bitiminde cevap kâğıdınızı ve soru kitapçığınızı salon sorumlularına teslim etmeyi unutmayınız.

**BAŞLAYINIZ DENİLMEDEN SORU KİTAPÇIĞINI AÇMAYINIZ.**

## 1. OTURUM

### TÜRKÇE – 6

1. Aşağıdakilerden hangisi kalınlık-incelik uyumuna uymaz?

- A) Kaşıntı                      B) Ekmek  
C) Çaydanlık                D) İhtiyar

2. Genellikle olağanüstü kişilere, olaylara, se-rüvenlere yer verilen ve ağızdan ağıza, ku-şaktan kuşağa anlatılarak geçen hayal ürünü hikâyelere ne ad verilir?

- A) Masal                      B) Biyografi  
C) Öykü                      D) Söyleşi

3. Aşağıdakilerin hangisinde ünsüz yumuşaması vardır?

- A) Akşamki filmi çok etkileyici buldum.  
B) Bu ağacın meyvesi bol oluyormuş.  
C) Alnında mercimek kadar bir ben vardı.  
D) Televizyon reklamları çocukları eğitiyor.

4. Aşağıdaki cümlelerin hangisinde işaret zamiri kullanılmıştır?

- A) O konuda bilgim yok.  
B) Şu kapıdan çıkıp gittiler.  
C) Şöyle bir araba almalıyım.  
D) Bu, izlediğim en güzel filmi.

5. Bir düşünceyi, bir duyguyu, bir ilkeyi kısa ve kesin bir biçimde anlatan, genellikle kim tarafından söylendiği bilinen özlü sözlerle ne ad verilir?

- A) Özdeyiş                      B) Atasözü  
C) Deyim                      D) Yaşam öyküsü

6. Aşağıdakilerin hangisinde “ağır” kelimesi “yavaş” anlamında kullanılmıştır?

- A) Evin içine girer girmez ağır bir dumanla karşı-laştık.  
B) Dün akşam arkadaşlarla beraber ağır bir yemek yedik.  
C) Adam ağır adımlarla gelip masanın başına geçti.  
D) Ağır taşıtlar kasabanın yoluna çok zarar veri-yordu.

7. “Delikanlı sevdadan iğne ipliğe döndü.” cümlesindeki deyim anlamı aşağıdakilerden hangisidir?

- A) Üzüntülü olmak  
B) Çok zayıflamak  
C) Aşırı heyecanlanmak  
D) Bir işi başarmaya çalışmak

8. Aşağıdaki altı çizili sözcüklerin hangisinde ünlü düşmesi vardır?

- A) Sütçünün sesiyle tatlı rüyamdan uyandım.  
B) Burnundan ameliyat olacağını söyledi.  
C) Paraların yerinde yeller esiyordu.  
D) Annem çok güzel pasta yapar.

9. Aşağıdakilerin hangisinde zıt anlamlı sözcük-ler birlikte verilmiştir?

- A) Şehir - Kent                      B) İnce - Uzun  
C) Sert - Yumuşak                D) Heyecanlı - Heyecansız

10. Aşağıdakilerden hangisi topluluk ismidir?

- A) Sürü      B) Ağaç      C) Çocuk      D) Asker

## 1. OTURUM

11. Aşağıdakilerin hangisinde belirtili isim tamlaması vardır?

- A) Dere kenarında piknik yaptık.
- B) Sıcak bir yaz gününde yola çıktık.
- C) Oyuncağı merdiven boşluğuna düştü.
- D) Çiçekleri pencerenin önüne koydu.

12. Bir hikâyede olayların sonuçlandırıldığı bölüme ne ad verilir?

- A) Serim
- B) Giriş
- C) Çözüm
- D) Düşüm

13. Aşağıdaki cümlelerin hangisinde altı çizili sözcük mecaz anlamda kullanılmıştır?

- A) Yarışmadaki rakipleri çok dişli çıktı.
- B) Çevre temizliğine önem vermeliyiz.
- C) Bugün hava biraz soğuk olacaktı.
- D) Çocuk her gün aynı saatte eve geliyordu.

14. Bayram sabahı annemin evine gitmek üzere kapıdan çıkarken posta kutusuna baktım, boştu. O anda buruk bir duyguya kapıldım. Oysa uzun zamandır boş sayılırdı. Bilgisayar ve internet yaşantımıza girdiğinden bu yana mektupların yerini elektronik postalar almış, evlerimizin kapılarındaki posta kutuları yalnızca faturalara kalmıştı.

Parçaya göre, yazarın “buruk bir duyguya” kapılmasının sebebi nedir?

- A) Çok fazla fatura gelmesi
- B) Annesinin kimse tarafından aranmaması
- C) Elektronik postanın, mektubun yerini alması
- D) Bilgisayar kullanmanın yaygınlaşması

15. Aşağıdaki sözcüklerden hangisi iyelik eki almıştır?

- A) Evimiz
- B) Bahçede
- C) Masaya
- D) Okuldan

16. Aşağıdaki cümlelerin hangisinde “ile” farklı bir görevde kullanılmıştır?

- A) Çalışmayı sevmeyen insanlar ile bu iş yapılmaz.
- B) Büyük annesi ile beraber yaşıyordu.
- C) Yıllardır aradığı, sevgi ile mutluluktı.
- D) Küçük bir çanta ile içeri girdi.

17. Aşağıdaki cümlelerin hangisinde “ki” bağlaç değildir?

- A) Duydum ki unutmuşsun gözlerimin rengini.
- B) Masadaki bardağın şekli çok ilginçti.
- C) Baktım ki bu iş olmuyor, hemen ayrılıyorum.
- D) Gelmez diyordum ki birden kapıdan giriverdi.

18. Aşağıdaki cümlelerin hangisinin sonuna ünlem (!) işareti getirilemez?

- A) Arkadaş, yine kavuşuyor yolumuz
- B) Eyvah geç kaldım
- C) Eh fena değil
- D) Biraz önce gelen kimdi

19. “Kır” sözcüğü aşağıdaki cümlelerin hangisinde diğerleriyle sesteştir?

- A) Ara sıra kır kokuları getiren hafif bir rüzgâr esiyordu.
- B) Kırılarda koşup oynadığımız günleri özledim.
- C) O gün gördüğüm kır saçlı ihtiyarı unutamıyorum.
- D) Yolumuzun üstünde küçük bir kır kahvesi vardı.

20. Bu gök, bu toprak, bu deniz,  
Nerde var bu güneşli iz?  
Hiç bir şey yok senden aziz,  
Sana bin canla kurbanım!

Bu dördlükte kendisine seslenilen aşağıdakilerden hangisidir?

- A) Vatan
- B) Aile
- C) Gurbet
- D) Sevgili

## 1. OTURUM

### MATEMATİK – 6

1. Aşağıdaki doğal sayılardan hangisi 3 ile kalan-sız bölünür?

- A) 433      B) 512      C) 1075      D) 1176

2.  $4, -15, 20, -7, 0$  tam sayılarının küçükten büyüğe doğru sıralanışı aşağıdakilerden hangisinde verilmiştir?

- A)  $-7 < -15 < 4 < 0 < 20$   
B)  $-7 < -15 < 0 < 4 < 20$   
C)  $-15 < 0 < -7 < 4 < 20$   
D)  $-15 < -7 < 0 < 4 < 20$

3. Aynı büyüklükteki pastalar 10 arkadaş arasında eşit olarak paylaşıldığında her birine  $\frac{2}{5}$  pasta düşüyor. Paylaşılan pasta sayısı kaçtır?

- A) 3      B) 4      C) 5      D) 6

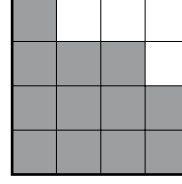
4.  $-4$  sayısının mutlak değeri, aşağıdaki tam sayıların hangisinden küçüktür?

- A)  $-7$       B)  $-3$       C) 2      D) 6

5.  $20,045 - 9,13$  işleminin sonucu kaçtır?

- A) 10,032      B) 10,915  
C) 11,032      D) 11,915

6. Eş parçalara ayrılmış olan aşağıdaki şeklin yüzde kaç boyanmıştır?



- A) 60      B) 75      C) 80      D) 90


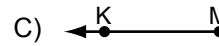
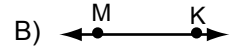

7. Aşağıdaki oranlardan hangisi  $\frac{3}{5}$  oranı ile bir orantı oluşturur?

- A)  $\frac{9}{10}$       B)  $\frac{12}{15}$       C)  $\frac{21}{35}$       D)  $\frac{24}{45}$

8.  $A = \{a, b, c, d\}$  ve  $B = \{b, d, e, f\}$  kümeleri veriliyor.  $A \cup B$  kümesinin alt kümelerinin sayısı kaçtır?

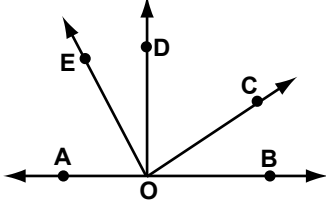
- A) 32      B) 64      C) 128      D) 256

9. Aşağıdakilerden hangisi  $[KM]$  sembolü ile ifade edilir?



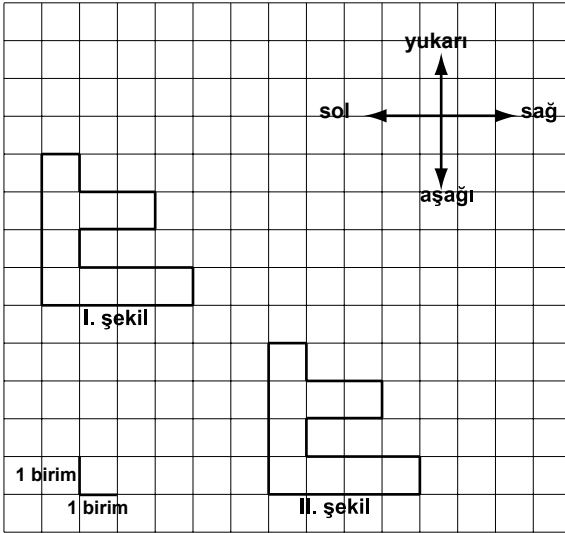
## 1. OTURUM

10. Şekilde  $[OD \perp AB$  ve  $[OE \perp [OC$  dir. Aşağıdakilerden hangisinde verilen açılar tümler açılar değildir?



- A)  $\widehat{COD}$  ile  $\widehat{COB}$       B)  $\widehat{AOE}$  ile  $\widehat{EOD}$   
C)  $\widehat{EOC}$  ile  $\widehat{BOC}$       D)  $\widehat{DOE}$  ile  $\widehat{DOC}$

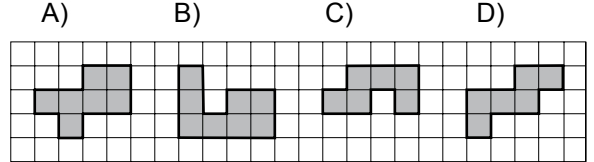
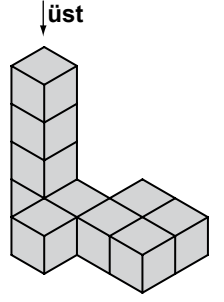
11.



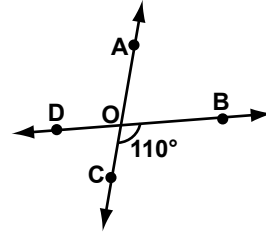
Yukarıda verilen I. şekle aşağıdakilerden hangisindeki ötelemeler yapılırsa II. şekil elde edilir?

- A) 1 birim aşağı, 2 birim sağa  
B) 3 birim yukarı, 2 birim aşağı  
C) 5 birim aşağı, 4 birim sağa  
D) 5 birim aşağı, 6 birim sağa

12. Yandaki yapının üstten görünümü aşağıdakilerden hangisidir?

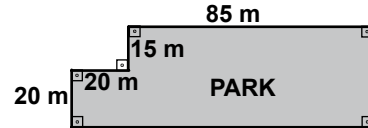


13. Şekilde AC ve BD doğruları O noktasında kesişmektedir.  $s(\widehat{BOC}) = 110^\circ$  olduğuna göre,  $s(\widehat{AOB}) + s(\widehat{DOC})$  kaç derecedir?



- A) 130      B) 140      C) 180      D) 220

14. Aşağıda krokisi verilen parkın çevre uzunluğu kaç metredir?



- A) 105      B) 140      C) 255      D) 280

15. Bir ayrıtının uzunluğu 4 m olan küp şeklindeki bir deponun hacmi kaç metreküptür?

- A) 16      B) 32      C) 64      D) 96

## 1. OTURUM

16. Hacmi  $15000 \text{ cm}^3$  olan bir su deposu kaç litre su alır?

A) 15000 B) 1500  
C) 150 D) 15

17. Bir zar atıldığında, üst yüze gelen sayının 2'den büyük tek sayı olma olasılığı nedir?

A)  $\frac{5}{6}$  B)  $\frac{2}{3}$  C)  $\frac{1}{3}$  D)  $\frac{1}{6}$

18. Aşağıdaki tabloya göre haftanın sıcaklık ortalaması kaç derecedir?

Tablo: Bir İlimizde Ekim Ayının  
2. Haftasına Ait Sıcaklık Ölçümleri

Günler	Sıcaklık (°C)
Pazartesi	17
Salı	12
Çarşamba	19
Perşembe	15
Cuma	11
Cumartesi	11
Pazar	13

A) 11 B) 12 C) 14 D) 15

19. 3, 5, 7, 9, 11, 13, ... sayı örüntüsünün cebirsel ifadesi aşağıdakilerden hangisidir?

A)  $2n + 4$  B)  $n + 2$   
C)  $4n - 1$  D)  $2n + 1$

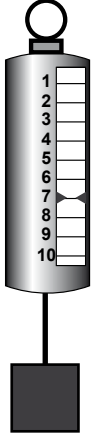
20.  $46 - x = 4x - 4$  denkleminde  $x$  kaçtır?

A) 8 B) 10 C) 12 D) 14

## FEN ve TEKNOLOJİ – 6


1. Kerem bir kutuyu şekildeki dinamometrenin ucuna asarak kaldırıyor.

Dinamometrede her bir bölme 1 N'a duyarlı olduğuna göre, Kerem kutunun ağırlığını kaç N ölçer?



A) 3 B) 5 C) 7 D) 9

2. Ali ve Veli birbirlerini şekildeki gibi çekmektedir. Aralarında dengenin sağlanabilmesi için Zeynep hangi yönde kaç N kuvvet uygulamalıdır?



A) Veli'nin yönünde 100 N  
B) Ali'nin yönünde 100 N  
C) Veli'nin yönünde 20 N  
D) Ali'nin yönünde 20 N

## 1. OTURUM

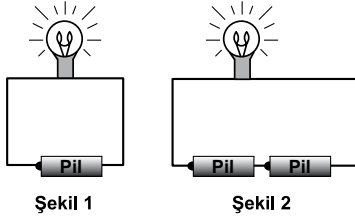
3. Bir öğrenci bazı maddelerin elektrik iletkenliği ve yalıtkanlığını araştırarak aşağıdaki tabloyu hazırlıyor.

MADDE	İLETKEN	YALITKAN
Bakır tel	✓	
Şekerli su	✓	
Tuzlu su	✓	
Plastik çubuk		✓

Buna göre öğrenci, hazırladığı tabloda hangisini yanlış işaretlemiştir?

- A) Bakır tel  
B) Şekerli su  
C) Tuzlu su  
D) Plastik çubuk

4. Şekil 1'deki devrede ampul ışık veriyor. Bu devreye bir pil daha seri bağlandığında şekil 2'deki devre elde ediliyor.



Buna göre, ampulün parlaklığı şekil 1'dekine göre nasıl bir değişim gösterir?

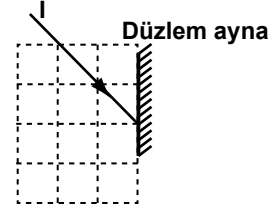
- A) Önce azalır, sonra artar.  
B) Değişmez.  
C) Artar.  
D) Azalır.

5. K ve L maddelerinin ses yalıtımında M ve N maddelerinden daha kullanışlı olduğu görülüyor.

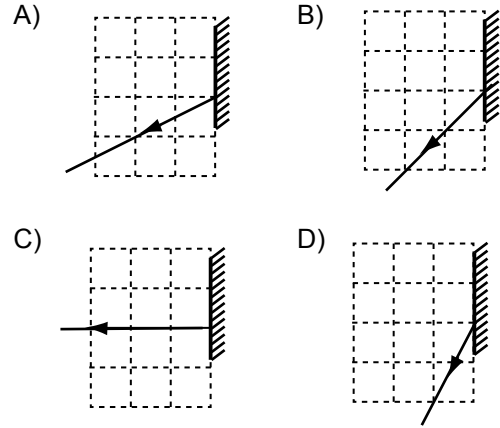
Buna göre, bir tiyatro salonunda yankı oluşumunu önlemek için bu maddelerden hangileri kullanılabilir?

- A) K - L  
B) K - M  
C) M - N  
D) K - L - M - N

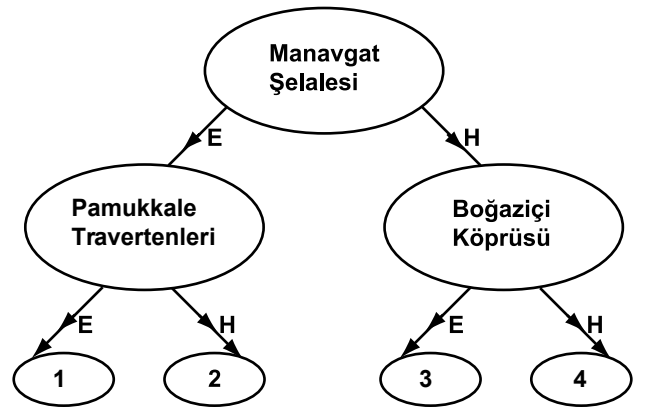
6. I ışık ışını düzlem aynaya şekildeki gibi gönderiliyor.



Buna göre I, düzlem aynadan aşağıdakilerden hangisindeki gibi yansır? (Bölmeler eşit karelerden oluşmaktadır.)



7. Aşağıda doğal anıtlar ile ilgili örnekleri içeren bir etkinlik verilmiştir. Bu örnekler doğal anıt ise E (Evet), değil ise H (Hayır) yönünde ilerleyiniz. Vereceğiniz cevaplarla farklı yoldan dört çıkışa ulaşabilirsiniz.



Buna göre doğru çıkış hangisidir?

- A) 1 B) 2 C) 3 D) 4

## 1. OTURUM

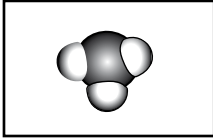
8. Zeynep, sınıfça düzenlenen doğa gezisinde mermer, çakıltası ve süngertaşından oluşan bir kayaç koleksiyonu yapıyor. Buna göre Zeynep'in topladığı taşların türleri aşağıdakilerin hangisinde doğru verilmiştir?

	<u>Mermer</u>	<u>Çakıltası</u>	<u>Süngertaşı</u>
A)	Tortul	Magmatik	Başkalaşım
B)	Tortul	Başkalaşım	Magmatik
C)	Magmatik	Tortul	Başkalaşım
D)	Başkalaşım	Tortul	Magmatik

9. Aşağıdaki olaylardan hangisi gazları oluşturan taneciklerin hareketli yapıda olduğunu gösterir?

- A) Kolonya kokusunun yayılması  
B) Mürekkebin suda dağılması  
C) Şekerin suda çözünmesi  
D) Kâğıdın yanması

10. Aşağıdaki tanecik modeli;



I- Moleküldür.

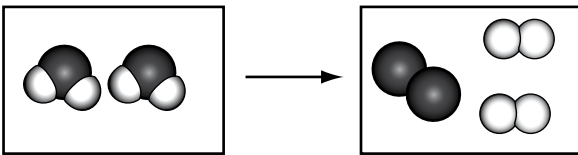
II- Farklı element atomlarından oluşmuştur.

III- 4 çeşit element atomu içerir.

İfadelerinden hangileri doğrudur?

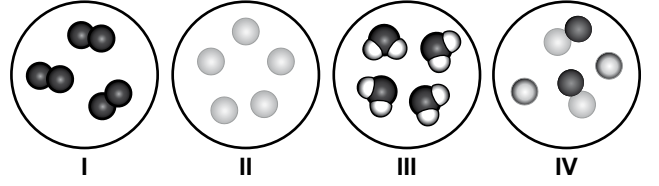
- A) Yalnız III  
B) I - II  
C) II - III  
D) I - II - III

11. Bir maddenin değişimini gösteren şekildeki tanecik modeline göre aşağıdakilerden hangisi doğrudur?



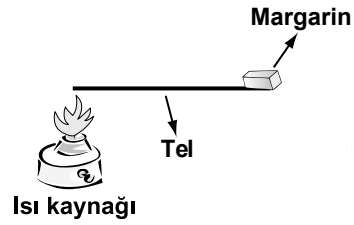
- A) Madde sadece hâl değiştirmiştir.  
B) Madde özelliğini korumuştur.  
C) Madde kimlik değiştirmiştir.  
D) Madde aynı özellikteki parçalara ayrılmıştır.

12. Aşağıda verilen tanecik modellerinden hangileri saf maddeyi temsil eder?



- A) II - IV  
B) I - III  
C) II - III - IV  
D) I - II - III

13. Şekildeki deney düzeneği aşağıdakilerden hangisini açıklamak için tasarlanmıştır?



- A) Katılarda ısının iletim yoluyla yayıldığını  
B) Sıvılarda ısının konveksiyon yoluyla yayıldığını  
C) Gazlarda ısının konveksiyon yoluyla yayıldığını  
D) Gazlarda ısının ışıma yoluyla yayıldığını


14. Bir araştırmacı, kürdan yardımıyla yanak içi epitel hücrelerini alıp mikroskopta inceliyor. Bu hücrede aşağıdakilerden hangisini göremez?

- A) Çekirdek  
B) Hücre zarı  
C) Kloroplast  
D) Mitokondri



## 1. OTURUM

15. Sedat, birbirinin aynı olan iki saksı bitkisinin birini pencere önüne, diğerini ışık almayan tahta dolap içine şekildeki gibi yerleştiriyor. Bir süre gözlem yapan Sedat, bitki gelişiminde hangi faktörün etkisini araştırmaktadır?



- A) Işığın  
B) Suyun  
C) Havanın  
D) Toprağın

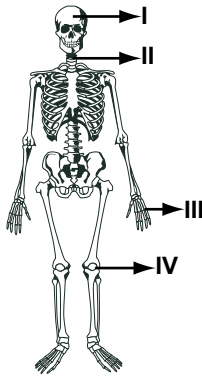
16. • Embriyo, gelişimini ana vücudunda tamamlar.  
• Yavrular, gelişimlerini tamamlayana kadar sütle beslenip, büyütülür.

Yukarıdaki özelliklere sahip canlı hangi gruptandır?

- A) Kuşlar  
B) Balıklar  
C) Memeliler  
D) Sürüngenler

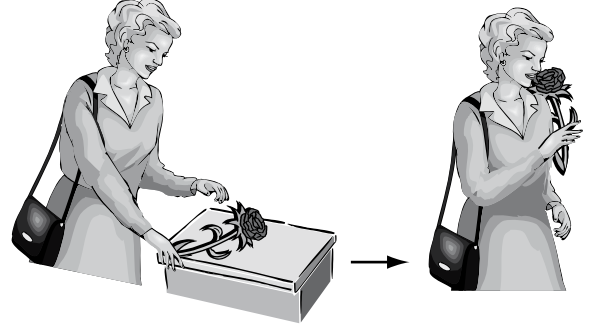
17. • Kemikler birbirine sıkı biçimde bağlanmıştır.  
• Kemikler, aralarında boşluk olmadığı için hareket etmezler.

Yukarıda özellikleri verilen eklemler şekildeki kaç numaralı kısımda bulunur?



- A) I  
B) II  
C) III  
D) IV

18. Şekildeki gibi masadan çiçeği alıp koklayan bir insanın pazı kasında, sırasıyla hangi değişiklikler olur?



- A) Sürekli kasılma  
B) Sürekli gevşeme  
C) Kasılma - Gevşeme  
D) Gevşeme - Kasılma

19. Ayşe, gerektiğinde Murat'a kan verebilir. Ancak, Murat Ayşe'ye kan veremez. Buna göre Ayşe ve Murat'ın kan grupları hangisinde verilenler olabilir?

Ayşe	Murat
A) A	0
B) 0	B
C) AB	A
D) AB	AB

20. Antibiyotikler uygun şekilde kullanılmadığında aşağıdaki durumlardan hangileri görülür?

- I- Sindirim sistemindeki faydalı organizmaların yok olması  
II- Mikropların antibiyotiğe karşı direnç kazanması  
III- Bulaşıcı bazı hastalıkların yayılma göstermesi

- A) Yalnız III  
B) I - II  
C) II - III  
D) I - II - III

## 1. OTURUM

### SOSYAL BİLGİLER – 7

1. Aşağıdakilerden hangisi Atatürk'ün ileşitime önem verdiğini kanıtlar?

- A) Hakimiyet-i Milliye gazetesini çıkarması
- B) Türk milletine büyük güven duyması
- C) Okumayı seven bir lider olması
- D) Millî Mücadele'yi başlatmak için Samsun'a çıkması

2. Aşağıdakilerden hangisi iletişimi olumsuz etkileyen bir beden dili özelliğidir?

- A) Gülümsemek
- B) Göz teması kurmak
- C) Bir kişi konuşurken başka şeylerle uğraşmak
- D) El kol hareketlerini yerli yerinde kullanmak

3. Aşağıdakilerden hangisinin nüfus yoğunluğu ile doğrudan ilişkisi yoktur?

- A) Sanayileşme
- B) Salgın hastalıklar
- C) Eğitim
- D) Ulaşım

4. Eğitim bir ülkenin kalkınması için gerekli olan insan gücünü yetiştirmede en temel kaynaktır.

Buna göre aşağıdakilerden hangisi eğitimin gelişmesinin bir sonucu değildir?

- A) Üretim artar.
- B) Gelir düzeyi yükselir.
- C) Çevreye olan duyarlılık artar.
- D) Plansız kentleşme oluşur.

5. Çocuk Hakları Sözleşmesi'ne göre kaç yaşından küçük çocukların çalıştırılması yasaktır?

- A) 8
- B) 10
- C) 12
- D) 15

6. Yurdumuzda aşağıdaki illerden hangisinde yaz aylarında nüfus artışı hızı fazladır?

- A) Erzurum
- B) Antalya
- C) Eskişehir
- D) Bayburt

7. Anadolu'nun Türk yurdu olduğu Miryokefalon Savaşı ile kesinleşmiştir.

Bu savaşı yöneten Türkiye Selçuklu hükümdarı aşağıdakilerden hangisidir?

- A) II. Kılıçarslan
- B) Artuk Bey
- C) Belek Gazi
- D) Alparslan

8. Karamanoğlu Mehmet Bey'in Selçuklu Dönemi Türk kültür hayatına katkısı, aşağıdakilerden hangisidir?

- A) Konya'yı ele geçirerek başkent yapması
- B) Türkmenleri yerleşik hayata geçirmesi
- C) Türkçeyi resmî dil ilan etmesi
- D) Moğollarla mücadele etmesi

9. "Osmanlılar, Oğuzların Bozok kolunun ..... boyuna mensuptur." cümlesindeki boş yer, aşağıdakilerden hangisi ile tamamlanmalıdır?

- A) Kayı
- B) Avşar
- C) Bayat
- D) Kınık

10. Aşağıdakilerden hangisi Fatih Sultan Mehmet Döneminde fethedilen yerlerden biri değildir?

- A) İstanbul
- B) Trabzon
- C) Kırım
- D) Hicaz

## 1. OTURUM

11. Aşağıdakilerden hangisi Osmanlı eğitim kurumudur?

- |            |              |
|------------|--------------|
| A) Medrese | B) Darüşşifa |
| C) Kümbet  | D) Rasathane |

12. Aşağıdakilerden hangisi üreticilerimizin araç, gereç, gübre, ilaç, tohum ve işçilik gibi giderlerini karşılamak amacıyla uygun koşullarda kredi sağlamaktadır?

- A) Toprak Mahsulleri Ofisi  
B) T.C. Ziraat Bankası  
C) Türkiye Ziraat Donatım Kurumu  
D) Tarım Satış Kooperatifleri

13. Dünya'nın ilk üniversitesi sayılan Nizamiye Medresesi aşağıdaki şehirlerin hangisinde kurulmuştur?

- |                |           |
|----------------|-----------|
| A) Bergama     | B) Ugorit |
| C) İskenderiye | D) Bağdat |

14. Modern tıbbın kurucusu sayılan bilgin, aşağıdakilerden hangisidir?

- |             |            |
|-------------|------------|
| A) Tales    | B) Pisagor |
| C) Hipokrat | D) Sokrat  |

15. Aşağıdakilerden hangisi ile padişah, ülke yönetiminde kanun üstünlüğünü kabul etmiştir?

- |                    |                     |
|--------------------|---------------------|
| A) I. Meşrutiyet   | B) Tanzimat Fermanı |
| C) Sened-i İttifak | D) II. Meşrutiyet   |

16. Demokratik yönetimlerde yasama yetkisi aşağıdakilerden hangisine aittir?

- |                    |                  |
|--------------------|------------------|
| A) Bakanlar Kurulu | B) Cumhurbaşkanı |
| C) TBMM            | D) Danıştay      |

17. Fransız İhtilali ile ortaya çıkan hangi fikir akımı Osmanlı Devleti'nin yıkılmasında etkili olmuştur?

- |                  |             |
|------------------|-------------|
| A) Milliyetçilik | B) Eşitlik  |
| C) Adalet        | D) Özgürlük |

18. Aşağıdakilerden hangisi su kirliliğine neden olmaz?

- |                |                 |
|----------------|-----------------|
| A) Sanayileşme | B) Nüfus artışı |
| C) Kentleşme   | D) Ormanlar     |

19. Sanayi İnkılabı aşağıdaki ülkelerin hangisinde gerçekleşmiştir?

- |            |              |
|------------|--------------|
| A) Fransa  | B) İngiltere |
| C) Almanya | D) Amerika   |

20. Uşi Antlaşması aşağıdaki hangi savaş sonucunda imzalanmıştır?

- A) Trablusgarp Savaşı  
B) I. Dünya Savaşı  
C) I. Balkan Savaşı  
D) II. Balkan Savaşı

## 1. OTURUM

### İNGİLİZCE – 7

1. - 20. sorularda boş bırakılan yerlere uygun gelen kelime ya da ifadeyi işaretleyiniz.

1. The baby is ..... in the bedroom now.

- A) sleeping B) driving  
C) swimming D) cooking

2. He ..... his teeth every morning.

- A) watches B) brushes  
C) plays D) flies

3. I'm ....., he won't come to the meeting.

- A) think B) worry  
C) promise D) afraid

4. He hates smoking. He ..... smokes.

- A) always B) usually  
C) never D) often

5. My friends ..... at the cinema last Sunday.

- A) are B) were  
C) was D) is

6. I ..... my car last month.

- A) to sell B) selling  
C) sell D) sold

7. My mother loves flowers very much. I bought ..... some flowers last week.

- A) her B) him C) it D) me

8. He can do his homework ..... .

- A) herself B) himself  
C) itself D) myself

9. She was at school ..... .

- A) everyday B) at the moment  
C) yesterday D) tomorrow

10. He isn't a careful driver. He drives ..... .

- A) fast B) well  
C) slowly D) quietly

11. Mount Erciyes isn't the ..... mountain in Turkey.

- A) deepest B) fastest  
C) oldest D) highest

12. Gökhan is fat but Mehmet is ..... than him.

- A) thinner B) smaller  
C) fatter D) shorter

13. My father is ..... work.

- A) on B) at C) in D) to

14. Tuğra was ill ..... he couldn't go to school.

- A) before B) after  
C) while D) so

## 1. OTURUM

15. He didn't use to ..... cigarette.

- A) live                                      B) watch
- C) smoke                                  D) work

16. Ali has got brown eyes. Cem has got blue eyes.

Ali's eyes are ..... Cem's.

- A) the same as                              B) different from
- C) as big as                                  D) similar to

17. Look at the clouds! .....

- A) I'm going to be a doctor.
- B) He's going to study maths.
- C) We're going to travel by train.
- D) It's going to rain.

18. In winter, we have to .....

- A) wear thick clothes.
- B) drink cold water.
- C) swim in the pool.
- D) make a snowman.

19. A: .....

B: Yes, I did.

- A) Are you going to drink tea?
- B) Did you play football yesterday?
- C) Do you always wear trousers?
- D) Are you listening to the news?

20. A: .....

B: Once a week.

- A) How often do you go swimming?
- B) How do you feel yourself?
- C) What do you do at weekend?
- D) Why do you always get up late?

### ALMANCA – 7

1 - 15. sorularda boş bırakılan yerlere uygun gelen kelime ya da ifadeyi işaretleyiniz.

1. Ich danke Ihnen ..... .

- A) für / das Geschenk                      B) mich / für
- C) um / zu                                      D) für / mich

2. Ich ..... dir zum Geburtstag.

- A) kann    B) gratuliere
- C) müsse                                        D) bilden

3. Ich ..... ins Kino und ..... Theater gehen.

- A) nach / müsse                                B) ins / will
- C) müsse / nach                                D) will / ins

4. Wir werden Deutsch ..... .

- A) lernst    B) trinke    C) lernen    D) lernt

5. Unser Haus ..... unsere ..... .

- A) Familie / und                                B) und / Familie
- C) uns / und                                      D) will / neu

6. Der Zug ..... um 7.00 Uhr ..... .

- A) kauf / ein                                      B) laden / ein
- C) an / kommt                                   D) kommt / an

7. Hier ist ..... Heft. Hier sind auch ..... Bücher.

- A) das / die                                      B) der / die
- C) den / der                                      D) dem / den

## 1. OTURUM

8. Ich ..... hier Deutsch. Ich ..... in der Klasse.

- A) lernt / seid                      B) lerne / bin  
C) lernen / sind                    D) lernst / bist

9. Rita hat .....

- A) Geboren                          B) Tag  
C) Geburtstag                      D) Storben

10. Die Spülmaschine ist .....

- A) in der Küche                    B) im der Küche  
C) in die Küche                    D) im die Küche

11. Mein ..... und meine ..... sind meine Eltern.

- A) Bruder / Schwester  
B) Mutter / Vater  
C) Tante / Onkel  
D) Vater / Mutter

12. Ich wasche ..... die Hände.

- A) dir                      B) sie                      C) mir                      D) zu

13. A: Wie heißt du?  
B: Ich ..... Peter.

- A) trinke    B) heiße    C) heiß    D) heißen

14. A: Für wen ist dieses Geschenk?  
B: Ich habe ein Geschenk .....

- A) mir / gut                      B) für / zu  
C) im / für                      D) für / dich

15. A: Wann hast du Geburtstag?  
B: Ich habe ..... 8. Januar Geburtstag.

- A) zu                      B) um                      C) am                      D) ins

16. "Ich gehe zum Arzt, weil ich krank bin." cümlesinin Türkçe karşılığı hangisidir?

- A) Doktora giderim hasta olursam.  
B) Hasta olduğum için doktora gidiyorum.  
C) Doktora gideceğim hasta olacağım zaman.  
D) Doktora gitmek istiyorum çünkü hastayım.

17. Hangisinin Türkçe karşılığı yanlıştır?

- A) Der Sommer : Yaz  
B) Der Frühling : İlkbahar  
C) die Jahreszeit : Mevsim  
D) Der Freitag : Çarşamba günü

18. Hangisi diğerlerini kapsar?

- A) Der Herbst                      B) Der September  
C) Der Oktober                    D) Der November


19. Kurallı bir cümle oluşturunuz.

Ich / wünsche / Ihnen / ein glückliches /  
1                      2                      3                      4

neues Jahr  
5

- A) 1 / 3 / 2 / 4 / 5                      B) 1 / 2 / 3 / 4 / 5  
C) 1 / 5 / 3 / 2 / 4                      D) 1 / 4 / 3 / 5 / 2

20. Wie spät ist es?



- A) Es ist fünf vor drei.                      B) Es ist fünf nach drei.  
C) Es ist drei Uhr.                              D) Es ist vier Uhr.

## 1. OTURUM

### FRANSIZCA – 7

1 - 13. sorularda boş bırakılan yerlere uygun gelen kelime ya da ifadeyi işaretleyiniz.

1. Ma tante est ..... ce matin.

- A) arrivée B) arrivera  
C) arrivait D) arriver

2. Voilà Henri, c'est ..... fils.

- A) ma B) mon C) nos D) vos

3. Ayşe et Ali sont ..... à la bibliothèque.

- A) aller B) allé C) allées D) allés

4. .... Sandrine ira au cinéma.

- A) Autrefois B) Hier  
C) Demain D) L'année dernière

5. Jeudi prochain nous ..... à Antalya.

- A) étions B) irons C) avons D) devons

6. Pour faire un gâteau, ..... du sucre.

- A) il boit B) il fait C) il doit D) il faut

7. Le boulanger vend ..... .

- A) du pain B) de la viande  
C) du café D) de l'huile

8. Si vous ..... avec nous, vous ferez un beau voyage.

- A) faites B) venez C) faisons D) avez

9. Chaque matin je bois un verre ..... .

- A) du miel B) de fromage  
C) de café D) des œufs

10. Elle est blanche ..... la neige.

- A) comme B) donc  
C) puisque D) quand

11. A: Pourquoi es-tu resté en retard?  
B: ..... j'ai raté le métro.

- A) Pendant B) Quand  
C) Comment D) Parce que

12. A: Vous mangez du beurre?  
B: Non, Je ..... mange pas.

- A) ni B) n'y C) n'en D) ne

13. A: Vous ..... professeur?  
B: Oui, je suis professeur d'anglais.

- A) savez B) êtes C) dites D) fêtes

## 1. OTURUM

Nom	âge	taille	poids
Alain	29 ans	1,79 m	80 kg
Jean	37 ans	1,82 m	85 kg
Michel	41 ans	1,80 m	79 kg
Paul	33 ans	1,81 m	77 kg

14 - 15. soruları yukarıdaki tabloya göre cevaplayınız.

### 14. Aşağıdakilerden hangisi doğrudur?

- A) Michel est plus jeune que Paul.
- B) Alain est plus gros que Jean.
- C) Paul est plus petit que Alain.
- D) Jean est plus grand que Paul.

### 15. Qui est le plus vieux?

- A) C'est Paul
- B) C'est Alain
- C) C'est Michel
- D) C'est Jean

### 16.



Marseille Paris Genève Bordeaux

Quel temps fera-t-il à Bordeaux.

- A) Il y aura du vent.
- B) Il y aura des nuages.
- C) Il y aura du brouillard.
- D) Il y aura de la neige.

### 17. “Valérie habite avec ses parents.” cümlesinin olumsuz (négative) hâli hangisidir?

- A) Valérie n'aime pas habiter avec ses parents.
- B) Valérie ne veut pas habiter avec ses parents.
- C) Valérie ne doit pas habiter avec ses parents.
- D) Valérie n'habite pas avec ses parents.

### 18. Aşağıdakilerden hangisi emir (impératif) cümlesi değildir?

- A) Tu parles toujours avec cet élève.
- B) Prenez une douche chaque matin.
- C) Dormez huit heures par jour.
- D) Ne faites pas du sport.

### 19. Aşağıdakilerden hangisi meyve adı değildir?

- A) L'orange
- B) Le beurre
- C) Le raisin
- D) La pomme

### 20. Aşağıda verilen (masculin - féminin) eşleştirmelerinden hangisi yanlıştır?

- | Masculin | Féminin |
|----------|---------|
| A) blanc | blanc   |
| B) rouge | rouge   |
| C) fort  | forte   |
| D) long  | longue  |



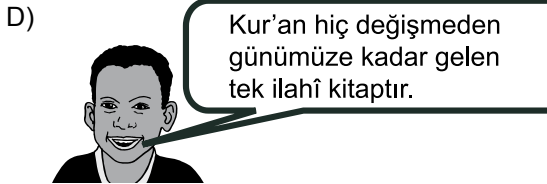
## 1. OTURUM

### DİN KÜLTÜRÜ ve AHLAK BİLGİSİ – 7

1. Kur'an-ı Kerim ile ilgili aşağıdaki bilgilerden hangisi yanlıştır?

- A) Kur'an yalnızca Allah'ın sözlerinden ibaret bir kitaptır.
- B) Kur'an hem Allah'ın hem de Hz. Peygamber'in sözlerini içeren bir kitaptır.
- C) Kur'an mesajları bütün insanlar için geçerli olan bir kitaptır.
- D) Kur'an günümüze kadar hiç değişmeden gelen bir kitaptır.

2. Aşağıdaki öğrencilerden hangisi Kur'an-ı Kerim'in tüm zamanlara ve bütün insanlığa gönderildiğini anlatmaktadır?



3. Kur'an ayetlerinin ilk geldiği ay, yıl ve şehir aşağıdaki seçeneklerden hangisinde doğru olarak verilmiştir?

Gün	Ay	Yıl
A) Ramazan	622	Mekke
B) Muharrem	610	Medine
C) Ramazan	610	Mekke
D) Muharrem	622	Medine

4. Kur'an ayetlerinin toplanmasına ve kitap hâline getirilmesine başkanlık yapan hafız sahabe aşağıdakilerden hangisidir?

- A) Hz. Zeyd Sabit
- B) Hz. Ömer
- C) Hz. Ali
- D) Hz. Ebu Hureyre

5. Kur'an-ı Kerim'i istinsah ederek (çoğaltarak) farklı İslam merkezlerine gönderilmesini sağlayan halife aşağıdakilerden hangisidir?

- A) Hz. Ali
- B) Hz. Osman
- C) Hz. Ömer
- D) Hz. Ebu Bekir

6. Aşağıdakilerden hangisi Kur'an-ı Kerim'in Hz. Muhammed zamanında kitap hâline getirilme-yişinin temel sebebidir?

- A) Ayetlerin hâlen inmeye devam ediyor olması
- B) Müşriklerin Kur'an'ı yok edeceğinden endişe edilmesi
- C) Ayetleri yazmak için gerekli olan maddi imkânın bulunmayışı
- D) Kur'an'ı okuyabilecek düzeyde okur-yazarlığın gelişmemiş olması

7. Kur'an-ı Kerim'in her 20 sayfalık bölümüne ne denir?

- A) Mushaf
- B) Sure
- C) Hatim
- D) Cüz

## 1. OTURUM

8. Şeytanın, Allah'ın emrine karşı gelerek Hz. Adem'e secde etmemesine neden olan kötü davranışı aşağıdakilerden hangisidir?

- A) Kibir B) Riya  
C) Yalan D) İftira

9. Aşağıdakilerden hangisi hac ibadetini yapmakla yükümlü olmanın şartlarından değildir?

- A) Hür olmak  
B) Sağlıklı olmak  
C) Maddi imkâna sahip olmak  
D) Farz ibadetlerini eksiksiz yapmak

10. Kâbe'yi ziyaret ederek yapılan hac ibadeti hangi peygamberle başlayan bir ibadettir?

- A) Hz. Muhammed B) Hz. İbrahim  
C) Hz. Musa D) Hz. İsa

11. Kâbe'nin de içinde bulunduğu mescidin adı aşağıdakilerden hangisidir?

- A) Mescid-i Nebi B) Mescid-i Aksa  
C) Mescid-i Haram D) Mescid-i Kibleteyn

12. “(Allah için kurban olarak kestiğiniz) bu hayvanların ne etleri ne de kanları Allah’a ulaşacaktır. Allah’a ulaşacak olan ancak sizin (ona olan) takvanızdır...” (Hac suresi, 37)

Bu ayette kurban ibadeti ile ilgili olarak vurgulanmak istenen, aşağıdakilerden hangisidir?

- A) Kurbanın eti yoksullara dağıtılmalıdır.  
B) Kurban, toplumsal yönü ağır basan bir ibadettir.  
C) Kurban, İslam dininde büyük önem verilen ibadetlerden biridir.  
D) Kurban, samimi bir kulluk bilinci ile Allah'ın rızası hedeflenerek kesilmelidir.

13. Meleklerin varlığı ile ilgili en önemli bilgi kaynağımız aşağıdakilerden hangisidir?

- A) Akıl B) Vahiy  
C) Bilimsel veriler D) Duyu organları

14. “Kim içinde iyiliğe çağıran bir ses duyarsa bilsin ki o, meleğin sesidir. Hemen ona uysun ve Allah’a şükretsın...” (Tirmizî, Tefsir, 3)

Bu hadis-i şerifin vurgulamak istediği husus aşağıdakilerden hangisidir?

- A) Melekler, yeme-içme gibi ihtiyacı olmayan varlıklardır.  
B) Melekler, Allah’a daima itaat eden varlıklardır.  
C) Melekler, insanların iyiliğini isteyen varlıklardır.  
D) Melekler, nurdan yaratılmış varlıklardır.

15. Aşağıdakilerden hangisi “şeytan” ile ilgili olarak yanlış bir bilgidir?

- A) Allah’a isyan etmiştir.  
B) İnsanların kötülüğünü ister.  
C) Yüce Allah’tan kıyamete kadar yaşama izni almıştır.  
D) İnsanlara zorla kötülük yaptırma gücüne sahiptir.

16. “Ahirette, Allah’ın yeniden dirilen insanları hesaba çekmek üzere bir araya toplaması” şeklinde ifade edilen kavram aşağıdakilerden hangisidir?

- A) Haşir B) Mizan  
C) Ba’s D) Sûr

## 1. OTURUM

17. Aşağıdaki iman esaslarından hangisinin insanda sorumluluk bilincini diğerlerine göre daha çok geliştirdiği söylenebilir?

- A) Ahirete iman
- B) Kitaplara iman
- C) Peygamberlere iman
- D) Hayır ve şerrin Allah'tan geldiğine iman

18. Aşağıdaki dinlerden hangisi ilahî dinlerden değildir?

- A) İslam
- B) Müsevilik
- C) Budistlik
- D) Hristiyanlık

19. Hz. İsa'nın hak dini tebliğ etmeye başladığında ona iman eden ve Hz. İsa'ya daima destek olan az sayıdaki müminlere ne ad verilir?

- A) Musevî
- B) Aziz
- C) Havari
- D) İsevî

20. Vedalar, aşağıdaki dinlerden hangisinin kutsal metinleri arasında yer alır?

- A) Budizm
- B) Hinduizm
- C) Taoizm
- D) Şamanizm

### İNKILAP TARİHİ ve ATATÜRKÇÜLÜK – 8

1. Mustafa Kemal'in 19. Tümen Komutanı olarak görev yaptığı cephe, aşağıdakilerden hangisidir?

- A) Çanakkale
- B) Kanal
- C) Galiçya
- D) Kafkas

2. Aşağıdakilerden hangisi millî varlığa düşman cemiyetlerden biridir?

- A) Kilikyalılar Cemiyeti
- B) Mavri Mira Cemiyeti
- C) Millî Kongre Cemiyeti
- D) İzmir Reddî İlhak Cemiyeti

3. "Millî cemiyetler ..... birleştirilmiştir." cümlesindeki boşluk, aşağıdakilerden hangisi ile tamamlanabilir?

- A) Erzurum Kongresi'nde
- B) Amasya Görüşmeleri ile
- C) TBMM'nin açılması ile
- D) Sivas Kongresi'nde

4. İtilaf Devletleri, Mebuslar Meclisinde Misakı-millî'nin kabul edilmesine nasıl bir tepki göstermişlerdir?

- A) İstanbul'u resmen işgal etmişlerdir.
- B) Batı Trakya'da halkoylaması yapılmasını istemişlerdir.
- C) Mustafa Kemal Paşa ile anlaşma yolları aramışlardır.
- D) Misakımillî ile belirlenen sınırları kabul etmişlerdir.

## 1. OTURUM

5. I- Amasya Genelgesi  
II- Misakımillî'nin kabulü  
III- Sivas Kongresi  
IV- TBMM'nin açılması  
Bu olayların kronolojik sırası aşağıdakilerden hangisinde doğru verilmiştir?
- A) I - II - IV - III                      B) III - I - II - IV  
C) I - III - II - IV                      D) III - IV - I - II
6. "Sevr Barış Antlaşması'nı imzalayanların vatan haini ilan edilmeleri" kararı, aşağıdakilerden hangisinde alınmıştır?
- A) Osmanlı Mebuslar Meclisinde  
B) Türkiye Büyük Millet Meclisinde  
C) Amasya Görüşmelerinde  
D) Sivas Kongresi'nde
7. Şahin Bey hangi ilimizin savunmasında önderlik yapmıştır?
- A) Maraş                                  B) Urfa  
C) Adana                                  D) Antep
8. Tekâlif-i Milliye Emirleri, aşağıdaki savaşlardan hangisinden önce yayımlanmıştır?
- A) Sakarya                                  B) Birinci İnönü  
C) İkinci İnönü                              D) Kütahya - Eskişehir
9. Bağımsız yeni Türk devletinin uluslararası alanda kabul görmesi aşağıdaki antlaşmalardan hangisiyle olmuştur?
- A) Lozan                                      B) Sevr  
C) Mudanya                                  D) Mondros
10. Aşağıdakilerden hangisi 3 Mart 1924'te kabul edilen yeniliklerden değildir?
- A) Şeriye ve Evkaf Vekâleti'nin kaldırılması  
B) Tevhid-i Tedrisat Kanunu'nun kabulü  
C) Halifeliğin kaldırılması  
D) Saltanatın kaldırılması
11. Atatürk'ün çok partili rejimin yerleşmesi için Ali Fethi (Okyar) Bey'den kurmasını istediği parti, aşağıdakilerden hangisidir?
- A) Terakkiperver Cumhuriyet Fırkası  
B) Serbest Cumhuriyet Fırkası  
C) Cumhuriyet Halk Fırkası  
D) Demokrat Parti
12. Aşağıdakilerden hangisi köylüyü ve tarımı destekleme amacına yönelik değildir?
- A) Ziraat okullarının açılması  
B) Aşar vergisinin kaldırılması  
C) Tarım kooperatiflerinin kurulması  
D) Teşvik-i Sanayi Kanunu'nun çıkarılması
13. Türk Tarih Kurumu'nun açılması Atatürk ilke-lerinden hangisiyle doğrudan ilgilidir?
- A) Laiklik                                      B) Devletçilik  
C) Halkçılık                                      D) Milliyetçilik
14. Din ve devlet işlerinin birbirinden ayrılmasını öngören ilke, aşağıdakilerden hangisidir?
- A) Devletçilik                                      B) Milliyetçilik  
C) Laiklik                                      D) Halkçılık
15. "....." Birinci vazifen, Türk istiklalini ve Türk Cumhuriyeti'ni ilelebet, muhafaza ve müdafaa etmektir." cümlesindeki boşluk aşağıdakilerden hangisiyle tamamlanmalıdır?
- A) Ey Türk milleti!                                  B) Öğretmenler!  
C) Vatandaşlar!                                      D) Ey Türk gençliği!

## 1. OTURUM

16. Aşağıdakilerden hangisi Balkan Antantı'nı imzalayan devletlerden biri değildir?

- A) İran B) Türkiye  
C) Yunanistan D) Romanya

17. Türkiye, Milletler Cemiyeti'ne ne zaman üye olmuştur?

- A) 1923 B) 1930 C) 1932 D) 1945

18. İkinci Dünya Savaşı'nın sonlarında ABD'nin, Hiroşima ve Nagasaki kentlerine atom bombası atması üzerine teslim olmak zorunda kalan ülke, aşağıdakilerden hangisidir?

- A) Rusya B) İngiltere  
C) Almanya D) Japonya

19. Aşağıdaki devletlerden hangisi, Karadeniz Ekonomik İşbirliği Örgütüne üye değildir?

- A) Türkiye B) Romanya  
C) İtalya D) Gürcistan

20. Körfez Savaşı'nın başlamasına neden olan olay, aşağıdakilerden hangisidir?

- A) Irak'ın Kuveyt'i işgal etmesi  
B) Güvenlik Konseyi'nin Irak'a yaptırım uygulaması  
C) Irak'ta kimyasal silah bulunması  
D) ABD'nin yayılcı politikası

### İNGİLİZCE – 8

1. - 20. sorularda boş bırakılan yerlere uygun gelen kelime ya da ifadeyi işaretleyiniz.

1. I always drink a ..... in a day.

- A) cup of coffee B) loaf of bread  
C) bar of chocolate D) jar of honey

2. There are 81 ..... in Turkey.

- A) cars B) cities  
C) books D) hospitals

3. Shoes are made of ..... .

- A) concrete B) wood  
C) leather D) iron

4. I ..... my leg while I was playing football.

- A) defeated B) hurt  
C) invited D) landed

5. The blue whale is the ..... animal the world.

- A) weakest B) thinnest  
C) biggest D) shortest

6. They have been in İstanbul since ..... .

- A) three days B) many years  
C) two hours D) last month

7. Food is ..... by the hostesses on the plane.

- A) bought B) taught  
C) served D) painted

## 1. OTURUM

8. He is a good driver, because he drives .....

- A) carefully                      B) fast
- C) carelessly                    D) badly

9. She ..... when she was driving.

- A) saw an accident
- B) has gone to the cinema
- C) had eaten sushi
- D) is drinking cola

10. If you miss the bus, .....

- A) study hard                      B) see the doctor
- C) drive slowly                    D) take a taxi

11. Ceren ..... happy. She won the lottery last night.

- A) tastes                              B) doesn't feel
- C) looks                               D) doesn't smell

12. If your marks are bad, you should .....

- A) call her                            B) study harder
- C) drink more                       D) drive fast

13. .... I prefer walking to running.

- A) I like running very much.
- B) I run in the park.
- C) I don't walk in the park.
- D) I don't like running.

14. You ..... wear a uniform at the weekend. Because you don't go to school.

- A) need to                            B) should
- C) don't have to                    D) must

15. A: Who is your aunt?

B: The woman ..... is sitting next to your uncle is my aunt.

- A) whose                            B) which
- C) whom                             D) who

16. A: ..... class is the most successful one in your school?

B: 1/C

- A) What                               B) Which
- C) Who                                D) Where

17. A: How many ..... are there in a week?

B: There are seven.

- A) years                               B) months
- C) weeks                              D) days

18. A: Are you hungry? Let's have dinner.

B: No, I am not. I have ..... had dinner.

- A) already                            B) never
- C) ever                                D) yet

19. A: If ....., I would eat less.

B: I always want to eat something.

- A) I were you                        B) she heard me
- C) you saw her                      D) we fixed it

20. A: Can you give me that book, please? The shelf is ..... for me to reach.

B: Of course.

- A) too low                            B) high enough
- C) low enough                      D) too high

## 1. OTURUM

### ALMANCA – 8

1 - 15. sorularda boş bırakılan yerlere uygun gelen kelime ya da ifadeyi işaretleyiniz.

1. Ich ..... Fussball ..... .

- A) kann / spielen      B) kannst / spielt  
C) spielst / können      D) spiele / kann

2. Ich gehe ins Kino, ..... ich Zeit habe.

- A) denn      B) wenn      C) um      D) als

3. Ich treibe gern Sport. Ich ..... am liebsten Tennis.

- A) spielte      B) spielst      C) spiele      D) spielen

4. Ich gehe Jeden Sonntag ..... Kino oder ..... Theater.

- A) ins / zu      B) ins / ins  
C) im / in      D) an / aus

5. Das Flugzeug fliegt ..... Frankfurt?

- A) ins      B) im      C) nach      D) aus

6. .... fährst du nach Köln?

- A) Welche      B) Wer  
C) Was      D) Wohin

7. Ankara ist älter ..... Eskişehir.

- A) in      B) im      C) als      D) so

8. Ankara ist ..... schön ..... İstanbul.

- A) so / wie      B) als / wie  
C) wie / als      D) wie / so

9. Manfred kommt ..... Bahnhof.....  
Ankara ..... .

- A) am / in / an      B) an / am / in  
C) in / an / am      D) in / am / an

10. Der Schüler spricht ..... dem Lehrer.

- A) für      B) ins      C) nach      D) mit

11. Die Wohnung ist schön, aber es hat ..... .

- A) Langweilig      B) Vorschlag  
C) Nachteile      D) Spielt

12. A: Wie geht es Ihnen?

B: Danke, ..... .

- A) geht / mir / gut / es  
B) es / geht / mir / gut  
C) es / mir / geht / gut  
D) mir / geht / gut / es

13. A: Können Sie mir den Weg zeigen?

B: Ja, ich kann Ihnen den Weg ..... .

- A) können      B) werden  
C) fährt      D) zeigen

14. A: Warum fährst du nach Köln?

B: Ich fahre nach Köln, ..... ich dort arbeiten muss.


- A) damit      B) denn      C) weil      D) wenn

## 1. OTURUM

15. A: Wo liegt das Buch?  
B: Das Buch liegt ..... dem Tisch.

A) um B) ins C) zum D) auf

16. Wie spät ist es?



A) Es ist drei Uhr.  
B) Es ist vier Uhr.  
C) Es ist fünf vor vier.  
D) Es ist fünf nach vier.

17. Hangi ismin artikeli yanlış verilmiştir?

A) Der Salat B) Das Bier  
C) Das Ei D) Die Tee

18. Kurallı cümle oluşturunuz.

Ich / kann / Nachmittag / Klavier / spielen  
1 2 3 4 5

A) 1 / 2 / 3 / 4 / 5 B) 1 / 3 / 2 / 5 / 4  
C) 1 / 3 / 5 / 4 / 2 D) 1 / 3 / 4 / 2 / 5

19. Hangi kelimenin Türkçe karşılığı yanlış verilmiştir?

A) Die Butter = Sana yağı  
B) Die Suppe = Çorba  
C) Die Milch = Süt  
D) Der Honig = Bal

20. Hangisi diğerlerini kapsar?

A) der Dezember B) der Februar  
C) der Januar D) der Winter

### FRANSIZCA – 8

1-16. sorularda boş bırakılan yere uygun düşen kelime veya ifadeyi işaretleyiniz.

1. ....élève est très actif en classe.

A) Cet B) Ce C) Ces D) C'est

2. .... long fleuve du monde, c'est l'Amazone.

A) La plus B) Le plus  
C) En plus D) De plus

3. Mes amis jouent ..... basket-ball.

A) en B) à C) au D) où

4. La fourmi est ..... travailleuse que l'abeille.

A) meilleur B) aussi  
C) encore D) toujours

5. Elle a perdu ses clés et elle veut prendre ..... de son père.

A) celui B) ceux C) celles D) cela

6. .... je sortirai de l'hôpital.

A) Hier B) Toujours C) Quelle D) Demain

7. Vous pouvez prendre ..... lait.

A) la B) notre C) du D) pas



## 1. OTURUM

8. Il sortait ..... son père est venu chez lui.

- A) quand
- B) hier
- C) parce que
- D) toujours

9. Elle peut prendre ..... thé.

- A) du
- B) pas
- C) qui
- D) des

10. Lundi prochain, nous ..... à la montagne.

- A) allez
- B) irez
- C) vont
- D) irons

11. Hier, il n'est pas allé à l'école ..... il était malade.

- A) mauvais
- B) dans
- C) parce qu'
- D) mais

12. L'école est ..... de la poste.

- A) devant
- B) en face
- C) derrière
- D) avant

13. .... est un animal sauvage.

- A) Le poulet
- B) Le chat
- C) Le mouton
- D) Le renard

14. Pour aller à la pharmacie, .....

- A) il ne faut pas beaucoup manger.
- B) il faut acheter des médicaments.
- C) prenez la première rue à droite.
- D) ne fumez pas trop!

15. A: Quel pays voulez-vous visiter?

B: .....

- A) Je veux visiter le zoo.
- B) Je veux visiter le musée.
- C) Je veux visiter mon ami.
- D) Je veux visiter la France.

16. A: Je vais à l'école.

B: Qu'est-ce que tu dis?

A: ..... vais à l'école.

- A) Tu dis que tu
- B) Je dis que je
- C) Il dit qu'il
- D) Elle dit qu'elle

17. Où est-ce que tu habites?

- A) Elle habite à İstanbul.
- B) Je vis à Ankara.
- C) Nous vivons à Kayseri.
- D) J'habite à Ankara.

18. Où est-ce que tu as mal?

- A) J'ai mal à la tête.
- B) Elle a douze ans.
- C) Elle a mal aux dents.
- D) Il est très bien.

19. Où est-ce que tu vas?

- A) Je vais à l'école.
- B) Tu iras à İstanbul.
- C) Nous allons à l'école.
- D) J'irai à la montagne.

20. "Tu écris à ton père." cümlesinin (passé composé) hâli hangisidir?

- A) Tu avais écrit à ton père.
- B) Tu écriras à ton père.
- C) Tu dois écrit à ton père.
- D) Tu as écrit à ton père.

## 1. OTURUM

### DİN KÜLTÜRÜ ve AHLAK BİLGİSİ – 8

1. Aşağıdakilerden hangisi Peygamberimize karşı kullanılan saygı ifadelerinden biridir?

- A) Celle Celâlüh
- B) Radiyallâhu anhu
- C) Keddesallâhu sırrahu
- D) Sallallâhu aleyhi vesellem

2. Kâbe'nin tamiri esnasında Arap kabileleri arasında anlaşmazlık konusu olan ve Hz. Muhammed'in hakemliğiyle çözüme ulaşan sorun aşağıdakilerden hangisidir?

- A) Kâbe'nin mimari yapısının belirlenmesi
- B) Kâbe'nin kapısını ilk olarak hangi kabilenin açacağı
- C) Haceru'l-Esved (Siyah taş)'in yerine konulması
- D) Kâbe'nin tamirinin hangi kabile tarafından yapılacağı

3. Hz. Muhammed Mute Savaşı'na katılacak ashabına şu öğütlerde bulunmuştu;  
“... Gideceğiniz yerlerde ...rahipler göreceksiniz. Onlara asla dokunmayınız. Kadınlar ile çocuklara şefkatle davranınız. Hurma ağaçlarını ve yeşillikleri kesmeyiniz. Evleri yıkmayınız.”

Hz. Muhammed'in yukarıdaki öğütlerinde aşağıdaki özelliklerden hangisi en az etkili olmuştur?

- A) Hakkı gözetmesi
- B) Cesaretli oluşu
- C) Merhametli oluşu
- D) İnsanlara değer vermesi

4. Aşağıdakilerden hangisi sadaka-i cariye içinde değerlendirilebilir?

- A) Cami, çeşme, okul gibi eserler yaptırmak
- B) Temel hak ve özgürlüklere saygılı olmak
- C) Zekâtını düzenli olarak ödemek
- D) Anne babaya iyi davranmak

5. Hz. Muhammed, Bedir Savaşı'nda Hz. Ebu Bekir'in savaş esirlerinin fidye karşılığında serbest bırakılması önerisini kabul etmiştir.

Aşağıdaki ayetlerden hangisi Hz. Muhammed'in bu davranışına kanıt oluşturmaktadır?

- A) “... (Onlar) işlerini istişare (danışma) ile yürütürler...” (Şûra Suresi, 38)
- B) “Şimdi sen ne ile emrolunuyorsan apaçık bildir. Müşriklerden yüz çevir.” (Hicr, 94)
- C) “Eğer sen kaba, katı kalpli olsaydın, muhakkak ki insanlar çevrenden dağılıp giderlerdi ...” (Al-i İmran, 159)
- D) “Yemin olsun ki sizi biraz korku, açlık mallardan, canlardan ve ürünlerden biraz azaltma ile imtihana tabi tutarız.” (Al-i İmran, 146)

6. “Allahü lâ ilâhe illâ hüvel Hayyül Kayyûm ...”

Yukardaki ayette geçen “Hayy” kelimesinin anlamı aşağıdakilerden hangisidir?

- A) Yaratıklarını bizzat kendisi idare eden, yöneten
- B) Devamlı diri olan, varlığı kesintiye uğramayan
- C) Kendisine hiçbir şey gizli kalmayan
- D) Kendisine uyku ve uyuklama hali gelmeyen

7. Yüce Yaratıcı, varlıkları düzenli ve ölçülü bir şekilde yaratmıştır. Hayat bir denge ve düzen içinde devam etmektedir. Havanın karışımı, suyun oluşumu, yıldızların uzaklık ve yakınlıkları tam bir denge içindedir. Dünyanın eğiklik ölçüsü, yer kabuğunun kalınlık ve inceliği, mevsimlerin birbirini izlemesi hep bir düzen içinde olmaktadır.

Yukardaki paragrafa en uygun başlık aşağıdakilerden hangisidir?

- A) İnsan için ancak çalıştığının karşılığı vardır.
- B) İnsan aklıyla evrendeki düzeni keşfeder.
- C) Akıl dini sorumluluğun ön şartıdır.
- D) Allah her şeyi bir ölçüye göre yaratmıştır.

## 1. OTURUM

8. Yüce Allah'ın önceden takdir ve tayin ettiği olayların yeri ve zamanı geldiğinde, buna uygun şekilde gerçekleşmesine ne denir?

- A) Kader B) Kaza  
C) Tevekkül D) Salih amel

9. Aşağıdaki ifadelerden hangisi İslam'ın kader inancıyla çelişir?

- A) İnsan iradesiyle yaptıklarından sorumludur.  
B) İnsan seçme ve seçtiğini yapabilme gücüne sahiptir.  
C) İnsan, eylemlerini baskı ve zorlama olmaksızın icra edebilir.  
D) Bireyin başarı ve başarısızlığı alın yazısının kaçınılmaz sonucu olarak görülmelidir.

10. Aşağıdaki kavramlardan hangisi, ömrün bittiği, dünya hayatının sona erdiği vakti ifade eder?

- A) Kıyamet B) Ahiret  
C) Ecel D) Mizan

11. Hz. Muhammed'in "*Kıyamet gününde insan dört şeyden sorguya çekilir...*" diye başlayan hadisinde hesabı sorulacaklar arasında aşağıdakilerden hangisi bulunmaz?

- A) Ne kadar ilim sahibi olduğu  
B) Bildiği ile amel edip etmediği  
C) Vücudunu (gençliğini) nerede yıprattığı  
D) Malını nerede kazanıp nerede harcadığı

12. İnsan iradesi hakkında aşağıdaki yargılardan hangisi yanlıştır?

- A) İnsanda seçme hürriyetinin bulunması, onun yaptığı işlerden sorumlu tutulmasını gerektirir.  
B) İnsanın başarısında kuvvetli bir irade ve çaba vardır.  
C) Kaderinde ne yazılıysa o olur. İnsanın çabalaması boşunadır.  
D) İnsan aklıyla doğru ve yanlış birbirinden ayırt etme özgürlüğüne sahiptir.

13. "*Şüphesiz biz ona (insana) doğru yolu gösterdik. İster şükreder ister nankör olur.*" (İnsan suresi, 3)

Ayette aşağıdakilerden hangisi konu edilmiştir?

- A) İnsanın yaptığı işlerden sorumlu bir varlık olduğu  
B) İnsanın Allaha karşı nankörlük etmemesi gerektiği  
C) İnsanın özgür iradesini doğru yolda kullanması gerektiği  
D) İnsanın dünya hayatına düşkün olduğu

14. Aşağıdakilerden hangisi "Allah'tan başka ilâh yoktur. Hz. Muhammed onun elçisidir." cümlesini ifade eder?

- A) Teşrik tekberi B) Tevekkül  
C) Salavat D) Kelime-i Tevhid

15. Aşağıdakilerden hangisi dinimizin ön gördüğü sabır anlayışına uygun bir davranış değildir?

- A) Hastalık ve musibetleri bir imtihan olarak değerlendirip Allah'a isyan etmeden, mücadele etmek  
B) Düşman saldırıları karşısında karşılık vermeden sonucu beklemek  
C) Deprem, sel baskını, yangın gibi doğal afetler karşısında yılmadan mücadele etmek  
D) İlim tahsilinde karşısına çıkan güçlüklerle mücadele etmek

## 1. OTURUM

16. Aşağıdakilerden hangisi İslam dininin tevek-kül anlayışına uygun bir davranıştır?

- A) Hasta olan kişinin “Kader ne ise o olur” düşün-cesiyle tedavisini yaptırmaması
- B) Öğrencinin dersine “Kaderimde ne varsa o olur” diyerek çalışmadan girmesi
- C) Kişinin “Allah’a güvenip dayandım. Allah bana yeter” diyerek günlük işine başlaması
- D) Kişinin “Allah ne takdir etti ise o olur” diyerek çalışmayı terk etmesi

17. Din ve din anlayışı arasındaki farkı en açık ifade eden cümle aşağıdakilerden hangisidir?

- A) Din bütün insanlığa gönderilmiş olup evrensel-dir. Din anlayışı ise kişilerin görüş ve anlayış-larına bağlı olup yaşadığı dönemle sınırlıdır.
- B) Dinin kurallarını anlama ve yorumlama çabala-rı farklı din anlayışlarını ortaya çıkarmıştır.
- C) İnsanlar, içinde bulundukları ortama, bilgi birikimine göre İslam’ı farklı şekilde anlamaya çalışmalıdır.
- D) Dinin, sosyal, coğrafi ve toplumsal nedenlerle farklı anlaşılması söz konusu olabilir.

18. Mezhepler hakkında aşağıda verilen bilgiler-den hangisi yanlıştır?

- A) Bütün dinlerde mezhep oluşumları mevcuttur.
- B) Mezhepler görüş ve anlayış farkından ortaya çıkmıştır.
- C) Mezhepler Hz. Muhammed zamanında oluş-muştur.
- D) Din anlayışında yorum farklılıklarının olması kaçınılmazdır.

19. İnsanlar duygu, düşünce ve karakter olarak birbirinden farklı özellikler taşımaktadırlar. Bu nedenle bir ayet veya hadisin değişik kişiler tarafından yorumlanması da farklı olabilmek-tedir.

Bu paragrafın din anlayışındaki farklılıkların ne-denlerinden hangisini açıkladığı söylenebilir?

- A) İnsanın yapısı
- B) Siyaset
- C) Ortam ve kültür
- D) Ekonomi

20. Aşağıdakilerden hangisi İslam’ın itikadî (inanç) mezheplerinden biridir?

- A) Hanefilik
- B) Maturîdilik
- C) Mâlikilik
- D) Kâdirîlik

TEST BİTTİ.

CEVAPLARINIZI KONTROL EDİNİZ.

Soracağınız bir şey var mı? Varsa, şimdi sorunuz; sınav başladıktan sonra sorularınıza cevap verilmeyecektir. Hazır mısınız? Sınav, okulun bütün salonlarında aynı anda başlayacağı için başlama zilini beraberce bekleyelim. Hepinize başarılar dileriz.  
**(Salon başkanı başlama ve bitiş saatini tahtaya yazacaktır.)**

**Bu kitapçığın her hakkı saklıdır. Hangi amaçla olursa olsun, kitapçığın tamamının veya bir kısmının Millî Eğitim Bakanlığı Eğitim Teknolojileri Genel Müdürlüğünün yazılı izni olmadan kopya edilmesi, fotoğraflarının çekilmesi, bilgisayar ortamına alınması, herhangi bir yolla çoğaltılması, yayımlanması veya başka bir amaçla kullanılması yasaktır. Bu yasağa uymayanlar, doğabilecek cezai sorumluluğu ve kitapçığın hazırlanmasındaki mali külfeti peşinen kabullenmiş sayılır.**

**6 MART 2011 TARİHİNDE YAPILAN**  
**AÇIK İLKÖĞRETİM OKULU 2010-2011 ÖĞRETİM YILI 2. DÖNEM SINAVI**  
**1. OTURUM CEVAP ANAHTARI**

**TÜRKÇE – 6**

1. D
2. A
3. B
4. D
5. A
6. C
7. B
8. B
9. C
10. A
11. D
12. C
13. A
14. C
15. A
16. C
17. B
18. D
19. C
20. A

**FEN ve TEKNOLOJİ – 6**

1. C
2. D
3. B
4. C
5. A
6. B
7. A
8. D
9. A
10. B
11. C
12. D
13. A
14. C
15. A
16. C
17. A
18. D
19. B
20. D

**İNGİLİZCE – 7**

1. A
2. B
3. D
4. C
5. B
6. D
7. A
8. B
9. C
10. A
11. D
12. C
13. B
14. D
15. C
16. B
17. D
18. A
19. B
20. A

**FRANSIZCA – 7**

1. A
2. B
3. D
4. C
5. B
6. D
7. A
8. B
9. C
10. A
11. D
12. C
13. B
14. D
15. C
16. B
17. D
18. A
19. B
20. A

**MATEMATİK – 6**

1. D
2. D
3. B
4. D
5. B
6. B
7. C
8. B
9. D
10. C
11. D
12. A
13. B
14. D
15. C
16. D
17. C
18. C
19. D
20. B

**SOSYAL BİLGİLER – 7**

1. A
2. C
3. B
4. D
5. D
6. B
7. A
8. C
9. A
10. D
11. A
12. B
13. D
14. C
15. B
16. C
17. A
18. D
19. B
20. A

**ALMANCA – 7**

1. A
2. B
3. D
4. C
5. B
6. D
7. A
8. B
9. C
10. A
11. D
12. C
13. B
14. D
15. C
16. B
17. D
18. A
19. B
20. A

**DİN KÜLTÜRÜ ve AHLAK  
BİLGİSİ – 7**

1. B
2. A
3. C
4. A
5. B
6. A
7. D
8. A
9. D
10. B
11. C
12. D
13. B
14. C
15. D
16. A
17. A
18. C
19. C
20. B

**6 MART 2011 TARİHİNDE YAPILAN  
AÇIK İLKÖĞRETİM OKULU 2010-2011 ÖĞRETİM YILI 2. DÖNEM SINAVI  
1. OTURUM CEVAP ANAHTARI**

**İNKILAP TARİHİ ve  
ATATÜRKÇÜLÜK – 8**

1. A
2. B
3. D
4. A
5. C
6. B
7. D
8. A
9. A
10. D
11. B
12. D
13. D
14. C
15. D
16. A
17. C
18. D
19. C
20. A

**İNGİLİZCE – 8**

1. A
2. B
3. C
4. B
5. C
6. D
7. C
8. A
9. A
10. D
11. C
12. B
13. D
14. C
15. D
16. B
17. D
18. A
19. A
20. D

**ALMANCA – 8**

1. A
2. B
3. C
4. B
5. C
6. D
7. C
8. A
9. A
10. D
11. C
12. B
13. D
14. C
15. D
16. B
17. D
18. A
19. A
20. D

**FRANSIZCA – 8**

1. A
2. B
3. C
4. B
5. C
6. D
7. C
8. A
9. A
10. D
11. C
12. B
13. D
14. C
15. D
16. B
17. D
18. A
19. A
20. D

**DİN KÜLTÜRÜ ve AHLAK  
BİLGİSİ – 8**

1. D
2. C
3. B
4. A
5. A
6. B
7. D
8. B
9. D
10. C
11. A
12. C
13. D
14. D
15. B
16. C
17. A
18. C
19. A
20. B