

|         |                               |   |                          |
|---------|-------------------------------|---|--------------------------|
| Adı:    | KAYMAKAM ÖZGÜR AZER KURAK İÖÖ |   | 8.SINIF<br>27 NİSAN 2012 |
| Soyadı: | 2011-2012 EĞİTİM ÖĞRETİM YILI |   |                          |
| Sınıf:  | No:                           | TC İNKILAP TARİHİ VE ATATÜRKÇÜLÜK II. DÖNEM II. SINAV |                          |

1-) 23 Nisan 1920’de TBMM’nin açılmasıyla, Ankara’da halk egemenliğine dayalı yeni bir devlet kurulmuştur.

Bu durumu hukuki yönden kanıtlayan olay aşağıdakilerden hangisidir?

- A) Mustafa Kemal’in meclis başkanı seçilmesi
- B) 1921 Anayasası’nın kabulü
- C) Sovyetlerle Moskova Antlaşması’nın yapılması
- D) Londra Konferansı’nın toplanması

2-) Amasya Genelgesi’nde;

Anadolu’nun en güvenli yeri olan Sivas’ta ulusal bir kongrenin acele olarak toplanması kararlaştırılmış, bunun için tüm illerin her sancağından ulusal güvenini kazanmış üç delegenin acele yola çıkarılması gereklidir kararı alınmıştır.

Bu karar özellikle aşağıdakilerden hangisinin uygulanmaya çalışıldığının göstergesidir?

- A) Kurtuluş Savaşı’nın tüm halka mal edilmeye çalışılmak istenmesinin
- B) Mustafa Kemal’in önderliğinin tüm yurda kabul ettirilmek istenmesinin
- C) Osmanlı hükümetine karşı halkın örgütlenmesinin
- D) Yeni bir hükümet kurma çalışmalarının

3-) Milli Mücadele Dönemi’nde bir İngiliz tarihçinin

“Yenilmiş, parçalanmış bir ulusun, bu harabe içinden ayağa kalkması ve dünyanın en büyük ulusları ile tam eşit şartlar içinde karşı karşıya gelmesi ve Büyük Savaş’ın bu galiplerini dize getirerek her istediğini kabul ettirmesi şaşılacak şeydir.” diyerek tanımladığı anlaşma aşağıdakilerden hangisidir?

- A) Gümrü
- B) Lozan
- C) Ankara
- D) Moskova

4-) Temmuz 1921’de düzenlenmesi planlanan Eğitim Kongresi’nin, Kütahya-Eskişehir Savaşlarının şiddetlenmesi nedeniyle ertelenmesi önerisi üzerine Mustafa Kemal “Hayır ertelemeyin... Cahillikle, ilkellikle savaş, düşmanla savaştan daha az önemli değildir.” demiştir.

Mustafa Kemal’in savaş ortamında söylediği bu sözün, aşağıdakilerden hangisine bir kanıt olduğu savunulabilir?

- A) Mustafa Kemal’in bir komutan olarak başarısına
- B) Ülkedeki etkinliklerin tamamen savaşların durumuna göre belirlendiğine
- C) Mustafa Kemal’in eğitim ve öğretime verdiği önemin büyüklüğüne
- D) Uluslararası ilişkilerde barışın ilke edinildiğinde

- 5-) \* Misak-ı Milli’nin kabul edilmesi
- \* TBMM’nin açılması

Milli Mücadele Dönemi’nde meydana gelen yukarıdaki gelişmeler ;

- ulusal egemenlik
- tam bağımsızlık
- ▲ vatanın bütünlüğü

gibi sembollerle gösterilen esaslardan hangisiyle ilişkilendirilebilir?

- A) Yalnız ■
- B) ■ ve ●
- C) ■ ve ▲
- D) ■, ● ve ▲

6-) Mustafa Kemal “Milli bilincin ayakta kalabilmesi ve uyanık tutulması için dil ve tarih uğrunda çalışmaya mecburuz.” demiştir.

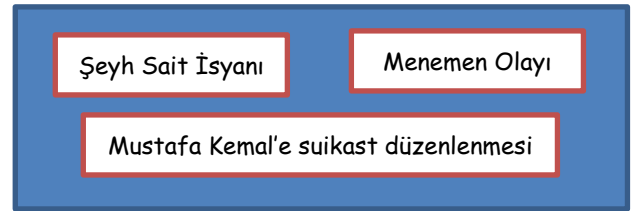
Mustafa Kemal’in bu sözü doğrultusunda aşağıdakilerden hangisinin yapıldığı söylenemez?

- A) Dil ve Tarih-Coğrafya Fakültesinin açılması
- B) Yeni Türk alfabesinin oluşturulması
- C) Türk Tarih Kurumu’nun açılması
- D) Medeni Kanun’un kabul edilmesi

7-) Kurtuluş Savaşı’nın, zamanla Batı Cephesi’nde bir Türk-Yunan Savaşı’na dönüşmesinde aşağıdakilerden hangisinin etkili olduğu savunulabilir?

- A) Diğer cephelerin kapatılmasıyla tüm kuvvetlerin Batı’da toplanmasının
- B) İşgal bölgelerinde azınlıkların yeni devlet kurmak istemesinin
- C) Rusya’nın Osmanlı Devleti’ne yönelik gizli paylaşım anlaşmalarını açıklamasının
- D) Yunanistan’la Birinci Dünya Savaşı’nda fiilen mücadele edilmemesinin

8-)



Öğretmenin sınıf panosuna astığı bu gelişmelerin ortak özelliği, aşağıdakilerden hangisidir?

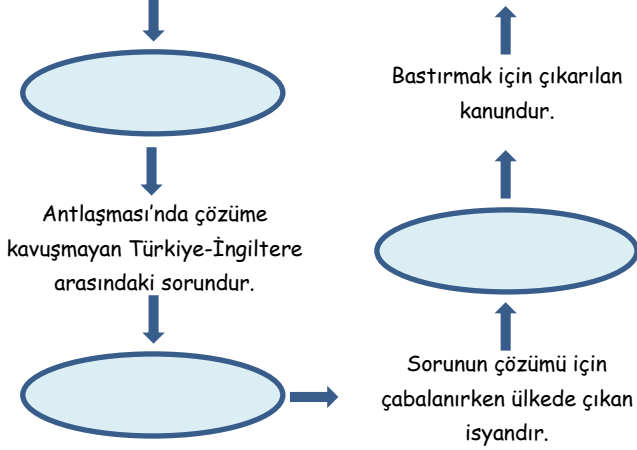
- A) Laik, demokratik cumhuriyet yönetimini hedef almış olaylardır.
- B) Demokratik sisteme ara verilmesine neden olmuşlardır.
- C) Mustafa Kemal’in şahsına yönelik girişimlerdir.
- D) Çok partili hayata geçişi kesintiye uğratmışlardır.

9-) Demokrasi anlayışına ters düşmesine rağmen Cumhuriyetin ilanından sonra bir süre daha tek parti yönetimi sürdürülmüştür.

Aşağıdakilerden hangisi, bu uygulamanın haklılığına kanıt gösterilemez?

- A) Farklı görüşlerin tartışılmasını savunma
- B) Halkın belli bir siyasi olgunluğa ulaşmasını bekleme
- C) Rejim karşıtlarının örgütlenmesini önleme
- D) İnkılapların yerleşmesini sağlamal

10-) Türk Devleti'nin bağımsızlığını kanıtlayan anlaşmanın imzalandığı yerdir.



Yukarıdaki kavram haritasının boş bırakılan yerlerine aşağıdaki seçeneklerden hangisi yazılmalıdır?

- A) Ankara – Hatay – Menemen – Takrir-i Sükun
- B) Lozan – Musul – Şeyh Sait – Hıyanet-i Vatanıye
- C) Sevr – Hatay – Şeyh Sait – Tevhidi Tedrisat
- D) Lozan – Musul – Şeyh Sait - Takrir-i Sükun

11-) Soyadı Kanunu çıkarılmadan önce kişilerin birbirleriyle ve devletle olan ilişkilerinde çeşitli zorluklar yaşıyorlardı. Bunları önlemek için kişilerin adlarının yanına doğum yerleri ekleniyor ya da kişiler baba adlarıyla birlikte anılıyordu. Bu zorlukları önlemenin bir başka yolu ise kişilerin dış görünüşlerine bakılarak çeşitli takma adlar vermektir. Fakat bütün bunlar ortaya çıkan güçlükleri önleyemiyordu. Bütün bu güçlükler 21 Haziran 1934'te kabul edilen Soyadı Kanunu'nun kabulü ile sona ermiştir.

Buna göre, Soyadı Kanunu'nun kabul edilmesindeki temel etkenin aşağıdakilerden hangisi olduğu söylenebilir?

- A) İnsanlara takma adların takılmasını engellemek
- B) İnsanların birbirleriyle ve devletle olan ilişkilerini düzene sokmak
- C) Batılı devletlerle ilişkileri düzenlemek
- D) İnsanların toplumsal hayatta karşılaştıkları zorlukları önlemek

12-) Mustafa Kemal, Birinci Dünya Savaşı sırasında Enver Paşa'nın Arap alfabesiyle okumayı kolaylaştırmak için harflerin bitişik değil ayrı yazılması yolundaki girişimini "Harp zamanı, harf zamanı değildir. Harp olurken harfle oynamak olur mu?" diye eleştirmiştir.

Yaptığı inkılaplar düşünülerek Mustafa Kemal'in bu eleştirisinden aşağıdaki yargılardan hangisine ulaşılabilir?

- A) İnkılapları gerçekleştirirken kişi veya gruplara ayrıcalık tanımamak gerekir.
- B) İnkılaplarda uygun zamanın seçilmesi önemlidir.
- C) İnkılaplar yapılırken uygulamaların yakından takibi sonucu olumlu etkiler.
- D) İnkılaplarda sonuç alabilmek için eski ile yeniye birlikte sürdürmek gerekir.

13-) Meclis hükümeti sistemi - Kabine sistemi

Verilen sistemlerin uygulanmaya başladığı gelişmeler aşağıdaki seçeneklerin hangisinde doğru verilmiştir?

- A) Saltanatın kaldırılması - Cumhuriyetin ilanı
- B) Cumhuriyetin ilanı - Çok partili hayata geçiş
- C) TBMM'nin açılması - Cumhuriyetin ilanı
- D) Halifeliğin kaldırılması - TBMM'nin açılması

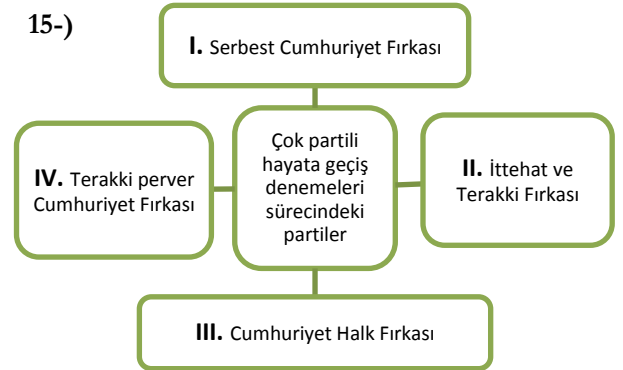
14-) Cumhuriyet döneminde görülen;

- 1925 yılında köylüden alınan aşar vergisinin kaldırılması
- Tarım Kredi Kooperatiflerinin kurulması
- Çiftçiye kredi veren Ziraat Bankasının şube sayısının ve sermayesinin artırılması
- Teşvik-i Sanayi Kanunu'nun kabul edilmesi
- Atatürk Orman Çiftliğinin kurulması

gelişmelerden kaç tanesinin tarımsal üretimi desteklemek ve arttırmak amacına yönelik olduğu söylenebilir?

- A) 2
- B) 3
- C) 4
- D) 5

15-)



Verilen şemada numaralanmış ifadelerden hangisi kullanılamaz?

- A) I
- B) II
- C) III
- D) IV



Verilen diyagram aşağıdakilerden hangisi ile tamamlanamaz?

- A) Teşkilat-ı Esasiye Kanunu'nun ilan edilmesi
- B) Erkan-ı Harbiye Vekâletinin kaldırılması
- C) Şer'îye ve Evkaf Vekâletinin kaldırılması
- D) Tevhid-i Tedrisat Kanunu'nun kabul edilmesi

17-)

İşgalci devletlerin etkisi altındaki bir saltanat hükümetinin Lozan Barış Görüşmelerinde söz sahibi olması doğru değildir. 1921 Anayasası'na göre, İstanbul Hükümeti'nin Türk milletini temsil etme yetkisi de yoktur. Ortaya çıkan bu durum karşısında, saltanatın kaldırılması zamanı gelmiştir.



Buna göre Mustafa Kemal'in saltanatı kapatma gerekçeleri arasında;

- I. İstanbul Hükümeti'nin, mevcut anayasal sisteme göre temsil hakkının bulunmaması
  - II. İstanbul Hükümeti'nin İtikâf Devletleri'nin etkisinde olduğu için bağımsız karar alamaması
  - III. Lozan'da Türk milletini temsil etme yetkisinin iki hükümete birden verilmek istenmesi
- durumlarından hangisi etkili olmuştur?**

- A) Yalnız I
- B) I ve II
- C) II ve III
- D) I-II-III

18-) Mondros Ateşkes Antlaşması'nda yer alan;

- İtilaf devletleri, kömür, mazot, yağ gibi maddeleri Anadolu'dan karşılayacak
- Osmanlı ordusu terhis edilecek, silahlar ve donanma İtilaf Devletleri'nin denetimine verilecek
- Doğudaki altı ilde karışıklık çıkarsa İtilaf Devletleri buraları işgal edecek.

**hükümlerine göre Osmanlı Devleti ile ilgili;**

1. Savunma gücünün yok edilmek istendiği
2. Doğu Anadolu'da Ermeni Devleti'nin kurulması amaçlandığı
3. İtilaf Devletleri Anadolu'yu sömürgeleştirmeye çalıştığı

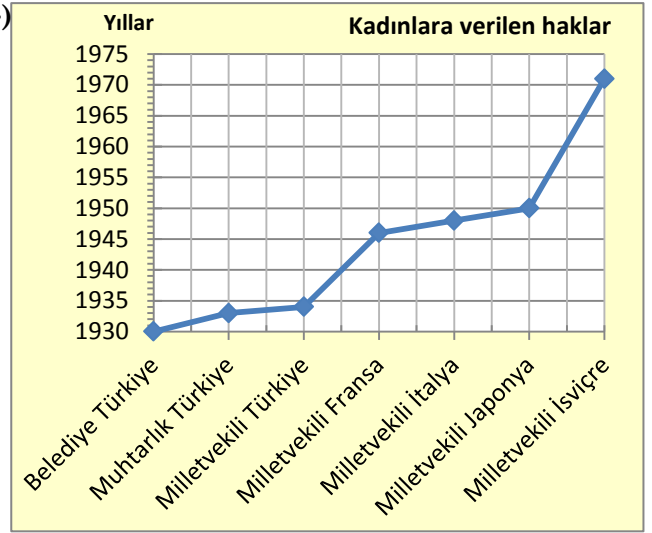
**yargılardan hangisine ulaşılır?**

- A) Yalnız 1
- B) 1 ve 3
- C) Yalnız 2
- D) 1, 2 ve 3

19-) Cumhuriyet döneminde Millet Mekteplerinin açılmasıyla, aşağıdakilerden hangisinin amaçlandığı söylenebilir?

- A) Okuma yazmayı yaygınlaştırma
- B) Okuma yazmayı kolaylaştırma
- C) Türkiye'yi yabancı dillerin etkisinden kurtarma
- D) Eğitim ve öğretimde birlik sağlama

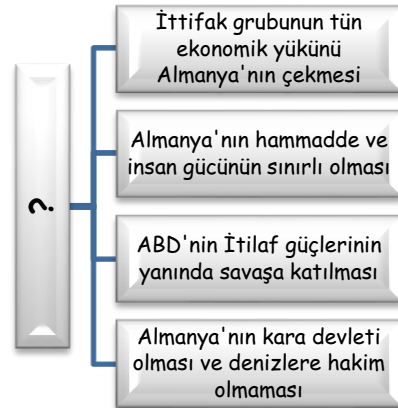
20-)



Bu grafiğe göre aşağıdakilerden hangisine ulaşılamaz?

- A) Türk kadınının siyasal haklarına aşamalar halinde kazandığına
- B) Türk kadınının bazı dünya kadınlarından önce haklar elde ettiğine
- C) Bazı batılı ülkelerin kadın vatandaşlarının ancak 20. Yüzyılda siyasal haklarını elde ettiğine
- D) Türk kadınlarının 1934 yılında evlenme, boşanma, miras vb. hukuki haklarını elde ettiğine

21-)



Bu bilgilere göre, “?” ile gösterilen yere aşağıdakilerden hangisi getirilmelidir?

- A) I. Dünya Savaşı'nın genel sonuçları
- B) ABD'nin savaşa katılmasının sonuçları
- C) Osmanlı'nın İttifak Bloku'na katılmasının nedenleri
- D) İttifak Devletleri'nin I. Dünya Savaşı'nı kaybetme nedenleri

22-) Misak-ı Milli sınırları içinde TBMM Hükümetinden başka bir hükümet olamayacağının aşağıdakilerden hangisine temel gerekçe olduğu söylenebilir?

- A) Şeriye ve Evkaf Vekaletinin kaldırılmasına
- B) Tevhid-i Tedrisat Kanunu'nun çıkarılmasına
- C) Saltanatın kaldırılmasına
- D) Halifeliğin kaldırılmasına

23-)

Bastığın yerleri "toprak" diyerek geçme, tanı:  
Düşün altındaki binlerce kefensiz yatanı.  
Sen şehit oğlusun, incitme, yazıktır atanı.  
Verme, dünyaları alsan da, bu cennet vatanı.

Mehmet Akif Ersoy'un bu dizelerinden aşağıdakilerden hangisine ulaşamaz?

- A) Toprağı, vatana dönüştüren şehitlerin unutulmaması gerektiğine
- B) Cennet gibi, bereketli, verimli toprağın başka topraklarla değiştirilmesine
- C) Vatanı uğruna ölen atalarımızın değerlerini önemsememiz gerektiğine
- D) Vatanın dünyadaki her şeyden daha değerli olduğuna

24-)

|  |
|--|
| 1. Misak-ı Milli - Osmanlı Mebusan Meclisi   |
| 2. Tekalif-i Milliye - Maarif Kongresi       |
| 3. Misak-ı İktisadi - İzmir İktisat Kongresi |

Verilen kararlar ve bunların alındığı yerler ile ilgili eşleştirmelerden hangisi/hangileri doğrudur?

- A) Yalnız I
- B) 1 ve 3
- C) Yalnız 2
- D) 1, 2 ve 3

25-)

Hattı müdafaa yoktur, sathı müdafaa vardır. O satıh, bütün vatandır.



Mustafa Kemal'in Sakarya Meydan Savaşı'nda verdiği bu emir, aşağıdaki yargılardan hangisiyle açıklanabilir?

- A) Savunma hattında müdafaayı bırakıp başka bölgeye geçilmelidir.
- B) Düşmana karşı konularak işgal altındaki bölgeler kurtarılmalıdır.
- C) Bütün birlikler, vatanın her bölgesini savunacaktır.
- D) Vakit kaybetmeden düşmana karşı taarruza geçilmelidir.

Ayşen COŞKUN

Ebru METİN

Sosyal Bilgiler Öğretmeni

**T.C İNKILÂP TARİHİ VE ATATÜRKÇÜLÜK**  
**(27 NİSAN 2012)**

BU DOSYADAKİ SORULARIN DOĞRU YANITLARI AŞAĞIDADIR.SORU SAYISI: 25

| <b>Doğru Yanıtlar Tablosu</b> |          | <b>Sorunun İçeriği ve Özü</b>                     |
|-------------------------------|----------|---|
| <b>1-</b>                     | <b>B</b> | <b>TEŞKİLATI ESASİ</b>                            |
| <b>2-</b>                     | <b>A</b> | <b>AMASYA GENELGESİ</b>                           |
| <b>3-</b>                     | <b>B</b> | <b>LOZAN BARIŞ ANTLAŞMASI</b>                     |
| <b>4-</b>                     | <b>C</b> | <b>MAARİF KONGRESİ</b>                            |
| <b>5-</b>                     | <b>D</b> | <b>TBMM VE MİSAKİ MİLLİ</b>                       |
| <b>6-</b>                     | <b>D</b> | <b>MİLLİ KÜLTÜRÜMÜZ AYDINLANIYOR</b>              |
| <b>7-</b>                     | <b>A</b> | <b>BATI CEPHESİ</b>                               |
| <b>8-</b>                     | <b>A</b> | <b>CUMHURİYETE KARŞI OLAYLAR</b>                  |
| <b>9-</b>                     | <b>A</b> | <b>ÇOK PARTİLİ REJİM DENEMELERİ</b>               |
| <b>10-</b>                    | <b>D</b> | <b>LOZAN B.A,MUSUL MESELESİ, TAKRİR-İ SÜKÛN</b>   |
| <b>11-</b>                    | <b>B</b> | <b>SOYADI KANUNU</b>                              |
| <b>12-</b>                    | <b>B</b> | <b>HARF İNKILABI</b>                              |
| <b>13-</b>                    | <b>C</b> | <b>TBMM’NİN AÇILMASI-CUMHURİYETİN İLANI</b>       |
| <b>14-</b>                    | <b>C</b> | <b>MODERN TARIMIN DOĞUŞU</b>                      |
| <b>15-</b>                    | <b>B</b> | <b>ÇOK PARTİLİ HAYATA GEÇİŞ VE PARTİLER</b>       |
| <b>16-</b>                    | <b>A</b> | <b>3 MART 1924 GELİŞMELERİ</b>                    |
| <b>17-</b>                    | <b>D</b> | <b>SALTANATIN KALDIRILMASI</b>                    |
| <b>18-</b>                    | <b>D</b> | <b>MONDROS ATEŞKES ANTLAŞMASI</b>                 |
| <b>19-</b>                    | <b>A</b> | <b>MİLLET MEKTEPLERİ</b>                          |
| <b>20-</b>                    | <b>D</b> | <b>TÜRK KADINININ SİYASAL HAKLARINI KAZANMASI</b> |
| <b>21-</b>                    | <b>D</b> | <b>BİRİNCİ DÜNYA SAVAŞI</b>                       |
| <b>22-</b>                    | <b>C</b> | <b>SALTANATIN KALDIRILMASI</b>                    |
| <b>23-</b>                    | <b>B</b> | <b>İSTİKLAL MARŞI</b>                             |
| <b>24-</b>                    | <b>B</b> | <b>MİSAKİ MİLLİ-MİSAKİ İKTİSADİ</b>               |
| <b>25-</b>                    | <b>C</b> | <b>SAKARYA MEYDAN SAVAŞI</b>                      |

**SORULARI HAZIRLAYANLAR.**

| <b>SIRA</b> | <b>ADI SOYADI</b>   |
|-------------|---------------------|
| <b>1</b>    | <b>Ayşen Coşkun</b> |
| <b>2</b>    | <b>Ebru Metin</b>   |