
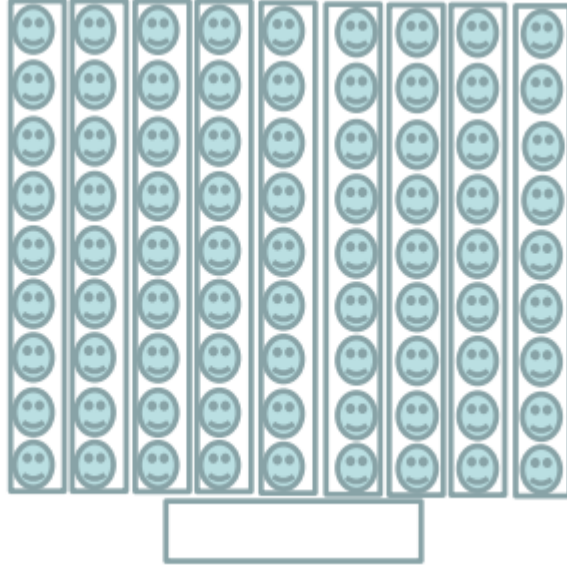


Şekillere ait çarpma işlemlerini yapınız.

Aşağıdaki çarpma işlemlerini yanıtlayınız.

1)  $6 \times 4 = \dots\dots\dots$

$8 \times 9 = \dots\dots\dots$

$4 \times 4 = \dots\dots\dots$

2)  $7 \times 9 = \dots\dots\dots$

$6 \times 9 = \dots\dots\dots$

$8 \times 9 = \dots\dots\dots$

3)  $4 \times 9 = \dots\dots\dots$

$9 \times 9 = \dots\dots\dots$

$3 \times 4 = \dots\dots\dots$

4)  $7 \times 2 = \dots\dots\dots$

$6 \times 4 = \dots\dots\dots$

$3 \times 9 = \dots\dots\dots$

5)  $5 \times 9 = \dots\dots\dots$

$5 \times 5 = \dots\dots\dots$

$9 \times 9 = \dots\dots\dots$

6)  $3 \times 9 = \dots\dots\dots$

$6 \times 9 = \dots\dots\dots$

$6 \times 8 = \dots\dots\dots$

7)  $8 \times 3 = \dots\dots\dots$

$7 \times 9 = \dots\dots\dots$

$2 \times 8 = \dots\dots\dots$

8)  $9 \times 9 = \dots\dots\dots$

$6 \times 8 = \dots\dots\dots$

$4 \times 5 = \dots\dots\dots$

9)  $4 \times 4 = \dots\dots\dots$

$8 \times 8 = \dots\dots\dots$

$3 \times 6 = \dots\dots\dots$

10)  $7 \times 3 = \dots\dots\dots$

$6 \times 6 = \dots\dots\dots$

$3 \times 3 = \dots\dots\dots$

11)  $10 \times 10 = \dots\dots\dots$

$4 \times 20 = \dots\dots\dots$

$3 \times 50 = \dots\dots\dots$

12)  $9 \times 100 = \dots\dots\dots$

$5 \times 20 = \dots\dots\dots$

$2 \times 40 = \dots\dots\dots$

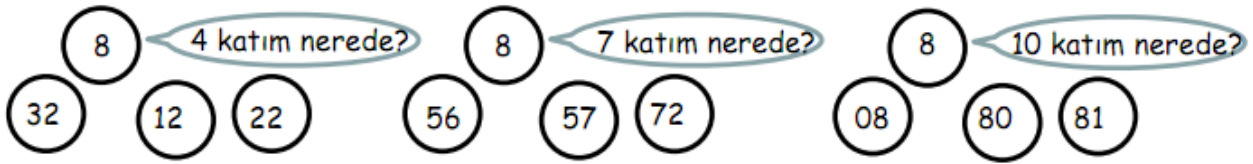
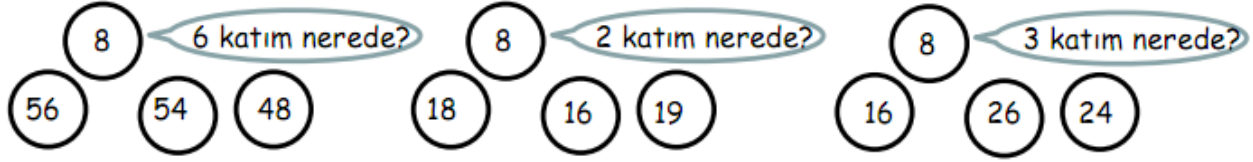
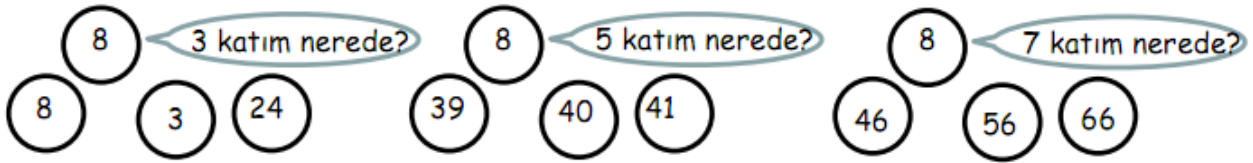
Aşağıdaki problemleri zihinden yaparak yazınız.

A- 7'nin 5 katının 5 fazlası kaçtır? .....

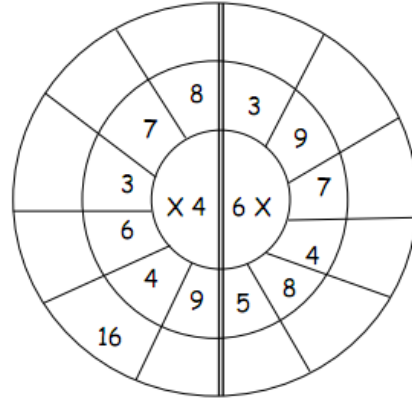
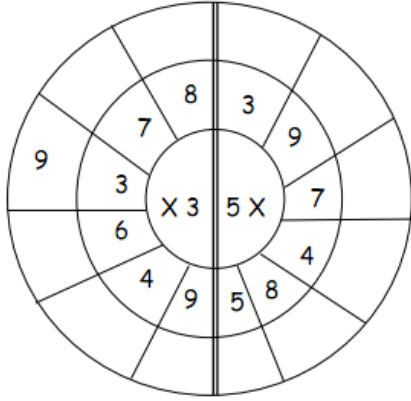
B- Hangi sayının kendisiyle çarpımı 64 eder? .....

C- 6'nın 6 katının 6 eksiği kaçtır? .....

Soruların yanıtlarını bilyelerin üzerinde bulup sarıya boyayınız.



Çarpma çarkındaki işlemleri yapınız.



Aşağıdaki soruları yanıtlayınız.

Bir yıl ..... gündür. Bir ay ..... gündür. Yedi hafta ..... gündür.  
Bir yıl ..... aydır. Bir hafta ..... gündür. İki gün ..... saattir.  
Bir yıl ..... haftadır. Bir gün ..... saattir. İki yıl .....gündür.  
Üç yıl ..... aydır. Beş yıl ..... aydır. İki yıl ..... haftadır.

Rakamları birbirinden farklı üç basamaklı en küçük çift doğal sayının 5 katının 258 fazlasının 197 eksiği kaçır?

Bir çiftlikte 26 tane tavuk, 15 tane horoz, 11 tane inek, 5 tane at, 20 tane de koyun vardır. Çiftlikteki hayvanların ayaklarının toplamı kaçır?