



Adı Soyadı :

Numarası :

NAZİRE MERZECİ İLKOKULU 3/B SINIFI ŞEKİL GRAFİĞİ TEST ÇALIŞMASI

3/A sınıfı mevcut grafiği

Kız öğrenciler	   	
Erkek öğrenciler	  	

Her şekil 5 öğrenciyi göstermektedir.

(1, 2 ve 3. Soruları grafiğe göre yanıtlayınız.

1) 3/A sınıfında kaç tane erkek öğrenci vardır?




A) 3 B) 15 C) 20

2) 3/A sınıfında kaç tane kız öğrenci vardır?

A) 20 B) 4 C) 15

3) 3/A sınıfında toplam kaç öğrenci vardır?

A) 40 B) 7 C) 35

 Roman	### ### ### ### ### ### ### ### ###
 Öykü	### ### ### ### ###
 Şiir	### ### ### ### ### ### ### ### ### ### ### /

4)

Sınıf kitaplığımızda kaç tane roman vardır?

A) 48 B) 10 C) 33

5) Sınıf kitaplığında kaç tane öykü kitabı vardır?

A) 25 B) 20 C) 24

6)

Çiçek Çeşitleri	Çiçek Sayısı
Gül	#### ###
Papatya	#### ### ###
Menekşe	####
Leylak	#### ###

Bahçemizdeki çiçeklerin çetelesi yukarıdaki gibidir.

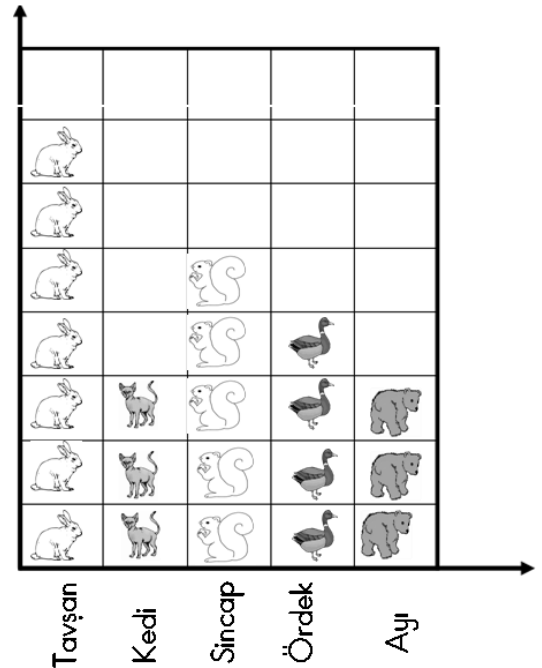
Aşağıdaki 2 soruyu buna göre cevaplayınız.

Aşağıdaki sıklık tablolarından hangisi yukarıdaki çetele tablosuna aittir?

A)	Çiçek Çeşidi	Çiçek Sayısı	B)	Çiçek Çeşidi	Çiçek Sayısı	C)	Çiçek Çeşidi	Çiçek Sayısı
	Gül	13		Gül	23		Gül	13
	Papatya	20		Papatya	40		Papatya	20
	Menekşe	13		Menekşe	13		Menekşe	8
	Leylak	23		Leylak	23		Leylak	13

7) Bahçede bulunan çiçeklerin toplamı kaçtır?

A) 54 B) 58 C) 60



Yandaki grafikte her şekil 5 nesneyi göstermektedir.

Aşağıdaki soruları grafiğe göre cevaplayınız.

8) Yukarıdaki grafikte kaç tane tavşan vardır?

A) 25 B) 35 C) 20

9) Yukarıdaki grafikte kaç tane ördek vardır?

A) 25 B) 35 C) 20

10) Yukarıdaki grafikte hangi hayvanların sayıları birbirine eşittir?

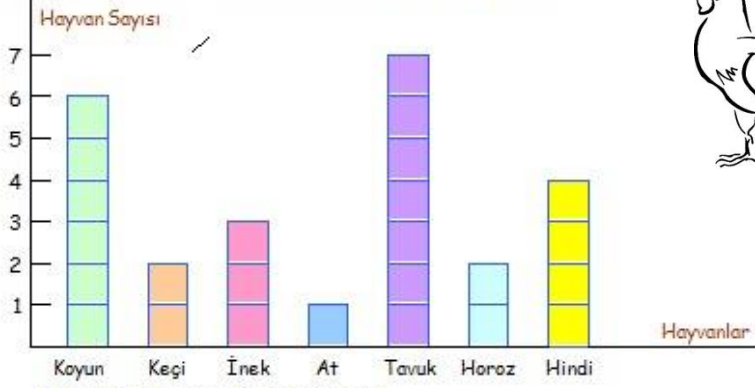
A) Ördek ile sincap B) Ayı ile tavşan C) Kedi ile ayı

11) Tavşanlar ayılardan kaç tane fazladır?

A) 20 B) 10 C) 4

Şekil Grafiği - 1

Bir çiftlikteki hayvanlar aşağıdaki grafikte gösterilmiştir. Grafiği inceleyiniz. Grafikteki verilere göre soruları yanıtlayınız.



Her şekil 2 hayvanı göstermektedir.

Yukarıdaki Şekil Grafiğine göre çiftlikte bulunan hayvanların sayılarını aşağıdaki tabloya yazınız.

Koyun	Keçi	İnek	At	Tavuk	Horoz	Hindi

1. Çiftlikteki en az hayvan hangisidir?

2. Çiftlikteki en çok hayvan hangisidir?

3. Hangi hayvanların sayısı çift sayıdır?

4. Hangi hayvanların sayısı tek sayıdır?

5. Hangi hayvanların sayısı eşittir?

6. Çiftlikteki en çok hayvan ile en az hayvan sayısının toplamı kaçtır?

7. Tavukların sayısı horozlardan kaç fazladır.

8. Horozların sayısı koyunlardan kaç eksiktir?

9. Hangi hayvanların sayıları eşittir?

10. Çiftlikteki tavuklarla horozların toplam kaç ayağı vardır?

Yukarıdaki şekil grafiğine göre çiftlikte bulunan hayvanlarla ilgili Çetele Tablosunu doldurunuz.

koyun	keçi	inek	at	tavuk	horoz	hindi

Yukarıdaki şekil grafiğine göre aşağıdakilerden hangisi söylenemez. Seçtiklerinizi (X) işareti ile işaretleyiniz.

- () 1. Koyun sayısı ineklerden azdır.
- () 2. İneklerin sayısı keçilerin iki katıdır.
- () 3. Atlar çiftlikteki sayısı en az olan hayvanlardır.
- () 4. Hindilerin sayısı tavukların yarısı kadardır.
- () 5. Sayısı keçi sayısının üç katı olan hayvan koyundur.