

Simetri Kavratma Çalışmaları

doğrusu


simetri

simetri doğrusu

Yukarıda verilen kelimeleri noktalı yerlere yazınız.

- ❖ İki eş parçaya ayrılabilen şekil ve nesnelere denir.
- ❖ Şekil ve nesneleri iki eş parçaya bölen doğruya denir.
- ❖ Simetrik şekil ve nesnelerin birden fazla simetri olabilir.

Görsellerden iki eş parçaya ayrılanları boyayınız.



Aşağıda verilen harflerden hangileri simetrik olarak bölünebilir. Bölünüz.

A

B

F

H

J

bölünebilir

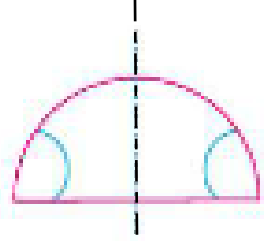
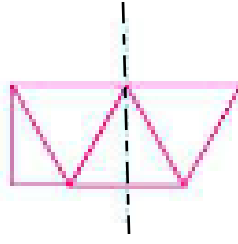
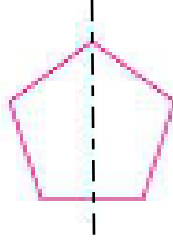
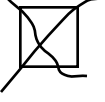
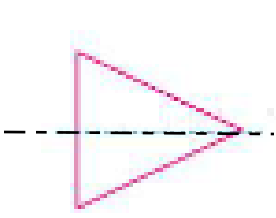
.....

.....

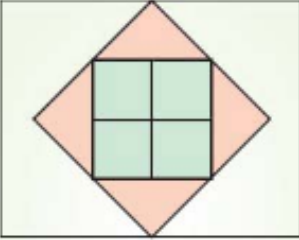
.....

.....

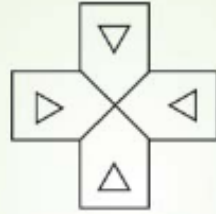
Verilen çizgilere göre hangileri simetriktir.Kutucuklarını işaretleyin.



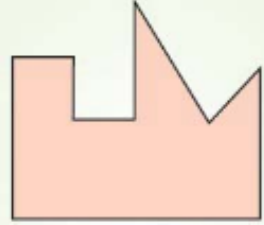
Verilen şekillerin simetrik olup olmadığını işaretleyiniz.



☐ Simetriktir.
☐ Simetrik değildir.

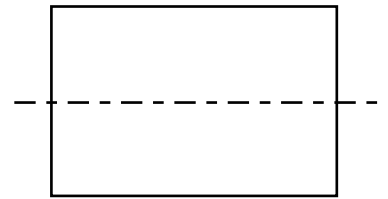
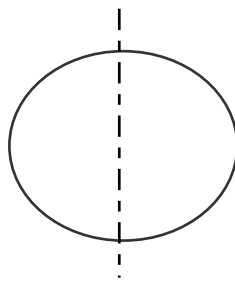
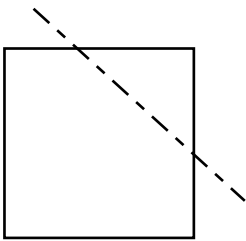


☐ Simetriktir.
☐ Simetrik değildir.




☐ Simetriktir.
☐ Simetrik değildir.

Verilen çizgilere göre simetrik olanları işaretleyiniz.




Yanda verilen şeklin simetrisi aşağıdakilerden hangisidir?

a.



b.



c.

