

NAZİRE MERZECİ İLKOKULU 2/B SINIFI MATEMATİK DERSİ

GENEL TEKRAR TEST ÇALIŞMASI - 1 -

1. 5 birlik, 7 onluktan oluşan sayı aşağıdakilerden hangisidir?
a. 12 b. 57 c. 75

2. Onlar basamağında 3 olan en büyük sayı kaçtır?
a. 39 b. 35 c. 30

3. Tabloda gösterilen sayı aşağıdakilerden hangisidir?

Onluk	Birlik

a. 14 b. 40 c. 41

4. Abaküsteki sayı en yakın onluğa yuvarlanıyor. Aşağıdaki sayılardan hangisi elde edilir?



a. 40 b. 50 c. 60

5. 16'dan başlayıp dörder sayan Meryem, 5. saymada hangi sayıyı söyler?
a. 28 b. 30 c. 32

6. 3'ten başlayıp üçer ritmik sayma yapan biri aşağıdaki sayılardan hangisini söyemez?
a. 14 b. 21 c. 24

7. Nalan, 32'den başlayıp geriye doğru dörder sayma yaptı. 3. saymada hangi sayıyı söyler?
a. 40
b. 24
c. 20

8. $72 - 77 - 82 - 87 - ?$

Yukarıdaki örüntü hangi sayı ile devam etmelidir?

a. 92
b. 95
c. 97

- 9.

Yukarıdaki örüntüde "?" yerine hangi sayı gelmelidir?

a. 12
b. 13
c. 15

- 10.

Yukarıdaki örüntü iki adım devam ettirilirse en son hangi sayı söylenir?

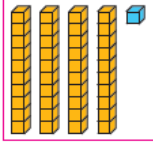
a. 37
b. 45
c. 53

11. $59 - 64 - ? - 71$

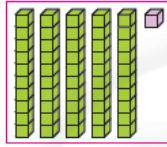
Yukarıdaki sayılar küçükten büyüğe doğru sıralanmıştır. ? yerine aşağıdaki sayılardan hangisi yazılamaz?

a. 63
b. 68
c. 70

12.



★



●

Yukarıda birinci modeldeki sayı ★, ikinci modeldeki sayı ise ● ile gösteriliyor. Buna göre aşağıdakilerden hangisi doğrudur?

- a. ★, ● sayısından büyüktür.
- b. ● sayısı, ★ sayısından 1 onluk fazladır.
- c. ● ile ★ eşittir.

13. Kutudaki sayıların büyükten küçüğe doğru sıralanışı hangisinde verilmiştir?

46, 29, 60
73, 18

- a. 18, 29, 46, 60, 73
- b. 73, 46, 29, 18, 60
- c. 73, 60, 46, 29, 18

14. Kutudaki kibrit sayısı en yakın onluğa yuvarlanarak yazılmıştır. Buna göre kutudaki kibrit sayısı aşağıdakilerden hangisi olamaz?



Yaklaşık 40 çöptür.

- a. 36
- b. 41
- c. 48

15. 69 sayısı en yakın onluğa yuvarlanıyor. Elde edilen sayı kaç desteden oluşmuştur?

- a. 6
- b. 7
- c. 9

16. Sena, bir sayıdan başlayıp 3 kez beşer saydı. En son 17 sayısını söylediğine göre saymaya hangi sayıdan başlamıştır?

- a. 1
- b. 2
- c. 7

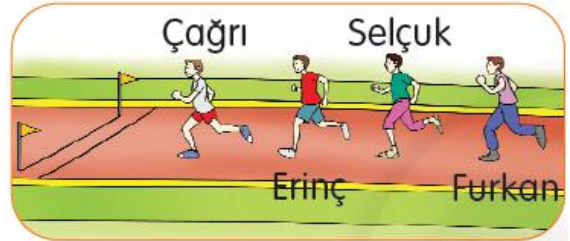
17. Aşağıdaki sayılardan hangisi en yakın onluğa yuvarlandığında 90 sayısı elde edilmez?

- a. 95
- b. 92
- c. 88

18. Yandaki sayılar yukarıdan aşağıya büyükten küçüğe doğru yazılmıştır. Buna göre "?" yerine aşağıdaki sayılardan hangisi yazılabilir?



- a. 70
- b. 61
- c. 58



19 ve 20. soruları yukarıdaki resme göre yanıtlayınız.

19. Yarışta Selçuk, Erinç'i ve Çağrı'yı geçerse Erinç kaçinci olur?

- a. 4.
- b. 3.
- c. 2.

20. Bitişe önce Erinç ulaşıyor. Çağrı ise Erinç'ten sonra yarışı bitiriyor. Selçuk, Furkan'dan sonra yarışı bitirdiğine göre Selçuk kaçinci olmuştur?

- a. 4.
- b. 3.
- c. 2.