

Motoru Gaz, Çocuęu Laf Boęar

Diyelim ki direksiyona geçtiniz, anahtarı çevirdiniz, motor çalışmadı. Defalarca denemezsiniz; ya kaputu açıp bakarsınız ya da bir tamirci çağırırsınız; yani arabanın çalışmama nedenini araştırırsınız.

Eęer üst üste anahtarı çevirip gaza basarsanız, motoru gaz boęar. Bence benzer şekilde sürekli “Çalış oęlum, çalış kızım” veya “Dik dur evladım” dedięimiz zaman da çocuklarımızı laf boęuyor.


Bir reçete hastalıęınızın belirtilerini gidermiyorsa, o reçeteyi yıllarca kullanmazsınız, deęiştirirsiniz; en azından deęiştirmeye çalışırsınız. Ancak çevremizdeki insanlara, çocuklarımıza, iş yerlerinde elemanlarımıza, pratikte işe yaramayan emirlerimizi, önerilerimizi, hayat boyunca tekrarlayıp duruyoruz. Acaba onlarla yüz göz mü oluyoruz?

Bir söz vardır, “Aç bırakma hırsız olur, çok söyleme yüzsüz olur” denir. Acaba, özellikle evlerimizdeki çocuklarımıza sürekli “Onu yap, bunu yapma” diyerek onlarla yüz göz mü oluyoruz? Acaba, giderek işitilmeyen tren seslerine mi benziyoruz?

Yazım Üstün DÖKMEN'den alıntıdır ama gerçekten çok doğru. Çocuklarımızı boęmadan, şu an tatilde olduklarını unutmadan, eksiklerini belirleyip doğru reçetelerle yaklaşıarak iyi bir tatil geçirmeniz dileęiyle.

1-Bir ağılda 36 koyun, 23 kuzu vardır. Kuzuların sayısından 5 eksik keçi olduğuna göre ağıldaki hayvanların sayısı kaçtır ?

Çözüm:



2-Sinema salonu 94 koltukludur. Film için 78 bilet satıldığına göre kaç koltuk boş kalmıştır?

Çözüm:



Eksik Toplananı Bulunuz

7	3	2	4	16
10	2			18
1			9	24
1			5	18
19	23	12	22	18

$$\begin{array}{r} 38 \\ + 12 \\ \hline \end{array} \quad \begin{array}{r} 46 \\ + 14 \\ \hline \end{array} \quad \begin{array}{r} 19 \\ + 31 \\ \hline \end{array}$$

.....

• Saatlerin hangi saatleri gösterdiğini altlarına yazınız.

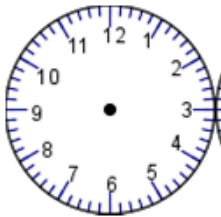


Öğleden önce:
Öğleden sonra:




Öğleden önce:
Öğleden sonra:

• Rakamla verilen saatleri şekil üzerinde gösteriniz.



11:00



20:30



15:00

Gizli Yolu Bulunuz

2	6	2
10	4	7
5	10	4
	+	23

$$\begin{array}{r} 96 \\ - 72 \\ \hline \end{array} \quad \begin{array}{r} 86 \\ - 77 \\ \hline \end{array} \quad \begin{array}{r} 78 \\ - 29 \\ \hline \end{array}$$

.....

Bugün sayfa kitap okudum.

KÜÇÜK İSTAVRITIN ÖYKÜSÜ

Küçük istavrit, yiyecek bir şey sanıp hızla atıldı çapariye. Önce müthiş bir acı duydu dudağında gümbür gümbür oldu yüreği sonra hızla çekildi yukarıya... Aslında hep merak etmişti denizlerin üstünü. Neye benzerdi acaba gökyüzü? Bir yanda büyük bir merak bir yanda ölüm korkusu. "Dudağı yarıklar " denir, şanslıdır onlar, hani görüp de gökyüzünü, insanı oltadan son anda kurtulanlar. Ne çare balıkçının parmakları hoyratça kavradı onu. Küçük istavrit anladı yolun sonu. Koca denizlere sığmazdı yüreği. Oysa, şimdi yüzerken küçücük yeşil leğende, ansız uzanıvermiş dostlarına değiyordu minik yüzgeci. İnsanlar gelip geçtiler önünden. Bir kedi yalanarak baktı gözünün içine yavaşça karardı dünya, başı da dönüyordu. Son bir kez düşündü derin maviyi, beyaz mercanı bir de yeşil yosunu. İşte tam o anda eğilip aldım onu. Yürüdüm deniz kenarına bir öpücük kondurdum başına, iki damla gözyaşından ibaret sade bir törenle, saldım denizin sularına. Bir an öylece bakakaldı. Sonra sevinçle dibe daldı. Gitti tüm kederimi söküp atarak, teşekkürü de ihmal etmemiştii. Bir kaç değerli pulunu elime, avuçlarıma bırakarak. Balıkçı ve kedi şaşkın baktılar yüzüme. Sorar gibiydiler, neden yaptın bunu niye? " Bir gün dedim, bulursam kendimi yeşil leğendeki küçük istavrit kadar çaresiz, Son ana kadar hep bir umudum olsun diye... "

Metni en az 3 kez okuduktan sonra hikaye haritasını doldurunuz.

Hikayenin Karakterleri

Olay

.....

.....

.....

.....

Hikayenin Başlığı

.....

Yer

Zaman

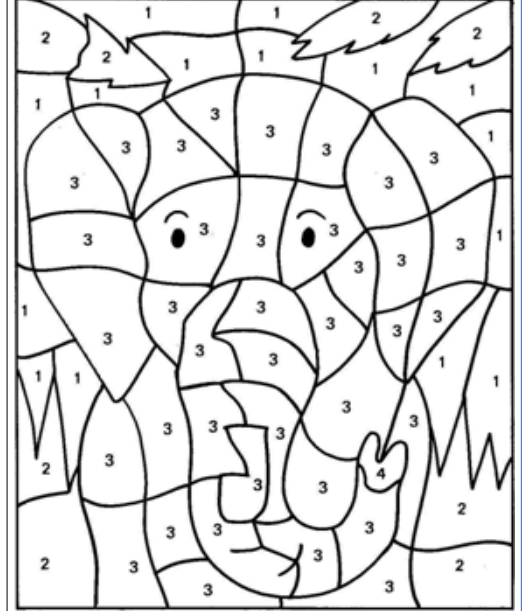
.....

.....

Zaman kavramları ile ilgili boşlukları tamamlayınız.

- 1 gün..... saattir.
 1 hafta.....gündür.
 1 aygündür.
 1 yılgündür.
 1 yıl.....aydır.
 1 ayhaftadır.
 1 yıl.....mevsimdir.
 1 mevsimde.....ay vardır.

İngilizce Zamanı



African Elephant

1-blue 2-green 3-grey 4-pink

Resmi renklerine uygun boyayınız.



1- Cevat'ın 4 birlik + 7 onluk kalemi vardır. Bu kalemlerin 27 tanesini arkadaşına veren Cevat'ın kaç kalemi kalmıştır?

Çözüm:

1- Recep yaptığı 83 resmin 35 tanesini satmıştır. Recep'in satmadığı kaç resim kalmıştır?

Çözüm:



2- Bakkal Amca 52 topun 14'ünü satmıştır. 7 top ise yanlışlıkla patlamıştır. Bakkal Amcanın geriye kaç topu kalmıştır?

Çözüm:



GizliYolu Bulunuz

6	10	8
9	9	4
2	2	4
+		21

51	65	17
- 28	+ 23	- 9
.....

ÇİLLİ HOROZ

Çilli horoz sabah erkenden kalktı. Zaten Çilli Horoz erken kalkmayı çok seviyordu. Hemen elini yüzünü yıkadı. Bugün hava çok soğuktu. Karnı çok acıkmıştı. Ama Çilli Horoz hemen işe koyuldu. Çünkü sahibi olan Hasan dayıyı uyandırması gerekiyordu. Çilli horoz uzun uzun öttü:

Ü ürü üüüüü!

Hasan dayı esneyerek uyandı. Çilli horozu çok seviyordu. Çünkü Çilli horoz her zaman onu uykusundan uyandırıyor. Hasan dayı elini yüzünü yıkadı. Kümese gitti ve Çilli Horoz'u sevdi. Ono arpa ile yapılmış yem verdi. Çilli horoz yemini yedi ve bahçede gezmeye başladı.

Parça ile ilgili soruları yanıtlayalım.

1. Çilli horoz uyanınca hemen ne yaptı ?

.....

2. O gün hava nasıl olmuş ?

.....

3. Hasan dayıyı kim uyandırıyor ?

.....

4. Çilli horoz Hasan dayıyı nasıl uyandırıyor ?

a) Öterek b) Kapıya vurarak c) Zili çalarak

5. Çil horozun sahibinin adı nedir ?

a) Hatice b) Harun c) Hasan

6. Çil horoz yemini yedikten sonra ne yapmış ?

a) Kitabını okumuş b) Bahçede gezmiş c) Oyun oynamış

7. Yukarıdaki parçanın adı nedir ?

a) Hasan dayı b) Hasan dayının horozu c) Çilli horoz

1-Bir sandıkta 36 tane limon, diğer sandıkta bundan 58 fazla limon vardır. İki sandıkta toplam kaç tane limon vardır?

Çözüm:



2- Otoparka sabah 47 araç ve öğleden sonra 39 araç park etmiş. Bu otoparka bir günde kaç tane araç park etmiştir?

Çözüm:



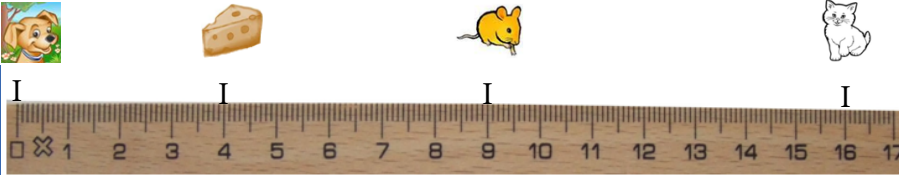
Eksik Toplananı Bulunuz

		5		22
6	2	3		21
7		10	2	23
9	9		1	20
24	24	19	19	15

$$\begin{array}{r} 75 \\ +14 \\ \hline \end{array} \quad \begin{array}{r} 63 \\ +28 \\ \hline \end{array} \quad \begin{array}{r} 45 \\ +37 \\ \hline \end{array}$$

.....

Aşağıdaki boşlukları şekildeki uzunluklara dikkat ederek doldurunuz.



Köpek ile peynir arasındaki mesafe santimetredir.

Köpek ile fare arasındaki mesafe santimetredir.

Köpek ile kedi arasındaki mesafe santimetredir.

Peynir ile fare arasındaki mesafe santimetredir.

Kedi ile fare arasındaki mesafe_ santimetredir.

GizliYolu Bulunuz

9	8	10
4	10	7
10	3	6
	+	40

$$\begin{array}{r} 67 \\ +17 \\ \hline \end{array} \quad \begin{array}{r} 81 \\ +19 \\ \hline \end{array} \quad \begin{array}{r} 79 \\ +25 \\ \hline \end{array}$$

.....

Bugün sayfa kitap okudum.

BEYZA'NIN DIŞLERİ

Beyza okuldan koşarak eve geldi. Annesi onu beklemiyordu şaşırdı.

-Ne oldu kızım? Diye heyecanla sordu.Beyza ağlayarak cevap verdi.

-Anneciğim dişlerim kanıyor. Arkadaşlarım bana güldü, dedi.

Annesi Beyza'yı diş doktoruna götürdü. Doktor Beyza'nın dişlerini kontrol etti. Annesine " Kızınızın dişleri çürümüş ve diş etleri gelişmemiş.. Dedi. Doktor bir reçete yazdı. Reçete de "Her çeşit meyve ve sebze yiyecek, dişlerini günde üç defa fırçalayacak, dişleri ile sert kabuklu yiyeceklerin kabuklarını kırmayacak.. Diye yazıyordu.

Beyza doktorun reçeteye yazdıklarını yaptı ve kısa zamanda iyileşti. Artık Beyza'nın çok sağlıklı dişleri var.

Parça ile ilgili soruları yanıtlayalım.

1. Beyza eve gelmeden önce neredeymiş ?

2. Beyza'yı doktora götüren kimdin?

3. Beyza'nın dişleri neden çürümüş olabilir ?

4. Parçaya göre kimin dişleri çürümüş ?

a)Elifin b)Annesini c)Beyza'nın

5. Arkadaşları Beyza'ya ne yapıyorlar?

a)Taş atıyorlar b)Gülüyorlar c)Eve getiriyorlar

6. Annesi Beyza'yı nereye götürüyor?

a)Doktora b)Okula c)Babasının yanına

6- Doğru mu yoksa yanlış mı?

..... Ailede anne, baba ve çocuklar vardır..

..... Dişlerimizin kuvvetli olması için fındığı dişimizle kırmalıyız.

Aşağıda gördüğünüz standart olmayan ölçüleri görselleriyle eşleştiriniz.

Parmak

Karış

Ayak


Adım

Kulaç



1) Yandaki şekilde gösterilen ölçümün sonucu hangisidir?

- A. 4 karış 3 parmak
- B. 3 karış 4 parmak
- C. 3 karış



Eksik Toplananı Bulunuz

8		9	3	21
9		1	9	25
5				23
	9	10	4	29

28	19	30	21	28
----	----	----	----	----

$$\begin{array}{r} 85 \\ + 7 \\ \hline \end{array}$$

$$\begin{array}{r} 64 \\ + 19 \\ \hline \end{array}$$

$$\begin{array}{r} 77 \\ + 34 \\ \hline \end{array}$$

.....

.....

.....

1- Hastanede 91 yatak vardır. Bu yatakların 54 tanesinde hasta yattığına göre kaç yatak boş durumdadır?

Çözüm:



2- Kümesimizde 38 tane tavuk, 14 tane kaz ve 23 tane de horoz vardır. Kümesimizde toplam kaç hayvan vardır?

Çözüm:



GizliYolu Bulunuz

2	10	2
3	1	2
6	5	7
	+	28

$$\begin{array}{r} 73 \\ - 66 \\ \hline \end{array}$$

$$\begin{array}{r} 40 \\ - 13 \\ \hline \end{array}$$

$$\begin{array}{r} 60 \\ - 28 \\ \hline \end{array}$$

.....

.....

.....

GÜZEL EVİMİZ

Benim adım Taha Ahmet, bizim evimiz çok güzeldir. Neden diye soracak olursanız açıklayayım. Evimiz iki katlı bir evdir. Biz evin ikinci katında oturuyoruz. Birinci katta kiracılarımız var. Kocasını hastanede doktor. Çok iyi insanlar.

Evimizin 3 odası var. Birisi kardeşim Fatih ile benim odam. Odamızda eşyalarımız için bir dolap, yataklarımız ve çalışma masamız var. Biz odamızı sürekli temizler ve düzenli tutarız.

Evimizin bahçesi de çok güzeldir. Bahçede renk renk çiçekler var. Annem komşularımızdan hep çiçek tohumu alır ve eker. Babam ağaç fidanlarını getirir ve onları eker. Kısacası bizim evimiz çok güzeldir.

Parça ile ilgili soruları yanıtlayalım.

1. Çocuğun adı nedir ?

.....

2. Taha Ahmet'in kendi odası var mıdır ?

.....

3. Babaları bahçeye ne eker ?

.....

4. Taha Ahmet'in abisinin adı nedir ?

a)Fatih b)Hasan c)Murat

5. Taha Ahmet'in evi kaç odalı ?

a)2 oda b)3 oda c)4 oda

6. Taha Ahmet'in odasında aşağıdakilerden hangisi yoktur ?


a)Çalışma masası b)Eşya dolabı c)Televizyon

7. Taha Ahmet'in komşusu ne iş yapıyormuş ?

a)Öğretmen b)Doktor c)Polis

1- Dorukan 85 sayfalık kitap almıştır. Kitabın 39 sayfasını okulda, 27 sayfasını evde okumuştur. Dorukan'nın geriye okumadığı kaç sayfası kalmıştır?

Çözüm:



2- Depoda 71 torba kömür vardır. Önce 18 torba satılmıştır. Daha sonra ise 25 torba satılmıştır. Depoda kaç torba kömür kalmıştır?

Çözüm:



Eksik Toplananı Bulunuz

3	3	9		16
9	1	10	4	24
	3	10	1	24
		6	5	29

31	16	35	11	19
----	----	----	----	----

$$\begin{array}{r} 53 \\ - 24 \\ \hline \end{array} \quad \begin{array}{r} 74 \\ + 29 \\ \hline \end{array} \quad \begin{array}{r} 81 \\ + 14 \\ \hline \end{array}$$

.....

1- İki düzine topun 8 fazlası kaçtır?

Çözüm:



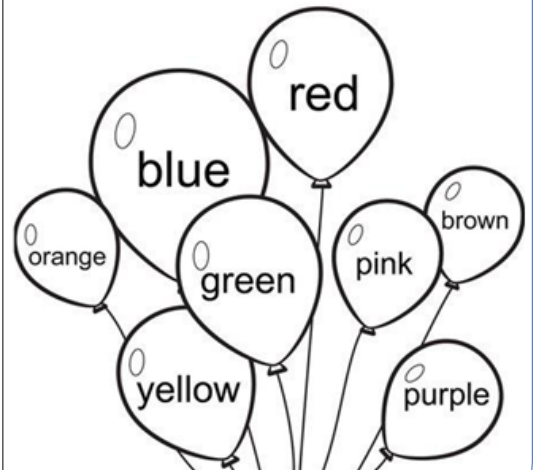
2- Yusuf kumbarasını açtığında içinden aşağıdaki paralar çıkmıştır. Yusuf'un kumbarasından kaç lira çıktığını bulabilir misiniz.



..... TL'dir.

İngilizce Zamanı

Balonları renklerine uygun boyayınız.



Bugün sayfa kitap okudum.

İYİ ÇOCUKLAR

Ege ile Naz ikiz kardeşler. Evleri bizim sokağın sonunda. Bütün komşular onları çok severler. Ege esmer ve siyah saçlıdır. Naz ise sarışın ve sarı saçlıdır. Bir sabah Ege ile Naz parkta oynuyorlardı.

Yolun kenarında Davut dedeyi gördüler. Davut dede yaklaştı elinde iki tane pazar torbası vardı. Çok yorulmuş ve terlemişti. Ege ile Naz hemen koştular. Davut dede sen yorulmuş ve terlemişsin eşyalarını biz taşıyalım dediler.

Davut dedenin eşyalarını eve kadar taşıdılar. Davut dede çok mutlu olmuştu. Ege ile Naz'da yaşlı bir adama yardım ettikleri için çok mutluydular. Davut dede onlara teşekkür etti. Ege ile Naz'da parka oyun oynamaya döndüler.

Parça ile ilgili soruları yanıtlayalım.

1. Ege ile Naz'ın evleri neredeymiş?

.....

2. Ege ile Naz nerede oynuyorlardı?

.....

3. Davut dede nereden geliyormuş?

.....

4. Esmer ve siyah saçlı olan çocuk kimdir?

a) Ege b) Naz c) Davut

5. Davut dedenin evine geldiklerinde Davut dede ne yapmış?

a) Onlara meyve vermiş b) Onlara teşekkür etmiş c) Ağlamış

6. Çocuklar nereye oynamaya gitmişler ?

a) Eve b) Parka c) Sokağa

7-Doğru mu yoksa yanlış mı?

Otobüste yaşlı insanlara yer vermemeliyiz. (Doğru) – (Yanlış)

Okul çantamızı akşamdan hazırlamalıyız. (Doğru) – (Yanlış)

1- Zeynep'in 2 düzine kalemi vardır. 1 deste kalem de ablası vermiştir. Zeynep'in elinde toplam kaç kalem olmuştur?

Çözüm:



Eksik Toplananı Bulunuz

3	5		1	18
3	9	9	6	27
		7	3	15
10	2	10		26

18	19	35	14	23
----	----	----	----	----

$$\begin{array}{r} 89 \\ +26 \\ \hline \end{array} \quad \begin{array}{r} 77 \\ +16 \\ \hline \end{array} \quad \begin{array}{r} 88 \\ +12 \\ \hline \end{array}$$

.....

2- Yiğit'in sol elinde 18 fındık sağ elinde ise 15 fındık vardır. Yiğit'in elinde toplam kaç fındık vardır?

Çözüm:



1- Gemide 77 yolcu vardır. Yolcuların 19'u limanda gemiden ayrılmış ve 23 yolcu gemiye binmiştir. Son durumda gemide kaç kişi vardır?

Çözüm:



Gizli Yolu Bulunuz

3	8	1
7	6	2
7	10	9
	+	43

$$\begin{array}{r} 38 \\ -12 \\ \hline \end{array} \quad \begin{array}{r} 45 \\ -23 \\ \hline \end{array} \quad \begin{array}{r} 29 \\ -17 \\ \hline \end{array}$$

.....

2- Bir kovanda 83 tane arı vardır. 36 tane arı polen toplamak için kovanı terk etmiştir. Kovanda kaç tane arı kalmıştır.

Çözüm:



ÇAĞLA'NIN KARDEŞİ HAMDİ

Kardeşim Hamdi daha yeni doğdu. O hastanede iken ben onu evde bekliyordum. Babam ve annem hastaneye gitmişler ben ise evde halam ile birlikte kalmıştım.

Akşam saat 8 de babam eve telefon etti. Teyzem ile konuştular. Teyzem telefonu bana verdi. Babam bana bir tane erkek kardeşin oldu. Adını ise Hamdi koyduk dedi. Ben çok heyecanlanmıştım.

İki gün sonra babam annem ve yeni kardeşim Hamdi eve geldiler. Hamdi'yi ilk gördüğümde çok güldüm. Küçük oyuncak bir bebeğe benziyordu. Ama daha sonra onu çok sevdim. Şimdi bir an önce büyüse de beraber oynasak diye bekliyorum.

Parça ile ilgili soruları yanıtlayalım.

1. Babası telefonda ilk kiminle konuşmuş ?

.....

2. Yeni kardeşinin adını ne koymuşlar ?

.....

3. Çocuk kardeşini neye benzetmiş ?

.....

4. Çocuk evde kiminle beklemiş ?

a) Halası b) Babası c) Teyzesi

5. Çocuk kardeşini ilk defa görünce ne hissetmiş ?

a) Çok üzülmüş b) Çok heyecanlanmış c) Çok korkmuş

6. Babası eve saat kaçta telefon etmiş ?

a) Akşam 8 de b) Sabah 8 de c) Akşam 9 da

7-Cümleleri düzelt ve altına yaz.

gidince- söyle - babana - selam;

.....

şeker - çayuma - iki- at - tane:

.....

1- Aşağıdaki nesnelerin hangileri kilogramla satılır işaretleyelim.



2- Üç kardeşten büyük 27, ortanca 18 küçük 6 yaşındadır. Üç kardeşin yaşları toplamı kaçtır?

Çözüm:



Eksik Toplananı Bulunuz

10		4	5	29
8	8	8	4	28
2	7		2	20
3	10			17

23	35	23	13	29
----	----	----	----	----

$$\begin{array}{r} 55 \\ + 17 \\ \hline \end{array} \quad \begin{array}{r} 66 \\ + 20 \\ \hline \end{array} \quad \begin{array}{r} 86 \\ + 13 \\ \hline \end{array}$$

.....

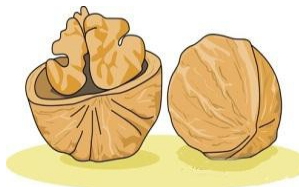
1- Ablası Göktuğ'dan 18 yaş büyüktür. Göktuğ 15 yaşında olduğuna göre ablası kaç yaşındadır?

Çözüm:



2- 2 deste cevizin 7 tanesini yedim. Geriye kaç tane ceviz kalmıştır?

Çözüm:



Gizli Yolu Bulunuz

2	10	4
4	1	10
3	10	3
	+	35

$$\begin{array}{r} 41 \\ - 21 \\ \hline \end{array} \quad \begin{array}{r} 52 \\ - 34 \\ \hline \end{array} \quad \begin{array}{r} 67 \\ - 24 \\ \hline \end{array}$$

.....

ERENCAN'NIN RÜYASI

Erencan gece saat 10 da yatmış uyumuş. Uykusunda rüya görmüş. Rüya beyaz bir ata binmiş. Kocaman bir dağın üzerine çıkmış.

Dağın üzerinde bir saray varmış. Kapısı çok darmış. Erencan kapıyı kırmış içeriye girmiş. Sarayda bir cüce varmış. Cüce Erencan'a bir taç takmış.

-Sen padişah oldun Erencan, demiş. Erencan çok sevinmiş.

-Hani benim hizmetçilerim? Diye cüceye sormuş.

Annesi Erencan'ı uyandırmış. Erencan uyandığına pişman olmuş.

Parça ile ilgili soruları yanıtlayalım.

1. Erencan gece kaçta yatmış ?

.....

2. Erencan rüyasında nereye çıkmış ?

.....

3. Erencan cüceye ne sormuş ?

.....

4. Rüyasında Erencan neye binmiş ?

a) Uçağa binmiş b) Ata binmiş c) Arabaya binmiş

5. Sarayda kim varmış ?

a) Dev b) Padişah c) Cüce

6. Rüyasında Erencan ne olmuş ?

a) Polis b) Padişah c) Doktor

7. Sarayın kapısı nasıl olmuş ?

a) Büyükmüş b) Küçükmiş c) Darmış

Aşağıdaki cümleleri düzelt ve karşısına yaz.

gelecek - Ali - okula

erken - okula - git - sabah

1- Çağdaş 1 sene önce 36 gol attı. Bu sene ise 35 gol attı. Çağdaş toplamda kaç gol atmıştır?

Çözüm:



Eksik Toplananı Bulunuz

2				29
3	1	2	10	16
6	7	3	10	26
7		3	3	19

18	22	18	32	9
----	----	----	----	---

78	45	68
+ 12	- 27	+ 9
.....

2- Bir çiftlikte 85 keçi vardır. Bu keçilerin 47 tanesi satılmıştır. Geriye kaç keçi kalmıştır?

Çözüm:



Aşağıdaki ürünlerin fiyatlarını inceleyelim. Terazilerdeki ağırlıkların üzerinde yazılı kiloya göre ürünlerin fiyatlarını bulalım.



Kilogramı 5 lira



Kilogramı 6 lira



Kilogramı 3 lira



Kilogramı 2 lira



..... lira



..... lira




..... lira



..... lira

İngilizce Zamanı



1—Red 3—Blue 5—Orange 7—Brown
2—Yellow 4—Green 6—Purple 8—Black

Resmi renklerine uygun boyayınız.

Bugün sayfa kitap okudum.

ÖRNEK DAVRANIŞ

Pazar günü Ozan, Kaan, Erçin ve Kerem okulun bahçesinde toplandılar. Hava çok güzeldi. Hemen iki takım kurdular. Maç yapmaya başladılar. Kerem hakem oldu, Erçin kaleci oldu.

Oyun güzel oluyordu ama bir kaza oldu. Ozan topa sert vurunca top okulun penceresine çarptı. Okulun camını kırdı. Çok üzüldüler. Ne yapacağız diye konuştular ve aralarında para topladılar.

Ertesi gün Ozan okul müdürüne olanları anlattı. Camı ben kırdım dedi.

Özür diledi. Topladıkları para ile camın parasını ödedi. Müdür Ozan'a teşekkür etti. Ona "Sen iyi bir öğrencisin, aferin," dedi.

Parça ile ilgili soruları yanıtlayalım.

1. Okulun bahçesinde kimler toplanmış ?

.....

2. Çocuklar okulun bahçesinde ne yapmışlar ?

.....

3. Çocuklar sebep oldukları kazayı nasıl çözmüşler ?

.....

4. Çocuklar hangi gün toplanmışlar ?

a) Pazartesi b) Perşembe c) Pazan

5. Okulun camını kim kırmış ?

a) Ozan b) Kaan c) Erçin

6. Ozan topladıkları parayı kime vermiş ?

a) Müdüne b) Öğretmene c) Hizmetliye

7. Yukarıdaki parçanın başlığı nedir ?

a) Okuldaki Maç b) İyi Çocuk c) Örnek Davranış

8- Cümleleri düzelt ve altına yaz.

Vendi- öğretmenimiz- ödev- çok:

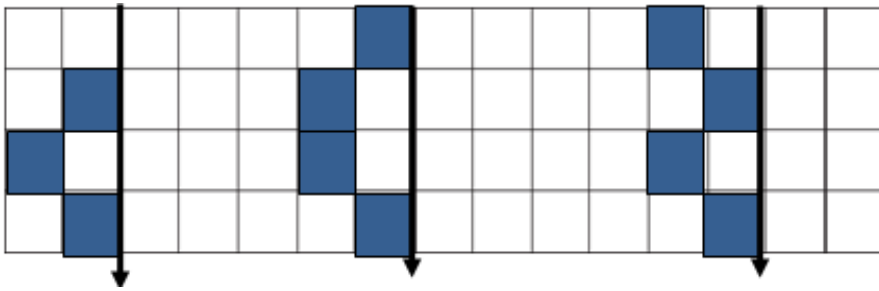
.....

1- 25 tane elma alan sepette 12 tane elma vardır. Sepetin dolması için kaç tane elmaya ihtiyaç vardır ?

Çözüm:



2- Simetrik olarak boyayalım.



Eksik Toplananı Bulunuz

6	3	8	5	22
	3	3	10	26
	9	2		18
4		4	1	18

23	24	17	20	12
----	----	----	----	----

$$\begin{array}{r} 43 \\ + 39 \\ \hline \end{array} \quad \begin{array}{r} 50 \\ + 21 \\ \hline \end{array} \quad \begin{array}{r} 25 \\ + 15 \\ \hline \end{array}$$

.....

1- Arda'nın 2 düzine + 1 deste bilyesi vardır. Bu bilyelerin 9 tanesi kaybolmuştur. Arda'nın geriye kaç bilyesi kalmıştır?

Çözüm:



2- Simetri çizgilerini çizelim. İki eş yüz olmasına dikkat edelim.



Gizli Yolu Bulunuz

9	9	7
3	1	10
3	9	3
	+	48

$$\begin{array}{r} 42 \\ - 23 \\ \hline \end{array} \quad \begin{array}{r} 86 \\ - 38 \\ \hline \end{array} \quad \begin{array}{r} 60 \\ - 43 \\ \hline \end{array}$$

.....

Bugün sayfa kitap okudum.

CEVAT'IN OKULU

Ben Cevat. 8 yaşımdayım. Kadriye Faik Koparan İlkokulu'na gidiyorum. 2-B sınıfında okuyorum. Öğretmenimin adı Ufuk VURAL. Okulumu ve öğretmenimi çok seviyorum. Size okula varıncaya kadar ne yaptığımı anlatabayım.

Sabah saat 7 de kalkarım. Anneme günaydın derim. Elimi ve yüzümü yıkar, kahvaltımı yaparım. Üzerimi değiştirip servise binerim. Servis beni okula getirir.

Sınıfa girince sessizce öğretmenimi beklerim. Öğretmenimiz sınıfa girince günaydın çocuklar der. Öğretmenimiz bizi çok güldürür. O yüzden onu çok seviyorum.

Parça ile ilgili soruları yanıtlayalım.

1. Cevat kaç yaşındadır ?

.....

2. Cevat hangi okula gidiyor ?

.....

3. Cevat saat kaçta kalkarmış ?

.....

4. Cevat kaçınıcı sınıfta okuyor ?

a)3 sınıfta b)4 sınıfta c)2 sınıfta

5. Cevat'ın öğretmenininin adı nedir ?

a)Ufuk Vunal b)Murat Demin c)Okşan ERBOYACI

6. Cevat sabah kalkınca annesine ne diyormuş ?

a)Merhaba b)İyi akşamlar c)Günaydın

7. Cevat neden öğretmenini çok seviyormuş ?

a)Öğretmeni ona hediye veriyormuş

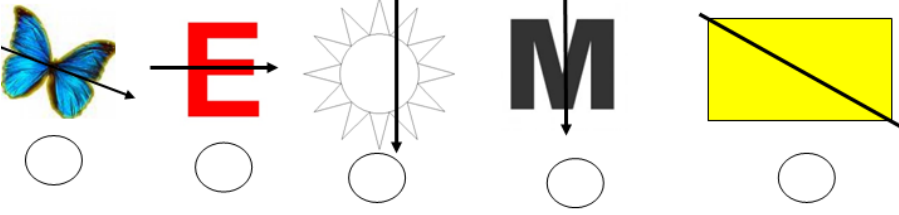
b)Öğretmeni onları güldürüyormuş

c)Öğretmeni Cevat'ı daha çok seviyormuş

07 Şubat 2014 – Cuma

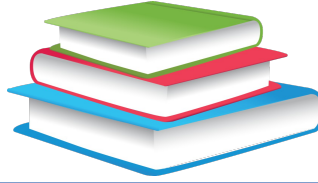
Sabah

1- Simetri çizgisi doğru olanlara ✓ , yanlış olanlara ✗ işareti yapalım.



2- Batu her hafta 1 kitap okursa 1 ayda kaç kitap okur?

Çözüm:



Eksik Toplananı Bulunuz

	3			28
4		9	1	18
6	3	9		21
6	10		8	32
25	20	35	19	30

$$\begin{array}{r} 65 \\ +34 \\ \hline \end{array}$$

.....

$$\begin{array}{r} 74 \\ +29 \\ \hline \end{array}$$

.....

$$\begin{array}{r} 81 \\ +14 \\ \hline \end{array}$$

.....

Akşam

1- Ceylin yeni aldığı bisikletine ilk gün 12, sonraki gün 9 ve üçüncü günde 14 arkadaşını bindirdi. Ceylin kaç arkadaşını bisikletine bindirdi?

Çözüm:



2- Aşağıdaki ölçme araçlarının isimlerini yazalım.



.....



.....



.....



.....

GizliYolu Bulunuz

3	1	1
8	10	8
3	7	1
	+	19

$$\begin{array}{r} 51 \\ -28 \\ \hline \end{array}$$

.....

$$\begin{array}{r} 60 \\ -37 \\ \hline \end{array}$$

.....

$$\begin{array}{r} 17 \\ -9 \\ \hline \end{array}$$

.....

Bugün sayfa kitap okudum.

GÖKTUĞ KÖYDE

Göktuğ, yaz tatilinde köye gitti. Dedesi ona * Hadi beraber tarlaya gidelim.. Dedi. Tarlanın etrafına telden çit çekti. Dedesi motor ile tarlaya geldi. Tarlayı motor ile sürdüler. Toprağın içine tohum ile gübre attılar.

Göktuğ tarlayı bekledi. Tarlanın kenarına ağaç fidanı dikti. Her gün tarlasına gitti. Düzenli olarak suladı. Tarlasından çok ürün aldı. Çünkü Göktuğ tarlasına çok iyi bakmıştı.

Ürünleri dedesi ile birlikte pazarda sattı. Parası ile kendisine kitap ve elbise aldı. Dedesine her işinde yardım etti. İneklere ve koyunlara ot verdi. Tavuklara yem verdi. Her gün onların yumurtalarını topladı. Göktuğ o yaz tatilinde hem çok çalıştı hem çok eğlendi.

Parça ile ilgili soruları yanıtlayalım.

1. Göktuğ tatilde nereye gidiyor?

.....

2. Tarlayı ne ile sürdüler?

.....

3. Göktuğ ürünleri nerede sattı?

.....

4. Köyde Göktuğ'nin hangi akrabası var?

a) Babası b) Dedesi c) Teyzesi

5. Göktuğ dedesinin yanına ne zaman gitmiş?

a) Yaz tatilinde b) Cumartesi günü c) Ocak ayında

6. Göktuğ kazandığı para ile ne yaptı?

a) Hediye aldı b) Dedesine verdi c) Kitap ve elbise aldı

7- Doğru mu yoksa yanlış mı?

..... Sınıf başkanını öğretmen seçer.

..... Çöpleri sınıfta yere atarız.