

1) Annem misafirlerimiz için 50 adet kurabiye hazırladı. Misafirlerimiz kurabiyelerin 3 düzinesini yediğine göre , geriye kaç kurabiyemiz kaldı?

- A) 20 B) 24 C) 14



48 sayısından bir önceki ve bir sonraki sayının toplamı kaçtır?

- A) 96 B) 86 C) 97

$$A \times 5 = 15$$

$$A \times B = 12$$

3) Tahtada verilenlere göre $A + B$ işleminin sonucu aşağıdakilerden hangisidir?

- A)

7

 B)

15

- C)

9

4) Aşağıdaki çıkarma işlemlerinden hangisinin sonucu diğerlerinden farklıdır?

- A)




90-50=40

 B)

80-30=50
- C)

75-25=50

5) 12 çeyrek ekmekten, kaç bütün ekmek oluşturabiliriz?

- A) 
- B) 
- C) 

6) Aleyna'nın boyunun uzunluğu , 1 metre 25 santimetredir. Babasının boyu, Aleyna'nın boyundan , 60 santimetre fazla ise babasının boyu kaç metre - kaç santimetredir?

- A) 1 metre 60 santimetre
 B) 2 metre 85 santimetre
 C) 1 metre 85 santimetre



7)

Resimdeki hediye paketi, kaç tane köşesi olan bir geometrik cisimdir?

- A) 6 B) 8 C) 12



8) Babam kilogramı 4 lira olan muzlardan 6 kilogram aldı. Satıcıya 30 lira verdi. Babamın , kaç lira para üzeri alması gerekir?

- A) 20 B) 6 C) 16