

1) Aşağıdaki geometrik cisimlerden hangisinin yüzleri sayısı daha fazladır?



2)  Her gün 5 bardak su içen bir kişi, 2 haftada kaç bardak su içmiş olur?

A) 75 B) 80 C) 70

3)  Kumbaramda 42 lira birikmiş.  Abla ben , senden 16 lira daha az biriktirmişim.

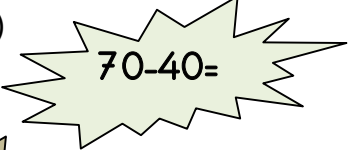
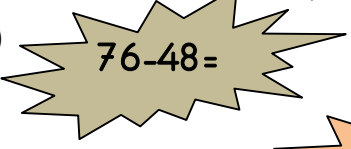
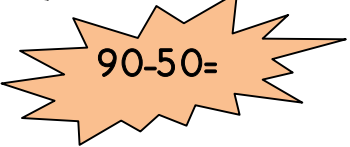
Yukarıdaki kardeşlerin konuşmalarına göre iki kardeş toplam kaç lira biriktirmişler?


A) 58 B) 68 C) 69

4) Çeyreği 15 sayfa olan kitabın tamamı kaç sayfadır?

A) 60 B) 30 C) 45

5) Aşağıdaki çıkarma işlemlerinden hangisini zihinden çözmek daha zordur?





A)   $70-40=$   
B)   $76-48=$   
C)   $90-50=$

6)  Annem, pazardan kilogramı 50 kuruştan, 6 kilo patates aldı. Satıcıya kaç lira vermelidir?

A) 30 B) 3 C) 5

6 ve 7. soruları grafiğe göre cevaplayınız.

**Grafik: En sevilen futbol takımı**

Galatasaray	
Fenerbahçe	
Beşiktaş	
Trabzonspor	

**Her şekil 2 kişiyi göstermektedir.**

7) Grafiğe göre en sevilen futbol takımı hangisidir?

A) Galatasaray B) Trabzonspor  
C) Beşiktaş

8) Grafik oluşturulurken bütün sınıf öğrencilerine sorulduğuna göre, bu sınıfın öğrenci sayısı kaçtır?

A) 14 B) 26 C) 28