

Adı Soyadı:.....

Numarası:.....

NAZİRE MERZECİ İLKOKULU 2/B SINIFI MATEMATİK DERSİ 2.DÖNEM 1. GENEL DEĞERLENDİRMESİ


1)



Resimdeki koşu yarışında sondan 4. olan öğrenci, baştan kaçınıcı sıradadır?

- A) 2. sıradadır B) 3. sıradadır C) 4. sıradadır

2)



Melih, yukarıdaki geometrik şekillerin bir kenarı için 1 parça tel kullanmıştır.

Melih, bu şekilleri yapmak için toplam kaç parça tel kullanmıştır?

- A) 18 B) 12 C) 20


3)



Kilogramı 1 TL olan karpuz 4 kg geliyor. Manava 5 TL veren babama, manavin kaç TL geri ödemesi gerekiyor?

- A) 3 TL B) 2 TL C) 1 TL

4)



Yukarıdaki kalemin 3 katı büyüklüğündeki bir kalem kaç cm olur?

- A) 9 cm B) 6 cm C) 10 cm

5)



Bir çıkarma işleminde çıkan 24, fark 35 ise eksilen kaçtır?

- A) 11 B) 59 C) 95

6)



Benim yaşımdın yarısı 4'tür.  
Annemin yaşı, benim yaşımdın 3 katıdır.

Esra'nın verdiği bilgiye göre

aşağıdakilerden hangisi yanlıştır?




- A) Annemin yaşı 24'tür.  
B) Benim yaşımdın 8'dir.  
C) Annem ve benim yaşımdın toplamı 30'dur.

7)



Sonucu 40'a en yakın işlemin bulunduğu armudu yemek istiyorum. Benim yiyeceğim armut hangisidir?

- A) B)



C)

8) Aşağıdaki ardışık çıkarma işleminin bölme işlemi olarak ifadesi hangisidir?

$$15 - 5 = 10$$

1. Paylaştırma

$$10 - 5 = 5$$

2. Paylaştırma

$$5 - 5 = 0$$

3. Paylaştırma

$$15 \div 5 = 3$$

A)

$$15 \div 3 = 5$$

B)

$$15 \div 3 = 3$$


C)

9)



Çizdiğim dikdörtgensel bölgenin çeyreğini boyadım.

Hangisi Dilek'in çizdiği dikdörtgensel bölgedir?



A)



B)



C)

10)

2 ve 6 rakamlarıyla yazılan en küçük ve en büyük sayıların toplamı hangi abaküste gösterilmiştir?



A)



B)



C)

11)




Günde 3 litre süt veriyorum.

Sadiye Teyze, Sarıkız'ın verdiği sütün 1 litresini her gün torunlarına içiriyor. Kalanını da satıyor. Sadiye Teyze'nin bir haftada sattığı süt kaç litredir?

- A) 21 B) 14 C) 18

12)

Basket topları, potalara eşit sayıda paylaşılacaktır. Her potaya kaç top düşer?

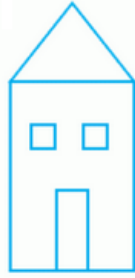


- A) 4 B) 2 C) 3

13)



Yandaki evi çizmek için kaç tane dikdörtgen kullandığını bulur musunuz?



- A) 1 B) 2 C) 3

14)



Aşağıdakilerden hangisinde yukarıdaki örüntüye benzer bir kural vardır?

- A) a, b, a, b, a, b, a, b  
B) a, b, b, c, a, b, b, c  
C) a, b, c, a, b, c, a, b, c

15)

Dikdörtgenler prizması, kare prizma ve küpün ortak özelliklerini hangi öğrenci doğru olarak söylemiştir?

- A) Üçünün de yüzey şekilleri aynıdır.  
B) Üçünün de, 6 yüzeyi, 8 köşesi ve 12 ayrıtı vardır.  
C) Üçünün de yan yüzleri karedir.

16) Saatin 4 olmasına yarım saat varsa şu anda saat kaçtır?



A)



B)



C)

Tablo: Bir gazetecide satılan gazetelerin sayısı

17)

Gazete adı	Sayısı
A gazetesi	6 deste
B gazetesi	5 düzine
C gazetesi	56 tane

Bir gazetecide satılan gazetelerin sayısı yukarıdaki tabloda verilmiştir. Tabloya göre en az hangi gazeteden satılmıştır?

A gazetesi

A)

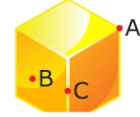
B gazetesi

B)

C gazetesi

C)

18) Aşağıdaki geometrik cisim ile ilgili verilenlerden hangisi doğrudur?



Yüz	A
Köşe	B
Ayrıt	C

A)

Yüz	C
Köşe	A
Ayrıt	B

B)

Yüz	B
Köşe	A
Ayrıt	C

C)

19)

Aşağıdaki boşlukları uygun ifadelerle tamamlayınız.

Bir bütün ekmek ..... yarım ekmek eder.

Bir bütün ekmek ..... çeyrek ekmek eder.

20 şekerin yarısı ..... şeker eder.

Bir saatin yarısı ..... dakikadır.

Bir günün yarısı ..... saattir.

20) Aşağıdaki işlemleri yapınız.

$$\begin{array}{r} 15 \\ \times 5 \\ \hline \end{array}$$

$$\begin{array}{r} \square \\ + 50 \\ \hline 78 \end{array}$$

$$75 \overline{) 5}$$

$$\begin{array}{r} 39 \\ - \square \\ \hline 16 \end{array}$$

$$4 \times \square = 20$$

BAŞARILAR...

Nevin YÜCEL

2/B Sınıf Öğretmeni

\* KONTROL ETMEYİ UNUTMA LÜTFEN! \*