

Adı:.....

Soyadı:.....

1-) Aşağıdaki ritmik sayılarda boş bırakılan yerlere sırasıyla hangi sayılar gelmelidir?

12 16 ... 24 28 32



12 15 ... 21 27 30



12 10 ... 6 4 2



A)  18  20  24

B)  18  18  8

C)  18  18  14

2-)



1 su bardağı 3 çay bardağı  
1 sürahi 5 su bardağı su ile doluyor.

Yukarıda verilen bilgilere göre 3 sürahi ve 6 çay bardağı su toplam kaç su bardağı doldurabilir?

A)  21 B)  17 C)  15

3-) Saat 08:30 da okula gelen Emre'nin 2 saat sonra beslenme saati vardır. Buna göre Emre'nin beslenme saati kaçtır?

A)



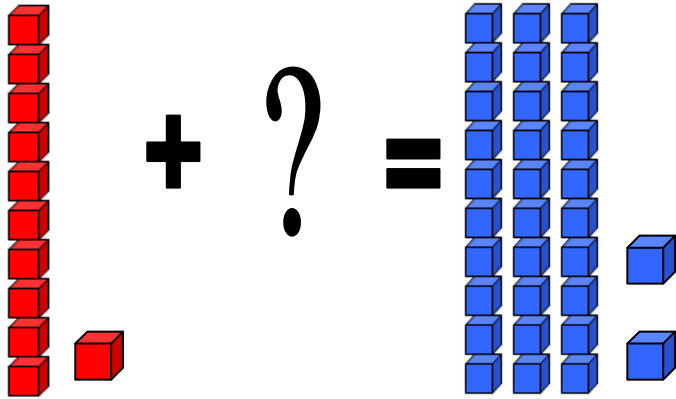
B)



C)



4-)



Yukarıdaki işlemde verilmeyen sayının rakamlarının sayı değeri toplamı kaçtır?

A)

3

B)

21

C)

22

5-) Aşağıdaki şekillerden hangisinin simetrisi yoktur?

A)



B)



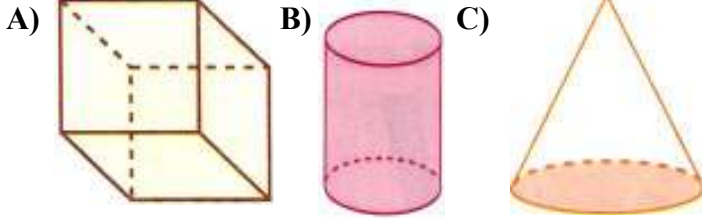
C)



Adı:.....

Soyadı:.....

6-) Aşağıdaki geometrik cisimlerden hangisinin yüzey sayısı diğerlerinden daha azdır?



7-)




$$49 - 13 = ?$$



Yukarıda verilen işlemde Mine tahmini sonuç ile işlem sonucunun farkını buluyor. Mine sonucu kaç bulmuştur?

- A)  B)  C) 

8-) Bir pastanede birinci gün 47 kurabiye yapılmış. İkinci gün ile beraber toplam 91 tane kurabiye yapılmıştır. Buna göre ikinci gün kaç kurabiye yapılmıştır?




- A)  B)  C) 

9-)



$$6 \times \dots = 0$$

Yukarıdaki işlemde noktalı yere kaç yazılmalıdır?

- A)  B)  C) 

10-) Aşağıdaki işlemlerin hangisinin sonucu diğerlerinden farklıdır?

A)  $75 - 38 = ?$


B)  $19 + 18 = ?$

C)  $7 \times 5 = ?$

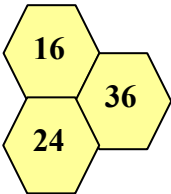
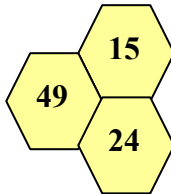
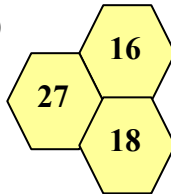
11-) Aşağıdaki sıvı miktarlarından hangisi daha azdır?

- A) Bir fincan kahve  
B) Yarım su bardağı süt  
C) Bir tatlı kaşığı yağ

12-) Günde 4 sayfa hikaye okuyan Ayşe hafta sonu toplam kaç sayfa hikaye okur?

- A)  B)  C) 

13-) Aşağıdaki peteklerden sayıların hangisinin toplamı daha azdır?

- A)  B)  C) 

**Adı:.....****Soyadı:.....**

Sevilen Oyunlar	
Basketbol	   
Futbol	    
Voleybol	 
Hentbol	  

Her şekil 2 oyunu göstermektedir.

14. ve 15.soruları yukarıdaki grafiğe göre cevaplayınız.

**14)** Sınıfın toplam mevcudu kaçtır?

A)

18

B)

22

C)

28

**15)** Basketbol ve voleybolu sevenlerin toplamı futbolu sevenlerden kaç kişi fazladır?

A)

2

B)

4

C)

6