



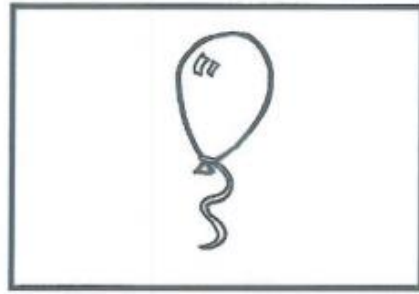
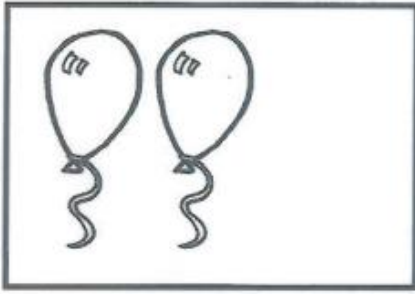


# MATEMATİK

Köpeklerden 3 tanesini yuvarlak içine alın.



Aşağıdaki varlık gruplarını inceleyin. Her grubun eleman sayısını 3'e tamamlayın.



Zeynep'in eline 3  
balon çizip boyayın  
çocukları.



Aşağıdaki satırlara 3 yazın.

3
---

3
---

Veli

Öğretmen