



DOSTLAR beni tanıdınız değil mi? Ben **HACİVAT**.

Seninle bu hafta yani **1 Ağustos – 7 Ağustos** arasında beraberiz. Sana hangi günler hangi dersleri yapacağını ben söyleyeceğim. Benim söylediğim tarihlerde ödevini yapacaksın. Erken ya da geç yapmak yok tamam mı?



7.

HAF TA

Selam bende **KARAGÖZ**

Bu hafta sana bazı sayfalarda **ŞİFRELER** vereceğim. Kitabını yaptıkça beni gördüğün yerlerde bulacaksın bunları. Bu şifreleri aşağıdaki kutulara yaz şifreleri sırasıyla vermeyeceğim bu yüzden dikkatli ol ve karıştırma. Bulduğun şifreleri önce aşağıya yaz. Sonra tüm şifreleri kitabının sonunda birleştirmeyi unutma.



7.Hafta Şifreleri

1 2 3 4

--	--	--	--



Bu çalışma KERİM GÖKÇE tarafından hazırlanmıştır.



Bu hafta okuduğun hikayenin haritasını çıkar



Hikâyenin Adı

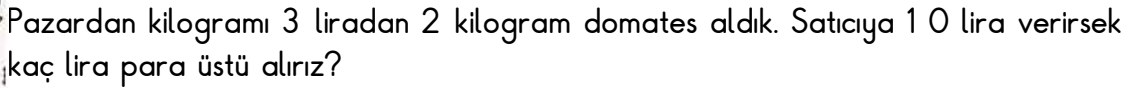
Hikâyenin Yazarı

HİKÂYE
HARİTASI

Hikâyedeki Olaylar

Hikâyenin Resmini Çiz

Viy viy viy 1 AĞUSTOS Pazartesi günü yapılacak unutmama...

[illegible]

- [illegible]

- [illegible]

- [illegible]

- [illegible]



[illegible][illegible][illegible][illegible]

2. şifre alfabemizin sondan bir önceki harfi.

Vay vay vay 2 AĞUSTOS Salı günü tablonun altındaki günler aylar ve mevsimleri bul bakalım.

HAFTANIN GÜNLERİ

P	A	Z	A	R	T	E	S	İ	Ğ
E	R	Y	I	O	U	I	A	O	P
A	S	P	F	G	C	H	L	J	K
L	Ş	E	İ	Z	U	H	I	K	L
Ç	A	R	Ş	A	M	B	A	İ	Ş
C	V	Ş	B	N	A	M	Ö	Ç	E
R	T	E	Y	U	I	O	P	Ğ	Ü
C	U	M	A	R	T	E	S	İ	J
A	S	B	D	F	G	H	J	K	L
Z	C	E	V	B	N	M	Ö	Ç	İ
P	A	Z	A	R	K	L	Ş	İ	P

PAZARTESİ--SALI-ÇARŞAMBA--PERŞEMBE--CUMA-CUMARTESİ--PAZAR

AYLAR VE MEVSİMLER

H	A	F	T	A	K	A	S	I	M
A	V	M	A	Y	I	S	B	N	Ç
Z	M	İ	L	K	B	A	H	A	R
İ	E	Ç	A	Ğ	U	S	T	O	S
R	V	S	O	N	B	A	H	A	R
A	S	Ç	M	B	Ğ	E	S	K	E
N	İ	S	A	N	V	C	Ş	Y	Y
A	M	A	R	A	L	I	K	A	L
A	S	D	T	E	M	M	U	Z	Ü
K	E	K	İ	M	H	J	K	L	L
O	C	A	K	I	Ş	U	B	A	T

HAFTA--HAZİRAN--MAYIS--AY--NİSAN--MART--TEMMUZ--ŞUBAT--OCAK--
KASIM--ARALIK--EYLÜL--EKİM--AĞUSTOS---MEVSİM---YAZ---KIŞ---İLKBAHAR--
-SONBAHAR

Vay vay vay şimdi iyi dinle bak:

4. şifre YILIN 5. AYININ 4. HARFİ.



MATEMATİK KAVRAMLAR

A	R	T	I	A	S	Ç	B	D	F
Z	C	O	V	B	N	I	A	M	B
T	Y	P	U	I	E	K	S	İ	İ
O	N	L	U	K	M	A	A	N	R
R	F	A	B	N	J	R	M	L	L
Ç	K	M	J	H	G	M	A	D	İ
I	B	A	N	M	J	A	K	H	K
K	R	T	Y	U	I	O	J	H	B
T	D	E	S	T	E	N	J	K	L
I	E	R	D	Ü	Z	İ	N	E	B
D	A	H	A	D	E	Ğ	E	R	Ç

ARTI---TOPLAMA--- DAHA --EKSI---ÇIKARMA---ÇIKTI --DESTE---DÜZİNE---
ONLUK---BİRLİK---BASAMAK---DEĞER--

MATEMATİK KAVRAMLAR

Ö	L	Ç	M	E	E	P	R	T	Y
R	Y	Ü	E	I	I	A	D	I	M
Ü	S	D	T	F	G	R	J	K	L
N	K	A	R	I	Ş	M	Ş	L	K
T	U	J	E	H	S	A	Y	M	A
Ü	L	G	F	D	S	K	A	R	M
E	A	R	A	R	A	T	Y	İ	E
O	Ç	K	J	H	G	F	D	T	S
I	S	Ü	S	L	E	M	E	M	A
K	J	H	G	F	E	R	T	İ	F
U	Z	U	N	L	U	K		K	E

ÖLÇME---METRE---KULAÇ---ADIM---PARMAK---KARIŞ---SÜSLEME---ÖRÜNTÜ---SAYMA---
RİTMİK-----UZUNLUK---MESAFE-----ARA



Vıy vıy vıy 3 AĞUSTOS Çarşamba günü yapılacak.



1 - Evimizde kullandığımız su, elektrik, doğal gaz, kömür gibi kaynakları lüzumsuz kullandığımızda ne yapmış oluruz?

A) israf B) tasarruf C) birikim

2- I. Elektrikleri ihtiyaç olduğunda yakmak.

II. Suyu lüzumsuz yere akıtmamak.

III. Paramızı ihtiyacımıza göre harcamak.

Yukarıdakileri yapan Furkan aşağıdaki-lerden hangisini yapmıştır?

A) Para harcamıştır. B) Tasarruf yapmıştır. C) İsraf yapmıştır.

3- Ali arkadaşı Mehmet'e "Dün körebe oynarken hiçbir yeri görmedim. Üstelik de düştüm ve ayağım yara oldu.." dedi.

Ali, Mehmet'e hangi duyu organının eksikliğinden söz etmiştir?

A) görme B) duyma C) koklama

4- "Dünya'nın kaynaklarını etmemeliyiz.." cümlesinde boş bırakılan yere hangisi yazılmalıdır?

A) tasarruf B) harcama C) israf

5- Alışveriş yaparken nelere dikkat etmeliyiz?

A) Canımızın istediği her şeyi almalıyız.

B) Öncelikle ihtiyacımız olan malzemeleri almalıyız.

C) İhtiyacımız olsun olmasın ne bulursak almalıyız.

6- Evimizde ısınmak için hangi kaynaktan yararlanmayız?

A) odun B) kömür C) çimento





7- Kendimizi ve evimizi temizlemek için hangi kaynaktan yararlanınız?

A) Su B) kitap C) petrol

4-Hangisi bir duyu organı değildir?

A) kulak B) burun C) boğaz

5- *Gözleriniz kapalıyken size verilen bir yiyeceğin tadını hangi organımızla alırız?*

A) Göz B) Dil C) Deri

MATEMATİK

1 - Bir markette 1 . Gün 7 ekmek, 2. Gün 6 ekmek, 3. Gün 7 ekmek satıldı. Markette 3 günde kaç ekmek satıldı?

2- Mehmet 8 ton demir sattı. Ahmet ise 9 ton demir sattı. İkiisi toplam kaç ton demir satmıştır?

3- Filiz elindeki 18 elmanın 7 tanesini kardeşi Yeşim'e verdi. Filiz'in kaç elması kaldı?

Vay vay vay iyi gidiyorsun:

1 . şifre ANNE.kelimesinin ilk harfi ile aynı harf.





Vıy vıy vıy 4 AĞUSTOS Perşembe günü bizi boya bakalım.





SIRA BİLDİREN SAYILAR

B	İ	R	İ	N	C	İ	E	R	S
E	R	T	Y	U	I	K	O	P	E
Ş	A	S	D	F	G	İ	H	J	K
İ	E	D	Ü	Ç	Ü	N	C	Ü	İ
N	R	F	V	T	G	C	B	O	Z
C	Y	H	N	U	J	İ	M	N	İ
İ	A	S	D	F	G	H	H	U	N
A	L	T	I	N	C	I	J	N	C
S	Y	E	D	İ	N	C	İ	C	İ
Ç	Ö	M	N	B	V	C	Z	U	J
D	O	K	U	Z	U	N	C	U	Ö

SIRA SAYISI

OKUNUŞU

1.

.....

2.

.....

3.

.....

4.

.....

5.

.....

6.

.....

7.

.....

8.

.....

9.

.....

10.

.....





Viy viy viy 5 AĞUSTOS Cuma günü bizi boya bakalım.



Göğsü Kırmızı Serçe

Serçe kuşu, hiç ayna görmemiş. Arkadaşı demiş ki,

"Bizde ayna var gel de bak istersen." Serçecik, aynanın karşısına geçmiş. Uzun uzun,

kendini seyretmiş. Tam o sırada, göğsündeki kırmızı lekeyi görmüş. Görünce çok korkmuş! Yaralandığını sanmış.

Arkadaşı "Korkacak bir şey yok. O gördüğün yara değil. Kırmızı bir leke. Hem göğsünde de çok hoş duruyor." Bundan sonra sana "Göğsü Kırmızı Serçe," diyeceğim." demiş. Bu ad serçenin çok hoşuna gitmiş. Mutlu olmuş. "Cık cık," diye öterek uçmuş! O günden sonra adı "Göğsü Kırmızı Serçe," olmuş.



SORULAR Soru 1 . Serçe aynada kendini seyrederken o sırada ne görmüş?

Soru 2. Serçe göğsündeki kırmızı lekeyi görünce ne sanmış?

Soru 3. Serçenin o günden sonra adı ne olmuş?





TÜRKÇE

1 - Alfabemizde 21 sessiz, 8 de sesli harf olmak üzere 29 harf olduğunu öğrendik.

Aşağıdaki gruplardan hangisi sadece sessiz harflerden oluşmuştur?

- A) a, e, ı, o B) b,c,d,e C) d,f,g,ğ

2- Aşağıdaki kelimelerden hangisi hecelerine doğru ayrılmıştır?

- A) da-r-ı-ca B) Ko-ca-e-li C) İs-ta-nb-ul

3- Aşağıdakilerden hangisi cümle değildir?

- A) Dün evde B) Kalemim kayboldu. C) Can topunu buldu.

4- Aşağıdaki cümlelerden hangisi bizim yanıt vermemizi sağlar?

- A) Gamze okula gitti. B) Nevra kitap kayboldu. C) Eda kim geldi?

5-Aşağıdaki cümlelerden hangisine farklı bir noktalama işareti koyarız?

- A) Selenay bayrama katıldı ()
B) Muhammed kitap yazdı mı ()
C) Ömer nereye gidecek ()

6- "TBMM 23 Nisan 1920 tarihinde Ankara'da açıldı."

TBMM ne zaman, nerede açıldı?

.....

7- "23 Nisan TBMM'nin açılışını Atatürk Türk çocuklarına bayram olarak armağan etti."

TBMM'nin açılışını Türk çocuklarına bayram olarak kim armağan etmiştir?

.....

Vay vay vay süpersin

3. şifre N harfi



Vıy vıy vıy 6 AĞUSTOS Cumartesi günü yap bakalım

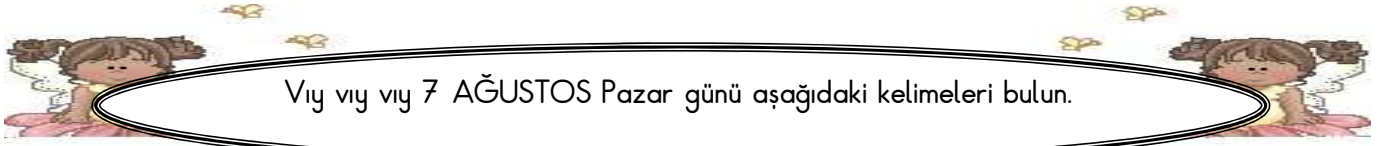
A colorful illustration of a traditional Indian folk dancer, likely a Kathakali character. The figure is shown in profile, facing right, with a large, expressive black mustache and a wide, open-mouthed smile. They are wearing a green headdress with a red flower-like ornament on top. The costume consists of a green tunic with white polka dots, a red sash, and a green skirt with a yellow and black striped border. The figure is holding a small white object in their right hand. The background is plain white.

[illegible]



Yazdığın hikaye ile ilgili aşağıya bir resim yap ne boya.





Viy viy viy 7 AĞUSTOS Pazar günü aşağıdaki kelimeleri bulun.



D	R	N	R	A	E	İ	F	M	K	E
V	A	T	Ö	T	A	Ü	H	Y	Ş	V
C	E	Z	T	I	B	A	L	E	E	H
I	S	P	A	N	A	K	O	Z	Ş	M
İ	A	Ü	V	E	L	R	K	P	O	Ü
N	O	H	U	T	I	M	T	R	Ğ	E
A	A	R	K	N	K	A	V	U	N	R
R	V	D	E	Z	Ç	P	R	Ğ	İ	A
S	Ç	Ğ	N	N	A	R	K	T	İ	E
Ö	E	Ç	Y	İ	Ğ	İ	M	A	Ü	R

ıspanak

bal

nar

nohut

et

tavuk

kavun

balık

D	R	N	R	A	E	İ	F	M	K	E
V	A	T	Ö	T	A	Ü	H	Y	Ş	V
C	E	Z	Ğ	I	Ğ	V	D	E	E	H
H	M	A	R	A	N	G	O	Z	Ş	M
İ	A	Ü	E	D	O	R	K	P	O	Ü
N	N	T	T	A	K	M	T	R	Ğ	E
T	A	R	M	N	T	Ş	O	F	Ö	R
İ	V	D	E	Z	Ç	P	R	Ğ	İ	A
S	Ç	Ğ	N	N	A	R	K	T	İ	E
Ö	E	Ç	Y	İ	Ğ	İ	M	A	Ü	R

manav

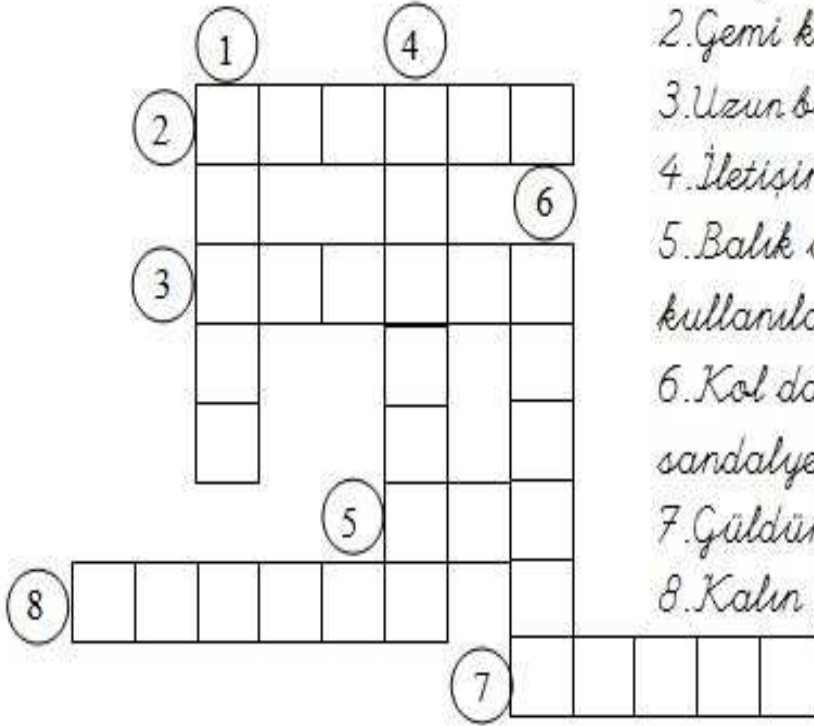
marangoz

doktor

öğretmen

şoför






1. Duyma organımız.
2. Gemi kullanan kişi.
3. Uzun bacaklı, kanatlı uçan kus.
4. İletişim aracı.
5. Balık avlamak için kullanılan naylon ip.
6. Kol dayanacak yeni olan sandalye.
7. Güldürücü.
8. Kalın kağıt

Z	A	M	A	N	Ş	E	R	İ	D	İ	K
L	U	K	O	G	R	A	F	İ	K	L	Ü
T	U	V	A	L	E	T	A	E	F	K	T
N	K	L	T	A	K	V	İ	M	K	Ö	Ü
E	İ	Ğ	A	S	K	İ	L	İ	K	Ğ	P
M	L	T	Y	K	O	R	İ	D	O	R	H
T	P	T	S	İ	N	İ	F	C	A	E	A
E	A	R	Ü	D	Ü	M	G	Ç	A	T	N
R	T	Ö	R	E	N	A	R	İ	S	İ	E
Ğ	İ	Y	Z	Ö	N	L	Ü	K	F	M	Z
Ö	K	U	R	A	L	L	A	T	N	A	Ç
Ç	Ö	P	K	U	T	U	S	U	T	L	K

Okul
Zaman Seridi
Kitaplık
Takvim
Öğretmen
Kural
Önlük

Sınıf
Asklık
Koridor
Tuvalet
Kütüphane
Sıra

İlköğretim
Çöp Kutusu
Madan
Tören
Çanta
Grafik



Bu çalışma KERİM GÖKÇE tarafından hazırlanmıştır.

