



Merhaba Dostum Ben **GARFIELD**

Seninle bu hafta yani **5 Eylül – 11 Eylül** arasında beraberiz. Sana hangi günler hangi dersleri yapacağını ben söyleyeceğim. Benim söylediğim tarihlerde ödevini yapacaksın. Bu arada aşağıdaki arkadaşımız **PİNOKYO**'nun da vereceği şifreleri doğru yap. Kolay gelsin.



12.

HAFTA



Merhaba ben **PİNOKYO**

Sana bu hafta vereceğim şifreleri bulacaksın. Şifremiz 3 tane ve çok kolay. Sayfaları yaptıkça beni gördüğün yerlerde bulacaksın bunları. Bu şifreleri aşağıdaki kutulara yaz . Sonra tüm şifreleri kitabının sonunda birleştirmeyi unutma.

12.Hafta Şifreleri

1	2	3
<input type="text"/>	<input type="text"/>	<input type="text"/>



Bu çalışma KERİM GÖKÇE tarafından hazırlanmıştır.



Bu hafta okuduğın hikayenin haritasını çıkar



Hikâyenin Adı

Hikâyenin Yazarı

HİKÂYE
HARİTASI

Hikâyedeki Olaylar

Hikâyenin Resmini Çiz





Merhaba dostum. Bu sayfa 5 Eylül Pazartesi günü
yapılacak



1 -Oya her hafta 1 0 TL para biriktiriyor. 3 hafta sonra biriktirdiği para ile kendisine 20 TL ye ayakkabı aldı.5 TL de defter aldı. Oya'nın kaç TL parası kalır?

2-Burak'ın doğum günü partisine 1 7 kız arkadaşı 9 da erkek arkadaşı katıldı. Ancak bir süre sonra arkadaşlarından 6'sı partiden ayrılmak zorunda kaldı.Burak'ın partisinde geriye kaç arkadaşı kaldı?

3-Okan 30 tane kitabının 7 tanesini Ahmet'e 3 tanesini de Elif'e hediye etti. Okan'ın geriye kaç kitabı kaldı?

4-Pikniğe giden bir aile götürdükleri 25 litre suyun 8 litresini kullandılar.6 litresini de ormandaki fidanları sulamak için kullandılar. Geriye ne kaç litre suları kaldı?

5-Emir'lerin ahırında 1 4 inek, ineklerden 5 fazla da koyun yaşamaktadır. Ahırda kaç tane koyun vardır?





6- 10 sayısına 18 eklersek elde ettiğimiz sayı kaç olur?

7-Cebimdeki 50 TL ile markete gittim. 20 TL ye oyuncak 5 TL ye meyve aldım. Kaç TL ödemem gereklidir?

8- 2 onluk 3 birlikten oluşan sayıdan 1 birlik 1 onluktan oluşan sayıyı çıkardığımızda sonuç ne olur?

9- 4 Atın ayak sayıları ile 3 keçinin ayak sayıları toplamı kaçtır ?

10- 25 TL si olan Sıla kırtasiyede 2 TL ye silgi, 5 TL ye test kitabı, 6 TL ye de Türkçe sözlük aldı. Sıla'nın geriye kaç TL si kalır?

11 -Buse 15 yaşındadır. Kardeşi Buse'den 3 yaş küçüktür. Buse ile kardeşinin yaşları toplamı kaçtır?

12-Gürkan 80 sayfa kitabın 1. Gün 30 sayfasını, 2. Gün de 20 sayfasını okumuştur. Gürkan'ın geriye okunacak kaç sayfası kalmıştır?



Bu sayfa 6 Eylül Salı günü yapılacak




SESLİ-ÜNLÜ HARFLERİ BULUNUZ

Hayvanların adları bulmayacaya yazılırken ünlüler unutulmuş. Ünlüleri yerlerine yazarak hayvanların adlarını

bulunuz.



K		R	B		Ğ	
P		L		K		N
D		N		Z		R
K		R		N	C	
	H	T		P		T
P		N	G			N
	R		M	C		K
P		P		Ğ		N
K		N	G		R	





Aşağıdaki kimi sözcükler yerlerini şaşırmış.
Hecelerle oluşan doğru sözcüğü bularak anlamlı cümleyi yaz.

ku-mu-o-lu

çok

vi-rum-se-yo

--	--	--	--	--	--	--

--	--	--

--	--	--	--	--	--	--	--

ca-ma-bul

ta-ki-mı-bı

ğen-dim-be

--	--	--	--	--	--	--

--	--	--	--	--	--	--	--

--	--	--	--	--	--	--	--

ci-la-i

ne-za-ec-den

lı-yo-a-rum

--	--	--	--	--

--	--	--	--	--	--	--	--

--	--	--	--	--	--	--	--

te-e-sen-pe

te-ko-ca-pe

da-bu-ra-

--	--	--	--	--	--

--	--	--	--	--	--

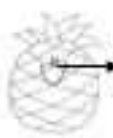
--	--	--	--	--	--



--	--	--	--	--	--	--



--	--	--	--



--	--	--	--



--	--	--	--



--	--	--	--




--	--	--	--	--	--	--



Bu sayfa 7 Eylül Çarşamba günü yapılacak



1.Yaptığınız sporları işaretleyin



2. Spor yapmanın yararları nelerdir?

*. Kaslarımızı geliştirir.

*.

*.

*.

3.

İLETİŞİM ARAÇLARI

◆	□	★
radio	gazete	televizyon
kasetçalar	mektup	bilgisayar

Yukarıdaki tabloda iletişim araçlarının ataları sembollerle gösterilmiştir. Bu ataların doğru verildiği seçenek hangisidir?



A. görsel işitsel görsel ve işitsel

B. işitsel görsel görsel ve işitsel

C. görsel işitsel görsel ve işitsel

4. Aşağıdakilerden hangisi yazılı iletişim araçlarındandır?

A. radyo B. televizyon C. gazete

5. "Melisaların evinin boyanması gerekiyordu. Melisa evin pembeye, annesi maviye, babası ise sarıya boyanmasını istedi."

Sizce bu aile nasıl karar almalıdır?

A. Babanın istediği renge boyamalıdır.

B. Annenin istediği renge boyamalıdır.

C. Aile bireyleri ortak karar almalıdır.

6. Yediğimiz besinler vücudumuzda nereye gider?

A. Mide B. Kalp C. Akciğer

7. Yemek yerken uymamız gereken kurallardan 3 tanesini yazın.

*.

*.

*.





8. Doğru tümcelerın başına "D.", yanlış olanlara "Y." yazın.

(....) Ailede küçüklerin düşünceleri dikkate alınmaz.

(....) Deprem, sel, çığ, heyelan birer doğal afettir.

(....) Sağlıklı yaşamak için düzenli olarak sabah kahvaltısı yapmalıyız.

(....) Yangın gördüğümüzde hemen 1 5 5' aramalıyız.

(....) Bilgisayar bir iletişim aracı değildir.

(....) Yemek yerken görgü kurallarına dikkat etmeliyiz.

(....) Evimizin adresini bilmek önemli değildir.

(....) Dişlerimizi günde bir kere fırçalamalıyız.

(....) Akşamları bol bol çay, kahve gibi yiyecekler tüketmeliyiz.

(....) Bazı meslekler, diğerlerine göre daha gerekli ve saygındır.

(....) Gerekli önlemler alarak depremin zararlarını en aza indirebiliriz.

(....) Sağlıklı bir yaşam sürmek için spor yapmalıyız.

9. Hangileri fiziksel özelliklerimizdendir, işaretleyin.

saçımızın rengi ☐ müzikten hoşlanmak ☐

sevdiğimiz meyveler ☐ göz rengimiz ☐

boyumuzun uzunluğu ☐ yeteneklerimiz ☐



1 0. Acil durumlarda gerek duyabileceğimiz bilgilerin başına * koyun.

☐ Evimizin adresi ☐ Evin rengi

☐ Evin bahçesindeki ağaçlar

☐ Anne babamızın telefonları

1 1. "Sabah erkenden kalktım. Yürüyüş yapmak için merdivenden indim. Hava çok soğuktu, üşüdüm. Tam fırının önünden geçerken mis gibi ekmek kokusuna dayanamayıp ekmek aldım. Etrafa bakınarak hızla eve döndüm."

Yukarıdaki paragrafta hangi duyu organından söz edilmemiştir?

A.

B.

C.



1 2. "İnsanlar yaşadıkları olaylara göre farklı duygular yaşarlar. Bu durum karşısında olmalıyız." tümcesinde boş bırakılan yere hangisi getirilmelidir?

A. umursamaz B. hoşgörü ☐ C. kızgın

1 3. Ailedeki dayanışma ile ilgili verilen bilgilerden hangisi yanlıştır?

A. Sevgi ve saygıyı kuvvetlendirir.


B. Paylaşma ve dayanışmanın mutluluğu yaşanır.

C. Annemiz bizi daha çok sevsin diye yardım ederiz.





8 Eylül Perşembe günü işlemleri yap ve sonuçlarını aşağıdaki kutulara yazarak şifreyi bul.



K

$19 - 6 =$

E

$17 - 3 =$

T

$10 - 2 =$

K

$8 - 4 =$

L

$12 - 6 =$

O

$22 - 7 =$

O

$10 - 5 =$

A

$10 - 10 =$

M

$25 - 6 =$

Ç

$11 - 8 =$

K

$27 - 4 =$

M

$26 - 10 =$

A

$18 - 7 =$

A

$19 - 2 =$

İ

$9 - 8 =$

T

$18 - 6 =$

Y

$10 - 1 =$

19

11

18

14

16

0

12

1

13

3

5

4

23

15

6

17





9







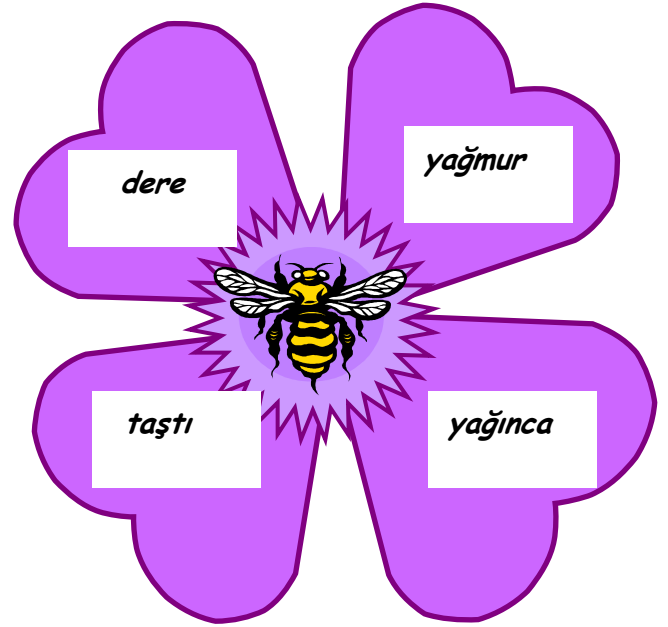

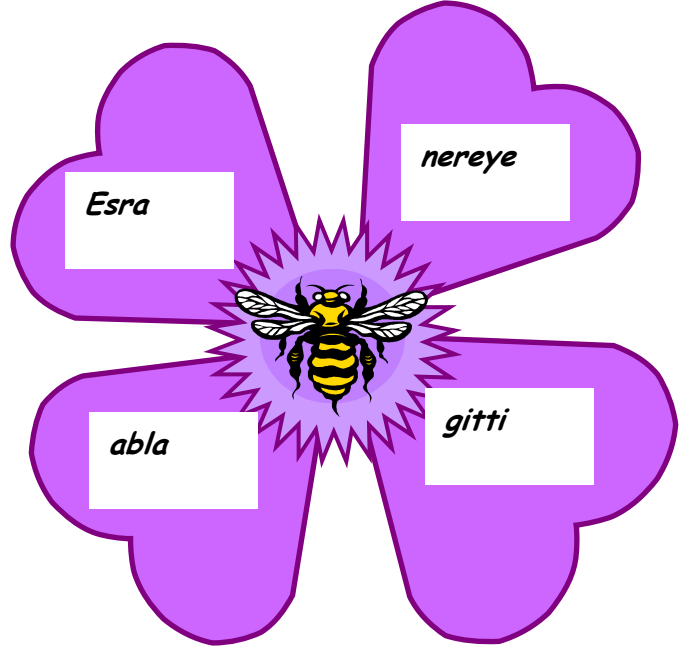

Bu sayfa 9 Eylül Cuma günü yapılacak.
Süpersin dostum.



Evet dostum hangi aydayız?

2. ŞİFREMİZ İÇİNDE BULUNDUĞUMUZ AYIN 2.
HARFİ





A cartoon illustration of Garfield, an orange tabby cat with a grumpy expression, standing on his hind legs with his arms crossed.[illegible]



Yazdığın hikaye ile ilgili aşağıya bir resim yap ne boyca.

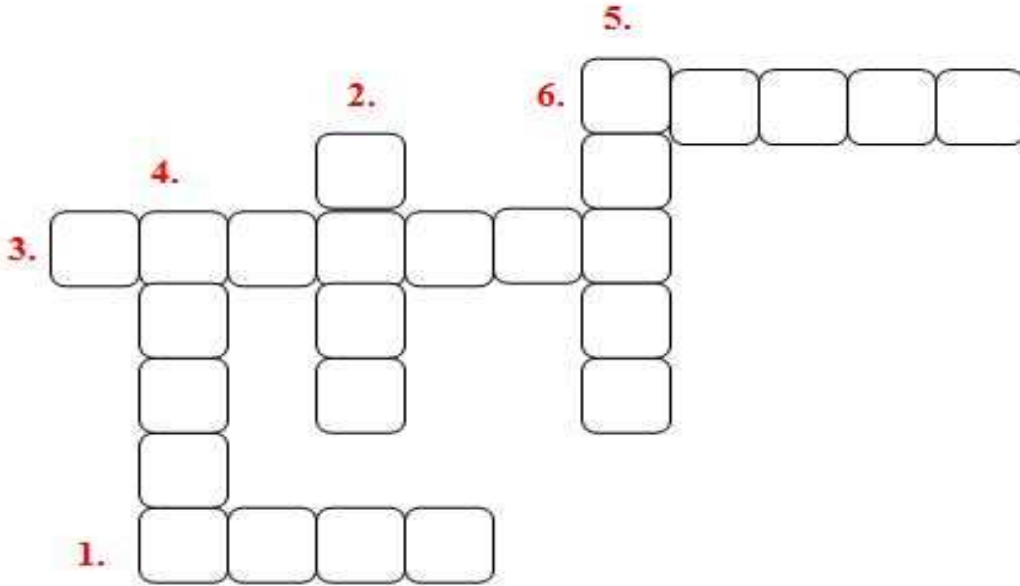
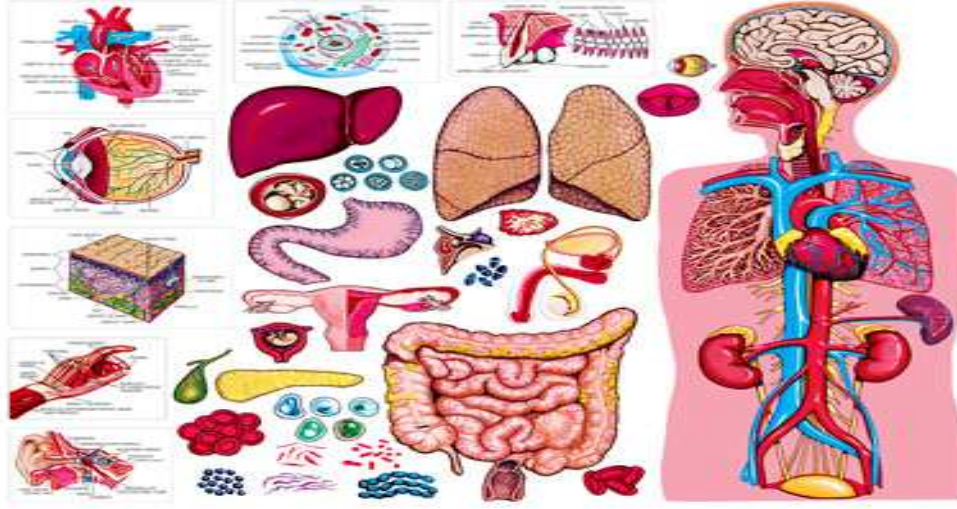




Bu sayfa 11 Eylül Pazar günü yapılacak. Bay bay dostum. Benim işim bu kadar.



ORGANLARIMIZ İLE İLGİLİ BULMACA



1. Tüm vücudumuza kan pompalar.

2. Yediğimiz besinleri sindirir.

3. Aldığımız havayı temizler.

4. İşitme organımızdır.

5. Koku almamızı sağlar.

6. Vücudumuzu ve organlarımızı yönetir.

Evet dostum. 1. ve 3. Şifre aynı. YUKARIDAKİ
2. SORUNUN 2. HARFİ





<http://www.coloriez.com>



Bu çalışma KERİM GÖKÇE tarafından hazırlanmıştır.