

# Etkinlik Yapıyorum

Adı Soyadı:.....

MATEMATİK

Tarih:.....

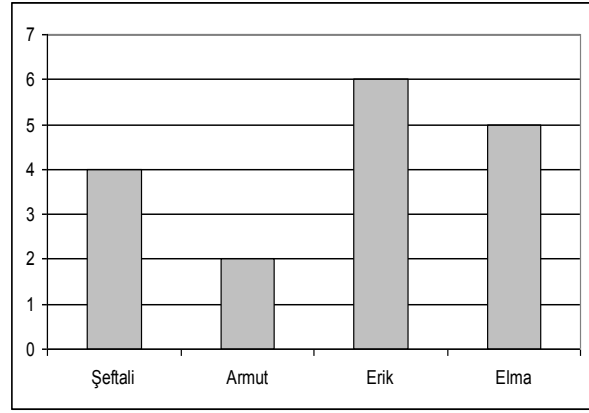
2. ÜNİTE: VERİLERLE VE SAYILARLA İŞLEMLER

KONU: Sütun Grafiği yorumlayalım

22

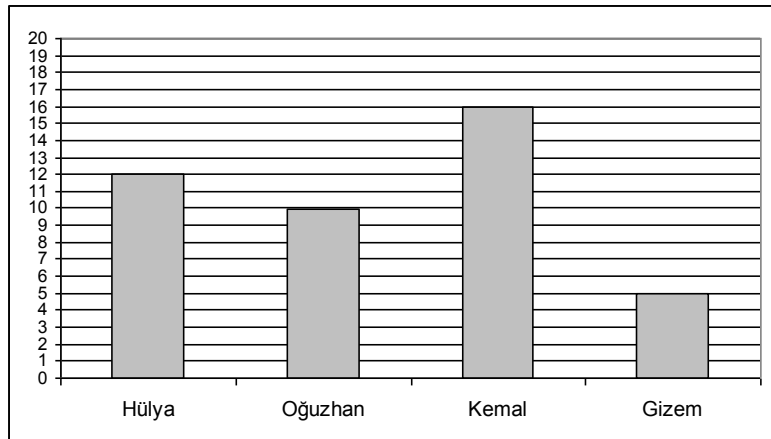
Bir hafta içinde Hatice yediği meyveleri liste yaptı. Bu listeye göre sütun grafiğini hazırladı. Grafiğe göre aşağıdaki soruları cevaplandıralım.

1. Hatice en çok hangi meyveden yemiştir?.....
2. Hatice en az hangi meyveden yemiştir?.....
3. Hatice toplam kaç meyve yemiştir?.....



Sınıfımızda başkanlık seçimine 4 aday katıldı. Bu adayların adlıları oylar aşağıdaki grafikte gösterilmiştir. Grafiğe ait soruları cevaplandıralım.

- 1.Sınıf mevcudu kaç öğrencidir?  
.....
- 2.Kim başkan olmuştur?  
.....
- 3.Kim başkan yardımcısı olmuştur?  
.....




4. Sınıf başkanı kaç oy almıştır? .....
5. En az oyun kim almıştır? Kaç oy almıştır? .....

Konu: Sütun grafiği hazırlayalım.

4-C sınıftaki öğrencilerin kardeş sayısını belirledi. Buna göre aşağıdaki tablo oluşturuldu. Bu tabloya göre Sütun grafiğini hazırlayalım.

Ailede bulunan öğrenci sayısı	Ailedeki çocuk sayısına göre öğrenci sayısı
1 çocuk	6
2 çocuk	9
3 çocuk	12
4 çocuk ve fazlası	8




4-A sınıfı öğrencileri spor etkinliklerine katılmak üzere Folklor, Voleybol, basketbol ve futbol'a ayrılmışlardır. Aşağıdaki verilere göre sütun grafiğini hazırlayınız.

FUTBOL = 15 Öğrenci

Basketbol = 3 Öğrenci

Folklor = 9 Öğrenci

Voleybol = 6 Öğrenci



Velinin imzası.....