

## ONLUK VE BİRLİKLER




..... Onluk

..... Birlik




..... Onluk

..... Birlik



..... Onluk

..... Birlik




..... Onluk

..... Birlik



..... Onluk

..... Birlik



..... Onluk

..... Birlik

Yukarıdaki varlıkları sayıp kaçan tane olduklarını belirleyelim. Sonra 10 tanesini ayırıp bağlayalım ve onluk yapalım.


Kaç onluk yaptığımızı ve kalan birlikleri yan tarafına yazalım...

## ONLUK VE BİRLİKLER




..... Onluk

..... Birlik




..... Onluk

..... Birlik




..... Onluk

..... Birlik




..... Onluk

..... Birlik



..... Onluk

..... Birlik



..... Onluk

..... Birlik

Yukarıdaki varlıkları sayıp kaç tane olduklarını belirleyelim. Sonra 10 tanesini ayırıp bağlayalım ve onluk yapalım.

Kaç onluk yaptığımızı ve kalan birlikleri yan tarafına yazalım...