

OTURUM

2



T.C.

MİLLÎ EĞİTİM BAKANLIĞI
AÇIK ÖĞRETİM LİSESİ / MESLEKİ AÇIK ÖĞRETİM LİSESİ
2013-2014 ÖĞRETİM YILI 3. DÖNEM SINAVI
2. OTURUM: 23 AĞUSTOS 2014 Saat:14.00

T

<u>DERS KODU VE ADI</u>	<u>SAYFA</u>	<u>DERS KODU VE ADI</u>	<u>SAYFA</u>	<u>DERS KODU VE ADI</u>	<u>SAYFA</u>
(117) DİN KÜL. AHL. BİL. – 7	2	(423) FİZİK – 3	29	(501) ALMANCA – 7	59
(118) DİN KÜL. AHL. BİL. – 8	3	(424) FİZİK – 4	30	(501) FRANSIZCA – 7	60
(131) TARİH – 1	5	(431) KİMYA – 1	32	(512) FIKIH – 2	61
(135) TARİH – 5	6	(437) KİMYA – 7	34	(524) SEÇ. Y. DİL İNG. – 4	62
(141) T.C. İNK. TAR. ATA. – 1	7	(438) KİMYA – 8	35	(524) SEÇ. Y. DİL ALM. – 4	63
(152) COĞRAFYA – 2	9	(442) BİYOLOJİ – 2	36	(524) SEÇ. Y. DİL FRAN. – 4	64
(156) COĞRAFYA – 6	10	(444) BİYOLOJİ – 4	38	(527) SEÇ. Y. DİL İNG. – 7	65
(164) MATEMATİK – 4	11	(447) BİYOLOJİ – 7	39	(527) SEÇ. Y. DİL ALM. – 7	66
(182) İNGİLİZCE – 2	13	(451) ÇAĞ TÜRK VE DÜN. TAR. – 1	40	(527) SEÇ. Y. DİL FRAN. – 7	67
(182) ALMANCA – 2	14	(455) DEM. ve İNSAN HAK. – 1	42	(531) HZ. MUHAMMED'İN HAY. – 1	68
(182) FRANSIZCA – 2	15	(466) TEMEL DİNİ BİL. – 2	43	(612) KARŞ. DİN. TAR. – 2	70
(207) PSİKOLOJİ – 2	16	(467) MATEMATİK – 7	45	(614) SEÇ. DİL ve ANLA. – 4	71
(208) SOSYOLOJİ – 1	17	(475) İŞ GÜVENLİĞİ – 2	46	(625) SEÇ. TÜRK EDEB. – 5	72
(243) İNGİLİZCE – 4	19	(476) İŞLETME – 1	47	(712) İSLAM TARİHİ – 2	74
(243) ALMANCA – 4	20	(481) SANAT TARİHİ – 1	48	(812) KELAM – 2	75
(243) FRANSIZCA – 4	21	(482) SANAT TARİHİ 2	50	(932) SİYER – 2	77
(404) DİL VE ANLATIM – 4	22	(483) SAĞLIK BİLGİSİ – 1	51	(998) MATEMATİK – 1	78
(411) TÜRK EDEBİYATI – 1	23	(492) TRAF. ve İLK YARD. – 2	52		
(412) TÜRK EDEBİYATI – 2	24	(493) GEOMETRİ – 3	54		
(415) TÜRK EDEBİYATI – 5	26	(498) GEOMETRİ – 8	56		
(422) FİZİK – 2	27	(501) İNGİLİZCE – 7	58		

ADAYLARIN DİKKATİNE!

1. Her ders için **20** soru bulunmaktadır. Bu oturumda **180** dakikalık cevaplama süreniz vardır. Sınav başladıktan sonra ilk **30** dakika dolmadan dışarı çıkmayınız.
2. Sınav sırasında sözlük, hesap cetveli veya makinesi, çağrı cihazı, cep telefonu, telsiz, radyo gibi elektronik iletişim araçlarını yanınızda bulundurmuyunuz. Bu araçları kullanmanız ve kopya çekmeye teşebbüs etmeniz hâlinde sınavınız geçersiz sayılacaktır.
3. Başvuru şartlarını taşımadığınız hâlde sınava girmeniz, kopya çekmeniz, başka adayın sınav evrakını kullanmanız, geçerli kimlik belgenizi ve sınav giriş belgenizi ibraz edemediğiniz durumlarda sınavınız geçersiz sayılacaktır.
4. Sınavın değerlendirilmesi aşamasında, bilgisayar ortamında yapılan kopya analizinde ikili veya toplu kopya tespiti hâlinde sınavınız geçersiz sayılacaktır.

CEVAP KÂĞIDI VE SORU KİTAPÇIĞI İLE İLGİLİ AÇIKLAMALAR

1. Cevap kâğıdınızdaki bilgilerin doğruluğunu kontrol ediniz ve cevap kâğıdınızı mürekkepli kalemle imzalayınız.
2. Cevap kâğıdı üzerinde kodlamalarınızı kurşun kalemle yapınız.
3. Değiştirmek istediğiniz bir cevabı, yumuşak silgiyle cevap kâğıdını örselemeden temizce siliniz ve yeni cevabınızı kodlayınız.
4. Soru kitapçığının sayfalarını kontrol ediniz, baskı hatası var ise değiştirilmesini sağlayınız.
5. Soruların çözümü için size ayrıca boş kâğıt verilmeyecektir. Soru kitapçığının içindeki boş alanları soru çözümleri için kullanabilirsiniz.
6. Her sorunun dört seçeneğinden sadece biri doğrudur. Doğru seçeneği, cevap kâğıdınızın ilgili sütununa soru numarasını dikkate alarak yuvarlağın dışına taşırmadan kodlayınız. **Soru kitapçığı üzerinde yapılan cevaplandırmalar dikkate alınmayacaktır.**
7. Cevaplamaya istediğiniz dersin sorusundan başlayabilirsiniz. Cevabını bilmediğiniz sorular üzerinde fazla zaman kaybetmeden diğer sorulara geçiniz. Zamanınız kalırsa bu sorulara daha sonra dönebilirsiniz.
8. Yanlış cevaplarınız dikkate alınmadan sadece doğru cevaplarınız üzerinden puanlama yapılacaktır.
9. Soruları ve sorulara verdiğiniz cevapları, yanınızda götürmek amacıyla kaydetmeyiniz; hiçbir şekilde dışarı çıkarmayınız.
10. **Sınav bitiminde, soru kitapçığı ve cevap kâğıdını salon görevlilerine teslim ediniz.**

BAŞLAYINIZ DENİLMEDEN SORU KİTAPÇIĞINI AÇMAYINIZ.

2. OTURUM

(117) DİN KÜL. AHL. BİL. – 7

1. “O, hanginizin daha güzel iş yapacağını denemek için ölmü ve hayatı yarattı. O, üstündür, bağışlayandır.”
(Mülk suresi, 2. ayet)

Bu ayet aşağıdaki sorulardan hangisine cevap oluşturur?

- A) Hayatın amacı nedir?
B) Yaratılış nasıl başlamıştır?
C) Kıyamet ne zaman kopacaktır?
D) Ahiret hayatının aşamaları nelerdir?

2. Mevlana ölüm gününü aşağıdakilerden hangisiyle ifade etmiştir?

- A) Seyr-i sülük
B) Yevmu'd-Din
C) Şeb-i Arûs
D) Yevmül Vuslat

3. Cenaze namazı kılmanın hükmü nedir?

- A) Vacip
B) Sünnet
C) Müstehap
D) Farz-ı Kifaye

4. Mevlit'in konusu aşağıdakilerden hangisidir?

- A) Ölüm
B) Ahiret
C) Kardeşlik
D) Hz. Muhammed

5. Peygamberimizin “İnsan ölünce üç şey hariç dünyadaki ameliyle ilişkisi kesilir. Bunlar; ...”

Aşağıdakilerden hangisi peygamberimizin bu hadisinde sıraladıklarından biri değildir?

- A) Sadaka-i cariye
B) Bereketli bir kazanç
C) Kendisinden faydanılan ilim
D) Kendisine dua eden salih evlat

6. Aşağıdakilerden hangisi ölülerin diriltilip hesaba çekilmek için bir araya getirilmesini ifade eder?

- A) Ahiret
B) Mizan
C) Haşır
D) Sırat

7. Peygamberimizin “Kişi kıyamet günü şu dört şeyden hesaba çekilmedikçe yerinden ayrılmaz.” buyurmuştur.

Aşağıdakilerden hangisi bu dört şeyden biri değildir?

- A) Ne kadar mal kazandığından
B) Vücudunu nerde yıprattığından
C) Ömrünü nerde geçirdiğinden
D) Bildiği ile amel edip etmediğinden

8. Yüce Allah'ın isimlerinden olan es-Settar'ın anlamı aşağıdakilerden hangisidir?

- A) Çok affeden
B) Hikmetli iş yapan
C) Tevbeleri kabul eden
D) Hata ve günahları örten

9. “... Şayet sen kaba ve katı yürekli olsaydın, hiç şüphesiz etrafından dağılıp giderlerdi...”
(Ali İmran suresi, 159. ayet)

Bu ayette peygamberimizin hangi özelliği vurgulanmaktadır?

- A) Sabrı ve kararlılığı
B) Hoşgörü ve merhameti
C) Güvenilirliği ve sadakati
D) Cömertliği ve bağışlayıcılığı

10. “Nerede olursan ol, Allah'tan kork ve işlediğin kötülüğün hemen arkasından onu yok edecek bir iyilik yap.”

Bu hadisten çıkarılacak asıl mesaj aşağıdakilerden hangisidir?

- A) Tevbe etmenin kardeşlik duygularını pekiştirdiği
B) Sorumluluk duygusunun insanı kötülükten koruduğu
C) Yapılan iyiliklerin kötülükleri gidereceği
D) İnsanın kötülük işlemeye yatkın olduğu

11. Peygamberimizin davranışları hangi çeşit sünnete örnektir?

- A) Fiili sünnet
B) Sözlü sünnet
C) Takriri sünnet
D) Ehli sünnet

12. Kalbini manevi kirlerden temizleyen, Allah'tan başka her şeyi gönlünden çıkararak, ruhunu Hakk'ın zikri ile süsleyen kişiye ne denir?

- A) Mutasavvıf
B) Mütefekkir
C) Müfessir
D) Muhaddis

13. “İnanıp da imanlarına herhangi bir zulüm bulaştırmayanlar...”
(En'am suresi, 82. ayet)

Peygamberimiz bu ayette geçen zulümden kastın “şirk” olduğunu ifade etmiştir.

Peygamberimizin bu açıklaması sünnetin hangi yönüne örnektir?

- A) Destekleyici
B) Açıklayıcı
C) Hüküm koyucu
D) Müjdeleyici

14. Sahih-i Müslim ve Sünen-i Ebu Davud adlı eserler aşağıdaki bilim dallarından hangisine aittir?

- A) Fıkıh
B) Tasavvuf
C) Tefsir
D) Hadis

15. Hz. Muhammed'in hayatında takip ettiği yola, prensip haline getirdiği davranışlarına ne denir?

- A) Tefsir
B) Mezhep
C) Sünnet
D) Muhaddis

2. OTURUM

16. Tasavvufi düşünceye göre, her varlık Allah'ın cemal (güzellik) sıfatından bir iz taşır. Bunun bir sonucu olarak her varlık, sevimliye layıktır. Ancak asıl sevimliliği gereken varlık, bütün güzellikleri yaratan cemal sahibi yüce Allah'tır. Bir mutasavvıf kainatta her varlığa bu gözle bakar.

Bu paragrafta aşağıdakilerden hangisine değnilmemiştir?

- A) İnsan kainat ilişkisi
- B) İnsan ahlak ilişkisi
- C) İnsan güzellik ilişkisi
- D) Yaratan yaratılan ilişkisi

17. Türkistan'da "Hazreti Türkistan", "Pir-i Türkistan" lakabıyla anılan tasavvuf alimi kimdir?

- A) Mevlana Celaleddin Rumi
- B) Abdulkadir Geylani
- C) Hacı Bektaş Veli
- D) Ahmet Yesevi

18. • Kurucusu 1318'de Buhara'da doğdu.
• İmam Rabbani ve Mevlana Halid önemli temsilcilerindendir.
• Allah'ı çokça anarak, O'nun sevgisini kalbine nakşetmek tasavvufi oluşuma isim olmuştur.

Hakkında bilgi verilen tasavvufi oluşum aşağıdakilerden hangisidir?

- A) Mevlevilik
- B) Nakşibendilik
- C) Kadirilik
- D) Yesevilik

19. Alevilik Bektaşilik geleneğinde; ilahi aşkı ruhunda duymaya, o aşkla Allah'ın güzel isimlerinden herhangi birini anarak ayakta dönmeye ne denir?

- A) Gülbenk
- B) Musahiplik
- C) Semah
- D) Cem

20. • Peygamberimizin Mekke'yi fethettiğinde müşrikleri inançlarında serbest bırakması
• Hz. Ömer'in Kudüs'ü fethettiğinde farklı inanç gruplarını inanç ve ibadetlerinde serbest bırakması
• Fatih Sultan Mehmet'in İstanbul'u fethinde Yahudi ve Hristiyanları inançlarında serbest bırakması

Bu olaylar İslam Medeniyeti'nin daha çok hangi yönüne örnek oluşturur?

- A) Hoşgörüyü verdiği değere
- B) Ahlaki değerlere verdiği öneme
- C) Yardımlaşma ve dayanışmaya verdiği öneme
- D) Güven ortamının sağlanmasına verdiği öneme

(118) DİN KÜL. AHL. BİL. – 8

1. Mekke, Müslümanlar tarafından fethedildiğinde birçok müşrik öldürülmeyi beklerken Peygamberimiz hepsini affetmişti.

Bu uygulamanın Hz. Muhammed'in hangi yönüne örnek oluşturduğu söylenebilir?

- A) Cesaretli olmasına
- B) Sabırlı olmasına
- C) Alçak gönüllülüğüne
- D) Hoşgörüyü verdiği öneme

2. Aşağıdaki sözlerden hangisinin konusu diğerlerinden farklıdır?

- A) "Herşeyin bir şerefi vardır. İyiliğin şerefi acele yapılmasıdır."
(Hz. Ömer)
- B) "Sakin ol, kimsenin gönlünü yıkma"
(Hacı Bektaş Veli)
- C) "Bal demekle ağız tatlanmaz"
(Atasözü)
- D) "Sana kötülük edenlere sen iyilik et"
(Cabbar Kulu)

3. Atatürk'ün emriyle İslam dininin doğru anlaşılması için Diyanet İşleri Başkanlığı'nın Babanzade Ahmet Naim ile Kamil Miras'a hazırlattığı Hadis kitabı aşağıdakilerden hangisidir?

- A) Sahihi Buhari Muhtasarı Tecridi Sarih Tercemesi
- B) Hulasat'ül-Beyan fi Tefsiril-Kur'an
- C) Hak Dini Kur'an Dili
- D) Fi Zilali'l Kur'an

4. Şam, Kahire, İstanbul, Hatay, Mardin gibi illerde İslam'dan önce var olan kilise ve havraların günümüzde de ibadete açık şekilde varlıklarını sürdürebilmeleri İslam dininin hangi yönüne kanıt oluşturmaktadır?

- A) Kurumsallaşmaya verdiği öneme
- B) Farklı inanç ve kültürleri hoş gördüğüne
- C) Eğitim ve öğretime verdiği öneme
- D) Geniş bir coğrafyada hükmettiğine

5. Cumhuriyet döneminde ilahiyat fakültesi ve imam hatip mekteplerini kanun çıkartarak ilk olarak açtıran devlet adamı kimdir?

- A) Mustafa Kemal Atatürk
- B) Süleyman Demirel
- C) Adnan Menderes
- D) İsmet İnönü

6. Aşağıdakilerden hangisi Hint dinlerinden biridir?

- A) Taoizm
- B) Şintoizm
- C) Budizm
- D) Yahudilik

7. Hz. Musa'ya gönderilen din aşağıdakilerden hangisidir?

- A) Hristiyanlık
- B) Yahudilik
- C) İslamiyet
- D) Sabiilik

2. OTURUM

8. Yahudiler tanrılarını aşağıdakilerden hangisi ile isimlendirirler?

- A) Yehova B) Tao
C) Mana D) Nirvana

9. • Mısır hükümdarı Firavun bir rüya gördü.
• Rüyasını yorumlayan kâhin, İsrailoğullarından bir erkek çocuğun ilerde Firavun'un krallığını ele geçireceğini söyledi.
• Yüce Allah, annesine çocuğu emzirip Nil nehrine bırakmasını emretti.
• Askerlerde çocuğu nehirden bulup Firavun'un sarayına götürdüler. Çocuk orada büyüdü...

Yukarıda hakkında bilgi verilen peygamber kimdir?

- A) Hz. Yunus B) Hz. Yusuf
C) Hz. Yakub D) Hz. Musa

10. Hz. Musa'ya içinde on emrin bulunduğu Tevrat nerede vahyedilmiştir?

- A) Kubeys Tepesinde
B) Sevr Mağrasında
C) Sina Dağında
D) Arafat Dağında

11. Aşağıdakilerden hangisi Yahudilerin kutsal kitabıdır?

- A) Ahdi Cedid B) Tanah
C) İncil D) Vedalar

12. Aşağıdakilerden hangisi Yahudilikle ilgili bir kavram değildir?

- A) Havra B) Teslis
C) Kipa D) Haham

13. Aşağıdakilerden hangisi İslam dinine ait bir özellik değildir?

- A) İlahi bir dindir.
B) Mesajları evrenseldir.
C) Kutsal kitabı hiçbir değişikliğe uğramamıştır.
D) İnsanların günahkar doğduğuna inanılır.

14. Hz. Muhammed hakkında aşağıda verilen bilgilerden hangisi doğrudur?

- A) Kabri Mekke'dedir.
B) 610 yılında doğmuştur.
C) 40 yaşında kendisine peygamberlik verilmiştir.
D) On üç yıl peygamberlik yapmıştır.

15. Aşağıdakilerden hangisi İslam dininin inanç esaslarından biridir?

- A) Oruç tutmak
B) Güzel ahlak sahibi olmak
C) Günahlardan tevbe etmek
D) Bütün peygamberlere inanmak

16. Kast sistemi hakkında aşağıda verilen bilgilerden hangisi doğrudur?

- A) Kişinin geçmiş yaşantısında ne yapmışsa gelecek hayatında onu görmesidir.
B) Hint inançlarına göre toplumun çeşitli sınıflara ayrılmasıdır.
C) Beden ile ruh arasında bütünlük ve uyum sağlamaktır.
D) Ölen kişinin ruhunun bir bedenden diğerine geçmesidir.

17. Budizm'de belirgin bir tanrı inancı yoktur. Budizm'de asıl amaç; Nirvana'ya ulaşmaktır. Budist bir kişinin Nirvanaya ulaşması için aşağıdakilerden hangisi gereklidir?

- A) Sekiz dilimli yolun prensiplerine uyması
B) Bütün günahlarından tevbe etmesi
C) Vaftiz suyuyla günahlarından arınması
D) İçindeki beş şeytanı ve beş kötülüğü yenmesi

18. • Kurucusu Guru Nanak'tır.
• Kutsal kitabı Adi Granth'dır.
• Reenkarnasyona inanılır.

Hakkında bilgi verilen din aşağıdakilerden hangisidir?

- A) Caynizm B) Sihizm
C) Şintoizm D) Konfüçyanizm

19. • Japonların geleneksel milli dinidir.
• Ata ruhlarına önem verilir.
• Aynı anda birden çok dine inanılabilir.

Hakkında bilgi verilen din aşağıdakilerden hangisidir?

- A) Sihizm B) Taoizm
C) Caynizm D) Şintoizm

20. İlahi dinler hakkında aşağıda verilen bilgilerden hangisi yanlıştır?

- A) Hristiyanlar, yahudi peygamberlerini kabul ederler.
B) Yahudilikte, kutsal kitaplar yazılı ve sözlü olmak üzere ikiye ayrılır.
C) Ahiret inancı Yahudiliğin inanç esaslarındandır.
D) Hristiyanlara göre Hz. Davud son peygamberdir.

2. OTURUM

(131) TARİH – 1

1. Aşağıdakilerden hangisi, tarih biliminin kullandığı yazılı kaynaklardan değildir?

- A) Yıllıklar B) Kitabeler
C) Mektuplar D) Efsaneler

2. Tarihte Ay takvimini ilk bulan uygarlık, aşağıdakilerden hangisidir?

- A) Lidyalılar B) Mısırlılar
C) Sümerler D) Medler

3. Hicri takvimin başlangıcı da kabul edilen olay, aşağıdakilerden hangisidir?

- A) Hz. Muhammed'in Mekke'den Medine'ye göç etmesi
B) Mekke'nin Müslümanlar tarafından fethedilmesi
C) Müslümanların Müşrikler ile Hudeybiye Antlaşması'nı imzalaması
D) Hz. Muhammed'in Veda Haccı'na gitmesi

4. Türklerin tarihte kullanmış olduğu;

- I- Celali
II- Hicri
III- Miladi

takvimlerden hangileri ay yılı esas alınarak hazırlanmıştır?

- A) Yalnız III B) Yalnız II
C) I ve II D) I, II ve III

5. Hz. Muhammed'in Mekke'den Medine'ye göçü kaç tarihinde olmuştur?

- A) 622 B) 619
C) 617 D) 610

6. Atatürk Dönemi'nde;

- "Türk Tarihinin Ana Hatları" eserinin yazılması
- "Türk Tarihi Tetkik Cemiyetinin" kurulması
- Liseler için IV ciltlik bir genel tarih serisinin yazılması

faaliyetleri ile aşağıdakilerden hangisi amaçlanmıştır?

- A) Ekonomik istihdamı artırmak
B) Türkiye'de sanatın gelişmesini sağlamak
C) Türk dilinin yabancı dillerden arındırılmasını sağlamak
D) Türk gençlerinin tarihlerini daha iyi öğrenmelerini sağlamak

7. "UNESCO'nun Dünya Tarihi" adlı eserinin yazılmasında görev almış olan dünyaca ünlü Türk tarihçisi, aşağıdakilerden hangisidir?

- A) İbrahim Artuk
B) Halil İnalcık
C) İlhan Bardakçı
D) İlber Ortaylı

8. Osmanlı Devleti'nde resmî tarih yazarlarına verilen isim, aşağıdakilerden hangisidir?

- A) Müderris B) Şehnameci
C) Vakanüvis D) Reisülküttab

9. Tarih Öncesi Devirleri inceleyen bir tarihçi, aşağıdaki bilimlerin hangisinden yararlanmaz?

- A) Arkeoloji B) Coğrafya
C) Nüvizmatik D) Antropoloji

10. Demirden zırh yaparak giyen ilk peygamber, aşağıdakilerden hangisidir?

- A) Hz. Adem B) Hz. İbrahim
C) Hz. İsa D) Hz. Davut

11. İstanbul'un fethinden Fransız İhtilali'ne kadar geçen dönem, aşağıdaki tarih çağlarından hangisiyle isimlendirilmiştir?

- A) Yakın Çağ B) İlk Çağ
C) Yeni Çağ D) Orta Çağ

12. Aşağıdakilerden hangisi Mezopotamya'da kurulan uygarlıklardan biri değildir?

- A) Hititler B) Babiller
C) Elamlar D) Akadlar

13. Tarihte "bozkırların kuyumcuları" olarak anılan toplum, aşağıdakilerden hangisidir?

- A) İskitler B) Urartular
C) Asurlular D) Persler

14. Mısırlıların Sümerlerden yazıyı öğrenmesini sağlayan faktör, aşağıdakilerden hangisidir?

- A) Göç B) Ticaret
C) Savaş D) Diplomasi

15. Aşağıdakilerden hangisi 12 Levha Kanunları'nın ortaya çıkmasında etkili olmuştur?

- A) Kavimler Göçü
B) Roma'nın ikiye ayrılması
C) Patrici - Pleb mücadelesi
D) Batı Roma İmparatorluğu'nun yıkılması

16. Latin Alfabesi'nin oluşturulmasında;

- I- Roma
II- Lidya
III- Fenike
IV- Yunan

uygarlıklarından hangilerinin katkısı olmuştur?

- A) I ve IV B) I, III ve IV
C) I, II ve III D) I, II, III ve IV

2. OTURUM

(135) TARİH – 5

17. Aşağıdakilerden hangisi, ilk Türk devletlerinde uygulanan savaş yöntemidir?

- A) Yıldız B) Turan
C) Töre D) Sav

18. Orta Asya Türk devletlerinde emirnameler ve hakanın imzası olmazsa yürürlüğe konulmazdı.

Yukarıda verilen bilgi cümlesinde boş bırakılan yere aşağıdakilerden hangisi gelmelidir?

- A) Yabgu B) Tutug
C) Boy beyi D) Hatun

19. Matbaanın ilk kurucuları arasında sayılan Türk devleti, aşağıdakilerden hangisidir?

- A) Köktürkler B) Avrupa Hunları
C) Uygurlar D) Macarlar

20. Dünyanın en uzun destanı olarak bilinen Manas Destanı, aşağıdaki Türk topluluklarından hangisine aittir?

- A) Kırgızlar B) Hazarlar
C) Bulgarlar D) Kimekler

1. Aşağıdaki destanlardan hangisi İskitlere aittir?

- A) Türeyiş Destanı
B) Ergenekon Destanı
C) Oğuz Kağan Destanı
D) Alp Er Tunga Destanı

2. Aşağıdakilerden hangisi, Kavimler Göçü'nün sonuçları arasında gösterilemez?

- A) Feodalite rejiminin ortaya çıkması
B) İpek Yolu'nun Türklerin eline geçmesi
C) Roma İmparatorluğu'nun ikiye bölünmesi
D) Barbar kavimleri arasında Hristiyanlık dininin yayılmaya başlaması

3. Göktürk Devleti'nin batı kanadının yöneticisi olan İstemi Yabgu'nun izlediği batı siyasetinin amacı, aşağıdakilerden hangisidir?

- A) Anadolu'yu ele geçirmek
B) Bizans İmparatorluğu'nu yıkmak
C) İpek Yolu'nun kontrolünü ele geçirmek
D) Bütün Türk boylarını bir yönetim altında toplamak

4. 840 yılında başkent Ordubalık'a girip son Uygur hakanını öldürerek Uygur Devleti'ne son veren Türk topluluğu, aşağıdakilerden hangisidir?

- A) Kırgızlar B) Karluklar
C) Kumanlar D) Peçenekler

5. Memlûkler zamanında aşağıdaki yerlerden hangisi "Türkiye" adı ile tanınırdı?

- A) Balkanlar
B) Suriye ve Mısır
C) Kuzey Afrika
D) Arap Yarımadası

6. Aşağıdakilerden hangisi, eski Türklerde görülen dinî bir inanış / gelenek değildir?

- A) Ölen kişi için "yuğ" adı verilen törenlerin yapılması
B) Uçmağ ve tamu inancının bulunması
C) Cesetlerin yakılma töreni
D) Balbal dikme geleneği

7. Avrupa Hun hükümdarı Attila'nın I. Balkan Seferi'ne çıkma nedeni, aşağıdakilerden hangisidir?

- A) Bizans'ın Margos Antlaşması'nın hükümlerine uymaması
B) Bizans'ın Hunlara karşı gizli ittifaklar oluşturması
C) Bizans'ta taht kavgalarının çıkması
D) Kavimler Göçü'nün başlaması

8. Orta Asya'dan Doğu Roma'ya ilk resmî heyet, aşağıdaki hangi Türk devleti döneminde gönderilmiştir?

- A) Uygur B) Kutluk
C) Göktürk D) Türgeş

9. Aşağıdakilerden hangisi, Orta Asya'daki Türklerin konargöçer olarak yaşamalarında doğrudan etkili olmuştur?

- A) Dinî inaçları
B) Kağanın kararları
C) Sözlü edebiyatları
D) Yaşadıkları coğrafyanın yapısı

10. Karluklar, aşağıdaki devletlerden hangisinin kuruluşunda önemli rol oynamışlardır?

- A) Gazne B) Uygur
C) Osmanlı D) Karahanlı

11. Sarı Uygurlar bugün aşağıdaki bölgelerden hangisinde yaşamaktadırlar?

- A) Sina Yarımadası'nda
B) Çin'in batısında
C) Anadolu'da
D) Japonya'da

2. OTURUM

12. Türk milletinin sonsuza kadar yaşayacağına olan inancını, adına dikilen kitabesinde, “Ey Türk Milleti! Üstte gök yıkılmaz, altta yer delinmezse devletini, töreni kim bozabilir?” sözleriyle ifade eden Göktürk Kağanı, aşağıdakilerden hangisidir?

- A) Bilge Kağan
- B) Kapgan Kağan
- C) Kutluk Kağan
- D) Tengri Han

13. İtil Bulgarlarına 1237 yılında son veren Moğol hükümdarı, aşağıdakilerden hangisidir?

- A) Hülagû Han
- B) Cengiz Han
- C) Orda Han
- D) Batu Han

14. Orta Macaristan’da ele geçen ünlü Nagyszentmiklos Hazineleri, aşağıdaki Türk topluluklarının hangisinden kalmadır?

- A) Avarlar
- B) Karluklar
- C) Peçenekler
- D) Bulgarlar

15. İlk Türk devletlerinde mahkemelerin başında bulunan kişilere verilen isim, aşağıdakilerden hangisidir?

- A) Yargan
- B) Tarkan
- C) Ataman
- D) Ozan

16. “İlk Türk devletlerinde hükümdar çocukları olan tiginler, devleti yönetme konusunda deneyim kazanmaları için ülkenin çeşitli yerlerine unvanıyla yönetici olarak gönderilirdi.”

Verilen bilgi cümlesinin doğru olabilmesi için boş bırakılan yere, aşağıdakilerden hangisi yazılmalıdır?

- A) Çor
- B) Şad
- C) Apa
- D) Kül

17. Uygurlarda görülen sanat dalları arasında, aşağıdakilerden hangisi yoktur?

- A) Pandomim
- B) Tiyatro
- C) Opera
- D) Bale

18. Büyük Hun Devleti’nin MS 48 yılında “Kuzey Hun Devleti” ve “Güney Hun Devleti” olarak ikiye bölünmesine sebep olan ülke, aşağıdakilerden hangisidir?

- A) Peçenekler
- B) Abbasiler
- C) Emeviler
- D) Çin

19. Emevilerin Horasan valisi olan Kuteybe bin Müslim’in 715 yılındaki ölümü sonrasında Müslüman Araplar, aşağıdaki bölgelerin hangisinde Türkler karşısında üstünlüğü kaybetmişlerdir?

- A) Maveraünnehir
- B) Mezopotamya
- C) Kuzey Afrika
- D) Balkanlar

20. İran edebiyatının önde gelen şairlerinden olan Firdevsi’nin, uzun süren İran - Turan savaşlarını anlattığı eseri, aşağıdakilerden hangisidir?

- A) Balbal
- B) Şehname
- C) Altun Yaruk
- D) İki Kardeş Hikâyesi

(141) T.C. İNK. TAR. ATA. – 1

1. Rusya’nın, I. Dünya Savaşı’nda Kafkas Cephesi’nde Osmanlı’yı yenerek Muş, Erzurum, Erzincan, Bitlis ve Trabzon’u ele geçirmesine rağmen İttifak Devletleri’nden barış isteyerek geri çekilmesinin nedeni, aşağıdakilerden hangisi olabilir?

- A) ABD’nin savaşa girmesi
- B) Rusya’da Bolşevik İhtilali’nin çıkması
- C) Lozan Barış Antlaşması’nın imzalanması
- D) TBMM Hükûmetinin Yunanlılara karşı I. İnönü Savaşı’nı kazanması

2. Balkan Savaşları’nı sonuçlandıran antlaşmalardan biri olan Bükreş Antlaşması, aşağıdaki devletlerden hangileri arasında imzalanmıştır?

- A) Osmanlı Devleti ile Yunanistan
- B) Osmanlı Devleti ile Bulgaristan
- C) Yunanistan ile diğer Balkan devletleri
- D) Bulgaristan ile diğer Balkan devletleri

3. Dünya barışını korumak amacıyla Milletler Cemiyetinin kurulması fikri ilk defa, aşağıdakilerin hangisinde yer almıştır?

- A) Wilson İlkeleri’nde
- B) Petrograd Protokolü’nde
- C) Mudanya Ateşkes Antlaşması’nda
- D) Saint Jean de Maurienne Antlaşması’nda

4. Mustafa Kemal Atatürk’e “Kemal” adı, aşağıdaki okulların hangisinde okurken verilmiştir?

- A) Selanik Askerî Rüştiyesinde
- B) Selanik Mülkiye Rüştiyesinde
- C) Manastır Askerî İdadisinde
- D) Harp Akademisinde

2. OTURUM

5. Mustafa Kemal'in Şam'da kurduğu cemiyet, aşağıdakilerden hangisidir?

- A) Kilikyalılar Cemiyeti
- B) Millî Kongre Cemiyeti
- C) Vatan ve Hürriyet Cemiyeti
- D) Sulh ve Selamet-i Osmaniye Cemiyeti

6. Mondros Ateşkes Antlaşması sonrasında İtilaf Devletleri'nin Anadolu'yu işgale başlaması üzerine Anadolu halkının bu işgaller karşısında ikinci direnişi, aşağıdaki bölgelerimizden hangisinde görülmüştür?

- A) Batı Anadolu
- B) Doğu Anadolu
- C) Batı Karadeniz
- D) Doğu Karadeniz

7. Erzurum Kongresi, aldığı kararlar bakımından nasıl bir kongredir?

- A) Yereldir.
- B) Millîdir.
- C) Bölgeseldir.
- D) Uluslararasıdır.

8. İstanbul Hükümetinin, Amasya Genelgesi'nin ilanına gösterdiği tepki, aşağıdakilerden hangisidir?

- A) Ankara Hükümetini tanımak
- B) Mustafa Kemal'i onurlandırmak
- C) Mustafa Kemal'i 9. Ordu Müfettişliği görevinden almak
- D) Ali Fuat Paşa'yı, Batı Anadolu Millî Kuvvetler Genel Komutanlığına atamak

9. Osmanlı Devleti'nin kurtuluşunun Amerikan mandasına girmekle mümkün olacağını savunan cemiyet, aşağıdakilerden hangisidir?

- A) Kilikyalılar Cemiyeti
- B) Millî Kongre Cemiyeti
- C) İngiliz Muhipler Cemiyeti
- D) Wilson Prensipleri Cemiyeti

10. Mustafa Kemal Paşa'nın Sakarya Meydan Muharebesi'nden sonra aldığı unvan, aşağıdakilerden hangisidir?

- A) Gazilik
- B) Generallik
- C) Mareşallik
- D) Ataşemiliterlik

11. Yeni Türk Devleti'nin ilk anayasası, aşağıdakilerden hangisidir?

- A) Kanunuesasi
- B) Türk Medeni Kanunu
- C) Teşkilat-ı Esasiye Kanunu
- D) Tevhid-i Tedrisat Kanunu

12. Rusya, Doğu Anadolu'da bir Ermeni Devleti'nin kurulması fikrini, aşağıdakilerden hangisini gerçekleştirmek amacıyla desteklemiş olabilir?

- A) Sıcak denizlere inmek
- B) Süveyş Kanalı'nı ele geçirmek
- C) Osmanlı Devleti'ni işgal etmek
- D) Ermenilerin uğraşı alanı olan ticaret ve el sanatlarına sahip olmak

13. • Tarihimizde "Şeyh Eşref Olayı" olarak bilinen ayaklanma, İstanbul Hükümetinin ve İtilaf Devletleri'nin kışkırtmaları sonucunda 26 Ekim - 24 Aralık 1919 tarihleri arasında meydana gelmiştir.

- Şeyh Eşref adındaki kişi, kendisinin Allah tarafından gönderildiğini ilan ederek peygamberlik iddiasında bulunmuş ve Millî Mücadeleye karşı halkı kışkırtmıştır.
- Gönderilen kuvvetlerle isyan bastırılmıştır.

Hakkında bilgi verilen Şeyh Eşref Olayı, aşağıdaki illerin hangisinde meydana gelmiştir?

- A) Mardin
- B) Bayburt
- C) Erzincan
- D) Adapazarı

14. Kurtuluş Savaşı'nın Güney Cephesi'nde, Fransızlarla iş birliği yaparak işgallere katılan topluluk, aşağıdakilerden hangisidir?

- A) Gürcüler
- B) İtalyanlar
- C) Ermeniler
- D) Yunanlılar

15. Aşağıdakilerden hangisi diğerlerinden önce gerçekleşmiştir?

- A) Cumhuriyetin ilan edilmesi
- B) Amasya Görüşmesi'nin yapılması
- C) İstanbul'un resmen işgal edilmesi
- D) Mebusan Meclisinin Misakımillî'yi kabul etmesi

16. Türkiye Büyük Millet Meclisi tarafından çıkarılan, aşağıdaki kanunlardan hangisi ile Mustafa Kemal'e, Meclis yetkilerini kullanma hakkı verilmiştir?

- A) Başkomutanlık Kanunu
- B) Tevhid-i Tedrisat Kanunu
- C) Teşkilat-ı Esasiye Kanunu
- D) Hıyanet-i Vataniye Kanunu

17. Aşağıdaki antlaşmalardan hangisiyle, Yeni Türk Devleti'nin varlığı ve bağımsızlığı tüm dünya tarafından kabul edilmiştir?

- A) Kars Antlaşması'yla
- B) Ankara Antlaşması'yla
- C) Lozan Barış Antlaşması'yla
- D) Türkiye Büyük Millet Meclisinin açılmasıyla

18. 3 Ekim 1922 tarihinde toplanan Mudanya Konferansı'na temsilci gönderdiği hâlde görüşmelere katılmayan ülke, aşağıdakilerden hangisidir?

- A) İtalya
- B) Fransa
- C) İngiltere
- D) Yunanistan

2. OTURUM

19. • Millî bütünlük ve güven sağlandı.
• Batı Anadolu Yunan işgalinden kurtarıldı.
• Mudanya Ateşkes Antlaşması ve Lozan Antlaşması'nın imzalanmasını sağladı.

Verilen sonuçlar, aşağıdaki muharebelerden hangisine aittir?

- A) I. İnönü B) II. İnönü
C) Sakarya D) Başkomutanlık

20. Aşağıdaki antlaşmalardan hangisiyle Türkiye'nin doğu sınırları kesinlik kazanmıştır?

- A) Kars B) Sevr
C) Gümrü D) Ankara

(152) COĞRAFYA – 2

1. Aşağıdakilerden hangisi insanların yerleşik hayata geçtiği yerlerden biridir?

- A) Amazon B) İndus Vadisi
C) Sibirya D) Kuzey Avrupa

2. Aşağıdakilerden hangisi yerleşme coğrafyasının konularından biri değildir?

- A) Konut tipleri
B) Yerleşme dokuları
C) Konut sahiplerinin meslekleri
D) Konutta kullanılan yapı malzemeleri

3. • Hayvanlar için otlak ve barınak temini
• Tarım arazilerinin yetersiz olması
• Engibeli yerlerde tarım topraklarının parçalanmış ve uzak olması
• Aile içinde yaşanan anlaşmazlıklar

Verilenler aşağıdakilerden hangisinin ortaya çıkmasına neden olmuştur?

- A) Köylerin
B) Şehirlerin
C) Dini merkezlerin
D) Köy altı yerleşmelerin

4. Şehir yerleşmeleri için aşağıdakilerden hangisi söylenebilir?

- A) Belirli bir plana göre kurulmuşlardır.
B) Dağınık yerleşme dokusuna sahiptirler.
C) Nüfusunun çoğunluğu tarımda çalışır.
D) Nüfus miktar ve yoğunlukları düşüktür.

5. Nüfusu hızla artan bir şehirde aşağıdakilerden hangisinin artması beklenemez?

- A) Nüfus yoğunluğunun
B) İş gücü açığının
C) Konut sayısının
D) Arazi fiyatlarının

6. Linyit, petrol ve kayatuzu yatakları hangi jeolojik zamanda oluşmuştur?

- A) Paleozoik B) Mezozoik
C) Tersiyer D) Kuaterner

7.



Bozdağlar ve Aydın dağları haritada numaralandırılarak verilen alanların hangisinde yer alır?

- A) 1 B) 2 C) 3 D) 4

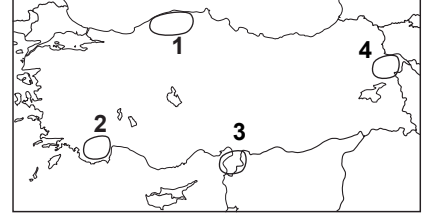
8. Volkan konilerinin şekilleri ve yükseltileri öncelikle aşağıdakilerden hangisine bağlıdır?

- A) Lavın sıcaklığına
B) Lavın akışkanlığına
C) Dağın coğrafi konumuna
D) Dağın bulunduğu arazi yapısına

9. Aşağıdaki illerin hangisi Güneydoğu Anadolu Deprem Kuşağı'nda yer alır?

- A) Muğla B) Kütahya
C) Erzincan D) Elazığ

10.



Amik Ovası haritada numaralandırılarak verilen alanların hangisinde yer alır?

- A) 1 B) 2 C) 3 D) 4

11. Şanlıurfa, Gaziantep, Ardahan ve Erzurum-Kars platolarının ortak özelliği aşağıdakilerden hangisidir?

- A) Volkanik malzemelerle örtülü olması
B) Yükseltilerinin birbirine yakın olması
C) Üzerlerinde aynı tür tarım ürünleri yetiştirilmesi
D) Tektonik harekete bağlı kırılmalarla oluşması

12. Ürgüp ve Göreme çevresinde yaygın olan peribacalarının oluşumunda etkili olan dış güç aşağıdakilerden hangisidir?

- A) Buzullar
B) Rüzgarlar
C) Dalgalar
D) Sel ve selinti suları

13. Mersin'deki Cennet ve Cehennem obrukları hangi arazi üzerinde oluşmuşlardır?

- A) Volkanik B) Kireçli
C) Kumlu D) Karstik

2. OTURUM

14. Türkiye’de kuzey ve güney kıyı kesimlerinden iç kesimlere gidildikçe genel olarak sıcaklık ve yağış miktarı azalmaktadır.

Bu durumun sebebi aşağıdakilerden hangisidir?

- A) Yengeç Dönence’sinin kuzeyinde yer alması
- B) İç kesimlere gidildikçe orman örtüsünün fakirleşmesi
- C) Buralarda dağların kıyıya paralel uzanması
- D) Avrupa ve Asya arasında köprü konumunda olması

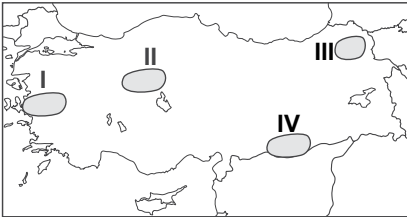
15. Yaz mevsiminde ülkemizin güney ve güneydoğusunda kavurucu rüzgarların oluşmasına sebep olan sıcak ve kurak hava kütlesi aşağıda verilen yerlerin hangisinin üzerinden gelmektedir?

- A) Arabistan ve Afrika Kıta’sı
- B) Sibirya ve Kuzey Avrupa
- C) Atlas Okyanusu ve Akdeniz
- D) Avrupa ve Balkan Yarımadası

16. Ülkemizde sıcaklık dağılışında aşağıdakilerden hangisinin etkisi yoktur?

- A) Yükselti
- B) Nemlilik
- C) Enlem
- D) Boylam

17.



Haritada numaralandırılarak verilen yerlerin hangisinde ocak ayı ortalama sıcaklık değeri daha düşüktür?

- A) I
- B) II
- C) III
- D) IV

18. Aşağıdakilerden hangisi Karadeniz ikliminin özelliğidir?

- A) Her mevsimin yağışlı geçmesi
- B) Yağışların en çok yaz mevsiminde düşmesi
- C) Yaygın bitki örtüsünün maki olması
- D) Kış mevsiminin soğuk ve karlı olması

19. Aşağıdakilerden hangisi dünyanın en önemli serbest bölgelerinden biridir?

- A) New York
- B) Hong Kong
- C) Rotterdam
- D) Orta Doğu

20. İnsanların enerji üretimi için kullandığı kaynaklardan hangisi doğaya ve çevreye daha az zarar verir?

- A) Linyit
- B) Rüzgâr
- C) Petrol
- D) Taş kömürü

(156) COĞRAFYA – 6

1. Türk kültürünün hem göçebe hem de yerleşik özellikler taşıması aşağıdakilerden hangisiyle daha çok ilgilidir?

- A) Coğrafi özelliklerle
- B) Örf ve adetlerle
- C) Din ve inançlarla
- D) Türklerin karakterleriyle

2. Aşağıdaki ülkelerin hangisinde Türk kültürüne ait eserler yoktur?

- A) Çin
- B) Kanada
- C) Macaristan
- D) Moğolistan

3. I- İskenderiye Feneri
II- Artemis Tapınağı
III- Kral Mozoles’in Mezarı

Yukarıdakilerden Türkiye sınırları içinde yer alanlar hangi seçenekte bir arada verilmiştir?

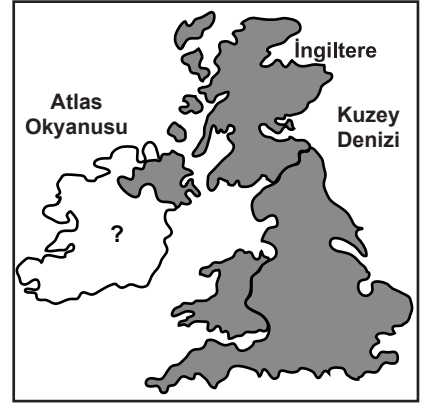
- A) I ve II
- B) I ve III
- C) II ve III
- D) I, II ve III

4. • Adıyaman Nemrut Dağı
• Japonya Kusturi Nehri
• Meksika Ulusal Parkı

Verilenler için aşağıdakilerden hangisi söylenemez?

- A) Kuzey Yarımküre de bulunurlar.
- B) Dünyanın yedi harikası içinde yer alırlar.
- C) Dünya kültür ve doğal miraslarıdır.
- D) UNESCO tarafından koruma altına alınmışlardır.

5.



Yukarıdaki haritada (?) ile gösterilen ada aşağıdakilerden hangisidir?

- A) İrlanda
- B) Honşu
- C) İzlanda
- D) Sicilya

6. Japonya için aşağıdakilerden hangisi söylenemez?

- A) Başkenti Tokyo’dur.
- B) Oligarşi ile yönetilir.
- C) Şehir nüfus oranı % 67 dir.
- D) Okuma-yazma bilmeyenlerin oranı % 1 dir.

7. Hindistan’da bitki örtüsünün çok çeşitli olmasında aşağıdakilerden hangisinin etkisi yoktur?

- A) İklim özelliklerinin
- B) Enlem farklılığının
- C) Toprak özelliklerinin
- D) Yarımada olmasının

2. OTURUM

8. Hollanda'da iklimin ılıman olmasını sağlayan sıcak su akıntısı aşağıdakilerden hangisidir?

- A) Oya-Şiyö B) Brezilya
C) Golf-Stream D) Kuro-Şiyö

9. Birleşmiş Milletlerin kuruluş amacı aşağıdakilerden hangisidir?

- A) Dünya para meselelerinin çözülmesi için ülkeler arasında işbirliği sağlamak
B) Kuzey Amerika ülkelerinin başka ülkelere karşı ekonomik yönden daha da güçlenmelerini sağlamak
C) Ülkeler arasında ayırım gözetmeden dünya ticaretinin geliştirilmesine destek vermek
D) II. Dünya Savaşı'nı kazanan ülkeler arasında savaş sonrası oluşabilecek anlaşmazlıkları çözmek

10. Tarım toprakları, hangi çağda doğal kaynak olarak önem kazanmaya başlamıştır?

- A) Kalkolitik Çağ
B) Mezolitik Çağ
C) Paleolitik Çağ
D) Neolitik Çağ

11. 1970 li yıllarda nükleer enerji santrallerine talebin artmasının nedeni aşağıdakilerden hangisidir?

- A) Petrol krizi
B) Nükleer kazalar
C) Ekonomik yavaşlama
D) Fosil yakıt fiyatlarının düşmesi

12. Aşağıdaki ülkelerin hangisinde gelgit enerjisi üreten tesis olmaz?

- A) Çin
B) İsviçre
C) Kanada
D) Rusya Federasyonu

13. Biyokütle enerjisi, organik maddelerden enerji kaynağı olarak yararlanmaktadır.

Buna göre, aşağıdakilerden hangisi biyokütle kaynağı değildir?

- A) Patates B) Saman
C) Balık iskeleti D) Demir

14. Aşağıdakilerden hangisi hidroelektrik santrallerinin neden olduğu çevresel sorundur?

- A) Balıkçılığı desteklemesi
B) Çevre ziraatını geliştirmesi
C) Ağaçlandırmayı teşvik etmesi
D) Bazı zararlı organizmalar üretmesi

15. Mississippi Nehri hangi ülkenin sınırları içindedir?

- A) Hindistan B) Brezilya
C) ABD D) Mısır

16. • Çiftçilik
• Değirmencilik
• Ziraat mühendisliği,
aşağıda verilen doğal kaynakların hangisiyle ilgili mesleklerdir?

- A) Orman B) Doğalgaz
C) Toprak D) Petrol

17. Bazı gazların atmosferde yoğun şekilde artmasıyla yeryüzüne yakın atmosfer tabakaları ile yeryüzü sıcaklığının yapay olarak artma sürecine ne denir?

- A) Küresel ısınma
B) Ozon seyrelmesi
C) İklim değişikliği
D) Hava kirliliği

18. Aşağıdakilerden hangisi ozon tabakasının görevidir?

- A) Her türlü hava olaylarının oluşmasını sağlar.
B) Göl ve akarsuların asit dengesini düzenler.
C) Güneşten gelen öldürücü ışınları filtre eder.
D) Göktaşların atmosferde parçalanmasını sağlar.

19. Aşağıdakilerden hangisi geri dönüşümün sonuçlarından değildir?

- A) Doğal kaynakların korunması
B) Enerji tüketiminin artması
C) Çevre kirliliğinin azalması
D) Atık miktarının azalması

20. Aşağıdakilerden hangisi doğadaki su kaynaklarının potansiyelini artırır?

- A) Bitki örtüsünün artırılması
B) Hızlı nüfus artışı ve kentleşme
C) Sanayi işletmelerinin artırılması
D) Sulamalı tarımın yaygınlaşması

(164) MATEMATİK – 4

1. 36130 saniyelik açı kaç derece, kaç dakika ve saniyedir?

- A) 10° 2' 40" B) 10° 2' 30"
C) 10° 2' 20" D) 10° 2' 10"

2. Ölçüsü $-\frac{8\pi}{3}$ olan açının esas ölçüsü kaç radyandır?

- A) $\frac{\pi}{3}$ B) $\frac{2\pi}{3}$ C) $\frac{4\pi}{3}$ D) $\frac{5\pi}{3}$

3. Bir \widehat{ABC} 'nde, $m(\widehat{A}) + m(\widehat{B}) = 126^\circ 12' 36''$ olduğuna göre, $m(\widehat{C})$ kaçtır?

- A) 53° 47' 24" B) 53° 48' 24"
C) 54° 47' 24" D) 54° 48' 24"

4. Aşağıdaki sıralamalardan hangisi doğrudur?

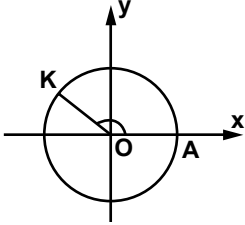
- A) $\cos 25^\circ > \sin 50^\circ > \sin 55^\circ$
B) $\sin 50^\circ > \cos 25^\circ > \sin 55^\circ$
C) $\sin 55^\circ > \sin 50^\circ > \cos 25^\circ$
D) $\cos 25^\circ > \sin 55^\circ > \sin 50^\circ$

2. OTURUM

5. $\sec 290^\circ$, $\sin 210^\circ$ ve $\tan 120^\circ$ değerlerinin işaretleri sırasıyla aşağıdakilerin hangisinde verilmiştir?

- A) -, +, - B) +, -, -
C) +, -, + D) -, -, +

6.



Şekildeki O merkezli birim çemberde $m(\widehat{AOK}) = \frac{5\pi}{6}$ radyan olduğuna göre, K noktasının koordinatı aşağıdakilerden hangisidir?

- A) $(\frac{1}{2}, \frac{\sqrt{3}}{2})$ B) $(\frac{\sqrt{3}}{2}, \frac{1}{2})$
C) $(-\frac{\sqrt{3}}{2}, \frac{1}{2})$ D) $(\frac{1}{2}, -\frac{\sqrt{3}}{2})$

7. $\cos \frac{5\pi}{3}$ değeri kaçtır?

- A) $\frac{1}{2}$ B) $-\frac{1}{2}$
C) $\frac{\sqrt{3}}{2}$ D) $-\frac{\sqrt{3}}{2}$

8. $\frac{\pi}{2} < \theta < \pi$ ve $\cos \theta = -\frac{3}{5}$ olduğuna göre, $\tan \theta$ kaçtır?

- A) $-\frac{4}{3}$ B) $-\frac{3}{4}$ C) $\frac{3}{4}$ D) $\frac{4}{3}$

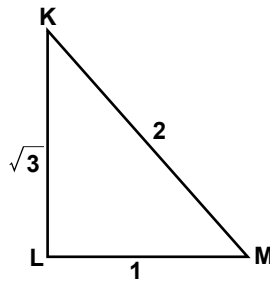
9. $f(x) = \cos^3(4x - 2)$ fonksiyonunun esas periyodu kaçtır?

- A) $\frac{2\pi}{3}$ B) $\frac{\pi}{2}$ C) $\frac{\pi}{3}$ D) $\frac{\pi}{4}$

10. $\arccos\left(-\frac{\sqrt{3}}{2}\right)$ değeri kaçtır?

- A) $\frac{\pi}{6}$ B) $\frac{2\pi}{3}$ C) $\frac{5\pi}{6}$ D) $\frac{4\pi}{3}$

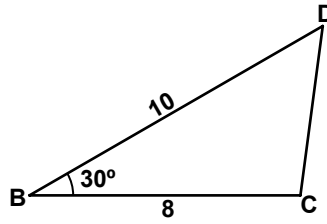
11.



Şekildeki \widehat{KLM} 'nde $|KL| = \sqrt{3}$ cm, $|KM| = 2$ cm ve $|LM| = 1$ cm olduğuna göre, $m(\widehat{MKL})$ kaç derecedir?

- A) 30 B) 45 C) 60 D) 90

12.



Şekildeki \widehat{DBC} 'nde $|DB| = 10$ cm, $|BC| = 8$ cm ve $m(\widehat{DBC}) = 30^\circ$ olduğuna göre, $A(\widehat{DBC})$ kaç santimetrekaredir?

- A) 40 B) 30 C) 20 D) 10

13.

$\cos(a - b) = \cos a \cdot \cos b + \sin a \cdot \sin b$ olduğuna göre, $\cos 15^\circ$ değeri kaçtır?

- A) $\frac{\sqrt{6} - \sqrt{2}}{4}$ B) $\frac{\sqrt{6} + \sqrt{2}}{4}$
C) $\frac{\sqrt{6} + \sqrt{3}}{4}$ D) $\frac{\sqrt{6} - 1}{4}$

14. $\frac{\cos 110^\circ - \sin 40^\circ}{\sin 140^\circ + \cos 70^\circ}$ değeri kaçtır?

- A) -2 B) -1 C) 1 D) 2

15. $\frac{\tan 75^\circ - \tan 15^\circ}{1 + \tan 75^\circ \cdot \tan 15^\circ}$ değeri kaçtır?

- A) $\frac{1}{\sqrt{3}}$ B) $\frac{1}{2}$ C) 1 D) $\sqrt{3}$

16.

$$\sin x + \sin y = 2 \cdot \sin\left(\frac{x+y}{2}\right) \cdot \cos\left(\frac{x-y}{2}\right)$$

olduğuna göre, $\sin 75^\circ + \sin 15^\circ$ ifadesinin değeri kaçtır?

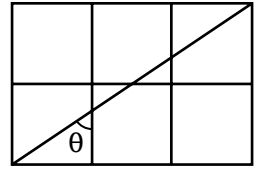
- A) $\frac{\sqrt{3}}{2}$ B) $\frac{\sqrt{3}}{4}$ C) $\frac{\sqrt{6}}{2}$ D) $\frac{\sqrt{6}}{4}$

17.

$3 \tan 42^\circ \cdot \tan 48^\circ + \cos^2 42^\circ + \cos^2 48^\circ$ değeri kaçtır?

- A) 4 B) 3
C) $3\sqrt{3}$ D) $3\sqrt{2} + \sqrt{2}$

18.



Şekildeki dikdörtgen kenar uzunluğu 1 birim olan 6 tane eş kare ile oluşturulmuştur. Buna göre, $\tan \theta$ değeri kaçtır?

- A) $\frac{1}{3}$ B) $\frac{1}{2}$ C) $\frac{2}{3}$ D) $\frac{3}{2}$

19. $\cot 2x = \tan x$ denklemini sağlayan dar açı aşağıdakilerden hangisidir?

- A) 75° B) 60° C) 45° D) 30°

20. $\cos 2x = \frac{1}{2}$ denkleminin çözüm kümesi aşağıdakilerden hangisidir?

- A) $\{x | x = \frac{\pi}{3} + k\pi \vee x = -\frac{\pi}{3} + k\pi, k \in \mathbb{Z}\}$
B) $\{x | x = \frac{\pi}{6} + k\pi \vee x = -\frac{\pi}{6} + k\pi, k \in \mathbb{Z}\}$
C) $\{x | x = \frac{\pi}{3} + 2k\pi \vee x = \frac{2\pi}{3} + 2k\pi, k \in \mathbb{Z}\}$
D) $\{x | x = \frac{\pi}{6} + 2k\pi \vee x = \frac{5\pi}{6} + 2k\pi, k \in \mathbb{Z}\}$

2. OTURUM

(182) İNGİLİZCE – 2

1 - 20. sorularda boş bırakılan yere uygun gelen kelime ya da ifadeyi işaretleyiniz.

1. I prefer chicken fish.

- A) from B) in
C) on D) to

2. Sue's children are too young to look after

- A) themselves B) yourselves
C) himself D) herself

3. I have got money than my sister.

- A) much B) many
C) more D) most

4. Whatever you do, you touch that switch. It's very dangerous.

- A) don't have to
B) mustn't
C) should
D) must

5. Last week, we work very hard because we had a lot of projects.

- A) has to B) have to
C) had to D) would

6. If the old man had some money, he a taxi.

- A) hire B) to hire
C) hired D) would hire

7. I wish I a driving licence.

- A) had B) have
C) having D) to have

8. I never to London before.

- A) was / been B) have / been
C) was / be D) have / be

9. She has been in this city five years.

- A) since B) from
C) for D) at

10. We often watch TV in the afternoon,?

- A) do you B) don't we
C) do we D) don't you

11. Ali is 170 cm. Okan is 185 cm. Ali is than Okan.

- A) taller B) younger
C) fatter D) shorter

12. He is a reader. He reads his book

- A) quick / quick
B) quick / quickly
C) quickly / quick
D) quickly / quickly

13. What when the accident happened?

- A) were you doing
B) are you doing
C) will you do
D) do you do

14. My sister has lived in Ankara since

- A) she will study.
B) she is working.
C) she got married.
D) she has graduated.

15. If they played well,

- A) they would go to the cinema.
B) they would lose the game.
C) they would cook the meal.
D) they would win the match.

16. If you drive very fast,

- A) you would have an accident.
B) you'll have an accident.
C) you have an accident.
D) you had an accident.

17. A: one do you want?
B: I want the yellow t-shirt.

- A) Where B) Why
C) Which D) When

18. A:
B: Since 2010.

- A) Have you been here?
B) When did you come here?
C) Why have you been here?
D) How long have you been here?

19. A: Would you like some more cake?
B:

- A) Yes, it's mine.
B) No, I'm not.
C) No, thanks.
D) Yes, I do.

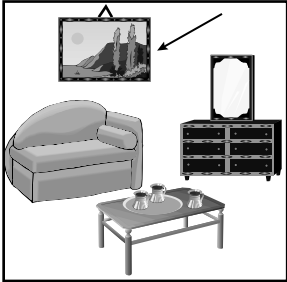
20. A: What were you doing at 7 yesterday?
B:

- A) I was sleeping at home.
B) I watch TV every night.
C) I'll go out for lunch.
D) I'm going shopping.

1 - 16. sorularda boş bırakılan yere uygun gelen ek, kelime ya da ifadeyi işaretleyiniz.

1. Das sind die Bücher, ich gut finde.
A) die B) das
C) der D) den
2. Was du machen, wenn du jetzt frei?
A) würdest / hättest
B) würde / hätte
C) würdet / hättet
D) würden / hätten
3. Das Geschenk ist dich.
A) durch B) für
C) gegen D) mit
4. Die Schüler fragen sich..... sie so viele Hausaufgaben machen müssen.
A) um ... zu B) wozu
C) dass D) denn
5. Am Samstag spielt Galasaray Beşiktaş.
A) durch B) aus
C) gegen D) seit
6. Am Sonntag ich meine Freunde.
A) trinke B) schlafe
C) treffe D) spiele
7. Eda lern-... Deutsch. Du geh-... spazieren.
A) -t / -e B) -st / -en
C) -en / -t D) -t / -st

2. OTURUM

8. Ich hoffe, Meine Freundin am Wochenende kommen
A) dass / wird B) dass / werde
C) ob / wird D) ob / werde
9. Anja kauft neue Bücher, sie sehr gern liest.
A) aber B) und
C) denn D) weil
10. Gestern ich einen Film (haben / sehen)
A) hast / siehst
B) hat / sehen
C) habe / gesehen
D) haben / gesehen
11. Tisch, Fahrrad, Wand
A) der / das / die
B) der / die / die
C) das / die / der
D) die / das / der
12. A: dankt die Mutter?
B: Dem Kind.
A) Wer B) Wem
C) Wen D) Was
13. 
A: Wo hängt das Bild?
B: Es hängt Wand.
A) in der B) über das
C) auf die D) an der
14. A: Willst du das Kleid kaufen?
B: Ja, ich habe nicht so viel Geld.
A) weil B) denn
C) oder D) aber
15. A: Was machst du in den Ferien?
B: Vielleicht ich nach Italien fahren.
A) wirst B) werden
C) werde D) wird
16. An einem schön-... Sonntag machten wir ein-... lang-... Spaziergang.
A) -en / -en / -en
B) -en / -e / -en
C) -e / - / -es
D) -es / -e / -en
17. Aşağıdaki isimlerin çoğul hali hangi seçenekte verilmiştir?
der Vater / die Zeitung / das Mädchen
A) die Vater / die Zeitungen / die Mädchen
B) die Väter / die Zeitung / die Mädchen
C) die Vater / die Zeitung / die Mädchen
D) die Väter / die Zeitungen / die Mädchen
18. Aşağıdaki cümlelerden hangisi emir cümlesidir (Befehlsatz)?
A) Was ist das
B) Ich bin Ayşe
C) Lies den Text
D) Das ist eine Tasche
19. Aşağıdaki sözcüklerden hangisi yapısı bakımından diğerlerinden farklıdır?
A) haben B) aufstehen
C) sein D) machen

2. OTURUM

20.



Resimdeki kadın ne yapıyor?

- A) Die Frau liest eine
- B) Die Frau trinkt einen Kaffee.
- C) Die Frau geht spazieren.
- D) Die Frau bestellt einen Hamburger.

(182) FRANSIZCA – 2

1 - 18. sorularda boş bırakılan yere uygun gelen kelime ya da ifadeyi işaretleyiniz.

1. Ce sont les enfants qui chanter ce soir.

- A) va
- B) allez
- C) vont
- D) allons

2. Quand je suis arrivé, mon fils la télé.

- A) regarde
- B) a regardé
- C) avaient regardé
- D) regardait

3. sport pratiquez-vous?

- A) Quelle
- B) Quel
- C) Quels
- D) Quelles

4. Les Toprak ont trois enfants et Les Yağmur ont deux enfants.

Les Toprak ont d'enfants que Les Yağmur.

- A) moins
- B) aussi
- C) autant
- D) plus

5. Mehmet travaille en classe.

- A) sérieux
- B) sérieuse
- C) sérieusement
- D) sérieuses

6. Les turcs sont persuadés que leur cuisine est la du monde.

- A) meilleur
- B) meilleure
- C) meilleurs
- D) meilleures

7. Le festival de Cannes est le festival populaire en France.

- A) la moins
- B) le plus
- C) les plus
- D) les moins

8. Ce pantalon est moins que le pantalon que tu portes!

- A) long
- B) longs
- C) longues
- D) longue

9. du soleil, elle va se baigner.

- A) Il faut
- B) Il pleut
- C) Il y a
- D) Il reste

10. Dimanche dernier nous une nouvelle voiture.

- A) achetons
- B) achèterons
- C) avons acheté
- D) allons acheter

11. C'est ce malade a maigri en une semaine.

- A) qui
- B) que
- C) quoi
- D) donc

12. Il y a un joli jardin près d'ici on peut pique-niquer.

- A) qui
- B) où
- C) dont
- D) ou

13. Le pont est en de l'hôtel.

- A) côté
- B) derrière
- C) face
- D) loin

14. Pierre sort avec une fille turque. s'appelle Burcu.

- A) Elle
- B) Elles
- C) Il
- D) Ils

15. En 1945, nous à Batman.

- A) habitaient
- B) habitiez
- C) habitais
- D) habitions

16. A: Est-ce que tu as parlé de ton amour à tes amis?

B: Oui, je ai parlé.

- A) lui
- B) leur
- C) toi
- D) eux

17. A: tu as écrit ce roman?
B: Il y a deux ans.

- A) Quelle
- B) Comment
- C) Que
- D) Quand

18. A: Tu veux encore du café?
B: Non, merci. Je (J') déjà trop bu.

- A) en
- B) y
- C) les
- D) des

19-20. soruları resimleri dikkate alarak cevaplayınız.

19.



C'est la

- A) route pour automobiles
- B) fin de vitesse conseillée
- C) restaurant ouvert
- D) fin d'interdiction de dépasser

2. OTURUM

20.



A: Qu'est-ce qu'il fait?

B: Il fait

- A) de la musique
- B) du théâtre
- C) de la peinture
- D) de la marche

(207) PSİKOLOJİ – 2

1. Aşağıdakilerden hangisi “zeka”yı tanımlayan ifadelerden birisi **değildir**?

- A) Çabuk anlama ve kavrama gücü
- B) Yeni karşılaşılan durumlara uyabilme gücü
- C) Bir insanın kendine özgü özelliklerin bütünü
- D) Soyut düşünebilme yeteneği

2. Ellili yaşlardan itibaren zihin gücü zayıflamaya başlar. Fakat zekayı kullanma bu yaş sınırını çok ilerilere götürebilmekte doksanında bile dinamik bir zihin gücüne sahip insanlara rastlanmaktadır. Ellili yaşlardan öncede zekayı kullanmama durumuna bağlı olarak zihin gücünde zayıflamalar olabilmektedir.

Buna göre zeka ile ilgili olarak hangisi **söylenemez**?

- A) Zihin gücü aktivitesinde bireysel çabaların önemli bir etkisi vardır.
- B) Yaşlanmayla birlikte zihin gücünde zayıflamalar başlar.
- C) Yaşlı olup ta hala dinamik bir zihne sahip insanlar vardır.
- D) Ellili yaşlardan önce zihin gücü zayıflamaya başlamaz.

3. Bir test neyi ölçmek amacıyla hazırlanmışsa o niteliği ölçmelidir. Test zeka testi olarak hazırlanmışsa zekayı, kişilik testi olarak hazırlanmışsa kişiliği ölçmelidir.

Yukarıda verilen bilgi bir testte bulunması gereken hangi özelliği anlatmaktadır?

- A) Testin geçerliliği
- B) Testin güvenilirliği
- C) Testin standardizasyonu
- D) Testin norm grubuna göre oluşturulması

4. I- Eğitilebilir zeka geriliğidir.
II- Zeka bölümü 0-24 arasındadır.
III- Çok basit bazı işleri öğrenebilirler.

IV- Sürekli bakıma muhtaçtırlar.
Yukarıdaki özelliklerden hangileri zeka yönünden özel gruplar içinde sayılan embesillere ait özelliklerdendir?

- A) I ve II
- B) I ve III
- C) II ve IV
- D) III ve IV

5. Aşağıdakilerden hangisinde kişiliği meydana getiren unsurlar birlikte verilmiştir?

- A) Mizaç – Karakter
- B) Yetenek – Duyum
- C) Kalıtım – Huy
- D) Huy – Mizaç

6. İnsanın kişiliği toplumsal ve kültürel yapıdan etkilenir. Aile başta olmak üzere insanın ilişki içinde bulunduğu bütün gruplar, aldığı eğitim, kişisel yaşantısı kişiliği oluşturur.

Buna göre kişilik üzerinde aşağıdakilerden hangisinin etkili olduğu söylenebilir?

- A) Kalıtımın
- B) Çevrenin
- C) Biliçaltının
- D) Biyolojik etmenlerin

7. Biliçaltına itilen duygu, düşünce, arzu ve isteklerin kişiliğin oluşumunda belirleyici olduğunu, kişiliğin id, ego ve süper ego olmak üzere üç temel yapıdan oluştuğunu söyleyen kişilik kuramı aşağıdakilerden hangisidir?

- A) Öğrenme kuramı
- B) Temel eğilim kuramı
- C) Psikodinamik kuram
- D) Hümanistik ve varoluşçu kuram

8. Aşağıdakilerden hangisi bireylerin iç dünyasını dışa yansıtmak amacıyla hazırlanan kişilik testlerinden **değildir**?

- A) Binet- Simon testi
- B) Hikaye yorumlama testi
- C) Resim yorumlama testi
- D) Rorschach testi

9. Aşağıdakilerden hangisi kişilik ölçeklerinin hazırlanma amaçlarından **değildir**?

- A) Kişiliğin subjektif yansımalarını yorumlamak
- B) Bireylerin kişilik yapısını değiştirmek
- C) Gözlenebilen kişilik özelliklerini saptamak
- D) Farklı kişilik özelliklerinin analizini yapmak

10. Aşağıdakilerden hangisi ruh sağlığı yerinde olan bir insandan beklenen davranışlardandır?

- A) Hayatın gerçeklerinden kopuktur.
- B) Karşılaştığı sorunları çözecek güçten yoksundur.
- C) Zaman zaman korku ve kaygılar duyar.
- D) Çevresiyle uyumlu ve tutarlı ilişkiler kuramaz.

11. “Aşağı tükürsem sakal yukarı tükürsem bıyık” diyen birinin içine düştüğü kararsızlık hali aşağıdakilerden hangisine örnek olur?

- A) Kaçınma – Kaçınma çatışmasına
- B) Yaklaşma – Kaçınma çatışmasına
- C) Karşıt tepki geliştirme mekanizmasına
- D) Hayal kırıklığına

2. OTURUM

12. Aşağıdakilerden hangisi stres karşısında bireylerde ortaya çıkan psikolojik tepkilerden biri değildir?

- A) Kalp hastalıkları
- B) İçe kapanma
- C) Suçluluk duygusu
- D) Kaygı ve gerilimin artması

13. İyi olarak kabul edilen, aşırı şiddet ve yoğunlukta olmayan stresler, insana yaşam enerjisi verir, vücudun direnme gücünü artırır.

Aşağıdakilerden hangisi bu tür streslere örnek olarak verilebilir?

- A) Trafik kazasında yakınına kaybeden birisinin duyduğu stres
- B) Üniversite sınavında istediği bölümü kazanan bir gencin duyduğu stres
- C) Anne ve babası boşanan bir çocuğun duyduğu stres
- D) İşsiz kalan bir babanın duyduğu stres

14. Aşağıdakilerden hangisi bir savunma mekanizması değildir?

- A) Bastırma
- B) Ödünleme
- C) Rasyonalizasyon
- D) Obsesyon

15. Aşağıdakilerden hangisi savunma mekanizmalarından biri olan yansıtma mekanizmasına örnek olur?

- A) Gitmek istemediğimiz bir davetin saatini unutulması
- B) Eşekten düşen Nasrettin Hoca'nın "zaten incecektim" demesi
- C) Yalan söyleyen birinin başkalarını yalancılıkla suçlaması
- D) İsteddiği eğitimi alamamış bir babanın çocuklarını okutmak istemesi

16. I- Ağır ruh hastalıklarıdır.
II- Hasta olduklarını kabul etmezler.
III- Hastalar sanrı ve hezeyanlar görürler.
IV- Çevresiyle uyumu zorlaşır fakat hayatla bağları tamamen kopmaz.

Yukarıda verilenlerden hangileri psikotik bozuklukların özelliklerindendir?

- A) I ve II
- B) I, II ve III
- C) II ve III
- D) III ve IV

17. Bireyin saçma ve yanlış olduğunu bildiği halde belli nesnelere ve durumlar karşısında duyduğu olağan dışı korkular aşağıdakilerden hangisiyle ifade edilir?

- A) Obsesyon
- B) Melankoli
- C) Nevroz
- D) Fobi

18. Bireylerin davranışlarını toplum ile ilişkisi bağlamında ele alan ve bireylerin birbirlerinden nasıl etkilendiklerini inceleyen bilim dalı aşağıdakilerden hangisidir?

- A) Sosyoloji
- B) Psikoloji
- C) Sosyal psikoloji
- D) Antropoloji

19. Bir arkadaş grubu içerisinde bir fıkra anlatıldığında fıkrayı anlamasak da ya da komik bulmasak da başkaları güldüğü için güleriz. Bireyi böyle bir tepkiyi vermeye zorlayan durum aşağıdakilerden hangisiyle ifade edilir?

- A) Kültürel farklılık
- B) Sosyal etki
- C) Sosyal statü
- D) Engellenme

20. Kimlik duygusu gelişmiş bir bireyde aşağıdakilerden hangisinin görülmesi beklenir?

- A) Sürekli birilerini taklit eder.
- B) Potansiyeline uygun olmayan işlerde çalışır.
- C) Aile ve toplumun beklentilerine aykırı davranışlarda bulunur.
- D) Hayatına hakim olan değer yargıları ve bir dünya görüşü vardır.

(208) SOSYOLOJİ – 1

1. Aşağıdakilerden hangisi sosyolojinin incelediği konulardan değildir?

- A) Toplumsal gruplar
- B) Kültür ve işlevleri
- C) Kişiliğin oluşumu
- D) Aile kurumu

2. Aşağıdakilerin hangisinde sosyal olgular birlikte verilmiştir?

- A) Kentleşme - Enflasyon
- B) Savaş - 1. Dünya Savaşı
- C) Tarık'ın mezun olması - Gecekondulaşma
- D) 1453 İstanbul'un fethi - Ayla'nın boşanması

3. • Belli bir toprak parçasında yerleşmiş olmak
• Bireylerin birlikte yaşama isteği
• Ortak bir kültürü paylaşmak
• Değişmeye rağmen süreklilik göstermek

Verilenler aşağıdakilerden hangisine ait özelliklerdir?

- A) Grup
- B) Kategori
- C) Yiğit
- D) Toplum

4. Sosyoloji toplumu incelerken diğer bilim dallarının verilerinden yararlanmak zorundadır. Bu anlamda bireyi grup içinde ele alan, bireyin grup ile etkileşimini inceleyen sosyolojinin yararlandığı bilim dalı aşağıdakilerden hangisidir?

- A) Sosyal psikoloji
- B) Psikoloji
- C) Antropoloji
- D) Hukuk

5. Sosyolog bir yörede yaşayan insanların yaşayışını etkileyen arazinin ova ya da dağlık olmasını inceleyecektir.

Bu durumda araştırma yapan sosyoloğun öncelikle hangi bilim dalından yararlanması gerekir?

- A) Ekonomi
- B) Psikoloji
- C) Siyaset
- D) Coğrafya

2. OTURUM

6. Doğruluğu ya da yanlışlığı kesin olmayan, kanıtlanmak üzere ortaya atılmış, araştırmacının geçici açıklamasıdır.

Yukarıda verilen bilimsel yöntemin hangi aşamasıdır?

- A) Gözlem B) Deneyleme
C) Teori D) Hipotez

7. Aşağıdakilerden hangisi monografiye ait bir özellik değildir?

- A) Bir konu tüm yönleriyle incelenir.
B) Konunun derinlemesine incelenmesine imkan verir.
C) Sadece küçük grupların incelenmesinde kullanılır.
D) Bir konu üzerinde hazırlanmış yazılı sorularla ya da görüşme yoluyla uygulanır.

8. I- Nüfus

II- Yerleşim tarzı

III- Toplumsal kurumlar

IV- Toplumsal gruplar

Yukarıda verilenlerden hangileri toplumsal yapıyı oluşturan öğelerdendir?

- A) II ve III B) I ve III
C) I, II ve IV D) I, II, III ve IV

9. Aşağıdakilerden hangisi bireyin, grupla olan ilişkisine örnek verilebilir?

- A) Zeynep'le Hatice'nin arkadaş olması
B) Öğretmenin sınıftaki öğrencilerle ilişkisi
C) İki ailenin birbirleriyle görüşmesi
D) Öğrencinin müdürle konuşması

10. Verilmiş statüler aşağıdakilerin hangisinde birlikte verilmiştir?

- A) Öğretmen -Tüccar
B) Gençlik - Erkek olmak
C) Yaşlılık - Öğrenci
D) Anne olmak - Lise mezunu olmak

11. Bir futbol maçını seyretmeye gelenler ile futbol oynayan takımları aşağıdaki kavram çiftlerinden hangisi tanımlar?

- A) Toplumsal yığın-Toplumsal grup
B) Toplumsal kategori-Toplumsal grup
C) Toplumsal sınıf-Toplumsal yığın
D) Toplumsal grup-Toplumsal azınlık

12. Aşağıdakilerden hangisi "toplumsal kontrol" mekanizmasının işlevlerinden birisi değildir?

- A) Toplumun varlığını ve bütünlüğünü sağlamak
B) Toplum oluşturan bireylerin davranışlarını denetleme
C) Toplumsal yapının sürekliliğini sağlamak
D) Toplumsal gelişmeyi önleme

13. Aile, arkadaşlık, komşuluk gibi gruplarda görülen ilişkilere birincil ilişkiler denir.

Buna göre aşağıdakilerden hangisi birincil ilişkinin özelliklerinden değildir?

- A) İlişkiler uzun sürelidir.
B) Küçük gruplarda görülür.
C) Grup üyelerinde "ben " bilinci hakimdir.
D) İlişkiler yüz yüze ve samimidir.

14. Toplulukların göçebelikten toprağa yerleşerek toplumsal düzene geçmelerinin en önemli nedeni aşağıdakilerden hangisidir?

- A) Ticaretin gelişmesi
B) Tarımsal faaliyetin başlaması
C) İnsanların tek tanrılı dinlere inanmaya başlamaları
D) Savaşların sona ermesiyle barış ortamının ortaya çıkması

15. Ülkemizde büyük kentlere yapılan yoğun göçler neticesinde önemli birtakım sorunlar ortaya çıkmıştır.

Aşağıdakilerden hangisi kentleşmenin doğurduğu bu sorunlardan değildir?

- A) Teknolojik gelişmelerin artması
B) Bölgeler arası dengesizlik
C) Çevre kirliliği
D) Kültürel çözüme

16. • Bir konuda araştırma yapan araştırmacılar
• Her yıl düzenlenen kitap fuarına katılan yayıncılar
• Bir köyde yaşayan insanlar

Sürekliliğine göre bir sınıflama yapıldığında yukarıda verilenler sırasıyla hangi toplumsal gruplara örnek olur?

- A) Sürekli - Devirli - Geçici
B) Geçici - Sürekli - Sürekli
C) Geçici - Devirli - Sürekli
D) Devirli - Devirli - Sürekli

17. Bir toplumda maddi varlık, siyasi güç, eğitim, toplumsal saygınlık gibi ölçütler çerçevesinde bir arada düşünülen insanların oluşturduğu kategori aşağıdakilerden hangisiyle ifade edilir?

- A) Toplumsal grup
B) Toplumsal tabaka
C) Toplumsal hareketlilik
D) Toplumsal prestij

18. Toplumsal tabakalaşma piramidi toplumların gelişmişliği hakkında bilgiler verir.

Tabakalaşma piramidine bakarak bir ülkenin gelişmişliği hakkında aşağıdakilerden hangisi söylenebilir?

- A) Gelişmiş ülkelere ait piramitte üst tabaka en geniş yeri tutar.
B) Az gelişmiş ülkelere ait tabaka piramidinde orta tabaka bulunmaz.
C) Az gelişmiş ülkelere ait tabaka piramidinde en az yeri alt tabaka kaplamaktadır.
D) Toplumun refah seviyesi orta tabakayı oluşturan bireylerin sayısının fazlalığı ile doğru orantılıdır.

2. OTURUM

(243) İNGİLİZCE – 4

1 - 20. sorularda boş bırakılan yere uygun gelen kelime ya da ifadeyi işaretleyiniz.

19. Manavlık yapan bir kişinin manavlığı bırakıp kasaplık yapmaya başlaması, toplumsal hareketlilik çeşitlerinden hangisine örnek oluşturur?

- A) Toplumsal yapıda yatay hareketlilik
- B) Coğrafi alanda yatay hareketlilik
- C) Yukarıya doğru dikey hareketlilik
- D) Aşağıya doğru dikey hareketlilik

20. Tabakalar arası geçişin mümkün olmadığı, bireylerin hangi tabakada yer alacaklarının doğumla belirlendiği tabakalaşma sistemi aşağıdakilerden hangisidir?

- A) Açık sınıf tabakalaşması
- B) Yarı kapalı tabakalaşma
- C) Kapalı tabakalaşma
- D) Toplumsal hareketlilik

1. We read books the evenings.

- A) at
- B) up
- C) of
- D) in

2. She always sits me in the class.

- A) between
- B) under
- C) behind
- D) on

3. I went to Izmir two years

- A) for
- B) next
- C) ago
- D) then

4. Have you been to India?

- A) ever
- B) already
- C) before
- D) yet

5. They have been married 1994.

- A) before
- B) ever
- C) since
- D) for

6. Emre hasn't seen his uncle since

- A) 3 days
- B) 4 years
- C) a week
- D) June

7. I'm than my brother.

- A) tall
- B) taller
- C) tallest
- D) the tallest

8. Who is footballer in Turkey?

- A) good
- B) better
- C) best
- D) the best

9. Chinese is more than English.

- A) delicious
- B) difficult
- C) expensive
- D) handsome

10. Tea is popular than coffee in our country.

- A) many
- B) much
- C) more
- D) most

11. Men drive more than women.

- A) simply
- B) suddenly
- C) sincerely
- D) dangerously

12. The young man behaved and saved the little child from drowning.

- A) boldly
- B) boldest
- C) bolder
- D) bold

13. Happiness is important money.

- A) most / then
- B) than / most
- C) then / more
- D) more / than

14. His idea excellent.

- A) had
- B) was
- C) has
- D) were

15. I have in Kütahya for five years.

- A) thrown
- B) watched
- C) moved
- D) lived

16. He didn't his hands after dinner.

- A) wash
- B) washed
- C) washing
- D) to wash

17. We a bear in the forest last week.

- A) saw
- B) see
- C) seeing
- D) to see

2. OTURUM

18. They haven't to Egypt.

- A) be B) to be
C) been D) being

19. The roads are slippery. Be careful! You fall down.

- A) must B) may
C) should D) would

20. I lost my keys in the dark and I find it.

- A) couldn't B) shouldn't
C) wouldn't D) hadn't

(243) ALMANCA – 4

1 - 18. sorularda boş bırakılan yere uygun gelen ek, kelime ya da ifadeyi işaretleyiniz.

1. Ich zuerst meine Hausaufgaben machen.

- A) sollt B) sollst
C) sollen D) soll

2. Lehrer: Arda, an die Tafel!

- A) komm B) kommen
C) kommst D) kommt

3. Mutter: ins Bett Kinder!

- A) Gehen B) Gehst
C) Geht D) Geh

4. du das Buch kaufen?

- A) Wollt B) Will
C) Wollen D) Willst

5. ihr mitkommen?

- A) Möchtet B) Möchten
C) Möchte D) Möchtest

6. Ich möchte gern Haus und neu-... Möbel kaufen. (das Haus / die Möbel)

- A) eine / -e B) ein / -er
C) eine / - D) ein / -e

7. Sie sich beeilen, wenn Sie pünktlich sein wollen.

- A) wollen B) haben
C) müssen D) muss

8. man Studieren will, soll man ins Gymnasium gehen.

- A) Als B) Wenn
C) Wie D) Ob

9. Meine Mutter heiratete, sie 28 Jahre alt war.

- A) als B) denn
C) aber D) wenn

10. viel , am meisten

- A) gern B) lieber
C) besser D) mehr

11. Wolfgang Amadeus Mozart ist der Komponist.

- A) beste B) erste
C) schönste D) kleinste

12. Ferien in Antalya bietet Ihnen; sonnig-... Wetter und neu-... Freundschaften.

- A) -e / -e B) -es / -e
C) -er / - D) - / -er

13. In ein-... zerbrochen-... Glas kann man kein Wasser füllen.

- A) -e / -es B) - / -es
C) -er / -e D) -e / -

14. Ich möchte ein-... neu-... Schreibtisch.

- A) -em / -es B) -er / -en
C) -en / -en D) -er / -e

15. A: Muss ich noch üben?
B: Nein, du brauchst nicht üben.

- A) zu B) haben
C) dass D) denn

16. A: ich dir helfen?
B: Nein, du brauchst nicht helfen.

- A) Sollen / zu
B) Sollst / denn
C) Soll / zu
D) Sollt / dass

17. A: lernst du Deutsch?
B: Deutsch an meiner Schule Pflichtfach ist.

- A) Wozu / Damit
B) Warum / Weil
C) Weil / Um ... zu
D) Was / Weil

18. A: schreibst du eine Postkarte?
B: Selten.

- A) Wie lange B) Wie oft
C) Wann D) Seit wann

19. Bu işareti anlatan doğru ifade hangisidir?



- A) Hier soll man nicht parken!
B) Hier muss man nicht parken!
C) Hier will man nicht parken!
D) Hier darf man nicht parken!

2. OTURUM

20. Aşağıdaki cümlelerden hangisi emir cümlesidir (Befehlsatz) ?

- A) Wer ist das
B) Ich heiße Çınar
C) Schreib schnell
D) Angenehm

(243) FRANSIZCA – 4

1 - 20. sorularda boş bırakılan yere uygun gelen kelime ya da ifadeyi işaretleyiniz.

1. Cette fille-ci a cinq ans; a sept ans.

- A) celui-là B) celles-là
C) ceux-là D) celle-là

2. Je n'aime pas cette tarte, je préfère de mon pâtissier.

- A) celui B) celle
C) ceux D) celles

3. J'aime mes de l'université mais je n'aime pas ceux du lycée.

- A) enfant B) fille
C) frère D) amis

4. Le train de 8h. est toujours en retard. ne me plaît pas.

- A) Cela B) Ce
C) C'est D) Cette

5. L'avion est rapide que la voiture.

- A) moins B) plus
C) aussi D) autant

6. Hülya a visité pays que sa tante.

- A) aussi B) dans
C) avec D) autant de

7. Kızılırmak est long fleuve de la Turquie.

- A) la plus B) le plus
C) le moins D) les plus

8. Cette université est du monde.

- A) la meilleure
B) le meilleur
C) les meilleures
D) les meilleurs

9. Qui travaille dans votre classe?

- A) autant B) le mieux
C) pire D) moindre

10. Ma fille joue du violon et toi joue de quel instrument?

- A) le tien B) le sien
C) la tienne D) la mienne

11. Je connais ton mais je ne connais pas le sien.

- A) adresse B) sœur
C) tante D) numéro

12. Ce matin-là, Éric s'est levé tôt car il un rendez-vous.

- A) aura B) a
C) avait D) avoir

13. Ma sœur la vaisselle quand mon frère est entré.

- A) faisait B) fait
C) va faire D) fera

14. beau jour!

- A) Quel B) Quelle
C) Quels D) Quelles

15. Elle parle avec ses enfants.

- A) douce B) doux
C) douces D) doucement

16. Serkan va au cinéma je vais au théâtre.

- A) en revanche
B) contrairement
C) mais
D) malgré

17. Cette plante va dans deux jours.

- A) fleurit B) fleurir
C) fleurant D) fleuri

18. La famille de se réunir il y a deux heures.

- A) viennent B) viens
C) venir D) vient

19. Je vous avec plaisir.

- A) accompagnerait
B) accompagneriez
C) accompagnerais
D) accompagneraient

20. Si nous avons eu le temps nous ce travail.

- A) allons finir B) avons fini
C) aurions fini D) finissons

2. OTURUM

(404) DİL VE ANLATIM – 4

1. Hikâye etme aşağıdaki edebî türlerin hangisinde anlatım biçimi olarak kullanılmaz?

- A) Anı B) Makale
C) Biyografi D) Seyahat

2. Aşağıdaki cümlelerin hangisinde topluluk ismine yer verilmemiştir?

- A) Çoban, akşam olunca sürüyü köye getirdi.
B) Yaz gelince Ordu'da yaylaya çıkarız.
C) Toplum olarak trafikte yayalara öncelik tanırız.
D) Halk, muhtarın sözlerini merakla dinliyordu.

3. Koltuğun yeşili göz alıcıydı. Çizgili yastıkları ona zarif bir görünüm veriyordu. Ayaklarından gelen yorgun çıtırtılar eskiliğini hissettiriyordu. Yine de kadife dokusu ilk günkü gibiydi.

Bu parçada aşağıdaki betimlemelerin hangisi kullanılmıştır?

- A) Kişi
B) Hayvan
C) Cansız varlık
D) Doğa

4. Aşağıdaki cümlelerin hangisinde niteleme sıfatı kullanılmıştır?

- A) Birinci sınıftan beri tanışıyoruz.
B) Yemeğe üç arkadaş gitmiştik.
C) Yıllarca birbirimize birçok hediye aldık.
D) Sıcak kahvemi gülümseyerek yudumladım.

5. Dünya edebiyatında en çok işlenen ve sevilen şiir türü hangisidir?

- A) Lirik B) Epik
C) Satirik D) Didaktik

6. Aşağıdaki cümlelerin hangisinde zamir kullanılmamıştır?

- A) Beni akşama arayacağını söyledi.
B) Herkes ondan övgüyle bahsediyordu.
C) Öteki arkadaşım bizimle geliyor.
D) İçlerinden sadece birini tanıyorum.

7. Aşağıdakilerden hangisi çağdaş destanlardan değildir?

- A) Çakırın Destanı
B) Battalname
C) Üç Şehitler Destanı
D) Sakarya Meydan Savaşı

8. Aşağıdakilerden hangisi emredici anlatımın özelliklerinden değildir?

- A) Sosyal hayatın düzenlenmesinde kullanılır.
B) Öğretici ve açıklayıcı yönleri vardır.
C) Dil, alıcıyı harekete geçirme işleviyle kullanılır.
D) Cümlelerde isimler hâkimdir.

9. Aşağıdaki cümlelerin hangisinin yüklemi bileşik zamanlıdır?

- A) Her sabah yürüyüşe gider.
B) Çok koştuğu zaman su içmiyordu.
C) İş yoğunluğu artınca sporu bırakmış.
D) Neredeyse her gün akşama kadar çalışıyor.

10. Aşağıdaki cümlelerin hangisinin yüklemi geçişlidir?

- A) Geldiğimiz gibi hızlı adımlara aynı yollardan geçerek dönüyorduk.
B) Yorgunluktan öğlene kadar uyumuşum.
C) Karar vermeden yürüyüp gelmişim.
D) Pencerenin önünde karşı karşıya oturup dışarıyı seyrettik.

11. Aşağıdaki cümlelerden hangisinin yüklemi süreklilik kipiyle çekimlenmiştir?

- A) Meraktan akşama kapına gelebilirim.
B) Başım dönünce elini tutuverdim.
C) Ben dışarı çıkayım, sen yazadur.
D) Otobüse yetişeceğim diye düşeyazdım.

12. Türk edebiyatında öğretici eserlerin ilk örnekleri aşağıdakilerin hangisinde görülür?

- A) Uygur Metinleri
B) Kutadgu Bilig
C) Atabetü'l Hakayık
D) Ahmet Yesevi'nin Hikmetleri

13. Genelde öğretici (didaktik) metinlerde bu anlatım türü kullanılır. Onun için makale, eleştiri gibi yazılarda; tarih, coğrafya gibi ders kitaplarında bu teknikten yararlanılır. Yazar, okuyucunun bilmediğini düşündüğü bilgileri okuyucuya aktarır.

Bu parçada hangi anlatım biçimi hakkında bilgi verilmiştir?

- A) Açıklayıcı
B) Tartışmacı
C) Kanıtlayıcı
D) Öyküleyici

14. "Fındıkları hızlı hızlı topluyordu ki hemen satabilsin."

cümlesindeki altı çizili zarfların türü nedir?

- A) Soru - Nicelik
B) Nicelik - Yer yön
C) Yer yön - Zaman
D) Durum - Zaman

15. Aşağıdakilerden hangisi düşsel metinlerin özelliklerindedir?

- A) Günlük yaşama ait unsurlar konu olabilir.
B) Konu, olağanüstü özelliklere sahiptir.
C) Zaman, içinde bulunulan zamanın özelliklerini taşır.
D) Kişiler gerçek, mekân sıradandır.

2. OTURUM

(411) TÜRK EDEBİYATI – 1

16. Aşağıdakilerden hangisi bilim kurguda temel konulardan değildir?

- A) Doğa olayları
- B) Uzayla ilgili olaylar
- C) Zaman içinde yolculuklar
- D) Makinelerle savaş

17. Aşağıdaki cümlelerin hangisinde edat kullanılmamıştır?

- A) Bu kadar yolu oturmak için gelmedim.
- B) Sana göre bu sıcakta çıkmamalıydık.
- C) Saat ve çanta uyumunu çok severim.
- D) Yola sabaha doğru çıkacağız.

18. Aşağıdaki cümlelerin hangisinde “ne...ne” bağlacı “ikisinin arası, ortası” anlamı vermektedir?

- A) Ne buraya geliyor ne oraya gitmemi istiyor.
- B) Yeni gelen garson ne hızlı ne yavaştı.
- C) Kardeşim beni aylardır ne arıyor ne soruyor.
- D) Kaç yıl oldu taşınalı, ne geleni ne gideni var.

19. Aşağıdaki türlerin hangisinde diyalog ön plandadır?

- A) Tiyatro
- B) Roman
- C) Hikâye
- D) Masal

20. Söylenen sözün tersini kastederek kişi veya olayla alay etmenin söz konusu olduğu mizahi terim aşağıdakilerden hangisidir?

- A) Karikatür
- B) Humor
- C) Parodi
- D) İroni

1. Yazılı edebiyatımızın elimizdeki en eski örnekleri aşağıdakilerden hangisidir?

- A) Göktürk Yazıtları
- B) Yunus Emre Divanı
- C) Divan-ı Hikmet
- D) Kutadgu Bilig

2. Halk edebiyatında yiğitlik ve savaş duygularını coşturmak amacıyla yazılan şiirlere ne ad verilir?

- A) Ağıt
- B) Koçaklama
- C) Taşlama
- D) Güzelleme

3. Ninni derim beşiğe
Hızır gelsin işine
Ulu devlet başına
Uyusun yavrum ninni
(Kastamonu)

Bu ninni aşağıdaki edebiyat kollarından hangisine aittir?

- A) Âşık edebiyatı
- B) Divan edebiyatı
- C) Anonim halk edebiyatı
- D) Servet-i Fünûn edebiyatı

4. Aşağıdakilerden hangisi edebî eserin özelliklerinden biri değildir?

- A) İnsanların duygu, düşünce ve hayal dünyasını geliştirir.
- B) Kişinin hissettiği ancak tanımlayamadığı duyguları tanımlar.
- C) Yazıldıkları çağın dil, kültür ve sanat anlayışlarını yansıtır.
- D) Kurmaca değildir, yaşanmış olaylardan meydana getirilir.

5. Açılan bir gülsün sen yaprak yaprak,
Ben aşkımla bahar getirdim sana.
Tozlu yollarından geçtiğim uzak,
İklimden şarkılar getirdim sana.
(Ahmet Muhip Dranas)

Yukarıdaki dizeler, konusu bakımından hangi şiir türüne girer?

- A) Pastoral
- B) Lirik
- C) Satirik
- D) Epik

6. Bir şeyin oluşunu, gerçek oluş nedeni dışında daha güzel bir nedene bağlama sanatına ne ad verilir?

- A) Teşbih
- B) Tezat
- C) Abartma
- D) Hüsn-i ta'lil

7. Kuleden
Ses geliyor kuleden
O kaş o göz değil mi
Beni sana kul eden
Bu manide aşağıdaki edebî sanatlardan hangisi vardır?

- A) Cinas
- B) Kinaye
- C) Abartma
- D) Benzetme

8. Orhan zamanından kalma bir duvar
Onunla bir yaşta ihtiyar çınar
(Ahmet Hamdi Tanpınar)

Bu dizelerde aşağıdaki uyak çeşitlerinden hangisi vardır?

- A) Zengin
- B) Yarım
- C) Tam
- D) Tunç

9. Aşağıdakilerden hangisi sözlü ve yazılı anlatım arasındaki benzerliklerinden biri değildir?

- A) Dili kullanırlar.
- B) Duygu ve düşüncenin güzel söylenmesine önem verirler.
- C) Düşünce ve duyguların etkili söylenmesini önemserler.
- D) Vurgu, tonlama, jest ve mimiklere yer verirler.

2. OTURUM

10. Ağlasam sesimi duyar mısınız,
Mısrararımda;
Dokunabilir misiniz
Göz yaşlarıma, ellerinizle?
(Orhan Veli Kanık)

Bu şiirin ölçüsü aşağıdakilerden hangisidir?

- A) Aruz ölçüsü
- B) Serbest ölçü
- C) Hece ölçüsü
- D) Müseddes (altılık)

11. Bir metnin en küçük anlamlı ögesi aşağıdakilerden hangisidir?

- A) Paragraf
- B) Hece
- C) Cümle
- D) Deyim

12. Bir edebî eserin yazıldığı dönem incelenirken hangi bilim dalından yararlanır?

- A) Felsefe
- B) Sosyoloji
- C) Psikoloji
- D) Tarih

13. Yürüyordum: Ağlıyordu ırmaklar;
Yürüyordum: Düşüyordu yapraklar;
Yürüyordum: Sararmıştı yaylalar;
Yürüyordum: Ekilmişti tarlalar.
(Mehmet Emin Yurdakul)

Bu dördünlüğün hece ölçüsü aşağıdakilerden hangisidir?

- A) 7'li
- B) 8'li
- C) 11'li
- D) 14'lü

14. Bir şiirin kapalı olan yönlerini açıklamaya, onu anlaşılır hâle getirmeye ne denir?

- A) Yorumlama
- B) Okuma
- C) Düzenleme
- D) Seslendirme

15. Şiirde herhangi bir konunun şairler tarafından farklı ele alınış tarzına ne denir?

- A) Olgü
- B) Uyak
- C) Tema
- D) Konu

16. Bilim, sanat, felsefe vb. alanlarda özel anlamda kullanılan sözlere ne denir?

- A) Terim
- B) Deyim
- C) Atasözü
- D) İleti

17. Bir cümlede düşünce ve duygunun gerektiği kadar sözcüklerle anlatılması, gereksiz sözcük ve ögelere yer verilmemesi hangi özelliği gösterir?

- A) Akıcılık
- B) Duruluk
- C) Yalınlık
- D) Açıklık

18. Ben giderim adım kalır
Dostlar beni hatırlasın
Düğün olur bayram gelir
Dostlar beni hatırlasın.

Bu dördünlük aşağıdaki isimlerden hangisine aittir?

- A) Âşık Daimi
- B) Âşık Veysel
- C) Koroğlu
- D) Oktay Rifat

19. Gazelin en güzel beytine ne ad verilir?

- A) Beytül-gazel
- B) Matla
- C) Makta
- D) Müzeyyel gazel

20. Savaş, kahramanlık, yiğitlik ve yurt sevgisi gibi konular ile tarihsel olayları coşkulu bir anlatımla dile getiren şiirlere ne denir?

- A) Satirik
- B) Pastoral
- C) Didaktik
- D) Epik

(412) TÜRK EDEBİYATI – 2

1. Aşağıdakilerden hangisi bir gölge oyunudur?

- A) Meddah
- B) Komedi
- C) Karagöz
- D) Orta oyunu

2. Toplumların millet oluşları sırasında gösterdikleri kahramanlık, savaş, göç, doğal afetler gibi önemli olaylar etkisiyle söylenmiş uzun manzum hikâyelere ne ad verilir?

- A) Günce
- B) Deneme
- C) Masal
- D) Destan

3. Aşağıdakilerden hangisi yapma destanlardan biridir?

- A) Şehname
- B) Ergenekon
- C) Kalevala
- D) Çılgın Orlando

4. "İncelemeye çalıştığım yazarlarımızı değerlendirirken, Türk romanına hangi yönlerden katkıda bulduklarını, geliştirdikleri teknikleri saptamak isterim." diyen bir yazar, hangi yazı türünde yazmaktadır?

- A) Eleştiri
- B) Fıkra
- C) Makale
- D) Deneme

5. Aşağıdakilerden hangisi anlatmaya bağlı edebî metinlerdeki bakış açılarından biri değildir?

- A) İlahi bakış açısı
- B) Kahraman anlatıcının bakış açısı
- C) Gözlemci anlatıcının bakış açısı
- D) Sabit bakış açısı

6. Masalda her şeyin güzel bir sona bağlandığı ve genellikle "Gökten üç elma düştü." tekerlemesiyle biten bölüme ne ad verilir?

- A) Dilek
- B) Serim
- C) Döşeme
- D) Gelişme

2. OTURUM

7. Aşağıdakilerden hangisinde bilgi yanlışlığı vardır?

- A) Durum öyküsünün dünya edebiyatındaki öncüsü Anton Çehov'dur.
- B) Olay öyküsünün dünya edebiyatındaki öncüsü Aristo'dur.
- C) Olay öyküsünün Türk edebiyatındaki önemli bir temsilcisi Ömer Seyfettin'dir.
- D) Sait Faik ve Memduh Şevket Esendal, durum öyküsünün önemli temsilcilerindedir.

8. Aşağıdakilerden hangisi Karagöz oyununun bölümlerinden biri değildir?

- A) Giriş
- B) Fasil
- C) Gelişme
- D) Muhavere

9. Güzelliklerle dolu bir nesneyi çirkin görebilirsiniz. Çirkin bir nesneyi de güzel görebilirsiniz. Bir nesnenin güzel yönlerine odaklanarak onu güzel görebilirsiniz. Çirkin yönlerine odaklandığınızda ise onu çirkin göreceksiniz.

Bu parçanın ana düşüncesi aşağıdakilerden hangisidir?

- A) Her varlığın kendine göre güzel bir yanı vardır.
- B) Varlıkları algılamada bakış açısı önemlidir.
- C) Her varlığın iyi yönü de kötü yönü de olabilir.
- D) Güzellik, çirkinlik göreceli kavramlardır.

10. Aşağıdaki eser-yazar eşleştirmelerinden hangisi yanlıştır?

- A) Leylâ ve Mecnun - Fuzulî
- B) Hüsn ü Aşk - Şeyhi
- C) Yusuf ve Züleyha - Şeyyad Hamza
- D) Mesnevi - Mevlâna

11. Bir yazarın veya önemli kişilerin başından geçen veya yaşadıkları devirde tanık oldukları, duydukları olayları anlattığı yazıdır. Bu yazılar, o devri aydınlatması bakımından birer belge niteliğindedir.

Parçada sözü edilen yazı türü aşağıdakilerden hangisidir?

- A) Anı
- B) Fıkra
- C) Mektup
- D) Makale

12. Her şeyin danslı hareketlerle anlatıldığı, konuşma olmayan, konusunu müzik eşliğinde hareketlerle anlatan tiyatro türüne ne denir?

- A) Bale
- B) Opera
- C) Operet
- D) Komedi müzikal

13. Aşağıdakilerden hangisi Karagöz ve orta oyunu gibi geleneksel Türk tiyatrosunun ortak özelliklerinden biri değildir?

- A) Göze ve kulağa seslenmeleri
- B) Şive taklitlerinden yararlanmaları
- C) Tek kişilik gösteri olmaları
- D) Güldürü ögesine yer vermeleri

14. Aşağıdakilerden hangisi makale ve fıkranın ortak bir özelliğidir?

- A) Kişisel görüş ve yorumlar öne çıkar.
- B) Gazete ve dergi çevresinde gelişen metinlerdir.
- C) Düşünceler ayrıntılarıyla açıklanıp kanıtlanır.
- D) Bilimsel konular ele alınır.

15. Gezilip görülen yerlerin tarihî, coğrafi, kültürel, ekonomik vb. özelliklerini anlatan yazı türüdür.

Bu yazı türü aşağıdakilerden hangisidir?

- A) Eleştiri
- B) Gezi yazısı
- C) Anı
- D) Deneme

16. Sözlük anlamı "bir olayı, sözlü veya yazılı olarak aktarmak, anlamak" olan, edebiyatta ise "insanların başlarından geçen veya geçme olasılığı bulunan olayları anlatan" kısa yazılara ne denir?

- A) Fıkra
- B) Masal
- C) Öykü
- D) Roman

17. "Bir oyunun kalabalık sahnesini doldurmak için kullanılan, konuşmayan veya birkaç sözcük söyleyen kişi, kişiler" için kullanılan terim, aşağıdakilerden hangisidir?

- A) Aktör
- B) Süflör
- C) Balerin
- D) Figüran

18. Aşağıdakilerden hangisi makale türünün bir özelliği değildir?

- A) Herhangi bir konuda bilgi vermek, açıklama yapmak, gerçeği savunmak, kanıtlamak için yazılır.
- B) Okuyucuyu ikna etme, onu inandırma çabası vardır.
- C) Söz oyunlarına dayalı ve sanatlı bir dille yazılır.
- D) Bilimden sanata, edebiyattan siyasete, hemen her konuda yazılabilir.

19. Cumhuriyet Dönemi Türk Edebiyatı'yla ilgili olarak aşağıdakilerden hangisi yanlıştır?

- A) Cumhuriyet Dönemi 1918-1968 yılları arasını kapsar.
- B) Yapılan devrimler topluma eğitim, kültür, sanat ve yönetim alanında yenilikler getirir.
- C) İstanbul'da yetişen sanatçılar bireysel konuları işlediler.
- D) Kırsal bölgeden yetişen sanatçılar köy ve kasaba hayatını ele aldılar.

2. OTURUM

20. Aşağıdakilerden hangisi “iş mektubu” hakkında **yanlış** bilgi içermektedir?

- A) Kişilerin herhangi bir resmî kuruma iş amacıyla yazdıkları mektuplardır.
- B) İş mektubu, mektup çeşitlerinden biridir.
- C) Resmî ve ticari kuruluşların kendi aralarındaki yazışmalar da iş mektubudur.
- D) İş mektubu, kamuoyunu aydınlatmak amacıyla yazılır.

(415) TÜRK EDEBİYATI – 5

1. Aşağıdakilerden hangisi “edebiyat”ı tanımlar?

- A) İnsan ve toplum yaşantısından doğan bütün olay, duygu, düşünce ve hayallerin söz ve yazı ile güzel ve etkili bir biçimde anlatılması sanatıdır.
- B) Toplumlara, milletlere, kuruluşlara etkileyen olaylardan doğan, olayları zaman ve yer gösterek anlatan, bu olaylar arasındaki ilişkileri, her milletin kurduğu medeniyeti inceleyen bilim dalıdır.
- C) Bir duygu, tasarı, güzellik vb. anlatımında kullanılan yöntemlerin tamamıdır.
- D) Birtakım duygu ve düşünceleri belli kurallar çerçevesinde uyumlu seslerle anlatma sanatıdır.

2. Toplumu ve sosyal konuları ele alan bir roman incelenirken aşağıdaki bilim dallarının hangisinden yararlanır?

- A) Tarih
- B) İstatistik
- C) Psikoloji
- D) Sosyoloji

3. Tanzimat tiyatrosuyla ilgili aşağıdaki yargılardan hangisi **yanlıştır**?

- A) Seyretmenin okumadan daha etkili olduğu düşünülerek, halka iletilmek istenen, tiyatro ile gerçekleştirilmiştir.
- B) Tiyatro türünde vatan, millet, aile, görenek ve gelenekle ilgili temalar işlenmiştir.
- C) Komedilerde klasisizm, dramalarda romantizmin etkisi görülür.
- D) Tanzimat tiyatrosunun ilk başarılı örneği, Namık Kemal’in Finten adlı eseridir.

4. Aşağıdakilerden hangisi dil ve sözlük çalışmalarıyla başta gelen isimlerdendir?

- A) Namık Kemal
- B) Şemsettin Sami
- C) Ziya Paşa
- D) Ziya Gökalp

5. Aşağıdaki Tanzimat edebiyatı yazarlarından hangisi fabl türünde eserler yazmıştır?

- A) Şinasi
- B) Ziya Paşa
- C) Namık Kemal
- D) Abdülhak Hamit Tarhan

6. Edebiyatımızdaki **ilk** roman çevirisini aşağıdaki Tanzimat yazarlarından hangisi yapmıştır?

- A) Ahmet Mithat Efendi
- B) Yusuf Kâmil Paşa
- C) Ziya Paşa
- D) Sami Paşazade Sezai

7. Aşağıdakilerden hangisi Tanzimat edebiyatına ait bir roman **değildir**?

- A) İntibah
- B) Araba Sevdası
- C) Yaban
- D) Zehra

8. Tanzimat edebiyatı hikâye ve roman yazarlarındandır. Eserlerinde gerçek hayatta karşılaşılabileceğimiz olayları ele aldı. Tek romanı **Sergüzeşt**’le ün kazandı. Bu roman, edebiyatımızda romantizmden realizme geçişin başarılı bir örneği sayılır.

Bu parçada tanıtılan yazar aşağıdakilerden hangisidir?

- A) Sami Paşazade Sezai
- B) Ahmet Mithat Efendi
- C) Şemsettin Sami
- D) Nabizade Nazım

9. Aşağıdakilerden hangisi Tanzimat edebiyatının ilklerinden **değildir**?

- A) İlk tiyatro eseri Şinasi’nin Şair Evlenmesi’dir.
- B) İlk özel Türkçe gazete Şinasi ve Agah Efendi’nin çıkardıkları Tercüman-ı Ahval’dır.
- C) İlk oynanan oyun Vatan Yahut Silistre’dir.
- D) İlk edebî dergi Genç Kalemler’dir.

10. Aşağıdakilerden hangisi **ilk** atasözleri kitabıdır?

- A) Harabat
- B) Zemzeme
- C) Müntehabat-ı Eşar
- D) Durub-ı Emsal-i Osmaniye

11. Tanzimat edebiyatının en mücadeleci şairi sayılır. Edebiyatımızın pek çok alanında eserler verdi. Onun “Cezmi” romanı edebiyatımızın ilk tarihî romanı kabul edilir.

Tanıtılan edebiyatçı aşağıdakilerden hangisidir?

- A) Ziya Paşa
- B) Namık Kemal
- C) Ahmet Mithat Efendi
- D) Abdülhak Hamit Tarhan

12. Tanzimat Fermanı, Gülhane Parkı’nda hangi tarihte, kim tarafından okunmuştur?

- A) 3 Kasım 1839, Talât Paşa
- B) 9 Kasım 1836, Mustafa Reşit Paşa
- C) 3 Kasım 1839, Mustafa Reşit Paşa
- D) 6 Kasım 1838, Talât Paşa

13. Terkib-i Bend adlı eseriyle tanınmıştır. Bu eserinde eski edebiyatımızda olmayan düşünceleri ele alarak toplumu bilinçlendirmeye çalışmış, toplum sorunlarına çare aramıştır.

Bu parçada sözü edilen eserin yazarı, aşağıdakilerden hangisidir?

- A) Şinasi
- B) Ziya Paşa
- C) Namık Kemal
- D) Muallim Naci

2. OTURUM

14. Aşağıdaki eser - tür eşleştirmelerinden hangisi yanlıştır?

- A) İntibah - roman
B) Afife Anjelik - tiyatro
C) Küçük Şeyler - eleştiri
D) Makber - şiir

15. Aşağıdakilerden hangisi Tanzimat edebiyatının genel özelliklerinden değildir?

- A) Genel olarak hece ölçüsü kullanılmıştır.
B) Hikâye ve romanlarda temalar günlük hayattan, tarihten alınmıştır.
C) Fransız edebiyatı örnek alınmıştır.
D) Divan edebiyatında bulunmayan hikâye, roman, makale, eleştiri gibi yeni türler edebiyatımıza girmiştir.

16. Türk edebiyatındaki ilk edebî roman aşağıdakilerden hangisidir?

- A) İntibah B) İçli Kız
C) Sergüzeşt D) Araba Sevdası

17. Şairin, eşi Fatma Hanım'ın ölümü üzerine yazdığı bir mersiyedir. Bu eser, her biri sekizer dizeden oluşan bentler hâlinde yazılmıştır. Tamamı 295 bentlik bu eserde şair, ölüm karşısındaki duygu ve düşüncelerini, acılarını, feryatlarını dile getirmiştir.

Bu parçada tanıtılan eser ve sanatçısı, aşağıdakilerden hangisidir?

- A) Terkib-i Bend - Ziya Paşa
B) Makber - Abdülhak Hamit Tarhan
C) Zehra - Nabizade Nazım
D) Taaşşuk-ı Talat ve Fitnat - Şemsettin Sami

18. Bu eserde Bihruz Bey tipi ile mirasyedilik anlayışı; Batılılaşmayı giyim, kuşam ve gerekli gereksiz yerlerde Fransızca sözcükler kullanma olarak algılayan anlayış eleştirilmektedir.

Parçada söz edilen eser aşağıdakilerden hangisidir?

- A) Gülnihal
B) İçli Kız
C) Araba Sevdası
D) Zavallı Çocuk

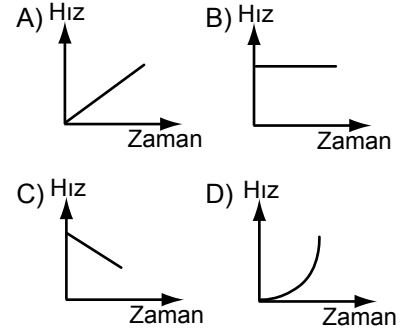
19. Türk edebiyatındaki ilk tiyatro eseri ve yazarı, aşağıdakilerden hangisidir?

- A) Telemak - Yusuf Kâmil Paşa
B) Gülnihal - Namık Kemal
C) Harabat - Ziya Paşa
D) Şair Evlenmesi - Şinasi

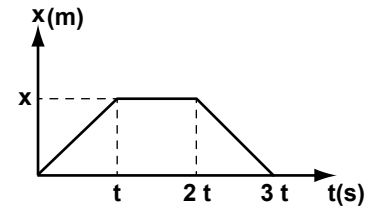
20. Aşağıdakilerden hangisi Tanzimat Fermanı'nın asıl hazırlanmış amacıdır?

- A) Batı kültürünü ve sanatını yakından tanımak
B) Duygu ve düşünceleri halka edebiyat aracılığıyla aktarmaya çalışmak
C) Batı'daki gelişmelere ayak uydurmak ve Batı ülkelerinin bilim ve teknolojisinden yararlanmak
D) İçinde yaşanan çağın ve toplumun özelliklerini bilimsel açıdan değerlendirmek

3. Bir otomobil eşit zaman aralığında eşit yollar alıyorsa, bu otomobile ait hız-zaman grafiği aşağıdakilerden hangisi olabilir?



4. Bir oyuncak arabanın Konum-Zaman grafiği şekildeki gibidir.



Buna göre, arabanın 3t süredeki toplam yer değiştirmesi kaç x kadardır?

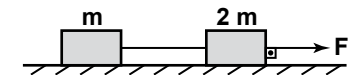
- A) 0 B) 1 C) 1,5 D) 2

5. Türksat I uydusuna, Dünya tarafından uygulanan çekim kuvveti F tir.

Buna göre, uydunun Dünya'ya uyguladığı çekim kuvveti kaç F'tir?

- A) 0 B) 0,5 C) 1 D) 1,5

6. Sürtünmesiz bir yüzeyde birbirine bağlı m ve 2 m kütleli cisimlere şekildeki gibi F kuvveti uygulanıyor.

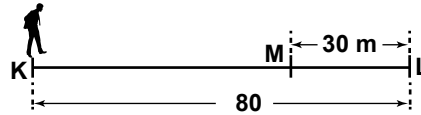


Buna göre, m kütleli cismin ivmesi aşağıdakilerin hangisinde doğru verilmiştir?

- A) $\frac{F}{3m}$ B) $\frac{F}{m}$
C) $\frac{3F}{m}$ D) $\frac{m}{3F}$

(422) FİZİK – 2

1. Şekildeki K noktasından yola çıkan Ali yürüyerek L noktasına gelip duruyor.



Daha sonra geri dönüp M noktasına kadar geliyor.

Buna göre, Ali'nin toplam yer değiştirmesi kaç m'dir?

- A) 110 B) 80 C) 50 D) 30

2. Sürat ile ilgili;

I- Yönü ve doğrultusu yoktur.

II- Birimi m/s dir.

III- Skaler bir büyüklüktür.

İfadelerinden hangileri doğrudur?

- A) Yalnız I B) I ve II
C) II ve III D) I, II ve III

2. OTURUM

7. Sürtünme kuvveti:
 I- Sürtünen yüzeyin cinsine
 II- Cismin ağırlığına
 III- Sürtünen yüzeyin alanına
 niceliklerinden hangilerine bağlıdır?

A) Yalnız I B) I ve II
 C) II ve III D) I, II ve III

8. m kütleli bir cisim sürtünme katsayısı k olan bir yüzeyde F kuvveti ile çekiliyor.

Yerçekimi ivmesi g olduğuna göre cisme uygulanan sürtünme kuvveti aşağıdakilerden hangisi ile ifade edilir?

A) mg B) $\frac{mg}{k}$
 C) $\frac{k}{mg}$ D) mgk

9. Bir iletkenin kesitinden 1 dakikada 120 C'luk yük geçmektedir.

Buna göre, iletkenden geçen akım şiddeti kaç amperdir?

A) 1 B) 2 C) 3 D) 4

10. 100 Ω luk direnç üzerinden 4 amperlik akım geçmesi için direncin uçlarına kaç V'luk gerilim uygulanmalıdır?

A) 100 B) 200
 C) 300 D) 400

11. Kesit alanı S olan 3 l uzunluğundaki iletken telin direnci R 'dir.

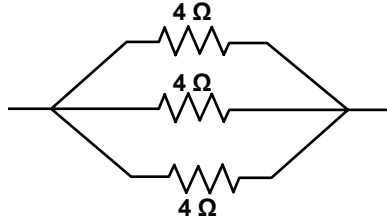
Aynı iletkenin yarısı kesilip atılırsa kalan iletkenin direnci kaç R olur?

A) 2 B) $\frac{3}{2}$ C) $\frac{1}{2}$ D) $\frac{1}{4}$

12. Elektrik devrelerinde ayarlanabilir direnç olarak isimlendirilen alet aşağıdakilerden hangisidir?

A) Reosta B) Ampermetre
 C) Voltmetre D) Sigorta

13. Büyüklükleri 4 Ω olan üç direnç şekildeki gibi bağlanmıştır.



Buna göre, bu devrenin toplam direnci kaç Ω 'dur?

A) $\frac{1}{2}$ B) 1 C) $\frac{4}{3}$ D) 2

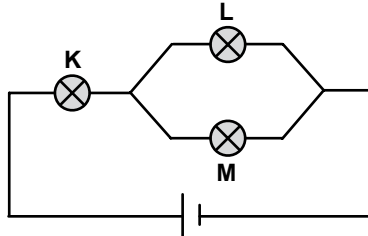
14. Manyetik alan içinde bulunan ve üzerinden elektrik akımı geçen bir iletken tele etki eden kuvvet

I- akım şiddetine
 II- manyetik alana
 III- telin uzunluğuna

niceliklerinden hangilerine bağlıdır?

A) Yalnız I B) I ve II
 C) II ve III D) I, II ve III

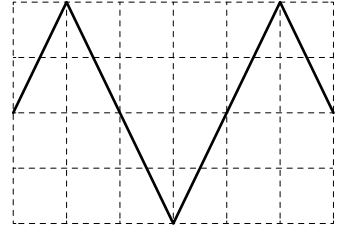
15. Şekildeki devrede K, L ve M lambaları özdeşdir.



Buna göre, lambaların parlaklıkları arasındaki ilişki aşağıdakilerin hangisinde doğru verilmiştir?

A) $K = L = M$ B) $K > L = M$
 C) $K > L > M$ D) $K = L > M$

16. Şekilde, birim kareler üzerine çizilmiş periyodik dalganın bir bölümü verilmiştir.



Buna göre, bu dalganın dalga boyu kaç birimdir?

A) 2 B) 4 C) 6 D) 8

17. Frekansı 10 s^{-1} olan bir dalganın periyodu kaç saniyedir?

A) 0,1 B) 1 C) 10 D) 100

18. Ses ile ilgili;

I- Frekansı büyürse ses incilir.
 II- Genlik değeri artarsa ses şiddeti artar.
 III- Yayıldığı ortam değiştiğinde, frekans değişmez.

ifadelerinden hangileri doğrudur?

A) Yalnız I B) I ve II
 C) II ve III D) I, II ve III

19. Taşıdığı enerjiye göre aşağıdaki dalgalardan hangisi mekanik dalgadır?

A) Deprem dalgaları
 B) Mikrodalgalar
 C) Radyo dalgaları
 D) Işık dalgaları

20. Bir havuzun kenarında dalga kaynağı tarafından periyodik dalgalar üretiliyor. Bir süre sonra havuzdaki suyun yarısı boşaltılıyor.

Buna göre, başlangıçta oluşturulan dalganın

I- Frekansı
 II- Hızı
 III- Dalga boyu

niceliklerinden hangileri değişir?

A) Yalnız I B) I ve II
 C) II ve III D) I, II ve III

2. OTURUM

(423) FİZİK – 3

1. Bazı canlıların yüzey alanlarının hacimlerine oranları tabloda verilmiştir.

Canlılar	Yüzey alanı/Hacim (1/m)
Maymun	1,5
Fil	1
Karınca	2

Buna göre, canlıların dayanıklılık sıralaması aşağıdakilerin hangisinde doğru verilmiştir?

- A) Karınca > Maymun > Fil
 B) Fil > Maymun > Karınca
 C) Maymun = Fil > Karınca
 D) Karınca > Maymun = Fil
2. I- Küçük böceklerin su yüzeyinde yürümesi
 II- Tahtanın su yüzeyinde kalması
 III- Masa üzerine dökülen su damlasının küresel bir şekil alması

İfadelerinden hangileri yüzey gerilimine örnek olabilir?

- A) Yalnız I B) I ve II
 C) I ve III D) I, II ve III
3. Suyun 20 °C'deki yüzey gerilimi $7,27 \cdot 10^{-2} \frac{N}{m}$ kadardır. Buna göre, aynı suyun 0 °C'deki yüzey gerilimi aşağıdakilerden hangisi olabilir?

- A) $7,56 \cdot 10^{-2}$ B) $7,27 \cdot 10^{-2}$
 C) $7,19 \cdot 10^{-2}$ D) $6,79 \cdot 10^{-2}$

4. Gazlarla ilgili;
 I- Hacimleri yoktur.
 II- Çoğu gözle görülmezler.
 III- Tanecikleri arasındaki boşluk sıvılara göre fazladır.
- İfadelerinden hangileri doğrudur?

- A) Yalnız I B) II ve III
 C) I ve III D) I, II ve III

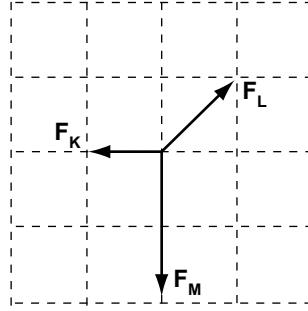
5. Atmosferin yerküreye temas eden katmanı aşağıdakilerden hangisidir?

- A) Stratosfer B) Termosfer
 C) Troposfer D) Ekzosfer

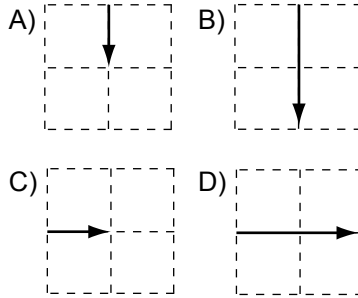
6. Aşağıdakilerden hangisi sıcak plazmaya örnek olabilir?

- A) Neon lambası
 B) Floresan lamba
 C) Kutup ışması
 D) Yıldız

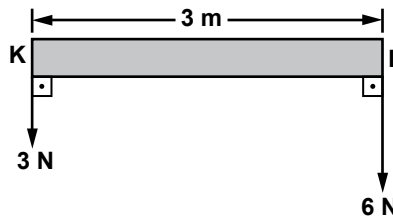
7. Birim karelere bölünmüş düzlemde F_K , F_L ve F_M kuvvetleri şekildeki gibidir.



Buna göre, bileşke kuvvet aşağıdakilerden hangisidir?



8. Ağırlığı önemsiz KL çubuğuna şekildeki gibi 6 N ve 3 N'luk kuvvetler uygulanıyor.



Buna göre, bileşke kuvvet L noktasından kaç m uzaktadır?

- A) 0,5 B) 1 C) 1,5 D) 2

9. Bir cisme etki eden bileşke kuvvet sıfır ise;
 I- Toplam kuvvet sıfırdır.
 II- Cisim hareketli ise sabit hızla hareket eder.
 III- Cisim duruyorsa durmasına devam eder.

yargılarından hangileri doğrudur?

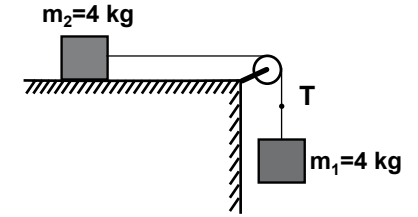
- A) Yalnız I B) I ve II
 C) II ve III D) I, II ve III

10. Sürtünmesiz bir ortamda $m=2$ kg kütleli bir oyuncak arabaya $F=10$ N'luk kuvvet uygulanıyor.

Buna göre, arabanın ivmesi kaç N/kg olur?

- A) 2 B) 5 C) 8 D) 10

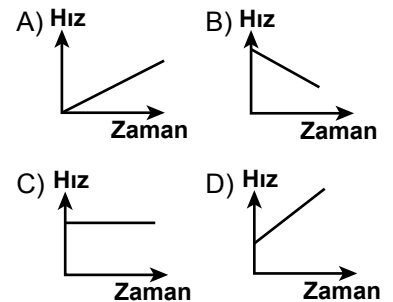
11. Hareketi engellenmiş ve sürtünmelerin önemsenmediği şekildeki sistem kuruluyor.



Sistem serbest bırakıldığında ipteki oluşan T gerilme kuvveti kaç N dur? ($g=10 \frac{N}{kg}$)

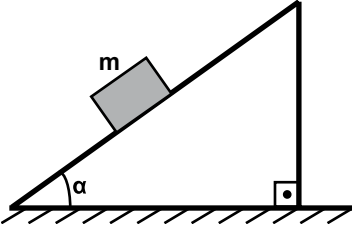
- A) 4 B) 8 C) 20 D) 40

12. Aşağıdaki grafiklerden hangisi düzgün yavaşlayan bir hareketlinin hız-zaman grafiği olabilir?



2. OTURUM

13. Yatayla α açısı yapan ve sürtünme katsayısı k olan şekildeki eğik düzlemde m kütleli bir cisim serbest bırakılıyor.



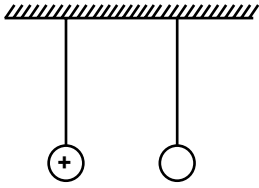
Buna göre, aşağı doğru kaymakta olan cismin ivmesi;

- I- m kütleline
II- g yerçekim ivmesine
III- α açısına

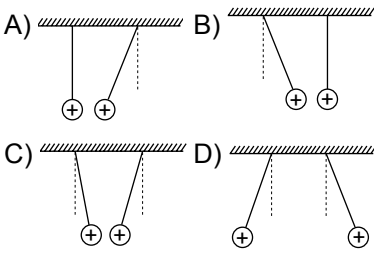
niceliklerinden hangilerine bağlıdır?

- A) Yalnız I B) I ve II
C) II ve III D) I, II ve III

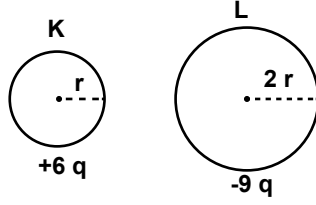
14. Özdeş, biri pozitif elektrik yüklü diğeri nötr iki küre şekildeki gibi asılmıştır.



İki küre birbirine dokundurulduğunda denge konumları aşağıdakilerden hangisi gibi olabilir?




15. K ve L kürelerinin yükleri ve yarıçapları şekildeki gibidir.



Yük kaybı olmadığına göre, küreler birbirine dokundurulup ayrıldıklarında K'nın son yükü aşağıdakilerden hangisi olur?

- A) $-2q$ B) $-q$ C) $+q$ D) $+2q$

16. Pozitif yüklü elektroskoba şekildeki negatif yüklü iletken bir cisim dokunduruluyor.



Buna göre, elektroskobun yapraklarının durumu ile ilgili aşağıdakilerden hangisi gözlemlenir?

- A) Tamamen kapanır.
B) Biraz daha açılır.
C) Değişiklik olmaz.
D) Önce açılır sonra biraz kapanır.

17. Aşağıdaki maddelerden hangisi yalıtkandır?

- A) Gümüş B) Bakır
C) Altın D) Cam

18. Elektrik yüklü iki küre d kadar uzaklıkta iken birbirlerine uyguladıkları elektriksel kuvvet F 'tir.

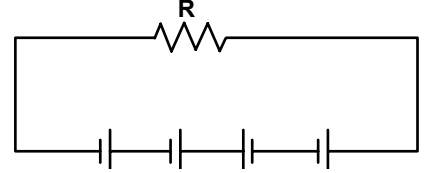
Buna göre, sadece küreler arasındaki uzaklık $2d$ yapılırsa birbirlerine uyguladıkları elektriksel kuvvet kaç F olur?

- A) $\frac{1}{4}$ B) $\frac{1}{2}$ C) 2 D) 4

19. Aşağıdaki birimlerden hangisi elektrik alan birimi olarak kullanılır?

- A) newton x coulomb
B) newton
C) coulomb
D) newton / coulomb

20. Şekildeki elektrik devresinde üreteçlerin herbirinin emk'sı 4 Volt'tur.



Buna göre, üreteçlerin eşdeğer emk'sı kaç Volt'tur?

- A) 16 B) 12
C) 8 D) 4

(424) FİZİK – 4

1. Aşağıdakilerden hangisi klasik fiziğin alt alanlarından?

- A) Mekanik
B) Kuantum fiziği
C) Atom fiziği
D) Çekirdek fiziği

2. Elektronların çekirdek etrafında katmanlarda rastgele değil, belirli yörüngelerde döndüğünü söyleyen atom modeli aşağıdakilerden hangisidir?

- A) Rutherford B) Bohr
C) Thomson D) Dalton

3. Bir radyo istasyonu, dalga boyu $3,31 \cdot 10^{-10}$ m olan dalgalarla yayın yapmaktadır.

Buna göre bu dalgaların enerjisi kaç J'dür?
($h = 6,62 \cdot 10^{-34}$ j.s, $c = 3 \cdot 10^8$ m/s)

- A) $2 \cdot 10^{-16}$ B) $4 \cdot 10^{-16}$
C) $6 \cdot 10^{-16}$ D) $8 \cdot 10^{-16}$

2. OTURUM

4. Hareketli gözlemci bir olayın zamanını 1 dakika olarak ölçüyor. Zaman genişleme katsayısı 2 olduğuna göre, bu olayı gözleyen hareketsiz gözlemcinin ölçmesi planlanan süre kaç saniyedir?

- A) 20 B) 30 C) 40 D) 60

5. Durgun kütlesi m olan bir parçacık $V=0,6c$ hızı ile hareket ediyor.

Buna göre, hareket eden parçacığın kinetik enerjisi kaç $m.c^2$ dir?

- A) 0,25 B) 0,50
C) 0,75 D) 1

6. Işık ile ilgili

I- Tanecikli yapıdadır.

II- Saydam ortamlarda dalgalar halinde yayılır.

III- Yayılması için maddesel ortama gerek yoktur.

yargılarından hangileri doğrudur?

- A) Yalnız I B) I ve II
C) II ve III D) I, II ve III

7. Her dalga boyundaki ışık ışınlarını görmemiz mümkün değildir.

Buna göre, hangi aralıktaki ışık ışınları gözle görülebilir?

- A) $4000 \text{ \AA} - 7000 \text{ \AA}$
B) $8000 \text{ \AA} - 12000 \text{ \AA}$
C) $1000 \text{ \AA} - 2000 \text{ \AA}$
D) $9000 \text{ \AA} - 1100 \text{ \AA}$

8. Özel Görelilik kavramı ile ilgili

I- Işık hızına ulaşmış bir araba, farlarını açarsa önünü aydınlatamaz.

II- Işık hızında hareket eden bir insan elindeki aynada görüntüsünü göremez.

III- Işık hızında hareket eden cisimlerin boyunda büzülme olur.

İfadelerinden hangileri doğrudur?

- A) Yalnız I B) I ve II
C) II ve III D) I, II ve III

9. Frekansı $0,5 \text{ s}^{-1}$ olan dalganın periyodu kaç saniyedir?

- A) 2 B) 1,5 C) 1 D) 0,5

10. Bir dalga leğeninde dalga oluşturan kaynağın periyodu düzgün olarak arttırılırsa, aşağıdakilerden hangisi azalır?

- A) Dalgaların dalga boyu
B) Dalgaların genliği
C) Dalgaların frekansı
D) Dalgaların hızı

11. Bir dalga leğeninde periyodu 1s olan dalgaların 1. tepe noktası ile 2. tepe noktası arası 10 cm dir.

Buna göre, dalgaların yayılma hızı kaç m/s dir?

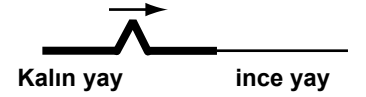
- A) 10 B) 1
C) 0,2 D) 0,1

12. Birim uzunluğunun kütlesi μ olan bir yay F kuvvetiyle gerilip bırakıldığında yayda dalga oluşuyor.

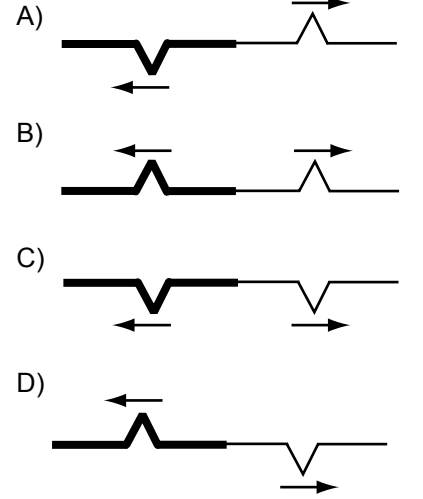
Oluşan bu dalganın hızı aşağıdakilerden hangisine bağlıdır?

- A) Dalganın genliğine
B) Dalganın genişliğine
C) Dalganın birim uzunluk kütle sine
D) Dalganın şekline

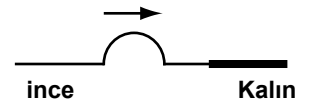
13. Kalın yaydan ince yaya gönderilmek istenen atma şeklindeki gibidir.



Buna göre, iletilen ve yansıyan atmanın şekli aşağıdakilerin hangisinde doğru verilmiştir?



14. Şekildeki gibi ince ve kalın yaylar birbirine bağlanmıştır.



Buna göre, ince yayda oluşturulan atma kalın yaya geçtiğinde;

I- hızı

II- genişliği

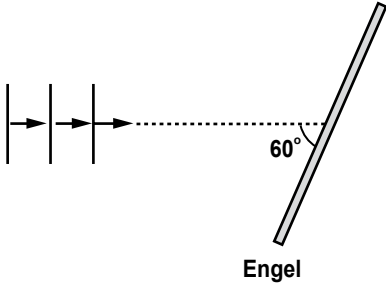
III- genliği

niceliklerinden hangileri değişir?

- A) Yalnız I B) I ve II
C) II ve III D) I, II ve III

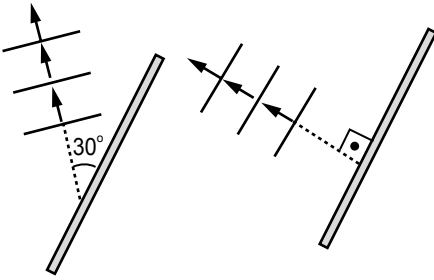
2. OTURUM

15. Şekildeki doğrusal dalgalar engеле doğru ilerliyor.

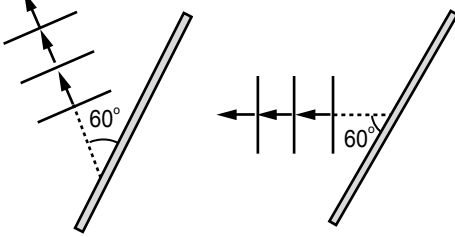


Buna göre dalgaların engelden yansımaları aşağıdakilerin hangisinde doğru çizilmiştir?

- A) B)



- C) D)

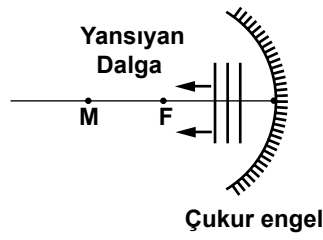


16. Yarıklık sayısı 8 olan bir stroboskopa dalgalara bakıldığında dalgalar duruyormuş gibi görülüyor.

Bu andaki stroboskobun frekansı 1 s^{-1} olduğuna göre, dalgaların frekansı kaç s^{-1} 'dir?

- A) 9 B) 8 C) 7 D) 6

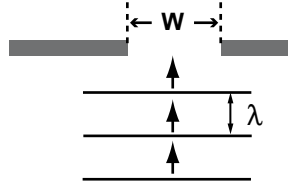
17. Çukur engelden yansıyan dalgalar şekildeki gibidir.



Buna göre dalga kaynağının yeri aşağıdakilerin hangisinde doğru verilmiştir? (M: merkez, F: odak noktası)

- A) M noktasında
B) M ile F arasında
C) F'de
D) F ile çukur engel arasında

18. λ boyulu su dalgaları, aralarında W uzaklık bulunan engеле şekildeki gibi gönderiliyor.



Buna göre, kırınımın gerçekleşmesi için $\frac{\lambda}{W}$ oranı aşağıdakilerden hangisi olabilir?

- A) 1,5 B) 0,5 C) 0,3 D) 0,1

19. Bir dalga leğeninde iki kaynak aynı fazda çalıştırılarak dalgalar üretiliyorlar. Dalga deseni üzerindeki bir P noktasının kaynaklara olan uzaklıkları farkı $\frac{3\lambda}{2}$ olduğuna göre, P noktası hangi çizgi üzerinde bulunmaktadır?

- A) 2. dalga katarı
B) 2. düğüm çizgisi
C) 3. dalga katarı
D) 3. düğüm çizgisi

20. Bir dalga leğeninde iki kaynaktan biri diğerinden 0,2 saniye sonra harekete başlıyor. Kaynaklar 0,4 saniye periyotlu dalgalar ürettiklerine göre, aralarındaki faz farkı kaçtır?

- A) 0,2 B) 0,3 C) 0,4 D) 0,5

(431) KİMYA – 1

1. Aşağıdakilerden hangisi, eski çağ insanların uğraş alanlarından biri değildir?

- A) Boyar madde eldesi
B) Suyun elektrolizi
C) İlaç hazırlama
D) Dericilik

2. Evrenin boşluktan ve neredeyse sonsuz sayıda, atom denilen bölünmez parçacıktan oluştuğunu öne süren filozof aşağıdakilerden hangisidir?

- A) Demokritos B) Empedokles
C) Aristoteles D) Tales

3. "X ve Y maddelerinden, XY bileşiği oluşuyor. Oluşan bileşiğin kütlesi, başlangıçtaki X ve Y'nin kütlelerinin toplamına eşittir."

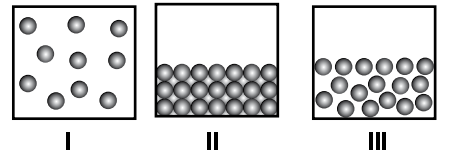
Verilen bilgi, aşağıdaki kanunlardan hangisinin açıklamasında örnek olarak kullanılır?

- A) Katlı oranlar kanunu
B) Sabit oranlar kanunu
C) Kütlelerin korunumu kanunu
D) Sabit hacim oranları kanunu

4. CO bileşiğindeki $\frac{C}{O}$ kütlece birleşme oranı $\frac{3}{4}$ 'tür. Buna göre, 9 gram C'un yeterince O_2 ile tepkimesinden kaç gram CO elde edilir?

- A) 7 B) 9 C) 13 D) 21

5. Bir saf maddenin farklı fiziksel hâllerine ait tanecik modelleri I, II, III ile gösterilmiştir.



Bu modellerde, tanecikler arasındaki çekim kuvvetlerinin artışına göre sıralanışı aşağıdakilerin hangisinde doğru verilmiştir?

- A) I, III, II B) I, II, III
C) II, III, I D) III, II, I

2. OTURUM

6. Element atomları bileşik oluştururken son katmanlarındaki elektron sayılarını, soy gazların son katmanındaki elektron sayısına benzetmek için hangi sayıya tamamlar?

- A) 1'e B) 10'a
C) 2 veya 8'e D) 8 veya 10'a

7. Katman sayıları eşit olan X ve Y atomları için aşağıdakilerden hangisi aynıdır?

- A) Elektron sayıları
B) Grup numaraları
C) Atom numaraları
D) Periyot numaraları

8. Elektron dizilimi;

$_2X: 2$
 $_{12}Y: 2, 8, 2$
 $_{36}Z: 2, 8, 8, 18$

şeklinde olan atomlardan hangileri kararlıdır?

- A) X ve Y B) X ve Z
C) Yalnız X D) Yalnız Y

9. • Elektron verme eğilimindedir.
• Isı ve elektriği iyi iletir.
• Parlak görünümlüdür.

Özellikleri verilen element, aşağıda verilen periyodik tablodaki grupların hangisinde bulunur?

- A) 1A B) 5A C) 7A D) 8A

10. Aynı periyotta bulunan bazı elementlerin grup numaraları ile bileşiklerinde aldıkları yükseltgenme basamakları tabloda verilmiştir.

Grup numarası	Yükseltgenme basamağı
2A	-6
3A	4 ile +4 arası
7A	-1 ile +7 arası
8A	0

Bu gruplardan hangilerinin yükseltgenme basamağı doğru verilmiştir?

- A) 2A ve 3A B) 7A ve 8A
C) Yalnız 2A D) Yalnız 8A

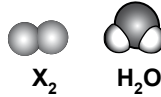
11. K^+ ve SO_4^{2-} iyonlarının oluşturduğu bileşik ile ilgili aşağıdakilerden hangisi doğrudur?

- A) Adı potasyum disülfattır.
B) Bileşiğin yükü -1'dir.
C) Formülü KSO_4 'tür.
D) İyonik bileşiktir.

12. Lewis sembolleri $\cdot X \cdot$ ve $:\ddot{Y}:$ şeklinde olan X ve Y maddeleri ile ilgili aşağıdakilerden hangisi doğrudur?

- A) XY bileşiğini oluştururlar.
B) Kimyasal özellikleri aynıdır.
C) Aralarında kovalent bağ oluşur.
D) Periyodik tabloda aynı gruptadırlar.

13. X_2 ve H_2O moleküllerinin modelleri verilmiştir.



Buna göre, bu moleküllerle ilgili aşağıdakilerden hangisi söylenebilir?

- A) Her ikisi de polardır.
B) X_2 , H_2O 'da çözünür.
C) X_2 apolar, H_2O polardır.
D) Her ikisinde de "-" ve "+" uç bulunur.

14. Yarı açık formülleri verilen aşağıdaki bileşiklerden hangisi organik bileşik değildir?

- A) $O = C = O$ B) $CH_2 = CH_2$
C) $CH \equiv CH$ D) $CH_3 - OH$

15. I- Asallık
II- Yanıcılık
III- Erime sıcaklığı

Yukarıda verilenlerden hangileri maddelerin kimyasal özelliğidir?

- A) Yalnız I B) Yalnız III
C) I ve II D) II ve III

16. Bir kimyasal tepkimedeki enerji değişimi, ürünler ile girenlerin hangi niceliğinin farklı olmasından kaynaklanır?

- A) Molekül sayılarının
B) Bağ enerjilerinin
C) Sıcaklıklarının
D) Hacimlerinin

17. $2HCl_{(suda)} + Ca(OH)_{2(suda)} \rightarrow \dots$ tepkimesi sonucunda hangi ürünler oluşur?

- A) $CaO_{(k)} + 2H_2O_{(s)}$
B) $CaCl_{(suda)} + H_2O_{(s)}$
C) $CaOH_{(suda)} + H_2O_{(s)}$
D) $CaCl_{2(suda)} + 2H_2O_{(s)}$

18. $CH_{4(g)} + O_{2(g)} \rightarrow CO_{2(g)} + 2H_2O_{(g)}$ tepkimesindeki indirgen madde hangisidir?

- A) O_2 B) CO_2
C) CH_4 D) H_2O

19. Aşağıdakilerden hangisi bir polimerdir?

- A) Protein
B) Amino asit
C) Amin grubu
D) Karboksil grubu

20. Proteinlerin hidrolizle parçalanmasında tepkimeye katılan madde hangisidir?

- A) O_2 B) H_2O
C) CO_2 D) CH_4

2. OTURUM

1. Aynı ya da farklı tür atomları bir arada tutan kuvvetli etkileşimlere ne ad verilir?

- A) Polarlık
B) Hibritleşme
C) Kimyasal bağ
D) Elektronegatiflik

2. ${}^9\text{X}$ ve ${}^{11}\text{Y}$ atomlarının oluşturduğu YX bileşiği için aşağıdakilerden hangisi doğrudur?

- A) Kovalent bağ içerir.
B) İyonik bağ içerir.
C) İkili bağ içerir.
D) Polardır.

3. Değerlik elektron sayısı 5 olan N atomu ile, 7 olan F atomunun oluşturduğu bileşik ile ilgili aşağıdakilerden hangisi doğrudur?

- A) En küçük birimi moleküldür.
B) En küçük birimi iyondur.
C) Merkez atom F'dir.
D) Formülü N_3F 'dir.

4. C_2H_2 molekülünün Lewis formülü aşağıdakilerden hangisidir? (${}^1\text{H}$, ${}^6\text{C}$)

- A) $\text{H}:\text{C}\cdot\cdot\text{C}:\text{H}$ B) $\text{H}:\overset{\cdot\cdot}{\text{C}}:\overset{\cdot\cdot}{\text{C}}:\text{H}$
H H
C) $\text{H}:\text{C}::\text{C}:\text{H}$ D) $\text{H}:\text{C}:::\text{C}:\text{H}$

5. Metallerin elektrik akımını ve ısıyı iletmelerinin nedeni nedir?

- A) İyonların örgü yapısı oluşturması
B) Atomların örgü yapısı oluşturması
C) Moleküller arasında anlık dipollerin oluşması
D) Elektron denizindeki elektronların hareket etmesi

6. Aşağıdaki maddelerden hangisinin kaynama noktası en yüksektir? (${}^1\text{H}$, ${}^6\text{C}$, ${}^8\text{O}$, ${}^{17}\text{Cl}$)

- A) Cl_2 B) H_2O
C) CH_4 D) HCl

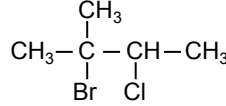
7. Bir hidrokarbonun bir molekülünde bulunan karbon atomları arasında tekli bağ vardır. Bu hidrokarbon için,

- I- Alkandır.
II- Doymuştur.
III- Aromatiktir.

sınıflamalarından hangileri doğrudur?

- A) Yalnız I B) Yalnız III
C) I ve II D) II ve III

8.



Yukarıdaki molekülün IUPAC adlandırmasına göre, Br ve Cl atomlarının bağlı olduğu C atomlarının numarası kaçtır?

	Br	Cl
A)	2	3
B)	2	1
C)	1	2
D)	2	4

9. Asit katalizörliğinde alkenlere 1 mol su katılmasıyla aşağıdakilerden hangisi oluşur?

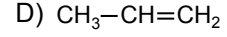
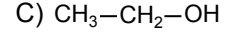
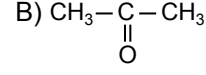
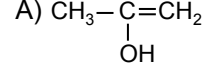
- A) Alkan B) Aldehit
C) Keton D) Alkol

10. Baeyer testi alkenlerin tanıma tepkimesi olarak bilinir. Baeyer testinde alken aşağıdakilerden hangisi ile tepkimeye girer?

- A) Nikel katalizörliğinde H_2
B) Seyreltik, bazik KMnO_4
C) Asidik ortamda H_2O
D) Derişik H_2SO_4

11. Enollerin yapısında hem çift bağ, hem de alkollerin fonksiyonel grubu bulunur.

Buna göre, aşağıdakilerden hangisi enoldür?

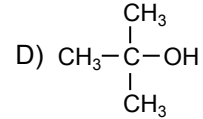
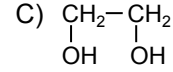
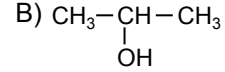
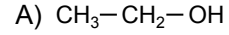


12. Yanda açık formülü verilen maddenin kapalı formülü aşağıdakilerden hangisidir?



- A) C_5H_{10} B) C_5H_{12}
C) C_6H_6 D) C_6H_{10}

13. Aşağıdaki organik bileşiklerden hangisi ikincil alkoldür?



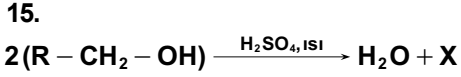
14. Birincil alkol $\xrightarrow{[\text{O}]}$ 1 $\xrightarrow{[\text{O}]}$ 2

Yukarıdaki tepkimede oluşan 1 ve 2 numaralı ürünler hangileridir?

1	2
A) Aldehit	Organik asit
B) Keton	Organik asit
C) Aldehit	Keton
D) Keton	Aldehit

2. OTURUM

(438) KİMYA – 8



tepkimesinden elde edilen X ürünü aşağıdakilerden hangisidir?

- A) Polialkol B) Monoalkol
C) Basit eter D) Karışık eter

16. Kapalı formülü C_3H_8O olan metoksietan bileşiğinin diğer adı nedir?

- A) Etoksietan
B) Dimetil eter
C) Metoksietan
D) Etil metil eter

17. Aldehit, keton ve karboksilli asitlerde ortak olarak bulunan fonksiyonel grup hangisidir?

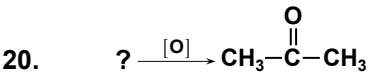
- A) $-OH$ B) $-O-$
C) $\begin{array}{c} O \\ || \\ -C- \end{array}$ D) $-C \equiv C-$

18. Aldehitlerin adlandırılmasında numaralandırma, hangi karbon atomundan başlar?

- A) Karboksil B) Karbonil
C) Alkil D) Aril

19. 2-pentanon bileşiği için aşağıdakilerden hangisi doğrudur?

- A) Karbonil grubu karbonu 1 numaradadır.
B) Eter grubu karbonu 2 numaradadır.
C) 5 karbonlu ketondur.
D) 5 karbonlu eterdir.



tepkimesinde oluşan ürün, aşağıdaki hangi maddenin yükseltgenmesinden elde edilir?

- A) $CH_3-\overset{\overset{OH}{|}}{CH}-CH_3$
B) $CH_3-\overset{\overset{O}{||}}{C}-H$
C) $CH_3-CH_2-CH_2-OH$
D) $CH_3-\overset{\overset{O}{||}}{C}-OH$

1. Monokarboksilli asitlerin genel formülü aşağıdakilerden hangisidir?

- A) $C_nH_{2n}O_2$ B) $C_x(H_2O)_y$
C) C_nH_{2n+2} D) $C_nH_{2n}O$

2. Yapısında birden fazla $-COOH$ grubu taşıyan organik maddelere ne ad verilir?

- A) Polisakkarit
B) Monosakkarit
C) Polikarboksilli asit
D) Monokarboksilli asit

3. $H-COOH + NaOH \rightarrow \text{Ürün} + H_2O$ tepkimesi sonucu oluşan ürün aşağıdakilerden hangisidir?

- A) $HCOOH$ B) CH_3COH
C) CH_3COOH D) $HCOONa$

4. Karboksilli asitler, aşağıdaki hangi indirgen kullanılarak birincil alkollere indirgenebilir?

- A) H^+ B) $LiAlH_4$
C) PCl_3 D) P_2O_5

5. Aşağıdaki moleküllerden hangisi asimimetrik?

- A) $\begin{array}{c} COOH \\ | \\ H-C-Cl \\ | \\ CH_3 \end{array}$ B) $\begin{array}{c} CH_3 \\ | \\ H-C-OH \\ | \\ CH_3 \end{array}$
C) $\begin{array}{c} C_2H_5 \\ | \\ HO-C-OH \\ | \\ CH_3 \end{array}$ D) $\begin{array}{c} COOH \\ | \\ CH_3-C-CH_3 \\ | \\ COOH \end{array}$

6. $R_1-\overset{\overset{O}{||}}{C}-O-R_2$ bileşiği bir ester olduğuna göre, fonksiyonel grubu aşağıdakilerden hangisidir?

- A) $\begin{array}{c} O \\ || \\ -C- \end{array}$ B) $\begin{array}{c} O \\ || \\ -C-O- \end{array}$
C) $-C-O-$ D) $-C-$

7. Esterler, aynı sayıda C atomu taşıyan aşağıdaki bileşiklerden hangisiyle izomerdirler?

- A) Eterler
B) Alkoller
C) Aldehitler
D) Karboksilli asitler

8. $R_1-\overset{\overset{O}{||}}{C}-O-R_2 + NH_3 \rightarrow \text{Ürünler}$ tepkimesi sonucu oluşan ürünler aşağıdakilerden hangisidir?

- A) R_1-CH_2-OH, R_2-OH
B) $R_1-CH_2-OH, R_2-\overset{\overset{O}{||}}{C}OH$
C) $R_1-\overset{\overset{O}{||}}{C}-NH_2, R_2-OH$
D) $R_1-\overset{\overset{O}{||}}{C}-NH_2, H_2O$

9. Doymamış yağ asitlerinin uygun katalizör kullanılarak H_2 ile doyurulması sonucu oluşan ürün aşağıdakilerden hangisidir?

- A) Sabun B) Margarin
C) Deterjan D) Yağlı boya

10. I- Pigment
II- Bağlayıcı
III- İnceltici

Yukarıda verilenlerden hangileri verniklerin yapısında bulunmaz?

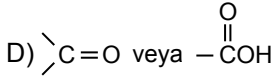
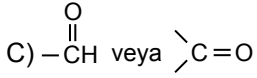
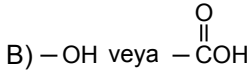
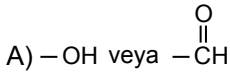
- A) Yalnız I B) Yalnız III
C) I ve II D) II ve III

11. Aşağıdaki elementlerden hangisi karbonhidratların yapısında bulunmaz?

- A) C B) H C) O D) N

2. OTURUM

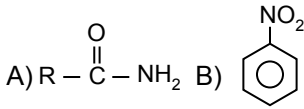
12. Karbonhidratların yapısında aşağıdaki fonksiyonel gruplardan hangileri bulunur?



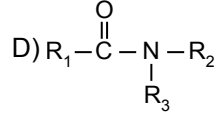
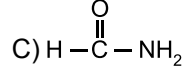
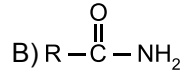
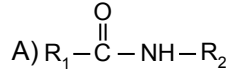
13. Aşağıda verilen karbonhidratlarla ilgili açıklamalardan hangisi yanlıştır?

- A) Sakaroz : Çay şekeridir.
B) Laktoz : Meyve şekeridir.
C) Selüloz : Bitkilerin yapı taşıdır.
D) Glikojen : İnsan ve hayvanlarda bulunur.

14. Aşağıdakilerden hangisi amin bileşiğidir?



15. Aşağıdakilerden hangisi ikincil amittir?



16. Amitlerle ilgili;

I- Nötr bileşiklerdir.

II- Asit ve bazlarla tepkime verirler.

III- Kaynama noktaları yüksektir.
bilgilerinden hangileri doğrudur?

- A) Yalnız II B) Yalnız III
C) I ve II D) I ve III

17. Aşağıdaki bileşiklerden hangisi amfoter özellik gösterir?

- A) Alkoller
B) Esterler
C) Aminoasitler
D) Karbonhidratlar

18. Aşağıdaki işlemlerden hangisi nitrolamadır?

- A) Benzen halkasına $-\text{NO}_2$ grubunun bağlanması
B) Benzen halkasına $-\text{NH}_2$ grubunun bağlanması
C) Oksijenli aromatik bileşiklerin yükseltgenmesi
D) Anilinin organik çözücülerde çözünmesi

19. Anilin aşağıdaki hangi bileşiğin indirgenmesiyle oluşur?

- A) Fenol B) Nitrobenzen
C) Benzil alkol D) Benzaldehit

20. Aşağıdakilerden hangisi oksijenli aromatik bileşiklerden değildir?

- A) Aldehitler B) Alkoller
C) Asitler D) Aminler

(442) BİYOLOJİ – 2

1. MÖ 4. yüzyılda canlıları bitkiler ve hayvanlar olarak sınıflandıran bilim adamı aşağıdakilerden hangisidir?

- A) Aristo
B) Linneaus
C) John Ray
D) Friedrich Miescher

2. I- *Felis leo*

II- *Crocus sativus*

III- *Canis familiaris*

IV- *Crocus abantensis*

Yukarıda latince isimleri verilen canlılardan hangileri aynı cins-te yer alır?

- A) I ve II B) I ve III
C) II ve IV D) III ve IV

3. Bazı bakterilerin yüzeylere tutunmasında etkili olan, kamçıya göre daha ince ve kısa yapıdaki uzantılara ne ad verilir?

- A) Pilus B) Mezozom
C) Endospor D) Hücre duvarı

4. I- Radyasyon

II- Toksik madde

III- Yüksek sıcaklık

Bakterilerdeki endospor yukarıda verilen etkenlerden hangilerine direnç sağlar?

- A) Yalnız I B) I ve II
C) II ve III D) I, II ve III

5. Besinlerini ölü organizmaları ve canlı atıklarını ayrıştırarak karşılayan bakteriler hangi grupta yer alır?

- A) Parazit B) Saprofit
C) Fotoototrof D) Kemoototrof

2. OTURUM

6. I- Tuz gölleri
II- Volkan ağızları
III- Jeotermal su kaynakları
Arkeler yukarıda verilen ortamların hangilerinde yaşayabilirler?
- A) Yalnız I B) I ve II
C) II ve III D) I, II ve III
7. Aşağıdakilerden hangisi protista grubu içinde yer almaz?
- A) Arkeler B) Kirpikliler
C) Sporlular D) Kök ayaklılar
8. Yaptıkları fermantasyonla bira ve şarap üretiminde kullanılan mantar çeşidi aşağıdakilerden hangisidir?
- A) Küf mantarı
B) Maya mantarı
C) Ağaç mantarı
D) Şapkaklı mantarlar
9. Ciğer otları ve karayosunları hangi bitki grubunda incelenir?
- A) Damarsız tohumlu bitkiler
B) Damarlı tohumlu bitkiler
C) Damarlı tohumlu bitkiler
D) Açık tohumlu bitkiler
10. I- Saçak kök bulundurma
II- İletim demetlerinin gövde içinde dağınık bulunması
III- Gövdede enine büyümeyi sağlayan büyüme dokusunun bulunması
Verilenlerden hangileri tek çenekli bitkilere ait özelliklerdir?
- A) Yalnız I B) I ve II
C) II ve III D) I, II ve III
11. Hayvanlarda sırtta yer alan, sinir kordonunu çevreleyen ve vücuda destek sağlayan kemiklerden oluşmuş yapıya ne ad verilir?
- A) Por
B) Omurga
C) Bilateral simetri
D) İskelet iğneleri
12. Hayat döngülerinde polip ve medüz olmak üzere iki evre bulunan, hidra ve mercan gibi örneklere sahip olan canlı grubu hangisidir?
- A) Süngerler B) Yumuşakçalar
C) Solucanlar D) Sölenterler
13. • Çoğu denizlerde yaşar.
• Vücutları ışımsal simetriye sahiptir.
• Vücutlarının alt kısmında tüp ayakları bulunur.
Verilen özellikler aşağıdaki canlıların hangisinde bulunur?
- A) Örümcek
B) Deniz anası
C) Deniz yıldızı
D) Halkalı solucan
14. Aşağıdakilerden hangisi kemikli balıklardandır?
- A) Vatoz B) Tırpana
C) Alabalık D) Köpek balığı
15. Aşağıdaki canlılardan hangisi plasentalı memelilerdendir?
- A) Balina B) Ornitorenk
C) Koala D) Baykuş
16. Bir ekosistem hiçbir sorun yaratmayacak şekilde işlevini yerine getiriyorsa, bu ekosistem için ne söylenebilir?
- A) Önce küçülür, sonra büyür.
B) Küçülür.
C) Büyür.
D) Dengededir.
17. Normal şartlarda havadaki oksijen oranı % kaçtır?
- A) 1 B) 21 C) 42 D) 78
18. Aşağıdakilerden hangisi, atmosferde yeryüzünden yansıyan ısıyı tutarak, dünyanın sıcaklığını koruyan bileşiklerden biri değildir?
- A) Metan
B) Azot oksit
C) Alüminyum oksitleri
D) Kloroflorokarbon
19. Metabolizmada kullanılmayan kimyasal maddeler, besin zincirinde canlıdan canlıya aktarıldığında, zincirin son halkasına doğru miktarı artar. Bu duruma ne ad verilir?
- A) Ötrofikasyon
B) Ozon kirliliği
C) Biyolojik birikim
D) Karbon ayak izi
20. Aşağıdakilerden hangisi, ses kirliliğinin insan üzerinde oluşturduğu davranış bozukluklarındanandır?
- A) Yüksek kan basıncı
B) Solunum hızlanması
C) Adale gerilmesi
D) Ani parlamalar ve öfkeye hakim olamama

2. OTURUM

1. Ana bitkinin gövde, dal, yaprak gibi organlarının döllenme olmaksızın gelişerek yeni bitki oluşturmasına ne ad verilir?

- A) Bölünme
- B) Sporlanma
- C) Tomurcuklanma
- D) Vejetatif üreme

2. Eşeyli üremede haploit yapıda olan yumurta ve spermin birleşmesi olayına ne denir?

- A) Zigot
- B) Döllenme
- C) Mitoz bölünme
- D) Mayoz bölünme

3. Arılarda ne tür üreme şekli görülür?

- A) Tozlaşma
- B) Konjugasyon
- C) Partenogenez
- D) Hermafroditizm

4. Eşeyli ve eşeysiz üremenin düzenli olarak birbirini takip etmesine metagenez (döl değişimi) denir.

Aşağıdaki canlıların hangisinde bu durum görülür?

- A) Bakteri
- B) Öglena
- C) Paramesyum
- D) Plazmodyum

5. Aşağıdakilerden hangisi çiçekli bitkilerdeki erkek üreme organı olan stamenin yapısında bulunmaz?

- A) Anter
- B) Yumurtalık
- C) Filament
- D) Polen kesesi

6. Çiçekli bitkilerde dişi üreme organına ne ad verilir?

- A) Anter
- B) Zigot
- C) Pistil
- D) Taç yaprak

7. Aşağıdakilerden hangisinin meyvesi basit gerçek meyve olarak kabul edilir?

- A) Elma
- B) Erik
- C) Armut
- D) Çilek

8. Aşağıda verilen canlıların hangisinde dış döllenme görülür?

- A) Alabalık
- B) Timsah
- C) Leylek
- D) Köpek balığı

9. Aşağıdakilerden hangisi birleşik yalancı meyveye örnektir?

- A) Çilek
- B) Armut
- C) Ahududu
- D) Böğürtlen

10. I- Östrojen
II- RF (Serbest bırakıcı faktör)
III- FSH (Folikül uyarıcı hormon)
Yukarıdaki dişi üreme sistemini kontrol eden hormonların, salgılanış sırası hangisinde doğru verilmiştir?

- A) I - II - III
- B) II - III - I
- C) II - I - III
- D) III - II - I

11. Erkek üreme sisteminde sperm üretimini sağlayan hormon aşağıdakilerden hangisidir?

- A) Oksitosin
- B) Progesteron
- C) Testosteron
- D) Prolaktin

12. I- AIDS
II- Frengi
III- Mantar hastalıkları

Yukarıdakilerden hangileri insan üreme sisteminde cinsel yolla bulaşan hastalıklardandır?

- A) Yalnız I
- B) I ve II
- C) II ve III
- D) I, II ve III

13. Aşağıdakilerden hangisi monokotiledon bitkilere örnektir?

- A) Mısır
- B) Fasulye
- C) Bezelye
- D) Badem

14. Bitkilerde yaprak dökümü ve meyve olgunlaşmasını hızlandıran hormon aşağıdakilerden hangisidir?

- A) Etilen
- B) Giberellin
- C) Sitokinin
- D) Absisik asit

15. Döllenmiş kuş ve sürüngen yumurtalarında bulunan amniyon kesesinin görevi aşağıdakilerden hangisinde verilmiştir?

- A) Embriyonun solunumunu sağlar.
- B) Embriyonun azotlu boşaltım maddelerini depo eder.
- C) Embriyonun beslenmesi için gerekli besini depo eder.
- D) Embriyoyu basınç, sıcaklık gibi olumsuz koşullara karşı korur.

16. I- Mezoderm
II- Ektoderm
III- Endoderm

Sünger ve sölemler gibi basit yapıları canlılarda yukarıdaki embriyonik tabakalardan hangilerinin oluşumu görülmez?

- A) Yalnız I
- B) I ve II
- C) II ve III
- D) I, II ve III

17. Omurgalıların embriyonik gelişiminde sinir dokusunun ve sinir sisteminin gelişmesini sağlayan farklılaşma hangi evrede görülür?

- A) Blastula
- B) Morula
- C) Nörolasyon
- D) Gastrulasyon

2. OTURUM

(447) BİYOLOJİ – 7

18. İnsanlarda gebeliğin üçüncü ayından itibaren, doğuma kadar olan evrede embriyonun organ taslakları gelişir. Organ taslakları oluşmuş bu embriyoya ne ad verilir?

- A) Bebek
- B) Fetüs
- C) Mezoderm
- D) Embriyonik indüksiyon

19. I- Anne ile embriyo arasındaki madde geçişi, difüzyon ve aktif taşıma ile olur.

II- Madde geçişi sırasında anne ve embriyo kanı birbirine karışmaz.

Sağlıklı bir anne ve embriyosu arasındaki madde geçişi ile ilgili olarak verilenler için ne söylenebilir?

- A) Yalnız I doğru
- B) Yalnız II doğru
- C) Her ikisi de doğru
- D) Her ikisi de yanlış

20. Aşağıda verilen canlıların hangisinde rejenerasyon (yenilenme) en ileri düzeydedir?

- A) İnsan
- B) Kertenkele
- C) Kurbağa
- D) Deniz yıldızı

1. Fotosentez yapma yeteneğine sahip canlılarda, güneş enerjisinin ATP'ye dönüşümünü sağlayan molekül aşağıdakilerden hangisidir?

- A) Oksijen
- B) Su
- C) Klorofil
- D) Karbon dioksit

2. Hem fotosentezde hem de oksijenli solunumda görev yapan ETS (elektron taşıma sistemi) molekülü hangisidir?

- A) Plastokinon
- B) Ferrodoksin
- C) Sitokrom
- D) Oksijen

3. Oksidatif fosforilasyon olayı aşağıdakilerden hangisinde görülür?

- A) Oksijenli solunum
- B) Oksijensiz solunum
- C) Kemosentez
- D) Glikoliz

4. Hücrede üç molekül glikozun glikolizi sonucunda net ATP kazancı kaçtır?

- A) 3
- B) 6
- C) 9
- D) 12

5. Glikoliz reaksiyonunda en son oluşan bileşik hangisidir?

- A) Fosfogliser aldehit
- B) Früktoz di fosfat
- C) Aset aldehit
- D) Pirüvik asit

6. I- Etil alkol
II- Laktik asit
III- Glikoz

Yukarıda verilenlerden hangileri pirüvik asitin oksijensiz koşullarda parçalanması sonucu oluşur?

- A) Yalnız I
- B) I ve II
- C) II ve III
- D) I, II ve III

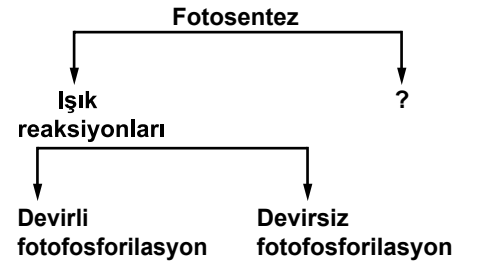
7. Aşağıdakilerden hangisi klorofilin yapısında bulunmaz?

- A) Demir
- B) Azot
- C) Oksijen
- D) Magnezyum

8. Kloroplastın aşağıda verilen özelliklerinden hangisi mitokondriden farklıdır?

- A) Zarla çevrili olması
- B) Fotosentez yapması
- C) DNA'sının olması
- D) Elektron taşıma sisteminin (ETS) olması

9.



Fotosentezin aşamalarını gösteren şemada “?” yerine aşağıdakilerden hangisi yazılmalıdır?

- A) Oksidatif fosforilasyon
- B) Substrat düzeyde fosforilasyon
- C) Karbon tutma reaksiyonları
- D) ETS reaksiyonları

10. I- DNA
II- RNA
III- Ribozom

Verilenlerden hangileri mitokondrilerin yapısında bulunur?

- A) Yalnız I
- B) I ve II
- C) II ve III
- D) I, II ve III

11. Ökaryot canlılarda glikoliz sonucu oluşan pirüvik asit, hangi organel içinde oksijenli solunum reaksiyonlarına katılır?

- A) Çekirdek
- B) Mitokondri
- C) Ribozom
- D) Kloroplast

2. OTURUM

12. Krebs çemberi reaksiyonları, pirüvik asitten hangi bileşiğin oluşmasıyla başlar?

- A) Glikoz
- B) Sitrik asit
- C) Asetil Co A
- D) Okzalasetik asit

13.

Karbon	Demir
Hidrojen	Fosfat
Oksijen	Azot
Magnezyum	

Ömer yukarıda isimleri verilen elementlerden nükleotit modeli yaparken, hangi ikisine ihtiyaç duymaz?

- A) Oksijen - Fosfat
- B) Karbon - Hidrojen
- C) Hidrojen - Azot
- D) Magnezyum - Demir

14. Ökaryot canlı hücrelerinde DNA molekülünün bulunduğu yerler hangisinde doğru verilmiştir?

- A) Çekirdek, mitokondri, kloroplast
- B) Mitokondri, kloroplast, sitoplazma
- C) Ribozom, çekirdek, mitokondri
- D) Kloroplast, sitoplazma, çekirdek

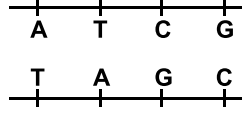
15. DNA'daki her nükleotidin yapısında kesinlikle bulunması gereken molekül hangisidir?

- A) Riboz
- B) Adenin
- C) Timin
- D) Fosfat

16. Aşağıdakilerin hangisinde verilenlerin her ikisi de pürin bazlarıdır?

- A) Adenin - Guanin
- B) Guanin - Sitozin
- C) Sitozin - Timin
- D) Adenin - Timin

17.



Şekilde bir bölümü verilen DNA molekülündeki organik bazlar arasında, toplam kaç hidrojen bağı vardır?

- A) 8
- B) 10
- C) 12
- D) 14

18. DNA'nın kendini eşlemesi sırasında gerçekleşen olaylarla ilgili olarak aşağıda verilenlerden hangisi yanlıştır?

- A) Enzim kullanılır.
- B) ATP harcanır.
- C) Riboz şekeri kullanılır.
- D) Fosfat grubu kullanılır.

19. Bir canlıda sentezlenen protein molekülündeki aminoasitlerin dizilişi, serin-trozin-metiyonin-trozin-triptofan şeklindedir.

Buna göre bu sentezde en az kaç farklı tRNA görev almıştır?

- A) 1
- B) 2
- C) 3
- D) 4

20. Hücre bölünmesinden önce DNA'dan yeni DNA sentezlemesine ne denir?

- A) Replikasyon
- B) Transkripsiyon
- C) Translasyon
- D) Sentral Doğma

(451) ÇAĞ.TÜRK VE DÜN.TAR. – 1

1. Aşağıdakilerden hangisi, I. Dünya Savaşı sonunda İttifak Devletleri ile İttifak Devletleri arasında imzalanan antlaşmalardan biri değildir?

- A) Neuilly Antlaşması
- B) Trianon Antlaşması
- C) Sykes-Picot Antlaşması
- D) Saint Germain Antlaşması

2. Millî Mücadele Dönemi'nde "Manda Yönetimi", ilk defa aşağıdakilerin hangisinde reddedilmiştir?

- A) Sivas Kongresi'nde
- B) Erzurum Kongresi'nde
- C) Amasya Görüşmelerinde
- D) Misak-ı Millî kararlarında

3. İngiltere'yi 1922'de Mısır'a bağımsızlık vermeye zorlayan ve milliyetçi hareketin de önemli isimlerinden olan Mısırlı siyaset ve devlet adamı, aşağıdakilerden hangisidir?

- A) Saad Zaglul
- B) Enver Sedat
- C) Hüsnü Mübarek
- D) Sufi Ebu Talib

4. Saraybosna'yı ziyaret eden Avusturya - Macaristan veliahdı Ferdinand'ın bir Sırp tarafından öldürülmesi, aşağıdaki savaşlardan hangisinin başlamasına neden olmuştur?

- A) Kore Savaşı
- B) I. Dünya Savaşı
- C) II. Dünya Savaşı
- D) Trablusgarp Savaşı

5. Osmanlı Devleti, aşağıdaki hangi padişahı döneminde parlamenter sisteme geçmiştir?

- A) Abdülaziz
- B) Abdülmecit
- C) I. Abdülhamit
- D) II. Abdülhamit

2. OTURUM

6. Türkiye, 1919 - 1923 yılları arasında dış politikasında, aşağıdaki devletlerden hangisiyle yakın ilişkiler kurmuştur?
- A) Almanya B) İngiltere
C) SSCB D) Yunanistan
7. Sovyetler Birliği, aşağıdaki hangi olay sonrası Ağustos 1945'te Japonya'ya savaş ilan ederek Mançurya'yı işgal etmiştir?
- A) Japonların İngilizlere ait olan Singapur ve Hong Kong üslerini ele geçirmesi
B) ABD'nin Japonya'nın Hiroşima şehrine atom bombasını atması
C) Japonların Leyte Savaşı'nda donanmasının çoğunu kaybetmesi
D) Japonların Birmanya'ya ve Endonezya'ya asker çıkarması
8. Aşağıdakilerden hangisi, Birleşmiş Milletler Teşkilatının (BM) temel organlarından "Ekonomik ve Sosyal Konsey"e bağlı olarak çalışan uzman kuruluşlar ve sistem içindeki özerk kuruluşlardan biridir?
- A) WHO Dünya Sağlık Örgütü
B) UNDOF BM Gözlem Gücü
C) UNICEF BM Çocuk Fonu
D) Dünya Gıda Konseyi
9. Aşağıdakilerden hangisi, II. Dünya Savaşı'nın Türkiye'ye etkilerinden biri değildir?
- A) Et ve Balık Kurumunun açılması
B) Varlık Vergisi Kanunu'nun çıkarılması
C) Millî İktisat ve Tasarruf Cemiyetinin kurulması
D) Büyük kentlerde karne uygulamasına geçilmesi
10. 4 - 11 Şubat 1945 tarihinde, gelecekteki barışın esaslarını saptamak amacıyla yapılan Yalta Konferansı'na, aşağıdaki devlet adamlarından hangisi katılmamıştır?
- A) Josef Stalin
B) Benito Mussolini
C) Winston Churchill
D) Franklin D. Roosevelt
11. I. Almanya'nın toprak paylaşımından pay almak
II. ABD'nin, Türkiye'ye uyguladığı ambargoyu hafifletmek
III. Birleşmiş Milletler Teşkilatının asil üyeleri arasında yer alabilmek
IV. Savaş sonrası düzenin oluşturulacağı San Francisco Konferansı'na katılabilmek
- Verilenlerden hangileri Türkiye'nin, II. Dünya Savaşı'nın sonlarında Almanya'ya savaş açma nedenlerindedir?
- A) I ve II B) II ve III
C) III ve IV D) I, II, III ve IV
12. Kanada açıklarında bir savaş gemisinde yapılan ve 5 gün süren görüşmelerin ardından 14 Ağustos 1941'de Atlantik Bildirisi'ni yayınlayan devletler, aşağıdakilerden hangisinde birlikte verilmiştir?
- A) ABD - Sovyet Rusya
B) Türkiye - İngiltere
C) Almanya - İtalya
D) ABD - İngiltere
13. Amerika Birleşik Devletleri (ABD) Başkanı Dwight Eisenhower, 5 Ocak 1957'de kendi adıyla anılan ünlü "Eisenhower Doktrini"ni ilan ederek ABD'nin, komünizmin yayılmasını önlemek amacıyla ülkelerine askerî ve ekonomik yardımda bulunacağını açıklamıştır.
- Verilen bilgi cümlesinin doğru olabilmesi için boş bırakılan yer, aşağıdakilerden hangisiyle tamamlanmalıdır?
- A) Orta Doğu B) Orta Asya
C) Kafkas D) Balkan
14. Aşağıdakilerden hangisi, Hindistan Bağımsızlık Hareketi'nin siyasi ve ruhani lideri olan Mahatma Gandhi'nin ülke çapında yürüttüğü kampanyalardan biri değildir?
- A) Kadın hakları
B) Yoksulluğun azaltılması
C) Mandater yönetimin yaygınlaştırılması
D) Dokunulmazlık ayrımcılığına son verilmesi
15. Aşağıdaki devletlerden hangisi, Varşova Paktı'na üye değildir?
- A) Romanya B) Yunanistan
C) Bulgaristan D) Macaristan
16. 24 Şubat 1955 tarihinde "Bağdat" merkezli kurulan Bağdat Paktı, üyelerinden Irak'ın 24 Mart 1959'da paktan çekilmesiyle örgüt merkezini, aşağıdaki şehirlerden hangisine taşımıştır?
- A) Tahran B) Londra
C) Ankara D) İslamabad
17. Aşağıdaki devletlerden hangisi, Arap - İsrail savaşlarında daha çok İsrail'i desteklemiştir?
- A) ABD B) İtalya
C) Mısır D) Almanya
18. Ülkemizde, aşağıdaki siyasi partilerden hangisi Atatürk Dönemi'nde kurulmuştur?
- A) Millet Partisi
B) Demokrat Parti
C) Millî Kalkınma Partisi
D) Cumhuriyet Halk Partisi
19. Endonezya Cumhuriyeti, aşağıdaki bölgelerden hangisindedir?
- A) Orta Doğu
B) Kuzey Afrika
C) Güneydoğu Asya
D) Güneybatı Afrika

2. OTURUM

20. ABD ile SSCB arasındaki Soğuk Savaş Dönemi, aşağıdakilerden hangisiyle sona ermiştir?

- A) 1953 Balkan Pakti'nin kurulmasıyla
- B) 1961 Yumuşama Dönemi'yle
- C) 1975 Helsinki Nihai Senedi'yle
- D) 1980 Irak - İran Savaşı'yla

(455) DEM. ve İNSAN HAK. – 1

1. Bir devlette tüzel ya da gerçek kişilerin birbirleriyle ve devletle olan ilişkilerini adalete uygun olarak düzenleyen, kişilerin sahip oldukları hak ve yükümlülüklerin sınırlarını çizen kurallar bütünüdür.

Yukarıda tanımı verilen kavram hangisidir?

- A) Özgürlük
- B) Hukuk
- C) Adalet
- D) Tüzük

2. İnsan hakları düşüncesi ile ilgili olarak verilen aşağıdaki ifadelerden hangisi yanlıştır?

- A) İnsanların salt insan olmaktan dolayı sahip oldukları vazgeçilmez haklardır.
- B) İnsan hakları hiçbir ayırım gözetilmeksizin herkesin sahip olduğu haklardır.
- C) İnsan hakları anayasal güvence altına alınırsa işlevsellik kazanır.
- D) İnsan hakları düşüncesinin temelleri I. Dünya Savaşından sonra atılmaya başlanmıştır.

3. Kişileri devlete ve topluma karşı koruyan hak ve özgürlüklere koruyucu haklar denir. Aşağıdakilerden hangisi koruyucu haklardandır?

- A) Din ve vicdan özgürlüğü
- B) Eğitim ve öğrenim hakkı
- C) Konut hakkı
- D) Çalışma hakkı

4. Türkiye Cumhuriyeti devletinde yasaların anayasaya uygunluğunu denetleyen yüksek mahkeme aşağıdakilerden hangisidir?

- A) Uyuşmazlık mahkemesi
- B) Anayasa mahkemesi
- C) Danıştay
- D) Yargıtay

5. Aşağıdakilerden hangisi sosyal devlet olmanın öncelikli gereklerinden birisi değildir?

- A) Ekonomik kalkınma ve yoksullukla mücadele eder.
- B) Tam istihdam ve işsizlikle mücadele eder.
- C) Bireysel girişim ve özel sektörü destekler.
- D) Sosyal denge ve barışı sağlama-ya çalışır.

6. Demokrasiyi bir yönetim biçimi olarak ilk kez uygulayan uygarlık aşağıdakilerden hangisidir?

- A) Anadolu
- B) Roma
- C) Mısır
- D) Yunan

7. Demokrasi ile yönetilen bir toplumda aşağıdakilerden hangisinin görülmesi beklenmez?

- A) Bireylerin düşüncelerini serbestçe ifade edebiliyor olmaları
- B) Çoğunluğun bütün istek ve taleplerinin karşılanıyor olması
- C) Egemenliğin halka dayanıyor olması
- D) Yasalar önünde herkesin eşit olması

8. Temsili demokrasi ile yönetilen bir ülkede vatandaşların ülke yönetimine katılmaları aşağıdakilerin hangisiyle gerçekleşir?

- A) Mitinglerle
- B) Sözleşmeyle
- C) Seçimlerle
- D) Derneklerle

9. Türkiye'deki seçim sistemi ile ilgili olarak verilen aşağıdaki bilgilerden hangisi yanlıştır?

- A) Seçimlerde oy kullanmak zorunlu değildir.
- B) Kişiler bağımsız olarak aday olabilirler.
- C) Genel seçimler dört, yerel yönetim seçimleri ise beş yılda bir yapılır.
- D) Seçimler gizli oy, açık sayım ve döküm esasına göre yapılır.

10. Bir devlette;

- Yasaların anayasa ve insan haklarına uygun olması
- Yasaların yasama, yürütme ve yargı organlarını bağlaması
- Yargının bağımsız olması

Demokrasinin hangi ilkesinin gereğidir?

- A) Seçimler ve temsil
- B) Çoğulculuk ve katılım
- C) Hukukun üstünlüğü
- D) Siyasi partiler

11. Aşağıdakilerden hangisi demokratikleşme ve insan hakları alanında TBMM'nin açılışından sonra sağlanan gelişmelerden birisidir?

- A) İslahat Fermanı
- B) Sened-i İttifak
- C) Teşkilat-ı Esasi Kanunu
- D) Gülhane Hattı Hümayunu

12. Günümüzde bazı bölgelerde kadına karşı şiddet, kadınların mirastan mahrum bırakılmaları, töre cinayetleri, kan davaları yasal yaptırımları olmasına rağmen hala devam etmektedir.

Demokratik yönetimlerde insan haklarının gerçekleştirilmesinde karşılaşılan bu sorunun öncelikli nedeni aşağıdakilerden hangisidir?

- A) Kamu düzeni ve temel haklar arasındaki dengenin kurulamaması
- B) Yöneticilerin kendi güçlerini artırmak istemeleri
- C) Devletin ekonomik olanaklarının yetersiz olması
- D) Geleneklerden kaynaklanan engeller

2. OTURUM

13. Yasaların Anayasa'ya uygunluğu için yargısal denetim ilk kez hangi T.C. Anayasası ile getirilmiştir?

- A) 1876 Anayasası
- B) 1924 Anayasası
- C) 1961 Anayasası
- D) 1982 Anayasası

14. 10 Aralık 1948'de kabul edilen İnsan Hakları Evrensel bildirgesini Türkiye hangi yıl kabul etmiştir?

- A) 1948
- B) 1949
- C) 1974
- D) 1995

15. Avrupa İnsan Hakları mahkemesinin çalışma sistemi ile ilgili olarak aşağıdakilerden hangisi yanlıştır?

- A) Sözleşmeyi imzalayan devletlerin sözleşme hükümlerini yerine getirip getirmediğini denetler.
- B) Mahkemenin yaptırımını tazminat ödenmesi şeklindedir.
- C) İç hukuk yolları tüketilmeden mahkemeye başvuru yapılamaz.
- D) Yargıçlar seçildikleri ülkeden bağımsız olarak görev yapamazlar.

16. Aşağıdakilerden hangisi günümüzde insan haklarının korunmasını engelleyen sorunlardan biri değildir?

- A) Savaşlar
- B) Uluslararası terör
- C) Hızlı toplumsal değişme
- D) Sivil toplumun güçlenmesi

17. Düşünce suçlarının ve siyasi tutukluların serbest kalması amacıyla 1961'de Londra'da kurulan uluslararası sivil toplum kuruluşu aşağıdakilerden hangisidir?

- A) Uluslararası Af Örgütü
- B) Uluslararası Pen Örgütü
- C) Uluslararası Hukuk Komisyonu
- D) İnsan Hakları için Uluslararası Birlik

18. Bir toplumda belli bir dönemde geçerli olan kuralların zorla ve köklü bir değişikliğe tabi tutularak yerine yenilerinin getirilmesine ne ad verilir?

- A) Reform
- B) İnkılap
- C) İlerleme
- D) Kültürlenme

19. Aşağıdakilerden hangisi sosyal alanda yapılmış Atatürk inkılaplarından birisidir?

- A) Soyadı Kanunu'nun kabul edilmesi
- B) Teşvik-i Sanayi Kanunu'nun kabul edilmesi
- C) Kabotaj Kanunu'nun yürürlüğe girmesi
- D) Birinci Beş Yıllık Sanayi Planı'nın hazırlanması

20. Aşağıdakilerden hangisinde Atatürk inkılabının temel amaçları bir arada doğru olarak verilmiştir?

- A) Çağdaşlık-Otoriterlik-Gelenekçilik
- B) Özgürlük-İrkçılık-Bilimsellik
- C) Seçkincilik-Otoriterlik-Bilimsellik
- D) Bağımsızlık-Çağdaşlık-Özgürlük

(466) TEMEL DİNİ BİL. – 2

1. Tevrat hakkında aşağıda verilen bilgilerden hangisi yanlıştır?

- A) Hz. Musa'ya kırk yıllık bir sürede vahyedildi.
- B) Orjinal nüshalar uzun süren savaşlar sonucu kaybolmuştur.
- C) Kanun Kitabı, Nebiler Kitabı, Yazılar Kitabı olarak üç bölümden oluşmaktadır.
- D) Ahd-i Atik (Eski Ahit) diye de isimlendirilir.

2. İlahi kitapların gönderiliş sırası hangi seçenekte verilmiştir?

- A) Kur'an - Tevrat - Zebur - İncil
- B) İncil - Tevrat - Zebur - Kur'an
- C) Zebur - İncil - Tevrat - Kur'an
- D) Tevrat - Zebur - İncil - Kur'an

3. Hz. Ebu Bekir'in emriyle Kur'an ayetlerini iki kapak arasına toplamakla görevlendirilen komisyonun başkanı aşağıdakilerden hangisidir?

- A) Hz. Ali
- B) Hz. Ömer
- C) Zeyd b. Sabit
- D) Abdullah b. Ömer

4. Kur'an-ı Kerim hangi halife zamanında çoğaltılmıştır?

- A) Hz. Ali
- B) Hz. Ömer
- C) Hz. Osman
- D) Hz. Ebu Bekir

5. Vahyin ilk gelişinden sonra bir süre kesilmesi aşağıdakilerden hangisiyle isimlendirilir?

- A) Vahyi metluy
- B) Fetretül vahiy
- C) Esbab-ı nüzül
- D) Tenzilül vahiy

2. OTURUM

6. “Kur’an’ı güzel bir şekilde tane tane oku.”

(Müzzemmil suresi, 4. ayet)

Bu ayet aşağıdaki kavramlardan hangisiyle ilişkilidir?

- A) Tertil B) Aşır
C) Mukabele D) Hatim

7. Kur’an-ı Kerim’in, Hz. Peygamberin ve sahabelerin açıklamalarına dayanılarak tefsir edilmesine ne denir?

- A) İlmî Tefsir
B) Fıkhî Tefsir
C) Rivayet Tefsiri
D) Dirayet Tefsiri

8. “Oğulcuğum! Namazı dosdoğru kıl ve iyiliği emret. Kötülüğü yasakla. Başına gelen belaya sabret...”

Bu ayette oğluna nasihatte bulunan peygamber aşağıdakilerden hangisidir?

- A) Hz. Üzeyir B) Hz. İsa
C) Hz. Lokman D) Hz. Musa

9. “Hiç şüphe yok ki doğruluk iyiliğe götürür. İyilik de götürür. Kişi doğru söyleye söyleye Allah katında Doğru sözlü diye yazılır. Yalancılık kötülüğe götürür. Kötülük de götürür.”

(Hadis-i Şerif)

Bu hadiste boş bırakılan yerlere aşağıdakilerden hangileri getirilmelidir?

- A) Hayra - Şerre
B) İyiliğe - Kötülüğe
C) Doğruluğa - Dalalete
D) Cennete - Cehenneme

10. Kelime olarak haber getiren anlamına gelen kavram aşağıdakilerden hangisidir?

- A) Tanrı B) Peygamber
C) Vahiy D) Melek

11. Nemrut tarafından ateşe atılan peygamber kimdir?

- A) Hz. İbrahim B) Hz. Zekeriya
C) Hz. İsa D) Hz. Salih

12. Bütün peygamberlerin üstün bir anlama ve anlatma kabiliyetine sahip olmalarına ne denir?

- A) İsmet B) Sıdk
C) Emanet D) Fetanet

13. Hz. Muhammed ilk vahyi nerede ve kaç yaşında aldı?

- A) Ararat - 40 B) Sevr - 30
C) Hira - 40 D) Uhud - 30

14. Hz. Muhammed’in hicretten önce, mesajını ulaştırmak için gittiği ve hoş karşılanmadığı yer aşağıdakilerden hangisidir?

- A) Taif B) Habeşistan
C) Tebük D) Medine

15. Hz. Muhammed Medine’ye hicret ettiğinde Medineli Yahudiler, Müslümanlar ve diğer gruplar arasında toplumsal barışa yönelik bir anlaşma yaptı.

Bu anlaşma aşağıdakilerden hangisidir?

- A) I. Akabe Biati
B) Medine Vesikası
C) Hudeybiye Sözleşmesi
D) Kardeşlik Antlaşması

16. Aşağıdakilerden hangisi Hudeybiye barış antlaşmasının maddelerinden biri değildir?

- A) On yıl süreyle taraflar birbiriyle savaşmayacaklar.
B) Mekke’den birisi Müslüman olarak Medine’ye sığınırsa iade edilecek.
C) Arap kabileleri istedikleri tarafla anlaşma yapmakta serbest olacak.
D) Her iki taraf birbirinin inanç ve ibadetini saygı duyacak.

17. Kelime olarak büyüklük, büyük olma, kendini başkalarından üstün görme gibi anlamlara gelen, İslam’ın hoş görmediği davranış aşağıdakilerden hangisidir?

- A) Haset B) Kibir
C) Gıybet D) İftira

18. Aşağıdakilerden hangisi Kelam biliminin amaçlarından biridir?

- A) Kur’an-ı Kerim’i indiği tarihi zemin içinde anlatmak
B) Hz. Muhammed’in sünnetinin yerel ve evrensel boyutunu kavratmak
C) İslam dininin inanç esaslarını kavratmak
D) İnsanın temel hak ve hürriyetlerini farkettilmek

19. Hz. Muhammed’in söz ve davranışlarını konu edinen bilim dalı aşağıdakilerden hangisidir?

- A) Hadis B) Tefsir
C) Tasavvuf D) Fıkıh

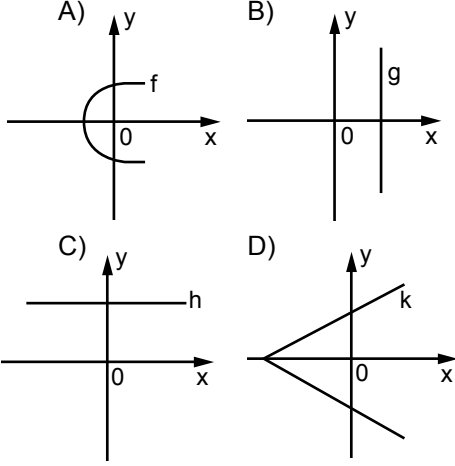
20. Aşağıdakilerden hangisi Tasavvuf biliminin amaçlarından biri değildir?

- A) Kişinin iman ve itaat etmesini sağlamak
B) Her sözünde, her işinde dine sarılmak
C) Kalbi kötü huylardan temizlemek ve iyi huylarla doldurmak
D) Dinin anlaşılmasında hadis ve sünnetin önemini fark ettirmek

2. OTURUM

(467) MATEMATİK – 7

1. Aşağıda grafiği verilen bağıntılardan hangisi fonksiyondur?



2. $f(x) = (k-2)x^2 + (m+1)x + k \cdot m + 3$ fonksiyonu sabit fonksiyon olduğuna göre, $f(100)$ kaçtır?

- A) 0 B) 1 C) 99 D) 100

3. Aşağıda verilen fonksiyonlardan hangisi çift fonksiyondur?

- A) $f(x) = x^3$ B) $f(x) = \sin x$
C) $f(x) = x^2 + x$ D) $f(x) = \cos x$

4. $f(x)$ doğrusal bir fonksiyondur. $f(2) = 10, f(4) = 13$ olduğuna göre, $f(8)$ değeri kaçtır?

- A) 16 B) 19 C) 22 D) 25

5. $f: \mathbb{R} \rightarrow \mathbb{R}, g: \mathbb{R} \rightarrow \mathbb{R}, f(x) = 2x^2 + 3$ ve $g(x) = x^2$ olduğuna göre, $(f \cdot g)(2)$ kaçtır?

- A) 15 B) 32 C) 40 D) 44

6. $f(x-1) = f(x) + 2$ ve $f(3) = 8$ olduğuna göre, $f(6)$ kaçtır?

- A) 0 B) 2 C) 4 D) 6

7. $f: \mathbb{R} \rightarrow \mathbb{R}, f(x) = \begin{cases} x^2 + 3x - 1, & x \geq 3 \text{ ise} \\ 2x - 5, & x < 3 \text{ ise} \end{cases}$

olduğuna göre, $f(2) + f(3)$ kaçtır?

- A) 10 B) 13 C) 16 D) 18

8. $f: \mathbb{R} \rightarrow \mathbb{R}, f(x) = 3x - 1$ olduğuna göre, $f^{-1}(x)$ in kuralı aşağıdakilerden hangisidir?

- A) $3x + 1$ B) $-3x + 1$
C) $\frac{x-1}{3}$ D) $\frac{x+1}{3}$

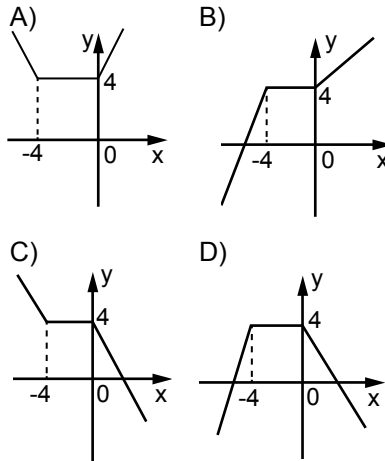
9. $f: \mathbb{R} \rightarrow \mathbb{R}, g: \mathbb{R} \rightarrow \mathbb{R}, f(x) = 3x - 1$ ve $g(x) = x + 2$ olduğuna göre, $(f \circ g)(3)$ kaçtır?

- A) 5 B) 8 C) 10 D) 14

10. $f(x) = \sqrt{9 - x^2}$ fonksiyonunun en geniş tanım kümesi aşağıdakilerden hangisidir?

- A) $[-3, 3]$ B) $\mathbb{R} - [-3, 3]$
C) $\mathbb{R} - \{-3, 3\}$ D) \mathbb{R}

11. $f: \mathbb{R} \rightarrow \mathbb{R}, f(x) = |x + 4| + |x|$ fonksiyonunun grafiği aşağıdakilerden hangisidir?



12. $\lim_{x \rightarrow 1} \left(\frac{x+3}{x+1} \right)$ değeri kaçtır?

- A) $\frac{1}{2}$ B) 1 C) 2 D) 4

13. $\lim_{x \rightarrow 2} \sqrt{3x^2 + 5x + 3}$ değeri kaçtır?

- A) 5 B) 8 C) 10 D) 11

14. $\lim_{x \rightarrow -2} \frac{x^2 - 4}{x + 2}$ değeri kaçtır?

- A) -4 B) 0 C) 2 D) 4

15. $\lim_{x \rightarrow \infty} \left(\frac{3x^2 + 4x + 5}{2x^2 + 2x - 1} \right)$ değeri kaçtır?

- A) -5 B) $-\frac{1}{2}$ C) $\frac{3}{2}$ D) 4

16. $\lim_{x \rightarrow \frac{\pi}{4}} \frac{\cos x}{\tan x}$ değeri kaçtır?

- A) 0 B) $\frac{\sqrt{2}}{2}$ C) 1 D) 2

17. $\lim_{x \rightarrow \infty} (\sqrt{x^2 - 4x + 6} - \sqrt{x^2 + 2x})$ değeri kaçtır?

- A) -3 B) -2 C) 0 D) 6

18. $\lim_{x \rightarrow 0} \frac{\sin 2x}{3x}$ değeri kaçtır?

- A) 0 B) $\frac{2}{3}$ C) $\frac{3}{2}$ D) 2

19. $f: \mathbb{R} \rightarrow \mathbb{R}, f(x) = \begin{cases} ax + 1, & x < 1 \text{ ise} \\ 2, & x = 1 \text{ ise} \\ x + b, & x > 1 \text{ ise} \end{cases}$ fonksiyonu $x = 1$ noktasında sürekli olduğuna göre, $a + b$ kaçtır?

- A) 0 B) 1 C) 2 D) 3

20. $f(x) = \frac{5x + 1}{x^2 + 2x - 3}$ fonksiyonunun sürekli olduğu aralık aşağıdakilerden hangisidir?

- A) \mathbb{R} B) $[-3, 1)$
C) $[-3, 1]$ D) $\mathbb{R} - \{-3, 1\}$

(475) İŞ GÜVENLİĞİ – 2

2. OTURUM

1. Hangisi, kendi içinde oluşan uyarıyla ritmik olarak çalışan bir organımızdır?

- A) Kalp B) Göz
C) Burun D) Kulak

2. Aşağıdakilerden hangisi başta kalp, beyin, böbrek ve göz olmak üzere birçok dokuda rahatsızlık ve bozukluklarına neden olur?

- A) Sıkran giysilerin gevşetilmesi
B) Tansiyonun normal olmaması
C) Hijyen ve temizliğe dikkat edilmesi
D) Kötü kokulara karşı maske takılması

3. Aşağıdakilerden hangisi ilk yardımın başlıca amaçlarından biridir?

- A) Bireyin mesleki başarısını arttırmak
B) Çalışanların özel yaşamlarıyla ilgilenmek
C) Durumun daha kötüye gitmesini önlemek
D) İnsanları zararlı alışkanlıklarından uzaklaştırmak

4. Aşağıdakilerden hangisi kazalardaki ölümler ve sakat kalmaların en büyük nedenlerindedir?

- A) İlk yardım uygulayacak olan kişilerin bu konuda eğitim almış olması
B) Hayati tehlike oluşturabilecek müdahalelerden kaçınılması
C) Tekrar kaza olması riskinin ortadan kaldırılması
D) İlk yardımın zamanında ve tekniğe uygun yapılmaması

5. Aşağıdakilerden hangisi kılcal damar kanamasının özelliğidir?

- A) Koyu renkli ve taşma tarzında kan akması
B) Sızıntı biçiminde ve hafif bir kanama olması
C) Yüksek basınçla akması ve zor durdurulabilmesi
D) Yara ağzından kalp atımlarına uyumlu şekilde fişkirarak akması

6. I- Görme ve işitme sorunları
II- Huzursuzluk ve aşırı susuzluk hissi
III- Vücutta yaygın sıyrıklık, morluk ve şişlikler

Verilenlerden hangileri iç kanama belirtilerindedir?

- A) Yalnız I B) I ve II
C) II ve III D) I, II ve III

7. • Derinin en üst tabakası zarar görmüş
• Deri üzerinde su dolu kabarcıklar oluşmuş

Verilen bulgular kazazedede kaçınca derece yanık olduğunu gösterir?

- A) 1. derece yanık
B) 2. derece yanık
C) 3. derece, derin yanık
D) 3. derece, yumuşak doku yanığı

8. Çarpma ya da düşme sonucu kemik bütünlüğünün bozulmasına ne ad verilir?

- A) Kırık B) Çıkık
C) Burkulma D) Zorlama

9. Tarım ilaçlarına bağılı olarak gelişen zehirlenme durumunda kazazedeye, aşağıdakilerden hangisinin yapılması doğru bir ilk yardım uygulaması değildir?

- A) Bol miktarda süt, yoğurt vb. yiyecekler verilmesi
B) Zaman geçirilmeden en yakın sağlık kuruluşuna sevk edilmesi
C) İlaç bulaşmış giysiler çıkarılarak derinin bol sabunlu suyla yıkanması
D) Sevk sırasında zehirlenmeye neden olan maddenin unutulması

10. I- Hava yolunun açılması
II- Kan dolaşımının sağlanması
III- Sindirimin değerlendirilmesi
Yukarıda verilenlerden hangileri ilk yardımın ABC' si içinde yer alır?

- A) Yalnız I B) I ve II
C) II ve III D) I, II ve III

11. Yangına karşı hangi önlemlerin, nasıl alınacağını bilinmemesi ve bu konuda yeterli eğitimden geçilmemesi durumu yangınların çıkma nedenlerinden hangisine örnek olur?

- A) Kaza B) Sabotaj
C) Bilgisizlik D) Doğa olayları

12. Aşağıdakilerden hangisi başlıca yangın söndürme maddeleri arasında yer alır?

- A) Köpük B) LPG
C) Katran D) Kumaş

13. Yanabilen sıvı (benzin, yağlar, yağlı boyalar vb.) yangınları hangi yangın çeşidi sınıfına girer?

- A) A B) B C) C D) D

14. Aşağıdakilerden hangisi orman yangınlarına karşı alınabilecek önlemlerdedir?

- A) Motorlu ve gezici söndürme ekiplerinin kaldırılması
B) Yangın gözetleme ve uyarı kulelerinin azaltılması
C) Ceza yasalarının hafifletilmesi
D) Halkın eğitime önem verilmesi

15. Aşağıdakilerden hangisi çalışma yaşamını düzenlemek, işçi sağlığı ve iş güvenliğini korumak için çıkarılmış kanunlardan biri değildir?

- A) İş Kanunu
B) İşsizlik Sigortası Kanunu
C) Millî Eğitim Temel Kanunu
D) Çıracılık ve Meslek Eğitimi Kanunu

16. Aşağıdakilerden hangisi, işçilerin kendi hak ve çıkarlarını korumak ve geliştirmek üzere oluşturdukları, bir araya geldikleri sınıfsal ve toplumsal örgütlerdir?

- A) Sendikalar
B) Türkiye İş Kurumu
C) Millî Prodüktivite Merkezi
D) Meslek Hastalıkları Hastaneleri

2. OTURUM

(476) İŞLETME – 1

17. Aşağıdakilerden hangisi, meslek hastalıkları hastanelerinin başlıca görevlerinden biri değildir?

- A) Meslek hastalıklarını erken teşhis etmek
- B) Meslek hastalığı iş görmezlik oranlarını hesaplamak
- C) İş yerlerinde koruyucu hekimlik hizmetlerinin alınmasına yardımcı olmak
- D) İş yerlerinde inceleme, araştırma ve ölçüm yapılmasını engellemek

18. Emziren kadın sigortalının, çocuğuna süt vermek için ayrılan zamanlarda kaza geçirmesi durumu, ilgili yasaya göre aşağıdakilerden hangisi olarak kabul edilir?

- A) Hasar
- B) Sabotaj
- C) İş kazası
- D) Meslek hastalığı

19. Aşağıdakilerden hangisi, ilgili kanuna göre işverenin Sosyal Güvenlik Kurumuna karşı sorumluluklarındandır?

- A) İşçi ücretlerinin kademeli olarak azaltılması
- B) İş yeri bildirgesi ve eklerinin verilmesi
- C) Tedavi masraflarının azaltılması
- D) İşçilerin greve teşvik edilmesi

20. Demir-çelik sektöründe çalışanların, toz ve dumanların sürekli etkisinde kalmaları hangi hastalığa neden olabilir?

- A) Astım
- B) Şarbon
- C) Q ateşi
- D) Burusella

1. Bir girişimci aşağıda verilenlerden hangisini yapmaz?

- A) Mal üretir
- B) Hizmet üretir
- C) Riskten kaçınır
- D) Pazarlama yapar

2. Gerçek ve tüzel kişi tacirlerin elde ettikleri gelirlerden ödeyecekleri vergi türleri ile ilgili yapılan açıklamalardan hangisi doğrudur?

- A) Gelir vergisini, tüzel kişi tacirler öder.
- B) Tacirler, katma değer vergisi öderler.
- C) Gerçek kişi tacirler, kurumlar vergisi öderler.
- D) Tacirler, gelir vergisi stopajı ödemezler.

3. Aşağıda verilenlerden hangisi, lidere ait bir özelliktir?

- A) Koruyucudur.
- B) İşi doğru yapar.
- C) Kuralları izler uygular.
- D) Mevcut durumu sorgular.

4. “Özgür olma” ihtiyacı, Maslow’un ihtiyaçlar hiyerarşisine göre hangi sınıflama içinde yer almaktadır?

- A) Ait olma
- B) Statü ve saygınlık
- C) Fizyolojik ve güvenlik
- D) Kendini gerçekleştirme

5. Kaynakları zamanında ve yerinde kullanmak, verimlilik ilkelelerinden hangisi ile ilgilidir?

- A) Uygunluk
- B) Doğruluk
- C) Ekonomiklik
- D) Zıyan etmeme

6. Bir üretim faktörü olarak “Sermaye”nin payı aşağıdakilerden hangisidir?

- A) Ücret
- B) Kâr
- C) Faiz
- D) Rant

7. Mal ve hizmet arasındaki farklara yönelik yapılan açıklamalardan hangisi yanlıştır?

	Mallar	Hizmetler
A)	Devredilebilir.	Devredilemez.
B)	Müşteri sürecin bir parçasıdır.	Müşteri süreçten ayrıdır.
C)	Sermaye yoğunudur.	Emek yoğunudur.
D)	Tekniktir.	İnsan odaklıdır.

8. İşletme biliminin davranış bilimleriyle ilişkisi kapsamında, insanlar arasındaki benzerlik ve farklılıkları göz önüne alarak insanları karşılaştırmalı olarak inceleyen bilim dalı aşağıdakilerden hangisidir?

- A) Psikoloji
- B) Sosyal Psikoloji
- C) Sosyoloji
- D) Antropoloji

9. Amacı; teknik engelleri kaldırarak, yeni piyasalara ve ekonomik gelişmelere öncülük etmek ve dünya ticaretini kolaylaştırmak olan uluslararası standart kuruluşu aşağıdakilerden hangisidir?

- A) Uluslararası Elektronik Komisyonu
- B) Avrupaya Uygunluk
- C) Uluslararası Telekomünikasyon Birliği
- D) Uluslararası Standardizasyon Organizasyonu

10. Sanayi işletmelerinin özellikleri esas alınarak üretim sürecine yönelik yapılan açıklamalardan hangisi yanlış açıklamadır?

- A) Seri imalat söz konusudur.
- B) Gelişmiş teknolojiler kullanılır.
- C) Standardizasyon olmadığı için denetim zordur.
- D) Hammaddeler fiziksel veya kimyasal değişikliğe uğrar.

2. OTURUM

11. Bankacılık hizmetleri, hangi hizmet işletme türleri arasında yer alır?

- A) Kamu hizmetleri
- B) Finans hizmetleri
- C) Kişisel hizmetler
- D) Danışmanlık hizmetleri

12. Aşağıdakilerden hangisi kamu işletmelerinin kuruluş amaçları arasında yer almaz?

- A) Ülkede istihdamın artırılması
- B) Ekonomik etkinliğin sağlanması
- C) Piyasa başarısızlıklarının önlenmesi
- D) Tekellerin özel sektör eliyle işletilmesi

13. Yabancı sermayeli kuruluş olarak Bursa ilimizde kurulan ve meyve aromalı içecek üreten COCA-COLA İçecek A.Ş. adlı işletme hangi ülkeye aittir?

- A) A.B.D
- B) İsviçre
- C) Japonya
- D) İngiltere

14. Aşağıda yapılan açıklamalardan hangisi, tek kişi işletmelerin sakıncalarından biri olarak değerlendirilemez?

- A) Kredi temin olanaklarının sınırlı olması.
- B) İşletmenin büyüme olanaklarının sınırlı olması.
- C) İşletme örgütünün esnek bir yapıya sahip olması.
- D) İşletme sahibinin tüm mal varlığı ile risk alması

15. Türk Ticaret Kanununa göre düzenlenen ortaklıklarla ilgili yapılan açıklamalardan hangisi yanlıştır?

- A) Tüzel kişilikleri vardır.
- B) Prosedürleri sözleşme ile belirlenir.
- C) İflasa tabi olma özellikleri vardır.
- D) Ticaret siciline kayıt olma zorunluluğu vardır.

16. Kollektif şirketin özelliklerine yönelik yapılan açıklamalardan hangisi doğrudur?

- A) Sözleşmedeki imzalar noterce onaylanmaz.
- B) Ortakların üçüncü şahıslara karşı sorumlulukları yoktur.
- C) Kollektif şirket bir ticaret unvanı kullanamaz.
- D) Tüzel kişiler kollektif şirket kuramaz.

17. Yerel, ulusal, bölgesel ve uluslararası oluşumlarla birlikte çalışarak üyelerine daha etkin bir şekilde hizmet etme ve kooperatifcilik hareketini güçlendirme, aşağıda verilen kooperatifcilik ilkelerinden hangisi ile ilgilidir?

- A) Özerklik ve bağımsızlık
- B) Topluma karşı sorumlu olma
- C) Kooperatifler arasında işbirliği
- D) Eğitim, öğrenim ve bilgilendirme

18. Tüzel kişilerin meslek odalarına kayıt olabilmeleri için aşağıdakilerden hangisi gerekli bir evrak değildir?

- A) Fotoğraf
- B) İlan gazetesi
- C) İmza sirküleri
- D) Ana sözleşme

19. Sigortalıları çalıştıran gerçek veya tüzel kişiler ile tüzel kişiliği olmayan kurum ve kuruluşlar, aşağıdakilerden hangisi ile ifade edilir?

- A) Sigortalı
- B) Alt İşveren
- C) İşveren Vekili
- D) İşveren

20. İnşaat iş yerlerinde işe başlatılan sigortalıların Sosyal Güvenlik Kurumuna bildirim ne kadar süre içerisinde yapılmalıdır?

- A) İşe başlatıldığı gün
- B) 1 ay içinde
- C) 10 gün içinde
- D) İşe başlatılmadan önce

(481) SANAT TARİHİ – 1

1. I- Dokumacılık
II. Kuyumculuk
III. Kunduracılık

Verilenlerden hangileri, “Güzel Sanatlar” sınıfının ürünlerinden değildir?

- A) Yalnız I
- B) I ve II
- C) II ve III
- D) I, II ve III

2. Merkezi İsviçre’de bulunan New 7 Wonders Vakfı, aşağıdakilerden hangisini belirlemek için 2002 yılında bir yarışma düzenlemiştir?

- A) Dünyanın yedi yeni harikasını
- B) Keşfedilen yeni yıldızlara verilecek isimleri
- C) Okyanuslarda yeni keşfedilen canlı gruplarını
- D) Astrolojik olarak insan egosunun yedi yönünü

3. Aşağıdaki sanat eserlerine bakış açılarından hangisi, onların korunmasına hizmet etmez?

- A) Ortak kültür mirası
- B) Bizden olmayan toplumlara ait ürünler
- C) Ülkelere turist çeken en büyük unsur
- D) İnsanların geçmişteki kökleriyle kurdukları köprü

4. Tunç alayımı, aşağıdaki dönemlerin hangisine damgasını vurmuştur?

- A) Mezolitik Çağ’a
- B) Neolitik Çağ’a
- C) Demir Çağı’na
- D) Maden Çağı’na

5. Gediz ve Küçük Menderes nehirleri arasındaki bölgeyi yerleşim alanı olarak seçen İlk Çağ Anadolu uygarlığı, aşağıdakilerden hangisidir?

- A) Lidya
- B) Frig
- C) Hitit
- D) Urartu

2. OTURUM

6. Sakkara'da bulunan Coser Piramidi, aşağıdaki hangi tür piramidin ilk örneğidir?

- A) Düz
- B) Taş
- C) Basamaklı
- D) Kaya içine oyma

7.



Aşağıdakilerden hangisi, "Laokoon ve Oğulları" adlı heykel grubu ile ilgili doğru bir bilgi değildir?

- A) Rodos Adası'nda bulunmuş bir heykel topluluğudur.
- B) Şiddet ve acıyı anlatan kompozisyonlar yaratmada ustalaşmış sanatçılar tarafından yapılmıştır.
- C) Arkaik Dönem Yunan heykellerinin tüm özelliklerini yansıtır.
- D) Yılanlar tarafından sarılan Laokoon ve oğullarının ölüm kalım mücadelesinin işlendiği heykel grubu, Vatikan Müzesinde sergilenmektedir.

8. Aşağıdaki objelerden hangisi Frig uygarlığına aittir?

- A) Para
- B) Fibula
- C) Ryton
- D) Papirüs

9. İkona yapımında kullanılan en yaygın malzeme, aşağıdakilerden hangisidir?

- A) Fildişi
- B) Mozaik
- C) Mermer
- D) Ahşap

10. Roma mimarlığında forumların içinde yer alan ve halkın resmî işlerini yürüttüğü, alış verişini yaptığı bazilikalar, Bizans Dönemi'nde aşağıdaki hangi amaç için kullanılmıştır?

- A) Tıp
- B) Spor
- C) İbadet
- D) Eğlence

11. 20. yüzyıl başlarında Zürih, New York, Berlin, Paris gibi büyük kentlerde ortaya çıkan sanat hareketi, aşağıdakilerden hangisidir?

- A) Dadaizm
- B) Fovizm
- C) Realizm
- D) Romantizm

12. Picasso'nun, aşağıdaki eserlerinden hangisi "Kübizm" in başlangıç noktası olarak kabul edilir?

- A) "Oyuncu"
- B) "Akrobat Ailesi"
- C) "Mandolinli Kız"
- D) "Avignonlu Kızlar"

13. "Yüzey üzerine yapılan yükseltme ya da çökertmelere "Kabartma" veya denir."

Verilen tanımda boş bırakılan yere, aşağıdakilerden hangisi yazılmalıdır?

- A) Rölyef
- B) Portal
- C) Fresko
- D) Transept

14. 1309 - 1425 yılları arasında inşa edilen Dojlar Sarayı, bugün hangi ülkenin sınırları içerisindedir?

- A) Fransa
- B) İtalya
- C) Almanya
- D) Türkiye

15. I. Gotik Sanatı
II. Roman Sanatı
III. Barok Sanatı

Verilenlerden hangileri, Orta Çağ Avrupası'nda görülen sanat akımlarındandır?

- A) Yalnız I
- B) I ve II
- C) II ve III
- D) I, II ve III

16. Manzara resmi ilk defa aşağıdaki hangi dönemde, konulara fon olmaktan çıkıp figürlerin önüne geçmiştir?

- A) Gotik
- B) Metafizik
- C) Romantik
- D) Neoklasik

17. Aşağıdaki Rönesans sanatçılarından hangisinin en önemli yapıtı, Floransa Vaftizhanesi için hazırladığı bronz kapıdır?

- A) Masaccio
- B) Donatello
- C) Michelangelo
- D) Lorenzo Ghiberti

18. Neoklasizm'in en etkili olduğu sanat kolu, aşağıdakilerden hangisidir?

- A) Mimarlık
- B) Heykel
- C) Resim
- D) Müzik

19. İtalyan ressam aynı zamanda mimar, mühendis, matematikçi, anatomist, müzisyen ve heykeltıraştır.

İtalyan resim sanatında yeni bir çığır açan sanatçı, geleneksel tekniklerin dışına çıkarak duvar resimlerinde yağlı boya kullanmıştır.

"Son Akşam Yemeği" en çok bilinen eserlerinden biridir.

Hakkında bilgi verilen sanatçı, aşağıdakilerden hangisidir?

- A) Masaccio
- B) Pieter Brueghel
- C) Antonio Canova
- D) Leonardo da Vinci

20. 18. yüzyılın sonlarında, Barok ve Rokoko sanatlarının aşırı süslemeciliğine ve yapaylığına karşı oluşan tepki sonucunda ortaya çıkan sanat akımı, aşağıdakilerden hangisidir?

- A) Realizm
- B) Romantizm
- C) Neoklasizm
- D) Ekspresyonizm

2. OTURUM

(482) SANAT TARİHİ 2

1. "Hunlar hakkındaki ilk bilgileri kaynaklarından öğrenmekteyiz."

Verilen bilgi cümlesinin doğru olabilmesi için boş bırakılan yere, aşağıdakilerden hangisi yazılmalıdır?

- A) Çin B) Rus
C) Hindu D) Bizans

2. Orta Asya Türklerinin eşya ve hayvanlarıyla gömüldükleri mezarlara verilen isim, aşağıdakilerden hangisidir?

- A) Stuko B) Höyük
C) Kurgan D) Zaviye

3. I. Budizm
II. Zerdüştlük
III. Maniheizm
IV. Hristiyanlık

Verilen inanışlardan hangileri, Uygur minyatür ve fresklerini etkilemiştir?

- A) Yalnız II B) I ve III
C) III ve IV D) I, II ve IV

4. İslam tarihinde "Medine Camisi" olarak bilinen yapı, aşağıdakilerden hangisinin zaman içinde geliştirilerek camiye çevrilmiş şeklidir?

- A) Hz. Muhammed'in evi
B) Kubbetü's Sahra Camisi
C) Ürdün'deki Hırbet'ül Mefcer Sarayı
D) Samarra'daki Kubbet'üs Süleybiye Türbesi

5. Emevilerin, mimari süslemede tercih ettikleri mozaik ve freskonun yerini Abbasilerde, aşağıdakilerden hangisi almıştır?

- A) Taş B) Ahşap
C) Mermer D) Alçı ve tuğla

6. Karahanlı hükümdarı Nasr bin İbrahim, "Ribat-ı Melik" adı verilen kervansarayı, aşağıdaki yol güzergâhlarının hangisi üzerinde yaptırmıştır?

- A) Merv - Amul
B) Nişabur - Merv
C) Buhara - Semerkant
D) Semerkant - Hocent

7. Aşağıdakilerden hangisi, Selçuklu mimarisinde kabartma olarak kullanılan motif ve figürlerden biri değildir?

- A) Kartal B) İkona
C) Ejder D) Koyun

8. Anadolu'nun, aşağıdaki hangi yüzyıllar arasındaki dönemi "Beylikler Dönemi" olarak isimlendirilir?

- A) 10. yy başı ile 12. yy sonu
B) 12. yy sonu ile 14. yy başı
C) 13. yy sonu ile 15. yy başı
D) 15. yy başı ile 16. yy ortası

9. Adını, firuze renkli sırlı tuğla minaresinden alan "Yivli Minare Camisi", günümüzde aşağıdaki illerimizden hangisinde bulunmaktadır?

- A) Konya B) Antalya
C) Kayseri D) İstanbul

10. Lale Devri'nin Osmanlı padişahı, aşağıdakilerden hangisidir?

- A) III. Ahmet B) III. Osman
C) III. Selim D) III. Murat

11. Aşağıdakilerden hangisi, İstanbul'da bulunan Ortaköy Camisi'nin özelliklerinden biri değildir?

- A) Sultan Abdülmecit tarafından mimar Amira Balyan'a yaptırılmıştır.
B) Yapı tek kubbeli, yivli gövdeli ve iki minarelidir.
C) Cami, harim ve hünkâr bölümlerinden oluşur.
D) Eklektik Dönemin özelliklerini yansıtır.

12. Büyük Selçukluların geliştirdiği çini tekniği, aşağıdakilerden hangisidir?

- A) Lüster Tekniği
B) Minai Tekniği
C) Sır Altı Tekniği
D) Renkli Sır Tekniği

13. Süleymaniye Camisi'nin avlusunda bulunan Kanuni Sultan Süleyman Türbesi'nin mimarı, aşağıdakilerden hangisidir?

- A) Mimar Sedefkâr Mehmet Ağa
B) Mimar Dalgıç Ahmet Ağa
C) Mimar Davut Ağa
D) Mimar Sinan

14. Bursa'daki Yeşil Türbe, aşağıdaki Osmanlı padişahlarından hangisinin adına yapılmıştır?

- A) Orhan Bey
B) I. Bayezit
C) Çelebi Mehmet
D) Murat Hüdavendigâr

15. Turfan, Hoça, Bezeklik ve Sorçuk bölgelerinde yapılan araştırmalar sonucunda ele geçen minyatür örnekleri, aşağıdaki Türk devletlerinden hangisine aittir?

- A) Uygur
B) Osmanlı
C) Büyük Selçuklu
D) Anadolu Selçuklu

16. Kanuni Sultan Süleyman'ın, 1534 - 1536 yıllarında yaptığı Irak Seferi'ni "Beyan-ı Menazil-i Sefer-i İrakeyn" adlı eserinde anlatan ünlü Osmanlı minyatürçü, hattat ve tarihçisi, aşağıdakilerden hangisidir?

- A) Levni
B) Matrakçı Nasuh
C) Mehmet Siyah Kalem
D) Şehnameci Seyyid Lokman

17. Minbersiz İslam ibadet yapısına verilen isim, aşağıdakilerden hangisidir?

- A) Cami B) Külliye
C) Mescit D) Kümbet

2. OTURUM

(483) SAĞLIK BİLGİSİ – 1

18. Aşağıdaki garlardan hangisi, Mimar Kemalettin'in eseridir?

- A) İstanbul Haydarpaşa Garı
- B) İstanbul Sirkeci Garı
- C) Ankara Garı
- D) Edirne Garı

19. Aşağıdaki Cumhuriyet Dönemi heykeltıraşlarından hangisi, Atatürk ile tanışarak onun bir maskını yapmıştır?

- A) Kenan Yontuç
- B) Ali Hadi Bara
- C) Zühdü Müridoğlu
- D) Ratip Aşir Acudoğlu

20. • Bu grup, Türk resim sanatında "Sanayi-i Nefise Çıkışlı Sanatçılar" olarak da bilinir.
- Bu grubun sanatçıları'nın çoğu, Sanayi-i Nefise Mektebinin 1910 yılında açtığı sınavı kazanarak başta Fransa olmak üzere Almanya ve İtalya'ya resim öğrenimi için gönderilmişler fakat I. Dünya Savaşı'nın başlamasıyla İstanbul'a geri dönmüşlerdir.
- Bu ressamların çoğunluğu Türkiye'ye izlenimci etkilerle dönmüşlerdir.
- Akımın sanatçıları doğayı hiç değiştirmeden kopya etmek yerine, kişisel duygularını ve yorumlarını tuvale aktarmalarıyla kendilerinden önceki ressamlardan ayrılırlar.
- Bu grubun başlıca üyeleri İbrahim Çallı, Ruhi Arel, Feyhaman Duran, Hikmet Onat, Hüseyin Avni Lifij, Namık İsmail, Sami Yetik ve Ali Sami Boyar'dır.

Türk resim tarihinde "1914 Kuşağı" olarak da tanınan ve hakkında kısa bilgi verilen sanat akımı, aşağıdakilerden hangisidir?

- A) D Grubu
- B) Çallı Kuşağı
- C) Yeniler Grubu
- D) Müstakil Ressamlar ve Heykeltıraşlar Birliği

1. Aşağıdakilerden hangisi be-densel iyilik hâli ile ilgilidir?

- A) Sakat olmama
- B) Ailesiyle olumlu ilişkiler kurma
- C) Yeni koşullara uyum sağlama
- D) Çevresinden olumlu etkilenme

2. I- Ana ölüm hızı
II- Kaba doğum hızı
III- Nüfus artış oranı

Yukarıda verilenlerden hangileri bir ülkenin sağlık düzeyini göstermek için kullanılabilir?

- A) Yalnız I
- B) I ve II
- C) II ve III
- D) I, II ve III

3. Aşağıdakilerden hangisi sağlığı etkileyen kimyasal etmenlerdendir?

- A) İklim koşulları
- B) Halka açık yerler
- C) İçme ve kullanma suları
- D) Tarımda kullanılan böcek öldürücü maddeler

4. Aşağıdakilerden hangisi hastalık etkeninin, vektör olarak adlandırılan hayvanlar tarafından, insanlara taşınması sonucu oluşan hastalıklardandır?

- A) Sıtma
- B) Tifo
- C) Dizanteri
- D) Çocuk felci

5. Aşağıdakilerden hangisi, hastanın ayakta muayene ve tedavisinin yapıldığı birinci basamak tedavi merkezlerindedir?

- A) Doğum evleri
- B) Üniversite hastaneleri
- C) Ana ve çocuk sağlığı merkezleri
- D) Onkoloji (kanser) hastaneleri

6. Aşağıdakilerden hangisi kişisel temizlik ile ilgili yanlış bir bilgidir?

- A) Sağlıklı yaşamın temeli kişisel temizlikle başlar.
- B) Kişisel temizlik uygulamaları okulla birlikte başlar.
- C) Temiz olan bireyin kendine güven duygusu artar.
- D) Kişisel temizliğine dikkat eden bireylerden oluşan toplumlar sağlıklı yaşar.

7. I- Yiyecek artıkları
II- Duyarlı bir dış yüzeyi
III- Asit oluşmasına neden olan mikroorganizmalar

Yukarıdakilerden hangileri dişlerde çürüklerin oluşmasına neden olur?

- A) Yalnız I
- B) I ve II
- C) II ve III
- D) I, II ve III

8. Aşağıdakilerden hangisi dişlerdeki çürümeye bağlı enfeksiyonların neden olabileceği hastalıklardan değildir?

- A) Çocuk felci
- B) Eklem romatizması
- C) Kemik iltihapları
- D) Alerjik rahatsızlıklar

9. Aşağıdakilerden hangisi dişlerde renk bozukluğuna neden olmaktadır?

- A) Süt dişlerinin erken kaybedilmesi
- B) Tırnak yeme, parmak emme gibi yanlış alışkanlıklar
- C) Kişinin aldığı flor miktarının fazla olması
- D) Dişlerin çene kemiği üzerinde dizilişinin bozuk olması

10. Aşağıdakilerden hangisi düzenli spor yapmanın yararları arasında sayılmaz?

- A) Tansiyon normal değerlerde kalır.
- B) Kandaki akyuvar sayısı artar, alyuvar sayısı azalır.
- C) Koroner damarlarda daralma ve tıkanma riski azalır.
- D) Kan dolaşımı ve kanın tüm vücuda yayılması kolaylaşır.

2. OTURUM

11. Aşağıda verilenlerden hangisi aile planlaması konusunda bilgi alınabilecek yerlerden biri değildir?

- A) Sağlık ocakları
- B) Kadın doğum servisleri
- C) Büyük hastanelere yakın oturan akrabalar
- D) Ana ve çocuk sağlığı merkezleri

12. I- Hormonlar
II- Beslenme
III- Fiziki çevre

Yukarıdakilerden hangileri büyüme ve gelişmede rol oynayan faktörlerdendir?

- A) Yalnız I
- B) I ve II
- C) II ve III
- D) I, II ve III

13. İnsanlarda vücut ve zeka gelişiminin en hızlı olduğu büyüme ve gelişme dönemi hangisidir?

- A) Bebeklik
- B) Çocukluk
- C) Okul çağı
- D) Ergenlik

14. • Anal ya da tuvalet eğitimi dönemi de denir.
• Çocuk yardımsız yürüyebilir.
• Yasak ve kısıtlamalara direnç gösterir.

Yukarıda bazı özellikleri verilen büyüme ve gelişmedeki özerklik dönemi hangi aylar arasında görülür?

- A) 0 - 6
- B) 6 - 12
- C) 12 - 36
- D) 36 - 72

15. I- Ergenin beslenmesine özen göstermesi, spor, müzik vb. uğraşlar edinmesi sağlanmalı

II- Aileler ergenin tüm isteklerini yerine getirmeli

Ergenlik dönemindeki bireylere ailelerin davranışı ile ilgili yukarıda verilenler için ne söylenebilir?

- A) Yalnız I doğru
- B) Yalnız II doğru
- C) Her ikisi de doğru
- D) Her ikisi de yanlış

16. Aşağıdakilerden hangisi ruh sağlığının korunmasında yanlış davranışlardandır?

- A) Kişi kendini tanımalı, olumlu ve olumsuz yönleriyle kendini kabul etmelidir.
- B) Kişi, kendi özelliklerini koruyarak yaşadığı toplumun gerçeklerine göre davranmalıdır.
- C) Kişi, çevresindeki farklı görüşlere aldırmadan bildiği doğrultuda kendince yaşamalıdır.
- D) Yeni durumlara gerçekçi değerlendirmeler yaparak uyum sağlayabilmelidir.

17. Küçük dozlarda madde kullanımına bağlı olarak, kişinin bedeninde ortaya çıkan etkiyi yakalayabilmek için maddenin dozunu zaman içerisinde artırma gereksinimi hangisidir?

- A) Pasif içicilik
- B) Tolerans gelişimi
- C) Madde bağımlılığı
- D) Yoksunluk sendromu

18. Sigarada bulunan hangi zararlı madde, soluk borusunun iç yüzeyindeki kirpikli yapıyı bozarak, akciğerlere kirli havanın doğrudan alınmasına neden olur?

- A) Nikotin
- B) Aseton
- C) Amonyak
- D) Katran

19. 4207 sayılı Tütün Ürünlerinin Zararlarının Önlenmesi ve Kontrolü hakkındaki kanuna göre aşağıdakilerden hangisi yasak değildir?

- A) Toplu taşıma araçlarında sigara içmek
- B) Kapalı mekanlarda sigara satmak
- C) Kitle iletişim araçlarında sigara reklamı yapmak
- D) Sağlık kurumlarının binalarında sigara içmek

20. I- Bağımlılar tedavi sırasında istekli, kararlı ve sabırlı olmalıdır.

II- Bağımlılık tedavisine başlamak için bağımlının maddi durumu çok iyi olmalıdır.

Alkol ve uyuşturucu madde bağımlılığının tedavisi ile ilgili yukarıda verilen bilgiler için ne söylenebilir?

- A) Yalnız I doğru
- B) Yalnız II doğru
- C) Her ikisi de doğru
- D) Her ikisi de yanlış

(492) TRAF. ve İLK YARD. – 2

1. I- Önce kendi can güvenliğini sağlaması
II- Sakin, kendine güvenli ve pratik olması
III- İnsan vücudu ile ilgili temel bilgilere sahip olması

Verilenlerden hangileri bir ilk yardımcıda bulunması gereken özelliklerdendir?

- A) Yalnız I
- B) I ve II
- C) II ve III
- D) I, II ve III

2. Aşağıdakilerden hangisi ilk yardımın ABC'si içinde yer almaz?

- A) Kırıkların tespit edilmesi
- B) Dolaşımın değerlendirilmesi
- C) Solunumun değerlendirilmesi
- D) Hava yolu açıklığının değerlendirilmesi

3. Araçlarda ilk yardım çantası bulundurulmasının amacı aşağıdakilerden hangisidir?

- A) Araç donanımını tamamlamak
- B) Kazalarda ilk yardımı istenilen düzeyde uygulamak
- C) Araç muayenelerinde göstermek
- D) Trafik denetimlerinde göstermek

2. OTURUM

4. Kaza sonrası olay yerini değerlendirmenin amacı aşağıdakilerden hangisidir?

- A) Sağlık personeli niteliğinin kazanılması
- B) Kazazedelerin özel yaşamlarıyla ilgilenilmesi
- C) Tekrar kaza olma riskinin ortadan kaldırılması
- D) Kaza yapmış araçların cins ve modelinin tespit edilmesi

5. Aşağıdakilerden hangisi kazazedede solunumun olmadığını gösteren bir belirtidir?

- A) Bilincin kısa süreli kapanması
- B) Ağrılı uyarılara cevap vermesi
- C) Yüzde solgunluk ve baş dönmesi
- D) Göğüs kafesi hareketlerinin olmaması

6. Hangi durumdaki kazazedeye, göğüs kemiği 5 cm aşağıya incek şekilde basınç uygulanır?

- A) Kalbi duran
- B) Kalbi düzensiz çalışan
- C) Solunum sayısı azalan
- D) Solunumu düzensiz olan

7. Aşağıdakilerden hangisi ülkemizde nakli yapılan organlara örnektir?

- A) Kemik
- B) Kornea
- C) Karaciğer
- D) Kemik iliği

8. Kanamalarda kanın koyu renkli, yavaş ve sürekli akış hâlinde olması, hangi tür kanama olduğunu gösterir?

- A) Yırtık kanaması
- B) Atardamar kanaması
- C) Toplardamar kanaması
- D) Kılcal damar kanaması

9. İç kanama şüphesi olan bir kazazedeye, ilk yardım olarak aşağıdakilerden hangisinin yapılması yanlıştır?

- A) Ağızdan ılık içecekler verilmesi
- B) İlk yardımın ABC'sinin uygulanması
- C) Ayaklarının 30 cm yukarı kaldırılması
- D) Üzerinin örtülerek ısı kaybının önlenmesi

10. Uzun kopması durumunda aşağıdaki uygulamalardan hangisinin yapılması doğrudur?

- A) Kopan parçanın 1 gün sonra sağlık kuruluşuna ulaştırılması
- B) Kopan parçanın buz ya da buzlu suyla doğrudan temas ettirilmesi
- C) Kopan parçanın temiz ve su geçirmez torbaya konularak soğuk tutulması
- D) Kopan parçanın vücuttan ayrıldığı yere ve kopan yüzeyine antiseptik madde sürülmesi

11. Aşağıdakilerden hangisi "şok" belirtilerinden biri değildir?

- A) Kan basıncının düşmesi
- B) Bilinç seviyesinin artması
- C) Cildin soğuk ve nemli olması
- D) Dudak çevresinin morarması

12. Omurga zedelenmesi olan kazazedeyi, baş-boyun-gövde eksenini bozulmadan ve sarsmadan sağlık kuruluşuna ulaştırmaktaki amaç aşağıdakilerden hangisidir?

- A) Sinir zedelenmesine bağlı oluşabilecek felci önlemek
- B) Sindirim işlevinin rahat olmasını sağlamak
- C) Solunum sıkıntısını azaltmak
- D) Kan dolaşımını yavaşlatmak

13. Eline sıcak su dökülmesi sonucu deride su dolu kabarcıkların oluşması, kazazedede kaçınca derece yanık olduğunu gösterir?

- A) 1. derece, yüzeysel yanık
- B) 2. derece, orta derinlikte yanık
- C) 3. derece, derin yanık
- D) 3. derece, yumuşak doku yanığı

14. Donma vakalarında uygulanan ilk yardımda aşağıdakilerden hangisinin yapılması yanlıştır?

- A) Kuru giysiler giydirilmesi
- B) El ve ayakların yukarı kaldırılması
- C) Bilinç açık ise ağızdan sıcak içecekler verilmesi
- D) Donuk bölgenin ovularak ısınmasının sağlanması

15. Aşağıdakilerden hangisi burkulmalarda uygulanan ilk yardım ilkeleri arasında yer alır?

- A) Burkulan bölgeye masaj yapılması
- B) Burkulan bölgenin hareket ettirilmesi
- C) Burkulan bölgeye sıcak uygulama yapılması
- D) Şişliği azaltmak için burkulan bölgenin yukarı kaldırılması

16. Aşağıdakilerden hangisi bilinç kaybının en ileri durumudur?

- A) Koma
- B) Üşüme
- C) Bayılma
- D) Terleme

17. • Sıkıntı veya nefes darlığı
• Genellikle göğüs ortasından başlayıp kollara, boyuna, sırtta ve çeneye doğru ilerleyen ve yaklaşık 5-10 dakika kadar süren ağrı hissi

Verilen bulgular kazazedede aşağıdaki durumların hangisinin olduğunu gösterir?

- A) Reflü
- B) Kalp spazmı
- C) Kalp durması
- D) Solunum durması

18. Aşağıdakilerden hangisi zehirlenmelerden korunmada yapılan yanlış bir uygulamadır?

- A) Doğal gaz vanalarının, kömür sobalarının ve bacaların güvenliğini sağlanması
- B) Kokusu, rengi, görünümü değişmiş ve bayatlamış besinlerin tüketilmemesi
- C) 6 m³ den küçük iyi havalandırılmamış mekânlarda şofben kullanılması
- D) Tarım ilacı ile temas etmiş sebze ve meyvelerin bol su ile yıkanması

2. OTURUM

19. Aşağıdakilerden hangisi, arı sokmalarında yapılması gereken bir ilk yardım uygulaması değildir?

- A) Yaralı bölgenin yıkanması
- B) Sıcak uygulama yapılması
- C) Arının iğnesi deri üzerinde görülüyorsa çıkarılması
- D) Ağızdan sokmuşsa ve solunumu güçleştiriyorsa buz emmesinin sağlanması

20. Yaralının araçtan çıkarılması esnasında en çok hangisine dikkat edilmelidir?

- A) Hızlı ve aceleci davranmaya
- B) Kaza yapan araca hasar verilmesine
- C) Kazayı seyredenlerin uzaklaştırılmasına
- D) Yaralıya yeni bir yaralanma meydana gelmesine

(493) GEOMETRİ – 3

1. Uç noktalarının koordinatları B(-4) ve C(5) olan $[BC]$ 'nin uzunluğu kaç birimdir?

- A) 1 B) 3 C) 5 D) 9

2. Aşağıdaki önermelerden hangisi yanlıştır?

- A) Düzlemde farklı iki doğrunun en çok bir ortak noktası vardır.
- B) Kesişen iki düzlemin arakesiti bir düzlemdir.
- C) Kesişen iki doğru bir düzlem belirtir.
- D) Bir doğru ile dışındaki bir nokta bir düzlem belirtir.

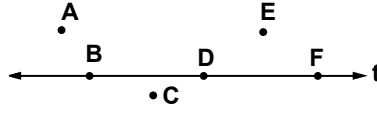
3. Uç noktalarının koordinatları A(-3) ve B(11) olan $[AB]$ 'nin orta noktasının koordinatı kaçtır?

- A) 14 B) 8 C) 7 D) 4

4. A(-4), B(12) noktaları veriliyor. $K \in [AB]$ ve $5|AK| = 3|KB|$ olduğuna göre, K noktasının koordinatı kaçtır?

- A) 2 B) 3 C) 5 D) 6

5.



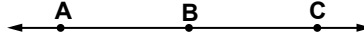
Şekildeki t doğrusuna göre, aşağıdaki noktalardan hangileri doğrusaldır?

- A) A, B, F B) B, D, F
- C) B, C, E D) A, D, E

6. Düzlemde birbirinden farklı 6 nokta veriliyor. Bu altı noktayı ikiye ikiye üzerinde bulunduran en çok kaç doğru çizilebilir?

- A) 20 B) 18 C) 15 D) 12

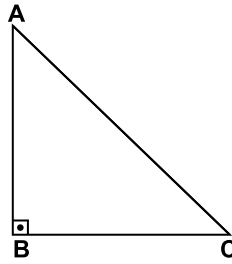
7.



Verilen doğruya göre aşağıdakilerden hangisi yanlıştır?

- A) $[AB] \cup [BC] = [AC]$
- B) $[BA] \cap [BC] = [AC]$
- C) $[AC] \cap [CA] = [AC]$
- D) $[BA] \cup [BC] = [AC]$

8.

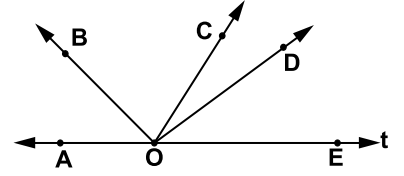


Şekildeki \widehat{ABC} 'nde $[AB] \perp [BC]$ 'tir.

$m(\widehat{BAC}) = 33^\circ 45' 26''$ olduğuna göre, $m(\widehat{BCA})$ kaç derecedir?

- A) $56^\circ 14' 34''$ B) $57^\circ 14' 34''$
- C) $146^\circ 14' 34''$ D) $147^\circ 14' 34''$

9.



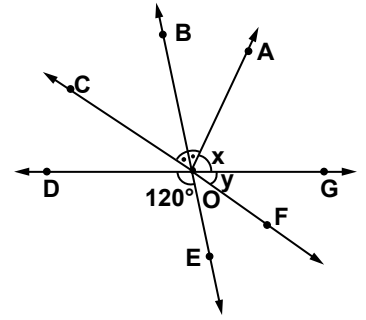
Verilen şekle göre, aşağıdakilerden hangisinde verilen açılar komşu açı değildir?

- A) \widehat{BOC} ile \widehat{COD}
- B) \widehat{COD} ile \widehat{AOB}
- C) \widehat{AOB} ile \widehat{BOC}
- D) \widehat{COD} ile \widehat{DOE}

10. Bir açının ölçüsü, tümlerinin ölçüsünün 3 katından 10° fazla olduğuna göre, bu açının ölçüsü kaç derecedir?

- A) 20 B) 30 C) 60 D) 70

11.

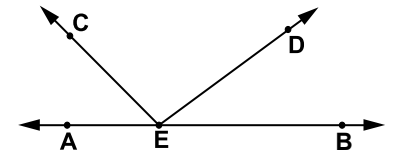


Şekilde CF, DG ve BE doğruları O noktasında kesişmektedir.

$m(\widehat{COB}) = m(\widehat{BOA})$,
 $m(\widehat{AOG}) = x$, $m(\widehat{GOF}) = y$ ve
 $m(\widehat{DOE}) = 120^\circ$ olduğuna göre,
 $x - y$ kaç derecedir?

- A) 40 B) 50 C) 60 D) 70

12.



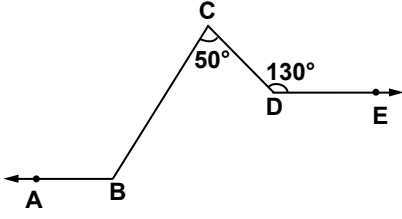
Şekilde A, E, B noktaları doğrusal ve $[EC] \perp [ED]$ 'tir.

$m(\widehat{AEC}) = 3x$ ve $m(\widehat{BED}) = 2x$ olduğuna göre, $m(\widehat{AEC})$ kaç derecedir?

- A) 18 B) 36 C) 54 D) 72

2. OTURUM

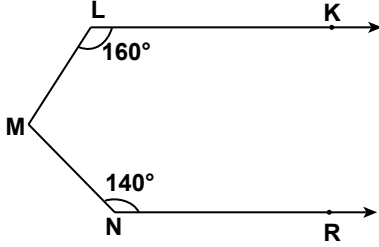
13.



Verilen şekilde $[BA \parallel [DE$ 'dir.
 $m(\widehat{BCD}) = 50^\circ$ ve $m(\widehat{CDE}) = 130^\circ$
 olduğuna göre, $m(\widehat{ABC})$ kaç
 derecedir?

- A) 100 B) 110
 C) 120 D) 130

14.



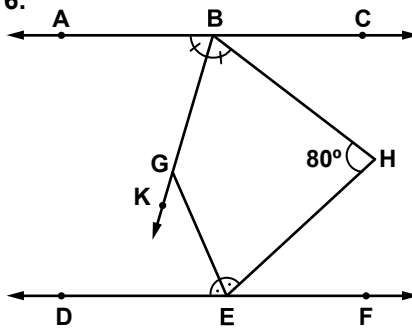
Şekilde $[LK \parallel [NR$ 'dir.
 $m(\widehat{KLM}) = 160^\circ$ ve
 $m(\widehat{MNR}) = 140^\circ$ olduğuna göre,
 $m(\widehat{LMN})$ kaç derecedir?

- A) 30 B) 40 C) 60 D) 80

15. Aşağıda ölçüleri verilen açılardan hangisi dar açıdır?

- A) 89° B) 90°
 C) 105° D) 185°

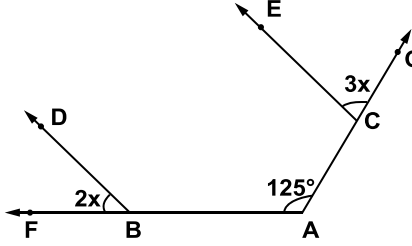
16.



Şekilde $AC \parallel DF$ 'dir.
 $m(\widehat{ABG}) = m(\widehat{GBH})$,
 $m(\widehat{DEG}) = m(\widehat{GEH})$ ve
 $m(\widehat{BHE}) = 80^\circ$ olduğuna göre,
 $m(\widehat{KGE})$ kaç derecedir?

- A) 40 B) 45 C) 50 D) 55

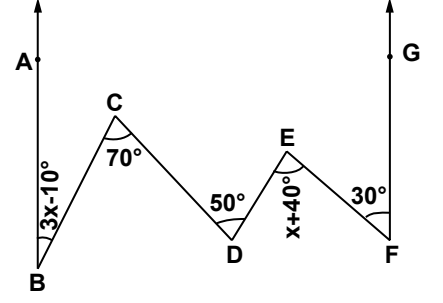
17.



Şekilde $[BD \parallel [CE$,
 $m(\widehat{FBD}) = 2x$, $m(\widehat{ECG}) = 3x$ ve
 $m(\widehat{FAG}) = 125^\circ$ olduğuna göre,
 $m(\widehat{ECG})$ kaç derecedir?

- A) 50 B) 60 C) 75 D) 85

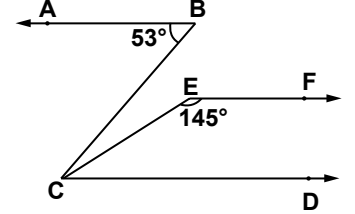
18.



Şekilde $[BA \parallel [FG$ 'dir.
 $m(\widehat{ABC}) = 3x - 10^\circ$,
 $m(\widehat{BCD}) = 70^\circ$, $m(\widehat{CDE}) = 50^\circ$
 $m(\widehat{DEF}) = x + 40^\circ$ ve
 $m(\widehat{EFG}) = 30^\circ$ olduğuna göre,
 x kaç derecedir?

- A) 35 B) 30 C) 25 D) 20

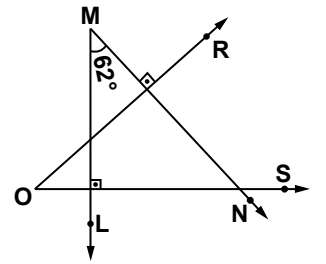
19.



Şekilde $[BA \parallel [CD \parallel [EF$ 'dir.
 $m(\widehat{ABC}) = 53^\circ$ ve $m(\widehat{CEF}) = 145^\circ$
 olduğuna göre, $m(\widehat{BCE})$ kaç
 derecedir?

- A) 8 B) 18 C) 23 D) 35

20.



Şekilde $[ML \perp [OS$ ve
 $[MN \perp [OR$ 'tir. $m(\widehat{NML}) = 62^\circ$
 olduğuna göre, $m(\widehat{ROS})$ kaç
 derecedir?

- A) 28 B) 32 C) 48 D) 62

2. OTURUM

(498) GEOMETRİ – 8

1. Aşağıdaki ifadelerden hangisi **yanlıştır**?

- A) Bir doğru bir düzleme dikse bu doğrudan geçen her düzlem, bu düzleme diktir.
- B) Paralel iki düzlemden birine dik olan bir düzlem, diğerine de diktir.
- C) Bir noktadan geçen ve bir düzleme paralel olan sonsuz düzlem vardır.
- D) Bir doğru, iki düzlemden birine paralel diğerine dik ise bu iki düzlem birbirine diktir.

2. I- Paralel düzlemler arasında kalan paralel doğru parçaları birbirine eştir.

II- Birbirine paralel üç doğru, üzerinde buldukları düzlemi beş bölgeye ayırır.

III- Uzayda bir doğrunun farklı iki noktası bir düzlemde ise bu doğru o düzlemin içindedir.

Yukarıdaki ifadelerden hangileri doğrudur?

- A) I ve II
- B) II ve III
- C) I ve III
- D) I, II ve III

3. Uzayda verilen bir doğru ile bir düzlem için aşağıdakilerden hangisi **yanlıştır**?

- A) Doğru düzlemin içinde olabilir.
- B) Doğru düzleme paralel olabilir.
- C) Doğru düzlemi kesebilir.
- D) Doğru ile düzlem aykırı olabilir.

4. Uzayda herhangi üçü doğrusal olmayan 7 farklı nokta **en çok** kaç düzlem belirtir?

- A) 35
- B) 21
- C) 14
- D) 7

5. Aşağıdaki ifadelerden hangisi **yanlıştır**?

- A) Farklı iki düzlemin en çok bir ortak doğrusu vardır.
- B) Uzayda iki doğru birbirine paralel ise bunlardan birini kesen düzlem, diğerini de keser.
- C) Paralel iki düzlemden birinin içindeki doğru diğerine diktir.
- D) Aynı düzleme paralel olan düzlemler, birbirine paraleldir.

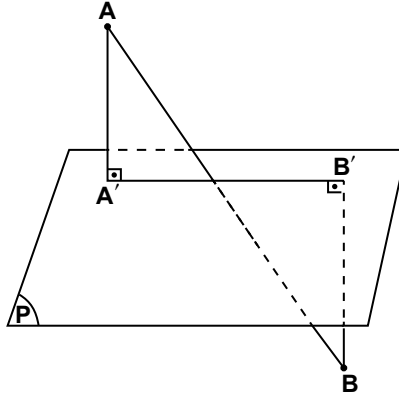
6. Aynı noktada kesişen 6 doğru **en çok** kaç düzlem belirtir?

- A) 15
- B) 18
- C) 20
- D) 35

7. Kesişen farklı iki doğru, düzlemi **en çok** kaç bölgeye ayırır?

- A) 3
- B) 4
- C) 5
- D) 6

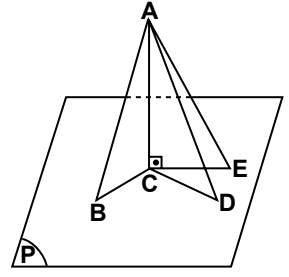
8.



Şekilde P düzleminin farklı tarafında bulunan A ve B noktalarından düzleme dikmeler çiziliyor. $|AA'| = 11$ cm, $|BB'| = 13$ cm ve $|A'B'| = 10$ cm olduğuna göre, A ve B noktaları arasındaki uzaklık kaç santimetredir?

- A) 14
- B) 26
- C) 34
- D) 36

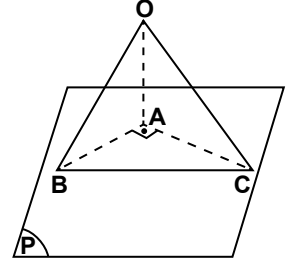
9.



Şekilde B, C, D, E noktaları P düzleminin üzerinde ve $[AC] \perp P$ 'tir. $|BC| = |CD|$ ve $|CB| < |CE|$ olduğuna göre, aşağıdakilerden hangisi **yanlıştır**?

- A) $|AC| < |AE|$
- B) $|AB| = |AD|$
- C) $|AB| < |AE|$
- D) $|AD| < |AC|$

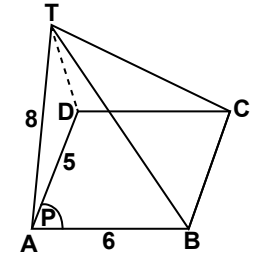
10.



Şekilde $[BA], [CA] \in P$, $[OA] \perp P$ ve $[BA] \perp [AC]$ 'tir. OBC eşkenar üçgen, ABC ikizkenar dik üçgen ve $|OB| = 2\sqrt{2}$ cm olduğuna göre, $|OA|$ kaç santimetredir?

- A) 2
- B) $2\sqrt{2}$
- C) 3
- D) $4\sqrt{3}$

11.

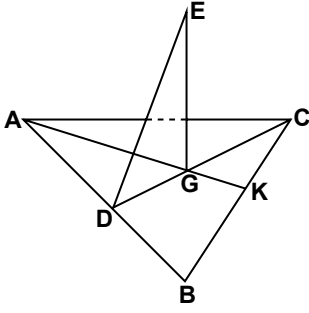


ABCD dikdörtgen ve $[TA] \perp ABCD$ dikdörtgeninin içinde bulunduğu düzleme diktir. $|AB| = 6$ cm, $|AD| = 5$ cm ve $|TA| = 8$ cm olduğuna göre, $|TC|$ kaç santimetredir?

- A) $4\sqrt{2}$
- B) 6
- C) 10
- D) $5\sqrt{5}$

2. OTURUM

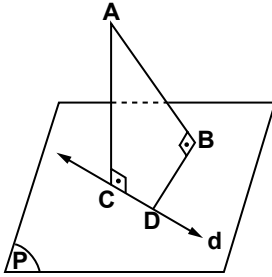
12.



Şekilde $[EG]$, ABC üçgeninin bulunduğu düzleme dik, $[CD]$ kenarortay ve G noktası ABC üçgeninin ağırlık merkezidir. $|GC| = 4\sqrt{3}$ cm ve $m(\widehat{EDG}) = 60^\circ$ olduğuna göre, $|EG|$ kaç santimetredir?

- A) 6 B) $4\sqrt{3}$
C) $5\sqrt{3}$ D) 12

13.



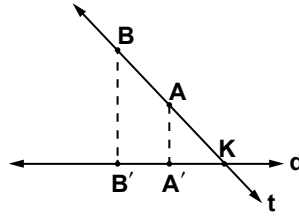
Şekilde $d \in P$, $[AB] \perp P$, $[AC] \perp d$, $|AB| = 12$ cm, $|AC| = 13$ cm ve $|DB| = 7$ cm olduğuna göre, $|CD|$ kaç santimetredir?

- A) 3 B) $2\sqrt{6}$
C) $4\sqrt{3}$ D) 5

14. P ve R düzlemleri arasındaki ölçek açısının ölçüsü 45° dir. P düzlemindeki $2\sqrt{2}$ cm yarıçaplı dairenin R düzlemindeki dik iz düşümünün alanı kaç santimetrekaredir? (π yerine 3 alınız.)

- A) 12 B) 24
C) $12\sqrt{2}$ D) $24\sqrt{3}$

15.



Şekilde t ve d doğruları K noktasında kesilmektedir. t doğrusu üzerindeki $[AB]$ 'nin d doğrusu üzerindeki dik iz düşümü $[A'B']$ 'dir. $|AB| = 4\sqrt{3}$ cm ve $m(\widehat{AKA'}) = 30^\circ$ olduğuna göre, $|A'B'|$ kaç santimetredir?

- A) $4\sqrt{3}$ B) 6
C) $8\sqrt{3}$ D) 12

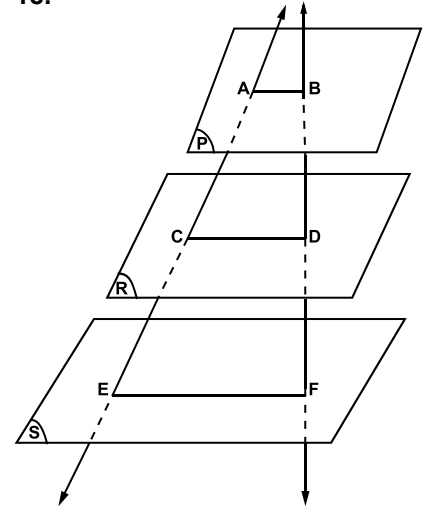
16. P ve Q düzlemleri arasındaki ölçek açısının ölçüsü 30° dir. P düzlemindeki ABC eşkenar üçgeninin Q düzlemindeki dik iz düşümünün alanı 6 cm² olduğuna göre, ABC üçgeninin bir kenarının uzunluğu kaç santimetredir?

- A) 2 B) $2\sqrt{3}$
C) $3\sqrt{2}$ D) 4

17. P düzleminde bulunan ve bir kenarının uzunluğu 6 cm olan $ABCD$ karesinin, Q düzlemindeki dik iz düşümünün alanı $18\sqrt{2}$ cm² olduğuna göre, Q ve P düzlemleri arasındaki ölçek açısının ölçüsü kaç derecedir?

- A) 30 B) 45 C) 60 D) 90

18.



Şekilde $P \parallel R \parallel S$ 'dir. $|AC| = 7$ cm, $|CE| = 14$ cm ve $|BD| = 5$ cm olduğuna göre, $|DF|$ kaç santimetredir?

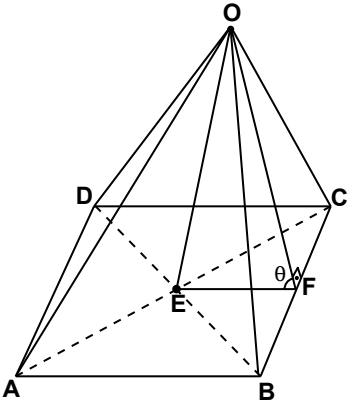
- A) 10 B) 12 C) 14 D) 16

19. Aşağıdaki ifadelerden hangisi yanlıştır?

- A) Doğru düzleme dik ise doğrunun düzlem üzerindeki dik iz düşümü bir noktadır.
B) Birbirine paralel ve eş doğru parçalarının bir düzlem üzerindeki dik iz düşümleri de birbirine paralel ve eşittir.
C) Bir üçgenin paralel iki düzlem üzerindeki dik iz düşümleri eşittir.
D) Bir şekil düzleme dik ise şeklin düzlem üzerindeki dik iz düşümü şeklin aynısıdır.

2. OTURUM

20.



Bir kenarının uzunluğu $2\sqrt{3}$ birim olan bir karenin bulunduğu düzlemin dışında $|OA|=|OB|=|OC|=|OD|=|AB|$ olacak şekilde bir O noktası alınıyor. OCB üçgeni ile ABCD karesinin bulunduğu düzlem arasındaki ölçük açısı θ olduğuna göre $\sin \theta$ kaçtır?

- A) $\frac{\sqrt{3}}{6}$ B) $\frac{\sqrt{3}}{2}$
C) $\frac{\sqrt{6}}{3}$ D) $\frac{\sqrt{6}}{2}$

(501) İNGİLİZCE – 7

1 - 20. sorularda boş bırakılan yere uygun gelen kelime ya da ifadeyi işaretleyiniz.

1. Emre asked Mert he was tired.
A) if B) to C) on D) in
2. She's good painting pictures.
A) by B) up C) in D) at
3. Their house is full furniture.
A) to B) on C) of D) as
4. Are you ready your wedding?
A) for B) with C) as D) at
5. I'm not familiar these kind of problems.
A) about B) with
C) from D) then

6. He was about football.

- A) interested B) similar
C) familiar D) crazy

7. The little boy isn't of dogs.

- A) famous B) afraid
C) good D) bad

8. I haven't ridden a motorbike

- A) recently B) already
C) since D) for

9. Have you driven a truck?

- A) never B) just
C) been D) ever

10. I studying for my English exam for the last two hours.

- A) will be B) have been
C) was D) would be

11. I my clothes. They are clean now.

- A) am washing
B) washed
C) have washed
D) wash

12. I was very tired. I had been in the office all day.

- A) sleeping B) resting
C) eating D) working

13. Gülten: "Why are you so happy?"
Gülten asked me I was so happy.

- A) where B) when
C) why D) what

14. Teacher: "Open the window!"
The teacher me to open the window.

- A) told B) said
C) talked D) spoke

15. Ahmet: "Do you work at this factory?"
Ahmet me if I worked at that factory.

- A) spoke B) said
C) told D) asked

16. Justin: "We may go on a picnic."
Justin said they go on a picnic.

- A) could B) might
C) would D) can

17. Sedat: "I won't go to work today."
Sedat said he wouldn't go to work

- A) the following day
B) the previous day
C) the next day
D) that day

18. When I went home, the children

- A) has already gone out
B) had tidied their room
C) are cooking the dinner
D) will do their homework

19. because I had already seen it.

- A) I will buy a new DVD
B) I'm reading a magazine
C) I did not watch the film
D) I haven't travelled by plane

20. His hands were all in paint.

- A) He had been painting the house.
B) They had been playing football.
C) The baby had been sleeping.
D) She had been walking.

1 - 17. sorularda boş bırakılan yere uygun gelen ek, kelime ya da ifadeyi işaretleyiniz.

1. Englisch ist

- A) eine Sprache
- B) ein Kontinent
- C) eine Stadt
- D) ein Land

2. Sprache wird in Frankreich gesprochen?

- A) Welches
- B) Wann
- C) Was
- D) Welche

3. Bär, Löwe, Krokodil

- A) das / der / die
- B) die / der / das
- C) der / der / das
- D) die / das / der

4. Die Giraffe ist

- A) schwarz
- B) klein
- C) schwach
- D) groß

5. Ein Krokodil kann

- A) schwimmen
- B) klettern
- C) fliegen
- D) springen

6. Gegenteil von schwer ist

- A) klein
- B) leicht
- C) kräftig
- D) schnell

7. Das Kind aus dem Fenster.

- A) denkt
- B) winkt
- C) macht
- D) benutzt

2. OTURUM

8.



Die Schildkröte ist
Baum.

- A) unten
- B) hinter
- C) unter dem
- D) zwischen dem

9.



Das ist eine

- A) Querflöte
- B) Posaune
- C) Geige
- D) Flöte

10. Das Kind trägt ein-...
Rucksack und ein-... blau-...
Hose.

- A) -e / - / -en
- B) -en / - e / -
- C) -en / -e / -e
- D) - / -es / -e

11. Sie möchte ins Kino gehen,
..... sie den Film sehen will.

- A) wenn
- B) dann
- C) dass
- D) weil

12. Jugendliche können glücklich
werden, ihre Eltern sie
lieben.

- A) dass
- B) dann
- C) aber
- D) wenn

13. Sie hat ihre Haare gefärbt.


- A) dich
- B) sich
- C) mich
- D) uns

14. A: lebt Canan?

B: Sie lebt Türkei.

- A) Woher / aus der
- B) Wo / in der
- C) Woher / auf der
- D) Wo / in

15.



A: Wo ist der Löwe?

B: Bäumen.

- A) Auf den
- B) Neben der
- C) Hinter dem
- D) Zwischen den

16. A: Instrument kannst
du spielen?

B: Ich kann Klarinette spielen.

- A) Welches
- B) Wie
- C) Was
- D) Womit

17. A: du ein Musikinstrument
spielen ?

B: Ja, Klavier.

- A) Singst
- B) Kannst
- C) Machst
- D) Spielst

18.



Was bedeutet "winken mit der
Hand"?

- A) Kommen
- B) Warnen
- C) Auf Wiedersehen
- D) Sich vorstellen

2. OTURUM

19. "Fest, innerhalb der Familie" açıklamasının genel karşılığı hangi sözcüktür?

- A) Geburtstag
- B) Verlobung
- C) Familienfest
- D) Hochzeit

20.



Was hat er?

- A) Bauchschmerzen
- B) Ohrenschmerzen
- C) Zahnschmerzen
- D) Halsschmerzen

(501) FRANSIZCA – 7

1 - 20. sorularda boş bırakılan yere uygun gelen kelime ya da ifadeyi işaretleyiniz.

1. Allô? Bonjour, je parler à monsieur Legrand?

- A) voudrais B) voudrait
- C) voudriez D) voudrions

2. Si vous êtes à Paris, vous voir la tour Eiffel.

- A) avez du B) devez
- C) devoir D) deviez

3. Hugo : Je veux sortir avec mes amis.
Il dit qu'il veut sortir avec amis.

- A) vos B) tes
- C) mes D) ses

4. Ebru, sois, donne-toi du temps!

- A) patient B) patiente
- C) patientes D) patients

5. Ne pas avec tes amis!

- A) parles B) parlant
- C) parlent D) parle

6. La femme qui a deux paquets gros.

- A) vient B) viens
- C) venez D) venir

7. J'ai rencontré vieille amie au cinéma.

- A) des B) un
- C) une D) les

8. J'ai tous les verres cassés par terre.

- A) voir B) vois
- C) vu D) vus

9. Elle a un chien s'appelle Mimi.

- A) que B) quel
- C) quoi D) qui

10. Il faisait chaud et beaucoup de gens sur les rues.

- A) C'est B) C'était
- C) Il y a D) Il y avait

11. Vous avez perdu votre sac?

- A) noir B) noires
- C) noire D) noirs

12. Voici renseignements nécessaires pour toi!

- A) le B) la C) les D) l'

13. La semaine prochaine, nous au foot après l'école.

- A) jouerons B) avons joué
- C) jouions D) jouer

14. Elle travaille dans son travail.

- A) attentif B) attentifs
- C) attentives D) attentivement

15. Salut Anna! tu es quand?

- A) rentré B) rentrée
- C) rentrées D) rentrés

16. A: Tu arrives?
B: Dans 10 minutes.

- A) comment B) pourquoi
- C) quelle D) quand

17. A: Est-ce que tu vois tes amis par la fenêtre?
B: Non, je ne vois pas.

- A) le B) la C) les D) lui

18. A: Ma chérie, C'est pour toi, une bague pour la Saint Valentin.
B:

- A) C'est chouette
- B) Elle en a marre
- C) Quoi de neuf
- D) Pas du tout

19. A: Je veux inviter mes amies à la soirée.
B:

- A) Lequel B) Laquelle
- C) Lesquelles D) Lesquels

20. A: Tu envoies une carte postale de France à tes parents?
B: Oui je envoie.

- A) lui B) leur C) des D) en

2. OTURUM

(512) FIKIH – 2

1. Aşağıdakilerden hangisi gusül abdestinin farzlarından biri değildir?

- A) Niyet etmek
- B) Ağız yıkamak
- C) Burnu yıkamak
- D) Bütün bedeni yıkamak

2. Aşağıdakilerden hangisi abdestin farzlarındandır?

- A) Niyet etmek
- B) Besmele ile başlamak
- C) Başı mesh etmek
- D) Boynu mesh etmek

3. Teyemmüm abdesti ile ilgili aşağıdakilerden hangisi yanlıştır?

- A) Abdesti bozan durumlar teyemmümü de bozar.
- B) Teyemmüme niyet ile başlamak sünnettir.
- C) Hem namaz abdesti hem de gusül abdesti yerine geçer.
- D) Her namaz vakti için ayrı teyemmüm almak gerekir.

4. Mest ve sargı üzerine mesh etmenin süresi ile ilgili aşağıdaki bilgilerden hangisi doğrudur?

- A) Abdestli olarak giyilen mest üzerine 72 saat süre ile mesh edilebilir.
- B) Yolculuk esnasında mest üzerine mesh etmenin süresi 24 saattir.
- C) Mest üzerine mesh etmenin süresi mest giyildikten sonra başlar.
- D) Abdest organlarından birisi sargılı ise bu sargı üzerine mesh etmenin belli bir süresi yoktur.

5. Namazın dışındaki farzlarından (namazın hazırlık şartlarından) birisi olan "hadesten taharet" ne anlama gelmektedir?

- A) Kılınacak namazın vaktinin girmiş olması
- B) Namazda örtülmesi gereken yerlerin örtülmesi
- C) Cünüplük ve abdestsizlik halinden temizlenilmesi
- D) Namaz kılacak kimsenin vücudunu, kıyafetini ve namaz kılacağı yeri her türlü pislikten temizlemesi

6. Aşağıdakilerden hangisi namazın sünnetlerindedir?

- A) Fatıha suresini okumak
- B) Beş vakit namaz ve cuma namazı için ezan ve kamet okumak
- C) Namazın rükünlerini sırası ile geciktirmeden yapmak
- D) Üç ve dört rekatlı namazlarda ikinci rekatin sonunda oturmak

7. Aşağıdakilerden hangisi namazın her rekatinde yoktur?

- A) Besmele
- B) Rûku
- C) Fatıha
- D) Sübhaneke

8. Namazın farzlarından birinin geciktirilmesi ya da vaciplerinden birinin terk edilmesinden dolayı yapılması gereken secde aşağıdakilerden hangisidir?

- A) Sehib secdesi
- B) Tilavet secdesi
- C) Şükür secdesi
- D) Dua secdesi

9. Cemaatle kılınan namaza başında yetişemeyip sonradan imama uyan kimseye ne denir?

- A) Müdrik
- B) Mukim
- C) Mesbuk
- D) Lahik

10. "Ey iman edenler! Allah'a karşı sorumluluğunuzun bilincine varasınız diye oruç, sizden öncekilere farz kılındığı gibi size de farz kılındı."

(Bakara suresi, 183. ayet)

Oruç ile ilgili aşağıdakilerden hangisi bu ayetten çıkarılacak bir sonuç değildir?

- A) Sorumluluk bilincini geliştirir.
- B) Yerine getirilmesi farzdır.
- C) Sevabı diğer ibadetlere göre daha fazladır.
- D) İslam'dan önceki kavimlere de farz kılınmıştır.

11. Aşağıdakilerin hangisinde daha çok orucun toplumsal faydası dile getirilmiştir?

- A) İradeyi güçlendirir.
- B) Sabırlı olmaya alıştıırır.
- C) Vücut sağlığına fayda sağlar.
- D) Yoksulların durumunu anlamaya vesile olur.

12. Aşağıdaki oruçlardan hangisi farzdır?

- A) Adak orucu
- B) Kaza orucu
- C) Şevval orucu
- D) Nafile orucun bozulmasından dolayı tutulan oruç

13. Toprak ürünlerinden alınan zekat miktarına ne denir?

- A) Öşür
- B) Havayic
- C) Nisap
- D) Nema

14. Kişinin ölümünden sonra da sevap almasına vesile olacak kalıcı sadakalara ne ad verilir?

- A) Hibe
- B) Fidye
- C) Fıtır sadakası
- D) Sadaka-i carie

15. Hac ibadetinin yapılış vakti aşağıdakilerden hangisinde doğru verilmiştir?

- A) Muharrem ayının 9, 10 ve 11. günlerinde
- B) Zilhicce ayının 9. ve 10. günlerinde
- C) Rebiülevvel ayının 12. gününde
- D) Şevval ayının 6. gününde

16. Aşağıdakilerden hangisi haccın vaciplerinden biridir?

- A) Şeytan taşlamak
- B) İhrama girmek
- C) Kabe'yi tavaf etmek
- D) Arafat'ta vakfe yapmak

2. OTURUM

17. Hac ibadeti yapılış şekli bakımından üçe ayrılır.

Aşağıdakilerden hangisi bunlardan biri değildir?

- A) İfrad Haccı
- B) Kıran Haccı
- C) Veda Haccı
- D) Temettü Haccı

18. Aşağıdakilerden hangisi anne ve babaların yeni doğan çocukları için şükür amacıyla kestikleri kurbandır?

- A) Akika
- B) Kefaret
- C) Adak
- D) Hedy

19. Aşağıdakilerden hangisi hac ve umrenin ortak şartıdır?

- A) Vakfe
- B) Tavaf
- C) Kurban kesme
- D) Şeytan taşlama

20. İslam dinine göre korunması gereken haklar (zarurat-ı hamse) beş maddede toplanmıştır.

Aşağıdakilerden hangisi bunlardan biri değildir?

- A) Aklın korunması
- B) Neslin korunması
- C) Örfün korunması
- D) Mülkiyetin korunması

(524) SEÇ. Y. DİL İNG. – 4

1 - 20. sorularda boş bırakılan yere uygun gelen kelime ya da ifadeyi işaretleyiniz.

1. I get up early the morning.

- A) of
- B) up
- C) by
- D) in

2. We were home last evening.

- A) at
- B) on
- C) in
- D) as

3. We had guests Saturday.

- A) ago
- B) then
- C) next
- D) last

4. Zeynep hasn't cooked the meal

- A) ever
- B) before
- C) yet
- D) already

5. I have washed my car.

- A) already
- B) since
- C) yet
- D) for

6. They haven't seen each other for

- A) June
- B) yesterday
- C) 10 o'clock
- D) 10 years

7. Vegetables are than starchy food.

- A) healthy
- B) healthier
- C) healthiest
- D) the healthiest

8. Summer is season in our country.

- A) hot
- B) hotter
- C) hottest
- D) the hottest

9. Motorbikes are than bikes.

- A) faster
- B) taller
- C) colder
- D) younger

10. Our teacher explains every topic

- A) clear
- B) clean
- C) clearly
- D) cleanly

11. Angela is a person. She is very kind.

- A) aggressive
- B) angry
- C) rude
- D) lovely

12. Ayşe is the successful student in our class.

- A) much
- B) many
- C) most
- D) more

13. A plane is expensive a car.

- A) most / then
- B) more / than
- C) then / more
- D) than / most

14. She born in 1997.

- A) is
- B) has
- C) was
- D) were

15. The secretary has ten letters so far.

- A) thought
- B) sold
- C) meant
- D) typed

16. It two days ago.

- A) snow
- B) snowed
- C) snowing
- D) to snow

17. We breakfast at ten o'clock last Sunday.

- A) had
- B) has
- C) have
- D) having

2. OTURUM

18. Have you such a beautiful scene before?

- A) seeing B) seen
C) saw D) see

19. You do your homework or the teacher will punish you.

- A) can B) may
C) must D) would

20. You have no money. You buy that jacket.

- A) cannot B) can
C) may not D) may

(524) SEÇ. Y. DİL ALM. – 4

1 - 17. sorularda boş bırakılan yere uygun gelen ek, kelime ya da ifadeyi işaretleyiniz.

1. Die Vase steht auf ein-... neu-... Tisch.

- A) -em / -en B) -e / -e
C) - / - D) -er / -e

2. Die fleißig-... Schüler freuen sich auf die Sommerferien.

- A) -e B) -en C) -er D) -es

3. Die Kinder um 8:00 Uhr schlafen.

- A) soll B) sollst
C) sollen D) sollt

4. Mutter: deine Hausaufgaben!

- A) Machst B) Machen
C) Macht D) Mach

5. Nicht zu lange! (fernsehen, ihr)

- A) Sehen / fern
B) Siehst / fern
C) Siehst / fern
D) Sieht /fern

6. Ich ein weißes Kleid.

- A) wollt B) will
C) wollen D) willst

7. Er sich bei mir entschuldigen.

- A) muss B) hat
C) sei D) braucht

8. ich sieben Jahre alt war, wohnten wir in Deutschland.

- A) Wenn B) Als
C) Ob D) Weil

9. die Schule aus ist, können wir ins Kino gehen.

- A) Dann B) Wenn
C) Als D) Aber

10. jung,, am jüngsten

- A) junger B) jüngste
C) junges D) jünger

11. Die Schüler machen nicht gern Hausaufgaben. (viel)

- A) besser B) mehr
C) schönste D) meisten

12. wir etwas essen?

- A) Möchtest B) Möchte
C) Möchten D) Möchtet

13. A: Was du?
B: Eine Dose Cola bitte.

- A) möchtest B) möchte
C) möchten D) möchtet

14. A: Müssen Sie noch lange arbeiten?

B: Nein,

- A) muss ich lange arbeiten
B) ich muss lange arbeiten
C) wenn ich lange arbeite
D) ich brauche nicht lange zu arbeiten

15. A: wir mitkommen?
B:, natürlich.

- A) Kannst / Nein
B) Können / Nein
C) Können /Ja
D) Kann /Ja

16. A: darfst du nicht Auto fahren?
B: ich keinen Führerschein habe.

- A) Warum / Weil
B) Wozu / Damit
C) Wann / Weil
D) Damit / Wenn

17. A: bleibst du am Wochenende im Bett?
B: Ungefähr acht Stunden.

- A) Wie oft B) Wann
C) Wie lange D) Seit wann

18. Aşağıdaki kalıplardan hangisi diğerlerinden farklıdır?

- A) So ein dummer Esel!
B) So ein braves Kind!
C) So ein alter Idiot!
D) So ein blödes Huhn!

19. Bu işareti anlatan doğru ifade hangisidir?



- A) Hier muss man telefonieren!
B) Hier kann man telefonieren!
C) Hier darf man nicht telefonieren!
D) Hier soll man nicht telefonieren!

20. Aşağıdaki cümlelerden hangisi emir cümlesidir (Befehlsatz) ?

- A) Kommt ihr mit
B) Kommst du mit
C) Kommen die Kinder mit
D) Kommen Sie mit

2. OTURUM

(524) SEÇ. Y. DİL FRAN. – 4

1 - 20. sorularda boş bırakılan yere uygun gelen kelime ya da ifadeyi işaretleyiniz.

1. Nous prenons ces chaussures-ci, pas

- A) celui-ci B) celles-là
C) ceux-là D) celle-là

2. Je préfère ma maison à de mon voisin.

- A) celle B) celui
C) celles D) ceux

3. Tu n'as pas de? Tu peux emprunter celui de ton ami!

- A) montre B) valise
C) dictionnaire D) chanson

4. Ma mère ne mange de pain, parce que lui fait grossir.

- A) ce B) c'est
C) ça D) celle

5. Le vélo est rapide que l'avion.

- A) moins B) plus
C) aussi D) autant

6. Ma femme a acheté vêtements que ta femme.

- A) aussi B) dans
C) avec D) autant de

7. Konya est grande ville de la Turquie.

- A) la plus B) le plus
C) le moins D) les plus

8. Pele, c'était joueur du monde.

- A) la meilleure
B) le meilleur
C) les meilleures
D) les meilleurs

9. Cenk a été très malade mais il va maintenant.

- A) plus B) mieux
C) le pire D) moindre

10. Ma mère a 60 ans, et toi, quel âge a?

- A) le tien B) le sien
C) la mienne D) la tienne

11. Je connais ton mais je ne connais pas la sienne.

- A) adresse B) frère
C) oncle D) numéro

12. Quand mon père jeune, il travaillait dans un café.

- A) sera B) est
C) était D) être

13. Pendant que nous regardions la télé, Michel une lettre.

- A) a écrit B) écrit
C) va écrire D) écrira

14. belle chanson!

- A) Quel B) Quelle
C) Quels D) Quelles

15. Ahmet parle l'anglais

- A) courant B) courantes
C) courante D) couramment

16. Je n'aime pas le rock j'adore le jazz.

- A) en revanche
B) contrairement
C) mais
D) malgré

17. Quand tu vas cette fiche?

- A) remplit B) rempli
C) remplissant D) remplir

18. Ma mère de nettoyer la maison.

- A) viennent B) viens
C) vient D) venir

19.-vous un stylo?

- A) Aurions B) Auriez
C) Aurais D) Aurait

20. Si nous avions étudié l'anglais nous ce film.

- A) aurions aimé
B) aimons
C) avons aimé
D) aimeront

2. OTURUM

(527) SEÇ. Y. DİL İNG. – 7

1 - 20. sorularda boş bırakılan yere uygun gelen kelime ya da ifadeyi işaretleyiniz.

1. My boss asked me I had finished my project.

- A) by B) or C) if D) as

2. The hotel was nice but we were disappointed the food.

- A) to B) with C) in D) of

3. She is keen watching horror films.

- A) on B) for
C) about D) from

4. I'm interested Art.

- A) by B) up C) at D) in

5. Are you afraid spiders?

- A) with B) from
C) of D) to

6. Turkish coffee is from espresso.

- A) similar B) crazy
C) ready D) different

7. I'm with my homework now.

- A) worried B) busy
C) ashamed D) bad

8. I have cleaned the windows.

- A) yet B) so far
C) just D) for

9. I have ridden a motorbike.

- A) never B) ever
C) been D) recently

10. He repairing his bicycle for the last two hours.

- A) would be B) will be
C) has been D) was

11. I my wallet. I can't find it anywhere.

- A) will lose B) have lost
C) had lost D) would lose

12. She was very tired. She had been since she got up that morning.

- A) sleeping B) resting
C) eating D) walking

13. Meriç: "How much money have you got?"
Meriç me how much money I had got.

- A) asked B) said
C) told D) spoke

14. Meral: "I must have a rest."
Meral said that she have a rest.

- A) can B) had to
C) may D) would

15. Sibel: "I will buy a new car."
Sibel said she buy a new car.

- A) have to B) might
C) would D) could

16. Serdar: "We went to the cinema yesterday."

Serdar said they to the cinema the previous day.

- A) are going B) had gone
C) were going D) will go

17. Mehmet: "I am going to fly to London tomorrow."

Mehmet said he was going to fly to London

- A) the following week
B) the previous day
C) the next day
D) that day

18. When they arrived at the station,

- A) he has gone.
B) she is driving.
C) you will be there.
D) the train had left.

19. I hadn't seen such a big lake

- A) after I had seen her.
B) before I went to Van.
C) when they tidy the house.
D) while they were fighting.

20. Tom was out of breath because

- A) he had been running.
B) you had been driving.
C) she had been cooking.
D) they had been sleeping.

1 - 18. sorularda boş bırakılan yere uygun gelen ek, kelime ya da ifadeyi işaretleyiniz.

1. Kanada ist

- A) eine Sprache
- B) ein Kontinent
- C) eine Stadt
- D) ein Land

2. Sprache wird in Spanien gesprochen?

- A) Welches
- B) Welche
- C) Was
- D) Wann

3. Affe, Zebra, Giraffe

- A) das / das / der
- B) die / der / das
- C) der / das / die
- D) die / der / das

4. Der Elefant ist sehr

- A) schwer
- B) klein
- C) schwach
- D) leicht

5. Alle Schlangen sind

- A) laut
- B) groß
- C) schwach
- D) leise

6. Gegenteil von groß ist


- A) schwach
- B) klein
- C) leicht
- D) laut

7. Ich oft an dich.

- A) winke
- B) denke
- C) benutze
- D) mache

2. OTURUM


8.



Der Löwe ist der Giraffe und dem Elefanten.

- A) auf
- B) hinter
- C) zwischen
- D) über

9.



Das sind

- A) Geigen
- B) Gitarre
- C) Geige
- D) Gitarren

10. Klara hat ein-... blau-... Hose und eine Jacke mit Weiß... Streifen an.

- A) -e / - / -en
- B) -en / -e / -em
- C) -e / -e / -en
- D) - / -es / -e

11. Menschen können glücklich werden, sie gesund sind.

- A) wenn
- B) dann
- C) aber
- D) dass

12. Er sagt, er immer aktiv ist und Sport treibt.

- A) dass
- B) weil
- C) wenn
- D) aber

13. Wir haben um einen Arbeitsplatz beworben.

- A) sich
- B) uns
- C) mich
- D) dich

14. Ich laufe jeden Morgen im Park, das Laufen mir gut tut.

- A) dass
- B) um ... zu
- C) weil
- D) aber

15. A: lebt Gerd?

B: Er lebt Deutschland.

- A) Wo / in
- B) Was / aus
- C) Woher / auf
- D) Wie / in

16.



A: Wo ist das Krokodil?

B: Wasser.

- A) Im
- B) Auf dem
- C) Hinter dem
- D) Über dem

17. A: machst du Musik?

B: Mit zwei Holzläffeln und einer Flöte.

- A) Wie
- B) Wo
- C) Was
- D) Womit

18. A: Musikinstrument würdest du gern spielen?

B: Ich würde gern spielen.



- A) Was / Trompete
- B) Welches / Saxophon
- C) Womit / Trompete
- D) Wann / Klarinette

2. OTURUM

19.



Was hat er?

- A) Halsschmerzen
- B) Ohrenschmerzen
- C) Zahnschmerzen
- D) Bauchschmerzen

20.



Was bedeutet "der Finger auf dem Mund"?

- A) überlegen
- B) warnen
- C) leise sein
- D) sich verabschieden

(527) SEÇ. Y. DİL FRAN. – 7

1 - 20. sorularda boş bırakılan yere uygun gelen kelime ya da ifadeyi işaretleyiniz.

1. Nous voudrions
pourquoi.

- A) savons
- B) savez
- C) savoir
- D) sais

2. Si vous le temps ce
soir, on pourra aller au cinéma.

- A) aurez
- B) avez
- C) avez eu
- D) aviez

3. Sabine et Katty : Nous partons
demain pour Paris.

Elles disent qu'..... partent
demain pour Paris.

- A) ils
- B) vous
- C) nous
- D) elles

4. Les conducteurs doivent être
très

- A) prudent
- B) prudente
- C) prudentes
- D) prudents

5. ce travail à temps!

- A) Fini
- B) Finis
- C) Finissent
- D) Finissant

6. C'est elle qui beaucoup
la glace.

- A) aime
- B) aimes
- C) aiment
- D) aimer

7. On construit nouvel
immeuble dans notre quartier.

- A) des
- B) un
- C) une
- D) les

8. J'ai un paquet sur mon
lit.

- A) remarqué
- B) remarque
- C) remarques
- D) remarquez

9. Le portable est un appareil
..... fait la vie plus facile.

- A) que
- B) quel
- C) quoi
- D) qui

10. l'été et il faisait chaud.

- A) C'est
- B) C'était
- C) Il y a
- D) Il y avait

11. Elle a un pantalon et
des chaussures vertes.

- A) vert
- B) verte
- C) vertes
- D) verts

12. Ma sœur range livres et
les cahiers.

- A) le
- B) la
- C) les
- D) l'

13. Qu'est-ce que Martin le
week-end prochain?

- A) a fait
- B) faisait
- C) fera
- D) faire

14. Mon grand-père lit son
journal.

- A) silencieux
- B) silencieusement
- C) silencieuse
- D) silencieuses

15. Tes amies sont à quelle
heure?

- A) parti
- B) partis
- C) partie
- D) parties

2. OTURUM

16. A: coûte ce tee-shirt?
B: 18 euros.

- A) Comment B) Pourquoi
C) Combien D) Quand

17. A: Est-ce que vous écoutez la musique classique?
B: Oui, nous écoutons tous les soirs.

- A) le B) des C) les D) l'

18. A: Tu caches quelque chose?
B:

- A) J'en ai marre
B) Olé
C) Rien
D) Chouette

19. A: Une de ces filles veut écrire un article pour le journal.
B:

- A) Laquelle B) Lequel
C) Lesquelles D) Lesquels

20. A: Tu écris à tes amis souvent?
B: Oui, je écris de temps en temps.

- A) lui B) leur
C) des D) en

(531) HZ. MUHAMMED'İN HAY. – 1

1. Aşağıdaki olaylardan hangisinde Hz. Muhammed yer almıştır?

- A) Bi'rîmaûne Olayı
B) Habeşistan'a Hicret
C) Ficar Savaşları
D) Fil Olayı

2. İslam tarihinde "İfk olayı" ne anlama gelmektedir?

- A) Peygamberimizin İslamı öğretmek için Necid bölgesine gönderdiği öğretmenlerin öldürülmesi
B) Münafıkların Müreysi Savaşı'ndan dönerken Hz. Ayşe'ye iftira etmesi
C) Bir ağacın altında Müslümanların herşeye rağmen Peygamberimizi koruyacaklarına söz vermesi
D) Müslümanların müşrikler tarafından üç yıl muhasaraya alınması

3. Habeşistan'a ikinci defa hicret eden kafilenin başında kim bulunuyordu?

- A) Hz. Ali
B) Hz. Ebu Bekir
C) Hz. Ömer
D) Cafer b. Ebi Talip

4. I. Akabe Biati'nda Peygamberimize Medineli kaç Müslüman biat etmiştir?

- A) 6 B) 12
C) 24 D) 40

5. Aşağıdaki olayların hangisi Hz. Muhammed'in doğduğu yıl gerçekleşmemiştir?

- A) Fil Olayı
B) Hz. Muhammed'in babasının vefatı
C) Hz. Muhammed'in annesinin vefatı
D) Hz. Muhammed'in süt anneye verilmesi

6. I- Hz. Hamza ve Hz. Ömer'in müslüman olmaları
II- İsrâ ve miraç olayı
III- Hz. Hatice ve Ebu Talip'in vefatı

Bu olayların kronolojik sıralaması hangi şıkta doğru verilmiştir?

- A) II - I - III B) III - I - II
C) I - II - III D) I - III - II

7. Aşağıdaki olaylardan hangisi hicretten sonra gerçekleşmiştir?

- A) Taif yolculuğu
B) II. Akabe Biati
C) Oruç ibadetinin farz kılınması
D) Erdemliler Sözleşmesinin (Hilf'ul - Fudû'l) yapılması

8. Uhud Savaşı'ndan sonra Müşriklerin, Medineli Müslümanlar tarafından tekrar geri dönüp Medine'ye saldırma-maları için takip edildiği savaş aşağıdakilerden hangisidir?

- A) Sevik Savaşı
B) Hendek Savaşı
C) Hamrâülesed Savaşı
D) Beni Müstalik Savaşı

9. Aşağıdaki olaylardan hangisi diğerlerine göre daha sonra gerçekleşmiştir?

- A) Veda Haccı
B) Rıdvan Biati
C) Tebük seferi
D) Hayber savaşı

10. Sahabeden biri anlatıyor: Ben dağınık bir kıyafetle Peygamberimizi ziyarete gitmiştim. Efendimiz; "Malın mülkün var mı?" diye sordu. Ben de "Allah bana bir çok mal ihsan etmiştir." dedim. Bunun üzerine Peygamber efendimiz şöyle buyurdu:

Peygamberimizin bu sahabiye verdiği cevap aşağıdakilerden hangisidir?

- A) Allah sana cömert olmayı nasip etsin
B) Allah sana daha çok mal ihsan etsin
C) Allah sana ancak hesabını verebileceğin kadar mal nasip etsin
D) Allah'ın sana verdiği malın eseri üzerinde görünsün

2. OTURUM

11. “(Ey Muhammed!) Rabb’inin yoluna, hikmetle güzel öğütle çağır ve onlarla en güzel şekilde mücadele et ...”

(Nahl suresi, 125. ayet)

Bu ayette aşağıdakilerden hangisine değinilmemiştir?

- A) Güzel söz söylemenin insanlar üzerindeki etkisi
- B) İnsanları İslam’a davette ısrarcı olmanın gereği
- C) Güzel söz söylemenin tebliğdeki önemi
- D) İnsanlarla mücadele etmenin yöntemi

12. Peygamberlerimizin “hakki inkâr ve insanları tahkir (aşağılamak)” olarak ifade ettiği kavram aşağıdakilerden hangisidir?

- A) Gıybet
- B) Haset
- C) Kibir
- D) Cehalet

13. “Elbisenizi yıkayınız. Saçlarınızı düzeltiniz. Dişlerinizi fırçalayınız. Temiz olmaya çalışınız ...”

(Hadis-i Şerif)

Peygamberimizin bu hadisinde dikkat çektiği husus aşağıdakilerden hangisidir?

- A) Manevi temizlik
- B) Çevre temizliği
- C) Kişisel bakım
- D) İş disiplini

14. Aşağıdakilerden hangisi Peygamberimizin bütün peygamberlerin sünnetlerinden olduğunu söylediği dört şeyden biri değildir?

- A) Örf ve adetleri korumak
- B) Güzel koku sürmek
- C) Dişleri temizlemek
- D) Utanmak

15. Sözlükte temiz olmak, ar, namus gibi anlamlara gelen, terim olarak ise, Allah’ın yasakladığı şeylerden nefsi alıkoymak anlamına gelen kavram aşağıdakilerden hangisidir?

- A) İbadet
- B) Ahlak
- C) İnfak
- D) İffet

16. “(Sadakalar) kendilerini Allah yoluna adayan, yeryüzünde do-laşmaya güç yetiremeyen fakirler içindir. İffetlerinden dolayı (dilenmedikleri için), bilmeyen onları zengin sanır. Sen onları yüzlerinden tanırsın. İnsanlardan arsızca (bir şey) istemezler. ...”

(Bakara suresi, 273. ayet)

Bu ayette övülen davranış aşağıdakilerden hangisidir?

- A) İhtiyacı olduğu halde dilenmemek
- B) İffetli olup namusunu korumak
- C) Zengin olmak için çalışmak
- D) Doğru ve dürüst olmak

17. Müminin, Allah’ın daima kendisini görüp gözettiği bilinciyle yaşamasına ne denir?

- A) İnanç
- B) İhsan
- C) İffet
- D) İnyet

18. “Kim başkalarına muhtaç olmak istemezse Allah o kimseyi başkalarına muhtaç etmez. İffetli kalmak isteyen de Allah iffetli kılar. Kim ihtiyacına yetecek biçimde bir yaşantı isterse Allah da onu kimseye muhtaç etmez. Kırk dirhemi olduğu hâlde kim dilenirse o ihtiyacı olmadığı halde dilenmiş olur”

(Hadis-i Şerif)

Bu hadiste aşağıdakilerden hangisine değinilmemiştir?

- A) Kanatkarlık
- B) İffetli olmak
- C) Dilenmemek
- D) Cömertlik

19. Aşağıdaki davranışlardan hangisi ihsan şuuruna ulaşmış bir kişide bulunmaz?

- A) Davranışlarında Allah’ın rızasını gözetmek
- B) Bütün söz ve işlerinde duyarlı davranmak
- C) İşlerini insanların beğenisine göre yapmak
- D) İşleri sorumluluk bilinciyle en güzel şekilde yapmak

20. “İnsanlar bize iyi davranırsa onlara iyilik yaparız, şayet kötü davranırsa onlara kötülük yaparız diyen kimselerden olmayın. Kendinizi, insanlar iyi davranırsa onlara iyilikle mukabele etmeye, şayet kötülük yaparlarsa onlara aynıyla karşılık vermemeğe alıştırın.”

(Hadis-i Şerif)

Bu hadiste verilen mesaja en yakın anlamı içeren atasözü aşağıdakilerden hangisidir?

- A) İyiliğe iyilik her kişinin kârıdır, kötülüğe iyilik er kişinin kârıdır.
- B) İyilik yap denize at, balık bilmezse halık bilir.
- C) Hayır dile komşuna, hayır gele başına.
- D) Mermer iyi taştan, iyilik iki baştan.

2. OTURUM

(612) KARŞ. DİN. TAR. – 2

1. Yahudilik, Hristiyanlık ve İslam dininin ortak inancı aşağıdakilerden hangisidir?

- A) Hz. Adem'in peygamberliği
- B) Hz. İsa'nın peygamberliği
- C) Allah inancının içeriği
- D) İrka dayalı din anlayışının reddedilmesi

2. Aşağıdaki dinlerden hangisi monoteist (tek tanrılı) inanç sistemi içinde kabul edilir?

- A) Caynizm
- B) Sihizm
- C) Şintoizm
- D) Hinduizm

3. Hz. Musa ile ilgili olarak aşağıdakilerden hangisi söylenemez?

- A) Hz. Musa MÖ. 1250'li yıllarda yaşamıştır.
- B) Firavun'un sarayında öz annesi tarafından emzirilmiştir.
- C) Hz. Şuayb'in kızlarından biriyle evlenmiştir.
- D) Hz. Yahya kendisine yardımcı olarak verilmiştir.

4. Günümüz Hristiyanlığının şekillenmesinde etkili olan şahıs aşağıdakilerden hangisidir?

- A) Petrus
- B) Andreas
- C) Pavlus
- D) Tomas

5. Ahiret inancı aşağıdaki dinlerden hangisinde vardır?

- A) Hinduizm
- B) Hristiyanlık
- C) Şintoizm
- D) Konfüçyanizm

6. Aşağıdakilerden hangisi bir din kurucusu değildir?

- A) Buda
- B) Nanak
- C) Mahavira
- D) Kşatriya

7. Aşağıdakilerden hangisi Hz. İsa ile ilgili Hristiyanların düşüncesi değildir?

- A) Babasız olarak Meryem'den doğmuştur.
- B) Allah Ona tanrılık vermiştir.
- C) Hz. İsa teslisin ilk unsurudur.
- D) İncil yazarları vahyi Hz. İsa'dan almıştır.

8. • 15 yaşında kendimi öğrenmeye verdim.
• 30 yaşında irademe sahip olabildim.
• 40 yaşında şüphelerden uzaklaştım.
• 50 yaşında göğün emrini öğrendim.
• 60 yaşında sezgi yoluyla herşeyi kavradım.
• 70 yaşında doğru olan şeylere zarar vermeden kalbimin isteklerini yerine getirebildim.

Bu sözlerin sahibi Çinli filozof ve din kurucusu kimdir?

- A) Konfüçyüs
- B) Zerdüş
- C) Lao-Tzu
- D) Parsva

9. Aşağıdaki dinler ve beledikleri kurtarıcı eşleştirmelerinden hangisi yanlıştır?

- A) Hinduizm → Kalki
- B) Budizm → Maitreya
- C) Yahudilik → Mesih
- D) Hristiyanlık → Saoşyant

10. "Beş Klasik" ve "Dört Kitap" adlı metinler aşağıdaki dinlerden hangisine aittir?

- A) Konfüçyanizm
- B) Zerdüştlük
- C) Şamanizm
- D) Şintoizm

11. Aşağıdaki kandillerden hangisi Hz. Muhammed'in hayat hikayesiyle doğrudan ilişkili değildir?

- A) Miraç
- B) Berat
- C) Mevlit
- D) Kadir Gecesi

12. Kur'an-ı Kerim'i anlama ve yorumlamada aşağıdaki ilimlerden hangisinin en az katkısı vardır?

- A) Tefsir
- B) Hadis
- C) Fıkıh
- D) Tecvit

13. Aşağıdaki dinlerin hangisinde hac mekanları tek merkezde toplanmıştır?

- A) Hristiyanlık
- B) Hinduizm
- C) İslamiyet
- D) Budizm

14. Fısıh, Şavuot ve Sukkot bayramları aşağıdaki dinlerden hangisine aittir?

- A) Yahudilik
- B) Zerdüştlük
- C) Konfüçyanizm
- D) Hristiyanlık

15. Aşağıdakilerden hangisi Yahudilere ait bir mabettir?

- A) Kilise
- B) Sinagog
- C) Şapel
- D) Katedral

16. Tevrat, İncil ve Kur'an-ı Kerim ile ilgili olarak aşağıdakilerden hangisi ortak özellik değildir?

- A) Vahye dayalı kitaplardır.
- B) Peygamberlerinden sonra kitap haline getirilmişlerdir.
- C) Ahiret inancı ortak konulardandır.
- D) Peygamberlerinin fikirlerinden oluşmaktadır.

17. Kurban ile ilgili olarak aşağıdakilerden hangisi yanlıştır?

- A) İslam'da belli hayvanlar kurban edilir.
- B) Hristiyanlarda kurban Hz. İsa'nın çarmih olayıyla iptal edilmiştir.
- C) Zerdüştlük canlı hayvan kurbanını teşvik etmiştir.
- D) Mabetlerinin yıkılmasından sonra Yahudiler kurban ibadetini askıya almışlardır.

2. OTURUM

(614) SEÇ. DİL ve ANLA. – 4

18. Yahova şahitleri hakkında aşağıdakilerden hangisi yanlıştır?

- A) Kendilerini ayrı bir din olarak görürler.
- B) Hz. Muhammed'i peygamber olarak kabul ederler.
- C) Vatan, millet ve bayrak gibi kavramlara karşıdırlar.
- D) Kan bağışını ve organ naklini kabul etmezler.

19. • Et yemezler, kahve, çay, sigara ve içki içmezler.
• Cumartesi gününü dinlenme günü kabul eden Hristiyanlardandır.
• Türklerin İsa Mesih'in ikinci gelişini engellediğine inanırlar.

Hakkında bilgi verilen Hristiyan grup aşağıdakilerden hangisidir?

- A) Adventisler
- B) Baptistler
- C) Yahova şahitleri
- D) Mesih inanlıları

20. Aşağıdaki cümlelerden hangisi diğerlerinden anlamca farklıdır?

- A) "İnsanların sana nasıl davranmasını istiyorsan sen de onlara öyle davran"
(Hristiyanlık)
- B) "Bir kimse kendisi için istediğini kardeşi için de istemedikçe gerçek mümin olamaz."
(İslam)
- C) "İyi insan diğerlerinin kazancını kendi kazancı, kaybını da kendi kaybı olarak görür."
(Taoizm)
- D) "Yaşamdan zevk almak isteyen, dilini, kötülükten dudaklarını yalandan uzak tutsun."
(İncil)

1. Öyküleyici anlatımın unsurlarından olan "kişiler" ile ilgili aşağıdakilerden hangisi yanlıştır?

- A) Gerçeğe uygun olmalıdır.
- B) En ince ayrıntılarına kadar anlatılmamalıdır.
- C) Olay genellikle kişilerin başından geçer.
- D) Gerektiğinde karşılıklı konuşulur.

2. Aşağıdaki birleşik isimlerden hangisi anlam kayması yoluyla oluşmamıştır?

- A) Hanımeli
- B) Adamotu
- C) Yerelması
- D) Kahvaltı

3. Betimleyici anlatımla ilgili aşağıdakilerden hangisi yanlıştır?

- A) Roman, öykü gibi sanatsal türlerde görülmez.
- B) Kelimelerle resim yapma sanatıdır.
- C) Görme, koklama, işitme, dokunma, tatma duyularına yer verilir.
- D) Anlatıcının amacına göre izlenimsel ve açıklayıcıdır.

4. Aşağıdaki tamlamaların hangisinde türemiş sıfat kullanılmıştır?

- A) Acı biber
- B) Tertemiz defter
- C) Yıllık izin
- D) Birtakım insanlar

5. Aşağıdakilerden hangisi lirik anlatımın özelliklerinden değildir?

- A) Düşünceler ön plandadır.
- B) Dil, heyecana bağlı işlevi ile kullanılır.
- C) Şiir, roman, hikâye türlerinde kullanılır.
- D) Sözcükler mecaz ve yan anlamları ile ön plandadır.

6. Aşağıdaki cümlelerin hangisinde belgisiz zamir vardır?

- A) Okuldan sonra nereye gideceksiniz?
- B) Bunu ona anlatmanın zamanı gelmiştir.
- C) Ben duyduklarıma inanamadım.
- D) Her biri başka yerlere okumaya gitti.

7. Aşağıdakilerden hangisi yapma destan değildir?

- A) İlahi Komedyası
- B) Danişmendname
- C) Kurtarılmış Kudüs
- D) Şehname

8. Aşağıdakilerden hangisi emredici anlatımın özelliklerinden değildir?

- A) Öğretici ve açıklayıcı yönleri vardır.
- B) Dil, alıcılığı harekete geçirme işleviyle kullanılır.
- C) Sanatlı bir dil kullanılır.
- D) Sosyal hayatın düzenlenmesinde kullanılır.

9. Aşağıdaki cümlelerden hangisinin yüklemi rivayet bileşik zamanla çekimlenmiştir?

- A) Sen gelene kadar temizliği bitirecekmış.
- B) Bize daha önce Fatma da gelmişti.
- C) Gelirken yiyecek bir şey de alırsan...
- D) Anlatacak çok şey birikmişti.

10. Aşağıdaki cümlelerin hangisinde kullanılan fiilimsi diğerlerinden farklıdır?

- A) Köye yaklaştıkça yolun kenarlarındaki ağaçların cinsi değişti.
- B) Onlar hiç dinlenmeden muhtarını da alarak köy meydanına gittiler.
- C) Kapıdan girince sağ tarafta bir sandık, onun biraz ötesinde konsol vardı.
- D) Bu kızcağız, kendisini basit, küçük görmemekte haklıydı.

2. OTURUM

11. Aşağıdaki cümlelerin hangisinin yüklemi yeterlilik kipiyle çekimlenmiştir?

- A) Bu efsane yıllardır anlatılagelir.
- B) Sen dinleyedur, ben mutfağa gidiyorum.
- C) Sabah sabah iki saat koşmamam.
- D) Ayşe gelene kadar efsane bitiverdi.

12. Aşağıdakilerden hangisi Türk edebiyatındaki öğretici eserlerden değildir?

- A) Ahmediye
- B) Destan
- C) Mesnevi
- D) Muhammediye

13. Bir yargıyı, bir düşünceyi ya da öneriyi çürütme, değiştirme amacıyla yazılan yazılardır. Birbirine karşıt iki düşünce ele alınacağı gibi bir düşüncenin iki yönü de işlenebilir.

Bu parçada hangi anlatım biçimi hakkında bilgi verilmektedir?

- A) Açıklayıcı anlatım
- B) Tartışmacı anlatım
- C) Kanıtlayıcı anlatım
- D) Öyküleyici anlatım

14. "Küçük çocuk, sürüye gelen kurda cesurca yaklaştı." cümlesindeki altı çizili zarfın türü nedir?

- A) Durum
- B) Zaman
- C) Yer yön
- D) Nicelik

15. Aşağıdakilerden hangisi düşsel metinlerin özelliklerinden değildir?

- A) Zaman belirli ya da belirsizdir.
- B) Konu hayal ürünüdür, fantastiktir.
- C) Mekân gerçekten uzaktır.
- D) Günlük yaşama ait unsurlar konu olur.

16. Aşağıdaki yazarlardan hangisi bilim kurgu dalında eser vermemiştir?

- A) Jules Verne
- B) Charles Dickens
- C) H. G. Wells
- D) Aldous Huxley

17. Aşağıdaki cümlelerin hangisinde "yalnız" sözcüğü edat görevindedir?

- A) Evde kalacaksın ama yalnız.
- B) Yalnız insan olacaksın evde kalırsan.
- C) Yalnız sen kalacaksın evde.
- D) Sen evde yalnız kalacaksın.

18. Aşağıdaki cümlelerin hangisinde bağlaç, neden-sonuç ilgisi kurmuştur?

- A) Yeter ki sen ikinci bir dil öğren.
- B) Çok yorulmuş ki erkenden uyudu.
- C) Meğerki arkamdan konuşanların başında geliyormuş.
- D) Oysaki ben tüm söylediklerine inanmıştım.

19. Aşağıdakilerden hangisi söyleşmeye bağlı anlatımın kullanıldığı metin türlerinden değildir?

- A) Deneme
- B) Mülakat
- C) Röportaj
- D) Tiyatro

20. Ciddi bir tavırla söylendiği hâlde alay olduğu belli olan ince, hoş nükteye ne denir?

- A) Karikatür
- B) Parodi
- C) İroni
- D) Humor

(625) SEÇ. TÜRK EDEB. – 5

1. Aşağıdaki yazar - eser eşleştirmelerinden hangisi doğrudur?

- A) Zavallı Çocuk - Namık Kemal
- B) Ateşpare - Ziya Paşa
- C) Macera - Yı Aşk - Şinasi
- D) Afife Anjelik - Sami Paşazade Sezai

2. Aşağıdakilerden hangisi edebiyatımızdaki ilk realist roman olarak kabul edilir?

- A) Cezmi
- B) Şipsevdi
- C) Araba Sevdası
- D) Zavallı Çocuk

3. Terkil-i bentlerde, bentlerin her birine ne ad verilir?

- A) Beyit
- B) Vasıta
- C) Nakarat
- D) Terkiphane

4. Tanzimat edebiyatının ilklerinden biri olan Tercüman-ı Ahval Mukaddimesi adlı eserin türü aşağıdakilerden hangisidir?

- A) Makale
- B) Hikâye
- C) Roman
- D) Tiyatro

5. Aşağıdakilerden hangisi Tanzimat edebiyatı için söylenemez?

- A) Hazırlık Dönemi 1839 - 1860 yılları arasındır.
- B) Dönemin en önemli özelliği eski - yeni karşılaşmasıdır.
- C) Yapılan yenilikler ve sanat görüşleri yönünden dört dönemde incelenebilir.
- D) Tercüman-ı Ahval adlı gazetenin çıkmasıyla Tanzimat Edebiyatı Dönemi başlamıştır.

6. Aşağıdakilerden hangisi Tanzimat edebiyatının ikinci dönem sanatçılarından biri değildir?

- A) Şemsettin Sami
- B) Yusuf Kâmil Paşa
- C) Rezaizade Mahmut Ekrem
- D) Abdülhak Hamit Tarhan

2. OTURUM

7. Aşağıdaki eserlerden hangisi Tanzimat edebiyatında ilk oynanan tiyatrodur?
- A) Eşber
B) Macera-yı Aşk
C) Afife Anjelik
D) Vatan yahut Silistre
8. Tanzimat edebiyatı tiyatrosunda komedilerde tercih edilen akım aşağıdakilerden hangisidir?
- A) Klasisizm B) Realizm
C) Romantizm D) Natüralizm
9. Türk edebiyatında ilk mizahi gazete aşağıdakilerden hangisidir?
- A) İntibah
B) Diyojen
C) Afife Anjelik
D) Şair Evlenmesi
10. İlk resmî gazete aşağıdakilerden hangisidir?
- A) Tercüman-ı Ahval
B) Ceride-i Havadis
C) Takvim-i Vekayi
D) Tasvir-i Efkâr
11. Tanzimat döneminin önemli isimlerindendir. Şiir ve tiyatro alanında eserler verdi. Şiirlerinde aşk, tabiat, ölüm, ümit, feryat; tiyatrolarında Asur, Arap, Türk - Moğol, Yunan - Makedon konularını işledi. Eşinin ölümü üzerine duyduğu üzüntüyü "Makber"de dile getirmiştir.
- Bu parçada sözü edilen yazar, aşağıdakilerden hangisidir?
- A) Abdülhak Hamit Tarhan
B) Ahmet Haşim
C) Rezaizade Mahmut Ekrem
D) Sami Paşazade Sezai
12. Aşağıdakilerden hangisi Abdülhak Hamit Tarhan'ın eserlerinden değildir?
- A) Ölü B) Makber
C) İçli Kız D) Zavallı Çocuk
13. Tanzimat edebiyatı, siyasi ve toplumsal Batılılaşma isteklerinin edebiyata yansımadır. Osmanlı Türk toplumu, birçok Batılı kültür aracı ile bu dönemde tanışmıştır. Aşağıdakilerden hangisi bu dönemde edebiyatımızda görülen ilklerden değildir?
- A) İlk özel Türkçe gazetenin çıkarılması
B) Batılı anlamda ilk tiyatronun yazılması
C) Serbest nazımın kullanılması
D) İlk edebî romanın yazılması
14. Halk şiirinde "ağıt", İslamiyet öncesi Türk edebiyatında "sagu" olarak adlandırılan şiirlerin Divan edebiyatındaki adı aşağıdakilerden hangisidir?
- A) Mersiye B) Mesnevi
C) Koşuk D) Rûbai
15. Aşağıdakilerden hangisi tür olarak farklıdır?
- A) Şair Evlenmesi
B) Vatan yahut Silistre
C) İçli Kız
D) Sergüzeşt
16. Aşağıdakilerden hangisi "Şair Evlenmesi" adlı eser için yanlıştır?
- A) Şinasi tarafından yazılmıştır.
B) İlk tiyatro eserimizdir.
C) Servet-i Fünun Dönemi'ne aittir.
D) Komedi tarzında bir eserdir.
17. Tanzimat edebiyatının "vatan şairi" olarak tanınan ismidir. Eserlerinde vatan, millet, hürriyet, hak, adalet, baskı vb. gibi kavramları işledi. Vatan yahut Silistre oyununun oynanması üzerine Magosa'ya sürüldü. Tanıtılan edebiyatçı aşağıdakilerden hangisidir?
- A) Namık Kemal
B) Ziya Paşa
C) Şinasi
D) Şemsettin Sami
18. Tanzimat Fermanı'nın diğer adı nedir?
- A) Gülhane Fermanı
B) Gülhane Hattı
C) Gülhane Hümâyûnu
D) Gülhane Hattı Humâyûnu
19. Aşağıdakilerden hangisi Rezaizade Mahmut Ekrem için söylenemez?
- A) Yaşadığı dönemde "usta" olarak tanındı.
B) Eserlerinde bütünüyle toplumsal konuları işledi.
C) Edebiyatımızdaki ilk realist roman Araba Sevdası, onun eseridir.
D) Batı yanlısı gençleri Servet-i Fünun dergisi etrafında topladı.
20. Aşağıdaki yargılardan hangisi edebiyatla ilgili olarak yanlıştır?
- A) Edebiyat, dolayısıyla da edebî eser insanı anlatır.
B) Edebiyat, içinde bulunduğu toplumun sosyal ve siyasi yapısından etkilenmez.
C) Edebiyat psikoloji, sosyoloji, tarih, felsefe gibi bilim dallarıyla yakın ilişkiindedir.
D) Edebiyatla, içinde vücut bulduğu kültür arasında sıkı bir bağ vardır.

2. OTURUM

(712) İSLAM TARİHİ – 2

1. Türklerle Araplar, askerî anlamda tarihte ilk defa, aşağıdaki hangi dönemde karşılaşmışlardır?

- A) Cahiliye Dönemi
- B) Emeviler Dönemi
- C) Abbasiler Dönemi
- D) Dört Halife Dönemi

2. Hz. Muhammed'e elçilik görevinin verildiği dönemde Orta Asya'da hüküm süren Türk devleti, aşağıdakilerden hangisidir?

- A) Uygur
- B) Hazar
- C) Göktürk
- D) Asya Hun

3. Nihavent ve Talas savaşlarının ortak özelliği, aşağıdakilerden hangisidir?

- A) Türklerin, Balkanlardaki ilerlemelerini kolaylaştırmaları
- B) İslam ordularıyla Haçlılar arasında yapılmaları
- C) Sasani Devleti'nin yıkılmasına neden olmaları
- D) Türk - Arap ilişkilerine olanak sağlamaları

4. Müslüman ülkelerde orta ve yükseköğretimin yapıldığı eğitim kurumlarının genel adı, aşağıdakilerden hangisidir?

- A) Vakıf
- B) Medrese
- C) Nizamiye
- D) Rasathane

5. Aşağıdakilerden hangisi, Türklerin İslam dünyasındaki faaliyetlerinden biri değildir?

- A) Abbasi halifeliğini korumaları
- B) Haçlı Seferleri'ne karşı koymaları
- C) Mezhep savaşlarına son vermeleri
- D) Anadolu'yu Türkleştirip, İslamlaştırmaları

6. Orta Çağ'ın en büyük siyasi ve askerî olaylarından olan Haçlı Seferleri'ne "Haçlı" adının verilmesinin nedeni, aşağıdakilerden hangisidir?

- A) Askerlerinin çoğunun erkek olması
- B) Ordunun hareket noktasının Avrupa kıtası olması
- C) Askerlerin giysilerinin üzerinde haç işareti taşımaları
- D) Ordunun savaş malzemelerinin Batılı ülkelere karşılanması

7. Aşağıdakilerden hangisi, Türklerin İslamiyet'i benimsemelerinin sebeplerinden biri olamaz?

- A) Ahiret anlayışının var olması
- B) Tek tanrı inancının bulunması
- C) Ahlaki değer yargılarının örtüşmesi
- D) Yönetimde dinî kuralların etkili olması

8. "Endülüs'teki Müslümanların, Osmanlı Devleti'nden yardım istemesi üzerine Sultan II. Bayezid, Kemal Reis'i İspanya'ya göndermiştir. Kemal Reis 1492'de İspanya'daki MüslümanlarıI.....'ya, Yahudileri deII..... veIII..... şehirlerine getirerek yerleştirmiştir."

Verilen bilgi cümlesinde numaralandırılarak boş bırakılan yerlere gelmesi gereken doğru ifadeler, aşağıdakilerin hangisinde birlikte verilmiştir?

	I	II	III
A)	Kuzey Afrika	Selanik	İstanbul
B)	Romanya	Selanik	Sofya
C)	Avusturya	Ankara	Sivas
D)	İtalya	Trabzon	İstanbul

9. İslam kültüründe "Mekke" ve "Medine" şehirleri için, aşağıdaki isimlerden hangisi kullanılır?

- A) Muhkem
- B) Harameyn
- C) Mükerrrem
- D) Ravza-i Mutahhara

10. • Yıldırım Bayezit devri âlimlerindedir.
• Aslen Aydınli olan âlim, Hanefî mezhebi fıkıh bilginlerindedir.
• Doktorların çare bulmakta âciz kaldığı bir hastalığa yakalanınca tıp tahsiline başlamış ve kısa zamanda döneminin en ünlü doktorlarından biri olmuştur.
• Kahire Hastanesinin baştabibi olan bilim adamı, ilaçlar ve hastalıklar üzerine ihtisasını iletmiştir. Daha sonra memleketine dönerek Aydınogulları beylerinden İsa Bey'in teveccühüne mazhar olmuştur.
• İsa Bey için "Şifâ-ül-eskâm ve devâ-ül-elâm" adlı eserini, Türkçe olarak da "Teshil" adlı muhtasar bir tıp kitabı yazmıştır.

Hakkında bilgi verilen bilim insanı, aşağıdakilerden hangisidir?

- A) Hacı Paşa
- B) Ali Kuşçu
- C) Emir Çelebi
- D) İsmail Gelenbevi

11. Sözlükte "yün ve aba giyen", tasavvufta ise; "gönlü saf kişi, eren, ermiş, nefinden fani, Hak ile baki" anlamlarına gelen kavram, aşağıdakilerden hangisidir?

- A) Musikişinas
- B) Zimmî
- C) Ümmî
- D) Sufi

12. Mostar şehrinden geçen Neretva Nehri üzerinde Mimar Sinan'ın öğrencisi Mimar Hayreddin tarafından 1566 yılında inşa edilen Mostar Köprüsü, günümüzde aşağıdaki ülkelerin hangisinde bulunmaktadır?

- A) Bulgaristan
- B) Arnavutluk
- C) Bosna-Hersek
- D) Romanya

2. OTURUM

13. Karahanlılar Devleti, aşağıdaki bölgelerin hangisinde kurulmuş olan ilk Müslüman Türk devletidir?

- A) Kirman B) Orta Asya
C) Balkanlar D) Mezopotamya

14. Aşağıdakilerden hangisi, ehl-i sünnet içinde yer alan inanc alanındaki mezheplerden biridir?

- A) Selefilik B) Hanefilik
C) Şafiilik D) Hanbelilik

15. Aşağıdaki Müslüman bilim insanlarından hangisi ilk kez küçük kan dolaşımını tanımlamıştır?

- A) Harezmi
B) Zehravi
C) İbnü'n-Nefis
D) Gıyasettin el-Kaşi

16. Müslümanlar, bilimler tarihindeki önderliğini, aşağıdaki yüzyılların hangisinde Batı dünyasına bırakmak zorunda kalmışlardır?

- A) 20. yy B) 19. yy
C) 18. yy D) 17. yy

17. Nizamülmülk veya tam adıyla Ebu Ali el-Hasan et-Tusi Nizamülmülk, aşağıdaki hangi Türk devletinin yaklaşık 28 yıl vezirliğini yapmıştır?

- A) Anadolu Selçuklu Devleti
B) Büyük Selçuklu Devleti
C) Karahanlı Devleti
D) Osmanlı Devleti

18. • Doğu Akdeniz'in en önemli adalarından biridir.
• Ada halkının yüzde 99'u Müslüman'dır.
• 1571 yılında Osmanlı yönetimine giren ada, 1878 yılında "Ruslara karşı yardım" vaa-diyle yıllık yaklaşık 92.000 altın karşılığında Birleşik Krallık tarafından kiralanmıştır.
• Daha sonra 1914 yılında, I. Dünya Savaşı vesilesiyle Birleşik Krallık tarafından ilhak edilmiştir.

Hakkında kısa bilgi verilen ada, aşağıdakilerden hangisidir?

- A) Kıbrıs B) Girit
C) Rodos D) Midilli

19. Dış politikamızdaki çok boyutluluğun bir gereği olarak Afrika ülkeleriyle siyasi, askerî, kültürel ve ekonomik ilişkilerimize bir ivme kazandırmak amacıyla hangi yıl "Afrika'ya Açılım Eylem Planı" oluşturulmuştur?

- A) 1990 B) 1998
C) 2002 D) 2005

20. Aşağıdaki ülkelerden hangisi, üç büyük semavi dinin kutsal kabul ettikleri bir bölgede yer almaktadır?

- A) Yemen B) Mısır
C) Filistin D) Pakistan

(812) KELAM – 2

1. Cebrail aracılığıyla peygamberlere, hayatın hangi ilkelere göre yönlendirilmesi ve nelere uyup nelerden sakınılması gerektiğini bildiren ilahî bilgidir.

Hakkında bilgi verilen kavram aşağıdakilerden hangisidir?

- A) Vahiy B) Rasul
C) Nebi D) Mucize

2. "Ey Allah'ın kulları! Bana gelin, doğrusu ben size gönderilmiş güvenilir bir elçiyim."
(Duhan suresi, 18. ayet)

Bu ayet peygamberlerin sıfatlarından hangisine işaret etmektedir?

- A) İsmet B) Fetanet
C) Sıdk D) Emanet

3. Kitab-ı Mukaddes'in bölümleri içinde aşağıdakilerden hangisi yoktur?

- A) İncil B) Tevrat
C) Suhuf D) Mezmurlar

4. Kur'an-ı Kerim ile ilgili aşağıda verilen bilgilerden hangisi yanlıştır?

- A) 610 yılında indirilmeye başlanmıştır.
B) Ayetleri Mekki ve Medeni olmak üzere ikiye ayrılır.
C) İlk inen ayetler Fatıha suresinde yer alır.
D) Hz. Osman zamanında birkaç nüsha olarak çoğatılmıştır.

5. Hz. Muhammed için kullanılan "hatemü'l - enbiya" kavramı aşağıdakilerden hangisini ifade etmektedir?

- A) Güvenilir olduğunu
B) Son peygamber olduğunu
C) Bütün insanlığa gönderildiğini
D) Bizim için en güzel örnek olduğunu

2. OTURUM

6. Aşağıdaki peygamberlerden hangisine "suhuf" verilmiştir?

- A) Hz. Adem B) Hz. Salih
C) Hz. Yusuf D) Hz. Yunus

7. "Kimlerin tartısı ağır basarsa işte asıl kurtuluşa erenler onlardır." (Müminun suresi, 102. ayet)

Bu ayet aşağıdaki kavramların hangisinden bahsetmektedir?

- A) Sür B) Mizan
C) Ba's D) Mahşer

8. Dünyada canlı - cansız ne varsa hepsinin bir yaratılış amacı vardır. Bütün varlıklar bu amaçla uygun olarak hareket eder. Kur'an'a göre insan amaçsız, başıboş değildir. Onun da bir yaratılış amacı vardır.

Aşağıdaki ayetlerden hangisi bu paragrafın ana fikrini desteklemez?

- A) "Ben insanları ve cinleri bana ibadet etsinler diye yarattım." (Zariyat suresi, 56. ayet)
B) "Biz göğü, yeri ve ikisi arasında bulunanları boşuna yaratmadık." (Sad suresi, 27. ayet)
C) "Hiçbir şeyi yaratamayan, kendileri yaratılmakta olan varlıkları mı O'na ortak koşuyorlar." (Araf suresi, 191. ayet)
D) "O, hanginizin daha güzel işler yapacağını denemek için ölümlü ve hayatı yarattı." (Mülk suresi, 2. Ayet)

9. Aşağıdakilerden hangisi cennetin isimlerinden biridir?

- A) Me'va B) Cahîm
C) Haviye D) Hutame

10. Ahirete iman eden bir kişide aşağıdakilerden hangisi görülmez?

- A) Yok olma kaygısı ortadan kalkar.
B) Sorumluluk duygusuyla hareket eder.
C) Davranışlarının karşılıksız kalmayacağını bilir.
D) Dünyadaki işlerini terk ederek ahirete çalışır.

11. "Herşeyin hazineleri yalnız bizim yanımızdadır. Biz onu ancak belli bir ölçüyle indiririz." (Hicr suresi, 21. ayet)

Bu ayet aşağıdaki kavramların hangisiyle ilişkilendirilebilir?

- A) Tevekkül B) Hüküm
C) Kader D) Rızık

12. Kaza ve kader konusu aşağıda verilen Allah'ın sıfatlarından hangisiyle daha az ilişkilidir?

- A) İlim B) Semi
C) İrade D) Kudret

13. Evrende var olan değişmeyen fiziksel, biyolojik ve toplumsal kanunları ifade eden kavram aşağıdakilerden hangisidir?

- A) Tevekkül B) Sünnetullah
C) Kaza D) Ecel

14. İnsanın iradesinin olmadığını ve kulun Allah'ın takdir ettiği fiilleri yapmak zorunda olduğunu savunan kelami düşünce aşağıdakilerden hangisidir?

- A) Cebriye B) Kaderiye
C) Mutezile D) Eş'ariye

15. Kişinin gerçekleştirmek istediği iş konusunda elinden gelen herşeyi yaptıktan sonra sonucunu Allah'tan beklemesine ne denir?

- A) Kaza B) Kader
C) Tövbe D) Tevekkül

16. Kelamcılar hayır ve şer kavramlarını aşağıdakilerden hangisiyle ifade etmişlerdir?

- A) Ru'yetullah
B) Husun - Kubuh
C) Sünnetullah
D) Va'd - Va'îd

17. Sezgi gücü ile Tanrı'ya ve eşyanın özüne ulaşabileceğini savunan akım aşağıdakilerden hangisidir?

- A) Mistizm B) Nihilizm
C) Deizm D) Agnostisizm

18. Politeizmin (çok tanrıcılık) İslam tarihindeki karşılığı aşağıdakilerden hangisidir?

- A) Hanif B) Fasık
C) Şirk D) Mürted

19. Ben sizden, "Ey İnsanlar! Şeytana kulluk etmeyin, o sizin için apaçık bir düşmandır. Bana kulluk edin. Doğru yol budur." diye söz almadım mı?" (Yasin suresi, 60 - 61. ayetler)

Kur'an bu ayetlerle, aşağıdaki inançlardan hangisi konusunda insanları uyardığı söylenebilir?

- A) Tenasüh B) Satanizm
C) Ateizm D) Pozitivizm

20. Kelam ilmi, 19. yüzyılın sonu ile 20. yüzyılın başlarında farklı bir döneme girdi. Çağın istek ve ihtiyaçlarına cevap verme zorunluluğunun bir sonucu olarak ortaya çıkan bu dönem aşağıdakilerden hangisidir?

- A) Mütakaddimun
B) Müteahhirun
C) İlmü'l - Kelam
D) Yeni İlm-i Kelam

2. OTURUM

(932) SİYER – 2

1. Aşağıdaki olaylardan hangisi diğerlerinden sonra meydana gelmiştir?

- A) Namaza çağrının ezanla yapılması
- B) Bedir Savaşı'nın yapılması
- C) Medine'de nüfus sayımının yapılması
- D) Mescid-i Nebevi'nin yapılması

2. Namaza çağrının ateş yakarak yapılması teklifi Hz. Muhammed tarafından niçin reddedilmiştir?

- A) Her zaman ateş yakmanın zorluğu
- B) Hristiyanlara ait bir adet olması
- C) Mecusilere ait bir adet olması
- D) Uyuyan kişilere faydasının olmaması

3. Mescid-i Nebevi'nin ilk kiblesi nereye doğru idi?

- A) Kudüs
- B) Yemen
- C) Mısır
- D) Habeşistan

4. Aşağıdakilerden hangisi Medine Sözleşmesi'nin sonuçları arasında yer almaz?

- A) Farklı dinlere ait kişilerin bir arada yaşaması sağlanmıştır.
- B) Müslümanların hukuki ve sosyal varlığı kabul edilmiştir.
- C) Medine'nin savunulması noktasında görüş birliğine varılmıştır.
- D) Taraflar bu antlaşmaya bağlı kalıp uzun yıllar birlik içinde yaşamışlardır.

5. Aşağıdakilerden hangisi Bedir Savaşı'nda teke tek vuruşmaya (mübareze) katılan sahabeler-dendir?

- A) Hz. Ömer
- B) Hz. Hamza
- C) Sa'd b. Ebi Vakkas
- D) Abdullah b. Cahş

6. “Eğer siz bir acıya uğradınızsa, o kavim de benzer bir acıya uğramıştır. O günleri biz insanlar arasında döndürür dururuz. *Taki Allah, iman edenleri ortaya çıkarsın ve aranızdan şahitler edinsin. Allah zalimleri sevmez”* (Al-i İmran suresi, 140. ayet)

Aşağıdakilerden hangisi bu ayetten çıkarılacak sonuçlardan değildir?

- A) İnananların çeşitli olaylarla imtihan edildiği
- B) Ayetlerde Hz. Peygamber'in hayatından işaretler olduğu
- C) Allah'ın Müslümanlara üzüntü yaşatmadığı
- D) Zaferin bazen bir topluma bazen de diğer topluma nasip olduğu

7. Hudeybiye antlaşması geçerliliğini kaç yıl sürdürmüştür?

- A) 2
- B) 4
- C) 7
- D) 10

8. Uhud Savaşı öncesi Mekkelilerin hazırlıklarını gizlice Hz. Muhammed'e bildiren kişi aşağıdakilerden hangisidir?

- A) Nuaym b. Mesud
- B) Mutim b. Adiyy
- C) Sad b. Muaz
- D) Abbas

9. – “Ahzab Gazvesi” olarak da bilinir.
– “Mekkelilerle yapılan son savunma savaşıdır.

Hakkında bilgi verilen savaş aşağıdakilerden hangisidir?

- A) Bedir
- B) Uhud
- C) Hendek
- D) Huneyn

10. Aşağıdakilerden hangisi Hudeybiye Anlaşmasından önce gerçekleşmiştir?

- A) Hayberin fethi
- B) Mekkenin fethi
- C) Huneyn savaşı
- D) Kaynuka oğullarının sürgünü

11. Aşağıdaki devlet başkanlarından hangisi Hz. Muhammed'in gönderdiği elçiyi öldürmüştür?

- A) Habeşistan kralı Necaşi
- B) Busra Valisi Şurahbil b. Amr
- C) Bizans İmparatoru Herakliyus
- D) Mısır Kralı Mukavkıs

12. Peygamberimizin Mute Savaşında komutan olarak atıldığı sahabeler arasında aşağıdakilerden hangisi yoktur?

- A) Halit b. Velid
- B) Zeyd b. Harise
- C) Cafer b. Ebi Talip
- D) Abdullah b. Revaha

13. Mute Savaşı ve Tebuk Seferi'nin ortak özelliği aşağıdakilerden hangisidir?

- A) Hz. Muhammed'in katılması
- B) Yahudilere karşı yapılması
- C) Mekke'nin fethinden sonra gerçekleşmesi
- D) Hristiyanlara karşı yapılması

14. “O, iki şey arasında tercih yapma durumunda kaldığında, günah olmadığı sürece olanı seçerdi.”

Hz. Aişe'nin Hz. Muhammed ile ilgili söylediği bu sözünde boş bırakılan yere aşağıdakilerden hangisi gelmelidir?

- A) Zor
- B) Kolay
- C) Güzel
- D) Rahat

15. Aşağıdakilerden hangisi Bedir Savaşı'nın sebepleri arasında yer almaz?

- A) Müslümanların müşrikleri Mekke'den çıkarmak istemeleri
- B) Müşriklerin müslümanlara güçlerini göstermek istemeleri
- C) Müslümanların, Mekkelilerin kervanına baskın yapma ihtimali
- D) Kervanın gelirinin müslümanlara karşı yapılacak savaş için kullanılacağı düşüncesi

2. OTURUM

16. Uhud Savaşı öncesi yapılan istişarelerde Hz. Muhammed'in görüşünün aksine müslümanlar meydan savaşı istemişler, Hz. Peygamber de bu karara katılmıştı. Daha sonra bazı sahabiler Peygamberimize gelip savunma savaşı yapılmasının daha uygun olacağını ifade ettiler. Ancak Hz. Muhammed "Bir peygamber zırhını giydikten sonra savaşmadan onu çıkarmaz." diyerek bu teklifi reddetti.

Bu olay Hz. Muhammed'in daha çok hangi özelliğini öne çıkarılmaktadır?

- A) Sabrını
B) Cesaretini
C) Kararlılığını
D) Dürüstlüğü

17. Elçiler yılı (Senetül-vufut) olarak bilinen sene aşağıdakilerden hangisidir?

- A) 625 B) 627
C) 629 D) 631

18. Hz. Muhammed ile ilgili aşağıdakilerden hangisi yanlıştır?

- A) Vefat ettiği yere defnedilmiştir.
B) Cenaze namazını Hz. Ebu Bekir kıldırılmıştır.
C) Veda haccından yaklaşık üç ay sonra vefat etmiştir.
D) Kabri Ravza-i mutahhara olarak adlandırılır.

19. "İlim müminin yitik malıdır. Onu nerede bulursa alsın." (Hadis-i Şerif)

Aşağıdakilerden hangisi bu hadiste ifade edilene uygun değildir?

- A) İlim mümin için önemlidir.
B) İlim sadece müminlerden öğrenilmelidir.
C) İlim de taassup olmaz.
D) Müslüman ilmi gelişmelere açıktır.

20. Aşağıdaki ayetlerden hangisi Hz. Muhammed'in Peygamberlik yönü ile ilgilidir?

- A) "Biz seni bütün insanlara müjdeci ve uyarıcı olarak gönderdik."
(Sebe suresi, 28. ayet)
B) "Sen de öleceksin onlar da ölecekler"
(Zümer suresi, 30. ayet)
C) "O, seni fakir bulup zengin etmedi mi?"
(Duha suresi, 8. ayet)
D) "...De ki Ben de ancak sizin gibi bir insanım..."
(Fussilet suresi, 6. ayet)

(998) MATEMATİK - 1

1. $K = \{1, 2, \{3, 4\}, 5, \{6\}, \{7, 8\}\}$ olduğuna göre, K kümesinin eleman sayısı kaçtır?

- A) 5 B) 6 C) 7 D) 8

2. Öz alt küme sayısı 15 olan bir küme kaç elemanlıdır?

- A) 2 B) 3 C) 4 D) 5

3. A ve B kümeleri için, $s(A \cup B) = 25$, $s(A) = 17$ ve $s(B) = 13$ olduğuna göre, $s(A \cap B)$ kaçtır?

- A) 5 B) 6 C) 7 D) 8

4. Almanca ve İngilizce dillerini bilenler ile bilmeyenlerden oluşan 36 kişilik bir grupta, bu iki dilin hiçbirini bilmeyen 7 kişi vardır. Bu grupta yalnız İngilizce bilen 14 kişi olduğuna göre, Almanca bilen kaç kişi vardır?

- A) 8 B) 15 C) 21 D) 28

5. $A = \{2, 3, a\}$ ve $B = \{a, b, c, d\}$ kümeleri için $s(A \times B)$ kaçtır?

- A) 7 B) 9 C) 12 D) 16

6. $(a + 2, 7) = (4, b - 1)$ olduğuna göre, $a + b$ kaçtır?

- A) 9 B) 10 C) 11 D) 12

7. Aşağıdakilerden hangisi irrasyonel bir sayıdır?

- A) $-\sqrt{25}$ B) $-\frac{4}{5}$
C) $2, \bar{3}$ D) $\sqrt{7}$

8. $2|x - 4| + 2 = 12$ denkleminin çözüm kümesi aşağıdakilerden hangisidir?

- A) $\{-1, 9\}$ B) $\{0, 8\}$
C) $\{-4, 8\}$ D) $\{5, 9\}$

9. $|3| + |-8| + |-2|$ işleminin sonucu kaçtır?

- A) -7 B) -3 C) 9 D) 13

10. $2^x = 5$ olduğuna göre, 2^{x+2} kaçtır?

- A) 10 B) 15 C) 20 D) 25

11. $(-16)^2 \cdot (-2)^{-3}$ işleminin sonucu aşağıdakilerden hangisidir?

- A) -2^5 B) -2^8
C) 2^6 D) 2^{11}

12. $\sqrt[3]{x - 2} = 3$ denkleminin çözüm kümesi aşağıdakilerden hangisidir?

- A) $\{7\}$ B) $\{11\}$
C) $\{25\}$ D) $\{29\}$

13. $\sqrt{2 + \frac{1}{4}}$ işleminin sonucu kaçtır?

- A) $\frac{3}{2}$ B) $\frac{5}{2}$ C) $\frac{7}{2}$ D) $\frac{9}{2}$

2. OTURUM

14. 36 tane ceviz 2, 3, 4 yaşlarında 3 çocuğa yaşlarıyla doğru orantılı olarak dağıtılırsa en büyük çocuk kaç ceviz alır?

A) 20 B) 18 C) 16 D) 14

15. $\begin{cases} x + 2y = 3 \\ 2x - y = 16 \end{cases}$ denklem sisteminin çözüm kümesi aşağıdakilerden hangisidir?

A) $\{(-2, -7)\}$ B) $\{(7, -2)\}$
C) $\{(-9, 2)\}$ D) $\{(3, 11)\}$

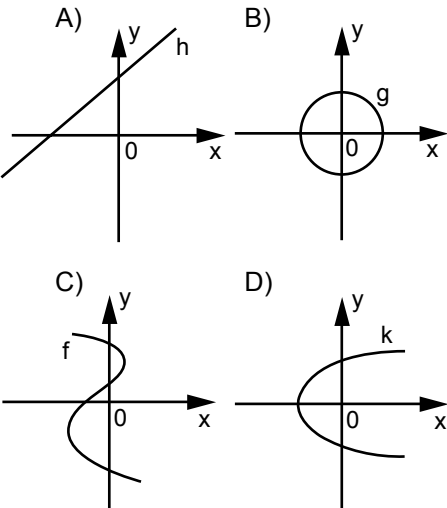
16. $3(x - 1) + 2(x + 1) = 6x - 4$ denkleminin \mathbb{R} 'deki çözüm kümesi aşağıdakilerden hangisidir?

A) $\{-4\}$ B) $\{-3\}$
C) $\{3\}$ D) $\{4\}$

17. %20'si şeker olan 40 gram şekerli suya, 40 gram şeker karıştırılırsa karışımdaki şeker yüzdesi kaç olur?

A) 50 B) 60 C) 70 D) 80

18. Aşağıdakilerden hangisi fonksiyon grafiğidir?



19. $f: \mathbb{R} \rightarrow \mathbb{R}$,

$$f(x) = (3 - a)x^2 + (b - 2)x + a + b + c$$

fonksiyonu birim fonksiyon olduğuna göre, c kaçtır?

A) 7 B) 4 C) -5 D) -6

20. $f: \mathbb{R} - \{3\} \rightarrow \mathbb{R} - \{3\}$ ve

$$f(x) = \frac{3x+1}{x-3}$$

olduğuna göre, $f(5) + f(2)$ kaçtır?

A) 7 B) 5 C) 3 D) 1

**TEST BİTTİ.
CEVAPLARINIZI KONTROL EDİNİZ.**

SINAV SÜRESİNCE UYULACAK KURALLAR

1. Adaylar, sınav kurallarına ve salon görevlilerinin tüm uyarılarına uymak zorundadırlar. Kurallara ve uyarılara uymayan adayların sınavları geçersiz sayılacaktır.
2. Sınav başladıktan sonra adayların salon görevlileri ve birbirleri ile konuşmaları, kalem, silgi vb. şeyleri istemeleri yasaktır.
3. Adaylar sınav süresince, sınav giriş belgesi ile birlikte kimlik belgelerinden birini (nüfus cüzdanı, pasaport veya sürücü belgesi) masalarının üzerinde bulundurmamak zorundadırlar.

SALON GÖREVLİLERİNCE SINAV BAŞLAMADAN ÖNCE ADAYLARA YAPILACAK SON UYARI

- Soracağınız bir şey var mı? Varsa şimdi sorunuz.
- Sınav başladıktan sonra sorularınıza cevap verilmeyecektir.
- Başlama zilini bekleyiniz.
- Hepinize başarılar dileriz.

(Salon başkanı başlama ve bitiş saatini tahtaya yazacaktır.)

Bu kitapçığın her hakkı saklıdır. Hangi amaçla olursa olsun, kitapçığın tamamının veya bir kısmının Millî Eğitim Bakanlığı Ölçme, Değerlendirme ve Sınav Hizmetleri Genel Müdürlüğünün yazılı izni olmadan kopya edilmesi, fotoğraflarının çekilmesi, bilgisayar ortamına alınması, herhangi bir yolla çoğaltılması, yayımlanması veya başka bir amaçla kullanılması yasaktır. Bu yasağa uymayanlar, doğabilecek cezai sorumluluğu ve kitapçığın hazırlanmasındaki mali külfeti peşinen kabullenmiş sayılır.

23 AĞUSTOS 2014 TARİHİNDE YAPILAN AÇIKÖĞRETİM LİSESİ / MESLEKİ AÇIKÖĞRETİM LİSESİ
2013-2014 ÖĞRETİM YILI 3. DÖNEM SINAVI 2. OTURUM T KİTAPÇIĞI CEVAP ANAHTARI

DİN KÜL.AHL.BİL. – 7	TARİH – 1	T. C. İNK. TAR. ATA. – 1	COĞRAFYA – 6
1. A	1. D	1. B	1. A
2. C	2. C	2. D	2. B
3. D	3. A	3. A	3. C
4. D	4. B	4. A	4. B
5. B	5. A	5. C	5. A
6. C	6. D	6. A	6. B
7. A	7. B	7. B	7. D
8. D	8. C	8. C	8. C
9. B	9. C	9. D	9. D
10. C	10. D	10. A	10. D
11. A	11. C	11. C	11. A
12. A	12. A	12. A	12. B
13. B	13. A	13. B	13. D
14. D	14. B	14. C	14. D
15. C	15. C	15. B	15. C
16. B	16. B	16. A	16. C
17. D	17. B	17. C	17. A
18. B	18. D	18. D	18. C
19. C	19. C	19. D	19. B
20. A	20. A	20. A	20. A

DİN KÜL.AHL.BİL. – 8	TARİH – 5	COĞRAFYA – 2	MATEMATİK – 4
1. D	1. D	1. B	1. D
2. C	2. B	2. C	2. C
3. A	3. C	3. D	3. A
4. B	4. A	4. A	4. D
5. A	5. B	5. B	5. B
6. C	6. C	6. C	6. C
7. B	7. A	7. A	7. A
8. A	8. C	8. B	8. A
9. D	9. D	9. D	9. B
10. C	10. D	10. C	10. C
11. B	11. B	11. A	11. A
12. B	12. A	12. D	12. C
13. D	13. D	13. D	13. B
14. C	14. C	14. C	14. B
15. D	15. A	15. A	15. D
16. B	16. B	16. D	16. C
17. A	17. C	17. C	17. A
18. B	18. D	18. A	18. D
19. D	19. A	19. B	19. D
20. D	20. B	20. B	20. B

23 AĞUSTOS 2014 TARİHİNDE YAPILAN AÇIKÖĞRETİM LİSESİ / MESLEKİ AÇIKÖĞRETİM LİSESİ
2013-2014 ÖĞRETİM YILI 3. DÖNEM SINAVI 2. OTURUM T KİTAPÇIĞI CEVAP ANAHTARI

İNGİLİZCE – 2

1. D
2. A
3. C
4. B
5. C
6. D
7. A
8. B
9. C
10. B
11. D
12. B
13. A
14. C
15. D
16. B
17. C
18. D
19. C
20. A

FRANSIZCA – 2

1. C
2. D
3. B
4. D
5. C
6. B
7. B
8. A
9. C
10. C
11. A
12. B
13. C
14. A
15. D
16. B
17. D
18. A
19. B
20. C

SOSYOLOJİ – 1

1. C
2. A
3. D
4. A
5. D
6. D
7. C
8. D
9. B
10. B
11. A
12. D
13. C
14. B
15. A
16. C
17. B
18. D
19. A
20. C

ALMANCA – 4

1. D
2. A
3. C
4. D
5. A
6. D
7. C
8. B
9. A
10. D
11. A
12. B
13. B
14. C
15. A
16. C
17. B
18. B
19. D
20. C

ALMANCA – 2

1. A
2. A
3. B
4. B
5. C
6. C
7. D
8. A
9. D
10. C
11. A
12. B
13. D
14. D
15. C
16. A
17. D
18. C
19. B
20. B

PSİKOLOJİ – 2

1. C
2. D
3. A
4. B
5. A
6. B
7. C
8. A
9. B
10. C
11. A
12. A
13. B
14. D
15. C
16. B
17. D
18. C
19. B
20. D

İNGİLİZCE – 4

1. D
2. C
3. C
4. A
5. C
6. D
7. B
8. D
9. B
10. C
11. D
12. A
13. D
14. B
15. D
16. A
17. A
18. C
19. B
20. A

FRANSIZCA – 4

1. D
2. B
3. D
4. A
5. B
6. D
7. B
8. A
9. B
10. C
11. D
12. C
13. A
14. A
15. D
16. C
17. B
18. D
19. C
20. C

23 AĞUSTOS 2014 TARİHİNDE YAPILAN AÇIKÖĞRETİM LİSESİ / MESLEKİ AÇIKÖĞRETİM LİSESİ
2013-2014 ÖĞRETİM YILI 3. DÖNEM SINAVI 2. OTURUM T KİTAPÇIĞI CEVAP ANAHTARI

DİL ve ANLATIM – 4

1. B
2. B
3. C
4. D
5. A
6. C
7. B
8. D
9. B
10. D
11. C
12. A
13. A
14. D
15. B
16. A
17. C
18. B
19. A
20. D

TÜRK EDEBİYATI – 2

1. C
2. D
3. D
4. A
5. D
6. A
7. B
8. C
9. B
10. B
11. A
12. A
13. C
14. B
15. B
16. C
17. D
18. C
19. A
20. D

FİZİK – 2

1. C
2. D
3. B
4. A
5. C
6. A
7. B
8. D
9. B
10. D
11. C
12. A
13. C
14. D
15. B
16. B
17. A
18. D
19. A
20. C

FİZİK – 4

1. A
2. B
3. C
4. B
5. A
6. D
7. A
8. D
9. A
10. C
11. D
12. C
13. B
14. D
15. C
16. B
17. C
18. A
19. B
20. D

TÜRK EDEBİYATI – 1

1. A
2. B
3. C
4. D
5. B
6. D
7. A
8. C
9. D
10. B
11. C
12. D
13. C
14. A
15. C
16. A
17. B
18. B
19. A
20. D

TÜRK EDEBİYATI – 5

1. A
2. D
3. D
4. B
5. A
6. B
7. C
8. A
9. D
10. D
11. B
12. C
13. B
14. C
15. A
16. A
17. B
18. C
19. D
20. C

FİZİK – 3

1. A
2. C
3. A
4. B
5. C
6. D
7. A
8. B
9. D
10. B
11. C
12. B
13. C
14. D
15. B
16. A
17. D
18. A
19. D
20. C

KİMYA – 1

1. B
2. A
3. C
4. D
5. A
6. C
7. D
8. B
9. A
10. B
11. D
12. A
13. C
14. A
15. C
16. B
17. D
18. C
19. A
20. B

23 AĞUSTOS 2014 TARİHİNDE YAPILAN AÇIKÖĞRETİM LİSESİ / MESLEKİ AÇIKÖĞRETİM LİSESİ
2013-2014 ÖĞRETİM YILI 3. DÖNEM SINAVI 2. OTURUM T KİTAPÇIĞI CEVAP ANAHTARI

KİMYA – 7

1. C
2. B
3. A
4. D
5. D
6. B
7. C
8. A
9. D
10. B
11. A
12. C
13. B
14. A
15. C
16. D
17. C
18. B
19. C
20. A

BİYOLOJİ – 2

1. A
2. C
3. A
4. D
5. B
6. D
7. A
8. B
9. A
10. B
11. B
12. D
13. C
14. C
15. A
16. D
17. B
18. C
19. C
20. D

BİYOLOJİ – 7

1. C
2. C
3. A
4. B
5. D
6. B
7. A
8. B
9. C
10. D
11. B
12. C
13. D
14. A
15. D
16. A
17. B
18. C
19. D
20. A

DEM. VE İNSAN HAK. – 1

1. B
2. D
3. A
4. B
5. C
6. D
7. B
8. C
9. A
10. C
11. C
12. D
13. C
14. B
15. D
16. D
17. A
18. B
19. A
20. D

KİMYA – 8

1. A
2. C
3. D
4. B
5. A
6. B
7. D
8. C
9. B
10. A
11. D
12. C
13. B
14. C
15. A
16. D
17. C
18. A
19. B
20. D

BİYOLOJİ – 4

1. D
2. B
3. C
4. D
5. B
6. C
7. B
8. A
9. A
10. B
11. C
12. D
13. A
14. A
15. D
16. A
17. C
18. B
19. C
20. D

ÇAĞ. TÜRK DÜN. TAR. – 1

1. C
2. B
3. A
4. B
5. D
6. C
7. B
8. A
9. C
10. B
11. C
12. D
13. A
14. C
15. B
16. C
17. A
18. D
19. C
20. B

TEMEL DİNİ BİL. – 2

1. A
2. D
3. C
4. C
5. B
6. A
7. C
8. C
9. D
10. B
11. A
12. D
13. C
14. A
15. B
16. D
17. B
18. C
19. A
20. D

23 AĞUSTOS 2014 TARİHİNDE YAPILAN AÇIKÖĞRETİM LİSESİ / MESLEKİ AÇIKÖĞRETİM LİSESİ
2013-2014 ÖĞRETİM YILI 3. DÖNEM SINAVI 2. OTURUM T KİTAPÇIĞI CEVAP ANAHTARI

MATEMATİK – 7

1. C
2. B
3. D
4. B
5. D
6. B
7. C
8. D
9. D
10. A
11. A
12. C
13. A
14. A
15. C
16. B
17. A
18. B
19. C
20. D

İŞLETME – 1

1. C
2. B
3. D
4. B
5. A
6. C
7. B
8. D
9. A
10. C
11. B
12. D
13. A
14. C
15. B
16. D
17. C
18. A
19. D
20. A

SANAT TARİHİ – 2

1. A
2. C
3. B
4. A
5. D
6. C
7. B
8. C
9. B
10. A
11. D
12. B
13. D
14. C
15. A
16. B
17. C
18. D
19. A
20. B

TRAF. VE İLK YARD. – 2

1. D
2. A
3. B
4. C
5. D
6. A
7. C
8. C
9. A
10. C
11. B
12. A
13. B
14. D
15. D
16. A
17. B
18. C
19. B
20. D

İŞ GÜVENLİĞİ – 2

1. A
2. B
3. C
4. D
5. B
6. D
7. B
8. A
9. D
10. B
11. C
12. A
13. B
14. D
15. C
16. A
17. D
18. C
19. B
20. A

SANAT TARİHİ – 1

1. D
2. A
3. B
4. D
5. A
6. C
7. C
8. B
9. D
10. C
11. A
12. D
13. A
14. B
15. B
16. C
17. D
18. A
19. D
20. C

SAĞLIK BİLGİSİ – 1

1. A
2. D
3. D
4. A
5. C
6. B
7. D
8. A
9. C
10. B
11. C
12. D
13. A
14. C
15. A
16. C
17. B
18. D
19. B
20. A

GEOMETRİ – 3

1. D
2. B
3. D
4. A
5. B
6. C
7. B
8. A
9. B
10. D
11. C
12. C
13. A
14. C
15. A
16. A
17. C
18. D
19. B
20. D

23 AĞUSTOS 2014 TARİHİNDE YAPILAN AÇIKÖĞRETİM LİSESİ / MESLEKİ AÇIKÖĞRETİM LİSESİ
2013-2014 ÖĞRETİM YILI 3. DÖNEM SINAVI 2. OTURUM T KİTAPÇIĞI CEVAP ANAHTARI

GEOMETRİ – 8

1. C
2. C
3. D
4. A
5. C
6. A
7. B
8. B
9. D
10. A
11. D
12. A
13. B
14. C
15. B
16. D
17. B
18. A
19. D
20. C

ALMANCA – 7

1. A
2. D
3. C
4. D
5. A
6. B
7. B
8. C
9. A
10. C
11. D
12. D
13. B
14. B
15. D
16. A
17. B
18. C
19. C
20. A

FIKİH – 2

1. A
2. C
3. B
4. D
5. C
6. B
7. D
8. A
9. C
10. C
11. D
12. B
13. A
14. D
15. B
16. A
17. C
18. A
19. B
20. C

SEÇ. Y. DİL ALM. – 4

1. A
2. B
3. C
4. D
5. D
6. B
7. A
8. B
9. B
10. A
11. D
12. C
13. A
14. D
15. C
16. A
17. C
18. B
19. C
20. D

İNGİLİZCE – 7

1. A
2. D
3. C
4. A
5. B
6. D
7. B
8. A
9. D
10. B
11. C
12. D
13. C
14. A
15. D
16. B
17. D
18. B
19. C
20. A

FRANSIZCA – 7

1. A
2. B
3. D
4. B
5. D
6. A
7. C
8. C
9. D
10. D
11. A
12. C
13. A
14. D
15. B
16. D
17. C
18. A
19. C
20. B

SEÇ. Y. DİL İNG. – 4

1. D
2. A
3. D
4. C
5. A
6. D
7. B
8. D
9. A
10. C
11. D
12. C
13. B
14. C
15. D
16. B
17. A
18. B
19. C
20. A

SEÇ. Y. DİL FRAN. – 4

1. B
2. A
3. C
4. C
5. A
6. D
7. A
8. B
9. B
10. D
11. A
12. C
13. A
14. B
15. D
16. C
17. D
18. C
19. B
20. A

23 AĞUSTOS 2014 TARİHİNDE YAPILAN AÇIKÖĞRETİM LİSESİ / MESLEKİ AÇIKÖĞRETİM LİSESİ
2013-2014 ÖĞRETİM YILI 3. DÖNEM SINAVI 2. OTURUM T KİTAPÇIĞI CEVAP ANAHTARI

SEÇ. Y. DİL İNG. -7

1. C
2. B
3. A
4. D
5. C
6. D
7. B
8. C
9. A
10. C
11. B
12. D
13. A
14. B
15. C
16. B
17. C
18. D
19. B
20. A

SEÇ. Y. DİL FRAN. - 7

1. C
2. B
3. D
4. D
5. B
6. A
7. B
8. A
9. D
10. B
11. A
12. C
13. C
14. B
15. D
16. C
17. D
18. C
19. A
20. B

KARŞ. DİN. TAR. - 2

1. A
2. B
3. D
4. C
5. B
6. D
7. C
8. A
9. D
10. A
11. B
12. D
13. C
14. A
15. B
16. D
17. C
18. B
19. A
20. D

SEÇ. TÜRK EDEB. - 5

1. A
2. C
3. D
4. A
5. C
6. B
7. D
8. A
9. B
10. C
11. A
12. D
13. C
14. A
15. D
16. C
17. A
18. D
19. B
20. B

SEÇ. Y. DİL ALM. - 7

1. D
2. B
3. C
4. A
5. D
6. B
7. B
8. C
9. D
10. C
11. A
12. A
13. B
14. C
15. A
16. A
17. D
18. B
19. D
20. C

HZ. MUHAMMED'İN HAY. - 1

1. C
2. B
3. D
4. B
5. C
6. D
7. C
8. C
9. A
10. D
11. B
12. C
13. C
14. A
15. D
16. A
17. B
18. D
19. C
20. A

SEÇ. DİL ve ANLATIM - 4

1. B
2. D
3. A
4. C
5. A
6. D
7. B
8. C
9. A
10. D
11. C
12. B
13. B
14. A
15. D
16. B
17. C
18. B
19. A
20. D

İSLAM TARİHİ - 2

1. D
2. C
3. D
4. B
5. C
6. C
7. D
8. A
9. B
10. A
11. D
12. C
13. B
14. A
15. C
16. D
17. B
18. A
19. B
20. C

23 AĞUSTOS 2014 TARİHİNDE YAPILAN AÇIKÖĞRETİM LİSESİ / MESLEKİ AÇIKÖĞRETİM LİSESİ
2013-2014 ÖĞRETİM YILI 3. DÖNEM SINAVI 2. OTURUM T KİTAPÇIĞI CEVAP ANAHTARI

KELAM – 2

1. A
2. D
3. C
4. C
5. B
6. A
7. B
8. C
9. A
10. D
11. C
12. B
13. B
14. A
15. D
16. B
17. A
18. C
19. B
20. D

MATEMATİK – 1

1. B
2. C
3. A
4. B
5. C
6. B
7. D
8. A
9. D
10. C
11. A
12. D
13. A
14. C
15. B
16. C
17. B
18. A
19. D
20. D

SİYER – 2

1. B
2. C
3. A
4. D
5. B
6. C
7. A
8. D
9. C
10. D
11. B
12. A
13. D
14. B
15. A
16. C
17. D
18. B
19. B
20. A