

OTURUM

1



T.C.  
MİLLÎ EĞİTİM BAKANLIĞI  
AÇIK ÖĞRETİM LİSESİ / MESLEKİ AÇIKÖĞRETİM LİSESİ  
2013-2014 ÖĞRETİM YILI 3. DÖNEM SINAVI  
1. OTURUM: 23 AĞUSTOS 2014 Saat:09.30

T

<u>DERS KODU VE ADI</u>	<u>SAYFA</u>	<u>DERS KODU VE ADI</u>	<u>SAYFA</u>	<u>DERS KODU VE ADI</u>	<u>SAYFA</u>
(111) DİN KÜL. AHL. BİL. – 1	2	(417) TÜRK EDEBİYATI – 7	27	(525) SEÇ. Y. DİL İNG. – 5	55
(112) DİN KÜL. AHL. BİL. – 2	3	(418) TÜRK EDEBİYATI – 8	29	(525) SEÇ. Y. DİL ALM. – 5	56
(115) DİN KÜL. AHL. BİL. – 5	4	(421) FİZİK – 1	31	(525) SEÇ. Y. DİL FRAN. – 5	57
(121) FELSEFE – 1	6	(425) FİZİK – 5	32	(528) SEÇ. Y. DİL İNG. – 8	58
(123) SEÇMELİ FELSEFE – 1	7	(432) KİMYA – 2	34	(528) SEÇ. Y. DİL ALM. – 8	59
(132) TARİH – 2	9	(436) KİMYA – 6	35	(528) SEÇ. Y. DİL FRAN. – 8	60
(136) TARİH – 6	10	(441) BİYOLOJİ – 1	36	(532) HZ. MUHAMMED'İN HAY. – 2	61
(151) COĞRAFYA – 1	11	(443) BİYOLOJİ – 3	38	(609) MATEMATİK – 6	62
(155) COĞRAFYA – 5	13	(446) BİYOLOJİ – 6	39	(611) KARŞ. DİN. TAR. – 1	63
(157) COĞRAFYA – 7	14	(461) EKONOMİ – 1	40	(617) SEÇ. DİL ve ANLA. – 7	65
(181) İNGİLİZCE – 1	15	(465) TEMEL DİNİ BİL. – 1	41	(618) SEÇ. DİL ve ANLA. – 8	66
(181) ALMANCA – 1	16	(474) İŞ GÜVENLİĞİ – 1	43	(624) SEÇ. TÜRK EDEB. – 4	67
(181) FRANZIZCA – 1	17	(477) İŞLETME – 2	44	(627) SEÇ. TÜRK EDEB. – 7	69
(244) İNGİLİZCE – 5	18	(479) MANTIK – 2	45	(628) SEÇ. TÜRK EDEB. – 8	71
(244) ALMANCA – 5	19	(484) SAĞLIK BİLGİSİ – 2	47	(711) İSLAM TARİHİ – 1	72
(244) FRANZIZCA – 5	20	(491) TRAF. ve İLK YARD. – 1	48	(811) KELAM – 1	74
(401) DİL VE ANLATIM – 1	21	(495) GEOMETRİ – 5	49	(931) SİYER – 1	75
(402) DİL VE ANLATIM – 2	22	(502) İNGİLİZCE – 8	51	(974) GİRİŞİMCİLİK – 1	77
(407) DİL VE ANLATIM – 7	23	(502) ALMANCA – 8	52	(999) MATEMATİK – 2	78
(408) DİL VE ANLATIM – 8	25	(502) FRANZIZCA – 8	53		
(414) TÜRK EDEBİYATI – 4	26	(511) FİKİH – 1	54		

**ADAYLARIN DİKKATİNE!**

1. Her ders için **20** soru bulunmaktadır. Bu oturumda **180** dakikalık cevaplama süreniz vardır. Sınav başladıktan sonra ilk **30** dakika dolmadan dışarı çıkmayınız.
2. Sınav sırasında sözlük, hesap cetveli veya makinesi, çağrı cihazı, cep telefonu, telsiz, radyo gibi elektronik iletişim araçlarını yanınızda bulundurmuyunuz. Bu araçları kullanmanız ve kopya çekmeye teşebbüs etmeniz hâlinde sınavınız geçersiz sayılacaktır.
3. Başvuru şartlarını taşımadığınız hâlde sınava girmeniz, kopya çekmeniz, başka adayın sınav evrakını kullanmanız, geçerli kimlik belgenizi ve sınav giriş belgenizi ibraz edemediğiniz durumlarda sınavınız geçersiz sayılacaktır.
4. Sınavın değerlendirilmesi aşamasında, bilgisayar ortamında yapılan kopya analizinde ikili veya toplu kopya tespiti hâlinde sınavınız geçersiz sayılacaktır.

**CEVAP KÂĞIDI VE SORU KİTAPÇIĞI İLE İLGİLİ AÇIKLAMALAR**

1. Cevap kâğıdınızdaki bilgilerin doğruluğunu kontrol ediniz ve cevap kâğıdınızı mürekkepli kalemle imzalayınız.
2. Cevap kâğıdı üzerinde kodlamalarınızı kurşun kalemle yapınız.
3. Değiştirmek istediğiniz bir cevabı, yumuşak silgiyle cevap kâğıdını örselemeden temizce siliniz ve yeni cevabınızı kodlayınız.
4. Soru kitapçığının sayfalarını kontrol ediniz, baskı hatası var ise değiştirilmesini sağlayınız.
5. Soruların çözümü için size ayrıca boş kâğıt verilmeyecektir. Soru kitapçığının içindeki boş alanları soru çözümleri için kullanabilirsiniz.
6. Her sorunun dört seçeneğinden sadece biri doğrudur. Doğru seçeneği, cevap kâğıdınızın ilgili sütununa soru numarasını dikkate alarak yuvarlağın dışına taşırmadan kodlayınız. **Soru kitapçığı üzerinde yapılan cevaplandırmalar dikkate alınmayacaktır.**
7. Cevaplamaya istediğiniz dersin sorusundan başlayabilirsiniz. Cevabını bilmediğiniz sorular üzerinde fazla zaman kaybetmeden diğer sorulara geçiniz. Zamanınız kalırsa bu sorulara daha sonra dönebilirsiniz.
8. Yanlış cevaplarınız dikkate alınmadan sadece doğru cevaplarınız üzerinden puanlama yapılacaktır.
9. Soruları ve sorulara verdiğiniz cevapları, yanınızda götürmek amacıyla kaydetmeyiniz; hiçbir şekilde dışarı çıkarmayınız.
10. **Sınav bitiminde, soru kitapçığı ve cevap kâğıdını salon görevlilerine teslim ediniz.**

**BAŞLAYINIZ DENİLMEYEN SORU KİTAPÇIĞINI AÇMAYINIZ.**

## 1. OTURUM

(111) DİN KÜL. AHL. BİL. – 1

1. “Dünyayı dolaşın; duvarsız, edebiyatsız, yazısız, servetsiz kentler bulacaksınız, fakat mabutsuz ve mabetsiz kent bulamayacaksınız.”

(Pülütarkos)

Aşağıdakilerden hangisi bu açıklamaı destekler?

- A) Din evrensel bir gerçekliktir.  
B) Dinî inanç ve değerler insanı ruhsal bunalımlardan korur.  
C) Din toplumda bilgi ve kültür düzeyinin yükselmesine katkı sağlar.  
D) Din bireyin hayatını düzenlemesine, zorlukları aşmasına yardım eder.

2. Aşağıdakilerden hangisi ateizmin genel prensiplerinden biri değildir?

- A) Tanrının varlığını kabul etmezler.  
B) Sanki Tanrı yokmuş gibi yaşarlar.  
C) Tanrıların farklı görevleri olduğuna inanırlar.  
D) Evrendeki olayları tesadüfle açıklarlar.

3. “Şayet yerde ve gökte Allah’tan başka tanrılar olsaydı, yerin ve göğün düzeni bozulurdu.”

(Enbiya suresi, 22. ayet)

Bu ayet aşağıdaki inanç biçimlerinden hangisine kanıt oluşturur?

- A) Birden çok tanrının varlığına  
B) Tek ve bir yaratıcının varlığına  
C) Tanrının varlığının bilinemeyeceğine  
D) Tanrının varlığının sezgi yoluyla bilinebileceğine

4. Aşağıdakilerden hangisi ibadetin yapılış sebeplerinden biri olamaz?

- A) Allah’ın rızasını kazanma isteği  
B) Allah’ın ibadeti emretmesi  
C) Allah’a teşekkür etme arzusu  
D) Gelenek ve göreneklere uyma ihtiyacı

5. Aşağıdakilerden hangisi abdestin farzlarından biridir?

- A) Niyet etmek  
B) Elleri yıkamak  
C) Boynu meshetmek  
D) Ağza, burna su vermek

6. Su bulunmadığında temiz toprakla yüz ve kolları meshederek yapılan temizliğe ne denir?

- A) Gusül  
B) Abdest  
C) Mesh  
D) Teyemmüm

7. Peygamberimiz “Birinizin kapısının önünden bir ırmak geçse ve o kimse de orada günde beş kere yıkansa bedeninde hiç kir kalır mı?” diye sordu. Sahabe de “kalmaz” diye cevap verdi. Peygamberimiz “İşte beş vakit namaz da bunun gibidir. Allah namaz sayesinde günahları sizler ve temizler.” buyurdu.

Bu hadiste verilen mesaj aşağıdakilerden hangisidir?

- A) Temizlik imandandır.  
B) Temizlik ibadetin ön şartıdır.  
C) Günde beş defa temizlik şarttır.  
D) Namaz insanı manevi kirlerden temizler.

8. Usulüne uygun abdest alan bir kişi yüzünü yıkadıktan sonra aşağıdakilerden hangisini yapar?

- A) Kolları yıkar.  
B) Başını mesheder.  
C) Ağza ve burna su verir.  
D) Kulakları ve enseyi mesheder.

9. Müşrik aşağıdakilerden hangisine denir?

- A) Allah’a ortak koşan kişiye  
B) Allah’ın varlığını inkar eden kişiye  
C) Allah’ın bir ve tek olduğuna inanan kişiye  
D) Allah’ın varlığının bilinmez olduğunu söyleyen kişiye

10. Hz. Muhammed’in açıktan daveti yukarıdaki ayetlerin hangisi ile başlamıştır?

- A) “Ey örtünüp bürünen (Peygamber!) Kalk da uyar, Rabb’ini yücelt ...”  
(Müddessir suresi, 1 - 3. ayetler)  
B) “Sana emrolunanı açıkça söyle ve Allah’a ortak koşanlara aldırış etme.”  
(Hicr suresi, 94. ayet)  
C) “Ve yakın akrabalarını uyar.”  
(Şuara suresi, 214. ayet)  
D) “Yaratan Rabb’inin adıyla oku.”  
(Alak suresi, 1. ayet)

11. Hz. Muhammed, İslam dinini öncelikle tebliğ etmeye aşağıdakilerden hangisiyle başlamıştır?

- A) Zenginler  
B) Kabile reisleri  
C) Yakın çevresi  
D) Yoksul ve kimsesizler

12. Aşağıdakilerden hangisi ilk müslümanlardan biridir?

- A) Hz. Ömer  
B) Hz. Osman  
C) Hz. Hamza  
D) Hz. Ali

13. Peygamberimiz hicret esnasında Medine yakınlarında bir köyde bir kaç gün kaldı ve buraya bir mescid yaptırdı.

Bu yer aşağıdakilerden hangisidir?

- A) Kuba  
B) Akabe  
C) Ranuna  
D) Hudeybiye

14. • Yahudiler kendi dinlerinde serbest olacaklar.  
• Dışardan bir saldırı olursa Medine birlikte savunulacak.  
• İki taraftan biri, üçüncü tarafla savaşırsa diğer taraf yardımcı olacak.

Bu maddeler aşağıdakilerden hangisine aittir?

- A) I. Akabe biatı  
B) II. Akabe biatı  
C) Hudeybiye antlaşması  
D) Medine Sözleşmesi

## 1. OTURUM

(112) DİN KÜL. AHL. BİL. – 2

15. Hz. Muhammed'in mescidin bitişiğinde yaptırdığı, yoksul, yetim kişiler ile İslam'ı öğrenmek için gelen kimselerin kaldığı yer aşağıdakilerden hangisidir?

- A) Kuba
- B) Suffa
- C) Mescid-i Dırar
- D) Dar'ün Nedve

16. Kur'an'la ilgili olarak aşağıdakilerden hangisi yanlıştır?

- A) Son kitaptır.
- B) Bir defada indirilmiştir.
- C) Hz. Muhammed'e indirilmiştir.
- D) Arapça olarak gönderilmiştir.

17. Kur'an-ı Kerim hakkında aşağıda verilen bilgilerden hangisi yanlıştır?

- A) 114 sureden oluşmaktadır.
- B) Her 20 sayfasına cüz denir.
- C) 610 - 622 yılları arasında nazil olmuştur.
- D) İlk nazil olan ayetler Alak suresinin ilk 5 ayetidir.

18. Kur'an-ı Kerim'i açıklayıp yorumlayan kimseye ne ad verilir?

- A) Müfessir
- B) Mütefekkir
- C) Muhaddis
- D) Mutasavvıf

19. Sahabeden Zeyd b. Sabit'i Kur'an-ı Kerim'i çoğaltmakla görevlendiren halife kimdir?

- A) Hz. Ebu Bekir
- B) Hz. Ömer
- C) Hz. Osman
- D) Hz. Ali

20. Ayetlerden oluşmuş, besmele ile birbirinden ayrılan Kur'an'ın bölümlerine ne ad verilir?

- A) Cüz
- B) Hizb
- C) Mushaf
- D) Sure

1. Aşağıdakilerden hangileri değer kavramı ile ilişkilendirilemez?

- A) Sevgi - Saygı
- B) Yardımlaşma - Dayanışma
- C) Doğmak - Büyümek
- D) Hoşgörü - Merhamet

2. Aşağıdakilerden hangisi değerlerin bir özelliği değildir?

- A) Toplum tarafından benimsenen birleştirici unsurlardır.
- B) Toplumun ekonomik altyapısını oluşturur.
- C) Toplumun manevi ve sosyal ihtiyaçlarını karşılar.
- D) Bireylerin davranışlarını yönlendirir.

3. Evliliklerde düğün töreni yapmak aşağıdakilerden hangisine örnek tir?

- A) Değer
- B) Ahlak
- C) Sanat
- D) Örf

4. Aşağıdakilerden hangisinin kutlanması İslam öncesinde başlamış ve günümüzde de devam etmektedir?

- A) Aşure Günü
- B) Kadir Gecesi
- C) Miraç Kandili
- D) Mevlit okutma

5. "Ben güzel ..... tamamlamak için gönderildim."

Peygamberimizin bu sözünde boş bırakılan yere aşağıdakilerden hangisi gelmelidir?

- A) Ahlakı
- B) Dini
- C) Eğitimi
- D) Hayatı

6. İstiklal marşında aşağıdakilerden hangisinden bahsedilmemiştir?

- A) Hürriyet ve istiklal
- B) Kahramanlık
- C) Bilim - Sanat
- D) Bağımsızlık

7. • "Yavrucuğum! Namazı kıl, iyiliği emret, kötülüklerden vazgeçirmeye çalış, başına gelenlere sabret..."  
• "Yavrucuğum! Küçümseyerek insanlardan yüz çevirme ve yeryüzünde böbürlenerek yürüme. Zira Allah, kendini beğenmiş övünüp duran kimseleri asla sevmez."  
(Lokman suresi, 15 - 19. ayetler)

Hz. Lokman'ın oğluna verdiği bu nasihatler aşağıdakilerden hangisine örnek oluşturur?

- A) Örf ve adetlerin dinle ilişkisine
- B) Kişilik gelişiminde ailenin öneme
- C) İslam'da insan haklarına verilen öneme
- D) Toplum birleştiren değerlerin neler olduğuna

8. M. Akif Ersoy'a "İstiklal Marşı yeniden yazılsa daha iyi olmaz mı?" diye soran bir kişiye onun cevabı ne olmuştur?

- A) İnanıyorum ki benim evlatlarım daha iyisini yazacaktır.
- B) Allah, bir daha bu millete İstiklal Marşı yazdırmaz.
- C) Allah bu millettten marşlar yazacak nice yiğitler çıkaracaktır.
- D) Bağımsızlığımızın önemli unsurlarından biri de İstiklal Marşıdır.

9. Peygamberimiz Veda Hutbesi'nde kadın hakları üzerinde durmuş, kan davasını, faizi ve tefeciliği yasaklamıştır. İnsanın can, mal, namus ve özgürlüklerinin dokunulmaz olduğunu belirtmiştir.

Aşağıdakilerden hangisi bu paragraftan çıkarılacak bir sonuç değildir?

- A) İslam dininin sanâtsal değerlere önem verdiği
- B) İslam dininin insan haklarına önem verdiği
- C) Toplum birleştiren temel değerlerin önemli olduğu
- D) İslam dininin bağımsızlık ve özgürlüğe önem verdiği

## 1. OTURUM

10. Peygamberimizin aşağıda verilen uygulamalarından hangisinin insan haklarını güvence altına almaya yönelik olduğu söylenebilir?

- A) Medine sözleşmesi
- B) Mekke'nin fethedilmesi
- C) Devlet başkanlarına mektup göndermesi
- D) Esirleri okuma-yazma karşılığı serbest bırakması

11. Aşağıdakilerden hangisi Atatürk'ün din anlayışına aykırıdır?

- A) Her fert istediği dine inanmakta serbesttir.
- B) Kimsenin inancına müdahale edilemez.
- C) Hiç kimse inancından dolayı kınanamaz.
- D) Devlet, vatandaşların dini seçimlerinde rehberlik eder.

12. Laiklik aşağıdakilerden hangisini korumaya yöneliktir?

- A) Aile düzenini
- B) İnanç hürriyetini
- C) Ekonomik hayatı
- D) Kültürel değerleri

13. Türklerin Müslüman olmadan önceki Tanrı inancı aşağıdakilerden hangisiyle ifade edilebilir?

- A) Yaratıcı Tanrı
- B) Gök Tanrı
- C) Koruyucu Tanrı
- D) Kurtarıcı Tanrı

14. "Hazreti Türkistan" olarak bilinen, fetihler başladığı dönemde müridlerini Anadolu'ya göndererek İslam'ın buralara ulaşmasına katkı sağlayan mutasavvıf aşağıdakilerden hangisidir?

- A) Mevlana
- B) Yunus Emre
- C) Ahmet Yesevi
- D) Hacı Bektaş Veli

15. Esnafa İslam'ı anlatarak nasihatlerde bulunan, esnaflar arasında dinî, ahlaki kurallarla iktisadi kuralları birleştiren bir teşkilat kuran mutasavvıf kimdir?

- A) Ahî Evran
- B) Taptuk Emre
- C) Ahmet Yesevi
- D) Hacı Bayram Veli

16. "Makâlât" adlı eser aşağıdaki Türk büyüklerinden hangisine aittir?

- A) Mevlana
- B) Hacı Bektaş Veli
- C) Hacı Bayram Veli
- D) Seyyid Burhaneddin

17. Fatih Sultan Mehmet döneminde yaşamış, astronomi alanında önemli eserler yazmış, İstanbul'da bir rasathane kurmuş olan Türk bilgini kimdir?

- A) Biruni
- B) Gazali
- C) İbn-i Sina
- D) Ali Kuşçu

18. Batıda Algorismus olarak bilinen, sıfırlı ondalık sistemi bulan, cebir ve logaritmanın kurucusu kabul edilen ünlü Türk matematikçisi kimdir?

- A) Farabî
- B) Harezmi
- C) İbn-i Sina
- D) Zemaşşerî

19. Hafız Osman, Mustafa Rakım, İzzet Efendi, Hamit Aytaç gibi şahsiyetler aşağıdaki sanat dallarından hangisiyle ilgilenmişlerdir?

- A) Hüsnuhat
- B) Ebru
- C) Tezhip
- D) Mimari

20. Sulu boya veya altın yıldız kulanılarak kağıt ya da deri üzerine resim yapma sanatı olarak tarif edileni Türklere has sanat aşağıdakilerden hangisidir?

- A) Hüsnuhat
- B) Tezhip
- C) Minyatür
- D) Ebru

(115) DİN KÜL. AHL. BİL. – 5

1. Aşağıdaki ayetlerden hangisinde örnek insanın vasıflarına değinilmemiştir?

- A) "Onlar büyük günahlardan ve hayasızlıktan kaçınırlar, kızdıklarında da kusurları bağışlarlar." (Şura suresi, 37. ayet)
- B) "Kim sabreder ve affederse şüphesiz bu hareketi yapılmaya değer işlerdendir." (Şura suresi, 43. ayet)
- C) "Onlar Rablerinin davetlerine icabet ederler ve namazı kılarlar ..." (Şura suresi, 38. ayet)
- D) "İnsanlara zulmedenlere ve yeryüzünde haksız yere taşkınlık edenlere ceza vardır ..." (Şura suresi, 42. ayet)

2. Aşağıdaki ibadetlerin hangisinde miktarı belirleme kişinin tercihine bırakılmıştır?

- A) Fitre
- B) Sadaka
- C) Fidyeye
- D) Zekat

3. Aşağıdakilerden hangisi ibadetlerin yapılış gayelerinden değildir?

- A) Yaratıcının rızasını kazanmak
- B) Nimetlere teşekkür etmek
- C) Toplumdaki itibarını artırmak
- D) Kulluk borcunu yerine getirmek

4. Aşağıdaki ayetlerden hangisinde rızkın kaynağına değinilmemiştir?

- A) "Ben onlardan bir rızık istemiyorum. Beni doyurmalarını da istemiyorum." (Zariyat suresi, 57. ayet)
- B) "Ey iman edenler! Size rızık olarak verdiklerimizin temiz olanlarından yiyiniz ..." (Bakara suresi, 177. ayet)
- C) "Yeryüzündeki her canlının rızık Allah'a aittir." (Hud suresi, 6. ayet)
- D) "De ki; Allah'ın kulları için yarattığı süsü ve temiz rızıkları kim haram kıldı ..." (Araf suresi, 32. ayet)

## 1. OTURUM

5. Aşağıdaki ifadelerden hangisi tevekküle örnek oluşturur?

- A) "Üzülme! Çalışsan da bir şey değişmezdi."
- B) "Biz de şans yok kardeşim. Ne yapsan boşuna."
- C) "Sen tedbirli olduktan sonra sana ne gerekir ki?"
- D) "Biz elimizden geleni yaptık, Rabbimiz de isterse neden olmasın?"

6. "Kim zerre miktar hayır yapmışsa onu görür. Kim de zerre miktarı şer işlemişse onu görür."  
(Zilzal suresi, 7- 8. ayetler)

Aşağıdakilerden hangisi bu ayete göre şer kapsamındadır?

- A) Gıybet etmek
- B) Engelli doğmak
- C) Sadaka vermek
- D) Kısa boylu olmak

7. "Kolaylaştırınız, zorlaştırmayınız, ..... nefret ettirmeyiniz."  
(Hadisi Şerif)

Hadiste boş bırakılan yere aşağıdakilerden hangisi getirilmelidir?

- A) Basitleştiriniz
- B) Bağışlayınız
- C) Müjdeleyiniz
- D) Kötülüğe engel olunuz

8. Aşağıdakilerden hangisi "Kaza"ya örnektir?

- A) Peygamberimizin 632 yılında vefat etmesi.
- B) Evrende kusursuz bir düzenin var olması.
- C) İnsanın yapısının mükemmel olması.
- D) Kıyametin bilgisinin Allah'a ait olması.

9. Ülkemizde yapılan Kutlu Doğum haftası etkinliklerinin yapıldığı tarih aşağıdakilerden hangisidir?

- A) 10-14 Nisan
- B) 14-20 Nisan
- C) 22-27 Nisan
- D) 04-09 Nisan

10. Peygamberimizin çocuğu İbrahim'in annesi aşağıdakilerden hangisidir?

- A) Hz. Aişe
- B) Hz. Hatice
- C) Hz. Hafsa
- D) Hz. Mariye

11. Ecel ile ilgili aşağıdakilerden hangisi yanlıştır?

- A) Ecel Allah'ın takdiridir.
- B) Tedbir eceli geçersiz kılar.
- C) Ecel belli bir sınırı ifade eder.
- D) Allah'ın takdir ettiği ecel değişmez.

12. Aşağıdaki kavramlardan hangisi Hz. Peygamberin soyunu ifade etmez?

- A) Şerif
- B) Seyyid
- C) Sahabi
- D) Ehli Beyt

13. İslam düşüncesindeki yorum farklılıkları ile ilgili aşağıdakilerden hangisi söylenemez?

- A) Düşünce zenginliğidir.
- B) Taassubun yaygınlaşmasıdır.
- C) Dini yaşamayı kolaylaştırmıştır.
- D) Mezheplerin ortaya çıkmasını sağlamıştır.

14. Aşağıdakilerden hangisi cüzi iradeye bağlı bir davranış değildir?

- A) Evlenmek
- B) Yaşlanmak
- C) Umre yapmak
- D) Yalan söylemek

15. Aşağıdakilerden hangisi müşriklerin Hz. Muhammed'in peygamberliğine getirdiği bir itirazdır?

- A) Tebliğ ettiği vahye eskilerin hikayeleri demeleri
- B) Muhammed'ul Emin diye vasıflandırmaları
- C) Kabe hakemliğini memnuniyetle karşılamaları
- D) Habeşistan Kralına ahlakını övmeleri

16. Müteşabih ayet ile ilgili aşağıdakilerden hangisi doğrudur?

- A) Herkes tarafından aynı şekilde anlaşılan ayettir.
- B) Farklı yorumların ortaya çıkmasında etkisi olmamıştır.
- C) "Allah'ın eli onların ellerinin üzerindedir." ayeti bu tür ayetlere örnektir.
- D) Aynı konuları ele alan ayetlere verilen isimdir.

17. Aşağıdaki görüşlerden hangisi Mutezile mezhebine aittir?

- A) Büyük günah işleyen kişi kafirdir.
- B) Hz. Muhammed'ten sonra halifelik Hz. Ali'nin hakkıdır.
- C) İnsanın fiillerinin yaratıcısı Allah'tır.
- D) Büyük günah işleyen ne mümin ne de kafirdir.

18. — Ehli sünnet inancını sistemleştirmiştir.

— İnsanın aklıyla Allah'ın varlığına ulaşabileceğini söylemiştir.

— Hanefiler itikatta onun düşüncelerini benimsemişlerdir.

Hakkında bilgi verilen mezhep imamı aşağıdakilerden hangisidir?

- A) Mutezile
- B) Maturidi
- C) Eşari
- D) Cafer-i Sadık

19. — Medine alimlerindedir.

— En önemli eseri Muvatta'dır.

— Kitap, sünnet, sahabe sözleri ve icmayı delil kabul eder.

Hakkında bilgi verilen İslam alimi aşağıdakilerden hangisidir?

- A) Malik b. Enes
- B) Cafer-i Sadık
- C) Ahmet b. Hanbel
- D) Numan b. Sabit

20. Aşağıdakilerden hangisi Fıkhi (ameli) mezheplerden biridir?

- A) Eş'arilik
- B) Haricilik
- C) Caferilik
- D) Yesevilik

## 1. OTURUM

### (121) FELSEFE – 1

1. • Sistemli ve tutarlı bilgilerden oluşur.  
• Kişiden kişiye ve toplumdaki topluma değişmeyen genel geçer bilgilerden oluşur.  
• Belli bir yöntemle elde edilen bilgidir.

Yukarıda verilen özellikler bilgi türlerinden hangisine aittir?

- A) Gündelik Bilgi  
B) Bilimsel Bilgi  
C) Felsefe Bilgisi  
D) Sanat Bilgisi

2. Felsefe ile dinin ortak özellikleri ile ilgili aşağıdaki ifadelerden hangisi doğrudur?

- A) Her ikisi de doğruya akıl ile ulaşma çabasıdır.  
B) Her ikisinin de kaynakları aynıdır.  
C) Her ikisi de eleştiriye açıktır.  
D) Her ikisi de evreni ve insanı anlama ve açıklama çabası içindedirler.

3. Aşağıdakilerden hangisi felsefenin incelediği ana konulardan biri değildir?

- A) Varlık felsefesi  
B) Bilgi felsefesi  
C) Tarih felsefesi  
D) Değer felsefesi

4. Ünlü alman filozofu Hegel'e göre "insan varlık hakkında duyuları hiç kullanmaksızın, yalnızca akıl yoluyla gerçek ve apaçık bir bilgiye ulaşabilir."

Hegel'in bu görüşü dikkate alınarak bilgiyle ilgili aşağıdaki yargılardan hangisine ulaşılabilir?

- A) İnsan bilgisinin ilk kaynağı duylardır.  
B) Akıl yoluyla doğru bilgiye ulaşmak mümkündür.  
C) Akıl ve deney doğru bilgiye ulaştırıcı iki araçtır.  
D) Akıl ile ulaşılan bilgi görelidir.

5. • Temsilcisi Edmund Husserl'dir.  
• Temel hedef öze ulaşmaktır.  
• Bu yöntemle varlığın özünü meydana getirmeyen somut özellikler "Parantez"e alınarak ayıklanır. Böylece varlığın özüne ulaşılır.

Yukarıda açıklanan felsefi akım hangisidir?

- A) Septisizm  
B) Analitik felsefe  
C) Fenomenoloji  
D) Pragmatizm

6. Aşağıdakilerden hangisi bilgi kuramının temel sorularındandır?

- A) Gerçekte bir şey var mıdır?  
B) Evrensel bir ahlak yasasından söz edilebilir mi?  
C) Meşruiyetin kaynağı nedir?  
D) Doğru bilgiye ulaşmak mümkün müdür?

7. Aşağıdaki filozof ve savunduğu felsefi akımla ilgili eşleştirmelerden hangisi yanlıştır?

- A) William James – Pragmatizm  
B) Auguste Comte – Pozitivizm  
C) David Hume – Rasyonalizm  
D) Edmund Husserl – Fenomenoloji

8. Aşağıdaki düşünürlerden hangisi bilginin kaynağı konusunda diğerlerinden farklı bir düşünceye sahiptir?

- A) John Locke B) Farabi  
C) Platon D) Aristoteles

9. Aşağıdakilerden hangisi doğru bilgiye ulaşmanın imkansız olduğunu savunan görüşlerdendir?

- A) Emprizm B) Pozitivizm  
C) Septisizm D) Pragmatizm

10. • Objeye bilgisini edinmek için yöneldiğimiz her şeydir.  
• Temellendirme; belli bir bilgiyi ortaya koyan önermelerin gerekçelendirilmesi ve doğrulanmasıdır.  
• Doğruluk; algılar, kavramlar, bilimsel kuramlarla nesnel gerçek arasındaki uygunluktur.  
• Gerçeklik; zihnin ürettiği önermenin gerçeklikteki objeye tam olarak uymasınıdır.

Bilgi kuramının yukarıda verilen kavramlarından hangisinin tanımını yanlış verilmiştir?

- A) Objeye B) Temellendirme  
C) Doğruluk D) Gerçeklik

11. Bilim köleler yaratmaktan başka bir işe yaramadı; savaş zamanında bizi zehirlemeye paramparça etmeye yarıyor, barış zamanında da yaşamımızı çekilmez kararsız duruma sokuyor. Bilimler insanları kafa işlerine adayıp büyük ölçüde kölelikten kurtaracak yerde, onları makinenin kölesi yapıyor.

Einstein bu sözleriyle aşağıdakilerden hangisini vurgulamak istemiştir?

- A) Bilimin olumsuz yönlerinin de olduğunu  
B) Bilimin hayatı kolaylaştırdığını  
C) Bilimin olmadığı bir dünyanın olamayacağını  
D) Bilimin insana sağladığı faydayı

12. Aşağıdakilerden hangisinde bilimsel yöntemin aşamaları doğru sıralamayla verilmiştir?

- A) Olguların saptanması – Hipotez – Gözlem – Deney – Kuram – Yasa  
B) Olguların saptanması – Gözlem – Hipotez – Deney – Kuram – Yasa  
C) Gözlem – Olguların saptanması – Hipotez – Deney – Kuram – Yasa  
D) Hipotez – Gözlem – Olguların saptanması – Deney – Kuram – Yasa

## 1. OTURUM

13. Aşağıdakilerden hangisi bilim felsefesinde klasik görüşün bilim anlayışı içinde yer almaz?

- A) Bilim tamamen objektif bir tavır takınmak zorundadır.
- B) Bilim sürekli gelişen ve ilerleyen bir yapıdadır.
- C) Tüm bilimler birbirleriyle ilişki içinde olmak durumundadır.
- D) Bilim onu yapan bilim insanları topluluğundan bağımsız düşünülemez.

14. “Bilimsel yaklaşımın, ele aldığı olgular ve bunlar arasındaki ilişkileri anlamak, sorgulamak için kullandığı tüm kabuller, inançlar, kurallar ve deneysel araçlardır. Kısaca bilimsel bir yaklaşımın doğayı ve toplumu algılama, sorgulama biçimidir.”

**Bu metinde Thomas Kuhn’un tanımladığı kavram aşağıdaki-lerden hangisidir?**

- A) Paradigma
- B) Doğrulanabilirlik
- C) Metafizik
- D) Hipotez

15. Özellikle tıp alanında yazmış olduğu “Kanun fit Tıp” adlı eseri batıda tıp fakültelerinde uzun yıllar ders kitabı olarak okutulan hastalıkların bedensel ve psikolojik nedenlerle oluşabileceğini söyleyen (980-1037) yılları arasında yaşamış ünlü bilgin kimdir?

- A) Hipokrates
- B) İbn-i Sinâ
- C) Kepler
- D) Kopernik

16. Bilim felsefesi ile ilgili olarak verilen aşağıdaki yargılardan hangisi yanlıştır?

- A) Bilimle ilgili sorular sorarak bilim üzerine felsefe yapar.
- B) Bilimin yapısını, doğasını, biçimini inceler.
- C) Bilimde yöntemin nasıl olması gerektiğini inceler.
- D) Felsefeyi spekülasyondan arındırarak bilimler gibi kesin sonuçlara ulaştırır.

17. Varlık var mıdır? sorusuna “Yoktur.” diye cevap veren yaklaşımlar hangisinde birlikte verilmiştir?

- A) Nihilizm – Realizm
- B) Realizm – İdealizm
- C) Nihilizm – Taoculuk
- D) İdealizm – Taoculuk

18. İdealizme göre, var olan herşey düşünceye bağlıdır. İnsan düşüncesinden bağımsız bir nesnelere dünyası var olamaz. Madde gerçek değil hayaldir ve evrendeki herşey düşünseldir.

**Buna göre, idealizm ile ilgili aşağıdaki yargılardan hangisine ulaşamaz?**

- A) Evrende var olan herşey düşünceden ibarettir.
- B) Nesnelere dünyası insan düşüncesine bağlıdır.
- C) Varlığın birinci ögesi düşüncedir.
- D) Varlığın düşünsel yönü kadar maddi yönü de dikkate alınmalıdır.

19. Varlığın oluşumunu maddesel, formel, fail ve amaçsal olmak üzere dört nedene dayanarak açıklayan ilkçağ filozofu kimdir?

- A) Aristoteles
- B) Platon
- C) Gorgias
- D) Herakleitos

20. Hegel’e göre herşeyin temelinde evrensel bir ilke vardır. Bu ilkeye göre hem doğa hem de tarih ve kültür çatışmaların (tez - antitez) çatışması ve biresime (senteze) ulaşma biçiminde ilerler. Bu sentez zamanla teze dönüşür, tez antitezini yaratır. Bunların çatışmasından yeni bir senteze ulaşılır. Bu süreç böylece devam eder gider.

**Hegel’in düşüncesini dayandığı bu yöntemin adı nedir?**

- A) Determinizm
- B) Gerçekçilik
- C) Diyalektik
- D) Fenomenoloji

## (123) SEÇMELİ FELSEFE – 1

1. Bilenle bilinen arasındaki bağın itikat ve inançla kurularak elde edildiğini savunan bilgi türü aşağıdakilerden hangisidir?

- A) Felsefi bilgi
- B) Dini bilgi
- C) Sanat bilgisi
- D) Gündelik bilgi

2. Aşağıdakilerden hangisinde doğa bilimleri birlikte verilmiştir?

- A) Felsefe – Fizik
- B) Tarih – Coğrafya
- C) Kimya – Biyoloji
- D) Mantık – Felsefe

3. Felsefi bilgiye ait olarak aşağıda verilenlerden hangisi yanlıştır?

- A) Varlığı ve yaşamı bir bütün olarak ele alır.
- B) Soran sorgulayan ve araştırma yapan eleştirel bir tavrın ürünüdür.
- C) İlerleme özelliğine sahip değildir.
- D) İnsanların pratik ihtiyaçlarını en kestirme yoldan karşılama amacı güder.

4. Aşağıdakilerden hangisi felsefe ile sanatın ortak özelliklerindedir?

- A) Doğayı ve insanı konu edinirler.
- B) Amaçları aynıdır.
- C) Aynı yöntemi kullanırlar.
- D) Akla ve akıl yürütme gücüne dayanırlar.

5. Aşağıdakilerden hangisi rasyonalizmi savunan bir filozofa ait görüş olamaz?

- A) Aklimız doğuştan birtakım ilkeler ve yetilerle donatılmıştır.
- B) Doğru bilginin kaynağı akıldır.
- C) Matematik ve mantık bilgileri akılsal olduğu için değişmeyen doğru bilgilerdir.
- D) İnsanda var olan her türlü bilginin kaynağını izlenimler oluşturur.

## 1. OTURUM

6. Bilgi kuramının temel kavramları aşağıdakilerden hangisinde doğru olarak verilmiştir?

- A) Bilgi - Suje - İyi
- B) Doğruluk - Bilgi - Meşruiyet
- C) Doğruluk - Gerçeklik - Objeler
- D) Gerçeklik - Erdem - Temellendirme

7. İlk çağ filozofları bilginin kaynağını sorgulamadan önce bilginin değeri, yani doğru ve kesin bir bilginin olup olmadığını sorgulamışlardır. Filozoflardan bazıları doğru bilginin imkansızlığını yani insanın gerçekliğin bilgisine erişemeyeceğini savunmuşlardır.

Felsefe tarihinde bu görüşe ne denir?

- A) Entüzyonizm
- B) Septisizm
- C) Pozitivizm
- D) Pragmatizm

8. Ona göre varlıkların bir "öz" ü bir de "form" u (biçimi) vardır. Form Platon'un idea dediği şeydir. Bu söylemiyle ideaların varlığını kabul eder. Ancak ideaları başka bir evrende değil, nesnelerin içindeki "öz" de aramak gerekir diyen rasyonalist filozof kimdir?

- A) Aristoteles
- B) Sokrates
- C) Pyrrhon
- D) Hegel

9. • Kesin ve genel geçer bilginin var olduğu ve bilginin doğuştan geldiğini söyler.  
• İroni (alay) ve maiotik (doğurtma) yöntemlerini kullanır.  
• En yüce erdemini bilgi olduğunu savunur.

Yukarıda sözü edilen ilk çağ filozofu kimdir?

- A) Protogoras
- B) Sokrates
- C) Gorgias
- D) David Hume

10. I. Kant tarafından temsil edilir. Rasyonalizm ve emprizm akımlarının bir sentezidir. Bilgilerimizin oluşmasında deney ve aklın bir arada olması gerektiğini savunur. Yukarıda açıklanan felsefe akımı hangisidir?

- A) Kritisizm
- B) Pozitivizm
- C) Fenomenoloji
- D) Analitik Felsefe

11. Aşağıdakilerden hangisi Emprizm akımının temsilcisi olan John Locke 'a ait bir görüş olamaz?

- A) İnsan zihni dünyaya boş bir levha (tabula rasa) olarak gelir.
- B) Tüm bilgilerimizin kaynağı deney ve alışkanlıklardır.
- C) Her tür yaşamın ve hareketin temelinde değişme, gelişme vardır.
- D) Deneye dayanmayan bilgiler bir yanılgıdan ibarettir.

12. İlk çağlarda bilimsel çalışmalarla ilgili olarak aşağıda verilen bilgilerden hangisi yanlıştır?

- A) Bilimsel çalışmalar felsefenin içinde yapılmıştır.
- B) Bu dönemde bilimin Hristiyanlığın etkisinde olduğu görülür.
- C) Astronomi, tıp, matematik gibi bilimlerin temeli atılmıştır.
- D) İlk bilimsel çalışmalar Çin ve Hint'te başlamış, daha sonra Mısır ve Mezopotamya'da devam etmiştir.

13. Bilimin yapısını, doğasını, bilimsel kuramlarla gerçeklik arasındaki ilişkiyi, ilkelerini, ana kavramlarını ve bilimde yöntem problemini inceleyen felsefe dalı aşağıdakilerden hangisidir?

- A) Bilgi felsefesi
- B) Bilimsel felsefe
- C) Bilim felsefesi
- D) Bilimsel Kuram

14. Bilimin ürünü olan bilgi, onu ortaya koyan bilim insanının inançlarından, kişisel kanaatlerinden, dünya görüşünden bağımsız bir bilgidir. Bilimsel bilgi kişiden kişiye ya da toplumdan topluma değişmez.

Yukarıda bilimsel bilginin hangi özelliği anlatılmaktadır?

- A) Bilimin olgusal olması
- B) Bilimin nesnel olması
- C) Bilimin mantıksal olması
- D) Bilimin eleştirel olması

15. Bilimi bilim adamları topluluğunun bir etkinliği olarak gören ve bilimin ilerlemesini; bilim öncesi dönem, olağan bilim dönemi, bunalımlar ve devrim olmak üzere dört aşamada açıklayan filozof aşağıdakilerden hangisidir?

- A) Thomas Kuhn
- B) Stephen Toulmin
- C) Rudolf Carnap
- D) Francis Bacon

16. Bilimsel ve teknolojik gelişmeler günümüzde baş döndürücü bir hızla sürmektedir. Bu gelişmeler bir yandan insanın yaşamını kolaylaştırırken bir yandan da doğada telafisi mümkün olmayan tahribatlara neden olmaktadır. Bilim ve teknolojinin en olumsuz sonuçlarından birisi sayılan çevre kirliliği; hem çeşitli hastalıkların ortaya çıkmasına hem de bazı bitki ve hayvan türlerinin yok oluşuna neden olmaktadır.

Buna göre aşağıdakilerden hangisi söylenemez?

- A) Bilimsel gelişmeler yaşamı kolaylaştırmaktadır.
- B) Bilimin insanı ve doğayı tehdit eden bir yanı vardır.
- C) Gelecekte bilimin insana ve doğaya verdiği zararlar önlenilecektir.
- D) Çevre kirliliği bilim ve teknolojinin olumsuz sonuçlarından birisi olarak gösterilebilir.



## 1. OTURUM

(132) TARİH – 2

17. Varlığın madde ve düşünce olmak üzere birbirinden farklı iki tözden meydana geldiğini savunan düalist (ikinci) filozof aşağıdakilerden hangisidir?

- A) Thomas Hobbes
- B) Karl Marx
- C) Aristoteles
- D) Descartes

18. Aşağıdakilerden hangisi metafiziğin varlıkla ilgili temel sorularından değildir?

- A) Varlığın ana maddesi nedir?
- B) İnsani varlık neyi bilebilir?
- C) Evrende bir düzen var mıdır?
- D) Varlık değişken midir?

19. İslam felsefesinin kurucusu olarak kabul edilir. Aristoteles'in görüşleri ile İslam düşüncesini uzlaştırmaya çalışmıştır. Varlığı idea olarak kabul eden filozof aşağıdakilerden hangisidir?

- A) Farabi
- B) İbn-i Sina
- C) İbn-i Rüşd
- D) Yunus Emre

20. Varlığın ana ögesinin düşünce olduğunu, insan düşüncesinden bağımsız bir nesnelere dünyasının var olmadığını savunan felsefi öğretiyi aşağıdakilerden hangisidir?

- A) Rasyonalizm
- B) Nihilizm
- C) Materyalizm
- D) İdealizm

1. "..... Mekke'de İslamiyet öncesi kurulmuş olan, şehir yönetimi ile ilgili konularda toplanılarak kararların alındığı bir danışma kuruluydu."

Verilen cümlede boş bırakılan yere, aşağıdakilerden hangisi getirilmelidir?

- A) Dâr'ün Nedve
- B) Dâr'ül Erkam
- C) Kurultay
- D) Divan

2. Aşağıdakilerden hangisi İslamiyet öncesi Arap Yarımadası'nda inanılan dinlerden değildir?

- A) Hristiyanlık
- B) Putperestlik
- C) Yahudilik
- D) Budizm

3. Aşağıdakilerden hangisi, Arap Yarımadası'nda yetiştirilen en önemli tarım ürünüdür?

- A) Karpuz
- B) Zeytin
- C) Hurma
- D) İncir

4. Hz. Muhammed, amcası Ebu Talib ile Şam'a ticaret için gittiği bir yolculukta; konakladıkları Busra kasabasında Şam'a gitmemeleri gerektiği konusunda telkinde bulunan rahibin adı, aşağıdakilerden hangisidir?

- A) Bahira
- B) Ebu Leheb
- C) Meysere
- D) Şeybe

5. Aşağıdakilerden hangisi İslamiyet'i ilk kabul edenler arasında yer almaz?

- A) Hz. Ali
- B) Hz. Hatice
- C) Hz. Ebubekir
- D) Hz. Ömer

6. Hicret sonrasında Medine'de ilk cuma namazının kılındığı mescit, aşağıdakilerden hangisidir?

- A) Kuba Mescidi
- B) Mescid-i Aksa
- C) Mescid-i Nebevi
- D) Kâbe

7. "Hz. Muhammed'in amcası Ebû Tâlib ve hanımı Hz. Hatice'nin vefat ettiği yıla İslam tarihinde ..... denirdi."

Verilen bilgi cümlesinde boş bırakılan yere, aşağıdakilerden hangisi gelmelidir?

- A) Ayrılık Senesi
- B) Hüzün Senesi
- C) Ölüm Senesi
- D) Yas Senesi

8. İslâm Devleti'nin ilk donanması aşağıdaki halifelerden hangisi zamanında kurulmuştur?

- A) Hz. Ömer
- B) Hz. Osman
- C) Hz. Ali
- D) Hz. Ebubekir

9. "Mısır'da kurulmuş olan Tolunoğlu Devleti'nin yönetici ve askerî sınıfı Türklerden oluşurken, halkının büyük çoğunluğu ise ..... oluşurdu."

Verilen bilgi cümlesinde boş bırakılan yere aşağıdakilerden hangisi yazılmalıdır?

- A) Rumlardan
- B) Ermenilerden
- C) Araplardan
- D) Farslardan

10. Tarihte "sultan" unvanını kullanan ilk Türk hükümdarı, aşağıdakilerden hangisidir?

- A) Selçuk Bey
- B) Sebüktegin
- C) Melikşah
- D) Gazneli Mahmut

11. Büyük Selçuklularla Bizans arasında 1071 yılında meydana gelen savaş, aşağıdakilerden hangisidir?

- A) Dandanakan
- B) Katvan
- C) Malazgirt
- D) Pasinler

12. Büyük Selçuklularda hükümdar çocuklarının eğitim ve yetiştirilmelerinden sorumlu olan atabeylere, Osmanlı'da ne ad verildi?

- A) Tuğrai
- B) Lala
- C) Müstevfi
- D) Müşrif

## 1. OTURUM

13. Büyük Selçukluların, sultanlar ve büyük devlet adamları için yaptığı ve mimariye kazandırdığı anıt mezarlara verilen isim, aşağıdakilerden hangisidir?

- A) Kümbet B) Medrese  
C) İmarethane D) Külliye

14. I- Danişmentliler  
II- Karahanlılar  
III- Gazneliler  
IV- Mengücekliler

Yukarıdakilerden hangileri Anadolu'da kurulan devletler arasında yer almaz?

- A) I ve III B) I ve IV  
C) II ve III D) III ve IV

15. Malazgirt Savaşı sonrası Anadolu'da kurulan ilk devlet aşağıdakilerden hangisidir?

- A) Saltuklular  
B) Osmanlılar  
C) Türkiye Selçukluları  
D) Artuklular

16. Anadolu, Batı kaynaklarında ilk defa "Türkiye" adı ile aşağıdaki Türkiye Selçuklu hükümdarlarından hangisinin döneminde anılmıştır?

- A) I. Kılıçarslan  
B) I. Alâeddin Keykubad  
C) I. Mesud  
D) II. Kılıçarslan

17. Kralların ve imparatorların katıldığı ilk Haçlı Seferi, aşağıdakilerden hangisidir?

- A) I. Haçlı Seferi  
B) II. Haçlı Seferi  
C) III. Haçlı Seferi  
D) IV. Haçlı Seferi

18. Türkiye Selçuklu Devleti ilk defa ticaret antlaşmasını aşağıdaki devletlerden hangisiyle yapmıştır?

- A) Ceneviz B) Bizans  
C) Eyyubi D) Venedik

19. III. Haçlı Seferi'nin düzenlenmesinde aşağıdakilerden hangisi etkili olmuştur?

- A) Selahattin Eyyubi'nin Kudüs'ü fethetmesi  
B) Bizans İmparatorluğu'nun yardım istemesi  
C) Türkiye Selçuklularında taht mücadelesinin yaşanması  
D) Tuğrul Bey'in Büveyhoğullarına son vermesi

20. Türkiye Selçuklu Devleti'nin en parlak dönemi, aşağıdakilerden hangisi döneminde yaşanmıştır?

- A) I. Kılıç Arslan  
B) I. Mesud  
C) I. Alâeddin Keykubad  
D) I. İzzettin Keykavus

### (136) TARİH – 6

1. Hz. Ebu Bekir, Hz. Ömer, Hz. Osman ve Hz. Ali için ortak doğru bilgi, aşağıdakilerden hangisidir?

- A) Hz. Muhammed'in akrabasıdır.  
B) Hz. Muhammed'in damatlarıdır.  
C) İslam Devleti'nin ilk şehitleridir.  
D) İslam Devleti'nin ilk halifeleridir.

2. ■ = Halifenin onayını belirten fermanıdır.

▲ = Allah'ın varlık ve birliğinden bahseden dinî-felsefi bilimdir.

★ = Abbasiler Dönemi'nde Bizans tehlikesine karşı İslam Devleti'ni korumak amacıyla Türklerin yerleştirildiği sınır şehirleridir.

Yukarıda şekillerle birlikte verilen tanımların "Menşur", "Avasım" ve "Kelam" kavramları ile eşleştirilmesi, aşağıdakilerden hangisinde doğru olarak verilmiştir?

	■	▲	★
A)	Avasım	Menşur	Kelam
B)	Menşur	Kelam	Avasım
C)	Kelam	Menşur	Avasım
D)	Menşur	Avasım	Kelam

3. Aşağıdaki ülkelerden hangisinde, İslamiyet'in gelişip yayılmasında Türklerin bir rolü olmamıştır?

- A) İspanya B) Hindistan  
C) Arnavutluk D) Bosna-Hersek

4. İlk Müslüman Türk devletlerinin bazıları, büyük devletlerin merkezî otoritesini kaybetmesi sonucu, bağlı devlette görevli olan Türk vali veya komutanlar tarafından kurulmuşlardır.

Aşağıdaki devletlerden hangisinde bu durum görülmez?

- A) İhşidoğulları  
B) Tolunoğulları  
C) Karahanlılar  
D) Gazneliler

5. Karahanlıların bilinen ilk hükümdarı, aşağıdakilerden hangisidir?

- A) Satuk Buğra Han  
B) Arslan Han Bazir  
C) Kadir Han Oğulcak  
D) Bilge Kül Kadir Han

6. Gazneli Mahmut, Büveyhoğullarını yenerek Bağdat'ta oturan Abbasi halifesini Büveyh baskısından kurtarmıştır.

Bu hizmetine karşılık halifenin Gazneli Mahmut'a verdiği unvan, aşağıdakilerden hangisidir?

- A) Han B) Sultan  
C) Kağan D) Hakan

7. Aşağıdaki savaşlardan hangisi, Büyük Selçuklularla Gazneliler arasında yaşanmamıştır?

- A) Nesa B) Serahs  
C) Katvan D) Dandanakan

8. Oğuzların sağ koluna verilen isim, aşağıdakilerden hangisidir?

- A) Üçoklar B) Bozoklar  
C) Kayılar D) Salurlar

## 1. OTURUM

9. Büyük Selçuklu Devleti'nin haritasını çizmek istesek, aşağıdaki coğrafi bölgelerden hangisi bu haritamızda yer alamaz?
- A) Kırım B) Hicaz  
C) Kirman D) Mezopotamya
10. Aşağıdaki olaylardan hangisi, Büyük Selçuklu hükümdarı Tuğrul Bey Dönemi'nde meydana gelmiştir?
- A) İslam dininin ortaya çıkması  
B) Malazgirt Savaşı'nın kazanılması  
C) Samanoğulları Devleti'nin yıkılması  
D) Başkent Nişabur'dan Rey'e taşınması
11. Aşağıdakilerden hangisi, ilk Türk-İslam devletlerindeki taşra yönetim birimlerinden biri değildir?
- A) Köyler B) Nahiyeler  
C) Eyaletler D) Vilayetler
12. İlk Türk-İslam devletlerinde "kadiaskerler" in başkanlık ettiği mahkemelerin görev alanı, aşağıdakilerden hangisidir?
- A) Maliye  
B) Saray güvenliği  
C) Ordu içindeki anlaşmazlıklar  
D) Ordunun savaşa hazırlanması
13. Haracî arazi; ..... .  
Verilen kavram, aşağıdaki açıklamalardan hangisi ile tamamlanmalıdır?
- A) Selçuklu sultanlarının miri araziden bir kısım toprakları, çeşitli sosyal ve dinî yapılar inşa etmeleri için yararlılıkları görülen kişilere verdikleri topraklardır.  
B) Selçuklu Devleti sınırları içinde yaşayan ve Müslüman olmayan halkın elinde bulundurduğu arazilerdir.  
C) Büyük Selçuklularda hükümdar ve ailesine ait olan tarla, bağ, bahçe ve otlak gibi topraklara verilen isimdir.  
D) devlete hizmet eden meliklere, emirlere, komutanlara ve hasa ordusunun mensuplarına yaptıkları hizmetlerin karşılığı olarak verilen topraklardır.
14. "Divan-ı Lügat-it Türk" adlı esere ilgili olarak, aşağıda verilen bilgilerden hangisi doğrudur?
- A) İlk Türkçe ansiklopedik sözlüktür.  
B) Devlet yönetimine ilişkin öğütler verir.  
C) Mesnevi tarzında yazılmış bir ahlak kitabıdır.  
D) Türklerle Çinlilerin askerî mücadelelerini anlatır.
15. Selçuklularda, kervanların soyulması hâlinde tüccarın zararını devlet karşılamıştır.  
Selçuklular bu uygulama ile aşağıdakilerden hangisini amaçlamışlardır?
- A) Ticareti geliştirmeyi  
B) Mimaride ileri gitmeyi  
C) Kültürel yapıyı güçlendirmeyi  
D) İslamiyet'in yayılmasını sağlamayı
16. Selâhaddin Eyyubi, aşağıdaki devletlerden hangisini yıkarak Eyyubi Devleti'ni kurmuştur?
- A) Tolunoğulları  
B) Uygur  
C) Gazne  
D) Fatimî
17. I- İrgen  
II- Obog  
III- Millet  
IV- Yasun  
V- Aymağ  
Moğollardaki sosyal yapıyı oluşturan yukarıdaki birimlerin küçükten büyüğe sıralanışı, hangi seçenekte doğru verilmiştir?
- A) III - II - V - IV - I  
B) II - IV - V - I - III  
C) IV - V - II - I - III  
D) IV - II - I - III - V
18. Babür Devleti'nin resmî dili, aşağıdakilerden hangisidir?
- A) Moğolca B) Arapça  
C) Farsça D) Çince
19. "İslam dünyasında resim sanatı ....., ..... ve ..... okullarında geliştirilmişti. Timur bu kentleri ele geçirince buradaki sanatkarları Semerkant'a götürmüştür."  
Verilen bilgi cümlesinde boş bırakılan yerlere gelmesi gereken "üç şehir", aşağıdakilerin hangisinde birlikte verilmiştir?
- A) Şiraz - Tebriz - Bağdat  
B) Belh - Buhara - Taşkent  
C) Musul - İsfahan - Kandehar  
D) Hürmüz - Yarkent - Nişabur
20. Memlûk sultanlarının yazılı buyruklarına verilen isim, aşağıdakilerden hangisidir?
- A) Sultaniyet B) Devâddâr  
C) Nevbet D) Ceyş

### (151) COĞRAFYA – 1

1. Dağ, ova ve plato aşağıdaki doğal sistemlerden hangisinin inceleme alanına girer?
- A) Klimatoloji  
B) Hidrografya  
C) Jeomorfoloji  
D) Biyocoğrafya
2. Aşağıdakilerden hangisi atmosferin yararlarından biri değildir?
- A) Sıcaklığın dengeli dağılmasını sağlar.  
B) Gündüzleri sıcaklığın aşırı artmasını engeller.  
C) Hava olaylarının oluşumunu sağlar.  
D) Erozyon oluşumunu yavaşlatır.
3. Aşağıdakilerden hangisi özel amaçla hazırlanan bir haritadır?
- A) İdari harita  
B) Siyasi harita  
C) Fiziki harita  
D) İklim haritası

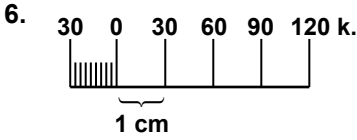
## 1. OTURUM

4. Paralel ve meridyenlerden yararlanarak geliştirilen koordinat sisteminin amacı aşağıdakilerden hangisidir?

- A) Dünya yüzölçümünü gerçeğe yakın hesaplamak
- B) Herhangi bir yerin konumunu belirlemek
- C) Dünya'nın boyutlarını en iyi şekilde hesaplamak
- D) Harita yapımında yapılan hataları azaltmak

5. Dünya'nın batıdan doğuya doğru döndüğü dikkate alınırsa aşağıdaki şehirlerimizin hangisinde yerel saatin daha ileri olduğu söylenebilir?

- A) Kars
- B) Sinop
- C) Adana
- D) Muğla



Yukarıdaki grafik ölçeğin kesir ölçeğe dönüştürülmüş ifadesi aşağıdakilerden hangisidir?

- A) 1:300.000
- B) 1:3.000.000
- C) 1:6.000.000
- D) 1:2.000.000

7. Yüzey şekillerinin eş yükselti eğrileriyle gösterildiği haritada 0 metre aşağıdakilerden hangisini gösterir?

- A) Akarsuları
- B) Kıyı çizgisini
- C) Göllerin kıyılarını
- D) Dağların doruklarını

8. Aşağıdakilerden hangisi Dünya'nın şekliinden kaynaklanan bir durum değildir?

- A) Meridyen yaylarının kutuplarda birleşmesi
- B) Yüksekçe çıkıldıkça görüş alanının artması
- C) Dünya'nın eksenindeki dönüş hızının Ekvator'da en fazla olması
- D) Denizlerin yüzölçümü toplamının karalardan daha fazla olması

9. Aşağıdaki tarihlerin hangisinden sonra Güney Kutup Nokta'sında gündüz başlar?

- A) 23 Eylül
- B) 21 Mart
- C) 21 Haziran
- D) 21 Aralık

10. Aşağıdakilerden hangisi atmosferde yer alan ozon tabakasının önemli bir özelliğidir?

- A) Fotosentez olayının gerçekleşmesini sağlar.
- B) Doğadaki azot dönüşümünü sağlar.
- C) Bünyesinde yoğun biçimde su buharı barındırır.
- D) Güneşten gelen zararlı mor ötesi (ultraviyole) ışınlarını tutar.

11. Sıcaklıkların Ekvator'dan kutuplara gidildikçe azalmasının sebebi aşağıdakilerden hangisidir?

- A) Dünyanın batıdan doğuya dönmesi
- B) Denizlerin karalardan daha geniş olması
- C) Güneş ışınlarının geliş açısının küçülmesi
- D) Buzulların kutup bölgelerinde yoğunluk kazanması

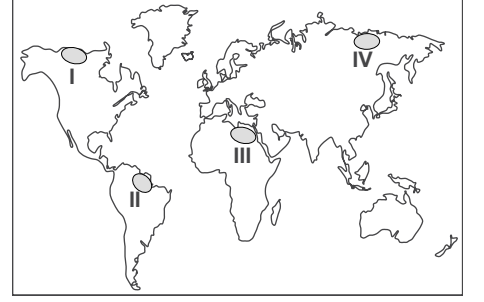
12. Sıcaklık terselmesi hangi özelliğe sahip yerlerde gözlemlenen bir olaydır?

- A) Çanak alanlarda
- B) Deniz yüzeylerinde
- C) Dağların zirvelerinde
- D) Girintili-çukuntulu kıyılarda

13. Aşağıdakilerden hangisi rüzgarların oluşumunu ve yönünü etkilemez?

- A) Toprak yapısı ve türleri
- B) Yer şekillerinin doğrultusu
- C) Basınç merkezlerinin yeri
- D) Dünyanın kendi çevresinde dönüşü

14.



Haritada numaralandırılarak verilen yerlerin hangisi daha çok yağış almaktadır?

- A) I
- B) II
- C) III
- D) IV

15. Çöl iklimi için aşağıdakilerden hangisi söylenemez?

- A) Nem oranı oldukça yüksektir.
- B) Yıllık yağış miktarı 100 mm'den azdır.
- C) Bitki örtüsü cılız ot ve kaktüslerdir.
- D) Gece ve gündüz arasında sıcaklık farkı yüksektir.

16. Mağmanın genel fiziki özelliği aşağıdakilerden hangisidir?

- A) Soğuk ve katı
- B) Soğuk ve akışkan
- C) Sıcak ve akışkan
- D) Çelik gibi sert ve yoğun

17. İlk bitkiler, su yosunları ve tek hücreli canlıların ortaya çıktığı yaklaşık 3,7 milyar ile 600 milyon yıl öncesini kapsayan jeolojik zaman aşağıdakilerden hangisidir?

- A) Neozoik
- B) Mezozoik
- C) Paleozoik
- D) Prekambrien

18. Yeryüzünün şekillenmesini sağlayan iç kuvvetler gücünü aşağıdakilerin hangisinden alır?

- A) Güneş
- B) Yer kabuğu
- C) Üst ve alt manto
- D) İç ve dış çekirdek

## 1. OTURUM

19.



Oluşum aşamaları gösterilen aşınım şekli aşağıdakilerden hangisidir?

- A) Barkan B) Falez  
C) Tafoni D) Tombolo

20. Aşağıdaki dış güçlerin hangisi toprak erozyonuna neden olmaz?

- A) Buzul B) Rüzgar  
C) Dalga D) Akarsu

### (155) COĞRAFYA – 5

1. Aşağıdakilerden hangisi iğne yapraklı orman biyomunun bitki örtüsünün genel adıdır?

- A) Tayga B) Savan  
C) Tundra D) Maki

2. Çöllerde yayılış gösteren bazı bitkilerin gövdelerinde yer alan dikenlerin görevi aşağıdakilerden hangisidir?

- A) Havadaki minerallerin bünyesine girmesini engellemek  
B) Bazı hayvan türlerine karşı kendini savunmak  
C) Gece sıcaklık düştüğünde bitkiyi soğuktan korumak  
D) Bitki bünyesindeki su ve nem miktarını korumak

3. Aşağıdakilerden hangisi geçmişten günümüze kadar canlıların yeryüzüne dağılışını daha az etkilemiştir?

- A) İnsan faaliyetleri  
B) Volkanik patlamalar  
C) İklim değişiklikleri  
D) Kıtaların kayması

4. Azot maddesinin temel kaynağı aşağıdakilerden hangisidir?

- A) Litosfer B) Atmosfer  
C) Hidrosfer D) Biyosfer

5. Nüfusla ilgili aşağıda varılan yargılardan hangisi yanlıştır?

- A) Nüfus miktarı ve özellikleri ile ülkenin kalkınmaları arasında bağlantı vardır.  
B) Artan dünya nüfusu sınırlı doğal kaynakları daha çok tüketmektedir.  
C) Bir ülke nüfusunun sayısal fazlalığı güçlü olması için yeterli bir özelliktir.  
D) Nüfusun hızlı artışı gibi, artmayışıda ülkeler için önemli bir sorundur.

6. • Nüfus artış hızını 1940'lı yıllara kadar teşviklerle % 2'ye yükseltmiştir.  
• Nüfusu bu kez çok artınca % 1'e düşürmüştür.  
• 1990 ılı yıllarda bu defa da nüfus artış hızı çok düşük seviyelere inince artış için teşvik kampanyaları başlatmış ancak istediği sonuca ulaşamamıştır.

Yukarıda nüfus politikaları hakkında kısaca bilgi verilen ülke hangisidir?

- A) Çin B) Türkiye  
C) Fransa D) Japonya

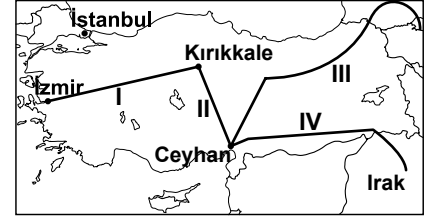
7. Aşağıdaki şehirlerden hangisi Kuzey Amerika'da yer almaktadır?

- A) Karaçi B) Los Angeles  
C) Cakarta D) Sao Paulo

8. Yer şekilleri, aşağıdakilerden hangisinin üzerinde daha çok belirleyici olduğu için; üretim, dağıtım ve tüketim faaliyetlerini etkiler?

- A) Ulaşım B) Enerji  
C) Bitki örtüsü D) Ham madde

9.



Yukarıdaki haritada numaralandırılarak verilen çizgilerden hangisi ülkemizdeki petrol boru hatlarından diri değildir?

- A) I B) II C) III D) IV

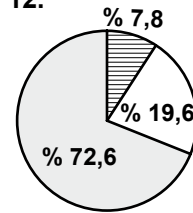
10. Kalkınma süreçlerini istikrarlı ve güvenli şekilde başarmış ülkelerin öncelikli özelliği aşağıdakilerden hangisidir?

- A) En büyük yatırımı ulaşım sektörüne yapmaları  
B) Bulaşıcı hastalıklarla başarılı şekilde mücadele etmeleri  
C) Nüfus artış hızlarının her dönem yüksek gerçekleşmesi  
D) Kendi doğal ve insan kaynaklarından verimli şekilde yararlanmaları

11. Aşağıdakilerden hangisi Anadolu da bir dönem yaşamış medeniyetlerden biri değildir?

- A) Troya B) Lidya  
C) Aztek D) Urartu

12.



- I → ?  
II → ?  
III → ?

Türkiye ekonomisinin sektörel dağılımı (2010 yılı)

Yukarıdaki grafiğe bakarak sektörlerin milli gelire göre ülkemiz ekonomisindeki dağılımı hangi seçenekte doğru verilmiştir?

- |           |        |        |
|-----------|--------|--------|
| I         | II     | III    |
| A) Sanayi | Tarım  | Hizmet |
| B) Tarım  | Sanayi | Hizmet |
| C) Sanayi | Hizmet | Tarım  |
| D) Hizmet | Tarım  | Sanayi |

## 1. OTURUM

13. Türkiye’de 1933 yılında devletçilik yoluyla sanayileşme politikasının seçilmesinin sebebi aşağıdakilerden hangisidir?

- A) Aşar vergisinin kaldırılması
- B) Nüfus artış hızının düşük olması
- C) Özel sermaye birikiminin yetersiz kalması
- D) Ekonominin tarım ağırlıklı yapıda olması

14. Aşağıdaki tarım bitkilerinden hangisinin üretimi Gıda Tarım ve Hayvancılık Bakanlığı tarafından özel izin ile belirlenen yerlerde yapılmaktadır?

- A) Kenevir
- B) Buğday
- C) Fındık
- D) Turunçgil

15. Ülkemizde arıcılığın yaygınlaşmasında aşağıdakilerden hangisinin etkisi yoktur?

- A) Yatırım giderlerinin düşük olması
- B) Ülkemizin bitki örtüsü zenginliği
- C) Ürünlerine olan talebin fazla olması
- D) Ekosistemin işleyişine katkı yapması

16. Başta altın, gümüş üretimi, aynaların sırlanması, barometre, pil ve böcek ilacı yapımında kullanılan maden aşağıdakilerden hangisidir?

- A) Manganez
- B) Asbest
- C) Civa
- D) Antimon

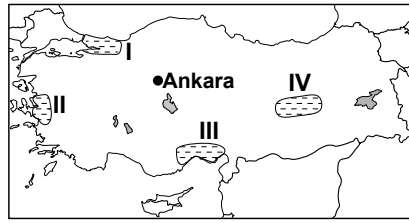
17. Türkiye aşağıda verilen hangi enerji kaynağı bakımından zengindir?

- A) Doğal gaz
- B) Linyit
- C) Petrol
- D) Taş Kömürü

18. Aşağıdakilerden hangisi yurdumuzda yaşanan afetlerin etkilerini arttıran doğal faktörlerdendir?

- A) Göç alan yerlerde plansız kentleşme
- B) Orman ve meraların tahrip edilmesi
- C) Dağlık ve engebeli arazi yapısı
- D) Arazinin hatalı kullanımı

19.



Yukarıdaki Türkiye haritasında numaralandırılarak verilen taraflı alanlardan hangisi sanayinin gelişmediği yerlerden biridir?

- A) I
- B) II
- C) III
- D) IV

20. Aşağıdaki illerin hangisinde sel ve taşkın olayları daha çok yaşanır?

- A) Kırklareli
- B) Bartın
- C) Kütahya
- D) Muş

### (157) COĞRAFYA – 7

1.



Şekilde hangi doğal afet gösterilmiştir?

- A) Sel
- B) Heyelan
- C) Kuraklık
- D) Volkanizma

2. Aşağıdakilerden hangisi heyelanlar sonucunda gelişen bir durum değildir?

- A) Küresel ısınma
- B) Kütle hareketleri
- C) Set gölü oluşumu
- D) Toprakların verimsizleşmesi

3. Aşağıdakilerden hangisi Atmosferdeki metan, diazot monoksit ve karbondioksit oranlarının değişmesiyle gerçekleşir?

- A) Hayvan türlerinin çoğalması
- B) Fosil yakıtların azalması
- C) Kayaların ufalanması
- D) İklim değişiklikleri

4. Aşağıdakilerden hangisi “Libya Yapay Nehir Projesi” içinde yer almaz?

- A) Su nakli yapılacaktır.
- B) Denizden toprak kazanılacaktır.
- C) Ekilebilir alan miktarı artacaktır.
- D) Yeraltı suları değerlendirilecektir.

5. Aşağıdakilerden hangisi Mısır Medeniyetinin diğer medeniyetlerden fazla etkilenmeyip kendine özgü özelliklerinin korunmasında etkili olmuştur?

- A) Afrika kıtasında yer alması
- B) Deniz kıyısına yakın olması
- C) Etrafının çöllerle kaplı olması
- D) Nil nehrinin etrafında gelişmiş olması

6. Aşağıdakilerden hangisi İnkâ Uygarlığının çalışmalarından değildir?

- A) Güneş saatini yapmak
- B) Gemi yapımında ustalaşmak
- C) Astronomik gözlemler yapmak
- D) Güneşin yıllık hareketlerini incelemek

7. Aşağıdaki medeniyetlerden hangisinin geliştiği yerin denizden yüksekliği diğerlerinden fazladır?

- A) İnkâ
- B) Hint
- C) Akdeniz
- D) Mezopotamya

8. Sanayi devriminden önce dünyada hâkim olan ekonomik faaliyet aşağıdakilerden hangisidir?

- A) Turizm
- B) Madencilik
- C) Ulaşım ve ticaret
- D) Tarım ve hayvancılık

9. Aşağıdakilerden hangisi Ruhr Bölgesi’nin gelir kaynaklarından değildir?

- A) Alternatif enerji
- B) Bilişim teknolojisi
- C) Film festivalleri
- D) Kömür ve çelik üretimi

## 1. OTURUM

10. Aşağıdakilerden hangisi teknolojinin insanlara verdiği zararlardan biridir?

- A) Yeni iş sahalarının oluşması
- B) Doğal kaynakları daha çok tüketmesi
- C) Hayat standardının yükselmesi
- D) Hizmet üretiminde iş gücü sayısının azalması

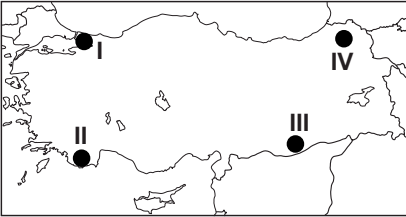
11. Dünyada şehirleşmenin hızlanarak artmasında etkili olan faktör aşağıdakilerden hangisidir?

- A) Sanayi
- B) Hizmet
- C) Ticaret
- D) İletişim

12. Aşağıdaki yerlerin hangisinde maki bitki topluluğu gelişmez?

- A) İzmir
- B) Muğla
- C) Adana
- D) Erzurum

13.



Haritada numaralandırılarak verilen yerlerden hangisi sanayi bölgesidir?

- A) I
- B) II
- C) III
- D) IV

14. Aşağıdakilerden hangisi ülkemizde demir ve karayolu yapım maliyetini daha fazla yükseltir?

- A) İklim
- B) Toprak çeşidi
- C) Bitki örtüsü
- D) Yeryüzü şekilleri

15. Ülkemizde hızlı ilerleme kaydeden demiryollarının 1940-1950 yılları arasında durgunluk dönemine girmesinin nedeni aşağıdakilerden hangisidir?

- A) II. Dünya Savaşı'nın yaşanması
- B) Karayollarının önem kazanması
- C) Gemi yapım sanayisinin gelişmesi
- D) İngiliz ve Fransızların desteğini çekmesi

16. Aşağıdaki ürünlerden hangisi Karadeniz tarım bölgesine aittir?

- A) Muz
- B) Üzüm
- C) Fındık
- D) Buğday

17. Ulaşım sektörü için aşağıdakilerden hangisi söylenemez?

- A) Üretilen mal ve hizmetlerin taşınmasıdır.
- B) Üretim ve tüketim merkezleri arasında ticareti sağlar.
- C) Dünya ülkeleri ile bağlantıyı sağlayan hizmet sektörüdür.
- D) Yük ve yolcu taşımacılığında en ekonomik ulaşım karayoludur.

18. Türkiye Gümrük Birliğine hangi yıl girmiştir?

- A) 1936
- B) 1980
- C) 1996
- D) 2002

19. Peribacaları için aşağıdakilerden hangisi söylenemez?

- A) Karstik şekillerdir.
- B) Doğal yapılardır.
- C) Volkanik arazide oluşmuşlardır.
- D) Sel sularının etkisiyle şekillenmişlerdir.

20. Ülkemizdeki bitki çeşitliliği hangi turizm türünün gelişmesini daha çok sağlamıştır?

- A) Kültür
- B) Botanik
- C) Yayla
- D) Dağcılık

### (181) İNGİLİZCE – 1

1 - 20. sorularda boş bırakılan yere uygun gelen kelime ya da ifadeyi işaretleyiniz.

1. .... plays football after school every day.

- A) I
- B) We
- C) He
- D) They

2. I never give money to my desk mate because he ..... gives it back.

- A) never
- B) often
- C) always
- D) sometimes

3. My friends are playing basketball .....

- A) usually
- B) every Sunday
- C) last week
- D) at the moment

4. We won the tennis match .....

- A) tomorrow
- B) next week
- C) three days ago
- D) every weekend

5. Children ..... play with fire. It's dangerous.

- A) can
- B) mustn't
- C) couldn't
- D) should

6. I ..... eat a lot of chocolate but now I'm on a diet.

- A) used to
- B) am not
- C) cannot
- D) did not

7. I ..... at home at 5 yesterday, but I ..... at school now.

- A) am / was
- B) was / am
- C) am / am
- D) was / was

8. She ..... in Samsun at 7 o'clock yesterday.

- A) watched
- B) liked
- C) arrived
- D) rained

9. I ..... a new car last week.

- A) ate
- B) wrote
- C) drank
- D) bought

10. There are five ..... in my bag and a ..... on the table.

- A) book / dictionary
- B) book / dictionaries
- C) books / dictionary
- D) books / dictionaries

11. As soon as he arrives in Ankara, .....

- A) he will telephone his family.
- B) he is a student at university.
- C) he has got two children.
- D) he is studying English.

## 1. OTURUM

12. **A: Whose are these newspapers?**  
**B: They are ..... newspapers.**
- A) our                      B) him  
C) we                        D) they
13. **A: ..... you help me?**  
**B: What can I do for you?**
- A) Were                    B) Could  
C) Are                      D) May
14. **A: Is he swimming?**  
**B: Yes, .....**
- A) he does                B) he did  
C) he is                    D) he will
15. **A: How often do you go shopping?**  
**B: .....**
- A) Yesterday            B) Once a week  
C) Tomorrow            D) This week
16. **A: How ..... chocolate cake do you want?**  
**B: I don't want .....**
- A) many / much  
B) many / many  
C) much / many  
D) much / much
17. **A: What are .....?**  
**B: ..... are my books.**
- A) that / These  
B) those / They  
C) this / That  
D) these / This
18. **A: Who is that girl?**  
**B: .....**
- A) She's 15.  
B) She's my sister.  
C) She's late to school.  
D) She's a good student.
19. **A: May I use your telephone?**  
**B: .....**
- A) I'm afraid she is out.  
B) It is very expensive.  
C) It belongs to me.  
D) Yes, of course.

20. **A: What are your plans for this weekend?**  
**B: .....**
- A) I'm going to have a picnic.  
B) I'll get you an aspirin.  
C) I have tea every day.  
D) I flew to Istanbul.

### (181) ALMANCA – 1

1 - 20. sorularda boş bırakılan yere uygun gelen ek, kelime ya da ifadeyi işaretleyiniz.

1. **Ich ..... Faruk.**  
**Wie ..... du?**
- A) heißt / heiße  
B) heißen / heißt  
C) heiße / heißt  
D) heißt / heißen
2. **A: ..... bist du?**  
**B: Ich bin 15 Jahre alt.**
- A) Wie alt                B) Woher  
C) Wie                    D) Was
3. **15 + 4 = .....**
- A) neun                    B) null  
C) neunzehn            D) siebzehn
4. **A: ..... Wohnst du?**  
**B: ..... Ankara.**
- A) Wer / Aus            B) Wo / In  
C) Wie / Aus            D) Was / In
5. **A: ..... ist dein Hobby?**  
**B: Schwimmen.**
- A) Wo                      B) Woher  
C) Wie                      D) Was
6. **Das ist mein-... Bruder.**  
**..... heißt Stefan.**
- A) - / Sie                B) -e / Sie  
C) - / Er                 D) -e / Er

7. **A: Wer ist das?**  
**B: Das ..... Stefan.**
- A) sein                    B) ist  
C) bin                     D) sind
8. **A: Was machst .....?**  
**B: Ich ..... Schach.**
- A) ich / spiele          B) ihr / spielen  
C) du / spiele          D) du / spielst
9. **A: Ist die Ameise faul?**  
**B: Nein, die Ameise ist ..... faul. Sie ist .....**
- A) nicht / fleißig      B) kein / fleißig  
C) nicht / faul         D) keine / faul
10. **Du brauchst ..... Sonnenschirm (der) und ..... Buch (das).**
- A) eine / einen        B) einen / ein  
C) ein / ein            D) eine / ein
11. **Freitag, ....., Sonntag**
- A) Mittwoch            B) Donnerstag  
C) Montag               D) Samstag
- 21:40**
12. **Es ist .....**
- A) zwanzig Uhr einundzwanzig  
B) einundzwanzig Uhr zwanzig  
C) einsundzwanzig Uhr vierzig  
D) einundzwanzig Uhr vierzig
13. **A: ..... denkst du?**  
**B: Ich denke an meine Freunde.**
- A) Woran                B) Wonach  
C) Worüber            D) Wozu
14. **Kannst du mir sagen, ..... deine Adresse ist?**
- A) wann                 B) wie  
C) ob                     D) was

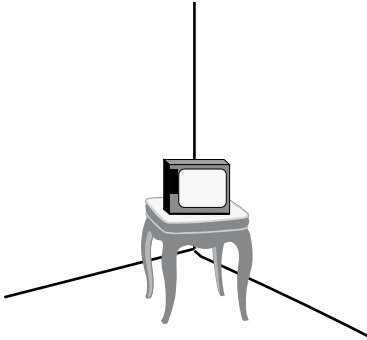


## 1. OTURUM

15. A: ..... fährst du in die Stadt?  
B: Mit ..... Straßenbahn (die).

- A) Womit / der    B) Woher / dem  
C) Wann / die    D) Was / der

16.



A: Wohin soll ich den Fernseher stellen?

B: ..... Ecke (die), ..... Tisch (der), bitte!

- A) Auf der / über den  
B) In die / auf den  
C) Vor der / auf die  
D) Hinter die / zwischen den

17. A: Ich, Ayşe und Mehmet gehen ins Kino.

B: Darf ich auch mit ..... ins Kino gehen?

A: Ja, du darfst mit ..... ins Kino gehen.

- A) dir / mir    B) ihm / dir  
C) euch / uns    D) mir / uns

18. Ich muss duschen, ..... ich in die Schule gehe.

- A) bevor    B) dass  
C) während    D) als

19. Am Wochenende ..... ich lange .....

- A) hat / schlief  
B) hatte / geschlafft  
C) hast / schlafen  
D) habe / geschlafen

20. Ich fahre ..... Sonntag, ..... 22:00 Uhr nach München.

- A) im / am    B) im / um  
C) um / am    D) am / um

### (181) FRANSIZCA – 1

**1 - 18. sorularda boş bırakılan yere uygun gelen kelime ya da ifadeyi işaretleyiniz.**

1. Mon père ..... une nouvelle voiture.

- A) commanderez  
B) commandera  
C) commanderons  
D) commanderai

2. Pierre invite ..... ma famille au dîner.

- A) toute    B) toutes  
C) tout    D) tous

3. Pourquoi tu me dis la ..... chose.

- A) mêmes    B) autre  
C) même    D) autres

4. Nous allons ..... au café pour boire quelque chose.

- A) pour    B) toujours  
C) avec    D) chaque

5. .... professeurs n'ont pas participé à la réunion.

- A) Certaine    B) Certaines  
C) Certain    D) Certains

6. .... étudiante n'a compris la leçon.

- A) Aucune    B) Aucun  
C) Plusieurs    D) Autres

7. Si tu ..... sortir, finis tes devoirs!

- A) a voulu    B) voulais  
C) voudrais    D) veux

8. .... fille porte une robe en soie.

- A) Plusieurs    B) Quelques  
C) Un autre    D) Chaque

9. Si j'étais riche, je ..... en Afrique.

- A) partir    B) partirais  
C) partez    D) vais partir

10. Elles ..... la télévision chez Pierre.

- A) regarderons  
B) regarderas  
C) regarderont  
D) regarderez

11. ...., je suis allé au concert de Say.

- A) La semaine prochaine  
B) Dimanche dernier  
C) Le mois prochain  
D) Dans deux jours

12. Gökhan a des chaussures .....

- A) noir    B) noirs  
C) blancs    D) blanches

13. .... couleur sont vos yeux?

- A) Quel    B) Combien  
C) Pourquoi    D) De quelle

14. .... m'a appelé?

- A) Aucune    B) Quelqu'un  
C) Personne    D) Rien

15. Je ne veux ni toi ..... elle.

- A) ne    B) pas    C) ni    D) on

16. Parlez-moi plus fort, je ne ..... écoute pas.

- A) lui    B) leur  
C) vous    D) moi

17. A: Vous voyez cette fille?  
B: Oui, je ..... vois.

- A) la    B) les    C) le    D) des

## 1. OTURUM

(244) İNGİLİZCE – 5

1 - 20. sorularda boş bırakılan yere uygun gelen kelime ya da ifadeyi işaretleyiniz.

18. A: À quoi ça sert un savon?  
B: Un savon, ça sert à .....

- A) se laver les mains
- B) se brosser les dents
- C) se coiffer
- D) se raser

19 - 20. soruları resimleri dikkate alarak cevaplayınız

19.



A: Qu'est-ce que c'est?  
B: C'est une .....

- A) dossier
- B) ordinateur
- C) appareil de photo
- D) calculatrice

20.



J'ai de la barbe et des .....

- A) moustaches
- B) lunettes
- C) visage rond
- D) belles dents

9. Seda writes ..... carefully than her brother.

- A) much
- B) many
- C) most
- D) more

10. You should drive more ..... You will have an accident.

- A) comfortably
- B) fluently
- C) slowly
- D) happily

11. The weather is ..... than yesterday.

- A) bad
- B) worst
- C) less
- D) worse

12. Be quite, .....?

- A) have you
- B) will you
- C) are you
- D) do you

13. Ayşe is studying in her room, .....?

- A) is she
- B) wasn't she
- C) was she
- D) isn't she

14. He hasn't played tennis before, .....?

- A) are you
- B) will they
- C) has he
- D) does she

15. Let's go to the cinema, .....?

- A) shall we
- B) did we
- C) do we
- D) were we

16. We haven't eaten anything since .....

- A) hours
- B) days
- C) a long time
- D) yesterday

17. She will be a teacher .....

- A) since March
- B) last year
- C) for a week
- D) in the future

1. I ..... football yesterday with my friends.

- A) play
- B) played
- C) playing
- D) to play

2. They didn't ..... to the theatre last weekend.

- A) go
- B) went
- C) gone
- D) going

3. I have ..... in England for ten years.

- A) live
- B) lived
- C) living
- D) to live

4. My mother was ..... the house when she fell down.

- A) ringing
- B) sitting
- C) cleaning
- D) starting

5. Tomorrow ..... a very busy day for me.

- A) was
- B) will be
- C) are
- D) has been

6. Ali has studied English ..... morning .

- A) since
- B) for
- C) just
- D) yet

7. Ayla was cutting the meat ..... she cut her finger.

- A) before
- B) after
- C) while
- D) when

8. Today I woke up earlier ..... usual.

- A) from
- B) after
- C) than
- D) then

## 1. OTURUM

18. I ..... have long hair but I had it all cut off.

- A) might      B) should  
C) used to    D) have to

19. .... you ..... to watch horror films when you were a little kid?

- A) Did / use    B) Are / use  
C) Are / used   D) Did / used


20. The students were playing in the garden when .....

- A) they are discussing.  
B) the school bell rang.  
C) they will take an exam.  
D) their parents have visited.

### (244) ALMANCA – 5

1 - 14. sorularda boş bırakılan yere uygun gelen kelime ya da ifadeyi işaretleyiniz.

1.



Ali      Can

Ali ist dicker ..... Can.

- A) als      B) wenn  
C) dass    D) weil

2. Sie kommt oft zu spät, ..... Sie gern lange schläft.

- A) um zu    B) weil  
C) darum   D) wenn

3. Mein Vater arbeitet ..... Montag ..... Freitag.

- A) am / bis    B) von / bis  
C) um / am    D) bis / von

4. Man sollte ..... frühstücken.

- A) morgens    B) morgen  
C) mittag      D) nachts

5. Dienstag, ....., Donnerstag

- A) Samstag    B) Freitag  
C) Montag     D) Mittwoch

6. A: ..... brauchst du einen Regenschirm?

B: Um nicht nass zu werden.

- A) Weshalb    B) Wozu  
C) Warum    D) Was

7. A: ..... kaufst du so viele Bücher?

B: ..... lesen mein Hobby ist.

- A) Warum / Denn  
B) Wozu / Weil  
C) Wie / Um  
D) Warum / Weil

8. A: ..... lernst du ?

B: Um die Prüfung zu bestehen.

- A) Wo      B) Warum  
C) Wozu    D) Wie

9. A: Wann bist du geboren?

B: Ich bin ..... 2001 geboren.

- A) im Jahre    B) am  
C) um          D) im

10. A: ..... dauert eine Unterrichtsstunde?

B: 45 Minuten. Danach gibt es Pause.

- A) Wieviel    B) Wie oft  
C) Wann      D) Wie lange

11. A: Wann kommst du wieder?

B: ..... Freitag nach der Schule ..... 15:00 Uhr.

- A) im / bis    B) von / bis  
C) am / um    D) um / im

12. A: ..... gehst du zum Zahnarzt?

B: Häufig.

- A) Wie lange    B) Wie  
C) Wie oft      D) Wann

13. A: Wie spät ist es?

B: Es ist ..... Uhr. (09:20)

- A) zwanzig nach neun  
B) zwanzig vor neun  
C) neun zwanzig  
D) zwanzig neun

14. A: ..... kommst du nicht mit?

B: ..... ich keine Zeit habe.

- A) Weshalb / Denn  
B) Warum / Weil  
C) Wozu / Um  
D) Warum / Um ... zu

15. Fiat: 500 km / h

VW: 300 km / h

Audi: 290 km / h

Bu bilgiler doğrultusunda bir derecelendirme için, uygun sıfat hangisidir?

- A) schnell      B) dick  
C) schön       D) billig

16. Aşağıdakilerden hangisinde uygun olmayan bir sıfat kullanılmıştır?

- A) der schnellste Läufer  
B) der höchste Berg  
C) das laute Haus  
D) die moderne Stadt

17. Aşağıdakilerden sıfatların Türkçe karşılığı hangi seçenekte sırasıyla verilmiştir?  
warm / hell / stark

- A) güçlü / sıcak / aydınlık  
B) soğuk / aydınlık / sıcak  
C) sıcak / aydınlık / güçlü  
D) koyu / zayıf / güçlü

18. "teuer" sıfatının komparativ halde doğru kullanıldığı seçenek hangisidir?

- A) Das Sommerkleid ist teurer als die blaue Hose.  
B) Die Waren in diesem Laden sind am teuersten.  
C) Das Haus mit Garten in İncek ist teuer.  
D) Der BMW ist teurer als der Ford.

## 1. OTURUM

19. Juni, Juli, August ( Welche Jahreszeit?)  
A) der Herbst B) der Winter  
C) der Frühling D) der Sommer
20. Aşağıdakilerden hangisi özgeçmişte (Lebenslauf) yer almaz?  
A) Vor-und Nachname  
B) Hobbys  
C) Geburtsort  
D) Ausbildung

### (244) FRANSIYZCA – 5

1 - 16. sorularda boş bırakılan yere uygun gelen kelime ya da ifadeyi işaretleyiniz.

1. Nicolas attend sa femme ..... rentre de voyage.  
A) dans B) dont  
C) qui D) quel
2. Cette amie me ..... souvent des histoires.  
A) raconte B) racontes  
C) racontez D) racontent
3. Cet été, on ..... au bord de la mer.  
A) ira B) irons  
C) iras D) irai
4. Nous regardons la maison ..... Marie a achetée.  
A) que B) dont  
C) qui D) quel
5. Nous sommes allées au restaurant qui ..... à côté de la poste.  
A) sont B) es  
C) êtes D) est

6. Elles ont fait un voyage ..... elles sont mécontentes.  
A) aux B) dont  
C) que D) quel
7. Mary vient de ..... le métro pour aller au travail.  
A) prends B) prenez  
C) prennent D) prendre
8. Ma mère ..... tous les disques de ce chanteur.  
A) a acheté B) as acheté  
C) ont acheté D) ai acheté
9. Ma grand-mère nous ..... toujours de son voyage.  
A) parlais B) parlions  
C) parlait D) parlant
10. Les touristes ont pris des photos à Istanbul ..... ma tante habite.  
A) où B) dont  
C) qui D) quel
11. Pour acheter de la viande, il faut ..... à la boucherie.  
A) vais B) vas  
C) vont D) aller
12. Mes parents vont partir en vacances ..... juillet.  
A) ou B) au  
C) en D) aux
13. .... vivons ensemble dans cette maison.  
A) Vous B) Nous  
C) Ils D) Elles
14. Ce secrétaire ..... plusieurs langues travaille ici.  
A) parlant B) parlez  
C) parler D) parles

15. Ne parlez pas ..... mangeant!  
A) dans B) avec  
C) pour D) en

16. Le professeur distribue ..... photocopies.  
A) le B) la C) les D) du

17-18. sorularda verilen Fransızca cümlelerin Türkçe dengini işaretleyiniz.

17. Le match qui a été ajourné était entre le Brésil et le Mexique.  
A) İptal edilen maçı Brezilya ve Meksika oynadı.  
B) Ertelenen maç Brezilya ve Meksika arasında idi.  
C) Ertelenen maçta Brezilya Meksika'yı yendi.  
D) İptal edilen maçta Brezilya Meksika'ya karşı oynadı.
18. N'oublie pas d'envoyer ces lettres avant jeudi!  
A) Bu mektupları perşembeden önce yolla!  
B) Bu mektupları perşembeden önce bitirmeyi unutma!  
C) Bu mektupları perşembeden önce göndermeyi unutma!  
D) Bu mektupları perşembeye kadar yazmayı unutma!

19-20. sorularda verilen Türkçe cümlelerin Fransızca dengini işaretleyiniz.

19. Sevgilimin organize ettiği gece harika idi.  
A) Le jour que ma petite amie a organisé est formidable.  
B) Ma petite amie a organisé une soirée qui était formidable.  
C) Ma petite amie qui a organisé une soirée était formidable.  
D) La soirée que ma petite amie a organisé était formidable.
20. Melih kız kardeşinden Allaha ismarladık diyerek ayrıldı.  
A) La sœur de Melih a dit adieu.  
B) Melih a dit adieu à sa sœur.  
C) Melih a quitté sa sœur en disant adieu.  
D) La sœur de Melih a quitté en disant adieu.

## 1. OTURUM

### (401) DİL VE ANLATIM – 1

1. Aşağıdakilerden hangisi iletişim ögelerindedir?

- A) Radyo B) Televizyon  
C) Telefon D) Alıcı

2. Sözcükleri biçim yönünden inceleyerek kök ve eklerin yapısını belirleyen bilim dalına ne ad verilir?

- A) Fonetik B) Morfoloji  
C) Etimoloji D) Semantik

3. Türkiye’de yazı dili olarak kullanılan ağır aşağıdakilerden hangisidir?

- A) Ankara Ağzı  
B) Diyarbakır Ağzı  
C) Tekirdağ Ağzı  
D) İstanbul Ağzı

4. Türkçe, yapı ve köken bakımından hangi dil grubuna dahildir?

- A) Tek Heceli Diller, Hami-Sami Dilleri  
B) Çekimli Diller, Bantu Dilleri  
C) Sondan Eklemeli Diller, Ural-Altay Dilleri  
D) Çekimli Diller, Hint-Avrupa Dilleri

5. Aşağıdaki özelliklerden hangisi tek heceli diller için yanlıştır?

- A) Getirilen ekler kökle kaynaşmıştır.  
B) Sözcükte vurgu hâkimdir.  
C) Çekim eki yoktur.  
D) Yerine göre 10-15 anlam kazanır.

6. Göktürkçe ve Uygurca, Türk dilinin hangi gelişim aşamasında yer almaktadır?

- A) Eski Türkçe Çağı  
B) İlk Türkçe Çağı  
C) En Eski Türkçe Çağı  
D) Altay Çağı

7. Türkçede genel olarak vurgu hangi hecededir?

- A) İlk hecede  
B) Son hecede  
C) Orta hecede  
D) Kelimenin tamamında

8. Otomobili ikide bir durdurup erkek, kadın, çocuk, kimi görürsek soruyorduk.

Yukarıdaki cümlede büyük ünlü uyumuna uyan kaç sözcük vardır?

- A) 5 B) 6 C) 7 D) 8

9. Aşağıdaki sözcüklerin hangisinde ünsüz yumuşaması vardır?

- A) Sokaktan B) Ağaçta  
C) Ekmeği D) Çiçekçi

10. Aşağıdaki cümlelerin hangisinde büyük harflerin yazımıyla ilgili bir yanlışlık yapılmıştır?

- A) 29 Mayıs 2014 pazar günü pikniğe gittik.  
B) 3. sınıfta okuyan kardeşim de geldi.  
C) Bakkal Ahmet herkese şeker ikram etti.  
D) Piknikten sonra Ankara’ya gittik.

11. Aşağıdakilerin hangisinde sayıların yazımıyla ilgili bir yanlışlık yapılmıştır?

- A) Film iki buçukta başlayacak.  
B) Öğretmen hepimize üçer kalem verdi.  
C) 35 Yaş şiirinin şairi Cahit Sıtkı’dır.  
D) Bankadan bin iki yüz elli lira çekecekmış.

12. Aşağıdaki cümlelerin hangisinde “ki” nin yazımı yanlıştır?

- A) Erken kalk ki geç kalmayasın.  
B) Sepeti uzattı ki üzüm doldursun.  
C) Tarlada ki sıcaklığı sevmedi.  
D) İşini çabuk bitirdi ki eve çabuk gitsin.

13. Aşağıdaki cümlelerin hangisinde “de”nin yazımıyla ilgili bir yanlışlık yapılmıştır?

- A) Akşama kadar sokakta top oynar.  
B) Annesinde seslenmelerine aldırış etmez.  
C) Akli bisikletinde kalmıştı.  
D) Odasında yorgunluktan uyuyakalır.

14. Aşağıdaki cümlelerde altı çizili sözcüklerden hangisi doğru yazılmıştır?

- A) Köylüler iyi zannettikleri uygulamaların yanlış olduğunu öğrendi.  
B) Baş hekim salgın hastalıklar konusunda köyü bilgilendirdi.  
C) Kuş burnu birçok hastalığa iyi geliyormuş.  
D) Ardından kuşüzümü ile ilgili soru sordular.

15. ( ) Çocuklar neden bu kadar keyifli ( )

( ) Babaları onlara yeni oyuncak almış ( )

Yukarıdaki konuşmada parantez içindeki boşluklara sırasıyla hangi noktalama işaretleri gelmelidir?

- A) Tırnak işareti, Tırnak işareti, Uzun çizgi, Nokta  
B) Uzun çizgi, Soru işareti, Uzun çizgi, Nokta  
C) Uzun çizgi, Üç nokta, Uzun çizgi, Ünlem İşareti  
D) Tırnak işareti, Soru işareti, Tırnak işareti, Ünlem İşareti

16. Aşağıdaki cümlelerin hangisinde “virgül” eş görevli sözcükleri ayırmak için kullanılmıştır?

- A) Sevgili Kardeşim, seni çok özledim.  
B) Sen hele bir gel, daha neler yapacağız.  
C) Teyzem, sana güzel yemekler yapacağını söyledi.  
D) Eminim annem, babam da seni çok özledi.

## 1. OTURUM

### (402) DİL VE ANLATIM – 2

17. Aşağıdaki cümlelerin hangisinde yazım yanlışı vardır?

- A) Toplantı 01.07.2014'te yapıldı.
- B) Gelmeyenlerden biri de O'ydu.
- C) Millî Edebiyat Akımının temsilcileri konuşuldu.
- D) Konuşulanlar Türk Dil Kurumuna rapor olarak sunuldu.

18. Aşağıdaki sözcüklerden hangisi ünlüyle başlayan bir ek aldığı anda sonundaki sert ünsüz yumuşar?

- A) Kaynak
- B) Mesaj
- C) Dil
- D) Ortam

19. Dille ilgili bilgilerden hangisi yanlıştır?

- A) Sosyal bir kurumdur.
- B) Cansız bir varlıktır.
- C) En etkili iletişim aracıdır.
- D) İnsanlara özgüdür.

20. Aşağıdakilerden hangisi Türkçenin ses özelliklerinden değildir?

- A) Türkçe sözcükler büyük ve küçük ünlü uyumuna uyar.
- B) Türkçe sözcüklerde uzun ünlü yoktur.
- C) Sözcüğün sonunda üç ünsüz ses yan yana bulunabilir.
- D) Sözcüğün başında iki ünsüz yan yana bulunmaz.

1. Aşağıdaki sözcüklerden hangisi hem isim hem de fiil kökü özelliği taşımamaktadır?

- A) İç
- B) Acı
- C) Taş
- D) Su

2. Aşağıdaki sözcüklerden hangisi birden fazla yapım eki almıştır?

- A) Kitaplık
- B) Sevgili
- C) Keskin
- D) Arkadaş

3. Aşağıdaki cümlelerin hangisinde "ki" aitlik bildirmektedir?

- A) Ağaca dikkatli çık ki düşmeyesin.
- B) Penceredeki fesleğen çok güzel kokuyor.
- C) Yaz gelsin ki çocuklar dışarıda oynayabilsin.
- D) Perdeleri güzel yıkamalı ki içeri aydınlık girsin.

4. Üç bin sandığın tutarı bin dokuz yüz yirmi lirayı patrona teslim etti.

Yukarıdaki cümlede çekim eki almış kaç sözcük vardır?

- A) 3
- B) 4
- C) 5
- D) 6

5. Aşağıdaki cümlelerin hangisinde soyut sözcük vardır?

- A) Duyularını henüz kimseye açamamıştı.
- B) Suyunu içtikten sonra bardağı masaya bıraktı.
- C) Gül desenli pembe saat, odanın en renklisiydi.
- D) Kitapları çantasına koyup evden çıktı.

6. Aşağıdaki cümlelerin hangisinde "kulak" sözcüğü mecaz anlamda kullanılmıştır?

- A) Gürültüden rahatsız olup kulaklarını kapadı.
- B) Köprü'nün kulağına oturmuş gelen geçeni izliyordu.
- C) Müzik kulağı onu konservatuvara taşımıştı.
- D) Traktör tarlanın kulağından geçmekte zorlanıyordu.

7. Tevfik Bey, içeri girdiği zaman ağabeyini yine pencerenin önünde buldu.

Yukarıdaki cümlede altı çizili tamlama ile aşağıdakilerden hangisi aynı türdedir?

- A) Donuk ses
- B) Yolcu otobüsü
- C) Suyun bulanıklığı
- D) Tahta kaşık

8. Aşağıdaki cümlelerden hangisinin öznesi gerçek öznedir?

- A) Annem eve misafir davet etti.
- B) Temizlik yaparken kıyafetlerim ıslatıldı.
- C) Yağmur yağınca yollar yıkandı.
- D) Bankadan çıkarken param çalındı.

9. Aşağıdaki cümlelerin hangisinde zarf tümleci yoktur?

- A) Çocuklar birer ikişer dağıldılar.
- B) Mendilindeki oyaı annesi işlemişti.
- C) Otobüse koşarak yetişebildi.
- D) Akşam olmadan eve geldi.

10. Aşağıdakilerden hangisi isim cümlesidir?

- A) Sık sık derin düşüncelere dalan bir kızdı.
- B) Dönüş yolu daha kısa sürdü sanki.
- C) Eve gidene kadar soğurdu bunlar.
- D) Çok garip bir gerginlik oldu aramızda.

## 1. OTURUM

11. En sevdiği yemeğin nohut, en sevdiği oyunun dokuz taş olduğunu söyledi.

Yukarıdaki cümlelerin öge dizilişi aşağıdakilerin hangisinde doğru verilmiştir?

- A) Özne - Yüklem
- B) Özne - Dolaylı Tümluç - Yüklem
- C) Nesne - Yüklem
- D) Zarf Tümluci - Özne - Yüklem

12. Aşağıdaki cümlelerin hangisi olumsuz ve devriktir?

- A) Yüzünde masum bir ifade yoktu.
- B) Ancak sokağa çıkınca sakinleşti.
- C) Güvenmeyecekti kimseye artık.
- D) Sevincinden çılgınlık attı babasını görünce.

13. Aşağıdaki cümlelerin hangisinin yüklemi haber kipiyle çekimlenmiştir?

- A) Dondurmayı yedikten sonra su içmelisin.
- B) Kurstan çıktıktan sonra bize gelsin.
- C) Onu ne kadar sevdiğimi bir bilse.
- D) Bilgisayarda oyun oynuyor.

14. Aşağıdaki cümlelerin hangisinin yüklemi gereklilik kipiyle çekimlenmiştir?

- A) Babam iyi bir sürücüdür.
- B) Karşıdan karşıya geçerken dikkatli olmalısın.
- C) Ehliyet kursuna birlikte gidelim mi?
- D) Direksiyon derslerini sakın kaçırma.

15. Aşağıdaki cümlelerin hangisinde sebep-sonuç ilişkisi vardır?

- A) Hastanede kulak ağrısı yüzünden yatıyordum.
- B) İlaç verilmeden önce birçok tahlil yapıldı.
- C) Ziyaretime okuldan arkadaşlarım da geldi.
- D) Doktorun verdiği ilaçları düzenli kullandım.

16. Aşağıdaki cümlelerin hangisi üzüntü bildirmektedir?

- A) İstanbul'daki işlerim tahminimden de çok uzadı.
- B) Dönerken, yolda büyük bir sabırsızlık duyuyordum.
- C) Kuru dallar, yıkılmış bir çatının enkazına benzemişti.
- D) Bu görüntüden sonra yüreğimi bir hüznün kapladı.

17. "Çocuğu ürkütmemeye çalışarak elinden tuttum." cümlesindeki anlatım bozukluğunun sebebi aşağıdakilerden hangisidir?

- A) Özne eksikliği
- B) Nesne eksikliği
- C) Yüklem eksikliği
- D) Tamlayan eksikliği

18. Babamla, evlendiğimden beri, aşağı yukarı tam on iki yıldır görüşmüyorduk.

Yukarıdaki cümleden altı çizili sözcüklerden hangisi çıkarılırsa anlatım bozukluğu giderilmiş olur?

- A) aşağı yukarı
- B) tam
- C) babamla
- D) yıldır

19. Oda, tabana serili kilimlerin dışında döşemesizdi. Karşı duvarda bir ocak, ocağın üstünde de yumak yumak mumlar ve iki lamba konmuş bir raf vardı. Oda, o rafın iki karşı yukarısındaki bir pencereden aydınlanıyordu. Şimdi, tam o pencereye güneş vurduğu için ocak yanının dışında iyice aydınlıktı.

Bu paragrafın türü aşağıdakilerden hangisidir?

- A) Olay paragrafı
- B) Düşünce paragrafı
- C) Betimleme paragrafı
- D) Fantastik paragraf

20. Mihail'ler yüksek ve kalın duvarlarla çevrili kocaman bir bahçenin içinde, çatı hariç, üç katlı bir konakta oturuyordu. Bahçede ayrıca üç bina daha vardı. Onlarda da uşaklar, rençberler, çobanlar kalıyordu.

Bu paragraf aşağıdakilerden hangisiyle tamamlanamaz?

- A) Mihail'in bulunduğu konak diğer binalara tepeden bakıyordu.
- B) Mihail en çok çobanların kaldığı binayı seviyordu.
- C) Binaların yanlarında küçük su kuyuları bulunuyordu.
- D) Mihail büyüdükçe babasına benzeyordu.

### (407) DİL VE ANLATIM – 7

1. Aşağıdakilerden hangisi sanatsal metinlere ait bir özelliktir?

- A) Gerçeklik ön plandadır.
- B) Bilgi vermek amacıyla yazılır.
- C) Hayallere ve mecazlara yer verilir.
- D) Üslup kaygısı yoktur.

2. Aşağıdakilerden hangisi göstermeye bağlı türlerden biridir?

- A) Tiyatro
- B) Şiir
- C) Fabl
- D) Roman

3. Ders vermek amacıyla hayvanlar ya da cansız varlıklar arasında geçen bir olayı genellikle manzum olarak anlatan yazılara ne ad verilir?

- A) Hikâye
- B) Roman
- C) Masal
- D) Fabl

4. Fabllarda olayların ve hayvanların tanıtıldığı bölüm aşağıdakilerden hangisidir?

- A) Serim
- B) Düşüm
- C) Çözüm
- D) Öğüt

5. Aşağıdakilerden hangisi fabl türünün Doğu'daki ilk temsilcilerinden değildir?

- A) Bidpay
- B) Beydeba
- C) Şeyh Sadi
- D) Aisopos

## 1. OTURUM

6. Aşağıdakilerden hangisi La Fontaine'den çevrilen fabllar arasında yer almaz?

- A) Meşe ile Saz
- B) Kissadan Hisse
- C) Karga ile Tilki
- D) Kurbağa ile Öküz

7. Aşağıdakilerden hangisi asıl masal türlerinden biridir?

- A) Hayvan masalları
- B) Zincirlemeli masallar
- C) Olağanüstü masallar
- D) Güldürücü masallar

8. İlk Türkçe masal kitabı aşağıdakilerden hangisidir?

- A) Binbir Gece Masalları
- B) Kelile ve Dimne
- C) Bahtiyarnâme
- D) Billur Köşk Masalları

9. Aşağıdakilerden hangisi Cahit Uçuk'un masal türündeki eserlerinden değildir?

- A) Kırmızı Mantarlar
- B) Açıl Sofram Açıl
- C) Ateş Gözlü Dev
- D) Üç Masal

10. Aşağıdakilerden hangisi Türk kaynaklı halk hikâyelerinden biridir?

- A) Dede Korkut Hikâyeleri
- B) Leyla ile Mecnûn
- C) Ferhat ile Şirin
- D) Gazavat-ı Ali

11. Aşağıdaki yazarlardan hangisi Çehov tarzı da denen durum hikâyesinin Türk edebiyatındaki ilk temsilcisidir?

- A) Sait Faik Abasıyanık
- B) Ömer Seyfettin
- C) Mehmed Şevket Esendal
- D) Refik Halit Karay

12. Aşağıdakilerden hangisi olay hikâyeciliğinin özelliklerinden biridir?

- A) Serim, düğüm, çözüm planına uyulmaz.
- B) Merak ögesi ikinci plandadır.
- C) Gerçeklik abartılmadan anlatılır.
- D) Hikâye beklenmedik bir sonla biter.

13. Aşağıdakilerden hangisi hakim (ilahî) anlatıcının özelliklerinden biri değildir?

- A) Anlatıcı olayların içerisinde yer almaz.
- B) Birinci tekil şahıs ağzıyla konuşur.
- C) Her şeyi bilen bir anlatıcının bakış açısıdır.
- D) Üçüncü tekil şahıs ağzıyla konuşur.

14. İnsan yaşamının sınırsız kültür birikimi içinde yer alan ve insanı derinden etkileyen toplumsal ve siyasi olaylar ve inançlar ile gelenek ve göreneklere bazen eleştirel bazen de bilimsel açıdan ele alıp anlatan roman türü aşağıdakilerden hangisidir?

- A) Macera romanı
- B) Tarihî roman
- C) Sosyal roman
- D) Tahlil romanı

15. "İntibah" adlı eser aşağıdaki Türk edebiyatçılarından hangisine aittir?

- A) Namık Kemal
- B) Halit Ziya Uşaklıgil
- C) Yakup Kadri Karaosmanoğlu
- D) Samipaşazade Sezai

16. İnsan bilincinin işleyişine uyarak dağınık ve parçalar hâlinde iç monologlara yer verilen roman anlatım tekniği aşağıdakilerden hangisidir?

- A) Görece zaman anlayışı
- B) Bilinç akımı
- C) Montaj
- D) Leitmotiv

17. Aşağıdakilerden hangisi seyretmeye dayalı sanat dallarından biri değildir?

- A) Opera
- B) Bale
- C) Tiyatro
- D) Hikâye

18. "Oyuncuların metne bağlı kalmadan zekâ ve kavrayışlarına göre başarı sağladıkları konuşma ve davranışlara (...) denir.

cümlesinde boş bırakılan yere aşağıdakilerden hangisi getirilmelidir?

- A) Tuluat
- B) Sufiör
- C) Figüran
- D) Jest

19. Aşağıdakilerden hangisi tragedyanın özelliklerinden biri değildir?

- A) Erdeme ve üstün ahlaka değer verilir.
- B) Baştan sona ciddi bir hava içinde geçer.
- C) Kişiler günlük hayattan kimselelerdir.
- D) "Üç Birlik" kuralına uygun olması gerekir.

20. Garibim;  
Ne bir güzel var avutacak gön-  
lümü,  
Ne de bir tanıdık çehre;  
Bir tren sesi duymaya göreyim;  
İki gözüm,  
İki çeşme.

Orhan Veli Kanık

Bu şiirin teması aşağıdakilerden hangisidir?

- A) Aşk
- B) Yalnızlık
- C) Ölüm
- D) Kıskançlık



## 1. OTURUM

(408) DİL VE ANLATIM – 8

1. Aşağıdakilerden hangisi konferansta kullanılan anlatım türlerinden biri değildir?

- A) Emredici B) Açıklayıcı  
C) Tartışmacı D) Kanıtlayıcı

2. Aşağıdakilerden hangisi konferansın özelliklerinden biri değildir?

- A) Özgün düşünceler dile getirilir.  
B) Konferansçının alanında yetkin olması gerekmez.  
C) Amaç, fikri kendini dinleyenlere benimsetmektir.  
D) Konu, dinleyicilerin ilgisini çekecek şekilde olmalıdır.

3. Aşağıdakilerden hangisi konferans planı içerisinde yer almaz?

- A) Hitap cümlesi  
B) Konunun sunulması  
C) Dinleyicilerin tanıtılması  
D) Soru ve cevaplar

4. Alanında uzman bir kişinin herhangi bir konu ya da olay hakkında görüş ve düşüncelerini açıklamak amacıyla bir grup ya da topluluk önünde yaptığı, ön hazırlığı olması gereken sözlü anlatım türüne ne ad verilir?

- A) Açık oturum B) Sempozyum  
C) Münazara D) Konferans

5. Aşağıdakilerden hangisi açık oturumda başkanın görevlerinden biri değildir?

- A) Giriş konuşması yapar.  
B) Soruların düzenli sorulmasını sağlar.  
C) Gerekirse konuyu değiştirir.  
D) Oturumun değerlendirmesini yapar.

6. Aşağıdakilerden hangisi açık oturumun özelliklerinden biri değildir?

- A) Samimi bir atmosfer vardır.  
B) Konuşmacı sayısı 6'yı geçmemelidir.  
C) Bir yarışma havası vardır.  
D) Probleme yeni bir bakış açısı getirmek amaçlıdır.

7. Belli bir konuyu aydınlatmak amacıyla bilim adamı ve araştırmacıların bir araya geldikleri ve konuşmacıların konunun belirli bölümlerini sundukları, tartışmalı toplantılara ne ad verilir?

- A) Sempozyum B) Münazara  
C) Forum D) Açık oturum

8. Aşağıdakilerden hangisi sempozyum bildirisinin bölümlerinden biri değildir?

- A) Giriş  
B) Deney  
C) Bulgular  
D) Sorular ve cevaplar

9. Önceden belirlenmiş bir konuda farklı görüşlere sahip kişilerin bir araya gelerek konuyu çözümlmek, kendi görüşlerini açıklamak, kanıtlamak, karşı tarafın zayıf noktalarını aramak için yaptıkları tartışma türüne ne ad verilir?

- A) Açık oturum B) Sempozyum  
C) Münazara D) Forum

10. Aşağıdakilerden hangisi münazara türüne ait bir özellik değildir?

- A) Görüşme ve çözüm yöntemidir.  
B) Amaç, "ben"i ön plana çıkarmadır.  
C) Bir konunun olumlu ve olumsuz yönleri tartışılır.  
D) Hakem kurulu, başkan, konuşmacılar, sözcü bulunur.

11. Aşağıdakilerden hangisi münazaralarda hakem kurulunun konuşmacıları değerlendirme esaslarından biri değildir?

- A) Sözcük ve cümleleri doğru kullanma  
B) Savunmada inandırıcı olma  
C) Konuyu açma ve örneklendirme yeteneklerine sahip olma  
D) Konuyu doğru seçme

12. Aşağıdakilerden hangisi münazaralarda tartışanların uyacağı kurallarından biri değildir?

- A) Aynı konuda üst üste söz almak  
B) Konuşmaları ilgiyle dinlemek  
C) Tartışma konusu dışına çıkmamak  
D) Başkanın uyarılarına karşı gelmemek

13. "Bir kitabın veya derginin kişi, konu, yer adı vb. bakımından içindekileri yer numarasıyla belirten ve eserin arkasında yer alan alfabetik listeye (...) denir." cümlesinde boş bırakılan yere aşağıdakilerden hangisi getirilmelidir?

- A) Dipnot  
B) Bibliyografya  
C) İndeks  
D) Dokümantasyon

14. Aşağıdakilerin hangisi bilimsel yazıların bölümlerinden biri değildir?

- A) Başlık B) Dipnot  
C) Özet D) Asıl metin

15. Aşağıdakilerden hangisi bilimsel yazı olarak değerlendirilemez?

- A) Değerlendirme makaleleri  
B) Konferans raporları  
C) Toplantı özetleri  
D) Davet mektubu

16. Bilimsel yazılarda dil hangi işleviyle kullanılır?

- A) Göndergesel işlev  
B) Kanalı kontrol işlevi  
C) Heyecana bağlı işlev  
D) Alıcıyı harekete geçirme işlevi

## 1. OTURUM

### (414) TÜRK EDEBİYATI – 4

17. Aşağıda verilen dipnot örneklerinden hangisinin yazımı doğrudur?

- A) (1) Çağdaş İnsan ve Edebiyat, Alemdar Yalçın, Akçağ Yayınları, 6. Baskı, Ankara 2008, s.29.  
B) (1) Alemdar Yalçın, Çağdaş İnsan ve Edebiyat, Akçağ Yayınları, 6. Baskı, Ankara 2008, s.29.  
C) (1) Akçağ Yayınları, Çağdaş İnsan ve Edebiyat, Alemdar Yalçın, 6. Baskı, Ankara 2008, s.29.  
D) (1) 6. Baskı, Ankara 2008, Alemdar Yalçın, Çağdaş İnsan ve Edebiyat, Akçağ Yayınları, s.29.

18. Aşağıdakilerden hangisi Cumhuriyet'in ilk yıllarındaki makale yazarlarından biri değildir?

- A) Falih Rıfkı Atay  
B) Hüseyin Cahit Yalçın  
C) Ali Naci Karacan  
D) Namık Kemal

19. Aşağıdakilerden hangisi öğretici metinler arasında yer almaz?

- A) Makale      B) Fıkra  
C) Roman      D) Eleştiri

20. Bilimsel yazılarda metnin tamamında anlatılanların küçültülerek bir paragraf hâline getirilip verildiği bölüm aşağıdakilerden hangisidir?

- A) Özet  
B) Başlık  
C) Giriş  
D) Sonuç ve tartışma

1. Aşağıdakilerden hangisi dinî-tasavvufî edebiyat anlayışının dışında kalan bir şairdir?

- A) Hacı Bektaş Veli  
B) Kaygusuz Abdal  
C) Âşık Ömer  
D) Ahmet Yesevi

2. Türk edebiyatında gezi türünde en önemli eser ona aittir. "Seyahatname" adlı büyük ve eşsiz eserinde bize 17. yüzyıl Türkiye'sinin sanatını, coğrafyasını, geleneklerini, göreneklerini, tarihini, folklorunu ayrıntılarıyla tanıtır.

Parçada tanıtılan kişi aşağıdakilerden hangisidir?

- A) Mercimek Ahmet  
B) Seydi Ali Reis  
C) Evliya Çelebi  
D) Naima

3. Kerem ile Aslı hikâyesi için aşağıdakilerden hangisi söylenemez?

- A) Kahramanlık hikâyesidir.  
B) Kimin tarafından düzenlendiği belli değildir.  
C) Nazım ve nesir karışık olarak düzenlenmiştir.  
D) 1850 yılından bu yana pek çok kez yayımlanmıştır.

4. Aşağıdakilerden hangisi "öğretici metin" grubunda değildir?

- A) Kutadgu Bilig - Yusuf Has Hacip  
B) Mesnevi - Mevlâna  
C) Risâletün Nushiye - Yunus Emre  
D) Hüsn ü Aşk - Şeyh Galip

5. "Tezkire" için aşağıdaki tanımlardan hangisi doğrudur?

- A) Yazarın gezip gördüğü yerlerin tarihini, medeniyetini anlatan yazıdır.  
B) Divan edebiyatında çeşitli devirlerde yaşayan şairlerin kısaca hayatlarından ve eserlerinden söz eden kitaplardır.  
C) Sunnet, düşün, şenlik gibi sevinçli olayları anlatan eserlerdir.  
D) Bir şehrin güzelliklerinden söz eden manzum eserdir.

6. Gerçekleştirdiği başarılı sözlük tercüme nedeniyle "Mütercim" adıyla tanınan tarihçi yazarımız, aşağıdakilerden hangisidir?

- A) Kâtip Çelebi  
B) Evliya Çelebi  
C) Kaygusuz Abdal  
D) Mütercim Âsım

7. Kalbim yine üzgün seni andım da derinden,  
Geçtim yine dün eski hazan bahçelerinden!  
Üzgün ve kırılmış gibi en ince yerinden,  
Geçtim yine dün eski hazan bahçelerinden!

Bu dizeler biçim ve içerik özelliklerine göre aşağıdaki nazım biçimlerinin hangisinden alınmış olabilir?

- A) Şarkı      B) Kaside  
C) Rûbai      D) Gazel

8. • Sözlü olarak yaşayan bir edebiyattır.  
• Nazım birimi dördlüktür.  
• Dili, halkın konuşma dili gibi yalındır.  
• Aşk, ölüm, hasret, yiğitlik, gurbet gibi her zaman insanların ilgisini çekecek konular işlenmiştir.

Bu özellikler, aşağıdakilerden hangisine aittir?

- A) Divan şiiri  
B) Anonim halk şiiri  
C) Dinî şiirler  
D) Tasavvufî Türk şiiri

## 1. OTURUM

9. Aşağıdaki yargılardan hangisi “gazel” için yanlıştır?

- A) İlk beytine matla, son beytine makta denir.
- B) En güzel beytine beytül-gazel denir.
- C) aa bb cc dd ... biçiminde uyaklanır.
- D) Düz gazel ve musammat gazel olmak üzere biçim bakımından iki çeşittir.

10. Divan edebiyatının en çok kullanılan nazım biçimlerindedir. Her beytinin birbiriyle uyaklı olması yazma kolaylığı sağlamıştır. Modern öykü ve roman yerini tutan bu tür aşk, tasavvuf, din, ahlak, tarih, macera, yiğitlik ve mizah temalarını içerir.

Bu parçada hangi nazım biçimi hakkında bilgi verilmektedir?

- A) Mesnevi
- B) Gazel
- C) Kaside
- D) Rubai

11. Aşağıdakilerden hangisi kasidenin bölümlerinden biri değildir?

- A) Nesîb
- B) Mesnevi
- C) Medhiye
- D) Fahriye

12. Halk şiirimizin yakın dönemde yetişen en güçlü, en duyarlı seslerindedir. Çocukken geçirdiği çiçek hastalığı yüzünden gözlerini yitiren şair “Uzun ince bir yoldayım / Gidiyorum gündüz gece” gibi akıllarda kalan pek çok şiirin sahibidir. Şiirlerini çok sevdiği saziyla paylaştan bu şair aşağıdakilerden hangisidir?

- A) Erzurumlu Emrah
- B) Ahmet Kutsi Tecer
- C) Âşık Veysel
- D) Bayburtlu Zihni

13. Aklın karmakarışık Ol düşmanla barışık Falın pek aydın çıktı Yollarında var ışık

Bu dördümlük söyleyiş özellikleri bakımından hangi nazım türünü örneklerdir?

- A) Semai
- B) Rübai
- C) Koşma
- D) Mânî

14. Aşağıdakilerden hangisi aruzla yazılan ilk eserlerdendir?

- A) Garipnâme
- B) Kutadgu Bilig
- C) Divan-ı Hikmet
- D) Battalnâme

15. Aladır gözlerin siyahtır kaşın Aradım cihanı bulunmaz eşin Yayanın karından beyazdır döşün Uzanıp üstüne ölesim geldi (Karacaoğlan)

Bu şiirin durak ve ölçüsü aşağıdakilerden hangisidir?

- A) 6+5=11
- B) 4+7=11
- C) 4+4+3=11
- D) 5+6=11

16. Aşağıdaki eser-yazar eşleştirmelerinden hangisi yanlıştır?

- A) Atabet’ül - Hakâyık - Yükneklî Edip Ahmet
- B) Divan-ı Hikmet - Ahmet Yesevi
- C) İskendername - Ahmedî
- D) Cemşid ü Hurşit - Yunus Emre

17. Aşağıdakilerden hangisi Dede Korkut Hikâyelerinin bir özelliği değildir?

- A) 15. yüzyılda yazıya geçirilen, destan-hikâye özelliği taşıyan metinlerden oluşmaktadır.
- B) Dede Korkut adlı bilge kişinin ve çocuklarının hayatı anlatılmaktadır.
- C) Eserin içinde, her biri ayrı bir bütün oluşturan 12 hikâye yer almaktadır.
- D) Eserin geniş adı Oğuz Boyu’nun dili ile Dede Korkut Kitabı’dır.

18. Sana ibret gerek ise Gel, göresin bu sinleri! Ger taş isen eriyesin Bakıp göricek bunları!

dizeleriyle 13. yüzyıldan günümüze insanına seslenen; düşünceleri sanat gücü, dil ve anlatımıyla Türk tasavvuf edebiyatının en güçlü temsilcilerinden olan şair aşağıdakilerden hangisidir?

- A) Kaygusuz Abdal
- B) Ahmedî
- C) Yunus Emre
- D) Sultan Velet

19. Kaşgarlı Mahmut tarafından 1072 yılında Araplara Türkçeyi öğretmek ve Türk dilinin zenginliğini kanıtlamak için yazılmıştır. 7500 Türkçe sözcüğün Arapça olarak açıklandığı sözlükte Türk boylarını gösteren bir de harita yer almaktadır.

Bu eser, aşağıdakilerden hangisidir?

- A) Divan-ı Lügati’t Türk
- B) Muhakemetü’l-Hakayık
- C) Şecere-i Türki
- D) Muhakemetü’l-Lügateyn

20. “Kutadgu Bilig” adlı eser için aşağıdaki yargılardan hangisi yanlıştır?

- A) Yusuf Has Hacıp tarafından yazılmıştır.
- B) 6645 beyitten oluşan alegorik bir eserdir.
- C) Hakaniye (Doğu) Türkçesiyle kaleme alınmıştır.
- D) Aşk ve tabiat sevgisi konularını işlemektedir.

### (417) TÜRK EDEBİYATI – 7

1. Aşağıdakilerden hangisi fıkra (köşe yazısı) türünün özelliklerinden biri değildir?

- A) Gazete ve dergi yazısıdır.
- B) Güncel konularda yazılır.
- C) Olayların akışı karşısında çok değişik konulara değinilir.
- D) Bilimsel gerçekleri ortaya koyar.

2. Yazarın herhangi bir konu üzerinde kesin hükümlere varmadan, kendi kişisel görüş ve düşüncelerini anlattığı yazı türü aşağıdakilerden hangisidir?

- A) Deneme
- B) Makale
- C) Anı
- D) Gezi yazısı

3. Türkçe yazılan ilk gezi kitabı aşağıdakilerden hangisine aittir?

- A) Katip Çelebi
- B) Evliya Çelebi
- C) Seydi Ali Reis
- D) Yirmi Sekiz Çelebi Mehmet Efendi

## 1. OTURUM

4. Gazete ve dergilerin yaygınlaşması bu türün gelişmesini sağlamıştır. Servet-i Fünûn, Genç Kalemler, Dergâh, Türk Yurdu gibi dergiler bu konuda etkili olmuştur. Bu yıllarda bu türün usta yazarları arasında Ahmet Rasim, Refik Halit Karay ve Ahmet Haşim ilk akla gelenlerdir.

Bu parçada anlatılan tür aşağıdakilerden hangisidir?

- A) Fıkra B) Roman  
C) Tiyatro D) Deneme

5. Aşağıdakilerden hangisi iyi bir makalenin özelliklerinden değildir?

- A) Anlatım yalın ve yoğun olmalıdır.  
B) Söz oyunlarına başvurulmalıdır.  
C) Öne sürülen düşünce inandırıcı biçimde geliştirilmeli ve kanıtlanmalıdır.  
D) Okuyucu kitlesinin eğitim düzeyine dikkat edilmelidir.

6. Sayısız neden insanları yazmaya yöneltir. Bu sebeple anı türü, romandan şiire, yaşam öyküsüne, zaman zaman eleştiriye kaynaklık eder.

Anıyla günlük arasında ortak olmayan yön, aşağıdakilerden hangisidir?

- A) Bir kişinin hayatıyla sınırlı olmak  
B) Bir hayat ya da dönem için belge oluşturmak  
C) Gözlemlerle birlikte başka verilerden yararlanmak  
D) Geçmişe sıkı sıkıya bağlanmak

7. Aşağıdakilerden hangisi yurt içi gezi yazılarından biridir?

- A) Bir Demet Pasifik (Nadir Paksoy)  
B) Seyir Defteri (Nedim Gürsel)  
C) Anadolu Notları (Reşat Nuri Güntekin)  
D) Hind (Falih Rıfı Atay)

8. Aşağıdaki eser-yazar eşleştirmelerinden hangisi yanlıştır?

- A) Hürrem Sultan - Orhan Asena  
B) Bekçi Murtaza - Halide Edip Adivar  
C) Bir Adam Yaratmak - Necip Fazıl Kısakürek  
D) Mahmud ile Yezida - Murathan Mungan

9. Haldun Taner'in oyunlarının ayırıcı özelliği, hayata felsefi olgun bir bakışla bakması ve tarih bilincine sahip olmasıdır.

Aşağıdakilerden hangisi Haldun Taner'in oyunlarından biri değildir?

- A) Zilli Zarife  
B) Bekçi Murtaza  
C) Keşanlı Ali Destanı  
D) Fazilet Eczanesi

10. Meddah, Karagöz, orta oyunu gibi gösterilerle gelişen geleneksel Türk tiyatrosu hangi dönemden itibaren Batı tiyatrosundan gelen etkilerle zenginleşmiştir?

- A) Tanzimat Dönemi  
B) Servet-i Fünûn Dönemi  
C) Fecr-i Âti Dönemi  
D) Millî Edebiyat Dönemi

11. Aşağıdakilerden hangisinde bilgi yanlışlığı vardır?

- A) Kemal Tahir'in özelliği sosyal konuları tarihî plan içinde ele almasıdır.  
B) Tarık Buğra, insanı kendi bireyselliği ve kişiliği içinde yer alır.  
C) Haldun Taner, Anadolu köy ve kasaba hayatının acıklı hâllerini gerçekçi bir şekilde yazdı.  
D) Aziz Nesin, toplum hayatının aksayan yönlerini, olayları, tipleri gülünç gösteren bir mizah üslubuyla anlattı.

12. Cumhuriyet döneminde mizah edebiyatı, güldürürken düşündürmeyi de amaçlayan bir mizah anlayışıyla yeni boyutlara ulaştı. Aşağıdakilerden hangisi bu alanda eser veren yazarlardan biri değildir?

- A) Aziz Nesin  
B) Rıfat Ilgaz  
C) Muzaffer İzgü  
D) Feyzi Halıcı

13. 1950'den sonra yeni arayışlara yönelen Cemal Süreya, Edip Cansever, Turgut Uyar gibi şairlerin başlattığı bir akımdır. Anlamda kapalılığın, değişik çağrışımlarla imgeci bir şiir anlayışının savunulduğu ve 1965'e kadar süren bu akım aşağıdakilerden hangisidir?

- A) İkinci Yeni B) Sembolistler  
C) Toplumcular D) Mavi Akımcılar

14. • Şiirsel söyleyişte konuşma dilinin yalınlığından faydalandılar.  
• Varlık dergisinde ölçüsüz, uyaksız, şairanelikten uzak yeni bir şiir akımı başlattılar.  
• Yaşama sevincini, günlük hayatı, küçük adamın dertlerini konu edindiler.

Bu özellikler, aşağıdakilerden hangisiyle ilgilidir?

- A) Fecr-i Âticiler  
B) Yedi Meşaleciler  
C) Garipçiler  
D) II. Yeni Grubu

15. Genç Osman, Cem Sultan gibi konusunu tarihten alan çok sayıda oyunuyla tiyatromuzun en verimli yazarlarından biri olan isim, aşağıdakilerden hangisidir?

- A) Necati Cumalı  
B) Turan Ofazoğlu  
C) Orhan Kemal  
D) Ahmet Hamdi Tanpınar

## 1. OTURUM

16. Hecenin beş şairinden biri olan şair Anadolucu edebiyatın en öne çıkan adıdır, Millî ve yerli sanat anlayışına göre kaleme aldığı “Han Duvarları” en tanınmış şiirlerindedir.

Bu parçada bahsedilen şair, aşağıdakilerden hangisidir?

- A) Enis Behiç Koryürek
- B) Turgut Uyar
- C) Faruk Nafiz Çamlıbel
- D) Orhan Seyfi Orhon

17. Cumhuriyet Dönemi’nde özellikle Türk şiirinde büyük değişiklikler görüldü. Buna göre aşağıdaki bilgilerden hangisi yanlıştır?

- A) Ömer Bedrettin Uşaklı şiirlerinde en çok deniz temasını işledi.
- B) Cahit Sıtkı Tarancı iyimser umut dolu, mücadelecî şiirleri edebiyatımıza armağan etti.
- C) Necip Fazıl Kısakürek içe dönük, maneviyatçı, bireyci şiirin başarılı örneklerini verdi.
- D) Ahmet Hamdi Tanpınar ölüm, sonsuzluk, zaman, rüya, hülya gibi konuları şiirlerinde işledi.

18. Aşağıdakilerden hangisi Türk edebiyatına Tanzimat’tan sonra giren deneme türünün ilk yazarlarından biri değildir?

- A) Ahmet Haşım
- B) Ahmet Rasim
- C) Cenap Şehabettin
- D) Cahit Sıtkı Tarancı

19. GÜNAYDIN

Günaydın tavuklar, horozlar  
Artık memnunum yaşamaktan  
Sabah erkenden kalktığım zaman  
Siz varsınız;  
Gündüz, işim var, arkadaşlarım.  
Gece yıldızlar var, karım var,  
Günaydın tavuklar, horozlar!  
şiirinde olduğu gibi eserlerinde yaşama sevincini öne çıkaran şair aşağıdakilerden hangisidir?

- A) Necati Cumalı
- B) Cemal Süreya
- C) İlhan Berk
- D) Oktay Rifat

20. Aşağıdakilerden hangisi Yedi Meşaleciler olarak adlandırılan grupta yer almaz?

- A) Cevdet Kudret
- B) Yaşar Nabi Nayır
- C) Ziya Osman Saba
- D) Necip Fazıl Kısakürek

### (418) TÜRK EDEBİYATI – 8

1. Millî Edebiyat akımının etkisindeki şairlerdendir. Şiirlerinde Anadolu kaynağına ulaşma yolunu “Orda bir köy var uzakta / O köy bizim köyümüzdür.” dizeleriyle vurgulamıştır. Folklor araştırmalarıyla da tanınmıştır.

Bu parçada bahsedilen şair aşağıdakilerden hangisidir?

- A) Enis Behiç Koryürek
- B) Zeki Ömer Defne
- C) Melih Cevdet Anday
- D) Ahmet Kutsi Tecer

2. Cumhuriyet Dönemi halk şiiri için aşağıdakilerden hangisi yanlıştır?

- A) Hece ölçüsü ile yazılan uyaklı şiirlerdir.
- B) İki dizelik beyitler hâlinde yazılan şiirlerdir.
- C) Aşk, doğa, ölüm, özlem, yiğitlik, din en çok işlenen temalardır.
- D) Geniş halk yığınlarının özlemini, sevgisini, sevinç ve acılarını dile getiren şiirlerdir.

3. Aşağıdakilerden hangisi toplumcu edebiyat şairlerinden biri değildir?

- A) Ece Ayhan
- B) Can Yücel
- C) İsmet Özel
- D) Ataol Behramoğlu

4. Çok partili döneme geçişi izleyen yıllarda ve 1950’lerde görülen “köye yöneliş” döneminin en tanınmış eseri aşağıdakilerden hangisidir?

- A) Fırtına Kuşu
- B) Yeni Hayat
- C) Yılanların Öcü
- D) Yeşil Gece

5. Bereket var toprağında taşında  
Kırık kırık eser yelin Binboğa  
Seyfilerin döner yanı başında  
Faraz avcı ister yerin Binboğa.  
(Dadaloğlu)

Bu örnekte olduğu gibi insan, hayvan, doğa vb. güzelliklerini dile getirmek, övmek amacıyla söylenmiş şiirlere ne ad verilir?

- A) Ağıt
- B) Öğüt
- C) Koçaklama
- D) Güzelleme

6. Aşağıdakilerden hangisi 1940 sonrası Türk hikâye ve romanında toplumcu gerçekçi çizgide eser veren yazarlardan değildir?

- A) İlhan Tarus
- B) Kemal Bilbaşar
- C) Orhan Kemal
- D) Peyami Safa

7. Türk hikâye ve romanında toplumcu gerçekçiliğin öncülerindedir. Sanatın tek amacının insanları daha iyiye, daha doğruya, daha güzele yükseltmek olduğunu belirten yazarın önemli romanlarından biri Kuyucaklı Yusuf’tur.

Bu parçada bahsedilen yazar, aşağıdakilerden hangisidir?

- A) Aziz Nesin
- B) Fakir Baykurt
- C) Sabahattin Ali
- D) Necati Cumalı

8. Aşağıdakilerden hangisi şiirde Millî Edebiyat akımının en tipik sürdürücüleri Beş Hececilerden biri değildir?

- A) Faruk Nafiz Çamlıbel
- B) Ahmet Hamdi Tanpınar
- C) Yusuf Ziya Ortaç
- D) Orhan Seyfi Orhon

## 1. OTURUM

9. Aşağıdakilerden hangisinde bilgi yanlışlığı vardır?

- A) Hikâye türünün İstanbul dışına çıkıp Anadolu'ya açılması Tanzimat'tan önce gerçekleşmiştir.
- B) Anadolu'yu anlatan bir hikâye Nâbizade Nazım'ın Karabibik adlı gerçekçi örneğidir.
- C) Köyü, köylüyü anlatan ikinci eser Ebubekir Hâzım Tepeyran'ın Küçük Paşa'sıdır.
- D) İstanbul dışına çıkıp Anadolu'ya yönelen üçüncü örneği Refik Halit Karay, Memleket Hikâye'leriyle verir.

10. Dokumada çalışan kızların günleri naylon iplik, ucuz keten emeğin, alın terinin ve aşkın kanı damlar kirpiklerinden (Refik Durbaş)

Dokuma tezgâhlarında çalışan kızların hayatlarını anlatan bu şiir edebiyatımızdaki hangi dönemin özelliklerini yansıtır?

- A) Garipçiler
- B) İkinci Yeni
- C) Toplumcu Şiir
- D) Millî Edebiyat

11. Mehmet Emin Yurdakul'un memleket romantizminden ve Mehmet Âkif'in millî, acılar dolusu kurtuluş şiirlerinden sonra Anadolu'ya var gücüyle açılan ilk şairimizdir. Memleket sevgisini, Anadolu'yu ve bireysel konuları işlemiştir. "Çoban Çeşmesi", "Han Duvarları" meşhur şiirlerindedir.

Bu parçada kendinden bahsedilen şairimiz aşağıdakilerden hangisidir?

- A) Faruk Nafiz Çamlıbel
- B) Ömer Bedrettin Uşaklı
- C) Melih Cevdet Anday
- D) Fazıl Hüsnü Dağlarca

12. Kaldırımlar, çilekeş yalnızların annesi;  
Kaldırımlar, içimde yaşamış bir insandır.  
Kaldırımlar, duyulur ses kesilince sesi;  
Kaldırımlar, içimde kıvrılan bir lisandır.

İçe dönük, maneviyatçı, bireysel bir şiirin başarılı örneklerini veren; ünlü "Kaldırımlar" şiirinin şairi aşağıdakilerden hangisidir?

- A) Mehmet Âkif Ersoy
- B) Enis Behiç Koryürek
- C) Necip Fazıl Kısakürek
- D) Behçet Necatigil

13. 1980 sonrası Türk romancılar arasında anlatım teknikleri ve postmodern yaklaşımlarıyla dikkat çeken yazar, 2006'da Nobel Edebiyat Ödülü'nü kazanmıştır.

Bu parçada bahsedilen yazar aşağıdakilerden hangisidir?

- A) Oğuz Atay
- B) Orhan Pamuk
- C) Yaşar Kemal
- D) İnci Aral

14. Peyami Safa'nın birey ruhuna ayna tuttuğu başarılı psikolojik romanıdır. İstanbul'da küçük bir evde yaşayan, sekiz yaşından beri bacağındaki kemik hastalığından dolayı hastane hastane dolaşan bir genç, Erenköy'de akrabası olan emekli paşanın kızı Nüzhet'i sever. Nüzhet ise Ragıp adlı bir doktorla evlenecektir.

Bu parçada bahsedilen roman, aşağıdakilerden hangisidir?

- A) Dokuzuncu Hariciye Koğuşu
- B) Matmazel Noraliya'nın Koltuğu
- C) Fatih Harbiye
- D) Yalnızız

15. Cahit Külebi ile ilgili aşağıdaki bilgilerden hangisi yanlıştır?

- A) Şiirlerinde temiz bir dil ve Karacaoğlan rahatlığı vardır.
- B) Divan şiirinden etkilenmiş, aruz ölçüsü ile yazmıştır.
- C) Günün akımlarına bağlanmadan kendi şiirini geliştirmiştir.
- D) Onun şiir dünyası Anadolu coğrafyasındaki Türk insanının geçit resmi gibidir.

16. Aşağıdakilerden hangisi Garipçilerin şiirdeki ilkelerinden değildir?

- A) Gülmecedan, şaşırtmadan yararlanmak
- B) Ölçü, uyak ve biçimsel kalıpları kırmak
- C) Günlük hayatın sorunlarını dile getirmek
- D) Yalın bir dil yerine süslü, söz oyunlarına dayalı bir dil kullanmak

17. Deli eder insanı bu dünya  
Bu gece, bu yıldızlar, bu koku  
Bu tepeden tırnağa kadar,  
Çiçek açmış ağaç  
(Orhan Veli)

Bu şiirin teması, aşağıdakilerden hangisidir?

- A) Doğallık
- B) Çocukluk
- C) Gökyüzü
- D) Yaşama sevinci

18. Sağlığında kitap çıkarmayan şair, klasik divan şiirimizi Batı şiirindeki bütünlük anlayışıyla ele aldı. Genel olarak Osmanlı medeniyet ve kültürüne bağlı kaldı. Şiirlerinin bir kısmı Kendi Gök Kubbemiz adıyla ölümünden sonra yayımlandı.

Bu parçada sözü edilen şair aşağıdakilerden hangisidir?

- A) Ahmet Haşim
- B) Cahit Sıtkı Tarancı
- C) Yahya Kemal Beyatlı
- D) Ahmet Hamdi Tanpınar

## 1. OTURUM

19. Genç yaşında felek vurdu başıma  
Aldırdım elimden iki gözümü  
Yeni geçmiş idim yedi yaşına  
Kayıp ettim baharımı yazımı
- dizelerinin şairi, en yakın arkadaşı, sırdaşı olarak sazını görmüştür. Daha çok aşk, tasavvuf, hasret, tabiat temalarında şairler söylemiştir.
- Bu parçada bahsedilen şairimiz aşağıdakilerden hangisidir?

- A) Âşık Veysel  
B) Karacaoğlan  
C) Dadaloğlu  
D) Hacı Bektaş Veli

20. Aşağıdakilerden hangisi konuşmaya ve eyleme dayanan bir gösteri sanatıdır?

- A) Şiir  
B) Tiyatro  
C) Roman  
D) Hikâye

### (421) FİZİK – 1

1. Işığın yapısı, fiziğin alt alanlarından hangisi ile incelenir?

- A) Mekanik  
B) Termodinamik  
C) Optik  
D) Elektrik ve Manyetizma

2. Aşağıdakilerden hangisi nitel gözleme örnek olabilir?

- A) Bu gün ırmak suyu çok soğuk  
B) Hava sıcaklığı 10 °C olarak ölçüldü  
C) Bahçe duvarının yüksekliği 2 m'dir  
D) Spor alanı 300 m<sup>2</sup> ölçüldü

3. Aşağıdakilerden hangisi temel büyüklüktür?

- A) Kuvvet  
B) İvme  
C) Kütle  
D) Hız

4. Bir cismin kütlesi aşağıdaki aletlerden hangisi ile ölçülebilir?

- A) Cetvel  
B) Kumpas  
C) Termometre  
D) Eşit kollu terazi

5. Ölçme araçlarının yapısal özellikleri arasında,  
I- kullanılabilir olmalı  
II- güvenilir olmalı  
III- geçerli olmalı
- niceliklerinden hangileri bulunmalıdır?

- A) Yalnız I  
B) I ve II  
C) II ve III  
D) I, II ve III

6. Aşağıdaki büyüklüklerden hangisi vektörel büyüklüktür?

- A) Ağırlık  
B) Kütle  
C) Zaman  
D) Enerji

7. "Bireylerin ölçme konusu ile ilgili bilgi ve becerilerinin noksan ve farklı oluşundan dolayı, herkes aynı derecede bir ölçüm yapamaz."

Yukarıdaki ifadeye göre ölçme işleminde hataya neden olan etken aşağıdakilerin hangisinde doğru verilmiştir?

- A) Ölçme yönteminden  
B) Ölçmeyi yapan kişiden  
C) Ölçme aracından  
D) Ölçme yapılan ortamdan

8. Fiziksel anlamda iş yapılabilmesi için;

- I- Cisme kuvvet uygulanmalı  
II- Uygulanan kuvvet sürtünme kuvvetini yenip yol aldirmalı  
III- Uygulanan kuvvetle yol aynı doğrultuda olmalı

ifadelerinden hangileri aynı anda olmalıdır?

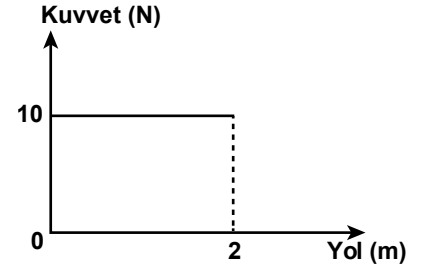
- A) I ve II  
B) I ve III  
C) II ve III  
D) I, II ve III

9. Ahmet 3 kg'lık bir cismi bulunduğu yerden 2 m yüksekliğe çıkarıyor.

Buna göre, Ahmet'in yaptığı iş kaç J'dür? (g=10 N/kg)

- A) 80  
B) 60  
C) 40  
D) 20

10. Sürtünmesiz bir ortamda cisme uygulanan kuvvet ile yol arasındaki grafik şekildedeki gibidir.



Buna göre, 2 m lik yol boyunca kuvvetin yaptığı iş kaç N.m'dir?

- A) 20  
B) 10  
C) 5  
D) 2

11. Yay sabiti 1000 N/m olan bir yay 10 cm sıkıştırılıyor.

Buna göre, yayda depo edilen enerji kaç J'dür?

- A) 3  
B) 4  
C) 5  
D) 6

12. Kütlesi 1 kg olan bir oyuncak arabanın hızı 2 m/s'dir.

Buna göre, arabanın kinetik enerjisi kaç J'dür?

- A) 1  
B) 2  
C) 3  
D) 4

13. 20 J'lük enerji harcayan bir motor 12 J'lük iş yapıyorsa verim % kaçtır?

- A) 90  
B) 80  
C) 60  
D) 50

14. Aşağıdaki kaynaklardan hangisi yenilenebilir enerji kaynağıdır?

- A) Kömür  
B) Jeotermal  
C) Odun  
D) Petrol

15. Plazmaların özellikleri ile ilgili;  
I- Elektriği iyi iletirler.  
II- Elektrik ve manyetik alandan etkilenirler.  
III- Çok yüksek sıcaklığa sahip olanları da vardır.

ifadelerinden hangileri doğrudur?

- A) Yalnız I  
B) I ve II  
C) II ve III  
D) I, II ve III

## 1. OTURUM

(425) FİZİK – 5

16. Aşağıdaki niceliklerden hangisi maddeler için ayırt edici bir özelliktir?

- A) Genleşme B) Kütle  
C) Hacim D) Boyut

17.  $10 \text{ cm}^3$  kuru kum bulunan dereceli kaba,  $60 \text{ cm}^3$  su eklendiğinde toplam hacim  $65 \text{ cm}^3$  oluyor.

Buna göre, kum taneleri arasındaki boşluk kaç  $\text{cm}^3$  tür?

- A) 20 B) 15 C) 10 D) 5

18. Hacmi  $10 \text{ cm}^3$  olan bir sıvının kütlesi 14 g dır.

Buna göre, sıvının yoğunluğu kaç  $\text{g/cm}^3$  tür?

- A) 1,8 B) 1,6 C) 1,4 D) 1,2

19. Aşağıdaki özelliklerden hangisi element ve bileşiklerin ortak özelliğidir?

- A) Saf maddelerdir.  
B) En küçük yapı taşları atomdur.  
C) Tek cins atomlardan oluşurlar.  
D) En küçük yapı taşları moleküldür.

20. Füzyon ile ilgili;

I- Atom çekirdeklerinin birleşmesidir.

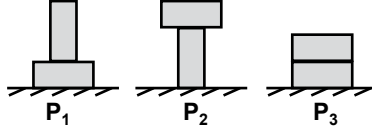
II- Birleşen çekirdekler yeni bir madde oluşturur.

III- Atom çekirdeklerinin parçalanmasıdır.

İfadelerinden hangileri doğrudur?

- A) Yalnız I B) I ve II  
C) II ve III D) I, II ve III

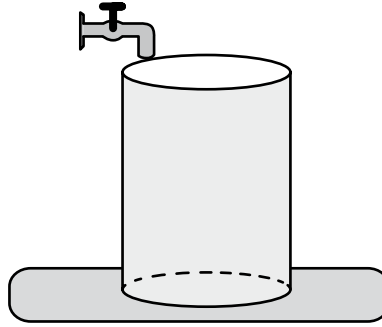
1. Özdeş tuğlalar şekildeki gibi zemine konulduklarında, zemine uyguladıkları basınçlar  $P_1$ ,  $P_2$  ve  $P_3$  oluyor.



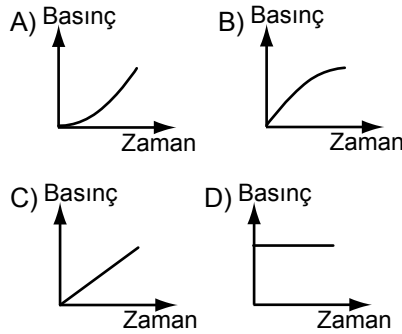
Buna göre,  $P_1$ ,  $P_2$  ve  $P_3$  arasındaki ilişki aşağıdakilerin hangisinde doğru verilmiştir?

- A)  $P_1 > P_2 > P_3$  B)  $P_1 = P_2 = P_3$   
C)  $P_2 > P_1 = P_3$  D)  $P_1 = P_2 > P_3$

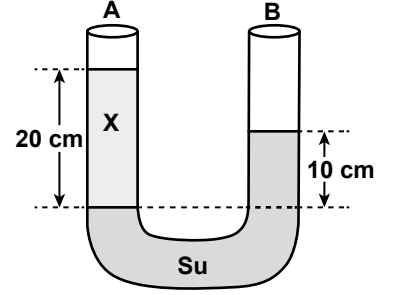
2. Düzgün silindirik boş bir kaba, akış hızı sabit olan şekildeki musluktan su akıyor.



Buna göre, kabın tabanındaki sıvı basıncının zamanla değişim grafiği aşağıdakilerden hangisi gibi olabilir?



3. Şekildeki U borusunun A kolundaki X sıvısının yüksekliği 20 cm, B kolundaki suyun yüksekliği ise 10 cm'dir.



Sıvılar şekildeki gibi dengede kaldığına göre, X sıvısının yoğunluğu kaç  $\text{g/cm}^3$  tür? ( $d_{\text{su}} = 1 \text{ g/cm}^3$ )

- A) 0,5 B) 0,6 C) 0,7 D) 0,8

4. Aşağıdakilerden hangisi ile açık hava basıncı ölçülür?

- A) Dinamometre  
B) Termometre  
C) Manometre  
D) Barometre

5. Bir taş sıvı dolu bir kaba bırakıldığında  $2 \text{ cm}^3$  lük sıvı yer değiştiriyor.

Buna göre, taşın hacmi kaç  $\text{cm}^3$  tür?

- A) 0,5 B) 1 C) 1,5 D) 2

6. Kelvin termometresiyle  $373 \text{ }^\circ\text{K}$  olarak ölçülen bir sıcaklık, Celsius termometresiyle ölçüldüğünde kaç  $^\circ\text{C}$  olarak ölçülür?

- A) 50 B) 100 C) 150 D) 200

7. Sürtünmesiz bir yüzeyde duran bir cisme  $F=10 \text{ N}$ 'luk kuvvet 2 m yol boyunca uygulanıyor.

Buna göre, kuvvetin yol boyunca yaptığı iş kaç  $\text{N}\cdot\text{m}$ 'dir?

- A) 5 B) 10 C) 15 D) 20



## 1. OTURUM

8. Kütlesi 2 kg olan bir oyuncak araba 1 m/s'lik hızla hareket etmektedir.

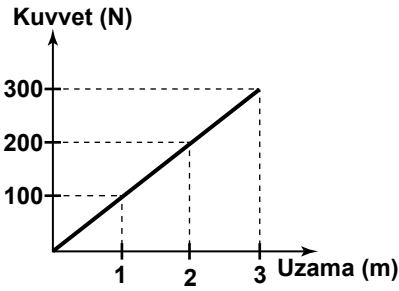
Buna göre, arabanın kinetik enerjisi kaç J'dir?

- A) 1 B) 1,5 C) 2 D) 2,5

9. Yerde duran ve kütlesi m olan bir cisim yerden h kadar yüksekliğe çıkarılırsa cismin depo ettiği enerji aşağıdakilerden hangisine eşit olur? (g: yerçekim ivmesi)

- A) mg B) mgh  
C) 2mgh D)  $\frac{mh}{g}$

10. Denge konumunda duran bir yaya kuvvet uygulandığında yaydaki uzama miktarı grafikte verilmiştir.



Buna göre, bu yayın yay sabiti kaç N/m dir?

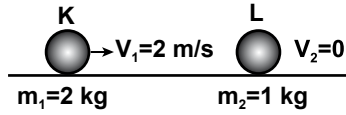
- A) 50 B) 75 C) 100 D) 125

11. Kütlesi 1200 kg olan otomobilin hızı 20 m/s'dir.

Buna göre, otomobilin momentumu kaç kg. m/s'dir?

- A) 1200 B) 2400  
C) 12000 D) 24000

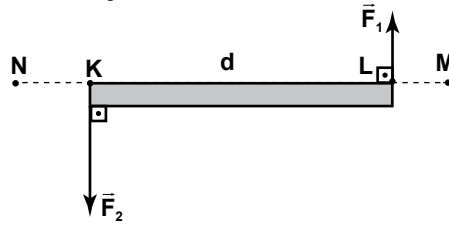
12. Şekildeki K ve L bilyeleri esnek olmayan çarpışma sonucu kenetlenerek hareket ediyor.



Buna göre, kenetlenen bilyelerin ortak hızı kaç m/s'dir?

- A)  $\frac{4}{3}$  B)  $\frac{5}{3}$  C)  $\frac{7}{3}$  D)  $\frac{8}{3}$

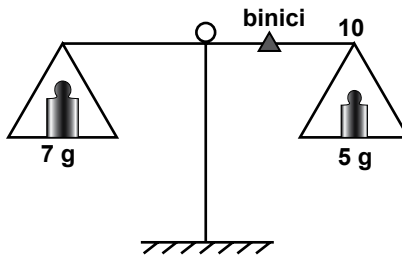
13. Ağırlığı önemsiz d uzunluğundaki K L çubuğuna  $F_1$  ve  $F_2$  kuvvetleri şekildeki gibi uygulanıyor.



$F_2 > F_1$  olduğuna göre, bileşke kuvvet hangi noktalar arasında olabilir?

- A) N - K arasında  
B) K'de  
C) K - L arasında  
D) L - M arasında

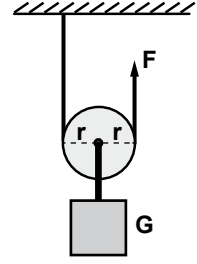
14. Şekildeki 10 bölmeli eşit kollu terazi 5 g'lık binici ile dengeye getirilmek isteniyor.



Buna göre, binici kaçınıcı bölmeye getirilmelidir?

- A) 2 B) 4 C) 5 D) 7

15. Makara ağırlığının önemsenmediği şekildeki sistemde G yükü F kuvveti ile yukarı çekilmek isteniyor.



Buna göre, F kuvveti en az kaç G olmalıdır?

- A)  $\frac{1}{2}$  B) 1 C)  $\frac{3}{2}$  D) 2

16. Mıknatıslarla ilgili:

- I- Demir, nikel gibi maddeleri çekerler  
II- N ve S olmak üzere iki kutupludurlar  
III- Aynı kutuplar birbirini iter, zıt kutuplar birbirini çekerler
- ifadelerinden hangileri doğrudur?

- A) Yalnız I B) I ve II  
C) II ve III D) I, II ve III

17. Şekildeki iletken telin üzerinden  $i = 2$  A akım geçmektedir.



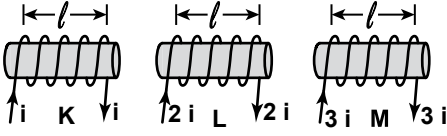
Buna göre, 1 cm uzaktaki bir K noktasındaki manyetik alan şiddeti kaç Tesla'dır? ( $K = 10^{-7} \text{ T}\cdot\text{m/A}$ )

- A)  $6 \cdot 10^{-5}$  B)  $5 \cdot 10^{-5}$   
C)  $4 \cdot 10^{-5}$  D)  $3 \cdot 10^{-5}$

## 1. OTURUM

(432) KİMYA – 2

18. Şekildeki K, L ve M selenoidlerinin üzerinden geçen akım şiddetleri, sarım sayıları ve sarım boyları verilmiştir.



Buna göre, selenoidlerin merkezinde oluşan  $B_K$ ,  $B_L$  ve  $B_M$  manyetik alanlarının büyüklükçe sıralanması aşağıdakilerden hangisidir?

- A)  $B_K = B_L = B_M$  B)  $B_M > B_L > B_K$   
C)  $B_K > B_L > B_M$  D)  $B_L = B_M > B_K$

19. Üzerinden  $i$  akımı geçen  $\ell$  uzunluğundaki bir iletken tel  $B$  manyetik alanına dik olacak şekilde konulduğunda tele  $F$  kuvveti etki ediyor.

Telin boyu yarıya indirilip,  $B$  manyetik alanı iki katına çıkarılırsa  $F$  kuvveti kaç katına çıkar?

- A) 0,5 B) 1 C) 1,5 D) 2

20. Aşağıdakilerden hangisi diyamanyetik maddeye örnek olabilir?

- A) Nikel B) Kobalt  
C) Bakır D) Platin

1. I- Saf maddelerdir.  
II- Fiziksel yolla ayrıştırılabilirler.  
III- Erime ve kaynama noktaları sabit değildir.

Yukarıda verilen özelliklerden hangileri karışımlara aittir?

- A) Yalnız I B) Yalnız II  
C) I ve III D) II ve III

2.

Karışım türü	Karışım örneği
Süspansiyon	Ayran
Emülsiyon	Su- Zeytinyağı
Aerosol	Sis
Koloit	...

Tablodaki koloit karışım türüne örnek olarak aşağıdaki maddelerden hangisi yazılabilir?

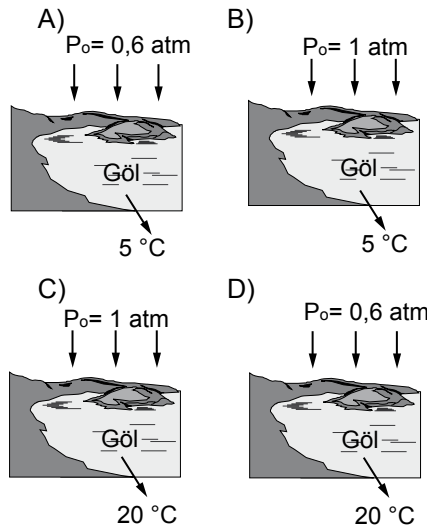
- A) Süt B) Duman  
C) Tuzlu su D) Toprak

3. Çözeltilerin, aşağıdaki özelliklerden hangisine göre sınıflandırılması yoktur?

- A) Elektrik akımını iletmelerine  
B) Çözünen madde miktarına  
C) Çözücü madde miktarına  
D) Fiziksel hâllerine

4. Bir göl suyunda çözünen hava miktarı açık hava basıncı ( $P_o$ ) arttığında artıyor, göl suyunun sıcaklığı arttığında ise azalıyor.

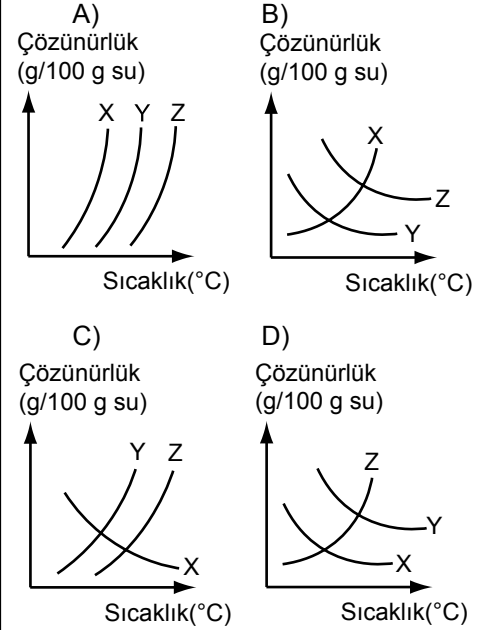
Buna göre, göl suyunda çözünen hava miktarı hangi durumda en fazla olur?



5. X, Y, Z katı maddelerinin aynı sıcaklıkta doymuş çözeltileri hazırlanıyor. Bu çözeltilerden;

- X çözeltisi ısıtıldığında,
- Y ve Z çözeltileri soğutulduğunda çökme oluyor.

Buna göre X, Y, Z katı maddelerinin çözünürlüklerinin sıcaklıkla değişimini gösteren grafik aşağıdakilerden hangisidir?



6. Aşağıdaki maddelerden hangisi bulunduğu karışımdan mıknatıs tarafından çekilerek ayrılır?

- A) Demir B) Tahta  
C) Şeker D) Tuz

7. Aşağıdaki karışımlardan hangisi eleme yöntemi uygulanarak ayrılır?

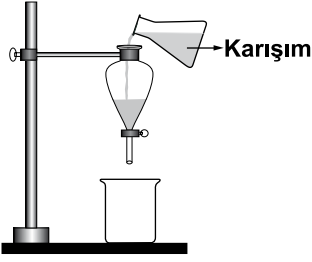
- A) Su - Tuz  
B) Tuz - Pirinç  
C) Su - Demir tozu  
D) Tuz - Zeytinyağı

8. Suda pişirilen makarna hangi ayırma yöntemi ile sudan ayrılır?

- A) Ayıklama B) Damıtma  
C) Eleme D) Süzme

## 1. OTURUM

9. X ve Y maddelerinden oluşan bir sıvı karışım, şekildeki gibi ayırma hunisine konuluyor.



Bir süre bekleldikten sonra ayırma hunisinin musluğu açılıyor ve Y maddesi ayrılıyor. Buna göre, X ve Y maddeleri ile ilgili aşağıdakilerden hangisi kesinlikle söylenebilir?

- A) Y sıvısı çözücü, X sıvısı çözünenidir.  
B) Y'nin kaynama sıcaklığı X'inkinden küçüktür.  
C) Y'nin yoğunluğu X'in yoğunluğundan büyüktür.  
D) Y ve X sıvısının miktarları eşittir.
10. Buharlaştırma işlemi, aşağıdaki hangi karışımları ayırmada kullanılır?
- A) Homojen sıvı - sıvı  
B) Homojen sıvı - katı  
C) Heterojen katı - katı  
D) Heterojen sıvı - sıvı
11. Yağlar aşağıdaki hangi madde ile tepkimeye girdiğinde arap sabunu elde edilir?
- A) NaOH      B) H<sub>2</sub>O  
C) HCl        D) KOH
12. Deterjanların sabunlara göre üstünlüğü hangi özelliğinden kaynaklanır?
- A) Sert sularda köpürebilmesi  
B) Temizlenen yüzeylerde kalıntı bırakması  
C) Yapısında hidrofil ve hidrofob uçların bulunması  
D) Temizlik yapılırken fazla miktarda kullanılması

13. Aşağıdakilerden hangisi yaygın olarak kullanılan temizlik malzemelerinden değildir?

A) Çamaşır sodası  
B) Yemek sodası  
C) Deterjan  
D) Sabun

14. Aşağıdaki maddelerden hangisi harcın yapısında bulunmaz?

A) Kum                      B) Su  
C) Çimento                D) Kil

15. Camın bileşiminde yer alan maddeler aşağıdakilerin hangisinde doğru verilmiştir?

A) Kum - Kireç taşı - Soda  
B) Kum - Kil - Soda  
C) Su - Kil - Soda  
D) Kil - Su - Soda

16. I- Sertlik  
II- Saydamlık  
III- Dayanıklılık  
niteliklerinden hangileri porselene aittir?

A) Yalnız I                B) Yalnız II  
C) I ve III                D) II ve III

17.

$C_6H_{12}O_6 + 6O_2 \rightarrow 6CO_2 + 6H_2O + \text{Enerji}$   
tepkimesi aşağıdaki olaylardan hangisine aittir?

A) Solunum                B) Sindirim  
C) Fotosentez            D) Çözünme

18. Yağların, oniki parmak bağırsağında enzimler yardımıyla sindirilmesi sonucu oluşan ürünler hangisidir?

A) Protein ve su  
B) Nişasta ve su  
C) Protein ve gliserin  
D) Yağ asidi ve gliserin

19. Aşağıdaki maddelerden hangisi çevre kirliliğine neden olmaz?

A) SO<sub>2</sub>                      B) CO  
C) O<sub>3</sub>                        D) O<sub>2</sub>

20. Aşağıdakilerden hangisi radyoaktif atıklara neden olur?

A) Rüzgar türbinlerinin kurulması  
B) Jeotermal enerjinin kullanılması  
C) Nükleer santrallerin kurulması  
D) Doğal su kaynaklarının korunması

### (436) KİMYA – 6

1. Aşağıdaki maddelerden hangisinin asidik veya bazik özellik gösterdiği, Arrhenius teorisi ile açıklanabilir?

A) NH<sub>3</sub>                      B) SO<sub>2</sub>  
C) NaOH                    D) CO<sub>2</sub>

2.  $HF_{(s)} + H_2O_{(s)} \rightleftharpoons H_3O^+_{(suda)} + F^-_{(suda)}$  denkleminde Bronsted-Lowry'e göre asit ve baz olan maddeler hangileridir?

	Asit	Baz
A)	HF, H <sub>3</sub> O <sup>+</sup>	H <sub>2</sub> O, F <sup>-</sup>
B)	H <sub>2</sub> O, F <sup>-</sup>	HF, H <sub>3</sub> O <sup>+</sup>
C)	HF, H <sub>2</sub> O	H <sub>3</sub> O <sup>+</sup> , F <sup>-</sup>
D)	F <sup>-</sup> , HF	H <sub>2</sub> O, H <sub>3</sub> O <sup>+</sup>

3. Lewis asit-baz teorisinin temeli aşağıdakilerden hangisine dayanır?

A) Proton alıp vermeye  
B) Hidrojen iyonu vermeye  
C) Hidroksit iyonu vermeye  
D) Serbest elektron çifti alıp vermeye

4. Ametal oksitler su ile tepkime vererek çözünebilirler ve sudaki H<sup>+</sup> iyonları derişimini artırır.

Buna göre, ametal oksitlerle ilgili aşağıdakilerden hangisi söylenebilir?

A) Baziktir.                B) Asidiktir.  
C) Nötrdür.                D) Amfoterdir.

5.  $HNO_3 + KOH \rightarrow \text{Ürün} + H_2O$  tepkimesi sonucu oluşan ürün aşağıdakilerden hangisidir?

A) HNO<sub>2</sub>                      B) KH  
C) KNO<sub>3</sub>                    D) NH<sub>3</sub>

## 1. OTURUM

6. Suyun iyonlaşma sabiti ( $K_{su}$ ) değerini aşağıdakilerden hangisi değiştirir?

- A) Derişim B) Sıcaklık  
C) Hacim D) Basınç

7. pH metreyle aşağıdakilerden hangisi belirlenebilir?

- A) Asit ve bazların kuvveti  
B) Suyun iyonlaşma sabiti  
C) Asit ve bazların değeri  
D) Suyun iyonlaşma yüzdesi

8. pOH değeri 8 olan bir çözeltide  $OH^-$  iyonlarının molar derişimi kaçtır?

- A) 6 B)  $1 \times 10^{-1}$   
C)  $1 \times 10^{-6}$  D)  $1 \times 10^{-8}$

9. pH değeri 7'den büyük olan bir çözelti için aşağıdakilerden hangisi doğrudur?

- A) Nötrdür.  
B) Asidiktir.  
C) Baziktir.  
D) Tampon çözeltidir.

10. Aşağıdaki maddelerden hangisi amfoter oksit değildir?

- A)  $Al_2O_3$  B)  $HNO_3$   
C)  $BeO$  D)  $ZnO$

11. I- Nötr atomun elektron alması  
II- Negatif yüklü bir iyonun yüksüz hâle gelmesi  
III- Pozitif yüklü bir iyonun yüksüz hâle gelmesi

Yukarıdaki olayların hangilerinin de indirgenme gerçekleşir?

- A) Yalnız II B) Yalnız III  
C) I ve II D) I ve III

12. Aşağıdaki tepkimelerin hangisinde altı çizilen madde yükseltgenmiştir?

- A) Mg +  $1/2O_2 \rightarrow MgO$   
B) CuO +  $H_2 \rightarrow Cu + H_2O$   
C) CO +  $1/2O_2 \rightarrow CO_2$   
D) N +  $3H_2 \rightarrow 2NH_3$

13.  $3H^+_{(suda)} + Al_{(k)} \rightarrow 3/2H_{2(g)} + Al^{+3}_{(suda)}$  tepkimesine göre aşağıdakilerden hangisi doğrudur?

- A) Alüminyum yükseltgendir.  
B) Hidrojen yükseltgenmiştir.  
C) Alüminyum indirgenmiştir.  
D) Alüminyum, hidrojenden aktiftir.

14. Aşağıdaki ifadelerden hangisi aktifliği açıklar?

- A) Metallerde elektron verme, ametallerde elektron alma isteğidir.  
B) Bir metalden elektrik akımının geçmesidir.  
C) Kimyasal tepkimelerle elektrik akımı üreten araçtır.  
D) Elektronların anottan katoda doğru akma isteğidir.

15. Aşağıdaki bileşiklerin hangisinde H'nin yükseltgenme basamağı +1'dir?

- A) NaH B) HCl  
C) KH D)  $CaH_2$

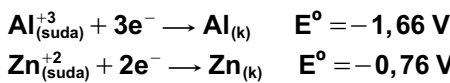
16. Bir elektrokimyasal pilde elektrotlar arasındaki bağlantıyı aşağıdakilerden hangisi sağlar?

- A) Elektrolit B) Tuz köprüsü  
C) İletken tel D) Belirteç

17. Bir elektrokimyasal pilde anot Mn, katot Cu elektrottur. Buna göre, indirgenme yarı tepkimesinin denklemi aşağıdakilerden hangisidir?

- A)  $Mn_{(k)} \rightarrow Mn^{+2}_{(suda)} + 2e^-$   
B)  $Mn^{+2}_{(suda)} + 2e^- \rightarrow Mn_{(k)}$   
C)  $Cu_{(k)} \rightarrow Cu^{+2}_{(suda)} + 2e^-$   
D)  $Cu^{+2}_{(suda)} + 2e^- \rightarrow Cu_{(k)}$

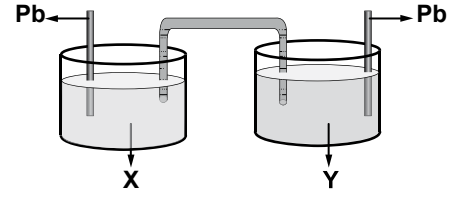
18.



İndirgenme yarı tepkimeleri verilen Al – Zn pilinin  $E^\circ$  değeri kaç voltur?

- A) -2,42 B) 0,90  
C) 1,00 D) 2,42

19. Şekildeki düzenek bir derişim pildir.



Buna göre, kaplardaki X ve Y çözeltileri aşağıdakilerden hangisi olabilir?

	X	Y
A)	0,1M $Pb(NO_3)_2$	1M $PbSO_4$
B)	1M $Pb(NO_3)_2$	1M $Pb(NO_3)_2$
C)	0,1M $Pb(NO_3)_2$	1M $Pb(NO_3)_2$
D)	1M $CuSO_4$	1M $ZnSO_4$

20. Elektroliz ile ilgili verilen bilgilerden hangisi yanlıştır?

- A) Kendiliğinden gerçekleşir.  
B) Katoda pozitif yüklü iyonlar göç eder.  
C) Elektrik akımı yardımıyla gerçekleşir.  
D) Anotta yükseltgenme, katotta indirgenme olur.

### (441) BİYOLOJİ – 1

1. I- Üreme

II- Enerji kullanma

III- İç dengiyi düzenleme

Yukarıdakilerden hangileri tüm canlılarda görülür?

- A) Yalnız I B) I ve III  
C) II ve III D) I, II ve III

2. Hidroksit iyonları derişimi hidrojen iyonları derişiminden fazla olan çözeltilere ne denir?

- A) Asidik B) Bazik  
C) Nötr D) Seyreltik

## 1. OTURUM

3. I- Organik bileşikler, inorganik bileşiklere göre daha karmaşık ve çeşitlidir.  
II- Doğada bulunan organik bileşiklerin çoğu organizmalar tarafından üretilir.  
Yukarıda organik bileşiklerle ilgili verilenler için ne söylenebilir?
- A) Yalnız I doğru  
B) Yalnız II doğru  
C) Her ikisi de doğru  
D) Her ikisi de yanlış
4. Aşağıdakilerden hangisi, beş karbonlu monosakkaritlerdendir?
- A) Glikoz B) Riboz  
C) Fruktoz D) Galaktoz
5. I- Maltoz  
II- Laktoz  
III- Sakkaroz  
Yukarıda verilen disakkaritlerden hangileri bitki hücrelerinde üretilir?
- A) Yalnız I B) I ve III  
C) II ve III D) I, II ve III
6. Trigliseritlerde gliserol ile yağ asitlerinin aralarında kurulan kimyasal bağa ne ad verilir?
- A) Ester B) Glikozit  
C) Peptit D) Hidroliz
7. Proteinlerin temel yapı birimine ne ad verilir?
- A) Gliserol  
B) Monosakkarit  
C) Nükleik asit  
D) Aminoasit
8. Aşağıdakilerden hangisi, kimyasal tepkimelerdeki katalizörler için **yanlış** bir bilgidir?
- A) Tepkimeyi hızlandırır.  
B) Aktivasyon enerjisini düşürür.  
C) Tepkimeden sonra miktarı azalır.  
D) Canlı hücrelerdeki biyolojik katalizörlere enzim denir.
9. Enzimlerin etkinliğini durduran maddelere ne ad verilir?
- A) Aktivatör  
B) İnhibitör  
C) Substrat  
D) Aktivasyon enerjisi
10. Aşağıdakilerden hangisi suda çözünen vitaminlerdendir?
- A) A B) D C) C D) E
11. Aşağıdakilerden hangisi nükleik asitlerde bulunan pürin grubu bazlardandır?
- A) Adenin B) Timin  
C) Sitozin D) Urasil
12. Hücrede enerji taşıma görevini üstlenmiş nükleotit yapılı bileşiğe ne ad verilir?
- A) ATP B) DNA  
C) mRNA D) tRNA
13. 17. yüzyılın sonlarında kendi geliştirdiği mikroskopta bir hücreli canlıları, bakteri ve sperm hücrelerini inceleyen bilim adamı kimdir?
- A) Robert Hooke  
B) Robert Brown  
C) Theodore Schwann  
D) Anton van Leeuwenhock
14. I- Taşıma sırasında hücre enerji (ATP) harcar.  
II- Maddeler yarı geçirgen zarından, derişimlerinin yüksek olduğu taraftan düşük olduğu tarafa doğru hareket eder.  
Pasif taşıma ile ilgili olarak yukarıda verilenler için ne söylenebilir?
- A) Yalnız I doğru  
B) Yalnız II doğru  
C) Her ikisi de doğru  
D) Her ikisi de yanlış
15. Derişimi hücre içine göre daha düşük olan çözeltilere ne denir?
- A) Turgor B) İzotonik  
C) Hipotonik D) Hipertonik
16. Aşağıdakilerin hangisinde hücre duvarı **bulunmaz**?
- A) Alg B) Mantar  
C) Bakteri D) Alyuvar
17. Sarı, kırmızı ve turuncu renkli pigmentleri içeren plastitlere ne ad verilir?
- A) Koful  
B) Lökoplast  
C) Kromoplast  
D) Mikrotübüller
18. I- Çekirdekçiğin büyüklüğü ve sayısı hücrelerde farklılık gösterebilir.  
II- Çekirdekçik, hücrede tüm organellerin üretiminden sorumludur.  
III- Protein sentezinin yoğun olduğu hücrelerde çekirdekçik sayısı daha az bulunur.  
Hücre çekirdekçiği ile ilgili olarak verilenlerden hangileri doğrudur?
- A) Yalnız I B) I ve III  
C) II ve III D) I, II ve III
19. Aşağıdaki canlılardan hangisi prokaryot hücre yapısına sahiptir?
- A) Bakteriler B) Algler  
C) Mantarlar D) Bitkiler
20. Endosimbiosis hipotezi, aşağıdaki hücre organellerinden hangisinin oluşmasını açıklamaktadır?
- A) Ribozom B) Lizozom  
C) Koful D) Mitokondri

## 1. OTURUM

(443) BİYOLOJİ – 3

1. Aşağıdakilerden hangisi nitel gözleme örnektir?

- A) Evimiz markete on adım mesafede
- B) Bir çuval patates yaklaşık 50 kg gelmekte
- C) Salondaki eşyalarımızın tümü açık mavi renkte
- D) Eve aldığımız kanepenin uzunluğu iki metre

2. Deneilerin yapıldığı aşamada bir kontrol grubu varsa bu tür çalışmalara ne denir?

- A) Gözlem
- B) Hipotez
- C) Nicel gözlem
- D) Kontrollü deney

3. Bilim dünyasında herkes tarafından aynı koşullarda tekrarlandığında aynı sonuçların alındığı ve tüm dünyada kabul edilen kurallara ne ad verilir?

- A) Teori
- B) Kanun
- C) Hipotez
- D) Deney

4. Bezelyeler üzerinde yaptığı deneyler sonucunda, kalıtsal özelliklerin dölden dölle geçişi ile ilgili önemli sonuçlar elde eden ve genetik biliminin kurucusu kabul edilen bilim adamı kimdir?

- A) Robert Hooke
- B) Charles Darwin
- C) James Watson
- D) Gregor Mendel

5. Canlıların çevreleri ve birbirleriyle ilişkisini inceleyen biyolojinin alt bilim dalına ne ad verilir?

- A) Evrim
- B) Ekoloji
- C) Fizyoloji
- D) Biyokimya

6. Aşağıdaki bilim dallarından hangisi biyoloji ile direkt ilişkili değildir?

- A) Paleontoloji
- B) Psikoloji
- C) Jeoloji
- D) Sağlık Bilimleri

7. Deneyler sırasında, canlı hücrenin yapısının değişmemesi veya bozulmaması için aniden öldürülmesi işlemine ne denir?

- A) Fiksasyon
- B) Kesit alma
- C) Doku kültürü
- D) Vital inceleme

8. Aşağıdakilerden hangisi, ototrof canlılar tarafından organik besin üretiminde ham madde olarak kullanılmaktadır?

- A) Yağlar
- B) Vitaminler
- C) Mineraller
- D) Proteinler

9. Aşağıdaki canlılardan hangisinde herbivor beslenme şekli görülür?

- A) İnsan
- B) Koyun
- C) Aslan
- D) Kartal

10. Ekosistemde iki türün karşılıklı olarak birbirinden yararlandığı birlikteliğe ne ad verilir?

- A) Mutualizm
- B) Kommensalizm
- C) Parazit yaşam
- D) Saprotit beslenme

11. Besin piramidinde, kütlesi en fazla olan grup aşağıdakilerden hangisidir?

- A) Üreticiler
- B) Birincil tüketiciler
- C) İkincil tüketiciler
- D) Üçüncül tüketiciler

12. Eğer bir popülasyonda avlanma fazla, çevre atık maddelerle dolu, besin az ve bireyler yaşlı ise bu popülasyon için aşağıda verilenlerden hangisi doğrudur?

- A) Zamanla büyür.
- B) Yoğunluğu azalır.
- C) Yoğunluğu artar.
- D) İçerdiği bireyler artar.

13. I- Kuraklık  
II- Depremler  
III- Toprak kayması

Yukarıdakilerden hangileri bir komünitedeki baskın türün ortadan kalkmasına sebep olabilir?

- A) Yalnız I
- B) I ve II
- C) II ve III
- D) I, II ve III

14. I- Petrol  
II- Evsel atıklar  
III- Tarımsal aktiviteler

Yukarıdakilerden hangileri su kirliliğine sebep olabilir?

- A) Yalnız I
- B) I ve II
- C) II ve III
- D) I, II ve III

15. I- Canlıların hayatta kalma şansını artırır.  
II- Canlıların üreme şansını azaltır.  
Yukarıda adaptasyon ile ilgili olarak verilenler için ne söylenebilir?

- A) Yalnız I doğru
- B) Yalnız II doğru
- C) Her ikisi de doğru
- D) Her ikisi de yanlış

16. Akşamsefası bitkisinin çiçeklerinin akşam açıp, gündüz ışıkta kapanması ne tür bir harekettir?

- A) Kemonasti
- B) Fotonasti
- C) Fototropizma
- D) Kemotropizma

17. Canlılarda günlük, aylık, yıllık döngüler halinde tekrarlanan davranışlara ne denir?

- A) Homeostazi
- B) Biyolojik ritim
- C) Tropizma hareketi
- D) Sosyal davranışlar

## 1. OTURUM

18. I- Ototrof  
II- Yaratılış  
III- Panspermia  
Yukarıdakilerden hangileri hayatın başlangıcı ile ilgili görüşlerdendir?  
A) Yalnız I B) I ve II  
C) II ve III D) I, II ve III
19. "Kullanılan her organ gelişir. Kullanılmayanlar ise zamanla zayıflar ve körelir."  
Evrimle ilgili bu varsayım hangi bilim adamına aittir?  
A) Aristo B) Darwin  
C) Lamarck D) Pasteur
20. Çevrenin etkisi ile vücut hücrelerinde görülen ve kalıtsal olmayan değişikliklere ne ad verilir?  
A) Genetik  
B) Mutasyon  
C) Modifikasyon  
D) Homolog organ

### (446) BİYOLOJİ – 6

1. Aşağıdakilerden hangisi, Mendel'in çalışmalarında bezelye bitkisini seçmesinin nedeni olamaz?  
A) Çok sayıda karaktere sahip olmaları  
B) Kısa sürede döl vermeleri  
C) Sarı tohumlu olmaları  
D) Kolay yetişmeleri
2. Alel genlerin bulunduğu kromozom bölgesine ne denir?  
A) Lokus B) Gen  
C) Resesif D) Heterozigot
3. Belirli bir karakter alınarak yapılan monohibrit çaprazlama ile bu karakter bakımından hangisine ulaşamaz?  
A) Oluşacak gamet çeşitlerine  
B) Oluşacak bireylerin genomuna  
C) F<sub>1</sub> dölünün genotip oranına  
D) F<sub>1</sub> dölünün fenotip oranına

4. AABb genotipli bir bireyle, AaBb genotipli başka bir bireyin çaprazlanmasıyla, AABB genotipli bireylerin oluşma olasılığı nedir?  
A)  $\frac{1}{2}$  B)  $\frac{1}{4}$   
C)  $\frac{1}{8}$  D)  $\frac{1}{16}$
5. Aşağıdakilerden hangisi Mendel tarafından açıklanmıştır?  
A) Alel gen  
B) Eş baskınlık  
C) Çok alellilik  
D) Eksik baskınlık
6. Tavşanların post (kürk) rengi karakterinde dört farklı alel gen etkili olmaktadır. Buna göre, bir tavşan bu alellerden kaç tane sine sahip olabilir?  
A) 1 B) 2 C) 3 D) 4
7. İnsanlardaki kan grupları ile ilgili olarak aşağıda verilenlerden hangisi yanlıştır?  
A) A kan gruplu insanların alyuvar zarında A antijeni vardır.  
B) B kan gruplu insanların kan plazmasında A antikor vardır.  
C) AB kan gruplu insanların kan plazmasında antikor bulunmaz.  
D) O kan gruplu insanların kan plazmasında antikor bulunmaz.
8. Bitkilerin çoğunda ve bazı omurgasız hayvanlarda erkek ve dişi cinsiyet organlarının her ikisi de aynı birey üzerinde bulunur. Bu tür canlılara ne ad verilir?  
A) Dominant (baskın)  
B) Erselik (hermafrodit)  
C) Resesif (çekinik)  
D) Çok alelli
9. I- Erkek arı  
II- İşi arı  
III- Kraliçe arı  
Bal arılarında kraliçenin oluşturduğu yumurtalar döllenmeden gelişirse yukarıdakilerden hangileri oluşur?  
A) Yalnız I B) I ve II  
C) II ve III D) I, II ve III

10. I- X kromozomu, Y kromozomundan daha büyüktür.  
II- X kromozomunda mevcut olan çoğu genin, Y kromozomunda aleli bulunmaz.  
İnsanlardaki gonozomlarla ilgili olarak verilenler için ne söylenebilir?  
A) Yalnız I doğru  
B) Yalnız II doğru  
C) Her ikisi de doğru  
D) Her ikisi de yanlış
11. Aşağıdakilerden hangisi, insanlarda X kromozomundaki genlerle kalıtılan karakterlerdendir?  
A) Kulak kıllılığı  
B) Balık pulluluk  
C) Kan grubu  
D) Kırmızı yeşil renk körlüğü
12. İnsanda yapışık parmaklılık Y kromozomu ile taşınan bir özelliktir. Bu özellik ile ilgili aşağıdakilerden hangisi yanlıştır?  
A) Babadan oğula geçer.  
B) Anne birey taşıyıcıdır.  
C) Sadece erkeklerde görülür.  
D) X kromozomunda aleli yoktur.
13. Aşağıdakilerden hangisi kromozomların yapısında değişiklik meydana getirmez?  
A) Homolog kromozom çiftinin ayrılmaması  
B) Homolog kromozomlarda parça değişimi  
C) Kromozomun uç kısmından parça kesilmesi  
D) Kromozomdan kopan parçanın ters dönerek aynı yere yapışması
14. DNA, ökaryot hücrelerin aşağıda verilen kısımlarından hangisinde bulunmaz?  
A) Çekirdek B) Mitokondri  
C) Kloroplast D) Sitoplazma

## 1. OTURUM

### (461) EKONOMİ – 1

15. DNA'nın anlamlı zinciri üzerindeki genetik şifreye göre mRNA sentezine ne ad verilir?

- A) Replikasyon
- B) Transkripsiyon
- C) Dehidrasyon
- D) Translasyon

16. I- Hastalıklar  
II- Böcek ilaçları  
III- Çevre koşulları

Rekombinant DNA teknolojisi ile yukarıdakilerden hangilerine karşı bitkilerin direncini arttırmak mümkündür?

- A) Yalnız I
- B) I ve II
- C) II ve III
- D) I, II ve III

17. Aşağıdakilerden hangisi komüniteye örnek gösterilemez?

- A) Akdeniz Bölgesi'ndeki bitkiler
- B) Gediz Nehri'ndeki balıklar
- C) Afrika savanalarındaki aslanlar
- D) Çalı ve fundalıklardaki kuşlar

18. Parazit canlının, üzerinde ya da içinde yaşayarak zarar verdiği canlıya ne ad verilir?

- A) Ekoton
- B) Konak
- C) Predasyon
- D) Ekolojik niş

19. I- Göçler  
II- Doğum oranı  
III- Ölüm oranı

Popülasyonun büyüklüğünü yukarıdakilerden hangileri belirler?

- A) Yalnız I
- B) I ve II
- C) II ve III
- D) I, II ve III

20. İlbahar yağışlarıyla yeşerip, yazın kuruyan ot topluluklarının bulunduğu bölgeye ne ad verilir?

- A) Çöl
- B) Çayır
- C) Bozkır
- D) Orman

1. Aşağıda verilenlere yönelik alınacak önlemlerden hangisi ekonomi politikasının nicelik belirleyen vasıtalarından olamaz?

- A) Özelleştirme
- B) Vergi oranları
- C) Asgari ücret
- D) Çalışma süreleri

2. Aşağıda verilenlerden hangisi dolaylı tüketim için bir örnektir?

- A) Bir elbisenin kullanılması
- B) Meyve ve sebzenin yenmesi
- C) Bir otobüste seyahat edilmesi
- D) Ekmek üretimi için unun kullanılması

3. İyi işletilmeyen bir fabrikanın başkaları tarafından satın alınarak daha faydalı şekilde çalıştırılması, hangi üretim faaliyeti ile açıklanabilir?

- A) Şekil faydası yaratan üretim faaliyetleri
- B) Mekan faydası yaratan üretim faaliyetleri
- C) Zaman faydası meydana getiren üretim faaliyetleri
- D) Mülkiyet faydası meydana getiren üretim faaliyetleri

4. Üretim faaliyeti süresince malın şeklinin değişmesi ve madde yerine başka bir maddenin geçmesi durumu, üretim ile ilgili aşağıda verilen ekonomik görüşlerden hangisini açıklamaktadır?

- A) Üretim, madde meydana getirmektir.
- B) Üretim, değer meydana getirmektir.
- C) Üretim, ekonomik malların miktarını artırmaktır.
- D) Üretim, ekonomik malların faydasını artırmaktır.

5. Ülkemiz akarsularından faydalanılmasında, aşağıdakilerden hangisinin olumsuz bir etki yaratmadığı kabul edilebilir?

- A) Yüzey şekillerinin engebelik bir alan kaplaması
- B) Akarsular üzerinde barajların yapılması
- C) Akarsuların sel rejimine bağlı olması
- D) İklimin dört mevsimde değişik şekiller göstermesi

6. Aşağıda verilenlerden hangisi vasıfsız emeğe bir örnektir?

- A) Terzilik
- B) Kunduracılık
- C) Temizlikçilik
- D) Mobilyacılık

7. Nüfusun cinsiyet, kalite, yaş ve meslekler bakımından oluşumunu belirten inceleme konusu aşağıdakilerden hangisidir?

- A) Nüfus sayısı
- B) Nüfus yapısı
- C) Nüfus yoğunluğu
- D) Nüfus hareketi

8. Aşağıdakilerden hangisi hızlı nüfus artışının olumsuz yönde açıklamasıdır?

- A) İç ve dış göçler artar.
- B) Ekonomik faaliyetler hızlanır.
- C) Ülke kaynakları kolay işletilir.
- D) Üretici güç olarak emek artışı olur.

9. Bir kuruluşun faiz karşılığında 3 yıllığına bankalardan aldığı kredinin borç türü aşağıdakilerden hangisidir?

- A) Kısa vadeli borç
- B) Orta vadeli borç
- C) Uzun vadeli borç
- D) Hem kısa hem orta vadeli borç



## 1. OTURUM

10. Bir kuruluşun ekonomik değerleri arasında yer alan dönen varlıklarına yönelik, aşağıdaki açıklamalardan hangisi doğru değildir?

- A) Dönen varlıklar üretime katılır.
- B) Üretim sonunda değişikliğe uğrar.
- C) Dönen varlıklar değişen sermayeyi gösterir.
- D) Kuruluşun yaşamının devamına ayrılan varlıklardır.

11. Aşağıda verilenlerden hangisi, ticari sermayenin kullanım alanlarından birine örnek gösterilebilir?

- A) Hayvanlar
- B) Ulaştırma araçları
- C) Yazı makineleri
- D) Ziraat makineleri

12. Girişimin tanımı ile ilgili yapılan açıklamalardan hangisi yanlıştır?

- A) Girişim ekonomik bir ünedir.
- B) Girişim bir karar alma merkezidir.
- C) Girişim mal ve hizmet alımı yapan bir ünedir.
- D) Girişim üretim faktörlerini sağlayan bir ünedir.

13. Adi Komandit Şirketlerle ilgili yapılan açıklamalardan hangisi doğrudur?

- A) Bu şirketler üç türlü ortaktan oluşur.
- B) Komandite ortaklar için sınırlı sorumluluk vardır.
- C) Komanditer, şirkete koyduğu sermaye kadar sorumluluk alır.
- D) Komanditer ortaklar, şirketin ihtiyaç duyduğu sermayeyi sağlarlar.

14. I- Obligasyon, sahibine faiz sağlamaz.  
II- Obligasyon, paranın göstergesidir.  
III- Şirketin sermayesi eşit değerdedir.  
IV- Şirket zararı, obligasyon sahiplerini ilgilendirir.

Anonim şirketler ile ilgili yukarıda verilenlerden yanlış olanlar, hangisinde birlikte verilmiştir?

- A) I ve II
- B) II ve III
- C) III ve IV
- D) I ve IV

15. Sermayesinin tamamı devlete ait olan ve iktisadi alanda ticari amaçlara göre faaliyet göstermek üzere kanunla kurulan kuruluşlar aşağıdakilerden hangisidir?

- A) Kamu Tekelleri
- B) Bağlı Ortaklıklar
- C) Kamu İktisadi Kuruluşları
- D) İktisadi Devlet Teşekkülleri

16. Girişimciye ve sahip olduğu kuruluşun yönetimine yönelik, yapılan tanımlamalardan hangisi uygun değildir?

- A) Sahip olduğu kuruluşu doğrudan doğruya yönetebilir.
- B) Genellikle küçük kuruluşlar, ücretli yöneticilerce yönetilir.
- C) Büyük kuruluşlar genellikle profesyonel girişimciler tarafından yönetilir.
- D) Kuruluşun yönetimi, dışarıdan ücretli bir yönetici aracılığıyla yürütülebilir.

17. Gayri safi Millî Hasılanın hesaplanmasında aşağıdakilerden hangisi, o yıla ait üretim faktörlerinin karşılığı olarak çıkarılmaktadır?

- A) Sanayi
- B) Hizmetler
- C) Amortismanlar
- D) Vasıtalı vergiler

18. Aşağıdakilerden hangisi millî gelirin hesaplanma yöntemlerinden biri değildir?

- A) Hizmet sistemi
- B) Gelir sistemi
- C) Üretim sistemi
- D) Harcama sistemi

19. Tarımın millî gelirden aldığı payın tespiti, gelir dağılımının hangi yönden incelendiğini göstermektedir?

- A) Meslekler
- B) Sektörler
- C) Sosyal kesimler
- D) Nüfus dilimleri

20. Türkiye'de yetkili bir kuruluş olan T.C. Merkez Bankasının belirlediği faiz türü aşağıdakilerden hangisidir?

- A) Bağlı faiz
- B) Serbest faiz
- C) Sabit faiz
- D) Değişen faiz

### (465) TEMEL DİNİ BİL. – 1

1. Tanrısal, mutlak bilgiye sezgiyle ulaşabileceğini savunan inanç biçimi aşağıdakilerden hangisidir?

- A) Agnostizm
- B) Politeizm
- C) Gnostizm
- D) Monoteizm

2. Kişi, inancı sayesinde diğer insanlarla olan ortak yönlerinin farkına varır ve bir yaratıcı tarafından ortak bir gayeyle yaratıldığını fark eder. Bu bilinçte olan kişi toplumda ayrılıkları değil, ortak noktaları ön plana çıkararak huzurun yaygınlaşmasına yardımcı olur.

Bu paragrafa en uygun başlık aşağıdakilerden hangisidir?

- A) Din - Toplum ilişkisi
- B) Din Nedir?
- C) İnanç - İbadet ilişkisi
- D) Yeryüzündeki Belli Başlı Dinler

## 1. OTURUM

3. Aşağıdakilerden hangisi Hinduizmin tanrılarından biri değildir?

- A) Şiva B) Vişnu  
C) Brahma D) Mahavira

4. Aşağıdakilerden hangisi Hristiyan mezheplerinden biri değildir?

- A) Monofizit Angilikan  
B) Reformist  
C) Protestan  
D) Katolik

5. Hendek Savaşı'nda hendek kazma fikrini ortaya atan sahabi kimdir?

- A) Selman-ı Farisi  
B) Abdullah b. Zeyd  
C) Sad. b. Ebi Vakkas  
D) Abdullah b. Revaha

6. Uhud Savaşı'nda Müslümanlar savaşı kazanmak üzere iken savaşı müşriklerin lehine çeviren komutan kimdir?

- A) Amr b. As  
B) Ebu Sûfyan  
C) Halit b. Velit  
D) Umeyye b. Halef

7. Aşağıdakilerden hangisi Peygamberimizin Mekke'nin fethinde sığınılmasını istediği yerlerden biridir?

- A) Kâbe  
B) Darün Nedve  
C) Darül Erkam  
D) Mescid-i Nebi

8. Allah'tan başka hiçbir varlıkta olmayan sıfatlar aşağıdakilerden hangisiyle isimlendirilir?

- A) Lafzatullah  
B) Zatî sıfatlar  
C) Subutî sıfatlar  
D) Esmâül Hüsnâ

9. Aşağıdakilerden hangisi Allah'ın görmesi anlamına gelir?

- A) Semi B) Basar  
C) Beka D) Kelam

10. İnsanların sevap ve günahlarını kaydetmekle görevli melek aşağıdakilerden hangisidir?

- A) İsrail  
B) Mikail  
C) Münker Nekir  
D) Kiramen Katibin

11. Aşağıdaki peygamber ve kitap eşleştirmelerinden hangisi doğrudur?

- A) Hz. Davud - Zebur  
B) Hz. İsa - Tevrat  
C) Hz. Musa - İncil  
D) Hz. İbrahim - Zebur

12. Melekler hakkında aşağıda verilen bilgilerden hangisi doğrudur?

- A) Ateşten yaratılmışlardır.  
B) Erkek veya dişi olabilirler.  
C) Rablerine asla karşı gelmezler.  
D) Şeytan meleklerin en büyüklerinden idi.

13. Peygamber kelimesinin sözlük anlamı aşağıdakilerden hangisidir?

- A) Haber getiren  
B) Gücü yeten  
C) Hükmeden  
D) Emin olan

14. Allah'ın belirlemiş olduğu şeylerin zamanı ve yeri gelince ortaya çıkmasına ne denir?

- A) Kader B) Kaza  
C) Kıyamet D) İman

15. Aşağıdakilerden hangisi abdesti bozmaz?

- A) Bayılmak  
B) Ağlamak  
C) Ağız dolusu kusmak  
D) Namazda başkası duyacak kadar gülmek

16. Aşağıdakilerden hangisi namazın sünnetlerindedir?

- A) Ettehiyyâtü duasını okumak  
B) Yanılınca sehiv secdesi yapmak  
C) Her rekatta Fatıha suresini okumak  
D) Namazın sonunda sağa ve sola selam vermek

17. Bayram namazı hakkında aşağıda verilen bilgilerden hangisi doğrudur?

- A) Dört rekattır.  
B) Farz bir namazdır.  
C) Ziyade tekbirler alınır.  
D) Güneşin doğmasıyla namaz vakti girer.

18. Teravih namazının hükmü nedir?

- A) Farz B) Vacib  
C) Sünnet D) Müstehab

19. Aşağıdakilerden hangisi zekatın sözlük anlamlarından biridir?

- A) İşaret etme  
B) Çoğalmak  
C) Kulluk  
D) Huy

20. Aşağıdakilerden hangisi hac ibadeti ile ilgili değildir?

- A) Mina  
B) Müzdelife  
C) Safa - Merve  
D) Mescid-i Nebi

## 1. OTURUM

### (474) İŞ GÜVENLİĞİ – 1

1. Hangisinin amacı, toplumun hedefleri ve iş çevrelerinin talepleri doğrultusunda bireylere belirli bir mesleğin gerektirdiği bilgi, beceri ve uygulama yeterliliklerinin kazandırılmasıdır?
- A) Trafik eğitiminin  
B) Sendika eğitiminin  
C) İlk yardım eğitiminin  
D) Mesleki ve teknik eğitimin
2. Aşağıdakilerden hangisi iş güvenliğinin temel hedeflerinden biri değildir?
- A) Bireyi bir mesleğe hazırlamak  
B) Daha insanca bir iş ortamı oluşturmak  
C) Sağlığa zarar verebilecek koşullardan korunmak  
D) İşin yürütülmesiyle ilgili olarak oluşan tehlikelerden korunmak
3. I- İşçilerin iş güvenliği konusunda eğitilmesi  
II- Yeteri kadar ilk yardım ve tedavi malzemesinin bulundurulması  
III- İş yerindeki çalışma odaları, tuvalet, lavabo ve yemekhanelerde her türlü hijyenin sağlanması
- Verilenlerden hangileri, insan sağlığı ve iş güvenliğini sağlamak için başlıca yapılması gerekenlerdendir?
- A) Yalnız I  
B) I ve II  
C) II ve III  
D) I, II ve III
4. Sigortalının iş yerinde bulunduğu sırada kaza geçirmesi durumu, ilgili yasaya göre aşağıdakilerden hangisi olarak kabul edilir?
- A) Tehdit  
B) İş kazası  
C) İş güvenliği  
D) Meslek hastalığı

5. Aşağıdakilerden hangisi iş yerlerinde kazaların artmasının nedenlerinden biri değildir?
- A) Aşırı dalgınlık  
B) Sinirsel gerilim  
C) İyi motivasyon  
D) Ekonomik sıkıntılar
6. Aşağıdakilerden hangisi cam üfürücülerinde görülen meslek hastalığıdır?
- A) Katarakt  
B) Şarbon  
C) Depresyon  
D) Vurgun
7. Aşağıdakilerden hangisi çevre güvenliğini ve sağlığını tehdit eden kimyasal faktörlerdendir?
- A) Soğuk ve donmalar  
B) Böcekler ve parazitler  
C) Elektromanyetik ışınlar  
D) Sis, buhar, duman ve tozlar
8. Aşağıdakilerden hangisi, doğrudan doğruya deriyi tahriş etmez ancak, bakterilere karşı derinin direncini azaltır?
- A) Kireç  
B) Benzin  
C) Sülfürik asit  
D) Hidrojen siyanür
9. • Gürültülü ortam  
• Gölge veren ve göz kamaştıran bir aydınlatma
- Yukarıda verilen unsurların bir iş yerinde olması hâli o iş yerinin hangi tür tehdit altında olduğunu gösterir?
- A) Fiziki  
B) Biyolojik  
C) Kimyasal  
D) Endüstriyel
10. Hangi rengin insan üzerinde uyarıcı etkisi vardır?
- A) Mavi  
B) Siyah  
C) Kırmızı  
D) Beyaz

11. İnsan sağlığına zarar vermeyecek en üst gürültü düzeyi kaç desibel olarak kabul edilmektedir?
- A) 30  
B) 60  
C) 90  
D) 120
12. Konutlara çeşitli amaçlarla kullanılmak için ulaştırılan, içilebilir nitelikteki suya ne ad verilir?
- A) Pis su  
B) Saf su  
C) Temiz su  
D) Atık su
13. I- Konutların içinden geçen soğuk su boruları terlemeye karşı mutlaka izole edilmelidir.  
II- Toprak altına döşenen borular, dış hava sıcaklığına göre değişen don düzeyinin daha altında olmalıdır.
- Yukarıdaki bilgiler için hangisi söylenebilir?
- A) I. doğru, II. yanlış  
B) Her ikisi de yanlış  
C) I. yanlış, II. doğru  
D) Her ikisi de doğru
14. Aşağıdakilerden hangisi, elektrik enerjisinden tasarruf için alınması gereken önlemlerden biri değildir?
- A) Duvarların açık renklere boyanması  
B) Kullanılmayan odalardaki ışıkların söndürülmesi  
C) Gündüzleri aydınlatma için güneş ışığı yerine elektriğin tercih edilmesi  
D) Akkor telli ampul yerine uzun ömürlü ampul, LED ampul ya da floresan lamba kullanılması
15. Aşağıdakilerden hangisi elektrikli cihazları kullananların can güvenliğini sağlamak için yapılır?
- A) Isıtma  
B) Topraklama  
C) Soğutma  
D) Zedeleme

## 1. OTURUM

16. Aşağıdakilerden hangisi, bir iş yerinde temizlik ve düzenin sağlanması için başlıca yapılması gerekenlerdendir?

- A) İş bitiminde kullanılan gereçlerin yerine konulması
- B) Temizlik araç ve gereçlerinin bulundurulmaması
- C) İş atıkları ve çöplerin ortamda bırakılması
- D) İş yeri dış çevre temizliğinin aksatılması

17. Aşağıdakilerden hangisi, el aletlerinin kullanılması sırasında oluşması muhtemel iş kazalarına karşı alınabilecek önlemlerdendir?

- A) Kriko ile yük kaldırıldıktan sonra uygun takozlarla beslenmesi
- B) El aletlerini kullanırken ellerin yağlı, kaygan ve ıslak olmasına özen gösterilmesi
- C) Sapları kırılmış, biçimi bozulmuş, kopmuş, körlenmiş çekiç, eğe vb. aletlerin kullanılması
- D) El aletlerinin yerlerde, merdivenlerde veya çalışanların geçebileceği bölümlerde tutulması

18. Aşağıdakilerden hangisi, yüksek yerlerde veya engebeli yerlerde çalışırken düşmemek için kullanılması gereken kişisel koruyucu araçlardandır?

- A) Metal kask
- B) Güvenlik kemeri
- C) Koruyucu eldiven
- D) Çelik burunlu ayakkabı

19. Aşağıdakilerden hangisi, ülkemizde bir hastalığın "meslek hastalığı" olarak nitelendirilebilmesi için gereken temel koşullardandır?

- A) Bir anlık dikkatsizlik sonucu kaza geçirilmesi
- B) Hastalığın kişisel etkenlerden kaynaklanması
- C) Hastalığı doğuran olayın bir kez meydana gelmesi
- D) Hastalıkla görülen iş arasında uygun nedensellik bağının olması

20. Aşağıdakilerden hangisi, makine ve tezgâhlarda genel olarak alınması gereken güvenlik önlemlerindendir?

- A) Makineyi operatörü dışında herhangi bir kimsenin kullanması
- B) Kesilen iş artıklarının zemine dağılmasına izin verilmesi
- C) Talaş sıçramalarına karşı çalışanların korunması
- D) Makine çalışırken ayar ve ölçme yapılması

### (477) İŞLETME – 2

1. Aşağıdakilerden hangisi yönetimin özelliklerine uygun bir açıklamadır?

- A) Yönetim tek kişi faaliyetidir.
- B) Yönetim bir yetki faaliyetidir
- C) Yönetim tek yönlü bir faaliyettir.
- D) Yönetilenlerin karar verdiği bir süreçtir.

2. Neo-Klasik Yönetim Teorisi, aşağıda verilen kavramlardan hangisi üzerinde durmaz?

- A) Tatmin
- B) Motivasyon
- C) Kararlara katılma
- D) Hiyerarşik yapı

3. İşletme amaçlarının gerçekleştirilebilmesi için, işletmenin tüm birimlerinin ve çalışanların uyum içinde hareket etmesinin sağlanması, yönetim fonksiyonlarından hangisi ile ilgilidir?

- A) Denetim
- B) Yürütme
- C) Koordinasyon
- D) Organizasyon

4. Planlamanın işletmeye sağlayacağı faydalar düşünüldüğünde, aşağıdakilerden hangisi uygun bir açıklama değildir?

- A) İşletmenin etkin bir denetimden korunmasını sağlar.
- B) İşletme kaynaklarının verimli kullanılmasını sağlar.
- C) Yöneticilere geleceği tahmin etme yeteneği kazandırır.
- D) İşletmenin bölümleri arasındaki koordinasyonu sağlar.

5. Para, fon yada sermaye, aşağıdaki kavramlardan hangisi ile ifade edilir?

- A) Finans
- B) Finansman
- C) Finansal yönetim
- D) Finansman fonksiyonu

6. Bir işletmenin öz kaynaklarına yönelik yapılan açıklamalardan hangisi doğru değildir?

- A) Devamlı bir kaynak niteliği taşır.
- B) Ortaklarca konan fonlar öz kaynaklardır.
- C) Bu kaynaklar, vadeli kaynaklardır.
- D) Maddi olmayan kaynaklar şeklinde de olabilir.

7. Bir tüketicinin çay demlemek üzere çayı marketten satın alması, pazarlamanın faydalarından hangisi ile açıklanabilir?

- A) Yer faydası
- B) Şekil faydası
- C) Zaman faydası
- D) Mülkiyet faydası

8. Reklamın özelliklerine yönelik yapılan açıklamalardan hangisi yanlıştır?

- A) Reklam yapan kişi bellidir.
- B) Reklam kişisel bir sunuştur.
- C) Reklam için bir bedel ödenir.
- D) Reklam bir kitle iletişimidir.

9. Bazı işletmelerin, toptancı yerine acente veya komisyoncu vasıtasıyla perakendecilere, özellikle büyük perakendecilere ulaşmayı tercih etmeleri, hangi dağıtım kanalını kullanacaklarını göstermektedir?

- A) Üretici – Acente – Perakendeci – Tüketici
- B) Üretici – Toptancı – Perakendeci – Tüketici
- C) Üretici – Acente – Toptancı – Tüketici
- D) Üretici – Toptancı – Acente – Tüketici

## 1. OTURUM

10. Bir işletme ürünlerini tüketicilere doğrudan dağıtım yoluyla ulaştırıyorsa aşağıdakilerden hangisi oluşmuş olan uygun şartlardan birisidir?

- A) Üretim hızının tüketim hızından fazla olması
- B) Tüketici ya da müşteri sayısının fazla olması
- C) Birim fiyatının yüksek olması
- D) Üretim - tüketim noktaları arası mesafenin uzak olması

11. Tüketiciler bir malı veya hizmeti satın aldıklarında, bu mal veya hizmet ile ilgili davranışlarını, beğenilerini ve görüşlerini üretimin hangi temel ögesini esas alarak oluştururlar?

- A) Girdi
- B) İşlem
- C) Geri Bildirim
- D) Çıktı

12. Stoklar belirli bir düzeye düştüğünde, önceden belirlenmiş miktarın sipariş edilmesi ve sürekli stok sayımının yapılması, hangi stok kontrol yönteminin kullanıldığını göstermektedir?

- A) Gözle kontrol yöntemi
- B) Sabit sipariş miktarı yöntemi
- C) Sabit sipariş süresi yöntemi
- D) Stoksuz malzeme yönetim sistemi

13. Aşağıdakilerden hangisi işletmelerin gelirleri artırmak ve giderleri azaltmak amacıyla aldıkları tedbirlerden birisi değildir?

- A) Üretim süresini artırmak
- B) Üretimde kaliteyi artırmak
- C) Seri üretim yapmak
- D) Girdileri uygun fiyattan almak

14. Yapılan açıklamalardan hangisi, bir işletmede performans değerlendirmenin çalışanlar üzerindeki etkilerinden birine yönelik değildir?

- A) Yöneltilir.
- B) Motive eder.
- C) Yarıştıtır.
- D) İşletmeye olan güveni artırır.

15. Oryantasyon eğitiminde aşağıdaki bilgilerden hangisi verilmez?

- A) İşletmenin tanıtımı
- B) İşle ilgili bilgilerin aktarımı
- C) Personel haklarının açıklanması
- D) Amirlerin siyasi görüşleri

16. I- Aylık Ödeme  
II- İhbar Tazminatı  
III- Mağduriyet Aylığı  
IV- Kıdem Tazminatı

İşletmelerin işten çıkardığı personeline yapacakları zorunlu ödemeler hangi seçenekte doğru olarak verilmiştir?

- A) Yalnız I
- B) I ve II
- C) II ve IV
- D) III ve IV

17. İşletmelerin çevreye karşı sorumlulukları dikkate alındığında, bir işletmenin kuruluş yeri seçiminin doğru yapılmamasının ortaya çıkaracağı sonuçlara, aşağıdakilerden hangisi örnek olarak gösterilemez?

- A) Kentleşme yavaşlar.
- B) Tarım arazileri azalır.
- C) Doğal kaynaklar kirletilir.
- D) Sanayi belli bölgelerde toplanır.

18. Aşağıdakilerden hangisi, işletmeler faaliyetlerini sürdürürken çevrenin korunmasına yönelik alınması gerekli tedbirlerde bir eksiklik olduğunu göstermektedir?

- A) Mümkün olduğunca yenilenebilir kaynaklar kullanılmalı
- B) İşletme kurulduktan sonra çevre sorunları ile ilgilenmeli
- C) Zehirli ve kimyasal gazlar için fabrika bacalarına filtre takılmalı
- D) Eğitimler yoluyla çalışanlarında çevre sorumluluk bilinci geliştirmeli

19. Aşağıdakilerden hangisi işletmelerin topluma karşı sorumluluklarından biri değildir?

- A) Ekonomik sorumluluğu
- B) Hukuksal sorumluluğu
- C) Gönüllü sorumluluğu
- D) Rekabet etme sorumluluğu

20. Standardizasyon, sağladığı yararlar açısından düşünüldüğünde, öncelikli olarak hedef kitlesi aşağıdakilerden hangisidir?

- A) Üreticiler
- B) Tüketiciler
- C) Satıcılar
- D) Komisyoncular

### (479) MANTIK – 2

1. Aşağıdakilerden hangisi modern (sembolik) mantık ile klasik mantığın ortak özelliklerindedir?

- A) Her ikisinin de kurucusu Aristoteles'dir.
- B) Her ikisinin de amacı geçerli çıkarımlara ulaşmaktır.
- C) Günlük dili kullandıklarından içeriğin etkisinden kurtulmuşlardır.
- D) Matematik dilini kullanırlar.

2. Aşağıdakilerden hangisi birli yüklemlerle bir önermedir?

- A)  $4 < 5$
- B) Ahmet öğrencidir.
- C) Ayşe ve Zehra çalışkandır.
- D) İstanbul, Asya ile Avrupa arasındadır.

3. Günlük dilde "ve" "hem" "hem de" gibi sözcüklerle ifade edilen tümel evetleme eklemının sembolü aşağıdakilerden hangisidir?

- A)  $\wedge$
- B)  $\Rightarrow$
- C)  $\vee$
- D)  $\Leftrightarrow$

4.  $\sim p \vee q$  önermesinin ana bileşeni veya bileşenleri aşağıdakilerden hangisidir?

- A)  $\vee$
- B)  $\sim p$
- C)  $\sim p$  ve  $p \vee q$
- D)  $\sim p$  ve  $q$

5. "Öğrenci çalışırsa başarılı olur." önermesinin önermeler mantığındaki sembolleştirilmiş biçimi aşağıdakilerden hangisidir?

- A)  $p \Leftrightarrow q$
- B)  $p \vee q$
- C)  $p \wedge q$
- D)  $p \Rightarrow q$

## 1. OTURUM

6. Aşağıda verilen önermelerden hangisinin sembolleştirilmiş biçimi " $p \Leftrightarrow q$ " şeklinde olur?

- A) Yağmur yağarsa ürün bol olur.  
B) Hasan ancak ve ancak çalışırsa başarılı olur.  
C) Kütüphaneye ya da gezmeye gideceğim.  
D) Mehmet ve Mahmut öğretmendir.

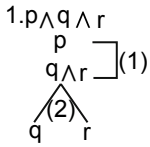
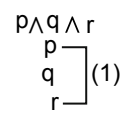
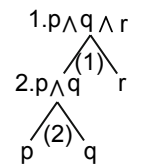
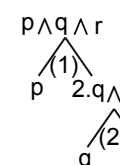
7.  $p \wedge q$  biçimindeki tümel evetleme önermesi aşağıdaki durumlardan hangisinde doğru değeri alır?

- A) p doğru, q doğru ise  
B) p doğru, q yanlış ise  
C) p yanlış, q doğru ise  
D) p yanlış, q yanlış ise

8. Tüm yorumlamaları doğru olan önermeye "totoloji" denir. Buna göre aşağıdaki örneklerden hangisi totolojidir?

- |                 |                          |
|-----------------|--------------------------|
| A) $p \vee q$   | B) $p \Rightarrow q$     |
| D               | D                        |
| D               | Y                        |
| D               | D                        |
| Y               | D                        |
| C) $p \wedge q$ | D) $p \Leftrightarrow q$ |
| D               | D                        |
| Y               | D                        |
| Y               | D                        |
| Y               | D                        |

9. Çözümleyici çizelge kurallarına göre " $p \wedge q \wedge r$ " önermesinin çözümlemesi aşağıdakilerden hangisidir?

- A) 
- B) 
- C) 
- D) 

10. "Adnan öğretmen değildir." önermesinin niceleme mantığındaki sembolik ifadesi hangisidir?

- A) Fa                      B)  $p \vee q$   
C)  $\sim Fa$                 D) p

11. " $\forall$ " sembolüyle gösterilen niceleyicinin anlamı aşağıdakilerden hangisidir?

- A) Bazı                    B) Kimi  
C) Bir kısım              D) Bütün

12. Niceleme mantığında aşağıda verilenlerden hangisi bileşik önermedir?

- A)  $\forall xFx$                 B)  $Fa \wedge Fb$   
C) Fa                      D)  $\exists xFx$

13. Aşağıdakilerden hangisi açık önermedir?

- A) Aristoteles filozoftur.  
B) Selim aşırı kiloludur.  
C) y gazetecidir.  
D)  $2+3=5$

14. Önermelerin ikiden fazla değere sahip olabileceklerini kabul eden mantık sistemi aşağıdakilerden hangisidir?

- A) Kiplik mantığı  
B) Sembolik mantık  
C) Özdeşik mantığı  
D) Çok değerli mantık

15. "Zümrüdü Anka kuşu vardır." önermesinin varlık mantığındaki sembolik ifadesi aşağıdakilerden hangisidir?

- A)  $\Box p$                     B) Fa  
C)  $E!a$                     D)  $\diamond q$

16. Doğruluğu açıkça belli olan ispatta ihtiyaç duymayan önermelere aksiyom denir.

Buna göre aşağıdaki önermelerden hangisi aksiyomdur?

- A) Bütün insanlar konuşkandır.  
B) Bütün öğrenciler çalışkandır.  
C) Bir bütün parçalarından büyüktür.  
D) Türkiye Avrupa'nın en büyük ülkesidir.

17. Aklın özelden genele, tekillerden hareketle genel sonuçlara ulaşması biçimindeki akıl yürütme yöntemi aşağıdakilerden hangisidir?

- A) Tümevarım  
B) Tümdengelim  
C) Anoloji  
D) Kıyas

18. Aşağıdakilerden hangisinde formel (biçimsel) bilimlerle birlikte verilmiştir?

- A) Kimya - Fizik  
B) Mantık - Fizik  
C) Matematik - Kimya  
D) Matematik - Mantık

19. "Eleştirel düşünme" ile ilgili olarak verilen aşağıdaki bilgilerden hangisi yanlıştır?

- A) Eleştirel düşünme, herhangi bir şeyin doğru olup olmadığını anlamak için yapılan sistemli bir düşünmedir.  
B) Eleştirel düşünme, tartışmayı da beraberinde getirir.  
C) Eleştirel düşünme, varolan bilgileri sorgulamadan kabul eder.  
D) Eleştirel düşünmede kanıtlar akıl ilkelerine ve bilimsel bilgilere dayandırılır.

20. Aşağıdakilerden hangisi mantık felsefesinin ele aldığı temel sorulardan biri değildir?

- A) Doğru bilgiye ulaşmak mümkün müdür?  
B) Mantık ilkeleri varlığın temel ilkeleri de sayılabilir mi?  
C) Mantık bilimin mi yoksa felsefenin mi alt dalıdır?  
D) Bilgi doğrusuna uygun dediğimiz önermeler gerçekliğe ne kadar uygundur?

## 1. OTURUM

### (484) SAĞLIK BİLGİSİ – 2

1. Bireyin ilk deneyimlerini kazandığı, ilk tutum ve davranışlarının belirlendiği ortam aşağıdakilerden hangisidir?

- A) İlkokul B) Aile  
C) İş yeri D) Toplum

2. Aşağıdakilerden hangisi tüm ailelerde bulunması gereken niteliklerle ilgili yanlış bir bilgidir?

- A) Ailenin kapsamı sınırsızdır.  
B) Aile, duygusal bir temele dayanır.  
C) Aile üyelerinin sorumlulukları vardır.  
D) Aile, toplumsal kurallarla çevrilidir.

3. Aşağıdakilerden hangisi aile planlamasının amaçlarından değildir?

- A) İstenmeyen gebelikleri önlemek  
B) Doğum yapma yaşını ayarlamak  
C) Ailelerin en az iki çocuk sahibi olmalarını sağlamak  
D) Bedenen ve ruhen sağlıklı çocuklar yetişmesini sağlamak

4. Doğuma kadar embriyonun anne ile bağlantısını ve beslenmesini sağlayan yapıya ne ad verilir?

- A) Zigot B) Lohusa  
C) Yumurtalık D) Plasenta

5. Normal gebelik süresinde, gebeliğin en riskli olduğu ve düşüğün ortaya çıkma olasılığının en yüksek olduğu aylar hangisidir?

- A) 0-3 B) 3-5 C) 5-7 D) 7-9

6. I- Annenin 25-35 yaş arasında olması  
II- Ailede kalıtsal bir hastalığın bulunması  
III- Annenin aşırı kilolu ya da zayıf olması

Yukarıdakilerden hangileri gebelikte risk oluşturabilecek durumlardandır?

- A) Yalnız I B) I ve II  
C) II ve III D) I, II ve III

7. Bebekler sağlıklı şekilde doğduğunda verilen ilk besin aşağıdakilerden hangisi olmalıdır?

- A) Saf su B) Anne sütü  
C) Şekerli su D) Pastörize süt

8. • Ağız içinde ufak, beyaz noktalar şeklinde görülür.  
• Emme güclüğü ve ağrıya yol açar.  
• Karbonatlı su ile tedavi edilmeye çalışılır.

Yukarıda bazı özellikleri verilen ve özellikle süt çocuklarında görülen sağlık sorununun adı nedir?

- A) Pamukçuk  
B) Zatürre  
C) Sarılık  
D) Doğmalık hastalık

9. Hastalık etkeni olan herhangi bir mikroorganizmanın vücuda girerek üremesi durumuna ne denir?

- A) Vektör  
B) Enfeksiyon  
C) Kuluçka süresi  
D) Bulaşma süresi

10. I- Beslenme eğitimi  
II- Bağışıklama (aşılama)  
III- Sağlık eğitimi

Yukarıdakilerden hangileri bulaşıcı hastalıklardan korunmada sağlam kişiye yönelik önlemlerdendir?

- A) Yalnız I B) I ve II  
C) II ve III D) I, II ve III

11. Normal şartlarda, yetişkin sağlıklı bir insanda vücut sıcaklığı kaç °C olmalıdır?

- A) 34,5 B) 36,5  
C) 37,5 D) 38

12. Hastalanan kişinin, sağlam kişilerle temasını keserek hastalığın yayılmasına engel olmak amacıyla ayrı bir odaya alınmasına ne denir?

- A) Endemi B) Epidemi  
C) Tecrit D) Dezenfeksiyon

13. Aşağıdaki çocukluk çağı bulaşıcı hastalıklarından hangisinin etkeni bakterilerdir?

- A) Difteri  
B) Su çiçeği  
C) Kızamıkçık  
D) Çocuk felci

14. Aşağıdakilerden hangisi cinsel yolla bulaşan hastalıklardandır?

- A) Sıtma B) Verem  
C) Kızıl D) Frengi

15. Aşağıda verilenlerden hangisi ilk yardımın tedbir ve kurtarma aşamasında yapılır?

- A) En yakın acil yardım ekibine haber verilir.  
B) Olay yerinde ne olduğu süratle değerlendirilir ve olay yeri kontrol altına alınır.  
C) Kalbin çalışması ve dolaşımın sağlanması gerekir. Kanama varsa kontrol altına alınır.  
D) Hasta ve yaralılar, mevcut araçlarla en kısa zamanda acil yardım merkezlerine nakledilir.

16. I- Kişinin ruhsal durumu  
II- Alkol ve madde bağımlılığı  
III- Kişinin eğitim düzeyi ve tedbirsiz oluşu

Yukarıdakilerden hangileri kazalara yol açan faktörlerdendir?

- A) Yalnız I B) I ve II  
C) II ve III D) I, II ve III

## 1. OTURUM

### (491) TRAF. ve İLK YARD. – 1

17. I- Batan cisimler çıkarılır.  
II- Kanama varsa durdurulur.  
III- Yaralanın üzeri kapatılarak acil yardım istenir.

Yukarıdakilerden hangileri, ciddi yaralanmalarda yapılması gereken doğru uygulamalardandır?

- A) Yalnız I B) I ve II  
C) II ve III D) I, II ve III

18. I- Toplardamar kanamalarında, kan koyu renkli ve sürekli akış hâindedir.

II- Atardamar kanamalarında, kan açık renkli ve kalp ile uyumlu kesik kesik akar.

Yukarıda kanamalarla ilgili olarak verilenler için ne söylenebilir?

- A) Yalnız I doğru  
B) Yalnız II doğru  
C) Her ikisi de doğru  
D) Her ikisi de yanlış

19. Yaralının durumuna göre, yaralı taşıma şekillerinden hangisi yanlıştır?

- A) Kaburga kırığı - sırt üstü yatış  
B) Bacak kırığı - sırt üstü yatış  
C) Baş yaralanmaları - yarı oturuş pozisyon  
D) Açık göğüs yaralanması - yarı oturuş pozisyon

20. Aşağıdakilerden hangisi ülkemizde nakli yapılan dokulardandır?

- A) Kalp  
B) Böbrek  
C) İnce bağırsak  
D) Kemik iliği

1. • Araçlar  
• Yayalar  
• Hayvanlar

Yukarıda verilenlerin kara yolları üzerindeki hâl ve hareketlerine ne ad verilir?

- A) Yolcu B) Trafik  
C) Yolculuk D) Geçiş hakkı

2. Kamu hizmeti yapan yolcu taşıtlarının yolcu veya hizmetlileri bindirmeleri, indirmeleri veya duraklamaları için yatay ve düşey işaretlerle belirlenmiş yere ne ad verilir?

- A) Durak B) Durma  
C) Park yeri D) Duraklamak

3. Trafik ortamını paylaşanlarda aşağıdaki tutum ve davranışlardan hangisinin bulunması hâlinde trafik düzeni ve güvenliği olumsuz etkilenir?

- A) Saygı B) Uyum  
C) Bencillik D) Hoşgörü

4. Aşağıdakilerden hangisi çevreye duyarlı bir davranış değildir?

- A) Sigara külü ve izmaritlerinin veya başka şeylerin yola atılıp dökülmesi  
B) Bir yere giderken toplu taşıma araçlarının kullanılması  
C) Trafiğin yoğun olduğu saatlerde trafiğe çıkılmaması  
D) Sürücünün en kısa ve en uygun yolu kullanması

5. I- Araç muayenesinde ihmal  
II- Alkol ya da madde bağımlılığı  
III- Eğitim eksikliği ve tedbirsizlik  
Verilenlerden hangileri trafik kazalarının sebepleri arasında yer alır?

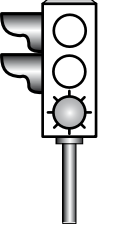
- A) Yalnız I B) I ve II  
C) II ve III D) I, II ve III

6. Şekildeki trafik görevlisinin yapmış olduğu işaretin sürücüler için anlamı nedir?



- A) Geç  
B) Hızlan  
C) Yavaşla  
D) Sağa yanaş ve dur

7. Aksine bir durum yoksa, şekildeki gibi ışıklı trafik işaret cihazında yeşil ışığın yandığını gören sürücü ne yapmalıdır?



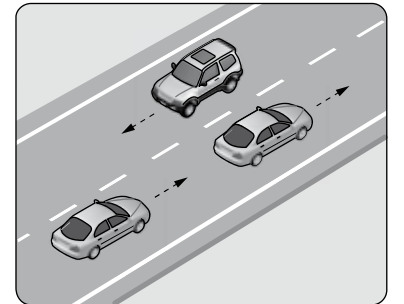
- A) Durmadan dikkatli geçmeli  
B) İlk geçiş hakkını yayalara vermeli  
C) Durup, yolu kontrol ettikten sonra geçmeli  
D) Sağdan gelen araçların geçmesini beklemeli

8. Şekildeki trafik işareti aşağıdaki-lerden hangisini yasaklar?



- A) Geri gitmeyi  
B) Sola dönmeyi  
C) U dönüşü yapmayı  
D) Ada etrafında dönmeyi

9. Şekildeki kara yolu bölümünde görülen kesik çizginin anlamı nedir?



- A) Şerit değiştirmek yasaktır.  
B) Öndeki aracı geçmek yasaktır.  
C) Taşıt yolu, bölünmüş yol durumuna gelmiştir.  
D) Kurallara uygun olarak öndeki araç geçilebilir.



## 1. OTURUM

10. Seyir esnasında sürücü ve yolcuların emniyet kemeri kullanması, aşağıdakilerden hangisinin azalmasında etkili olur?

- A) Şehirler arasındaki trafik kazaları
- B) Trafik kazalarındaki ölüm oranı
- C) Şehir içindeki trafik kazaları
- D) Trafikteki görevli sayısı

11. Aşağıdaki davranışlardan hangisi trafiğin akışını olumsuz etkiler?

- A) Girilecek şeritteki aracın geçmesini beklemek
- B) Gidiş yönüne göre en sağdaki şeritten seyretmek
- C) Çok şeritli yollarda hızın gerektirdiği şeritten seyretmek
- D) Gidişe ayrılan en soldaki şeridi sürekli olarak işgal etmek

12. 1. Işıklı trafik işaret cihazı  
2. Trafik levhası ve yer işaretlemeleri  
3. Trafik görevlisi

Yukarıda verilenlerin bir kavşakta bulunması hâlinde, sürücülerin bunlara uymadaki öncelik sıralaması nasıl olmalıdır?

- A) 1 - 2 - 3
- B) 2 - 3 - 1
- C) 3 - 1 - 2
- D) 3 - 2 - 1

13. Öndeki aracın güvenle takip edildiği uzaklığa ne denir?

- A) Geçiş mesafesi
- B) Takip mesafesi
- C) İntikal mesafesi
- D) Görüş mesafesi

14. Aşağıdakilerden hangisi geçiş üstünlüğüne sahip araçlardan biri değildir?

- A) Toplu taşıma araçları
- B) Cankurtaran ve yaralı taşıyan araçlar
- C) Sanık veya suçlu takip eden zabıta araçları
- D) Alarm durumunda sivil savunma hizmeti yapan araçlar

15. Kırmızı ışık, yetkililerin dur işareti ve yol kapanması gibi her türlü trafik zorunlulukları nedeni ile aracın durdurulmasına ne denir?

- A) Platform
- B) Durma
- C) Duraklama
- D) Park etme

16. Aşağıdakilerin hangisinde dönüş ışıklarının kullanılması yasaktır?

- A) Şerit değiştirmelerde
- B) Park yerlerine giriş ve çıkışlarda
- C) Sürücülere "geç" mesajının verilmesinde
- D) Kavşaklarda sağa ve sola dönüşlerde

17. Aşağıdakilerden hangisi, kara yolunu kullanan yayalar için karşıdan karşıya geçişin güvenli olduğu yerlerdendir?

- A) Demir yolu geçitleri
- B) Yolun geniş kesimleri
- C) Tepe üstü ve dönemeçli yollar
- D) Yaya ve okul geçitleriyle, kavşak giriş ve çıkışları

18. Motorlu bisiklet, motosiklet ve sürücülere ile ilgili olarak aşağıda verilenlerden hangisinin yapılması yasaktır?

- A) İki den fazlasının taşıt yolunun bir şeridinde yan yana sürülmesi
- B) Gidiş yönüne göre yolun en sağından seyredilmesi
- C) Tehlikeli madde taşıyan araçların geçilmesi
- D) Geçme yaparken sinyal verilmesi

19. Kara yollarında meydana gelen trafik kazaları ile ilgili olarak; kazaya karışan ve olay yerinden geçmekte olanlar aşağıdakilerden hangisini yapmakla yükümlüdür?

- A) Kaza yapan araçların yerlerini değiştirmek
- B) Kaza ile ilgili iz ve delilleri yok etmek
- C) İlk yardım tedbirlerini almak
- D) Yolu trafiğe kapamak

20. Aşağıdakilerden hangisini, araç üzerinde ve uygun durumda bulundurma zorunluluğu yoktur?

- A) Tescil plakası
- B) Yağ değişim kartı
- C) Araç tescil belgesi
- D) Motorlu araç trafik belgesi

### (495) GEOMETRİ – 5

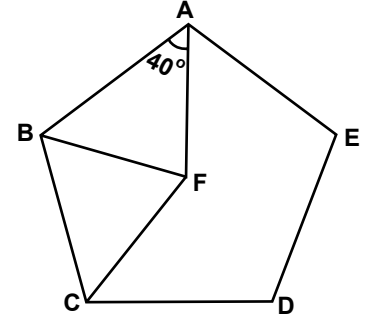
1. İç açılarının ölçüleri toplamı  $1260^\circ$  olan çokgenin köşegen sayısı kaçtır?

- A) 18
- B) 27
- C) 42
- D) 54

2. Bir dış açısının ölçüsü  $30^\circ$  olan düzgün çokgen kaç kenarlıdır?

- A) 6
- B) 9
- C) 12
- D) 18

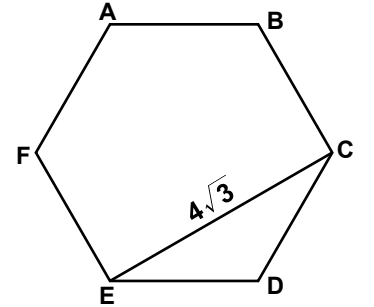
3.



ABCDE düzgün beşgeninde,  $|AF| = |BF| = |CF|$  ve  $m(\widehat{BAF}) = 40^\circ$  olduğuna göre,  $m(\widehat{BCF})$  kaç derecedir?

- A) 68
- B) 52
- C) 40
- D) 38

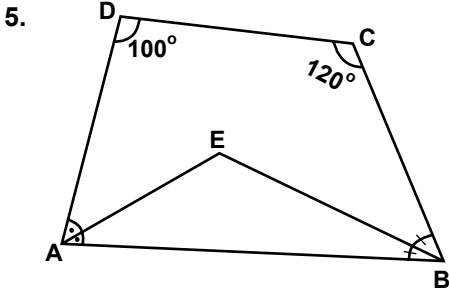
4.



ABCDEF düzgün altıgeninde,  $|EC| = 4\sqrt{3}$  cm olduğuna göre,  $\widehat{C(ABCDEF)}$  kaç santimetredir?

- A) 30
- B) 24
- C) 18
- D) 12

## 1. OTURUM

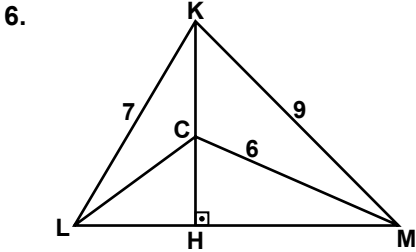


Şekildeki ABCD dörtgeninde;  $[AE]$ ,  $\widehat{DAB}$ 'nın ve  $[EB]$ ,  $\widehat{CBA}$ 'nın açıortayıdır.

$m(\widehat{ADC}) = 100^\circ$  ve  $m(\widehat{DCB}) = 120^\circ$  olduğuna göre,

$m(\widehat{EAB}) + m(\widehat{EBA})$  kaç derecedir?

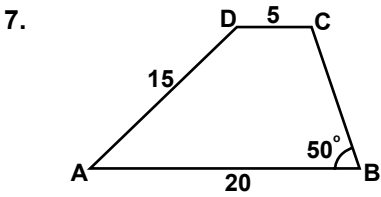
- A) 110 B) 100 C) 70 D) 60



Şekilde  $[KH] \perp [LM]$ 'tir.

$|KL| = 7$  cm,  $|KM| = 9$  cm ve  $|CM| = 6$  cm olduğuna göre,  $|CL|$  kaç santimetredir?

- A) 2 B)  $\sqrt{5}$  C)  $\sqrt{7}$  D) 4

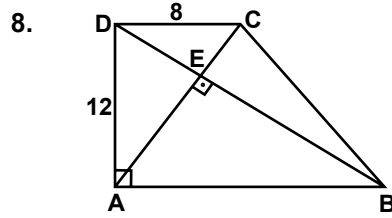


Şekildeki ABCD yamuğunda,  $[AB] \parallel [DC]$ ,

$|DC| = 5$  cm,  $|AD| = 15$  cm ve

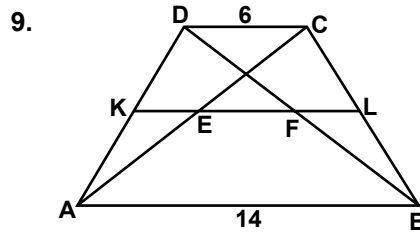
$|AB| = 20$  cm'dir.  $m(\widehat{CBA}) = 50^\circ$  olduğuna göre,  $m(\widehat{ADC})$  kaç derecedir?

- A) 140 B) 130 C) 110 D) 100



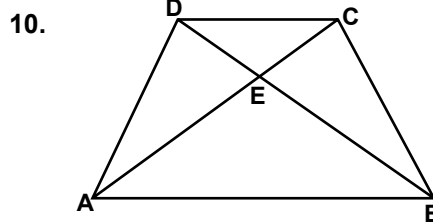
Şekildeki ABCD dik yamuğunda,  $[AB] \parallel [DC]$ ,  $[DA] \perp [AB]$  ve  $[AC] \perp [DB]$ 'tir.  $|DC| = 8$  cm ve  $|DA| = 12$  cm olduğuna göre,  $|AB|$  kaç santimetredir?

- A) 14 B) 16 C) 18 D) 20



Şekildeki ABCD yamuğunda  $[AB] \parallel [DC]$  ve  $[KL]$  orta tabandır.  $|AB| = 14$  cm ve  $|DC| = 6$  cm olduğuna göre,  $|EF|$  kaç santimetredir?

- A) 3 B) 4 C) 8 D) 10



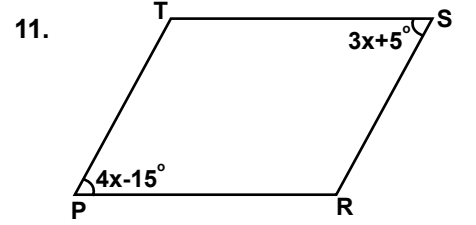
Şekildeki ABCD yamuğunda  $[CA]$  ve  $[DB]$  köşegenleri E noktasında kesilmektedir.

$[AB] \parallel [DC]$ ,  $A(\widehat{AED}) = 24$  cm<sup>2</sup>

ve  $A(\widehat{DEC}) = 16$  cm<sup>2</sup> olduğuna

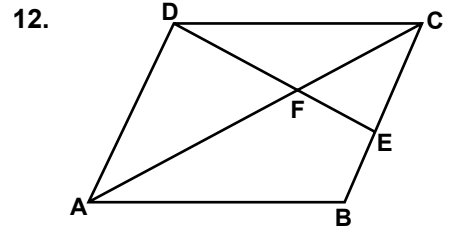
göre,  $A(\widehat{AEB})$  kaç santimetrekaredir?

- A) 48 B) 44 C) 40 D) 36



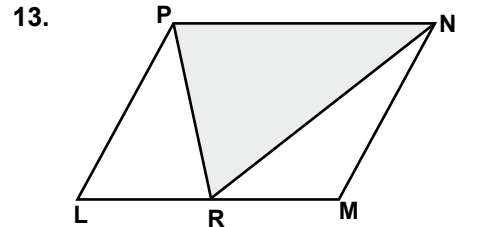
Şekildeki PRST paralelkenarında,  $m(\widehat{TSR}) = 3x + 5^\circ$  ve  $m(\widehat{TPR}) = 4x - 15^\circ$  olduğuna göre,  $m(\widehat{PRS})$  kaç derecedir?

- A) 135 B) 125 C) 120 D) 115



Şekildeki ABCD paralelkenarında  $[DE] \cap [CA] = \{F\}$ ,  $|CE| = 2|EB|$  ve  $|EF| = 4$  cm olduğuna göre,  $|DE|$  kaç santimetredir?

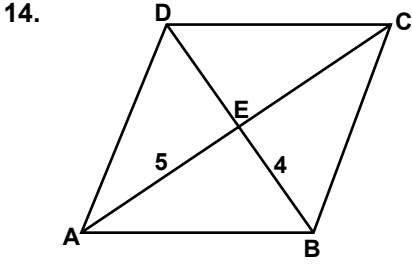
- A) 10 B) 8 C) 6 D) 4



Şekildeki LMNP paralelkenarında  $A(\widehat{PRN}) = 108$  cm<sup>2</sup> olduğuna göre,  $A(\widehat{LMNP})$  kaç santimetrekaredir?

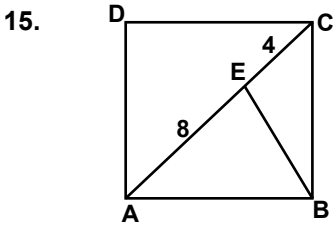
- A) 72 B) 144 C) 160 D) 216

## 1. OTURUM



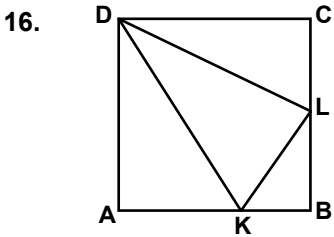
Şekildeki ABCD eşkenar dörtgeninde,  $[AC]$  ve  $[BD]$  köşegenlerdir.  $|AE| = 5$  cm ve  $|BE| = 4$  cm olduğuna göre,  $|BC|$  kaç santimetredir?

- A) 3                      B)  $\sqrt{41}$   
C) 9                      D)  $\sqrt{69}$



Şekildeki ABCD karesinde  $[AC]$  köşegendir.  $|AE| = 8$  cm ve  $|EC| = 4$  cm olduğuna göre,  $|BE|$  kaç santimetredir?

- A)  $2\sqrt{10}$               B) 4  
C)  $4\sqrt{2}$               D) 6

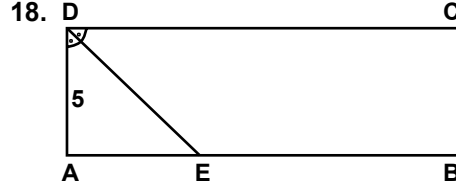


Şekildeki ABCD karesinde,  $|BL| = |LC|$  ve  $|AB| = 3|KB|$  olduğuna göre,  $\frac{A(KLD)}{A(ABCD)}$  nedir?

- A)  $\frac{1}{6}$     B)  $\frac{1}{5}$     C)  $\frac{1}{4}$     D)  $\frac{1}{3}$

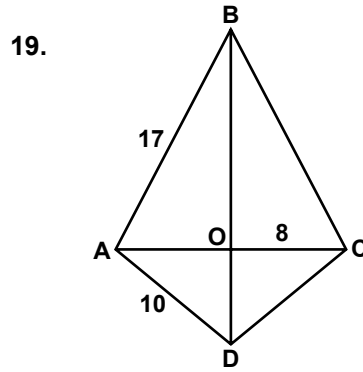
17. Uzun kenarı kısa kenarından 4 cm fazla olan bir dikdörtgenin çevresi 32 cm olduğuna göre, bu dikdörtgenin alanı kaç santimetrekaredir?

- A) 32    B) 45    C) 60    D) 77



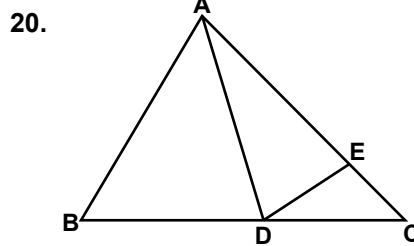
Şekildeki ABCD dikdörtgeninde,  $m(\widehat{ADE}) = m(\widehat{EDC})$ 'tir.  $|AD| = 5$  cm ve  $|EB| = 2|AE|$  olduğuna göre, ABCD dikdörtgeninin çevresinin uzunluğu kaç santimetredir?

- A) 40    B) 36    C) 30    D) 20



Şekildeki ABCD dörtgeninde  $[BD]$  ve  $[AC]$  köşegenleri O noktasında kesişmektedir.  $|AB| = |BC|$  ve  $|DA| = |DC|$ 'tir.  $|AB| = 17$  cm,  $|DA| = 10$  cm ve  $|OC| = 8$  cm olduğuna göre,  $|BD|$  kaç santimetredir?

- A) 18    B) 21    C) 25    D) 27



Şekildeki  $\widehat{ABC}$ 'nde  $|AE| = 3|EC|$ ,  $|BD| = 2|DC|$  ve  $A(\widehat{EDC}) = 10$  cm<sup>2</sup> olduğuna göre,  $A(\widehat{ABC})$  kaç santimetrekaredir?

- A) 40    B) 80    C) 120    D) 160

(502) İNGİLİZCE – 8

1 - 20. sorularda boş bırakılan yere uygun gelen kelime ya da ifadeyi işaretleyiniz.

1. .... you have a headache, take an aspirin.  
A) If    B) Up    C) Of    D) By
2. The room was dark ..... we turned on the lamp.  
A) at    B) so    C) as    D) to
3. I read ..... I like reading.  
A) to                      B) why  
C) before                D) because
4. .... she was 13, she had already achieved worldwide fame.  
A) By the time    B) As long as  
C) In order to    D) Whenever
5. I'll have finished university by the end of .....  
A) previous night  
B) a month ago  
C) next year  
D) last week
6. If it ....., the grass gets wet.  
A) boils                      B) rains  
C) drops                     D) freezes
7. I would go shopping if I ..... better.  
A) touched                B) spoke  
C) thought                D) felt
8. French is ..... in France and Canada.  
A) said                      B) told  
C) spoken                 D) talked

## 1. OTURUM

9. The cleaning is ..... by the workers.

- A) hidden      B) eaten  
C) beaten      D) done

10. This time tomorrow I ..... to Istanbul.

- A) will be flying  
B) have flown  
C) is flying  
D) fly

11. Vegetables ..... grown by the farmers.

- A) has              B) had  
C) are              D) have

12. If I were rich, I ..... poor people.

- A) have helped  
B) would help  
C) had helped  
D) will help

13. We ..... married for five years in 2018.

- A) are  
B) have been  
C) will have been  
D) were

14. She ..... at home at 5 o'clock tomorrow.

- A) will be cooking  
B) was cooking  
C) has cooked  
D) cooks

15. If I were younger, I ..... karate.

- A) will learn      B) had learnt  
C) have learnt    D) would learn

16. .... if the sun shines.

- A) We'll go swimming  
B) He didn't travel  
C) You aren't late  
D) I won't get fat

17. By the time we get there,

.....

- A) she was washing the dishes.  
B) he moved to Van two years ago.  
C) they had already finished their dinner.  
D) the police will have arrested the burglar.

18. What will you be doing when

.....?

- A) he came  
B) I leave home  
C) she is reading  
D) they were travelling

19. We would sail all around the world if .....

- A) they have bought a car.  
B) you go to a doctor.  
C) we had a yacht.  
D) he'll play tennis.

20. You would have arrived to the meeting on time if .....

- A) you had taken a taxi.  
B) he had fallen from the stairs.  
C) she told me the way correctly.  
D) they walked together on the beach.

(502) ALMANCA – 8

1 - 18. sorularda boş bırakılan yere uygun gelen kelime ya da ifadeyi işaretleyiniz.

1. Er meint, ..... das Wetter nicht schön ist.

- A) aber              B) dass  
C) weil              D) was

2. .... ich ein Kind hätte, ..... würde ich glücklich sein.

- A) Weil / dann  
B) Dann / wenn  
C) Wenn / dann  
D) Wann / dann

3. an einer Universität ..... / Beruf .....

- A) kommen / erlernen  
B) sammeln / arbeiten  
C) haben / studieren  
D) studieren / erlernen

4. Das ist das Kleid, ..... ich mir wünsche.

- A) das    B) der    C) die    D) den

5. Ein Journalist .....

- A) zeichnet  
B) leitet Filme  
C) macht Interview  
D) tanzt

6. Wir finden, ..... das neue Auto sehr günstig ist.

- A) wenn              B) weil  
C) denn              D) dass

7. Ein Arzt ..... in einem Krankenhaus .....

- A) kannst / arbeite  
B) können / arbeiten  
C) kann / arbeitet  
D) kann / arbeiten

8. Ich treibe Sport, ..... mich fit zu halten.

- A) um              B) dass  
C) weil              D) wenn

9. Meine Schwester ..... am Samstag nach Ankara fliegen.

- A) werde              B) wirst  
C) wird              D) werden

10. Ein Rennen ist .....

- A) entwickeln      B) spannend  
C) verfolgen        D) bewerten

## 1. OTURUM

11. .... erzählt, dass Aphrodite die Göttin der Liebe ist.

- A) Dich            B) Euch  
C) Wir            D) Man

12. Wer möchte das Volkslied "Die Loreley" vor-..... ?

- A) -tragen        B) -bestellen  
C) -machen      D) -kommen

13. Nächstes Jahr ..... wir nach Spanien .....

- A) werde / fahren  
B) war / gefahren  
C) werden / fahren  
D) werden / fuhr

14. Ich habe gesagt, ..... sie pünktlich sein soll.

- A) weil            B) denn  
C) dass           D) wenn

15. Ich schwimme gern, ..... es mir Spaß macht.

- A) aber            B) dass  
C) denn           D) weil

16. Er übt für die Matheprüfung, ..... eine gute Note zu bekommen.

- A) nach            B) um  
C) von            D) zu


17. A: Wie findest du das Buch?  
B: ....., dass es spannend ist.

- A) Ich finde  
B) Du hast Recht  
C) Ich lese ein Buch  
D) Du findest

18. A: ..... die Stadt Koblenz?  
B: Links am Rhein.

- A) Was gibt        B) Wo liegt  
C) Wie lange      D) Wie viel

19.



Was ist er von Beruf?

- A) Lehrer        B) Forscher  
C) Geologe      D) Pilot

20.



Was ist das?

- A) Ein Plakat  
B) Ein Ortsschild  
C) Ein Wegweiser  
D) Eine Statue

(502) FRANSIZCA – 8

1 - 20. sorularda boş bırakılan yere uygun gelen kelime ya da ifadeyi işaretleyiniz.

1. Ma mère m'a dit ..... avant de me coucher.

- A) bonne nuit  
B) bonne journée  
C) bonnes vacances  
D) bon appétit

2. Nous allons ..... Maroc ce soir.

- A) en    B) au    C) ou    D) aux

3. Il neige aujourd'hui ..... nous pouvons faire du ski.

- A) dans            B) avec  
C) donc            D) sans

4. .... les heures de sommeil!

- A) Respectes    B) Respectant  
C) Respectez    D) Respectent

5. Si elle ..... de manger le chocolat, elle ne prend plus de kilos.

- A) a arrêté        B) arrêtais  
C) arrêtera        D) arrête

6. Nous allons au cinéma ..... est près de la poste.

- A) quel            B) qui  
C) que            D) quoi

7. Emma a acheté un chien .....

- A) hier  
B) demain  
C) dans une heure  
D) la semaine prochaine

8. As-tu lu le roman qui ..... été écrit par Molière?

- A) a                B) ont  
C) avez            D) as

9. Nous allons offrir à votre mère des fleurs ..... nous cueillons dans votre jardin.

- A) quel            B) qui  
C) que            D) quoi

10. On va ..... ensemble pour préparer aux concours.

- A) travaille        B) travailles  
C) travaillez      D) travailler

## 1. OTURUM

11. Je prefere l'été ..... hiver.

- A) au B) aux C) à l' D) à la

12. La femme est ..... de l'homme.

- A) l'épouse B) le fils  
C) la fille D) l'époux

13. Le lapin est ..... fort que le lion.

- A) plus B) moins  
C) aussi D) autant

14. Ahmet parle le français ..... que vous.

- A) mieux B) meilleure  
C) meilleur D) pires

15. .... veut faire de la limonade?

- A) Vous B) Nous  
C) Ils D) Tu

16. Si vous le trouvez difficile, ..... au suivant!

- A) passes B) passez  
C) passant D) passent

17. Vous avez ..... du café chez Nicole?

- A) bois B) boit  
C) bu D) boire

18. A: Vous parlez de notre visite?  
B: Non, nous n'..... parlons pas.

- A) ou B) en  
C) y D) à la

19. A: ..... tu feras demain?  
B: Je jouerai au foot.

- A) Comment B) Combien  
C) Pourquoi D) Que

20. A: Vous habitez à Tokat?

B: Oui, nous ..... habitons.

- A) ou B) en C) y D) à la

### (511) FIKIH – 1

1. Fıkhı, "Kişinin lehine ve aleyhine olanı bilmesidir." diye tanımlayan alim aşağıdakilerden hangisidir?

- A) İmam Şafi  
B) Ahmet b. Hanbel  
C) İmam Malik  
D) Ebu Hanife

2. Aşağıdakilerin hangisinde fıkh ilminin amacı dile getirilmiştir?

- A) İman, ibadet ve ahlak konularında, Kur'an'dan ve Hz. Muhammed'den öğrenilen bilgilerdir.  
B) İnsanın yaratıcısına, kendisine ve diğer insanlara karşı hak ve sorumluluklarını bilmesidir.  
C) Hz. Peygamber'in ahlakı, davranışları ve olaylar karşısındaki değerlendirmeleridir.  
D) Kur'an-ı Kerim'in ayetlerinin zaman ve mekana göre açıklanmasıdır.

3. Borçlanma, kira, alım-satım gibi gündelik hayatın mali konuları fıkhın hangi başlığı içinde ele alınır?

- A) Feraiz B) Ukubat  
C) Muamelat D) Münakehat

4. Fıkh usulü alanında yazılan ilk eser aşağıdakilerden hangisidir?

- A) Er-Risale  
B) El-Fusul  
C) El- Mustasfa  
D) El-Muvafakat

5. Aşağıdakilerden hangisi fıkh ilminin temel ilkeleri arasında sayılmaz?

- A) Helallerde sınırlılık  
B) Hükümlerde tedricilik  
C) Mükellefiyette kolaylık  
D) Kamu yararının gözetilmesi

6. Hz. Peygamber döneminde hüküm koyma faaliyeti üç şekilde olmuştur.

Aşağıdakilerden hangisi Hz. Peygamber dönemi hüküm koyma yollarından biri değildir?

- A) Hz. Peygambere soru sorulması  
B) Hüküm gerektiren bir olayın gerçekleşmesi  
C) Herhangi bir soru veya durum olmaksızın doğrudan hüküm koyulması  
D) Sahabenin, hakkında hüküm olmayan bir durumu, hakkında hüküm bulunan bir konuya kıyas etmesi

7. Mezheplerin oluşumu fıkhın hangi döneminde başlamıştır?

- A) Peygamber dönemi  
B) Sahabe dönemi  
C) Tabiin dönemi  
D) Taklit dönemi

8. Fıkh ile ilgili görüşleri "el-Ümm" adlı eserde toplanan müctehid aşağıdakilerden hangisidir?

- A) İmam Züfer B) İmam Malik  
C) İmam Şafii D) İmam Cafer

9. Aşağıdakilerden hangisi fıkhıta Rey Ekolü'nün özelliklerinden biridir?

- A) Hüküm verirken daha çok hadisler esas alınmıştır.  
B) Sorunlar içtihatla halledilmeye çalışılmıştır.  
C) Sahabe fetvalarına büyük önem verilmiştir.  
D) Çoğunlukla Hicaz bölgesi alimleri tarafından benimsenmiştir.

10. Medine halkının uygulamasını (amel-i ehl-i Medine) fıkhî delil olarak kabul eden alim aşağıdakilerden hangisidir?

- A) Malik b. Enes  
B) Cafer b. Sadık  
C) Ahmet b. Hanbel  
D) Muhammed b. İdris eş-Şafii

## 1. OTURUM

11. Aşağıdaki eserlerden hangisi Ahmet b. Hanbel'e aittir?

- A) Muvatta
- B) Müsned
- C) Zahirur'r-Rivaye
- D) Fıkh-ı Ekber

12. Mecelle-i Ahkam-ı Adliyye adlı eser ile ilgili aşağıda verilen bilgilerden hangisi yanlıştır?

- A) Hanefi mezhebi esas alınarak hazırlanmıştır.
- B) Fıkhın kanunlaştırıldığı döneme ait bir örnektir.
- C) Ahmet Cevdet Paşa başkanlığında bir heyet tarafından hazırlanmıştır.
- D) Osmanlı döneminde hazırlanmış, Cumhuriyet döneminde uygulanmıştır.

13. Mükellef kavramı aşağıdakilerden hangisinde doğru tanımlanmıştır?

- A) Şerî delillerden hüküm çıkarma yeterliliğine sahip olma
- B) Dinî hükümleri yerine getirmekle yükümlü olan kimse
- C) Dinen sorumluluk çağına gelmiş bireylerin davranışlarıyla ilgili hükümler
- D) Müçtehidin ibadet ve ameli konularla ilgili hükümleri kaynaklarından çıkarma yöntemi

14. Aşağıdakilerden hangisi mükellefiyeti ortadan kaldıran semavi engellerden biridir?

- A) Cehalet
- B) Zorlama
- C) Unutkanlık
- D) Sarhoşluk

15. Farzlar yapılış vaktine göre mutlak ve mukayyed olmak üzere ikiye ayrılır.

Aşağıdakilerden hangisi mutlak farza örnektir?

- A) Hac
- B) Zekat
- C) Ramazan Orucu
- D) Beş vakit namaz

16. Hanefiler ravi sayısı bakımından sünneti üçe ayırmışlardır.

Aşağıdakilerden hangisi bunlardan biri değildir?

- A) Ahad Sünnet
- B) Hasen Sünnet
- C) Meşhur Sünnet
- D) Mütevatir Sünnet

17. Şari'nin kesin ve bağlayıcı bir şekilde yapılmasını emrettiği fiillere ne denir?

- A) Farz
- B) Vacip
- C) Mübah
- D) Mekruh

18. Dinî hükümlerin çıkarıldığı deliller asli deliller ve fer'i deliller olmak üzere ikiye ayrılır.

Aşağıdakilerden hangisi fer-i delillerdendir?

- A) İcma
- B) Kıyas
- C) Sünnet
- D) İstishab

19. Yapılması dinen hoş karşılanmayan, kesin ve açık delillerle yasaklanmayan davranışın hükmü nedir?

- A) Mübah
- B) Haram
- C) Mekruh
- D) Sünnet

20. İctihat ile ilgili aşağıdakilerden hangisi yanlıştır?

- A) Dinin yaşanmasını kolaylaştırır.
- B) Yeni sorunlara çözüm bulmayı sağlar.
- C) Fıkhî faaliyetlerin durmasına sebep olur.
- D) İslam'ın akli kullanmayı teşvik etmesinin bir sonucudur.

(525) SEÇ. Y. DİL İNG. – 5

1 - 20. sorularda boş bırakılan yere uygun gelen kelime ya da ifadeyi işaretleyiniz.

1. Linda ..... to Rome last weekend.

- A) goes
- B) gone
- C) going
- D) went

2. I didn't ..... anything yesterday.

- A) eat
- B) ate
- C) eaten
- D) eating

3. He hasn't ..... his sister since May.

- A) see
- B) saw
- C) seen
- D) seeing

4. I hope I ..... a new car next month.

- A) buy
- B) bought
- C) have bought
- D) will buy

5. The bell rang while I was ..... a bath.

- A) playing
- B) having
- C) drinking
- D) sleeping

6. I have been in this city ..... a long time.

- A) for
- B) since
- C) yet
- D) just

7. The painter was painting the room ..... he fell off the ladder.

- A) before
- B) after
- C) when
- D) while

## 1. OTURUM

8. He hasn't slept for .....

- A) yesterday    B) last month  
C) 2011        D) two days

9. They will have a long summer holiday .....

- A) last month    B) next year  
C) yesterday    D) today

10. She ..... wear glasses when she was a young girl.

- A) can            B) might  
C) used to       D) have to

11. My bag is larger ..... your bag.

- A) from           B) after  
C) then           D) than

12. A plane is ..... expensive than a bike.

- A) many          B) most  
C) more          D) much

13. Selin is a ..... student than Tuğra.

- A) good           B) better  
C) well           D) best

14. Cheetahs are ..... than rabbits.

- A) faster          B) earlier  
C) younger       D) older

15. Buses carry people more ..... than planes.

- A) fluently        B) slowly  
C) happily        D) carelessly

16. You haven't met him since August, .....?

- A) were you      B) are you  
C) did you        D) have you

17. You were very rude! Don't do that again, .....?

- A) is it            B) was she  
C) will you       D) are they

18. Let's make an omelette, .....?

- A) will we        B) shall we  
C) will you       D) shall you

19. .... you ..... to stay alone at nights when you were a child?

- A) did / use      B) are / use  
C) are / used     D) did / used

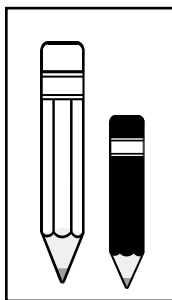
20. The family was having dinner when .....

- A) they will watch a movie.  
B) they heard the explosion.  
C) they prepare the breakfast.  
D) they have cleaned the house.

(525) SEÇ. Y. DİL ALM. – 5

1 - 14. sorularda boş bırakılan yere uygun gelen kelime ya da ifadeyi işaretleyiniz.

1.



Der weiße Stift ist länger ..... der schwarze Stift.

- A) als              B) wenn  
C) dass            D) weil

2. Er geht schwimmen, ..... er Zeit hat.

- A) Um zu          B) wenn  
C) darum          D) aber

3. Hast du ..... Wochenende Zeit?

- A) um              B) im  
C) am              D) morgens

4. .... Sommer will ich ans Meer fahren.

- A) Um    B) Von    C) Am    D) Im

5. .... sollte man gut schlafen.

- A) Morgens        B) Nachts  
C) Mittags        D) Nie

6. ...., Donnerstag, Freitag

- A) Samstag        B) Mittwoch  
C) Montag        D) Dienstag

7. A: Wann siehst du fern?  
B: Nur .....

- A) ungefähr      B) nie  
C) abends        D) etwa

8. A: Wozu gehst du ins Kino?  
B: .....

- A) Um zu schlafen.  
B) Um Musik zu hören.  
C) Um ein Buch zu lesen.  
D) Um den neuen Film zu sehen.

9. A: ..... lernst du Deutsch?  
B: Weil ich in Deutschland studieren möchte.

- A) Was              B) Wie  
C) Wo              D) Warum

10. A: ..... gehst du ins Ausland?  
B: Oft.

- A) Wie oft        B) Wann  
C) Wozu        D) Wie lange



## 1. OTURUM

11. **A: Wann warst du zuletzt in der Türkei?**  
**B: ..... 2009.**
- A) Am                      B) Im Jahre  
C) Im                        D) Um
12. **A: Wann können wir in der Bibliothek lernen?**  
**B: Jeden Tag ..... 8:00 Uhr ..... 15:00 Uhr.**
- A) um / bis                B) von / um  
C) von / bis                D) um / um
13. **A: .....?**  
**B: Es ist fünf vor acht.**
- A) Wie spät ist es?  
B) Wie alt bist du?  
C) Wie lange arbeitest du?  
D) Wann gehst du in die Schule?
14. **A: ..... bist du gekommen?**  
**B: ..... ich dich sehen wollte.**
- A) Weshalb / Was  
B) Was / Denn  
C) Wozu / Dass  
D) Warum / Weil
15. **Ayşe: 12 Jahre alt**  
**Eda: 15 Jahre alt**  
**Gül: 18 Jahre alt**  
**Bu bilgiler doğrultusunda bir derecelendirme için, uygun sıfat hangisidir?**
- A) gut                        B) schön  
C) jung                      D) teuer
16. **Aşağıdakilerden hangisinde uygun olmayan bir sıfat kullanılmıştır?**
- A) das hohe Kind  
B) das schnelle Auto  
C) die schöne Frau  
D) der heiße Kaffee
17. **Aşağıdaki sıfatların Türkçe karşılığı hangi seçenekte sırasıyla verilmiştir?**  
**schnell / dunkel / gross**
- A) hızlı / karanlık / büyük  
B) hızlı / aydınlık / sıcak  
C) yavaş / aydınlık / büyük  
D) güçlü / karanlık / küçük

18. **“gut” sıfatının superlativ halde doğru kullanıldığı seçenek hangisidir?**
- A) Das ist eine bessere Idee.  
B) Er ist gut in Mathe.  
C) Ich spiele am besten Tennis.  
D) Mein Buch ist besser als dein Buch.
19. **September, Oktober, November (Welche Jahreszeit?)**
- A) der Sommer  
B) der Winter  
C) der Frühling  
D) der Herbst
20. **Aşağıdakilerden hangisi özgeçmişte (Lebenslauf) yer alır?**
- A) Gewicht                B) Hobbys  
C) Größe                    D) Ausbildung

(525) SEÇ. Y. DİL FRAN. – 5

1 - 16. sorularda boş bırakılan yere uygun gelen kelime ya da ifadeyi işaretleyiniz.

1. **Gaziantep est une ville en Turquie ..... on mange bien.**
- A) où                        B) dont  
C) qui                        D) quel
2. **Jack ..... à Londres avec ses parents.**
- A) habites                B) habitez  
C) habite                    D) habitant
3. **Nous venons de ..... comme ouvriers dans cette usine.**
- A) travaillez              B) travailler  
C) travaille                D) travaillons
4. **As-tu reçu ma lettre ..... je t'ai envoyée hier soir?**
- A) quel                      B) dans  
C) qui                        D) que

5. **J'ai choisi cette cravate qui ..... 150 €.**
- A) coûtent                B) coûte  
C) coûtent                D) coûtent
6. **Tous les élèves ont ..... leurs examens.**
- A) finis                      B) finir  
C) fini                        D) finit
7. **La maison ..... tu m'as parlé hier est très chère.**
- A) que                        B) dont  
C) qui                        D) quel
8. **Demain, j'..... ces médicaments à la pharmacie.**
- A) achètera                B) achèterai  
C) achèterons              D) acheter
9. **Tout le monde ..... peur de mon cousin.**
- A) avaient                B) avais  
C) avait                      D) aviez
10. **J'ai vu l'exposition de Picasso ..... est le peintre le plus connu.**
- A) quoi                      B) dont  
C) que                        D) qui
11. **Pour aller à Hakkari, il faut ..... l'avion.**
- A) prendre                B) prenez  
C) prends                    D) prend
12. **Ma mère va ..... marché pour faire les courses.**
- A) aux                        B) à  
C) des                        D) au
13. **..... vont partir en vacances en juillet.**
- A) Nous                      B) Vous  
C) Elles                      D) Tu

## 1. OTURUM

14. Elle a appelé un taxi .....  
sortant du théâtre.

- A) or B) au C) en D) du

15. Le médecin a donné des  
médicaments en ..... le  
malade.

- A) examine B) examines  
C) examiner D) examinant

16. Mon père regarde la télé tous  
..... soirs.

- A) les B) la C) le D) du

17-18. sorularda verilen  
Fransızca cümlelerin Türkçe  
dengini işaretleyiniz.

17. As-tu lu le livre que mon père  
t'a donné?

- A) Babama verdiği kitabı okudun  
mu?  
B) Sana verdiğim kitabı babam mı  
okudu?  
C) Babamın sana verdiği kitabı  
okudun mu?  
D) Okuduğun kitabı babam mı  
verdi?

18. La fille s'habillant toujours en  
rouge est la femme de mon ami.

- A) Her zaman kırmızı giyen kız  
arkadaşımın eşidir.  
B) Arkadaşımın eşi her zaman  
kırmızı giyer.  
C) Arkadaşım eşine daima  
kırmızı giydirir.  
D) Her zaman kırmızı giyen  
arkaşım evlendi.

19-20. sorularda verilen Türkçe  
cümlelerin Fransızca dengini  
işaretleyiniz.

19. Ziyaret etmek istediğimiz müze  
hafta sonları kapalı.

- A) Le musée que nous avons  
visité est fermé tout le  
week-end.  
B) Le musée que nous voulons  
visiter est fermé tout le  
week-end.  
C) Nous avons visité le musée  
qui est fermé tout le week-end.  
D) Nous voulons visiter le musée  
qui est fermé tout le week-end.

20. Spor yaparak zayıflayabilirsiniz.

- A) Vous pouvez manger en fai-  
sant du sport.  
B) En faisant du sport, vous vous  
sentez bien.  
C) Vous allez maigrir en faisant  
du dessin.  
D) En faisant du sport, vous  
pouvez maigrir.

(528) SEÇ. Y. DİL İNG. – 8

1 - 18. sorularda boş bırakılan  
yere uygun gelen kelime ya da  
ifadeyi işaretleyiniz.

1. The dinner was prepared  
..... my mother.

- A) at B) as C) of D) by

2. You can't go out ..... it's late.

- A) since B) wherever  
C) in order to D) so that

3. Put on thick clothes .....  
you won't catch a cold.

- A) until B) so that  
C) because D) as soon as

4. I have put my keys .....  
nobody can find them.

- A) what B) why  
C) where D) who

5. You should stand as near  
..... you can.

- A) as B) up C) on D) in

6. I'll be sleeping ..... .

- A) last month  
B) previous day  
C) two weeks ago  
D) in a few minutes

7. The flowers have been .....  
by the gardener.

- A) eaten B) watered  
C) spoken D) broken

8. I would ..... you carry the  
piano if I were stronger.

- A) have B) catch  
C) help D) drop

9. He will have ..... the car by  
the time you arrive.

- A) wash B) washed  
C) washing D) to wash

10. I'll be ..... for you at the  
airport.

- A) wait B) waited  
C) to wait D) waiting

11. The house ..... by the  
servant now.

- A) was cleaned  
B) to be cleaned  
C) is being cleaned  
D) has been cleaned

12. Where do you think you .....  
in ten years?

- A) will be living  
B) were living  
C) are living  
D) live

13. We ..... there before noon.

- A) are arriving  
B) were arriving  
C) will be arriving  
D) will have arrived

14. I ..... to work by car if I  
..... a driving license.

- A) would go / had  
B) will go / had  
C) went / have  
D) go / will have

15. I ..... a lot of money if I  
..... that job.

- A) would earn / get  
B) earn / getting  
C) will earn / get  
D) earned / get

## 1. OTURUM

(528) SEÇ. Y. DİL ALM. – 8

1 - 19. sorularda boş bırakılan yere uygun gelen ek, kelime ya da ifadeyi işaretleyiniz.

16. If you ..... older, you ..... in our hockey team.

- A) are / would play
- B) have been / play
- C) had been / played
- D) were / would play

17. We would have eaten good meals if .....

- A) she is coming tonight.
- B) we had found a better cook.
- C) they will study their lessons.
- D) you could visit your friends.

18. If it had been warmer, .....

- A) we would have sat in the garden.
- B) I could solve the problem easily.
- C) you can finish your project.
- D) they will help me do it.

19. Aşağıda verilen cümlelerin "Passive" (edilgen) hâlini işaretleyiniz.

"People grow tea in Rize."

- A) I will make tea.
- B) Tea is grown in Rize.
- C) People drink tea in Rize.
- D) Our tea is grown by my father.

20. Aşağıda verilen cümlelerin "Active" (etken) hâlini işaretleyiniz.

"The house hasn't been painted by Ahmet."

- A) Ahmet will paint my new house soon.
- B) Ahmet hasn't painted the house.
- C) Ahmet isn't painting the house.
- D) Ahmet will come to the house.

1. Ich finde, ..... Fazıl Say sehr begabt ist.

- A) weil
- B) wenn
- C) dass
- D) was

2. Wenn ich Arzt ....., ..... würde ich den Menschen helfen.

- A) dann / würde
- B) wäre / dann
- C) wäre / dass
- D) würde / dann

3. Abitur ..... / aufs Gymnasium .....

- A) machen / gehen
- B) arbeiten / spielen
- C) gehen / studieren
- D) lernen / erlernen

4. Die Tasche, ..... auf dem Tisch steht, gehört mir.

- A) die
- B) der
- C) das
- D) den

5.



Was ist sie von Beruf?

- A) Lehrerin
- B) Biologin
- C) Pilotin
- D) Architektin

6. Ein Reiseleiter .....

- A) malt
- B) führt Touristen
- C) leitet Filme
- D) singt

7. Er denkt, ..... ich sehr faul bin.

- A) wenn
- B) weil
- C) dass
- D) denn

8. Wir gehen einkaufen, ..... uns zu entspannen.

- A) denn
- B) um
- C) weil
- D) dass

9. Die Kinder ..... Eis essen.

- A) werde
- B) werden
- C) werdet
- D) wirst

10. Ein Rennen macht .....

- A) Fahrradrennen
- B) beruhigend
- C) Motorradrennen
- D) Spaß

11. .... sagt, dass Chimäre ein Ungeheuer mit drei Löwenköpfe ist.

- A) Uns
- B) Wir
- C) Ich
- D) Man

12. Wer möchte das Volkslied "Die Loreley" vor-.....

- A) -tragen
- B) -bestellen
- C) -machen
- D) -kommen

13. Nach der 12. Klasse ..... ich Medizin .....

- A) war / studieren
- B) werde / studierte
- C) werde / studieren
- D) hat / gestudiert

14. Es ist schön, ..... du kommst.

- A) dass
- B) oder
- C) aber
- D) und

# 1. OTURUM

15. Ich spare Geld, ..... ich ein Fahrrad kaufen möchte.

- A) denn            B) weil  
C) dass            D) wenn

16. Ich laufe jeden Tag, um mich fit ..... halten.

- A) vor              B) ab  
C) von              D) zu

17. A. Ist die Aufgabe leicht oder schwer?

Wie ist deine Antwort?

B: ....., die Aufgabe ist leicht.

- A) Ich habe Recht  
B) Das ist falsch  
C) Das ist richtig  
D) Ich meine

18. A: Wo kann ein Lehrer arbeiten?

B: .....

- A) In einem Reisebüro  
B) Bei einer Baufirma  
C) In der Schule  
D) Bei der Justiz

19. A: ..... Ankara?

B: In der Mitte der Türkei.

- A) Wo liegt            B) Was gibt  
C) Wo                  D) Woher

20.



Was ist das?

- A) Ein Prospekt  
B) Eine Burg  
C) Ein Wegweiser  
D) Ein Ortsschild

(528) SEÇ. Y. DİL FRAN. – 8

1 - 20. sorularda boş bırakılan yere uygun gelen kelime ya da ifadeyi işaretleyiniz.

1. Mon père nous a dit ..... avant de partir en vacances.

- A) bonne nuit  
B) bonne année  
C) bonnes vacances  
D) bon appétit

2. Hakan va partir ..... France.

- A) en    B) au    C) ou    D) aux

3. Son directeur a raté le train ..... il doit annuler sa réunion.

- A) dans            B) avec  
C) donc            D) sans

4. .... des produits de saison!

- A) Consomment  
B) Consommant  
C) Consommes  
D) Consommez

5. Si elle ..... chaque jour au lieu de prendre sa voiture, elle économise.

- A) marchant        B) marcher  
C) marche          D) marchait

6. Ma tante téléphonera à sa fille ..... fait ses études à l'université.

- A) qui              B) que  
C) quel              D) quoi

7. Cécile et son frère vont acheter une chemise pour leur mère .....

- A) hier  
B) demain  
C) il y a une heure  
D) la semaine dernière

8. Je prendrai une chambre d'hôtel qui ..... sur la mer.

- A) donnez            B) donne  
C) donnes            D) donnons

9. Avez-vous trouvé les clés ..... vous cherchez?

- A) quel              B) qui  
C) que                D) quoi

10. Vous allez ..... dans la salle de classe?

- A) mange            B) manger  
C) manges            D) mangez

11. Nous préférons le football ..... natation.

- A) au    B) aux    C) à l'    D) à la

12. Le mari est ..... de la femme.

- A) l'épouse            B) le fils  
C) la fille              D) l'époux

13. Banana est ..... grand que la cerise.

- A) moins            B) plus  
C) aussi              D) autant

14. Les filles dansent ..... que les garçons.

- A) mieux            B) meilleure  
C) meilleur            D) pires

15. .... me proposent des vêtements féminins.

- A) Vous              B) Nous  
C) Tu                  D) Ils

16. Si tu ne veux pas oublier une langue étrangère, ..... la souvent!

- A) pratiques        B) pratique  
C) pratiquant        D) pratiquent

## 1. OTURUM

17. Avez-vous ..... ses gants?

- A) vois B) voir  
C) vu D) voit

18. A: Nous allons acheter des tomates?

B: Oui, nous allons ..... acheter deux kilos.

- A) ou B) en C) y D) à la

19. A: ..... tu ne achètes pas du beurre?

B: Parce que je n'ai pas d'argent.

- A) Comment B) Combien  
C) Que D) Pourquoi

20. A: Est-ce que tu vas souvent au cinéma?

B: Oui, j'..... vais souvent.

- A) y B) ou C) à la D) en

### (532) HZ. MUHAMMED'İN HAY. – 2

1. Peygamberimiz; "Allah, birbirinize karşı alçak gönüllülük ediniz, kimse kimseye üstünlük taslamasın, diye bana vahyetti." buyurdu.

Bu hadiste sakınılması istenen davranış aşağıdakilerden hangisidir?

- A) Haset B) Kibir  
C) Nefret D) Gıybet

2. "Gerçekten şeytanın tuzakları vardır. Şeytanın tuzakları ile ağları: Allah'ın nimeleriyle azgınlık etmek, Allah'ın verdiği şeyle övünüp büyüklük iddia etmek, Allah'ın kullarına ululuk ve üstünlük taslamak ve Allah'ın rızası dışında nefsin arzusuna uymaktır."

(Hadis-i Şerif)

Aşağıdakilerden hangisi bu hadiste sayılan şeytanın tuzaklarından biri değildir?

- A) Kibirleşmek  
B) Zulüm yapmak  
C) Haset etmek  
D) Günah işlemek

3. Peygamberimiz aile bireylerine eşit davranır ve şöyle dua ederdi: "Ey Allah'ım benim elimden gelen paylaşırma budur. Senin gücünün yetip de benim gücümün yetmediği hususlarda beni hesaba çekme."

(Hadis-i Şerif)

Peygamberimizin bu duası onun aşağıdakilerden hangisine verdiği öneme kanıt oluşturur?

- A) Hoşgörülü olmasına  
B) Adaletli davranmasına  
C) Şefkat ve merhametine  
D) Özel hayatı korumasına

4. "Ey insanlar! Dikkat edin, sizin Rabb'iniz birdir, babanız birdir, Âdem'dir. Dikkat edin, hiçbir Arabin yabancı üzerine, hiçbir yabancının Arap üzerine, siyahın kırmızı renkli üzerine, kırmızının siyah üzerine üstünlüğü yoktur. Fazilet ve üstünlük ancak takva iledir."

(Hadisi-i Şerif)

Aşağıdakilerden hangisi bu hadisten çıkarılacak bir sonuç değildir?

- A) Allah'ın bir ve tek olduğu  
B) Üstünlüğün Allah'a itaatte olduğu  
C) İnsanların Allah katında eşit olduğu  
D) Allah'ın mutlak adalet sahibi olduğu

5. "Allah'a yemin ederim ki hiçbir müslüman kendisi için istediğini komşusu için yahut kardeşi için de istemedikçe tam anlamı ile iman etmiş olmaz." (Hadisi-i Şerif)

Bu hadiste tavsiye edilen davranış aşağıdakilerden hangisidir?

- A) Gıpta B) Tevekkül  
C) Empati D) Samimiyet

6. "Ey insanlar! Şüphesiz biz sizi bir erkek bir dişiden yarattık ve birbirinizi tanımanız için sizi boylara ve kabilelere ayırdık. Allah katında en değerli olanınız, ona karşı gelmekten en çok sakınanınızdır."

(Hucurat suresi, 13. ayet)

Bu ayette vurgulanan konu aşağıdakilerden hangisidir?

- A) Eşitlik  
B) Kabilecilik  
C) Yaratılışın safhaları  
D) Din ve vicdan özgürlüğü

7. Peygamberimiz âmâ olan Abdullah b. Ümmi Mektum'u, Medine dışına çıktığında çok defa yerine imamlık yapmak için görevlendirmiştir.

Peygamberimizin bu davranışının sebebi aşağıdakilerden hangisidir?

- A) Engelli kimselere merhametli davranmak  
B) Engelli kimseleri topluma kazandırmak  
C) Toplumun bir kesimine ayrıcalık tanımak  
D) Medine halkının onu seçmesi

8. "Mümin olarak, erkek veya kadın, her kim salih amel işlerse, işte onlar cennete girerler ve zerre kadar haksızlığa uğratılmazlar."

(Nisa suresi, 124. ayet)

Aşağıdakilerden hangisi bu ayetten çıkarılamaz?

- A) Kullukta müminlerin eşit olduğu  
B) Salih amel işleyenlerin cennete gideceği  
C) Kadın ve erkeklerin eşit haklara sahip olduğu  
D) Cennete müminlerin gidebileceği

9. "Eğer karar verirsen aralarında adaletle karar ver. Çünkü Allah adil olanları sever."

(Maide suresi 42. ayet)

Bu ayette aşağıdakilerden hangisi tavsiye edilmiştir?

- A) Hakkaniyetli davranmak  
B) Merhametli davranmak  
C) Yaratılışa uygun davranmak  
D) Sabırlı davranmak

## 1. OTURUM

10. “Kim ..... kalmış bir çocuğu yanına alıp iyilik ve güzellikle bakarsa ben ve o cennette şu iki parmak gibi yan yanayız.”

(Hadis-i Şerif)

Bu hadiste boş bırakılan yere aşağıdakilerden hangisi getirilmelidir?

- A) Hasta B) Miskin  
C) Yetim D) Garib

11. “Kimsesizlerin ve fakirlerin yardımına koşan Müslüman, Allah için gece nafile namaz kılan ve gündüz oruç tutan abid gibidir.”

(Hadis-i Şerif)

Bu hadiste aşağıdakilerden hangisine değinilmemiştir?

- A) Namazın önemli bir ibadet olduğuna  
B) İbadetlerin Allah rızası için yapıldığına  
C) Muhtaç kimselere yardım edilmesi gerektiğine  
D) İbadetlerin devamlı yapılması gerektiğine

12. “Sizler tek hurmanın yarısı ile bunu bulamazsanız güzel bir sözle de olsa ateşten korununuz!”

Bu hadiste verilmek istenen asıl mesaj aşağıdakilerden hangisidir?

- A) Güzel söz söylemenin önemi  
B) Sadakanın dinimizdeki yeri  
C) Yapılan iyiliklerin kişiyi cehennemden kurtaracağı  
D) Kişinin kötü sözden uzak durması gerektiği

13. “Küçüğümüze acımayan ve büyüğümüzün hakkını tanımayan, bizden değildir.”

(Hadis-i Şerif)

Bu hadiste aşağıdaki tutum ve davranışlardan hangisine değinilmektedir?

- A) Şefkat ve merhamet  
B) Haya ve iffet  
C) Sabır ve kararlılık  
D) Cesaret ve şecaat

14. Aşağıdakilerden hangisi Mekke'den Medine'ye ilk hicret eden iki kişiden biridir?

- A) Hz. Ömer  
B) Cafer b.Ebi Talib  
C) Hz. Ebubekir  
D) Abdullah b. Ümmi Mektum

15. Peygamberimiz bir kadınla üç özelliğinden dolayı evlenilir buyurmaktadır. Aşağıdakilerden hangisi peygamberimizin saydığı bu üç özellikten biri değildir?

- A) Dini B) Malı  
C) Yaşı D) Güzelliği

16. Bir işe başlamadan önce, bilgisine, tecrübesine ve aklına güvenilen kimselerle fikir alışverişinde bulunmak anlamına gelen kavram aşağıdakilerden hangisidir?

- A) İhsan B) İstişare  
C) İffet D) İrfan

17. “Müslüman'ın Müslüman üzerinde hakkı altıdır: Bunlar; Ona rastladığında selam ver, davet edilince icabet et, nasihat isterse nasihat et, aksırır da Allah'a hamdederse ona yerhamu kallah de, hastalanırsa onu ziyaret et, öldüğü vakit de arkasından git.”

(Hadisi Şerif)

Bu hadiste tavsiye edilen davranışlar arasında aşağıdakilerden hangisi yoktur?

- A) Helalleşme  
B) Selam verme  
C) Hasta ziyareti  
D) Cenaze törenine katılma

18. Aşağıdakilerden hangisi istişarenin sonuçlarından biri değildir?

- A) Özgürlükleri kısıtlar.  
B) Bencillığe engel olur.  
C) Hata payını en aza indirir.  
D) Birlik ve beraberliğe katkı sağlar.

19. Aşağıdakilerden hangisi istişare edilecek kişide bulunması gereken hususlardan biridir?

- A) Hatasız bir insan olması  
B) Her konuda bilgi sahibi olması  
C) Yaşça kendinden büyük olması  
D) Bilgi ve tecrübesine güvenilmesi

20. Müslüman'da bulunması gereken önemli bir vasıf da işlerini danışarak yapmaktır.

Aşağıdaki ayet ve hadislerden hangisi buna kanıt olur?

- A) “... Onların işleri, kendi aralarında istişare iledir...”  
(Şura suresi, 38. ayet)  
B) “Ümmetim hata ile, unutarak ya da zorlanarak yaptıklarından dolayı, affedilmiştir.”  
(Hadis-i Şerif)  
C) “... İnsanlara kendilerine indirileni açıklamak için ve düşünüp anlaşılar diye sana bu Kur'an'ı indirdik.”  
(Nahl suresi, 29. ayet)  
D) “Sen af yolunu tut, iyiliği emret cahillerden yüz çevir.”  
(Araf suresi, 199. ayet)

### (609) MATEMATİK – 6

1.  $\frac{7!}{5!}$  işleminin sonucu kaçtır?

- A)  $\frac{7}{5}$  B) 7  
C) 42 D) 210

2.  $A = \{1, 2, 3, 4, 5\}$  kümesinin elemanları kullanılarak 3 basamaklı 300'den büyük kaç farklı çift sayı yazılabilir?

- A) 18 B) 20 C) 24 D) 30

3. Birbirinden farklı 6 matematik, 5 fizik ve 2 kimya kitabı, düz bir rafa yan yana dizilecektir. Aynı dersten olan kitaplar yan yana olmak şartı ile bu diziliş kaç farklı şekilde yapılabilir?

- A)  $6!5!2!$  B)  $11!2!3!$   
C)  $6!5!2!3!$  D)  $6!7!$

## 1. OTURUM

4.  $P(n, 1) + C(n, 2) = 3$  eşitliğini sağlayan  $n$  değeri kaçtır?

- A) 2 B) 3 C) 4 D) 5

5. 38883388 sayısındaki rakamların yerleri değiştirilerek sekiz basamaklı kaç farklı sayı yazılabilir?

- A) 88 B) 83 C) 56 D) 42

6. Altı kişilik bir aile, anne ve baba yan yana oturmamak şartı ile yuvarlak masa etrafına kaç farklı şekilde oturabilirler?

- A) 48 B) 72  
C) 120 D) 144

7. 3 elemanlı alt kümelerinin sayısı ile 5 elemanlı alt kümelerinin sayısı eşit olan küme kaç elemanlıdır?

- A) 2 B) 8 C) 11 D) 15

8. 7 bayan, 4 erkek doktor arasından en az 2 erkek doktorun bulunduğu 3 kişilik sağlık kurulu kaç farklı şekilde seçilebilir?

- A) 21 B) 23 C) 42 D) 46

9. İki torbadan birincisinde 3 kırmızı, 2 sarı, ikincisinde 4 kırmızı, 5 sarı bilye vardır. Torbalardan birinden rastgele seçilen bir bilyenin sarı olduğu bilindiğine göre, bu bilyenin ikinci torbadan çekilmiş olma olasılığı nedir?

- A)  $\frac{43}{45}$  B)  $\frac{25}{43}$   
C)  $\frac{25}{32}$  D)  $\frac{20}{47}$

10. Bir çift zar atılıyor. Üst yüze gelen sayıların toplamının 11 olma olasılığı nedir?

- A)  $\frac{1}{4}$  B)  $\frac{1}{6}$  C)  $\frac{1}{9}$  D)  $\frac{1}{18}$

11.  $1 \cdot 1 + 2 \cdot 3 + 3 \cdot 5 + 4 \cdot 7 + \dots + 21 \cdot 41$  toplamının  $\Sigma$  sembolü ile gösterimi aşağıdakilerden hangisidir?

- A)  $\sum_{k=1}^{21} (2k^2 - k)$   
B)  $\sum_{k=1}^{21} (2k^2 - 3k)$   
C)  $\sum_{k=1}^{20} (k+1)(2k-1)$   
D)  $\sum_{k=1}^{20} (k^2 - 1)$

12.  $\sum_{k=0}^{15} (k+1)$  değeri kaçtır?

- A) 136 B) 140  
C) 148 D) 152

13.  $\prod_{k=1}^8 2^k$  değeri kaçtır?

- A)  $2^8$  B)  $2^{16}$   
C)  $2^{24}$  D)  $2^{36}$

14.  $\prod_{k=1}^{10} (k-6)$  değeri kaçtır?

- A) 0 B) 55  
C) 60 D) 120

15. Aşağıdakilerden hangisi bir dizinin genel terimi olamaz?

- A)  $\frac{n+1}{n+5}$  B)  $n^2 - 6n + 15$   
C)  $\frac{n^2}{n^2 + n + 1}$  D)  $\sqrt{n-16}$

16.  $(a_n) = \left(\frac{2n-1}{3n+1}\right)$  dizisinin kaçınca terimi  $\frac{1}{2}$ 'dir?

- A) 5 B) 4 C) 3 D) 2

17.  $(a_n) = \left(\frac{2n+1}{6n+12}\right)$  dizisinin limiti kaçtır?

- A)  $\frac{1}{2}$  B)  $\frac{1}{3}$  C)  $\frac{1}{6}$  D)  $\frac{1}{12}$

18. Bir aritmetik dizinin ilk terimi 3 ve ortak farkı 4 olduğuna göre, dokuzuncu terimi kaçtır?

- A) 23 B) 27 C) 35 D) 39

19. Bir geometrik dizinin birinci terimi 4, dördüncü terimi 32 olduğuna göre, yedinci terimi kaçtır?

- A) 256 B) 128  
C) 64 D) 32

20.  $\frac{3}{5} + \frac{3}{25} + \frac{3}{125} + \frac{3}{625} + \dots$  serisinin toplamı kaçtır?

- A)  $\frac{3}{5}$  B)  $\frac{3}{4}$  C)  $\frac{4}{5}$  D)  $\frac{6}{5}$

### (611) KARŞ. DİN. TAR. - 1

1. Dinler tarihi biliminin kullandığı metotlar arasında aşağıdakilerden hangisi yer almaz?

- A) Nitelendirici metod  
B) Karşılaştırmacı metod  
C) Savunmacı metod  
D) Tarih metodu

2. Özellikle Yahudi Kültüründen geçmiş mitolojik kıssa ve hâdiselerle Kur'an-ı Kerim'i tefsir etme yöntemine ne isim verilir?

- A) Misyonerlik  
B) İsrailiyat  
C) Hurafe  
D) Esatirül-Evvelin

3. Aşağıdakilerden hangisi ilk dönem dinler tarihi alimlerindendir?

- A) Biruni  
B) Hikmet Tanyu  
C) Şemsettin Sami  
D) Şemsettin Günaltay

4. İslam'a göre dinin kaynağı aşağıdakilerden hangisidir?

- A) Büyü  
B) Vahiy  
C) Peygamber  
D) Atalar kültü

## 1. OTURUM

5. Kudüs'ü fethedip orayı başkent yapan ....., orada büyük ma-bedi inşa eden ise ..... dir. Yukarıdaki boşluklara gelmesi gereken isimler hangi seçenekte doğru verilmiştir?
- A) Hz. İbrahim - Hz. Yeşu  
B) Hz. Yeşu - Hz. Davut  
C) Hz. Musa - Hz. Süleyman  
D) Hz. Davut- Hz. Süleyman
6. Aşağıdakilerden hangisi dinin insan yaşamına katkılarından değildir?
- A) Erdemli davranmaya yönlendirir.  
B) Suçların azalmasına katkı sağlar.  
C) İlkesizliğe ve başıboşluğa götürür.  
D) Toplumunu bir arada tutar.
7. Hz. Yusuf'un soyunun doğru sıralandığı seçenek aşağıdakilerden hangisidir?
- A) Bünyamin - İshak - İbrahim  
B) Yakup - İshak - İbrahim  
C) İshak - Yakup - İbrahim  
D) Bünyamin - İsmail - İbrahim
8. Aşağıdakilerden hangisi İslam ve Yahudilik arasındaki ortak noktalardan değildir?
- A) Peygamberlere bakış  
B) Sünnet olmak  
C) Domuz eti yememek  
D) İbadethaneye resim sokmamak
9. Hristiyanlıkla ilgili aşağıdakilerden hangisi yanlıştır?
- A) Hz. İsa'ya ilk inananlar Yahudiler olmuştur.  
B) Hristiyanlara göre Hz. İsa çarmıha gerildikten üç gün sonra dirilmiştir.  
C) Ortodoks kilisesi Martin Luter'in fikirlerini benimsemiştir.  
D) İmparator Konstantin zamanında Hristiyanlara serbestlik tanınmıştır.
10. Hristiyanlıkta, hastalıkta ve özellikle ölüm halinde kişiyi rahatlattık için yapılan ayin aşağıdakilerden hangisidir?
- A) Vaftiz  
B) Kuvvetlendirme  
C) Günah itirafı  
D) Son yağlama
11. • Kelime olarak "Tanrı'yla uğraşan" anlamına gelir.  
• Hz. Yakup'un lakabıdır.  
Hakkında bilgi verilen kavram aşağıdakilerden hangisidir?
- A) Yahudi B) İbrani  
C) İsrail D) Musevi
12. Aşağıdakilerden hangisi Protestan mezhebinin özelliklerindedir?
- A) Papa'nın otoritesini kabul etmezler.  
B) Günah çıkarma kabul edilir.  
C) Yedi sakramenti kabul ederler.  
D) Rahipler evlenemezler.
13. • Allah, Yahudi soyunu özel bir millet yapmıştır.  
• Allah Yahudileri Mısır esaretinden kurtarmak için Hz. Musa'yı görevlendirmiştir.  
• Allah Tevrat'ı sadece Yahudilere göndermiştir.  
Yukarıda verilen bilgiler Yahudiliğin hangi özelliği ile ilgilidir?
- A) Mabnet B) Seçilmişlik  
C) Mesihçilik D) Kutsal Toprak
14. Aşağıdakilerden hangisi İslam dininin özelliklerindedir?
- A) Asli günah inancı  
B) Ruhbanlık  
C) Seçilmişlik  
D) Evrensellik
15. Kur'an-ı Kerim'de Hristiyanların en çok eleştirildiği konu aşağıdakilerden hangisidir?
- A) Teslis inancı  
B) Ahlaki tutumları  
C) Müslümanlara bakışları  
D) Din adamlarının evlilik yasağı
16. Aşağıdakilerden hangisi Hristiyanlığın diğer ilahi dinlere bakışı ile ilgili yanlış bir bilgidir?
- A) Pavlus'un içtihadı Yahudi şeriatını ortadan kaldırmıştır.  
B) Hz. İsa'nın çarmıha gerilmesinden Yahudiler sorumludur.  
C) Hristiyanlar İslam'a tarih içerisinde hiçbir eleştiride bulunmamışlardır.  
D) II. Vatikan konsülünden sonra Hristiyanların Müslümanlarla ilgili söylemleri değişmiştir.
17. Aşağıdakilerden hangisi Hint dinleri arasında yer almaz?
- A) Budizm B) Sihizm  
C) Caynizm D) Taoizm
18. • 16. yüzyılda Hindistan'da ortaya çıkmıştır.  
• İslam ve Hinduizm karışımı bir dindir.  
• Dinin kurucusu Guru Nanak'tır.  
Hakkında bilgi verilen din aşağıdakilerden hangisidir?
- A) Budizm B) Sihizm  
C) Caynizm D) Şintoizm
19. Aşağıdaki bilgilerden hangisi Zerdüştlük için söylenemez?
- A) Belli bir ahiret inancı yoktur.  
B) Kurucusunun adıyla anılan bir dindir.  
C) Ferişteler adı verilen meleklerle hürmet gösterilir.  
D) Eski İran'a tevhit inancını getirmiştir.
20. Aşağıdakilerden hangisi Hinduizmin özelliklerinden değildir?
- A) Yoga ve Meditasyon önemlidir.  
B) Kast sistemini benimsemektedirler.  
C) Veda'lar kutsal metinlerindedir.  
D) Kurucusu Konfüçyus'tur.



## 1. OTURUM

(617) SEÇ. DİL ve ANLA. – 7

1. Aşağıdakilerden hangisi öğretici metinlerin özelliklerinden biridir?

- A) Olaylar gerçek ya da kurmacadır.
- B) Bilgi vermek amacıyla yazılır.
- C) Kişi, zaman, mekan, tarih değiştirilebilir.
- D) Hayallere ve mecazlara yer verilir.

2. Aşağıdakilerden hangisi kendini coşkuyla ifade etmeye bağlı türlerden biridir?

- A) Masal
- B) Hikâye
- C) Şiir
- D) Tiyatro

3. Fablların kahramanları genellikle aşağıdakilerden hangisidir?

- A) Hayvanlar
- B) İnsanlar
- C) Bitkiler
- D) Eşyalar

4. Fabllarda olayın beklenmedik bir sonuca bağlandığı en kısa bölüm aşağıdakilerden hangisidir?

- A) Serim
- B) Düğüm
- C) Çözüm
- D) Öğüt

5. Aşağıdakilerden hangisi fabl türünün Batı'daki ilk temsilcisidir?

- A) Andersen
- B) La Fontaine
- C) Hesiodos
- D) Aisopos

6. Aşağıdakilerden hangisi La Fontaine'den fabl çevirisi yapmamıştır?

- A) Orhan Veli Kanık
- B) Sabahattin Eyüboğlu
- C) Rezaizade Mahmut Ekrem
- D) Ahmet Mithat Efendi

7. Padişahlar, vezirler, zengin tüccarlar, sıradan ve yoksul insanlar, haydutlar gibi gerçek dünyadan alınma kişilerin olduğu masal türü aşağıdakilerden hangisidir?

- A) Zincirlemeli masallar
- B) Gerçekçi masallar
- C) Yalanlamalı masallar
- D) Olağanüstü masallar

8. Batı'da masalların kökenini ilk araştıran kişi aşağıdakilerden hangisidir?

- A) Wilhelm Grimm
- B) Hans Christian Andersen
- C) Oscar Wilde
- D) Sigmund Freud

9. "İstanbul Masalları" adlı masal derlemesi aşağıdaki yazarlardan hangisine aittir?

- A) Ziya Gökalp
- B) Tahir Alangu
- C) Naki Tezel
- D) Cahit Uçuk

10. Aşağıdakilerden hangisi İran-Hint kaynaklı halk hikâyelerinden biridir?

- A) Kelile ve Dimne
- B) Emrah ile Selvihan
- C) Kerem ile Aslı
- D) Yusuf ile Züleyha

11. Aşağıdaki yazarlardan hangisi Türk edebiyatında olay hikâyesinin temsilcilerinden değildir?

- A) Ömer Seyfettin
- B) Reşat Nuri Güntekin
- C) Orhan Kemal
- D) Sait Faik Abasıyanık

12. Aşağıdakilerden hangisi olay hikâyesine ait bir özellik değildir?

- A) Çevre anlatılırken gözleme bağlı kalmaya özen gösterilir.
- B) Merak ögesi ikinci plandadır.
- C) Hikâye beklenmedik bir sonla biter.
- D) Olay, kişi, mekân ilişkisi okuyucuda gerçeklik duygusu uyandırır.

13. Aşağıdakilerden hangisi yalnız bir anlatımın özelliğidir?

- A) İfadenin hiçbir engele uğramaması
- B) Gereksiz ifadelerle yer verilmesi
- C) Dil ve ifadenin sade, süssüz olması
- D) Anlaşılması güç cümle kullanılmaması

14. Dış alemdeki olaylardan çok, kahramanların iç dünyasını, ruh hâllerini ele alarak kişilerin toplumla ilişkilerini, bunların birbirinden nasıl etkilendiklerini anlatan roman türü aşağıdakilerden hangisidir?

- A) Tahlil romanı
- B) Macera romanı
- C) Sosyal roman
- D) Otobiyografik roman

15. "Kiralık Konak" adlı eser aşağıdaki Türk edebiyatçılarından hangisine aittir?

- A) Halit Ziya Uşaklıgil
- B) Halide Edip Adivar
- C) Falih Rıfkı Atay
- D) Yakup Kadri Karaosmanoğlu

16. Bir alıntının, bir davranış biçiminin ya da belli bir özelliğin roman boyunca sürekli biçimde yinlendiği roman tekniği aşağıdakilerden hangisidir?

- A) Görece zaman anlayışı
- B) Bilinç akımı
- C) Montaj
- D) Leitmotiv

17. Aşağıdakilerden hangisi seyretmeye dayalı sanat dallarından biridir?

- A) Roman
- B) Bale
- C) Hikâye
- D) Şiir

## 1. OTURUM

(618) SEÇ. DİL ve ANLA. – 8

18. “Dramatik bir eserde, kişilerin birbirlerine karşı söyledikleri coşkulu uzun sözlere (...) denir.” cümlesinde boş bırakılan yere aşağıdakilerden hangisi getirilmelidir?

- A) Suflör B) Tirad  
C) Figüran D) Tuluat

19. Olayların merak uyandıracak ve şaşırtacak biçimde düzenlenerek, çoğunlukla güldürmekten başka bir amaç güdülmeden yazıldığı komedy türü aşağıdakilerden hangisidir?

- A) Entrika komedyası  
B) Karakter komedyası  
C) Yergi komedyası  
D) Töre komedyası

20. Yolculuk niyetinde değilim.  
Fakat böyle bir iş yapmaya  
kalksam  
Doğru İstanbul’a gelirim.  
Beni Bebek tramvayında  
görünce  
Ne yaparsın acep?  
Mamafih söylediğim gibi  
Yolculuk niyetinde değilim..!  
Orhan Veli Kanık

Bu şiirin teması aşağıdakilerden hangisidir?

- A) Aşk B) Yalnızlık  
C) Pişmanlık D) Kararsızlık

1. Aşağıdakilerden hangisi konferans plânı içerisinde yer almaz?

- A) Hitap cümlesi  
B) Konunun sunuşu  
C) Dinleyicilerin tanıtılması  
D) Soru ve cevaplar

2. Aşağıdakilerden hangisi konferans veren kişinin konferans sırasında dikkat etmesi gereken özelliklerinden değildir?

- A) Akıl ve sağduyuyla hareket edilmelidir.  
B) Gerektiğinde argo sözcük kullanılmamalıdır.  
C) Konu dağıtılmamalıdır.  
D) Sözlü anlatım tekniklerine uyulmalıdır.

3. Aşağıdakilerden hangisi konferansta kullanılan anlatım türlerinden biri değildir?

- A) Emredici B) Açıklayıcı  
C) Tartışmacı D) Kanıtlayıcı

4. Alanında uzman bir kişinin herhangi bir konu ya da olay hakkında görüş ve düşüncelerini açıklamak amacıyla bir grup ya da topluluk önünde yaptığı, ön hazırlığı olması gereken sözlü anlatım türüne ne ad verilir?

- A) Açık oturum B) Sempozyum  
C) Münazara D) Konferans

5. Aşağıdakilerden hangisi açık oturumun özelliklerinden biri değildir?

- A) Samimi bir atmosfer vardır.  
B) Bir yarışma havası vardır.  
C) Konuşmacı sayısı 6’yı geçmemelidir.  
D) Probleme yeni bakış açısı getirmek amaçlanır.

6. Aşağıdakilerden hangisi açık oturumda başkanın görevlerinden değildir?

- A) Giriş konuşmasını yapar.  
B) Soruların düzenli sorulmasını sağlar.  
C) Gerekirse konuyu değiştirir.  
D) Oturumun değerlendirmesini yapar.

7. Belli bir konuyu aydınlatmak amacıyla bilim adamı ve araştırmacıların bir araya geldikleri ve konuşmacıların konunun belirli bölümlerini sundukları, tartışmalı toplantılara ne ad verilir?

- A) Sempozyum  
B) Münazara  
C) Forum  
D) Açık oturum

8. Aşağıdakilerden hangisi sempozyum bildirisinin bölümlerinden biri değildir?

- A) Giriş  
B) Deney  
C) Bulgular  
D) Sorular ve cevaplar

9. Önceden belirlenmiş bir konuda farklı görüşlere sahip kişilerin bir araya gelerek konuyu çözümlmek, kendi görüşlerini açıklamak, kanıtlamak, karşı tarafın zayıf noktalarını aramak için yaptıkları tartışma türüne ne ad verilir?

- A) Açık oturum B) Sempozyum  
C) Münazara D) Forum

10. Aşağıdakilerden hangisi münazara türüne ait bir özellik değildir?

- A) Görüşme ve çözüm yöntemidir.  
B) Amaç, “ben”i ön plana çıkarmadır.  
C) Bir konunun olumlu ve olumsuz yönü tartışılır.  
D) Hakem kurulu, başkan, konuşmacılar, sözcü bulunur.

## 1. OTURUM

11. Aşağıdakilerden hangisi mü-nazarada hakem kurulunun konuşmaları değerlendirme esaslarından değildir?

- A) Konuyu doğru seçme
- B) Savunmada inandırıcı olma
- C) Konuyu açma ve örneklendirme yeteneklerine sahip olma
- D) Sözcük ve cümleleri doğru kullanma

12. Aşağıdakilerden hangisi mü-nazarada tartışanların uyacağı kurallarından biri değildir?

- A) Aynı konuda üst üste söz almak
- B) Konuşmaları ilgiyle dinlemek
- C) Tartışma konusu dışına çıkmamak
- D) Başkanın uyarılarına karşı gelmemek

13. "Sayfa içinde geçen herhangi bir düşünce veya bilgiyle ilgili olarak sayfa altına konulan açıklamaya (...) denir." cümlesinde boş bırakılan yere aşağıdakilerden hangisi getirilmelidir?

- A) İndeks
- B) Dokümantasyon
- C) Bibliyografya
- D) Dipnot

14. Aşağıdakilerden hangisi bilimsel yazıların bölümlerinden biri değildir?

- A) Başlık
- B) Özet
- C) Dokümantasyon
- D) Asıl metin

15. Aşağıdakilerden hangisi bilimsel yazı olarak değerlendirilmez?

- A) Değerlendirme makalesi
- B) Konferans raporu
- C) Toplantı özeti
- D) Davet mektubu

16. Bilimsel yazılarda dil hangi işleviyle kullanılır?

- A) Göndergesel işlev
- B) Kanalı kontrol işlevi
- C) Heyecana bağlı işlev
- D) Alıcıyı harekete geçirme işlevi

17. Aşağıda verilen dipnot örneklerinden hangisinin yazımı doğrudur?

- A) (1) Çağdaş İnsan ve Edebiyat, Alemdar Yalçın, Akçağ Yayınları, 6. Baskı, Ankara 2008, s.29.
- B) (1) Alemdar Yalçın, Çağdaş İnsan ve Edebiyat, Akçağ Yayınları, 6. Baskı, Ankara 2008, s.29.
- C) (1) Akçağ Yayınları, Çağdaş İnsan ve Edebiyat, Alemdar Yalçın, 6. Baskı, Ankara 2008, s.29.
- D) (1) 6. Baskı, Ankara 2008, Alemdar Yalçın, Çağdaş İnsan ve Edebiyat, Akçağ Yayınları, s.29.

18. Aşağıdakilerden hangisi Cumhuriyet Dönemi Makale yazarlarından biri değildir?

- A) Ahmet Emin Yalman
- B) Ali Naci Karacan
- C) Hüseyin Cahit Yalçın
- D) İbrahim Şinasi

19. Aşağıdakilerden hangisi öğretici metinler arasında yer almaz?

- A) Deneme
- B) Sohbet
- C) Hikâye
- D) Biyografi

20. Bilimsel yazılarda metnin tamamında anlatılanların küçültülerek bir paragraf hâline getirilip verildiği bölüm aşağıdakilerden hangisidir?

- A) Özet
- B) Başlık
- C) Giriş
- D) Sonuç

(624) SEÇ. TÜRK EDEB. – 4

1. Aşağıdakilerden hangisinin söyleyenleri belli değildir?

- A) Koşma
- B) İlahi
- C) Semai
- D) Mânî

2. Almaya al olaydım  
Serviyeye dal olaydım  
Ela gözlü yârimin  
Atına nal olaydım

Bu dördüklük söyleyiş özellikleri bakımından aşağıdaki nazım türlerinden hangisini örneklendirir?

- A) Koşma
- B) Mânî
- C) Semai
- D) Rûbai

3. Anadolu Selçukluları döneminde yaşayan ..... halk mizahının simgesi olmuştur.

13. yüzyılda ortak halk zekâsının deneyim ve düşünce çizgileriyle zengin güldürücü fıkralarını kendi kişiliğinde toplayan ilk büyük isimdir. Onun fıkralarındaki "Parayı veren düdüğü çalar." gibi sözleri, atasözü niteliği kazanmıştır.

Yukarıdaki boşluğa, aşağıdaki-lerden hangisi gelmelidir?

- A) Kadı Burhaneddin
- B) İncili Çavuş
- C) Tıffî Çelebi
- D) Nasreddin Hoca

4. Ben gidersem sazım sen kal  
dünyada  
Gizli sırlarımı aşikâr etme,  
Lal olsun dillerin söylemeye  
yâda,  
Garip bülbül gibi ah ü zâr etme.

Bu koşmanın, halk şiirinin son büyük isimlerinden olan şairi aşağıdakilerden hangisidir?

- A) Âşık Veysel
- B) Bayburtlu Zihni
- C) Erzurumlu Emrah
- D) Seyrânî

## 1. OTURUM

5. Aşağıdakilerden hangisi kaside için yanlıştır?

- A) Bir kişiyi veya yeri öven şiirlerdir.
- B) Beyit sayısı 11-22 arasında değişir.
- C) Uyak düzeni gazelle aynıdır.
- D) Şairin kendini övdüğü bölüme "fahriye" denir.

6. Aşağıdakilerden hangisi anonim halk edebiyatı ürünlerinden değildir?

- A) Türkü
- B) Mâni
- C) Koşma
- D) Ninni

7. "Cömertlikte ve yardım etmekte akarsu gibi ol." cümlesinin sahibi, yaşam felsefesi ile bütün dünyaya sevgiyi, hoşgörüyü, iyiliği ve güzelliği yansıtmış ve yol göstermiş bir Türk İslam mutasavvıfı ve şairidir. "Bilginler Sultanı" olarak anılan bu şairin yazdığı Mesnevî, tasavvufi, felsefi ve ahlaki bir eserdir.

Bu bilgiler, aşağıdakilerden hangisine aittir?

- A) Şeyyad Hamza
- B) Mevlâna Celaleddin Rumî
- C) Yusuf Has Hacip
- D) Sünbülzâde Vehbi

8. Sarı zeybek şu dağlara yaslanır  
Yağmur yağar silahları ıslanır  
Bir gün olur deli gönül uslanır  
(Türkü)

Bu türkünün durakları aşağıdakilerden hangisidir?

- A) 5+6
- B) 6+5
- C) 4+4+3
- D) 7+4

9. Aşağıdaki eser-yazar eşleştirmelerinden hangisi doğrudur?

- A) İskendername - Ahmedî
- B) Divan-ı Hikmet - Ahmet Yesevi
- C) Atabetü'l-Hakayık - Yusuf Has Hacip
- D) Cemşid ü Hurşit-Ebü'l - Gazi Bahadır Han

10. Aşağıdakilerden hangisi Dede Korkut Hikâyeleri'nin bir özelliği değildir?

- A) Eserin geniş adı Oğuz Boyu'nun dili ile Dede Korkut Kitabı'dır.
- B) Eserin içinde her biri ayrı bir bütün oluşturan 12 hikâye yer almaktadır.
- C) Hikâyelerde adı geçen Dede Korkut, kahramanlığıyla ün kazanmış Oğuz beylerinden biridir.
- D) Çoğunlukla yiğitlik havası esen hikâyelerde kimi kahramanlar olağanüstü güce sahiptirler.

11. Yüzyıllar boyunca tasavvuf şiirinin önderi sayılmış, şiirleriyle duygu ve düşüncelerini halkın anlayabileceği düzeye getirmiş olan şair 13. yüzyılın ikinci yarısı ile 14. yüzyılın başlarında yaşamıştır. Başta ilahi olmak üzere nefes, münacaat, nutuk, şathiye adı verilen şiirlerinde büyük bir ustalıklarla Tanrı sevgisini işleyen bu şair aşağıdakilerden hangisidir?

- A) Kaygusuz Abdal
- B) Sultan Velet
- C) Yunus Emre
- D) Ahmedî

12. Aşağıdaki seçeneklerden hangisinde bir bilgi yanlışlığı vardır?

- A) Türkçenin ilk sözlüğü ve dil bilgisi kitabı olan Divan-ı Lügati't - Türk, Edip Ahmet tarafından yazılmıştır.
- B) Divan-ı Lügati't - Türk, "Türk Dilinin Karşılaştırmalı Sözlüğü" anlamına gelir.
- C) Divan-ı Lügati't - Türk, Türk dilini Araplara öğretmek amacıyla oluşturulmuştur.
- D) Divan-ı Lügati't - Türk'teki, Türkçe sözcüklerin sayısı 7500'dür.

13. Aşağıdakilerden hangisi 11. yüzyılda yazılan "Kutadgu Bilig" için yanlıştır?

- A) Aruzla yazılan ilk eserlerdendir.
- B) Bir siyasetname olarak adlandırılır.
- C) Küntogdi, Aytoldı, Ögdilmiş ve Oğurmuş adlı sembolik kişiler konuşturulur.
- D) Uygur Türkçesiyle kaleme alınmıştır.

14. Aşağıdakilerden hangisi aruzla yazılan ilk eserlerdendir?

- A) Battalnâme
- B) Garipnâme
- C) Kutadgu Bilig
- D) Divan-ı Hikmet

15. Kerem ile Aslı hikâyesi için aşağıdakilerden hangisi söylenemez?

- A) Kahramanlık hikâyesidir.
- B) Nazım-nesir karışık olarak düzenlenmiştir.
- C) Kimin tarafından düzenlendiği belli değildir.
- D) Hikâyedeki Kerem, 17. yüzyıl başlarında yaşadığı sanılan bir saz şairidir.

16. Aşağıdakilerden hangisi 17. yüzyılın çok yönlü yazarlarından ve düşünürlerinden Kâtip Çelebi'nin eseridir?

- A) Cihannüma
- B) Atabetü'l-Hakayık
- C) Kutadgu Bilig
- D) Divan-ı Hikmet

17. Türk edebiyatında "Seyahatname"siyle ünlüdür. Büyük ve eşsiz eserinde bize 17. yüzyıl Türkiye'sinin sanatını, tarihini, coğrafyasını, folklorunu, geleneklerini, göreneklerini ayrıntılarıyla verir.

Tanıtılan kişi aşağıdakilerden hangisidir?

- A) Seydi Ali Reis
- B) Evliya Çelebi
- C) Naima
- D) Mercimek Ahmet

## 1. OTURUM

18. **DİL**  
Ey sevgili, "Sevdim seni"  
derken dilim ol!  
Al'dan duvağım, kınam; ışıktan  
telim ol!  
Ben yollara yalnız çıkamam...  
Kolla beni!  
Sevdinse eğer, gel, tut elimden..  
Elim ol!  
(Ârif Nihat Asya)
- Bu parçanın nazım biçimi aşağıdakilerden hangisidir?
- A) Mâni                      B) Rubai  
C) Türkü                     D) Gazel

19. Gazeldeki "makta" beyti için aşağıdaki bilgilerden hangisi **doğrudur**?
- A) Şairin adı ya da takma adı bu beyitte geçer.  
B) Gazelin birinci beytine makta beyti denir.  
C) Makta, "doğma, doğuş" anlamına gelir.  
D) Gazelin en güzel beytidir.
20. Aşağıdakilerden hangisi **mesneviyle ilgili olarak yanlıştır**?
- A) Her beytin dizeleri kendi arasında uyaklıdır.  
B) Modern öykü ve romanın yerini tutar.  
C) En tanınmış örneklerinden biri Fuzuli'nin yazdığı Leylâ ve Mecnûn mesnevisidir.  
D) Yalnızca din ve tasavvuf konuları işlenir.

### (627) SEÇ. TÜRK EDEB. – 7

1. Halikarnas Balıkcısı takma adıyla hikâye ve romanlar yazmış olan sanatçı, eserlerinde tabiatı ve insanı bir şiir duygusu içinde anlatır. Bu parçada söz edilen yazarımız aşağıdakilerden hangisidir?
- A) Kemal Tahir  
B) Yaşar Kemal  
C) Cevdet Kudret Solok  
D) Cevat Şakir Kabaağaçlı
2. Aşağıdakilerden hangisi anı türünün Türk edebiyatındaki **ilk** eserlerinden **değildir**?
- A) Babürname - Babür Şah  
B) Evrak-ı Eyyâm - Cenap Şehabettin  
C) Şecere-i Türkî - Ebûlgazi Bahadır Han  
D) Tezkire - Âşık Çelebi
3. Makaleyle ilgili olarak aşağıdakilerden hangisi **yanlıştır**?
- A) Bizde **ilk** makale Âgah Efendi tarafından Takvimi Vekayi gazetesinde yayımlanır.  
B) Namık Kemal makalelerinde "vatan, millet, özgürlük" temalarını işlemiştir.  
C) Gazetelerin ilk sayfasında ve genellikle ilk sütununda yayımlanan makalelere "başmakale" denir.  
D) Makaleler yazarların uzmanlık alanlarına ve konularına göre sınırlanır.
4. Aşağıdaki romanlardan hangisinin konusu Kurtuluş Savaşı **değildir**?
- A) Yaban  
B) Anayurt Otel  
C) Küçük Ağa  
D) Ateşten Gömlek
5. Gezi yazıları konu ve anlatım özellikleri bakımından aşağıdaki yazı türlerinden hangisiyle benzerlik gösterir?
- A) Fıkra                      B) Eleştiri  
C) Makale                    D) Röportaj

6. Türk edebiyatında Atatürk'ü anlatan çok sayıda anı kitabıyla karşılaşırız. Aşağıdakilerden hangisi Atatürk'ü anlatan anı kitaplarından biridir?
- A) Hatıralar - Ruşen Eşref Ünaydın  
B) Mavi Sürgün - Halikarnas Balıkcısı  
C) Edebî Hatıralar - Hüseyin Cahit Yalçın  
D) Dağ Çağırısı - Sezai Karakoç
7. • Bağımsız bir edebiyat türü olarak benimsenmesinde, Fransız yazarı Montaigne'in büyük payı vardır.  
• Bu yazı türünün eserleri, içerik ve anlatım özellikleri bakımından "senli benli" ve "düzenli" olmak üzere ikiye ayrılabilir.  
• Bu yazı türünde yazarın kişisel duyguları, düşünceleri, istekleri, hayalleri ön sırada yer alır.
- Özellikleri verilen bu yazı türü, aşağıdakilerden hangisidir?
- A) Makale                    B) Deneme  
C) Hikâye                    D) Hatıra
8. Tiyatromuza büyük katkı sağlayan oyun yazarlarımızdan biridir. İnsanın içinde bulunduğu durumu ironik bir bakışla değerlendirir. Sarıpınar 1914, Fehim Paşa Konağı, Bir Şehnaz Oyun tiyatro eserlerinden biridir.
- Bu parçada bahsedilen, ünlü Şu Çılgın Türkler eserinin de yazarı olan kişi aşağıdakilerden hangisidir?
- A) Turgut Özakman  
B) Peyami Safa  
C) Halide Edip Adıvar  
D) Melih Cevdet Anday
9. Cumhuriyet'in ilk yıllarında İstanbul Efendisi, Aynaroz Kadısı, Bir Kavuk Devrildi gibi eserleriyle döneminin en başarılı oyun yazarı olan kişi aşağıdakilerden hangisidir?
- A) Cevat Fehmi Başkut  
B) Ahmet Kutsi Tecer  
C) Musahipzade Celâl  
D) Oktay Rifat

## 1. OTURUM

10. Aşağıdaki seçeneklerin hangisinde gezi türünün ilk önemli eserlerini verenler yer almaktadır?

- A) Marco Polo, Reşidüddin
- B) Galile, İbn Battuta
- C) Marco Polo, İbn Battuta
- D) Galile, Reşidüddin

11. Köyü konu alan edebiyata koşut olarak 1950 - 1960 arası yazmaya başlamış bazı yazarların eserleriyle edebiyatta yeni bir atılım ortaya çıktı. Bireysel duyarlılıkların işlendiği bu eserlerde biçim kaygısı ağır basıyordu.

Aşağıdakilerden hangisi bu parçada bahsedilen yazarlar arasında değildir?

- A) Ferit Edgü
- B) Demir Özlü
- C) Peyami Safa
- D) Yusuf Atılgan

12. Çok partili döneme geçişi izleyen yıllarda ve 1950'lerde yazarlar, daha çok köy gerçeklerine yöneldiler. Mahmut Makal'ın köy notlarını topladığı eseri ..... , Köy Enstitülü yazarları benzeri örnekler üretmeye yöneltti.

Bu parçada boş bırakılan yere aşağıdakilerden hangisi getirilmelidir?

- A) Anadolu'da
- B) Bizim Köy
- C) Yeni Hayat
- D) Kalp Ağrısı

13. Gezi yazılarıyla ilgili olarak aşağıdakilerden hangisi yanlıştır?

- A) Okuyucunun ilgisini çekebilecek görünüm ve olaylar yansıtılmalıdır.
- B) Anlatımda hikâye planına uygunluk gözetilir.
- C) Gezilen yerler yüzeysel değil özüne inilerek anlatılmalıdır.
- D) Gezi yazılarında anlatılanlar hayal ürünüdür.

14. Anılarını kaleme alanlar kendi hayat hikâyelerini de ayrıntılı bir biçimde incelerler. Bu yüzden anı türü öz yaşam öyküsü (otobiyografi) ile zaman zaman örtüşür.

Anıyla öz yaşam öyküsünü birbirinden ayıran yön, aşağıdakilerden hangisidir?

- A) Değişik anlatım biçimlerinin kullanılması
- B) Birinci kişi ifadesiyle anlatım
- C) Dönemi, çevreyi, yaşananları öne çıkarma
- D) Geçmişle ilgili olma

15. Eserlerinde Anadolu kasaba ve şehirlerini fon olarak alan, insanları sorunlarıyla işleyen ve Çalkuşu romanıyla yaygın bir ün kazanan yazar, aşağıdakilerden hangisidir?

- A) Reşat Nuri Güntekin
- B) Halide Edip Adıvar
- C) Sait Faik Abasıyanık
- D) Faruk Nafiz Çamlıbel

16. Zamanla nasıl değişiyor insan! Hangi resmime baksam ben değilim  
Nerde o günler, o şevk, o heyecan?

Bu güler yüzlü adam ben değilim  
Yalandır kaygısız olduğum yalan.  
dizeleriyle, karamsar ve yitik bir kuşağın temsilcisi olan Otuz Beş Yaş Şiiri'nin şairi aşağıdakilerden hangisidir?

- A) Ahmet Muhip Dıranas
- B) Cahit Sıtkı Tarancı
- C) Necip Fazıl Kısakürek
- D) Ahmet Hamdi Tanpınar

17. Uzak köylerde kuşlar gibi  
Her sabah çocuklar size uçar.  
Ama küçük, ama büyüyen, ama güleç...  
Alın benim gönlümden de o kadar.

“Köy Öğretmenleri” başlıklı bu şiirinde de görüldüğü üzere 1940 - 1950 yılları arasında çok derinden duyduğu Anadolu'yu; aşk, hasret ve üzüntülerini anlatan lirik şiirler yazan şair, aşağıdakilerden hangisidir?

- A) Cahit Külebi
- B) Oktay Rifat
- C) Behçet Necatigil
- D) Orhan Veli Kanık

18. 1930'lara kadar egemenliğini sürdüren “Anadolucu” ya da “memleketçi” şiire ilk tepki, çıkardıkları ortak kitabın adından ötürü edebiyat tarihine ..... adıyla geçen topluluktan geldi. Ziya Osman Saba, Sabri Esat Siyavuşgil bu topluluğun şairlerindedir.

Bu parçada boş bırakılan yere aşağıdakilerden hangisi getirilmelidir?

- A) Garipçiler
- B) İkinci Yeni
- C) Beş Hececiler
- D) Yedi Meşaleciler

19. Cumhuriyet Dönemi'nin de büyük hikâyeci ve romancılarından biridir. Eserlerinde Tanzimat'tan Cumhuriyet'e Türk toplumunun geçirdiği tarihsel aşamaları konu edindi. Ankara, Kıralık Konak, Yaban eserlerinden birkaçıdır.

Bu parçada bahsedilen yazar, aşağıdakilerden hangisidir?

- A) Mehmet Rauf
- B) Reşat Nuri Güntekin
- C) Halide Edip Adıvar
- D) Yakup Kadri Karaosmanoğlu

## 1. OTURUM

20. Aşağıdaki olay - tarih eşleştirmelerinden hangisi yanlıştır?
- A) Türk Tarihi Tetkik Cemiyetinin kurulması - 1931  
B) Türk Dili Tetkik Cemiyetinin kurulması - 1932  
C) Köy Enstitülerinin kurulması - 1939  
D) Tercüme Bürosunun kurulması - 1941

(628) SEÇ. TÜRK EDEB. – 8

1. Aşağıdakilerden hangisi halk şiirinde insan, doğa vb. güzelliklerini dile getirmek, övmek amacıyla söylenmiş şiirlere verilen addır?

A) Nasihat B) Taşlama  
C) Güzelleme D) Koçaklama

2. Tutunamayanlar adlı eseriyle postmodern romanın yolunu açan yazarımız aşağıdakilerden hangisidir?

A) Oğuz Atay  
B) Bilge Karasu  
C) Lâlife Tekin  
D) İnci Aral

### 3. HİKÂYE

Benim doğduğum köylerde  
Buğday tarlaları yoktu  
Dağıt saçlarını bebek  
Savur biraz...

1940 sonrası Türk şiirinde halk şiirinden yola çıkarak ve gününün akımlarına bağlanmadan kendi şiirini geliştiren, "Hikâye" adlı şiirin de şairi olan isim aşağıdakilerden hangisidir?

A) Behçet Necatigil  
B) Hilmi Yavuz  
C) Cahit Külebi  
D) Ahmet Oktay

### 4. KAR

Kardır yağın üstümüze geceden  
Yağmurla karanlık bir düşünceden,  
Ormanın uğultusuyla birlikte  
Ve dört nala dümdüz bir mavilikte  
Kar yağıyor üstümüze inceden.

Bu şiir, Anadolu şiiri dışında günün sorunlarına değil, insan duygularının sonsuzluğuna yönelen şairlerin en önemlilerinden birine aittir. "Olvido", "Fahriye Abla" gibi şiirleriyle de tanınmış bu şair, aşağıdakilerden hangisidir?

A) Behçet Kemal Çağlar  
B) Ahmet Muhip Dıranas  
C) Halide Nusret Zorlutuna  
D) Orhan Veli Kanık

5. Aladır gözlerin siyahtır kaşın  
Aradım cihanı bulunmaz eşin  
Yaylanın karından beyazdır düşün  
Uzanıp üstüne ölesim geldi.  
(Karacaoğlan)

Bu dördünlüğün ölçüsü ve durakları aşağıdakilerden hangisidir?

A) 6+5=11 B) 5+6=11  
C) 4+7=11 D) 7+4=11

6. Aşağıdakilerden hangisi nazımda dizelerin uyduğu kalıba verilen isimdir?

A) Vurgu B) Ahenk  
C) Tonlama D) Ölçü

7. • Bu dönem şiirinin ritminde, ahenginde bilinen şiirden farklılaşma gözlemlenir.  
• Şiir dili ve söyleyişinde aşırılıklardan kaçınılarak uzak çağrışımlara yer verildi.  
• Geleneksel söyleyişten yararlanılmaya çalışıldı.  
• Bu dönem şairleri kendilerini toplumun sesi, sözcüsü olarak gördüler.

Bu parçada anlatılan dönem aşağıdakilerden hangisidir?

A) Millî Edebiyatçılar  
B) Toplumcu şiir  
C) Beş Hececiler  
D) Yedi Meşaleciler

8. İlim ilim bilmektir  
İlim kendin bilmektir  
Sen kendini bilmezsin  
Ya nice okumaktır

Bu halk şiirinin konusuna göre türü, aşağıdakilerden hangisidir?

A) Öğüt B) Ağıt  
C) Güzelleme D) Taşlama

9. Yalnızca şiirin öne çıkarıldığı, aslolan üründür anlayışının egemen olduğu bir dönemdir. Bu dönemde şiirle yeniden yüzleşilir. İnsani duyarlılık ve evrensel deneyimler, şiirin gözde öğeleri olur. Haydar Ergülen, Şavkar Altınel, Lâle Müldür, Sunay Akın bu dönemin önde gelen isimlerindedir.

Bu parçada anlatılan dönem, aşağıdakilerden hangisidir?

A) Yedi Meşaleciler  
B) İkinci Yeni Dönemi  
C) Toplumcu şiir  
D) 1980 sonrası şiiri

10. .... , Garipçiler'in tersine birbirinden çok farklı olan şairlerin tek tek arayış ve sezgileriyle dağınık uçlar vermiş bir şiir akımıdır. İlhan Berk, Cemal Süreya, Turgut Uyar bu akımın şairlerindedir.

Bu parçadaki boş bırakılan yere, aşağıdakilerden hangisi gelmelidir?

A) Toplumcular  
B) Genç Kalemler  
C) İkinci Yeni  
D) Beş Hececiler

11. Aşağıdakilerden hangisi Yakup Kadri Karaosmanoğlu'nun romanlarından biri değildir?

A) Çalıkuşu  
B) Hüküm Gecesi  
C) Sodom ve Gomore  
D) Kıralk Konak

## 1. OTURUM

12. Kimi insan otların  
Kimi insan balıkların çeşidini bilir  
Ben ayrılıkları...  
Kimi insan ezbere sayar yıldızların  
adını  
Ben hasretlerin...

dizeleriyle Türk şiirine edebî gelenekten kopuşu getirdi. Kuvayi Milliye Destanı, Memleketimden İnsan Manzaraları gibi eserlerinde hayata, topluma daha geniş ve gerçekçi bir açıdan bakar.

Bu parçada bahsedilen şair, aşağıdakilerden hangisidir?

- A) İlhan Berk  
B) Nazım Hikmet  
C) Attilâ İlhan  
D) Sezai Karakoç

13. Hikâyelerinde net bir şekilde giriş, gelişme ve sonuç bölümlerinin bulunmadığı, şiirsel bir anlatımın ağır bastığı bir tarzı sürdürmüştür. Hikâyelerindeki kahramanların çoğu kendisidir. Bir İlbahar Hikâyesi, Mahalle Kahvesi, Havada Bulut, Semaver en tanınmış hikâyelerindendir. Bu parçada tanıtılan Cumhuriyet Dönemi hikâyecimiz aşağıdaki-lerden hangisidir?

- A) Memduh Şevket Esendal  
B) Reşat Nuri Güntekin  
C) Refik Halit Karay  
D) Sait Faik Abasıyanık

14. Türk romanında modern anlatım teknikleri, bireyin iç dünyasına yönelik konuları ile dikkat çeken romancılardan biridir. "Aylak Adam" ve "Anayurt Otel" adlı romanlarında, okuru, bilinçaltının gizemli ve karışık dünyasında dolaştırır.

Bu parçada bahsedilen yazar, aşağıdakilerden hangisidir?

- A) Tezer Özlü  
B) Yusuf Atılgan  
C) Necip Fazıl Kısakürek  
D) Fakir Baykurt

15. Aşağıdakilerden hangisi Orhan Pamuk'a ait bir eser değildir?

- A) Yeni Hayat  
B) Kara Kitap  
C) Tutunamayanlar  
D) Cevdet Bey ve Oğulları

### 16. SEYFİ BABA

Geçen akşam eve geldim. Dediler:  
– Seyfi Baba, hastalanmış, yatı-  
yormuş,  
– Nesi varmış acaba?

Bu parça, konuşma dilinin şiire girmesiyle, şiirimizde serbest nazıma geçişin örneğidir. Bu şiirin şairi aşağıdakilerden hangisidir?

- A) Yahya Kemal Beyatlı  
B) Mehmet Âkif Ersoy  
C) Ahmet Muhip Dranas  
D) Ziya Osman Saba

17. Aşağıdakilerden hangisi Cumhuriyet'in ilk yıllarında yetişen halk şairlerinden değildir?

- A) Şeref Taşlıova  
B) Ali İzzet Özkan  
C) Konyalı Âşık Mehmet Hüznî  
D) Âşık Talibî Coşkun

18. Halk şiirimizin güçlü bir şairdir. Kendini yedi yaşından itibaren saza, söze, şiire, türküye vererek dış dünyasının karanlığını gönül dünyası ile aydınlatmıştır. Şiirleri "Dostlar Beni Hatırlasın" adlı eserde yayımlanmıştır.

Bu parçada bahsedilen şair aşağıdakilerden hangisidir?

- A) Yunus Emre  
B) Karacaoğlan  
C) Âşık Veysel  
D) Pir Sultan Abdal

19. Şiiri "musikiden başka türlü bir musiki" olarak kabul etti. Klasik şiir zevkiyle uyduğu için şiirlerinin çoğunu aruz ölçüsüyle yazmıştır. "Sana dün bir tepeden baktım aziz İstanbul!" dizesinin de sahibi olan bu şairimiz aşağıdakilerden hangisidir?

- A) Yahya Kemal Beyatlı  
B) Mehmet Âkif Ersoy  
C) Muallim Naci  
D) Tevfik Fikret

20. Gün olur, alır başımı giderim  
Denizden yeni çıkmış ağların  
Kokusunda  
Şu anda senin, bu ada benim,  
Yelkovan kuşlarının peşi sıra.  
(Orhan Veli)  
Bu dizeler Orhan Veli'nin şiirine özgü aşağıdaki niteliklerden hangisine örnek gösterilebilir?

- A) Edebî sanatlara yer vermemesine  
B) Nükteli bir söyleyişi yeğlemesine  
C) Toplumsal sorunlara değinmesine  
D) Ölçü ve uyağa önem vermemesine

### (711) İSLAM TARİHİ – 1

1. İbn İshak'ın "Kitabü'l - Meğazi" isimli eserini kısaltarak "Siretü'n - Nebeviyye" adı altında yeniden kaleme alan İslam tarihçisi, aşağıdakilerden hangisidir?

- A) İbn Sa'd B) İbn Hişam  
B) İbn Kesir D) İbn Hacer

2. Hz. Muhammed'in peygamberliğinin "Mekke Devri" olarak bilinen dönemi, aşağıdaki olayların hangisiyle başlamıştır?

- A) Hicretle  
B) Hakem Olayı'yla  
C) Mekke'nin Fethi'yle  
D) İlk vahyin gelmesiyle



## 1. OTURUM

3. Aşağıdakilerden hangisi, On İki Hayvanlı Türk Takvimi'ndeki yılları simgeleyen hayvanlardan biri değildir?

- A) Fil B) Tavuk  
C) Koyun D) Yılan

4. İslam tarihinde hicretin dokuzuncu yılına verilen isim, aşağıdakilerden hangisidir?

- A) Hüzün Yılı B) Birlik Yılı  
C) Hicret Yılı D) Heyetler Yılı

5. Hz. Muhammed'e ilk vahiy, aşağıdaki şehirlerin hangisinde gelmiştir?

- A) Taif B) Tebük  
C) Mekke D) Medine

6. İslam tarihinin önemli savaşlarından Mute Savaşı'nın yapıldığı yere yakın olan Lut Gölü, günümüzde hangi iki ülkenin arasında bulunmaktadır?

- A) Irak ile İran  
B) Ürdün ile İsrail  
C) Libya ile Tunus  
D) Türkiye ile İran

7. Bedir Savaşı'nda esir alınan Mekkeli Müşriklerden okuryazar olanlar, Müslümanlara okuma yazma öğretileri karşılığında serbest bırakılmıştır.

Verilen bu durum, aşağıdakilerden hangisi için bir kanıt olabilir?

- A) Arapçanın bilim dili olduğuna  
B) Müslümanların okuma yazmaya önem verdiğine  
C) Bedir Savaşı'nın Müslümanların kazandığı ilk savaş olduğuna  
D) Bedir Savaşı'nın Hz. Muhammed Dönemi'nde meydana geldiğine

8. • Asıl adı Abdullah'tır.  
• Kureyş kabilesinin Teym kolundandır.  
• Fil Yılı'ndan iki veya üç yıl sonra Mekke'de doğmuştur.  
• Peygamberimizin eşi Hz. Aişe'nin babasıdır.

Hakkında bilgi verilen sahabe, aşağıdakilerden hangisidir?

- A) Hz. Ömer  
B) Ebu Ubeyde  
C) Hz. Ebu Bekir  
D) Zeyd bin Harise

9. "Mukavkis kimdir?" sorusunun cevabı, aşağıdakilerden hangisidir?

- A) Hz. Muhammed'in çağdaşı olan Kıpti lideridir.  
B) Mekke'nin ileri gelen kabile başkanıdır.  
C) Hz. Hamza'yı şehit eden köledir.  
D) Son Emevi halifesidir.

10. Kâbe putlarından, aşağıdaki hangi olay sonrasında arınmıştır?

- A) Mekke'nin fethiyle  
B) Hendek Savaşı'nın kazanılmasıyla  
C) Medine Şehir Devleti'nin kurulmasıyla  
D) Hudeybiye Barış Antlaşması'nın yapılmasıyla

11. Aşağıdakilerden hangisi, Hz. Osman'a halifeliği döneminde oluşturulan muhalefetin sebeplerinden biri değildir?

- A) Akrabalarına bağışlarda bulunması  
B) Uygulamalarını eleştiren sahabelere karşı sert tutumu  
C) Valiliklere genellikle yakın akrabalarını tayin etmesi  
D) Çoğaltılan Kur'an nüshalarını vilayetlere göndermesi

12. Medine Şehir Devleti'nin başkenti, aşağıdaki hangi halife döneminde Medine'den Kûfe'ye alınmıştır?

- A) Hz. Ali B) Hz. Ömer  
C) Hz. Osman D) Muaviye

13. Emeviler Dönemi'ni Dört Halife Dönemi'nden ayıran en önemli özellik, aşağıdakilerden hangisidir?

- A) Geniş fetih hareketlerinin görülmesi  
B) İslam dünyasında ilk ayrılıkların başlaması  
C) Halifeliğin babadan oğula geçen bir saltanat hâline dönüşürülmesi  
D) İlk İslam donanmasının kurularak denizlerde fetihlere başlanması

14. Aşağıdakilerden hangisi Emeviler Dönemi'yle ilişkilendirilemez?

- A) Avasım şehirlerinin kurulması  
B) Puvatya Savaşı'nın kaybedilmesi  
C) Arapçanın resmî dil olarak kabul edilmesi  
D) İstanbul'un Müslüman Araplarca kuşatılması

15. Emeviler, Anadolu'nun Kayseri, Malatya ve Maraş gibi şehirlerini, aşağıdaki hangi halifeleri döneminde ele geçirmişlerdir?

- A) İbrahim bin Velit  
B) Ömer bin Abdülaziz  
C) Abdülmelik bin Mervan  
D) Hişam bin Abdülmelik

16. İspanya Krallığı, hangi yıl çıkardığı bir kanunla ülkedeki bütün Müslümanların Hristiyanlığı kabul ettiklerini açıklamıştır?

- A) 1497 B) 1526  
C) 1570 D) 1609

17. "....., Hz. Ali ile Muaviye arasında geçen Siffin Savaşı sonrasında ortaya çıkmış şiddet yanlısı ve aşırı fikirli bir akımdır."

Verilen açıklama, aşağıdaki kavramlardan hangisini tanımlamaktadır?

- A) Dürzilik B) Eş'ârilik  
C) Haricilik D) Zındıklık

## 1. OTURUM

(811) KELAM – 1

18. Abbasiler, öşür vergisini Müslümanlardan, haraç ve cizye vergilerini de gayrimüslimlerden almışlardır.

Bu bilgiden, Abbasilerin adı geçen vergileri kimlerden ve nasıl alacaklarını belirlerken hangi ölçüyü dikkate aldıkları çıkarılabilir?

- A) Halkın dinî inanışlarını
- B) Ulusların etnik yapılarını
- C) Fethedilen devletin ekonomik durumunu
- D) Fethedilen ülkenin Hicaz Bölgesi'ne uzaklığını

19. Kalaycılık yaptığından dolayı "Saffar" ismini alan ve Saffariler Devleti'nin de kurucusu olan devlet adamı, aşağıdakilerden hangisidir?

- A) Yakup bin Leys
- B) İsmail bin Ahmet
- C) Abdullah bin Tahir
- D) Muhammed bin Tuğç

20. Dört yüz bin yazma eserin bulunduğu bir kütüphaneye sahip olan ünlü Endülüs şehri, aşağıdakilerden hangisidir?

- A) Rabat
- B) Gırnata
- C) Mersiye
- D) Kurtuba

1. Aşağıdakilerden hangisi kelam ilmine verilen isimlerden biri değildir?

- A) İlim İstidlal
- B) Et - Tevhid
- C) Usulü'd - Din
- D) Ahkamü'l - Kur'an

2. Aşağıdakilerden hangisi kelam ilminin doğuş nedenleri arasında sayılamaz?

- A) İslam dünyasının felsefeyle tanışması
- B) Bireysel ve toplumsal hayat için yeni kurallara ihtiyaç duyulması
- C) Müslümanlar arasında ortaya çıkan iç savaşlar
- D) Peygamberimizin vefatından sonra meydana gelen hilafet tartışmaları

3. Aşağıdakilerden hangisi İmam-ı Azam Ebu Hanife'ye aittir?

- A) Er-Risale
- B) Kitabü't-Tevhit
- C) El-Fıkhü'l-Ekber
- D) Makalatu'l-İslamiyyin

4. Kelamcılar varlıkları sınıflandırırken Allah'ın varlığını aşağıdaki kavramlardan hangisinin kapsamında ele almışlardır?

- A) Vâcip
- B) Hâdis
- C) Mümkün
- D) Mümteni

5. Bilgi-inanç ilişkisi hakkında aşağıdakilerden hangisi yanlıştır?

- A) Bilgi insanı taklidi imandan kurtararak tahkiki imana ulaştırır.
- B) Bilgi insanı batıl inanç ve hurafelerden uzaklaştırır.
- C) Bilgi sürekli değiştiği için inanç konusunda bir ölçü değildir.
- D) Bilgi kişiye neye, niçin ve neden inandığını sorgulama imkanı verir.

6. Allah'ın insanlara verdiği akıl ve düşünce kabiliyeti birbirinden farklıdır. Bunun yanında insanların huyları, ilgileri, ihtiyaçları ve beklentileri de farklıdır. Mesela aynı kitabı okuyanlar değişik yorumlar yaparak farklı sonuçlara ulaşabilirler. Bu farklılık dini anlama ve yorumlamada da kendini gösterir.

Bu paragrafta İslam düşüncesinde yorum farklılıklarının nedenlerinden hangisi anlatılmaktadır?

- A) Dini metinler
- B) İnsanın yapısı
- C) Siyasi hadiseler
- D) Ortam ve kültür

7. Aşağıdakilerden hangisi itikadi bir mezhep değildir?

- A) Caferilik
- B) Haricilik
- C) Şiilik
- D) Eş'arilik

8. "Allah'tan başka hüküm verecek yoktur; hüküm ancak Allah'a aittir." ifadesi aşağıdaki mezheplerden hangisinin itikadi görüşlerinin temelini oluşturur?

- A) Maturidilik
- B) Şiilik
- C) Mutezile
- D) Haricilik

9. "İmanda istisna" ifadesi aşağıdakilerden hangisinde doğru açıklanmıştır?

- A) İmanda eşitlik
- B) Şartlı ve şüpheli iman
- C) İmanda artma ve eksilme
- D) İmanın kuvvetli veya zayıf olması

10. Aşağıdakilerden hangisi Ehl-i Beyt (Pençe-i Al-i Aba) arasında sayılmaz?

- A) Hz. Zeyd
- B) Hz. Ali
- C) Hz. Hüseyin
- D) Hz. Fatma

11. Aşağıdakilerden hangisi Alevilik-Bektaşilik ile ilgili değildir?

- A) Musahiplik
- B) Tevella - Teberra
- C) el-Va'd ve'l-Vaid
- D) Dört Kap Kırk Makam

## 1. OTURUM

12. Büyük günah işleyen Müslümanın durumuyla ilgili aşağıda verilen mezhep görüşlerinden hangisi **yanlıştır**?

- A) Eş'ari; kafir olur.
- B) Maturidi; mümindir.
- C) Mutezile; ne mümindir ne de kafirdir.
- D) Mürcie; mümin ya da kafir olduğu bilinemez.

13. **“İnananlarla yanyana gelince; ‘sizinle beraberiz’ derler, fakat şeytanlarıyla başbaşa kalınca; Biz sizinle beraberiz, biz onlarla alay ediyoruz, derler.”**  
(Bakara suresi, 14. ayet)

Bu ayette hangi inanç grubundan bahsedilmektedir?

- A) Kafir
- B) Münafık
- C) Müşrik
- D) Mümin

14. Evrende yaratılan her şeyin bir düzen ve ahenk içinde yaratılış gayesine uygun olarak görevini yerine getirmesi, Allah'ın varlığının ve birliğinin delillerinden **daha çok** hangisiyle ilişkilidir?

- A) İmkan
- B) Kemal
- C) Temanu'
- D) Gaye ve Nizam

15. “Allah'ın zat ve sıfat olarak sonradan yaratılan hiç bir şeye benzememesi” anlamına gelen sıfatı aşağıdakilerden hangisidir?

- A) Kıdem
- B) Vahdaniyet
- C) Kıyam binefsihi
- D) Muhalefetü'n li'l-havadis

16. Allah'ın tekvin sıfatının anlamı aşağıdakilerden hangisinde **doğru** verilmiştir?

- A) Her şeyi bilmesidir.
- B) Sonsuz güç sahibi olmasıdır.
- C) Yok olan bir şeyi yokluktan varlığa çıkarmasıdır.
- D) Bir şeyin olmasını ya da olmasını dilemesidir.

17. Allah'ın isimlerini İslam alimleri dört kısımda ele alır. Bütün güzel vasıfları ve ilahi sıfatları içine alan “Allah” ismi bu dört kısımdan hangisinde yer alır?

- A) Celali ve Cemali isimler
- B) Zat-ı İlahiyeye delalet eden isimler
- C) Evsaf-ı Sübhaniyeyi anlatan isimler
- D) Ef'al-i ilahiyeyi gösteren isimler

18. **“Melekler ve Ruh (Cebrail) O'na süresi elli bin yıl olan bir günde yükselir.”**  
(Mearic suresi, 4. ayet)

Bu ayet meleklerin özelliklerinden hangisine delil oluşturur?

- A) Çok hızlı hareket ettiklerine
- B) Güçlü varlıklar olduklarına
- C) Nurdan yaratıldıklarına
- D) İradelerinin olmadığına

19. **“Yaptıklarınızı bilen ve sizi gözetleyen değerli yazıcılar vardır.”**  
(İnfitar suresi, 10-12. ayetler)

Bu ayetler aşağıdakilerden hangisine işaret etmektedir?

- A) Kiramen Katibin
- B) Münker Nekir
- C) Hafaza Melekleri
- D) Hamele-i Arş Melekleri

20. Hz. Muhammed ile Cebrail arasında geçen ve Cibril hadisi olarak da bilinen diyalogda aşağıdaki kavramlardan hangisine **değinilmemiştir**?

- A) İman
- B) İslam
- C) İhsan
- D) Ahlak

### (931) SİYER – 1

1. Hz. Muhammed'in hayatı ile ilgili bilgiler aşağıdaki ilim dallarının hangisinde diğerlerine göre **daha azdır**?

- A) Kelam
- B) Siyer
- C) Hadis
- D) Tefsir

2. “Asabiyet” durumu için aşağıdakilerden hangisi **söylenemez**?

- A) Kabile sisteminin esasıdır.
- B) Baba tarafından akrabaları ifade eder.
- C) Kabile içi dayanışmayı sağlayan ruhtur.
- D) Örf ve adetlere bağlılığı azaltmıştır.

3. İslam öncesi Mekke şehir meclisinin toplandığı mekan aşağıdakilerden hangisidir?

- A) Kâbe
- B) Daru'l Erkam
- C) Dârünnedve
- D) Makam-ı İbrahim

4. Aşağıdakilerden hangisi İslam öncesi Arap toplumu hakkında **doğru** bir bilgidir?

- A) Kadın ve erkekler eşit haklara sahipti.
- B) Evlatlıklar, evlat edinenin vârisi olurdu.
- C) Azat edilen köle hürler gibi muamele görürdü.
- D) Okuma-yazma oranı oldukça yüksekti.

5. Aşağıdakilerden hangisi Medine'de yaşayan iki Arap kabilesidir?

- A) Evs - Hazreç
- B) Ensar - Muhacir
- C) Benu Nadir - Benu Kaynuka
- D) Benu Kureyza - Benu Nadir

## 1. OTURUM

6. Aşağıdakilerden hangisi Hz. Muhammed'in amcalarından biri değildir?

- A) Ebu Talip B) Hamza  
C) Haşim D) Abbas

7. Arabistan'nın Güneyinde Necran bölgesinde az sayıda , kuzeyinde Gassaniler ve Hireliler arasında yaygın olarak yaşayan dini grup aşağıdakilerden hangisidir?

- A) Putperestler  
B) Hristiyanlar  
C) Yahudiler  
D) Mecusiler

8. Aşağıdakilerden hangisi Haniflerin özelliklerinden değildir?

- A) Cahiliyye inanç ve adetlerini benimsemişlerdir.  
B) Putlara tapmayı kabul etmişlerdir.  
C) Hz. İbrahim'in tebliğ ettiği inancı yaşatmaya çalışmışlardır.  
D) Topluca bir birlik oluşturamamışlardır.

9. Aşağıdakilerden hangisinin Hz. Muhammed'in büyütülmesinde hizmeti bulunmamıştır?

- A) Fatıma binti Esed  
B) Ümmü Eymen  
C) Hz. Halime  
D) Hz. Mariye

10. Hz. Muhammed'in peygamberliğine karşı müşriklerin gösterdiği tepkiler içinde aşağıdakilerden hangisi yoktur?

- A) Alaya alma  
B) İftira atma  
C) Hoşgörülü olma  
D) İlişkileri kesme

11. Hz. Muhammed'e ilk vahiy geldiğinde Hz. Hatice onu amcasının oğlu Varaka b. Nevfele götürdü. Varaka, Hz. Muhammed'i dinledikten sonra ona; "Sen bu ümmetin peygamberi olacaksın. Kavmin sana eziyet edecek ve seni yurdundan çıkaracak. Şayet o günlere yetişirsem, Allah için sana yardım ederim."

Varaka'nın bu şekilde cevap vermesi onun hangi özelliğinden kaynaklanmaktadır?

- A) İlahi dinleri tanıyan, bilge bir kişi olmasından  
B) Yardımsever ve hoşgörülü bir kişi olmasından  
C) Geleceği bilen kâhin bir kişi olmasından  
D) Peygamberlik beklentisi içinde olmasından

12. Aşağıdakilerden hangisinin ticari hayatta Hz. Muhammed ile beraberliği yoktur?

- A) Zübeyr  
B) Ebu Talip  
C) Hz. Hatice  
D) Abdulmuttalip

13. Hz. Muhammed Taif dönüşünde aşağıdakilerden hangisinin himayesinde Mekke'ye girmiştir?

- A) Ebu Talip  
B) Mutim b. Adiy  
C) Zeyd b. Harise  
D) Esad b. Zürare

14. "Ve dediler ki: Bu Kur'an iki şehirden bir büyük adama indirilseydi olmaz mıydı?"  
(Zuhruf suresi, 31. ayet)

Yukarıdaki ayette ifade edildiği gibi Hz. Muhammed'e peygamberlik verilmesine şaşıranlar onun hangi vasfını yetersiz görmekteydiler?

- A) Yaşını  
B) Kabilesini  
C) Maddi imkanını  
D) Ahlaki özelliğini

15. Habeşistan'a ilk hicret edenler arasında aşağıdakilerden hangisi yer almaz?

- A) Cafer b. Ebi Talip  
B) Zübeyr b. Avvam  
C) Rukiye binti Muhammed  
D) Osman b. Affan

16. Aşağıdaki olaylardan hangisi diğerlerinden önce gerçekleşmiştir?

- A) Hz. Muhammed'in Taif yolculuğu  
B) Akabe görüşmelerinin başlaması  
C) Müslümanlara uygulanan boykotun sona ermesi  
D) Hz. Ömer ve Hz. Hamza'nın müslüman olması

17. Aşağıdakilerden hangisi Birinci Akabe Biatında söz verilen konulardan değildir?

- A) Çocukları öldürmeme  
B) İçki içmeme  
C) Zina etmeme  
D) İftira atmama

18. Hz. Muhammed'in gençliğinde üyesi olduğu Hılfu'l Fudul'la ilgili peygamberlik döneminde "Bugün de böyle bir teklif alsam yine katılırım." diyerek desteğini sürdüreceğini belirtmesinin asıl sebebi aşağıdakilerden hangisidir?

- A) Haksızlıklara karşı durmak  
B) Mekke'de iyi bir konum elde etmek  
C) Mekke ticaretinin devamını sağlamak  
D) Mekke'nin güvenliğini devam ettirmek

19. Hz. Muhammed'in hicreti esnasında aşağıdakilerden hangisinin ona katkısı olmamıştır?

- A) Amir  
B) Ebu Bekir  
C) Musab b. Umeyr  
D) Abdullah b. Ebi Bekir

## 1. OTURUM

20. Hz. Muhammed'in hicreti öncesi toplanan Mekke'liler onun sürgün edilmesi, hapsedilmesi ve öldürülmesini tartıştılar. Sonunda öldürülmesinde görüş birliğine vardılar.

Bu kararı almalarındaki asıl düşünce aşağıdakilerden hangisidir?

- A) Sürgün edecek bir yer bulamaları
- B) İslamı tamamen ortadan kaldırmak istemeleri
- C) Müslümanlarla savaşı göze alamamaları
- D) Hapsedilmesi konusunda görüş ayrılığına düşmeleri

### (974) GİRİŞİMCİLİK – 1

1. Daha önceden üretilip, üretimde kullanılabilen ve tüm değerleri kapsayan üretim faktörü aşağıdakilerden hangisidir?

- A) Sermaye
- B) Emek
- C) Tabiat
- D) Müteşebbis

2. Aşağıda verilen etmenlerden hangisi bir işletmenin dış çevresinde yer alır?

- A) Üretim
- B) Personel
- C) İş gücü
- D) Finans

3. Bir tekstil fabrikasının pa-  
muğun çok yetiştiği yerlerde kurulması, müteşebbisliğin bir ekonomik kaynak olduğunu gösteren aşağıdaki işlevlerden hangisine örnektir?

- A) İstihdam yaratır.
- B) Yer ve zaman faydası sağlar.
- C) Ürün kalitesini artırmaya çalışır.
- D) Üretimi organize eder ve yürütür.

4. Girişimcilerin işletme kurma sürecinde, aşağıdakilerden hangisi sürecin başlangıç aşamasında yapılması gereklidir?

- A) Fizibilite
- B) Ön Proje
- C) Deneme Üretimi
- D) Yatırım kararı verme

5. Bir işletmenin kuruluş sürecinde, projenin niteliğine göre kuruluş ve konum yeri durumu, fabrika binası, üretim teçhizatı, güvenlik araştırması, doğal afet ve çevre kirliliği gibi konularda yapılan araştırma türü aşağıdakilerden hangisidir?

- A) Ekonomik araştırma
- B) Yasal araştırma
- C) Mali araştırma
- D) Teknik araştırma

6. Aşağıdakilerden hangisi planlamada uyulacak kural olarak görülmez?

- A) Uygun bir süreyi kapsmalıdır.
- B) Kesin uygulanabilir olmalıdır.
- C) Basit ve anlaşılır olmalıdır.
- D) Dengeli olmalıdır.

7. Maslow'un ihtiyaçlar hiyerarşisine göre bir insanın "sevgi ve ait olma" ihtiyaçlarından sonra ortaya çıkacak ihtiyaçları aşağıdakilerden hangisidir?

- A) Saygı
- B) Güvenlik
- C) Başarma
- D) Fizyolojik

8. Üretim yönetimi dönüşüm sürecinde, aşağıdakilerden hangisi girdi olarak kabul edilmez?

- A) Emek
- B) Sermaye
- C) Hizmetler
- D) Girişimci

9. Aşağıdakilerden hangisi, bir ürünün yaşam eğrisi dönemine ait değildir?

- A) Gerileme
- B) Tanıma süreci
- C) Üretim süreci
- D) Doğunluk dönemi

10. "Kalem, kağıt, çivi, yağ" gibi üretim mallarının sınıflandırılması aşağıdakilerden hangisidir?

- A) Yardımcı araçlar
- B) İşletme gereçleri
- C) Yatırım donatım malları
- D) Üretim gereçleri ve parçaları

11. Aşağıdakilerden hangisi talebin özelliklerinden biri değildir?

- A) Satın alma gücü
- B) Piyasanın olması
- C) Satın alma isteğinin var olması
- D) Geniş bir zaman dönemini kapsaması

12. Talep ile ilgili verilen açıklamalardan hangisi yanlıştır?

- A) İstek her zaman talebe dönüşür.
- B) Kişinin araba alması bir taleptir.
- C) İstek, para ile talebe dönüşebilir.
- D) Alım gücü, talebi belirleyicidir.

13. Verilen açıklamalardan hangisi işletmenin özel amaçlarından birisidir?

- A) Kâr sağlamak
- B) Topluma hizmet etmek
- C) İşletmenin yaşamını devam ettirmek
- D) Tüketicide iyi izlenim bırakmak

14. Aşağıdakilerden hangisi bir işletmenin şirket olma şartlarına uygun değildir?

- A) Ortak bir amaç olmalıdır.
- B) Ortaklar arası bir anlaşma olmalıdır.
- C) Şirket kuranların sayısı en az bir olmalıdır.
- D) Ortak üretim elemanlarına sahip olmalıdır.

15. Aşağıdaki açıklamalardan hangisi, işletme yönetiminde başarılı bir yöneticinin "İleri Görüşlülük" niteliğini göstermektedir?

- A) Kişisel güveni ifade etme
- B) Büyük hedefler koyma
- C) Kişisel desteğini ifade etme
- D) Başarıyı arama, bulma ve kullanma

## 1. OTURUM

### (999) MATEMATİK – 2

16. Aynı konuda çalışan iki işletmenin ortak çıkar doğrultusunda alanlarında tekel oluşturmak için bir araya gelmesi, işletmeler arası antlaşmalar bakımından hangi tür sınıflamadır?

A) Konsorsiyumlar  
B) Tröstler  
C) Karteller  
D) Holdingler

17. Aşağıdakilerden hangisi kamu iktisadi kuruluşlarından birisidir?

A) Türkiye Kömür İşletmeleri  
B) Devlet Malzeme Ofisi  
C) Toprak Mahsulleri Ofisi  
D) Posta ve Telgraf Teşkilatı Genel Müdürlüğü

18. Aşağıdakilerden hangisi bir reklam mesajının, taşınması gerekli özelliklerden biri değildir?

A) Üreticiye bilgi vermeli  
B) İnanandırıcı olmalı  
C) Mesaj açık olmalı  
D) Olumlu bir imaj oluşturmalı

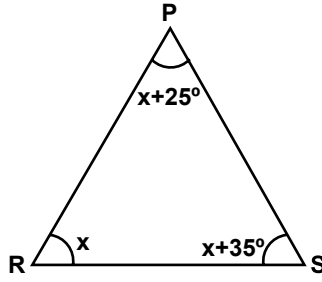
19. “Talebi artırmayı sağlamak yada en azından, olan talebi korumak.” amacı, satış ve reklam politikası kapsamında yapılacak hangi amaçlar sınıflaması içerisinde yer alır?

A) Özel  
B) İkna etme  
C) Anımsatma  
D) Bilgilendirme

20. “İlginin isteğe, isteğin ise talebe dönüşmesi” etkileri, satış sürecinin hangi aşamasında oluşur?

A) Satışa hazırlık  
B) Alıcıları belirleme  
C) Alıcıları yakından tanıma  
D) Satış görüşmesi ve sunuş

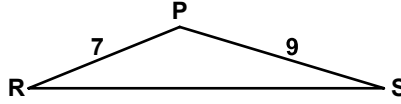
1.



Şekilde  $\widehat{PRS}$ 'nde  $m(\widehat{PRS}) = x$ ,  
 $m(\widehat{RSP}) = x + 35^\circ$  ve  
 $m(\widehat{SPR}) = x + 25^\circ$  olduğuna göre,  $x$  kaç derecedir?

A) 25 B) 35 C) 40 D) 50

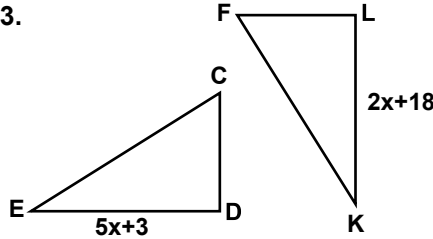
2.



Şekildeki  $\widehat{PRS}$ 'nde  $|PR| = 7$  cm ve  $|PS| = 9$  cm olduğuna göre,  $|RS|$ 'nin santimetre cinsinden alabileceği en büyük tam sayı değeri kaçtır?

A) 14 B) 15 C) 16 D) 17

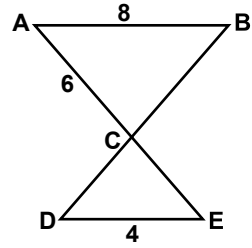
3.



Şekilde  $\widehat{CED} \cong \widehat{FKL}$ 'tir.  
 $|ED| = (5x + 3)$  cm ve  
 $|LK| = (2x + 18)$  cm olduğuna göre,  $x$  kaç santimetredir?

A) 3 B) 5 C) 7 D) 8

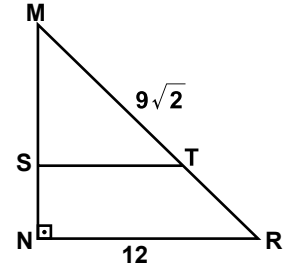
4.



Şekilde  $[AB] \parallel [DE]$  ve  $[AE] \cap [BD] = \{C\}$ 'dir.  
 $|AB| = 8$  cm,  $|DE| = 4$  cm ve  $|AC| = 6$  cm olduğuna göre,  $|CE|$  kaç santimetredir?

A) 6 B) 5 C) 4 D) 3

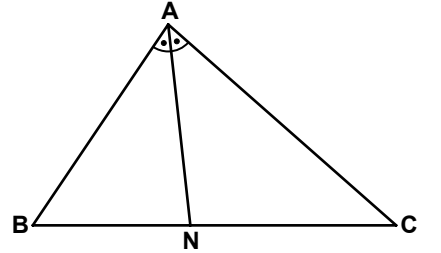
5.



Şekildeki MNR ikizkenar dik üçgeninde  $[MN] \perp [NR]$  ve  $[ST] \parallel [NR]$ 'dir.  $|MT| = 9\sqrt{2}$  cm ve  $|NR| = 12$  cm olduğuna göre,  $|SN|$  kaç santimetredir?

A)  $\sqrt{2}$  B) 2 C) 3 D)  $3\sqrt{2}$

6.

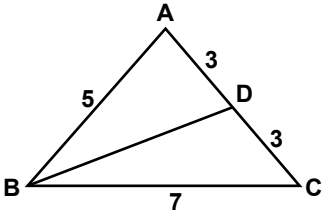


$\widehat{ABC}$ 'nde  $[AN]$ ,  $\widehat{BAC}$ 'nın açıortayıdır.  $|AB| = 4$  cm,  $|AC| = 5$  cm ve  $|BC| = 6$  cm olduğuna göre,  $|NC|$  kaç santimetredir?

A)  $\frac{10}{3}$  B)  $\frac{8}{3}$  C) 3 D) 2

## 1. OTURUM

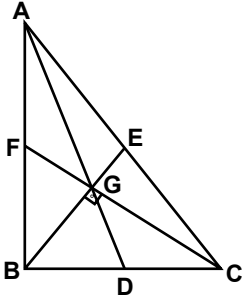
7.



$\widehat{ABC}$ 'nde  $|AB| = 5$  cm,  
 $|BC| = 7$  cm ve  
 $|AD| = |DC| = 3$  cm olduğuna  
göre,  $|BD|$  kaç santimetredir?

- A) 6                      B)  $3\sqrt{7}$   
C)  $2\sqrt{7}$                 D) 4

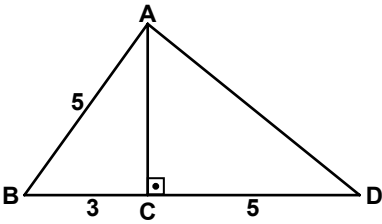
8.



$\widehat{ABC}$ 'nde G noktası  $[AD]$ ,  $[BE]$   
ve  $[CF]$  kenarortaylarının ke-  
sim noktasıdır.  $[BG] \perp [GC]$ ,  
 $|CF| = 12$  cm,  $|BE| = 9$  cm oldu-  
ğuna göre,  $|BC|$  kaç santimet-  
redir?

- A) 10    B) 12    C) 14    D) 15

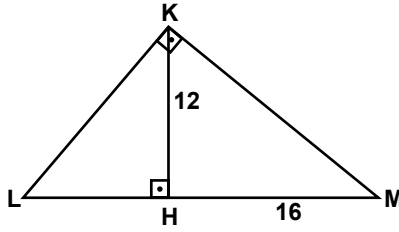
9.



$\widehat{ABD}$ 'nde  $[AC] \perp [BD]$ ,  
 $|AB| = |CD| = 5$  cm ve  
 $|BC| = 3$  cm olduğuna göre,  
 $|AD|$  kaç santimetredir?

- A) 4                      B) 5  
C)  $\sqrt{34}$                 D)  $\sqrt{41}$

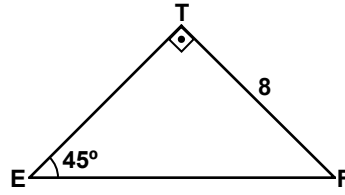
10.



Şekildeki  $\widehat{KLM}$ 'nde  $[KL] \perp [KM]$   
ve  $[KH] \perp [LM]$ 'tir.  $|KH| = 12$  cm  
ve  $|HM| = 16$  cm olduğuna  
göre,  $|LH|$  kaç santimetredir?

- A) 8    B) 9    C) 12    D) 15

11.



Şekildeki  $\widehat{EFT}$ 'nde  $[ET] \perp [TF]$ ,  
 $m(\widehat{TEF}) = 45^\circ$  ve  $|TF| = 8$  cm  
olduğuna göre,  $|EF|$  kaç santi-  
metredir?

- A) 4                      B)  $4\sqrt{2}$   
C) 8                      D)  $8\sqrt{2}$

12.  $\sin 190^\circ$ ,  $\cos 280^\circ$ ,  $\tan 135^\circ$ ,  $\cot 75^\circ$   
trigonometrik değerlerinin işa-  
retleri sırasıyla aşağıdakilerden  
hangisinde verilmiştir?

- A)  $-$ ,  $+$ ,  $+$ ,  $-$     B)  $+$ ,  $-$ ,  $-$ ,  $+$   
C)  $+$ ,  $-$ ,  $+$ ,  $-$     D)  $-$ ,  $+$ ,  $-$ ,  $+$

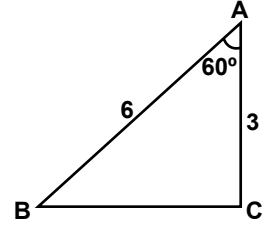
13.  $0 < \theta < \frac{\pi}{2}$  ve  $\tan \theta = \frac{5}{12}$   
olduğuna göre,  $\cos \theta$  değeri  
kaçtır?

- A)  $\frac{12}{13}$     B)  $\frac{5}{13}$     C)  $\frac{13}{12}$     D)  $\frac{13}{5}$

14. Kenar uzunlukları 5 cm, 7 cm  
ve 8 cm olan üçgenin alanı kaç  
santimetrekaredir?

- A)  $7\sqrt{5}$                 B)  $8\sqrt{3}$   
C)  $10\sqrt{3}$               D)  $10\sqrt{5}$

15.



Şekildeki  $\widehat{ABC}$ 'nde  
 $m(\widehat{BAC}) = 60^\circ$ ,  $|AB| = 6$  cm ve  
ve  $|AC| = 3$  cm olduğuna göre,  
 $|BC|$  kaç santimetredir?

- A) 3                      B)  $3\sqrt{3}$   
C) 6                      D)  $6\sqrt{3}$

16. K(-8) ve L(4) noktaları verili-  
yor. Buna göre,  $|KL|$  kaç birim-  
dir?

- A) 12    B) 10    C) 8    D) 4

17. A, B, C ve E noktaları aynı düz-  
lemde bulunmaktadır. Buna  
göre,  $\vec{AB} + \vec{BC} + \vec{CE}$  aşağıdaki  
vektörlerden hangisine eşittir?

- A)  $\vec{AE}$     B)  $\vec{BE}$     C)  $\vec{BC}$     D)  $\vec{AC}$

18. 1,1,2,3,4,4,5,7,7,7,8 sayı dizisi-  
nin medyanı (ortancası) kaçtır?

- A)  $\frac{49}{11}$     B) 4    C) 5    D)  $\frac{9}{2}$

19. Bir zar art arda 2 defa atılıyor.  
Zarın birinci atışta tek sayı ve  
ikinci atışta çift sayı gelme ola-  
sılığı nedir?

- A) 1    B)  $\frac{1}{2}$     C)  $\frac{1}{3}$     D)  $\frac{1}{4}$

20. 3 kişilik bir grubun yaş orta-  
laması 28'dir. Bu gruba yaşla-  
rının ortalaması 18 olan 2 kişi  
katılırsa grubun yaş ortalaması  
kaç olur?

- A) 28    B) 26    C) 24    D) 22

**TEST BİTTİ.**  
**CEVAPLARINIZI KONTROL EDİNİZ.**

### SINAV SÜRESİNCE UYULACAK KURALLAR

1. Adaylar, sınav kurallarına ve salon görevlilerinin tüm uyarılarına uymak zorundadırlar. Kurallara ve uyarılara uymayan adayların sınavları geçersiz sayılacaktır.
2. Sınav başladıktan sonra adayların salon görevlileri ve birbirleri ile konuşmaları, kalem, silgi vb. şeyleri istemeleri yasaktır.
3. Adaylar sınav süresince, sınav giriş belgesi ile birlikte kimlik belgelerinden birini (nüfus cüzdanı, pasaport veya sürücü belgesi) masalarının üzerinde bulundurmamak zorundadırlar.

### SALON GÖREVLİLERİNCE SINAV BAŞLAMADAN ÖNCE ADAYLARA YAPILACAK SON UYARI

- Soracağınız bir şey var mı? Varsa şimdi sorunuz.
- Sınav başladıktan sonra sorularınıza cevap verilmeyecektir.
- Başlama zilini bekleyiniz.
- Hepinize başarılar dileriz.

(Salon başkanı başlama ve bitiş saatini tahtaya yazacaktır.)

Bu kitapçığın her hakkı saklıdır. Hangi amaçla olursa olsun, kitapçığın tamamının veya bir kısmının Millî Eğitim Bakanlığı Ölçme, Değerlendirme ve Sınav Hizmetleri Genel Müdürlüğünün yazılı izni olmadan kopya edilmesi, fotoğraflarının çekilmesi, bilgisayar ortamına alınması, herhangi bir yolla çoğaltılması, yayımlanması veya başka bir amaçla kullanılması yasaktır. Bu yasağa uymayanlar, doğabilecek cezai sorumluluğu ve kitapçığın hazırlanmasındaki mali külfeti peşinen kabullenmiş sayılır.



23 AĞUSTOS 2014 TARİHİNDE YAPILAN AÇIKÖĞRETİM LİSESİ / MESLEKİ AÇIKÖĞRETİM LİSESİ  
2013-2014 ÖĞRETİM YILI 3. DÖNEM SINAVI 1. OTURUM T KİTAPÇIĞI CEVAP ANAHTARI

DİN KÜL. AHL. BİL. – 1	DİN KÜL. AHL. BİL. – 5	SEÇMELİ FELSEFE – 1	TARİH – 6
1. A	1. D	1. B	1. D
2. C	2. B	2. C	2. B
3. B	3. C	3. D	3. A
4. D	4. A	4. A	4. C
5. B	5. D	5. D	5. D
6. D	6. A	6. C	6. B
7. D	7. C	7. B	7. C
8. A	8. A	8. A	8. B
9. A	9. B	9. B	9. A
10. B	10. D	10. A	10. D
11. C	11. B	11. C	11. B
12. D	12. C	12. B	12. C
13. A	13. B	13. C	13. B
14. D	14. B	14. B	14. A
15. B	15. A	15. A	15. A
16. B	16. C	16. C	16. D
17. C	17. D	17. D	17. C
18. A	18. B	18. B	18. C
19. C	19. A	19. A	19. A
20. D	20. C	20. D	20. A

DİN KÜL. AHL. BİL. – 2	FELSEFE – 1	TARİH – 2	COĞRAFYA – 1
1. C	1. B	1. A	1. C
2. B	2. D	2. D	2. D
3. D	3. C	3. C	3. D
4. A	4. B	4. A	4. B
5. A	5. C	5. D	5. A
6. C	6. D	6. A	6. B
7. B	7. C	7. B	7. B
8. B	8. A	8. B	8. D
9. A	9. C	9. C	9. A
10. A	10. D	10. D	10. D
11. D	11. A	11. C	11. C
12. B	12. B	12. B	12. A
13. B	13. D	13. A	13. A
14. C	14. A	14. C	14. B
15. A	15. B	15. A	15. A
16. B	16. D	16. C	16. C
17. D	17. C	17. B	17. D
18. B	18. D	18. D	18. C
19. A	19. A	19. A	19. B
20. C	20. C	20. C	20. C

23 AĞUSTOS 2014 TARİHİNDE YAPILAN AÇIKÖĞRETİM LİSESİ / MESLEKİ AÇIKÖĞRETİM LİSESİ  
2013-2014 ÖĞRETİM YILI 3. DÖNEM SINAVI 1. OTURUM T KİTAPÇIĞI CEVAP ANAHTARI

COĞRAFYA – 5

1. A
2. D
3. B
4. B
5. C
6. D
7. B
8. A
9. A
10. D
11. C
12. B
13. C
14. A
15. D
16. C
17. B
18. C
19. D
20. B

İNGİLİZCE – 1

1. C
2. A
3. D
4. C
5. B
6. A
7. B
8. C
9. D
10. C
11. A
12. A
13. B
14. C
15. B
16. D
17. B
18. B
19. D
20. A

FRANSIZCA – 1

1. B
2. A
3. C
4. B
5. D
6. A
7. D
8. D
9. B
10. C
11. B
12. D
13. D
14. B
15. C
16. C
17. A
18. A
19. D
20. A

ALMANCA – 5

1. A
2. B
3. B
4. A
5. D
6. B
7. D
8. C
9. A
10. D
11. C
12. C
13. A
14. B
15. A
16. C
17. C
18. D
19. D
20. B

COĞRAFYA – 7

1. C
2. A
3. D
4. B
5. C
6. B
7. A
8. D
9. C
10. B
11. A
12. D
13. A
14. D
15. A
16. C
17. D
18. C
19. A
20. B

ALMANCA – 1

1. C
2. A
3. C
4. B
5. D
6. C
7. B
8. C
9. A
10. B
11. D
12. D
13. A
14. B
15. A
16. B
17. C
18. A
19. D
20. D

İNGİLİZCE – 5

1. B
2. A
3. B
4. C
5. B
6. A
7. D
8. C
9. D
10. C
11. D
12. B
13. D
14. C
15. A
16. D
17. D
18. C
19. A
20. B

FRANSIZCA – 5

1. C
2. A
3. A
4. A
5. D
6. B
7. D
8. A
9. C
10. A
11. D
12. C
13. B
14. A
15. D
16. C
17. B
18. C
19. D
20. C

23 AĞUSTOS 2014 TARİHİNDE YAPILAN AÇIKÖĞRETİM LİSESİ / MESLEKİ AÇIKÖĞRETİM LİSESİ  
2013-2014 ÖĞRETİM YILI 3. DÖNEM SINAVI 1. OTURUM T KİTAPÇIĞI CEVAP ANAHTARI

DİL ve ANLATIM – 1

1. D
2. B
3. D
4. C
5. A
6. A
7. B
8. D
9. C
10. A
11. C
12. C
13. B
14. A
15. B
16. D
17. B
18. A
19. B
20. C

DİL ve ANLATIM – 7

1. C
2. A
3. D
4. A
5. D
6. B
7. C
8. D
9. B
10. A
11. C
12. D
13. B
14. C
15. A
16. B
17. D
18. A
19. C
20. B

TÜRK EDEBİYATI – 4

1. C
2. C
3. A
4. D
5. B
6. D
7. A
8. B
9. C
10. A
11. B
12. C
13. D
14. B
15. A
16. D
17. B
18. C
19. A
20. D

TÜRK EDEBİYATI – 8

1. D
2. B
3. A
4. C
5. D
6. D
7. C
8. B
9. A
10. C
11. A
12. C
13. B
14. A
15. B
16. D
17. D
18. C
19. A
20. B

DİL ve ANLATIM – 2

1. D
2. B
3. B
4. C
5. A
6. C
7. C
8. A
9. B
10. A
11. C
12. C
13. D
14. B
15. A
16. D
17. D
18. A
19. C
20. D

DİL ve ANLATIM – 8

1. A
2. B
3. C
4. D
5. C
6. C
7. A
8. D
9. C
10. B
11. D
12. A
13. C
14. B
15. D
16. A
17. B
18. D
19. C
20. A

TÜRK EDEBİYATI – 7

1. D
2. A
3. C
4. A
5. B
6. D
7. C
8. B
9. B
10. A
11. C
12. D
13. A
14. C
15. B
16. C
17. B
18. D
19. A
20. D

FİZİK – 1

1. C
2. A
3. C
4. D
5. D
6. A
7. B
8. D
9. B
10. A
11. C
12. B
13. C
14. B
15. D
16. A
17. D
18. C
19. A
20. B

23 AĞUSTOS 2014 TARİHİNDE YAPILAN AÇIKÖĞRETİM LİSESİ / MESLEKİ AÇIKÖĞRETİM LİSESİ  
2013-2014 ÖĞRETİM YILI 3. DÖNEM SINAVI 1. OTURUM T KİTAPÇIĞI CEVAP ANAHTARI

FİZİK – 5

1. C
2. C
3. A
4. D
5. D
6. B
7. D
8. A
9. B
10. C
11. D
12. A
13. A
14. B
15. A
16. D
17. C
18. B
19. B
20. C

KİMYA – 6

1. C
2. A
3. D
4. B
5. C
6. B
7. A
8. D
9. C
10. B
11. D
12. A
13. D
14. A
15. B
16. C
17. D
18. B
19. C
20. A

BİYOLOJİ – 3

1. C
2. D
3. B
4. D
5. B
6. C
7. A
8. C
9. B
10. A
11. A
12. B
13. D
14. D
15. A
16. B
17. B
18. D
19. C
20. C

EKONOMİ – 1

1. A
2. D
3. D
4. B
5. B
6. C
7. B
8. A
9. C
10. D
11. C
12. C
13. C
14. D
15. D
16. B
17. C
18. A
19. B
20. A

KİMYA – 2

1. D
2. A
3. C
4. B
5. C
6. A
7. B
8. D
9. C
10. B
11. D
12. A
13. B
14. D
15. A
16. C
17. A
18. D
19. D
20. C

BİYOLOJİ – 1

1. D
2. B
3. C
4. B
5. B
6. A
7. D
8. C
9. B
10. C
11. A
12. A
13. D
14. B
15. C
16. D
17. C
18. A
19. A
20. D

BİYOLOJİ – 6

1. C
2. A
3. B
4. C
5. A
6. B
7. D
8. B
9. A
10. C
11. D
12. B
13. A
14. D
15. B
16. D
17. C
18. B
19. D
20. C

TEMEL DİNİ BİL. – 1

1. C
2. A
3. D
4. B
5. A
6. C
7. A
8. B
9. B
10. D
11. A
12. C
13. A
14. B
15. B
16. İPTAL
17. C
18. C
19. B
20. D

23 AĞUSTOS 2014 TARİHİNDE YAPILAN AÇIKÖĞRETİM LİSESİ / MESLEKİ AÇIKÖĞRETİM LİSESİ  
2013-2014 ÖĞRETİM YILI 3. DÖNEM SINAVI 1. OTURUM T KİTAPÇIĞI CEVAP ANAHTARI

İŞ GÜVENLİĞİ – 1

1. D
2. A
3. D
4. B
5. C
6. A
7. D
8. B
9. A
10. C
11. B
12. C
13. D
14. C
15. B
16. A
17. A
18. B
19. D
20. C

MANTIK – 2

1. B
2. B
3. A
4. D
5. D
6. B
7. A
8. D
9. B
10. C
11. D
12. B
13. C
14. D
15. C
16. C
17. A
18. D
19. C
20. A

TRAF. VE İLK YARD. – 1

1. B
2. A
3. C
4. A
5. D
6. D
7. A
8. C
9. D
10. B
11. D
12. C
13. B
14. A
15. B
16. C
17. D
18. A
19. C
20. B

İNGİLİZCE – 8

1. A
2. B
3. D
4. A
5. C
6. B
7. D
8. C
9. D
10. A
11. C
12. B
13. C
14. A
15. D
16. A
17. D
18. B
19. C
20. A

İŞLETME – 2

1. B
2. D
3. C
4. A
5. A
6. C
7. D
8. B
9. A
10. C
11. D
12. B
13. A
14. C
15. D
16. C
17. A
18. B
19. D
20. B

SAĞLIK BİLGİSİ – 2

1. B
2. A
3. C
4. D
5. A
6. C
7. B
8. A
9. B
10. D
11. B
12. C
13. A
14. D
15. B
16. D
17. C
18. C
19. A
20. D

GEOMETRİ – 5

1. B
2. C
3. A
4. B
5. C
6. A
7. D
8. C
9. B
10. D
11. D
12. A
13. D
14. B
15. A
16. D
17. C
18. A
19. B
20. C

ALMANCA – 8

1. B
2. C
3. D
4. A
5. C
6. D
7. D
8. A
9. C
10. B
11. D
12. A
13. C
14. C
15. D
16. B
17. A
18. B
19. B
20. A

23 AĞUSTOS 2014 TARİHİNDE YAPILAN AÇIKÖĞRETİM LİSESİ / MESLEKİ AÇIKÖĞRETİM LİSESİ  
2013-2014 ÖĞRETİM YILI 3. DÖNEM SINAVI 1. OTURUM T KİTAPÇIĞI CEVAP ANAHTARI

FRANSIZCA – 8

1. A
2. B
3. C
4. C
5. D
6. B
7. A
8. A
9. C
10. D
11. C
12. A
13. B
14. A
15. D
16. B
17. C
18. B
19. D
20. C

SEÇ. Y. DİL İNG. – 5

1. D
2. A
3. C
4. D
5. B
6. A
7. C
8. D
9. B
10. C
11. D
12. C
13. B
14. A
15. B
16. D
17. C
18. B
19. A
20. B

SEÇ. Y. DİL FRAN. – 5

1. A
2. C
3. B
4. D
5. B
6. C
7. B
8. B
9. C
10. D
11. A
12. D
13. C
14. C
15. D
16. A
17. C
18. A
19. B
20. D

SEÇ. Y. DİL ALM. – 8

1. C
2. B
3. A
4. A
5. D
6. B
7. C
8. B
9. B
10. D
11. D
12. A
13. C
14. A
15. B
16. D
17. D
18. C
19. A
20. C

FIKİH – 1

1. D
2. B
3. C
4. A
5. A
6. D
7. C
8. C
9. B
10. A
11. B
12. D
13. B
14. C
15. B
16. B
17. A
18. D
19. C
20. C

SEÇ. Y. DİL ALM. – 5

1. A
2. B
3. C
4. D
5. B
6. B
7. C
8. D
9. D
10. A
11. B
12. C
13. A
14. D
15. C
16. A
17. A
18. C
19. D
20. D

SEÇ. Y. DİL İNG. – 8

1. D
2. A
3. B
4. C
5. A
6. D
7. B
8. C
9. B
10. D
11. C
12. A
13. D
14. A
15. C
16. D
17. B
18. A
19. B
20. B

SEÇ. Y. DİL FRAN. – 8

1. C
2. A
3. C
4. D
5. C
6. A
7. B
8. B
9. C
10. B
11. D
12. D
13. B
14. A
15. D
16. B
17. C
18. B
19. D
20. A

23 AĞUSTOS 2014 TARİHİNDE YAPILAN AÇIKÖĞRETİM LİSESİ / MESLEKİ AÇIKÖĞRETİM LİSESİ  
2013-2014 ÖĞRETİM YILI 3. DÖNEM SINAVI 1. OTURUM T KİTAPÇIĞI CEVAP ANAHTARI

HZ. MUHAMMED'İN HAY. – 2

1. B
2. C
3. B
4. D
5. C
6. A
7. B
8. C
9. A
10. C
11. D
12. C
13. A
14. D
15. C
16. B
17. A
18. A
19. D
20. A

KARŞ. DİN. TARİHİ – 1

1. C
2. B
3. A
4. B
5. D
6. C
7. B
8. A
9. C
10. D
11. C
12. A
13. B
14. D
15. A
16. C
17. D
18. B
19. A
20. D

SEÇ. DİL ve ANLA. – 8

1. C
2. B
3. A
4. D
5. B
6. C
7. A
8. D
9. C
10. B
11. A
12. A
13. D
14. C
15. D
16. A
17. B
18. D
19. C
20. A

SEÇ. TÜRK EDEB. – 7

1. D
2. B
3. A
4. B
5. D
6. A
7. B
8. A
9. C
10. C
11. C
12. B
13. D
14. C
15. A
16. B
17. A
18. D
19. D
20. C

MATEMATİK – 6

1. C
2. D
3. C
4. A
5. C
6. B
7. B
8. D
9. B
10. D
11. A
12. A
13. D
14. A
15. D
16. C
17. B
18. C
19. A
20. B

SEÇ. DİL ve ANLA. – 7

1. B
2. C
3. A
4. C
5. D
6. D
7. B
8. A
9. C
10. A
11. D
12. B
13. C
14. A
15. D
16. D
17. B
18. B
19. A
20. D

SEÇ. TÜRK EDEB. – 4

1. D
2. B
3. D
4. A
5. B
6. C
7. B
8. C
9. B
10. C
11. C
12. A
13. D
14. C
15. A
16. A
17. B
18. B
19. A
20. D

SEÇ. TÜRK EDEB. – 8

1. C
2. A
3. C
4. B
5. A
6. D
7. B
8. D
9. D
10. C
11. A
12. B
13. D
14. B
15. C
16. B
17. A
18. C
19. A
20. D

23 AĞUSTOS 2014 TARİHİNDE YAPILAN AÇIKÖĞRETİM LİSESİ / MESLEKİ AÇIKÖĞRETİM LİSESİ  
2013-2014 ÖĞRETİM YILI 3. DÖNEM SINAVI 1. OTURUM T KİTAPÇIĞI CEVAP ANAHTARI

İSLAM TARİHİ – 1

1. B
2. D
3. A
4. D
5. C
6. B
7. B
8. C
9. A
10. A
11. D
12. A
13. C
14. A
15. D
16. B
17. C
18. A
19. A
20. D

SİYER – 1

1. A
2. D
3. C
4. B
5. A
6. C
7. B
8. A
9. D
10. C
11. A
12. D
13. B
14. C
15. A
16. D
17. B
18. A
19. C
20. B

MATEMATİK – 2

1. C
2. B
3. B
4. D
5. C
6. A
7. C
8. A
9. D
10. B
11. D
12. D
13. A
14. C
15. B
16. A
17. A
18. B
19. D
20. C

KELAM – 1

1. D
2. B
3. C
4. A
5. C
6. B
7. A
8. D
9. B
10. A
11. C
12. A
13. B
14. D
15. D
16. C
17. B
18. A
19. A
20. D

GİRİŞİMCİLİK – 1

1. A
2. C
3. B
4. A
5. D
6. B
7. A
8. C
9. C
10. B
11. D
12. A
13. D
14. C
15. B
16. C
17. D
18. A
19. B
20. D